



STAFF SELECTION COMMISSION
(Government of India)

Combined Graduate Level Examination 2024 Tier II

Roll Number	
Candidate Name	
Venue Name	iON Digital Zone iDZ Naino Ka Bas
Exam Date	20/01/2025
Exam Time	9:00 AM - 12:00 PM
Subject	CGLE 2024 Tier II Paper I

Section : Module I Mathematical Abilities

Q.1 38211, 38121, 32118 और 31128 में से कौन-सी संख्या 24 से विभाज्य है?

- Ans 1. 31128
 2. 38211
 3. 38121
 4. 32118

Question ID : 630680650350
Option 1 ID : 6306802546406
Option 2 ID : 6306802546403
Option 3 ID : 6306802546404
Option 4 ID : 6306802546405
Status : Answered
Chosen Option : 1

Q.2 O केंद्र वाले वृत्त में, चाप ABC वृत्त के केंद्र पर 134° का कोण अंतरित करती है। जीवा AB को बिंदु P तक बढ़ाया जाता है। $\angle CBP$ _____ के बराबर होगा।

- Ans 1. 113°
 2. 45°
 3. 89°
 4. 67°

Question ID : 630680671357
Option 1 ID : 6306802628981
Option 2 ID : 6306802628984
Option 3 ID : 6306802628982
Option 4 ID : 6306802628983
Status : Answered
Chosen Option : 1

Q.3 यदि $x = 4 + \sqrt{6}$ और $y = 4 - \sqrt{6}$ है, तो $x^2 + y^2$ का मान क्या है?

- Ans 1. 42
 2. 44
 3. 51
 4. 43

Question ID : 630680677632
 Option 1 ID : 6306802653986
 Option 2 ID : 6306802653983
 Option 3 ID : 6306802653984
 Option 4 ID : 6306802653985
 Status : Answered
 Chosen Option : 2

Q.4 ABCD, एक चतुर्भुज है, जिसमें विकर्ण $BD = 70$ cm है, $AL \perp BD$ और $CM \perp BD$ इस प्रकार हैं कि $AL = 18$ cm और $CM = 20$ है। चतुर्भुज ABCD का क्षेत्रफल (cm^2 में) ज्ञात कीजिए।

- Ans 1. 1300
 2. 1310
 3. 1330
 4. 1320

Question ID : 630680533606
 Option 1 ID : 6306802085897
 Option 2 ID : 6306802085898
 Option 3 ID : 6306802085900
 Option 4 ID : 6306802085899
 Status : Answered
 Chosen Option : 3

Q.5 $\frac{(a^5 \times b^3 \times c^7)}{(a^4 \times b^8 \times c^9)}$ का सरलीकृत रूप ज्ञात कीजिए।

- Ans 1. $(a^{-1}) \times (b^4) \times (c^{-5})$
 2. $(a^6) \times (b^6) \times (c^{-4})$
 3. $(a^{-3}) \times (b^{-10}) \times (c^{-4})$
 4. $(a^1) \times (b^{-5}) \times (c^{-2})$

Question ID : 630680677918
 Option 1 ID : 6306802655130
 Option 2 ID : 6306802655129
 Option 3 ID : 6306802655128
 Option 4 ID : 6306802655127
 Status : Answered
 Chosen Option : 4

Q.6 ज्ञात है कि PQR एक समकोण त्रिभुज है, जो R पर समकोण है। मान लीजिए PQ = 29 cm, QR = 21 cm और $\angle Q = \theta$ है। $\cos^2 \theta - \sin^2 \theta$ का मान ज्ञात कीजिए।

- Ans
1. $\frac{40}{840}$
2. $\frac{841}{41}$
3. $\frac{41}{841}$
4. $\frac{840}{40}$

Question ID : 630680526625
 Option 1 ID : 6306802058567
 Option 2 ID : 6306802058569
 Option 3 ID : 6306802058568
 Option 4 ID : 6306802058566
 Status : Answered
 Chosen Option : 3

Q.7 प्रथम 92 सम संख्याओं का औसत कितना है?

- Ans 1. 93
2. 91
3. 92
4. 94

Question ID : 630680657227
 Option 1 ID : 6306802572850
 Option 2 ID : 6306802572852
 Option 3 ID : 6306802572851
 Option 4 ID : 6306802572853
 Status : Answered
 Chosen Option : 1

Q.8 दो वर्ष पूर्व, एक कस्बे की जनसंख्या 9487500 थी। बड़े शहरों में प्रवास के कारण यह प्रतिवर्ष 8% की दर से घटती जाती है। कस्बे की वर्तमान जनसंख्या क्या होगी?

- Ans 1. 8070120
2. 8030220
3. 9060110
4. 7060320

Question ID : 630680464564
 Option 1 ID : 6306801814293
 Option 2 ID : 6306801814291
 Option 3 ID : 6306801814292
 Option 4 ID : 6306801814294
 Status : Answered
 Chosen Option : 2

Q.9 P और Q एक 400 m की दौड़ में भाग लेते हैं। P, 12 km/h की चाल से दौड़ता है। P, Q को 20 m की बढ़त देता है और फिर भी उसे 13 सेकंड से हरा देता है। Q की चाल क्या है? (दो दशमलव स्थानों तक पूर्णांकित कीजिए।)

- Ans
- 1. 11.61 km/hr
 - 2. 10.87 km/hr
 - 3. 11.38 km/hr
 - 4. 10.29 km/hr

Question ID : 630680528052
 Option 1 ID : 6306802064236
 Option 2 ID : 6306802064234
 Option 3 ID : 6306802064235
 Option 4 ID : 6306802064233
 Status : Answered
 Chosen Option : 4

Q.10 अक्षय ने 21 cm व्यास की तीन समरूप अंगूठियाँ इस प्रकार रखीं कि हर अंगूठी अन्य दो अंगूठियों को छूती है। उसने देखा कि वृत्तों से घिरा हुआ एक स्थान है। इस स्थान का क्षेत्रफल (cm² में) क्या होगा? ($\pi = \frac{22}{7}$ लें)

नोट - दशमलव के बाद निकटतम दो स्थानों तक पूर्णांकित करें और $\sqrt{3} = 1.732$

- Ans
- 1. 17.70
 - 2. 18.25
 - 3. 20.65
 - 4. 24.12

Question ID : 630680407097
 Option 1 ID : 6306801587331
 Option 2 ID : 6306801587330
 Option 3 ID : 6306801587332
 Option 4 ID : 6306801587333
 Status : Answered
 Chosen Option : 1

Q.11 कुछ छात्रों की आयु वर्षों में 12, 13, 16, 18, 14, 19, 13, 17, 15 और 11 के रूप में दी गई है। छात्रों की माध्यक आयु (वर्ष में) कितनी है?

- Ans
- 1. 14
 - 2. 15
 - 3. 13.5
 - 4. 14.5

Question ID : 630680543949
 Option 1 ID : 6306802126584
 Option 2 ID : 6306802126585
 Option 3 ID : 6306802126583
 Option 4 ID : 6306802126586
 Status : Answered
 Chosen Option : 4

Q.12 यदि किसी शंकु का आधार-व्यास 56 cm है और इसका वक्र पृष्ठीय क्षेत्रफल 3080 cm^2 है, तो इसका आयतन (cm^3 में) कितना होगा? ($\pi = 22/7$ का उपयोग कीजिए)

- Ans 1. 17248
 2. 14670
 3. 12250
 4. 15391

Question ID : 630680671154
 Option 1 ID : 6306802628180
 Option 2 ID : 6306802628178
 Option 3 ID : 6306802628177
 Option 4 ID : 6306802628179
 Status : Answered
 Chosen Option : 1

Q.13 $(5z - 7y)^2 + (7z + 5y)^2 - 49z^2$ को सरल कीजिए।

- Ans 1. $30z^2 + 83y^2$
 2. $25z^2 + 74y^2$
 3. $35z^2 + 70y^2$
 4. $26z^2 + 82y^2$

Question ID : 630680674735
 Option 1 ID : 6306802642387
 Option 2 ID : 6306802642385
 Option 3 ID : 6306802642388
 Option 4 ID : 6306802642386
 Status : Answered
 Chosen Option : 2

Q.14 केंद्र O वाले एक वृत्त में, एक व्यास AB को वृत्त के बाहर बिंदु C तक बढ़ाया गया है। वृत्त के बिंदु D पर CD एक स्पर्शरेखा है। यदि $CD = 7\sqrt{3} \text{ cm}$ और $\angle DBC = 120^\circ$ है, तो वृत्त के व्यास की लंबाई बताइए।

- Ans 1. 18 cm
 2. 20 cm
 3. 16 cm
 4. 14 cm

Question ID : 630680395271
 Option 1 ID : 6306801541294
 Option 2 ID : 6306801541295
 Option 3 ID : 6306801541293
 Option 4 ID : 6306801541292
 Status : Answered
 Chosen Option : 4

Q.15 $2^3 \times 9^2 \times 13$, $2^2 \times 13^2 \times 19$ और $9^3 \times 13^2 \times 19^2$ का एल.सी.एम.(LCM) क्या है?

Ans

1. $2^3 \times 9^2 \times 13^2 \times 19$

2. $2^2 \times 9^3 \times 13 \times 19^2$

3. $2^3 \times 9^3 \times 13^2 \times 19^2$

4. $2^2 \times 9^2 \times 13^2 \times 19^3$

Question ID : 630680677308

Option 1 ID : 6306802652689

Option 2 ID : 6306802652688

Option 3 ID : 6306802652687

Option 4 ID : 6306802652690

Status : Answered

Chosen Option : 3

Q.16 51 रुपए प्रति किलोग्राम मूल्य वाले 8 किलोग्राम मक्के को 68 रुपए प्रति किलोग्राम मूल्य वाले 9 किलोग्राम मक्के के साथ मिलाया जाता है। मिश्रित मक्के का प्रति किलोग्राम औसत मूल्य कितना है?

Ans

1. ₹61

2. ₹60

3. ₹59

4. ₹58

Question ID : 630680669017

Option 1 ID : 6306802619575

Option 2 ID : 6306802619574

Option 3 ID : 6306802619573

Option 4 ID : 6306802619576

Status : Answered

Chosen Option : 2

Q.17 दो मित्रों की आयु का अनुपात 4 : 3 है जो 4 वर्ष बाद 6 : 5 हो जायेगा। अब से 22 वर्ष बाद उनकी आयु का योग (वर्ष में) कितना होगा?

Ans

1. 50

2. 52

3. 56

4. 58

Question ID : 630680641023

Option 1 ID : 6306802509504

Option 2 ID : 6306802509505

Option 3 ID : 6306802509506

Option 4 ID : 6306802509507

Status : Answered

Chosen Option : 4

Q.18 एक किराने की दुकान का मालिक, मुरलीधर अपने ग्राहकों को एक छूट स्कीम '5 पानी की बोतलें खरीदें और 1 बोतल मुफ्त पाएँ' प्रदान करता है। मुरलीधर द्वारा दी गई प्रभावी प्रतिशत छूट कितनी है? (दो दशमलव स्थानों तक मान दीजिए)

- Ans
- 1. 13.67%
 - 2. 13.33%
 - 3. 20.00%
 - 4. 16.67%

Question ID : 630680653718
 Option 1 ID : 6306802559287
 Option 2 ID : 6306802559286
 Option 3 ID : 6306802559289
 Option 4 ID : 6306802559288
 Status : Answered
 Chosen Option : 4

Q.19 निम्नलिखित आँकड़ों की माध्यिका ज्ञात कीजिए।

वर्ग अंतराल 0 – 20 20 – 40 40 – 60 60 – 80 80 - 100
 बारंबारता 9 16 24 15 4

- Ans
- 1. 58
 - 2. 50
 - 3. 47.5
 - 4. 55

Question ID : 630680531337
 Option 1 ID : 6306802077160
 Option 2 ID : 6306802077157
 Option 3 ID : 6306802077159
 Option 4 ID : 6306802077158
 Status : Answered
 Chosen Option : 3

Q.20 If A and B are two events such that $P(A \cup B) = \frac{3}{4}$, $P(A \cap B) = \frac{1}{4}$

- Ans
- 1. Independent
 - 2. Mutually Exclusive
 - 3. Not Mutually Exclusive
 - 4. Dependent

Question ID : 630680531511
 Option 1 ID : 6306802077837
 Option 2 ID : 6306802077839
 Option 3 ID : 6306802077840
 Option 4 ID : 6306802077838
 Status : Not Answered
 Chosen Option : --

Q.21 एक आदमी ₹680 में एक मोबाइल फोन बेचता है और कुछ हानि उठाता है। यदि उसने इसे ₹1070 में बेचा होता, तो उसका लाभ, पूर्व की हानि का दोगुना होता। मोबाइल फोन का लागत मूल्य (₹ में) ज्ञात कीजिए।

Ans 1. 830

2. 800

3. 820

4. 810

Question ID : 630680633558

Option 1 ID : 6306802480131

Option 2 ID : 6306802480130

Option 3 ID : 6306802480129

Option 4 ID : 6306802480128

Status : Answered

Chosen Option : 4

Q.22 अमित को पहले वर्ष में अपनी बिक्री राशि में 6% और दूसरे वर्ष में 20% की वृद्धि प्राप्त होती है, यदि उसकी वर्तमान बिक्री ₹254400 है, तो दो वर्ष पहले उसकी बिक्री (₹ में) कितनी थी?

Ans 1. 200000

2. 240000

3. 180000

4. 212000

Question ID : 630680667634

Option 1 ID : 6306802614096

Option 2 ID : 6306802614098

Option 3 ID : 6306802614099

Option 4 ID : 6306802614097

Status : Answered

Chosen Option : 1

Q.23 यदि $\cos 27^\circ = \frac{p}{q}$ है, तो $\operatorname{cosec} 27^\circ - \cos 63^\circ$ का मान ज्ञात कीजिए।

Ans

1. $\frac{p^2}{q\sqrt{q^2-p^2}}$

2. $\frac{p}{q\sqrt{q^2-p^2}}$

3. $\frac{q^2}{p\sqrt{q^2-p^2}}$

4. $\frac{q}{p\sqrt{q^2-p^2}}$

Question ID : 630680764496

Option 1 ID : 6306802996522

Option 2 ID : 6306802996525

Option 3 ID : 6306802996523

Option 4 ID : 6306802996524

Status : Answered

Chosen Option : 1

Q.24 एक आयताकार पार्क की लंबाई और चौड़ाई के बीच का अनुपात 3 : 2 है और पार्क का परिमाण 120 m है। पार्क का क्षेत्रफल (m² में) ज्ञात कीजिए।

- Ans 1. 968
 2. 864
 3. 144
 4. 454

Question ID : 630680590901
 Option 1 ID : 6306802312074
 Option 2 ID : 6306802312073
 Option 3 ID : 6306802312071
 Option 4 ID : 6306802312072
 Status : Answered
 Chosen Option : 2

Q.25 एक टैंक जब पूरा भर जाता है तो आउटलेट पाइप A द्वारा 5.6 घंटे में खाली किया जा सकता है, जबकि एक इनलेट पाइप B उसी खाली टैंक को 7 घंटे में भर सकता है। यदि टैंक के भरे होने पर पाइप A से शुरू करके पाइप A और B में से प्रत्येक को 1 घंटे के लिए एकान्तर रूप से चालू किया जाता है तो टैंक को खाली करने में कितना समय लगेगा?

- Ans 1. 48 घंटे
 2. 56 घंटे
 3. 55 घंटे
 4. 47 घंटे

Question ID : 630680262157
 Option 1 ID : 6306801018278
 Option 2 ID : 6306801018275
 Option 3 ID : 6306801018276
 Option 4 ID : 6306801018277
 Status : Answered
 Chosen Option : 2

Q.26 आदि और दीया के पास कुल मिलाकर ₹1,440 हैं। यदि आदि की राशि का $\frac{3}{10}$ भाग,

दीया की राशि के $\frac{3}{5}$ भाग के बराबर है, तो दीया के पास कितनी राशि है?

- Ans 1. ₹480
 2. ₹464
 3. ₹512
 4. ₹540

Question ID : 630680543918
 Option 1 ID : 6306802126460
 Option 2 ID : 6306802126459
 Option 3 ID : 6306802126461
 Option 4 ID : 6306802126462
 Status : Answered
 Chosen Option : 1

Q.27 ₹2000 पर, 6.5% वार्षिक ब्याज दर पर, 13 फरवरी 2023 से 27 अप्रैल 2023 की अवधि के लिए साधारण ब्याज (₹ में) की गणना करें।

- Ans
- 1. 25
 - 2. 26
 - 3. 24
 - 4. 27

Question ID : 630680666475
Option 1 ID : 6306802609461
Option 2 ID : 6306802609460
Option 3 ID : 6306802609463
Option 4 ID : 6306802609462
Status : Answered
Chosen Option : 2

Q.28 स्वीटा और सुमन की वर्तमान आयु 4 : 5 के अनुपात में है। छः वर्ष पहले, उनकी आयु का अनुपात 2 : 3 था। स्वीटा की वर्तमान आयु क्या है?

- Ans
- 1. 8 वर्ष
 - 2. 20 वर्ष
 - 3. 12 वर्ष
 - 4. 16 वर्ष

Question ID : 630680533803
Option 1 ID : 6306802086687
Option 2 ID : 6306802086689
Option 3 ID : 6306802086688
Option 4 ID : 6306802086690
Status : Answered
Chosen Option : 3

Q.29 यदि $a : b = 2 : 3$, $b : c = 5 : 7$ है, तो $c : a$ का अनुपात ज्ञात कीजिए।

- Ans
- 1. 10 : 21
 - 2. 15 : 21
 - 3. 21 : 10
 - 4. 20 : 21

Question ID : 630680631026
Option 1 ID : 6306802470052
Option 2 ID : 6306802470053
Option 3 ID : 6306802470055
Option 4 ID : 6306802470054
Status : Answered
Chosen Option : 3

Q.30 यदि $\sin A = \frac{5}{13}$ है, तो $\frac{\cos A - 2 \tan A}{\sin A + 3 \tan A}$ का मान ज्ञात कीजिए।

- Ans
1. $\frac{13}{255}$
2. $\frac{14}{255}$
3. $\frac{12}{255}$
4. $\frac{11}{255}$

Question ID : 630680674270
 Option 1 ID : 6306802640601
 Option 2 ID : 6306802640602
 Option 3 ID : 6306802640600
 Option 4 ID : 6306802640599
 Status : Answered
 Chosen Option : 2

Section : Module II Reasoning and General Intelligence

Q.1 निम्नलिखित चार युग्मों में से तीन किसी निश्चित तरीके से एकसमान हैं और इस प्रकार एक समूह बनाते हैं। वह कौन-सा युग्म है, जो उस समूह से संबंधित नहीं है?

- Ans
1. ₹\$£ - मुद्रा
2. ABCD - अक्षर
3. 1234 - संख्या
4. x+--+ - टेक्स्ट

Question ID : 630680510706
 Option 1 ID : 6306801995957
 Option 2 ID : 6306801995955
 Option 3 ID : 6306801995954
 Option 4 ID : 6306801995956
 Status : Answered
 Chosen Option : 4

Q.2 एक प्रश्न के बाद, (I) और (II) से क्रमांकित दो कथन दिए गए हैं। आपको यह तय करना है कि कथनों में दिया गया डेटा प्रश्न का उत्तर देने के लिए पर्याप्त है या नहीं। दोनों कथनों को पढ़िए और उचित विकल्प चुनिए।

प्रश्न:

शौर्य ने पहले भारी पार्सलों की डिलीवरी को प्राथमिकता देते हुए पांच स्थानों A, B, C, D और E पर पार्सल डिलीवर किए। अंत में किस स्थान पर डिलीवरी की गई?

कथन:

(I) स्थान C का पार्सल अन्य सभी पार्सलों से भारी था।

(II) स्थान D का पार्सल, स्थान B और A के पार्सलों से हल्का था।

- Ans
1. कथन (I) और (II) में दिए गए डेटा एक साथ प्रश्न का उत्तर देने के लिए पर्याप्त हैं।
2. कथन (I) में दिया गया डेटा अकेले प्रश्न का उत्तर देने के लिए पर्याप्त है, जबकि कथन (II) में दिया गया डेटा अकेले पर्याप्त नहीं है।
3. कथन (I) और (II) में दिए गए डेटा एक साथ प्रश्न का उत्तर देने के लिए पर्याप्त नहीं हैं।
4. कथन (II) में दिया गया डेटा अकेले प्रश्न का उत्तर देने के लिए पर्याप्त है, जबकि कथन (I) में दिया गया डेटा अकेले पर्याप्त नहीं है।

Question ID : 630680560993
 Option 1 ID : 6306802192979
 Option 2 ID : 6306802192977
 Option 3 ID : 6306802192980
 Option 4 ID : 6306802192978
 Status : Answered
 Chosen Option : 1

Q.3 एक निश्चित कूट भाषा में,
P + Q का अर्थ है कि 'P, Q की माता है',
P - Q का अर्थ है कि 'P, Q का भाई है',
P x Q का अर्थ है कि 'P, Q की पत्नी है' और
P ÷ Q का अर्थ है कि 'P, Q का पिता है'।
उक्त के आधार पर, यदि 'U - V + W ÷ Y x Z' है, तो U का Z से क्या संबंध है?

- Ans
- 1. पत्नी की माता के नाना
 - 2. पत्नी के पिता के नाना
 - 3. पत्नी की माता के मामा
 - 4. पत्नी के पिता के मामा

Question ID : 630680681067

Option 1 ID : 6306802667484

Option 2 ID : 6306802667482

Option 3 ID : 6306802667483

Option 4 ID : 6306802667481

Status : Answered

Chosen Option : 4

Q.4 एक निश्चित कूट भाषा में 'CURB' को '3517' के रूप में कूटबद्ध किया जाता है और 'BOAT' को '4638' के रूप में कूटबद्ध किया जाता है। दी गई कूट भाषा में 'B' के लिए कूट क्या है?

- Ans
- 1. 4
 - 2. 8
 - 3. 7
 - 4. 3

Question ID : 630680681052

Option 1 ID : 6306802667422

Option 2 ID : 6306802667424

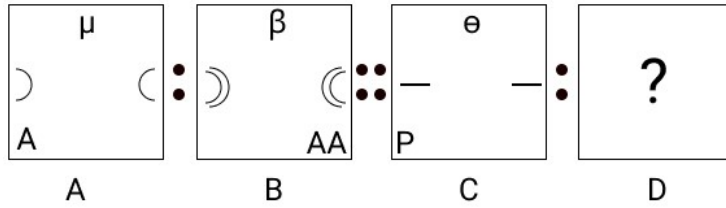
Option 3 ID : 6306802667423

Option 4 ID : 6306802667421

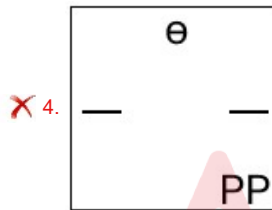
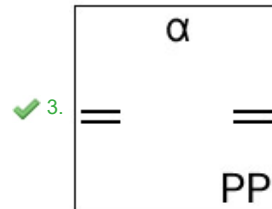
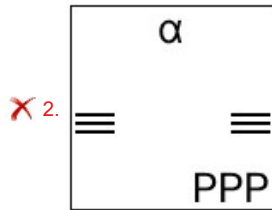
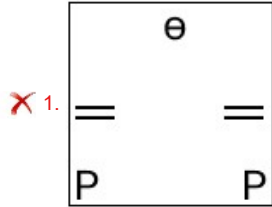
Status : Answered

Chosen Option : 4

Q.5 आकृति A एक निश्चित पैटर्न में B से संबंधित है। उसी पैटर्न का अनुसरण करते हुए, आकृति C, D से संबंधित है। पैटर्न का अध्ययन कीजिए और उस आकृति का चयन कीजिए जिसे D के स्थान पर रखा जाना चाहिए।



Ans



Question ID : 630680531597
 Option 1 ID : 6306802078188
 Option 2 ID : 6306802078187
 Option 3 ID : 6306802078185
 Option 4 ID : 6306802078186
 Status : Answered
 Chosen Option : 4

Q.6 उस सही विकल्प का चयन कीजिए, जो निम्नलिखित शब्दों की व्यवस्था को तार्किक और सार्थक क्रम में दर्शाता है।

1. लक्ष्य निर्धारित करना (Set goals) 2. बजट (Budget) 3. समीक्षा (Review) 4. निवेश (Invest) 5. आकलन (Assess)

- Ans
- 1. 5, 2, 4, 3, 1
 - 2. 1, 5, 2, 4, 3
 - 3. 5, 1, 2, 3, 4
 - 4. 3, 5, 1, 2, 4

Question ID : 630680523400
 Option 1 ID : 6306802045779
 Option 2 ID : 6306802045778
 Option 3 ID : 6306802045781
 Option 4 ID : 6306802045780
 Status : Answered
 Chosen Option : 3

Q.7 जब दर्पण को नीचे दर्शाए अनुसार रेखा MN पर रखा जाए, तो दिए गए संयोजन के सही दर्पण प्रतिबिंब का चयन कीजिए।



- Ans
- 1. 8M9S37A
 - 2. 8W9297A
 - 3. 8M2977A
 - 4. 89M537A

Question ID : 630680619808
 Option 1 ID : 6306802425367
 Option 2 ID : 6306802425366
 Option 3 ID : 6306802425368
 Option 4 ID : 6306802425365
 Status : Answered
 Chosen Option : 1

Q.8 एक प्रश्न दिया गया है, जिसके बाद I और II चिह्नकित कर दो कथन दिए गए हैं। पहचान कीजिए कि कौन-सा/से कथन इस प्रश्न का उत्तर देने के लिए पर्याप्त है/हैं।

प्रश्न:

पाँच अलग-अलग रंगों (नीला, हरा, पीला, लाल और बैंगनी) के पाँच घर, प्रत्येक दो आसन्न घरों के बीच समान जगह के साथ, उत्तरमुखी एक पंक्ति में बनाए गए हैं। कौन-से रंग का घर पंक्ति के बिल्कुल मध्य में है?

कथन:

(I) हरे और पीले रंग के घर पंक्ति के अंतिम छोर पर बनाए गए हैं।

(II) बैंगनी और नीले रंग के घर क्रमशः हरे और पीले रंग के घरों के ठीक पड़ोस वाले घर हैं।

- Ans
- 1. केवल कथन II में दिया गया डेटा ही प्रश्न का उत्तर देने के लिए पर्याप्त है, जबकि कथन I में दिया गया डेटा अकेले प्रश्न का उत्तर देने के लिए पर्याप्त नहीं है
 - 2. कथन I में दिया गया डेटा अकेले प्रश्न का उत्तर देने के लिए पर्याप्त है, जबकि कथन II में दिया गया डेटा अकेले प्रश्न का उत्तर देने के लिए पर्याप्त नहीं है
 - 3. कथन I और II में दिया गया डेटा एक साथ प्रश्न का उत्तर देने के लिए पर्याप्त नहीं है
 - 4. कथन I और II में दिया गया डेटा एक साथ प्रश्न का उत्तर देने के लिए पर्याप्त है

Question ID : 630680560981

Option 1 ID : 6306802192930

Option 2 ID : 6306802192929

Option 3 ID : 6306802192932

Option 4 ID : 6306802192931

Status : Answered

Chosen Option : 4

Q.9 M, N, O, X, Y और Z एक वृत्ताकार मेज के चारों ओर केंद्र की ओर मुख करके बैठे हैं। O, Y का निकटतम पड़ोसी है। Z, O के दाएं से दूसरे स्थान पर बैठा है। X, M और N दोनों का निकटतम पड़ोसी है। M, O का निकटतम पड़ोसी नहीं है। Y के ठीक बाएं कौन बैठा है?

- Ans
- 1. N
 - 2. O
 - 3. X
 - 4. M

Question ID : 630680416780

Option 1 ID : 6306801625884

Option 2 ID : 6306801625885

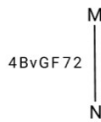
Option 3 ID : 6306801625886

Option 4 ID : 6306801625883

Status : Answered

Chosen Option : 2

Q.10 जब दर्पण को नीचे दर्शाए अनुसार रेखा MN पर रखा जाए, तो दिए गए संयोजन के सही दर्पण प्रतिबिंब का चयन कीजिए।



- Ans
- 1. 4BvGF72
 - 2. 4BvGF72
 - 3. 72FGF72
 - 4. 4BvGF72

Question ID : 630680619813
 Option 1 ID : 6306802425385
 Option 2 ID : 6306802425388
 Option 3 ID : 6306802425386
 Option 4 ID : 6306802425387
 Status : Answered
 Chosen Option : 4

Q.11 चार संख्या-युग्म दिए गए हैं, जिनमें से तीन किसी प्रकार से एकसमान हैं और एक असंगत है। उस असंगत संख्या-युग्म का चयन कीजिए।
 (नोट: संख्याओं को उनके घटक अंकों में तोड़े बिना, पूर्ण संख्याओं पर संक्रिया की जानी चाहिए। उदाहरण के लिए 13 को 1 - 13 पर की जाने वाली संक्रियाएँ जैसे जोड़ना / घटाना / गुणा करना आदि केवल 13 पर की जा सकती हैं। 13 को 1 और 3 में तोड़ना और फिर 1 और 3 पर गणितीय संक्रियाएँ करना अनुमत्य नहीं है।)

- Ans
- 1. 494 - 19
 - 2. 521 - 20
 - 3. 286 - 11
 - 4. 104 - 4

Question ID : 630680162457
 Option 1 ID : 630680629124
 Option 2 ID : 630680629127
 Option 3 ID : 630680629126
 Option 4 ID : 630680629125
 Status : Answered
 Chosen Option : 2

Q.12 एक निश्चित कूट भाषा में,
 $A + B$ का अर्थ है कि 'A, B की माता है',
 $A - B$ का अर्थ है कि 'A, B का भाई है',
 $A \times B$ का अर्थ है कि 'A, B की पत्नी है' और
 $A \div B$ का अर्थ है कि 'A, B का पिता है'।
 उक्त के आधार पर, यदि ' $U - V \times W \div Y + Z$ ' है, तो U का Z से क्या संबंध है?

- Ans
- 1. नानी के पिता
 - 2. नाना का भाई
 - 3. नाना के पिता
 - 4. नानी का भाई

Question ID : 630680681073
 Option 1 ID : 6306802667506
 Option 2 ID : 6306802667507
 Option 3 ID : 6306802667508
 Option 4 ID : 6306802667505
 Status : Answered
 Chosen Option : 4

Q.13 किसी परीक्षा में सात व्यक्तियों A, B, C, D, E, F और G ने अलग-अलग अंक (100 में से) प्राप्त किए। G ने सबसे कम अंक प्राप्त किए। B ने दूसरे उच्चतम अंक प्राप्त किए, जो 80 थे। A ने 72 अंक प्राप्त किए। E ने F से अधिक, लेकिन C से कम अंक प्राप्त किए। C द्वारा प्राप्त किए गए अंक 11 के गुणज और 70 से कम थे। C और F द्वारा प्राप्त अंकों का योग 120 था। F द्वारा प्राप्त अंक क्या है?

- Ans
- 1. 50
 - 2. 56
 - 3. 55
 - 4. 54

Question ID : 630680416338
 Option 1 ID : 6306801624115
 Option 2 ID : 6306801624118
 Option 3 ID : 6306801624116
 Option 4 ID : 6306801624117
 Status : Answered
 Chosen Option : 4

Q.14 निम्नलिखित में से किस अक्षर-समूह द्वारा # और % को प्रतिस्थापित किया जाना चाहिए ताकि :: के बाईं ओर के अक्षर-समूह युग्म के बीच का पैटर्न और संबंध, :: के दाईं ओर के अक्षर-समूह युग्म के पैटर्न और संबंध के समान हो?

: ORW :: RUZ : %

- Ans
- 1. # = VYD % = KNS
 - 2. # = VYD % = LNS
 - 3. # = VYD % = KNK
 - 4. # = UYD % = KNS

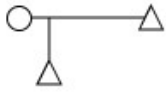
Question ID : 630680731373
 Option 1 ID : 6306802866185
 Option 2 ID : 6306802866187
 Option 3 ID : 6306802866184
 Option 4 ID : 6306802866186
 Status : Answered
 Chosen Option : 1

Q.15 दिए गए विकल्पों में से उस संख्या का चयन कीजिए, जो निम्नलिखित श्रृंखला में प्रश्न-चिह्न (?) को प्रतिस्थापित कर सकती है।
 98, 50, 26, 14, ?, 5

- Ans
- 1. 8
 - 2. 6
 - 3. 7
 - 4. 10

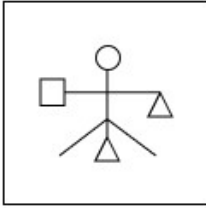
Question ID : 630680172611
 Option 1 ID : 630680668864
 Option 2 ID : 630680668866
 Option 3 ID : 630680668865
 Option 4 ID : 630680668867
 Status : Answered
 Chosen Option : 1

Q.16 उस विकल्प आकृति का चयन कीजिए, जिसमें दी गई आकृति उसके भाग के रूप में अंतर्निहित है। (घूर्णन की अनुमति नहीं है।)

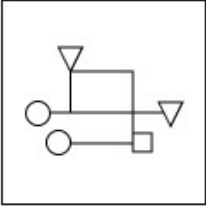


Ans

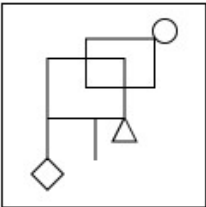
✗ 1.



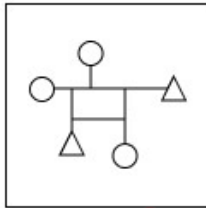
✗ 2.



✗ 3.



✓ 4.

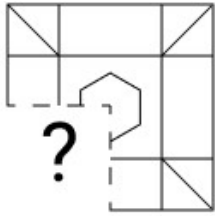


Question ID : 630680629189
 Option 1 ID : 6306802462840
 Option 2 ID : 6306802462839
 Option 3 ID : 6306802462841
 Option 4 ID : 6306802462838

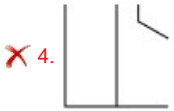
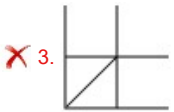
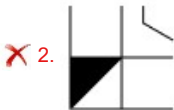
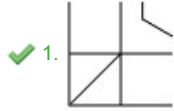
Status : Answered

Chosen Option : 4

Q.17 उस विकल्प आकृति का चयन कीजिए जो नीचे दिए गए चित्र में पैटर्न को पूर्ण करने के लिए प्रश्न-चिह्न (?) को प्रतिस्थापित करेगी।



Ans



Question ID : 630680684120

Option 1 ID : 6306802679241

Option 2 ID : 6306802679240

Option 3 ID : 6306802679238

Option 4 ID : 6306802679239

Status : Answered

Chosen Option : 1

Q.18 यदि '+' और '-' को परस्पर बदल दिया जाए तथा '×' और '÷' को परस्पर बदल दिया जाए तो निम्नलिखित समीकरण में प्र -चिह्न (?) के स्थान पर क्या आएगा?

$$98 \div 7 + 288 \times 2 - 144 \times 3 - 152 \div 2 + 120 = ?$$

Ans

✗ 1. 743

✗ 2. 632

✗ 3. 671

✓ 4. 774

Question ID : 6306801081307

Option 1 ID : 6306804246805

Option 2 ID : 6306804246803

Option 3 ID : 6306804246804

Option 4 ID : 6306804246806

Status : Answered

Chosen Option : 4

Q.19 इस प्रश्न में, एक कथन के बाद I और II क्रमांकित दो कार्रवाईयाँ दी गई हैं। आपको कथन में दी गई सभी जानकारी को सत्य मानना होगा और कथन में दी गई जानकारी के आधार पर निर्णय लेना होगा कि तार्किक रूप से कौन-सी कार्रवाई/कार्रवाईयों का अनुसरण किया जाना चाहिए।
कथन: कई लोगों ने अपने आयकर रिटर्न के रिफंड मिलने में देरी के संबंध में वित्त मंत्रालय से शिकायत की है।

कार्रवाई :

वित्त मंत्रालय को आयकर रिफंड में देरी के संबंध में प्राप्त शिकायतों की जाँच करानी चाहिए।

वित्त मंत्रालय को देरी की अवधि के लिए आयकर दाताओं को उनके रिफंड पर ब्याज का भुगतान करके मुआवजा देना चाहिए।

- Ans
- 1. केवल I का अनुसरण किया जाना चाहिए।
 - 2. केवल II का अनुसरण किया जाना चाहिए।
 - 3. I और II दोनों का अनुसरण किया जाना चाहिए।
 - 4. न तो I और न ही II का अनुसरण किया जाना चाहिए।

Question ID : 630680568512

Option 1 ID : 6306802222865

Option 2 ID : 6306802222866

Option 3 ID : 6306802222868

Option 4 ID : 6306802222867

Status : Answered

Chosen Option : 3

Q.20 दिए गए कथनों और निष्कर्षों को ध्यानपूर्वक पढ़ें। यह मानते हुए कि कथनों में दी गई जानकारी सत्य है, भले ही यह सामान्यतः ज्ञात तथ्यों से भिन्न प्रतीत होती हो, निर्णय लें कि दिए गए निष्कर्षों में से कौन-सा/से निष्कर्ष कथनों का तार्किक रूप से अनुसरण करता है/करते हैं।

कथन:

सभी गुड़िया, रोबोट हैं।

कुछ रोबोट, खिलौने हैं।

कुछ खिलौने, साइकिल हैं।

निष्कर्ष:

(I) कुछ खिलौने, गुड़िया हैं।

(II) कोई साइकिल, रोबोट नहीं है।

- Ans
- 1. निष्कर्ष (I) और (II) दोनों सत्य हैं।
 - 2. केवल निष्कर्ष (II) सत्य है।
 - 3. केवल निष्कर्ष (I) सत्य है।
 - 4. न तो निष्कर्ष (I) और न ही (II) सत्य है।

Question ID : 630680625021

Option 1 ID : 6306802446248

Option 2 ID : 6306802446246

Option 3 ID : 6306802446245

Option 4 ID : 6306802446247

Status : Answered

Chosen Option : 4

Q.21 संख्या 3571869 में प्रत्येक अंक को बाएँ से दाएँ आरोही क्रम में व्यवस्थित किया जाता है। कितने अंकों का स्थान, मूल संख्या में अंकों के स्थानों की तुलना में अपरिवर्तित रहेगा?

- Ans
- 1. दो
 - 2. तीन
 - 3. किसी का भी नहीं
 - 4. एक

Question ID : 630680674149

Option 1 ID : 6306802640125

Option 2 ID : 6306802640126

Option 3 ID : 6306802640123

Option 4 ID : 6306802640124

Status : Answered

Chosen Option : 4

Q.22 पारस, अपनी कक्षा में शीर्ष से 5^{वें} स्थान पर है और नीचे से 24^{वें} स्थान पर है। उसकी कक्षा में कितने विद्यार्थी हैं?

- Ans
- 1. 26
 - 2. 28
 - 3. 27
 - 4. 29

Question ID : 630680635342

Option 1 ID : 6306802487252

Option 2 ID : 6306802487249

Option 3 ID : 6306802487251

Option 4 ID : 6306802487250

Status : Answered

Chosen Option : 2

Q.23 नीचे एक कथन (कारण) दिया गया है, जिसके बाद संभावित प्रभाव संख्या I, II और III दिए गए हैं। 'कारण' को ध्यानपूर्वक से पढ़िए और निश्चय कीजिए कि तीनों में से कौन-सा/ कौन-से संभावित प्रभाव हो सकता/सकते हैं/हैं।

कारण - शहर X में कल हुई भारी बारिश के कारण रेलवे स्टेशन और हवाई अड्डे सहित कई क्षेत्रों में बाढ़ आ गई है।

प्रभाव I - रेलवे ने आज सुबह शहर X से शुरू होने वाली तीन ट्रेनों के प्रस्थान में देरी की घोषणा की है।

प्रभाव II - कल शाम कई उड़ानें शहर X के हवाई अड्डे पर उतरने में असमर्थ रहीं।

प्रभाव III - वित्त मंत्रालय ने टैक्स रिटर्न दाखिल करने की तारीख एक महीने बढ़ा दी है।

- Ans
- 1. केवल II एक संभावित प्रभाव है।
 - 2. I और II दोनों संभावित प्रभाव हैं।
 - 3. केवल I एक संभावित प्रभाव है।
 - 4. II और III दोनों संभावित प्रभाव हैं।

Question ID : 630680568505

Option 1 ID : 6306802222838

Option 2 ID : 6306802222840

Option 3 ID : 6306802222837

Option 4 ID : 6306802222839

Status : Answered

Chosen Option : 2

Q.24 विकल्पों में दी गई उस आकृति की पहचान कीजिए जिसे प्रश्न चिह्न (?) के स्थान पर रखने पर शृंखला तार्किक रूप से पूर्ण हो जाएगी।

A	B	A	D	A	D	
	↑	D →	B	↓	C ←	A
D	C	C	C	B	B	?

Ans

✓ 1.

C	D
	↑
B	A

✗ 2.

C	D
	→
B	A

✗ 3.

B	C
	↓
A	D

✗ 4.

A	B
	↑
D	C

Question ID : 630680542579
 Option 1 ID : 6306802121251
 Option 2 ID : 6306802121250
 Option 3 ID : 6306802121252
 Option 4 ID : 6306802121249
 Status : Answered
 Chosen Option : 1

Q.25 किसी निश्चित कूट भाषा में, 'he enjoys music' को 'lo po jo' के रूप में कूटबद्ध किया जाता है और 'music and dance' को 'kb jo fk' के रूप में कूटबद्ध किया जाता है। दी गई भाषा में 'music' को किस प्रकार कूटबद्ध किया गया है?

- Ans
- ✗ 1. fk
 - ✓ 2. jo
 - ✗ 3. lo
 - ✗ 4. po

Question ID : 630680644316
 Option 1 ID : 6306802522573
 Option 2 ID : 6306802522572
 Option 3 ID : 6306802522571
 Option 4 ID : 6306802522574
 Status : Answered
 Chosen Option : 2

Q.26 इन सभी अक्षरों का प्रयोग करके कितने छः अक्षरों वाले अर्थपूर्ण शब्द बनाए जा सकते हैं, लेकिन शब्द में प्रत्येक अक्षर केवल एक बार ही आना चाहिए।

R F I
G E D

- Ans 1. चार
 2. एक
 3. तीन
 4. दो

Question ID : 630680519581

Option 1 ID : 6306802030751

Option 2 ID : 6306802030748

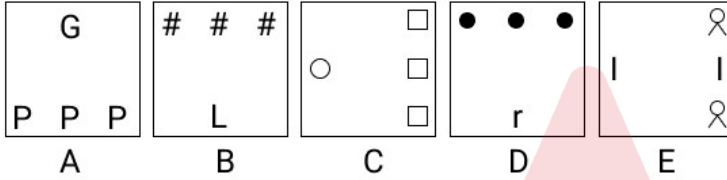
Option 3 ID : 6306802030750

Option 4 ID : 6306802030749

Status : Answered

Chosen Option : 2

Q.27 निम्नलिखित पाँच आकृतियों में से चार आकृतियाँ एक निश्चित तरीके से समान हैं और इस प्रकार एक समूह बनाती हैं। वह कौन-सी आकृति है जो उस समूह से संबंधित नहीं है?



- Ans 1. D
 2. A
 3. E
 4. B

Question ID : 630680653551

Option 1 ID : 6306802558620

Option 2 ID : 6306802558618

Option 3 ID : 6306802558621

Option 4 ID : 6306802558619

Status : Answered

Chosen Option : 3

- Q.28 निम्नलिखित जानकारी को पढ़िए और उसके बाद प्रश्न का उत्तर दीजिए।
"अनुभवी बागवानों की तरह, बागवान G मृदा उर्वरता को बनाए रखने के लिए सस्यावर्तन का अभ्यास करता है, जिससे पौधों की समृद्धि और विविधता बढ़ती है।"
दिए गए कथन से निम्नलिखित में से क्या अनुमान लगाया जा सकता है? (अनुमान, ऐसा कुछ है जो स्पष्ट रूप से कथित नहीं है, लेकिन कथन में दिए गए तथ्यों/जानकारी से प्राप्त किया जा सकता है)
1. बागवान G के बगीचे में समृद्ध और विविध पौधों की वृद्धि संभवतः सस्यावर्तन के अभ्यास से प्रभावित है।
 2. सर्वोत्तम बागवानी अभ्यासों के लिए बागवान G क्षेत्र के अन्य बागवानों से परामर्श लेता है।

- Ans
- 1. (I) और (II) दोनों का अनुमान लगाया जा सकता है।
 - 2. न तो (I) और न ही (II) का अनुमान लगाया जा सकता है।
 - 3. केवल (II) का अनुमान लगाया जा सकता है।
 - 4. केवल (I) का अनुमान लगाया जा सकता है।

Question ID : 630680557214

Option 1 ID : 6306802177838

Option 2 ID : 6306802177837

Option 3 ID : 6306802177836

Option 4 ID : 6306802177835

Status : Answered

Chosen Option : 4

- Q.29 एक निश्चित तर्क के अनुसार 17 का संबंध 159 से है। उसी तर्क के अनुसार 11 का संबंध 105 से है। समान तर्क का अनुसरण करते हुए, दिए गए विकल्पों में से 13 का संबंध किससे है?

(नोट: संख्याओं को उनके घटक अंकों में तोड़े बिना, संक्रियाएँ पूर्ण संख्याओं पर की जानी चाहिए। उदाहरण के लिए 13 लीजिए - 13 पर संक्रियाएँ जैसे कि 13 में जोड़ना/ घटाना/ गुणा करना आदि की जा सकती है। 13 को 1 और 3 में तोड़ना तथा फिर 1 और 3 पर गणितीय संक्रियाएँ करने की अनुमति नहीं है।)

- Ans
- 1. 103
 - 2. 116
 - 3. 109
 - 4. 123

Question ID : 630680913344

Option 1 ID : 6306803578292

Option 2 ID : 6306803578294

Option 3 ID : 6306803578293

Option 4 ID : 6306803578295

Status : Answered

Chosen Option : 4

Q.30 उस सही विकल्प का चयन कीजिए जो निम्नलिखित शब्दों के व्यवस्थापन को तार्किक और सार्थक क्रम में दर्शाता हो।

1. पौधा
2. परागण
3. बीज
4. अंकुर
5. फल

Ans ✓ 1. 3, 4, 1, 2, 5

✗ 2. 4, 3, 1, 2, 5

✗ 3. 4, 1, 2, 5, 3

✗ 4. 3, 4, 1, 5, 2

Question ID : 630680523399

Option 1 ID : 6306802045774

Option 2 ID : 6306802045776

Option 3 ID : 6306802045775

Option 4 ID : 6306802045777

Status : Answered

Chosen Option : 1

Section : Module I English Language and Comprehension

Q.1 Select the correct spelling of the incorrectly spelt word in the given sentence.

Good characteristics are indispensable to succeed in life.

Ans ✗ 1. Indespensible

✓ 2. Indispensable

✗ 3. Indespensible

✗ 4. Indispensible

Question ID : 6306801320364

Option 1 ID : 6306805196014

Option 2 ID : 6306805196013

Option 3 ID : 6306805196012

Option 4 ID : 6306805196011

Status : Answered

Chosen Option : 2

Q.2 Complete the dialogue for Person B using the correct idiom.

Person A: We are all going to the club this weekend. Do you want to come?

Person B: Thank you for asking. But I don't like clubs. It's _____.

Ans ✗ 1. my cup of coffee

✓ 2. not my cup of tea

✗ 3. not my cup of coffee

✗ 4. not my cup, not my tea

Question ID : 630680333140

Option 1 ID : 6306801295835

Option 2 ID : 6306801295836

Option 3 ID : 6306801295833

Option 4 ID : 6306801295834

Status : Answered

Chosen Option : 2

Q.3 Select the most appropriate idiom to fill in the blank.

A lot of people are still _____ over the GDP issue.

- Ans 1. sitting on the fence
 2. breaking a leg
 3. over the fence
 4. by the fence

Question ID : 630680333143
Option 1 ID : 6306801295846
Option 2 ID : 6306801295845
Option 3 ID : 6306801295847
Option 4 ID : 6306801295848
Status : Answered
Chosen Option : 1

Q.4 Parts of a sentence are given below in jumbled order. Arrange the parts in the correct order to form a meaningful sentence.

Through the dense forest, / the hikers / trekked / for hours / before reaching / the mountain peak.

- Ans 1. Before reaching the mountain peak, the hikers through the dense forest trekked for hours.
 2. The hikers for hours through the dense forest trekked before reaching the mountain peak.
 3. The hikers trekked for hours through the dense forest before reaching the mountain peak.
 4. Through the dense forest for hours trekked the hikers before reaching the mountain peak.

Question ID : 630680745625
Option 1 ID : 6306802922677
Option 2 ID : 6306802922675
Option 3 ID : 6306802922678
Option 4 ID : 6306802922676
Status : Answered
Chosen Option : 3

Q.5 Select the option that expresses the following sentence in passive voice.

After we come to power at the Centre, we will conduct a countrywide caste census.

- Ans 1. A countrywide caste census will be conducted by us after we come to power at the Centre.
 2. A countrywide caste census will have been conducted by us after we come to power at the Centre.
 3. A countrywide caste census will be conducted by us as and when we come to power at the Centre.
 4. A countrywide caste census should be conducted by us when we come to power at the Centre.

Question ID : 630680607348
Option 1 ID : 6306802376544
Option 2 ID : 6306802376542
Option 3 ID : 6306802376541
Option 4 ID : 6306802376543
Status : Answered
Chosen Option : 1

Q.6 Select the most appropriate article to fill in the blank.
Rabindranath Tagore, _____ poet, was famous for his poetical work, Gitanjali.

- Ans 1. an
 2. the
 3. a
 4. no article required

Question ID : 630680166149
Option 1 ID : 630680643571
Option 2 ID : 630680643568
Option 3 ID : 630680643570
Option 4 ID : 630680643569
Status : Answered
Chosen Option : 2

Q.7 Select the most appropriate option to fill in the blank.

The blueberries in the basket are blue.
The denotation of the word 'blue' is _____.

- Ans 1. gloominess
 2. a colour
 3. sadness
 4. negativity

Question ID : 630680147120
Option 1 ID : 630680569301
Option 2 ID : 630680569299
Option 3 ID : 630680569300
Option 4 ID : 630680569298
Status : Answered
Chosen Option : 2

Q.8 Select the most appropriate synonym of the given word.

Charisma

- Ans 1. Charm
 2. Influence
 3. Reputation
 4. Atmosphere

Question ID : 630680628622
Option 1 ID : 6306802460544
Option 2 ID : 6306802460545
Option 3 ID : 6306802460543
Option 4 ID : 6306802460542
Status : Answered
Chosen Option : 1

Q.9 Select the most appropriate option to fill in the blank.

This is the _____ book that I have read till now.

- Ans 1. more interesting
 2. interesting
 3. most interesting
 4. better interest

Question ID : 630680617607
Option 1 ID : 6306802416658
Option 2 ID : 6306802416659
Option 3 ID : 6306802416657
Option 4 ID : 6306802416660
Status : Answered
Chosen Option : 3

Q.10 Select the option that can be used as a one-word substitute for the given group of words.

Someone who walks on foot

- Ans 1. Stalker
 2. Pedestrian
 3. Decanter
 4. Auditor

Question ID : 630680105687
Option 1 ID : 630680410786
Option 2 ID : 630680410785
Option 3 ID : 630680410783
Option 4 ID : 630680410784
Status : Answered
Chosen Option : 2

Q.11 A sentence has been split up into segments and given below in jumbled order. While the first and the last segments of the sentence (1 and 6) are in the correct order, the segments in between are jumbled up. Arrange the segments in the correct order to form a meaningful and coherent sentence.

- 1) An outstanding feature of the 21st century has been
P) greater security and education which
Q) the improvement of the income and
R) living conditions of the
S) working man leading to
6) has meant greater political power.

- Ans 1. P, R, Q, S
 2. S, P, Q, R
 3. S, R, Q, P
 4. Q, R, S, P

Question ID : 630680295270
Option 1 ID : 6306801148805
Option 2 ID : 6306801148807
Option 3 ID : 6306801148806
Option 4 ID : 6306801148804
Status : Answered
Chosen Option : 4

Q.12 Select the most appropriate ANTONYM of the word given below.
Ameliorate

- Ans 1. Exacerbate
 2. Succour
 3. Motto
 4. Recondite

Question ID : 630680166477
Option 1 ID : 630680644831
Option 2 ID : 630680644830
Option 3 ID : 630680644829
Option 4 ID : 630680644828
Status : Answered
Chosen Option : 1

Q.13 Select the most appropriate option to fill in the blank.

The comedian's jokes were so funny that the entire audience erupted in _____.

- Ans 1. later
 2. loiter
 3. latter
 4. laughter

Question ID : 630680539774
Option 1 ID : 6306802110207
Option 2 ID : 6306802110206
Option 3 ID : 6306802110205
Option 4 ID : 6306802110208
Status : Answered
Chosen Option : 4

Q.14 Select the option that can be used as a one-word substitute for the given group of words.

Speaking disrespectfully about sacred or religious things

- Ans 1. Biped
 2. Belligerent
 3. Blasphemy
 4. Bigamy

Question ID : 63068069342
Option 1 ID : 630680268049
Option 2 ID : 630680268047
Option 3 ID : 630680268046
Option 4 ID : 630680268048
Status : Answered
Chosen Option : 3

Q.15 Select the option that can be used as a one-word substitute for the given group of words.

Someone who loves and admires himself the most

- Ans 1. Recluse
 2. Narcissist
 3. Altruist
 4. Omniscient

Question ID : 63068086330
Option 1 ID : 630680334751
Option 2 ID : 630680334749
Option 3 ID : 630680334750
Option 4 ID : 630680334748
Status : Answered
Chosen Option : 2

Q.16 The given sentence is divided into four segments. Identify the segment that contains a grammatical error.

When I returned to the office, / no work was left / as my friend Rahul / has done everything.

- Ans 1. When I returned to the office,
 2. as my friend Rahul
 3. no work was left
 4. has done everything

Question ID : 630680157021
Option 1 ID : 630680607636
Option 2 ID : 630680607638
Option 3 ID : 630680607637
Option 4 ID : 630680607639
Status : Answered
Chosen Option : 4

Q.17 Select the option that expresses the given sentence in passive voice.

Don't park your car here.

- Ans 1. Let your car be parked here.
 2. Let your car not be parked here.
 3. Have not your car be parked here.
 4. Let not your car be parked here.

Question ID : 630680627574
Option 1 ID : 6306802456399
Option 2 ID : 6306802456398
Option 3 ID : 6306802456401
Option 4 ID : 6306802456400
Status : Answered
Chosen Option : 2

Q.18 The following sentence has been split into four segments. Identify the segment that contains a grammatical error.
I, you and she/ have been working happily/ in the same company and in the same branch/ for the last nine years.

- Ans 1. for the last nine years
 2. I, you and she
 3. have been working happily
 4. in the same company and in the same branch

Question ID : 630680176556
Option 1 ID : 630680684451
Option 2 ID : 630680684448
Option 3 ID : 630680684449
Option 4 ID : 630680684450
Status : Answered
Chosen Option : 2

Q.19 Select the most appropriate ANTONYM of the given word.

Thrifty

- Ans 1. Extravagant
 2. Intolerant
 3. Indifferent
 4. Thankful

Question ID : 630680565685
Option 1 ID : 6306802211677
Option 2 ID : 6306802211679
Option 3 ID : 6306802211678
Option 4 ID : 6306802211676
Status : Answered
Chosen Option : 1

Q.20 Sentences of a paragraph are given below. While the first and the last sentences (1 and 6) are in the correct order, the sentences in between are jumbled up. Arrange the sentences in the correct order to form a meaningful and coherent paragraph.

1. There are some backward areas in Andhra Pradesh.
A. Rayalaseema is one of them.
B. Massive degradation of natural resources and extensive changes in land use have resulted in poor crop productivity in Rayalaseema.
C. The National Soil Survey and Land use planning organisation is doing its job by giving suggestions to the farmers of Rayalaseema.
D. Soil Organic Carbon (SOC), which is crucial for maintaining soil quality, has decreased by 84% in the region. Poor soil fertility and soil degradation, like in Rayalaseema region, are the major causes of food shortage.
6. The advice is about which crops are to be cultivated and which not.

- Ans 1. DCBA
 2. ABDC
 3. CBAD
 4. CDBA

Question ID : 630680196513
Option 1 ID : 630680762356
Option 2 ID : 630680762355
Option 3 ID : 630680762358
Option 4 ID : 630680762357
Status : Answered
Chosen Option : 2

Q.21 Select the option that expresses the given sentence in indirect speech.

He said, "I shall need a copy of the documents."

- Ans 1. He said that he will need a copy of the documents.
 2. He said that he would need a copy of the documents.
 3. He said that he shall need a copy of the document.
 4. He said that he is going to need a copy of the document.

Question ID : 630680627725
Option 1 ID : 6306802456996
Option 2 ID : 6306802456995
Option 3 ID : 6306802456997
Option 4 ID : 6306802456998
Status : Answered
Chosen Option : 2

Q.22 Select the option that expresses the given sentence in indirect speech.

Kanhaiya said to me, "Do you want to sing?"

- Ans 1. Kanhaiya said that I would sing or not.
 2. Kanhaiya enquires if I want to sing.
 3. Kanhaiya said that whether I would sing.
 4. Kanhaiya asked me if I wanted to sing.

Question ID : 630680628007
Option 1 ID : 6306802458110
Option 2 ID : 6306802458107
Option 3 ID : 6306802458108
Option 4 ID : 6306802458109
Status : Answered
Chosen Option : 4

Q.23 Select the most appropriate option that can substitute the underlined words in the given sentence.

In the makeshift place of activity, debate or conflict, there were hundreds of people with the queen's team of advisors and servants sitting within the ring against the wall.

- Ans 1. casino
 2. aviary
 3. arena
 4. dormitory

Question ID : 630680669060
Option 1 ID : 6306802619746
Option 2 ID : 6306802619745
Option 3 ID : 6306802619747
Option 4 ID : 6306802619748
Status : Answered
Chosen Option : 4

Q.24 Select the most appropriate ANTONYM of the given word.

Melancholy

- Ans 1. Mechanical
 2. Profitable
 3. Miserable
 4. Pleasant

Question ID : 630680565677
Option 1 ID : 6306802211645
Option 2 ID : 6306802211647
Option 3 ID : 6306802211646
Option 4 ID : 6306802211644
Status : Answered
Chosen Option : 4

Q.25 Select the option that expresses the given sentence in reported speech.

The soldier said to his fellow soldiers, "I have buried our brave comrade here.

- Ans 1. The soldier told his fellow soldiers that I had buried our brave comrade there.
 2. The soldier told us that I had buried their brave comrade here.
 3. The soldier told us that he had buried our brave comrade there.
 4. The soldier told his fellow soldiers that he had buried their brave comrade there.

Question ID : 630680627778
Option 1 ID : 6306802457209
Option 2 ID : 6306802457210
Option 3 ID : 6306802457207
Option 4 ID : 6306802457208
Status : Answered
Chosen Option : 4

Q.26 Select the most appropriate option to fill in the blank.

Prescription safety glasses provide the _____ tailored protection for individuals with vision correction needs.

- Ans 1. more finely
 2. finer
 3. finest
 4. fine

Question ID : 630680596034
Option 1 ID : 6306802332321
Option 2 ID : 6306802332320
Option 3 ID : 6306802332323
Option 4 ID : 6306802332322
Status : Answered
Chosen Option : 3

Q.27 Select the option that expresses the given sentence in passive voice.

Scientists have recently discovered a new species of marine life in the unexplored depths of the ocean.

- Ans
- 1. A new species of marine life was recently discovered in the unexplored depths of the ocean by scientists.
 - 2. A new species of marine life had recently been discovered in the unexplored depths of the ocean by scientists.
 - 3. A new species of marine life was recently being discovered in the unexplored depths of the ocean by scientists.
 - 4. A new species of marine life has recently been discovered in the unexplored depths of the ocean by scientists.

Question ID : 630680607346

Option 1 ID : 6306802376533

Option 2 ID : 6306802376534

Option 3 ID : 6306802376535

Option 4 ID : 6306802376536

Status : Answered

Chosen Option : 4

Q.28 Select the most appropriate option that can substitute the underlined words in the given sentence.

The nation has chosen the government by the people over monarchy.

- Ans
- 1. oligarchy
 - 2. autocracy
 - 3. theocracy
 - 4. democracy

Question ID : 630680668932

Option 1 ID : 6306802619245

Option 2 ID : 6306802619246

Option 3 ID : 6306802619247

Option 4 ID : 6306802619248

Status : Answered

Chosen Option : 4

Q.29 Select the INCORRECTLY spelt word.

- Ans
- 1. Memento
 - 2. Apparent
 - 3. Practitionaire
 - 4. Recommend

Question ID : 6306801320329

Option 1 ID : 6306805195871

Option 2 ID : 6306805195872

Option 3 ID : 6306805195874

Option 4 ID : 6306805195873

Status : Answered

Chosen Option : 1

Comprehension:

In the following passage, some words have been deleted. Read the passage carefully and select the most appropriate option to fill in each blank.

The greatest disease in the West today is not TB or leprosy; it is being unwanted, unloved, and uncared for. We can cure (1)_____ diseases with medicine, but the only cure for loneliness, despair, and hopelessness is love. There are many in the world who are (2)_____ for a piece of bread but there are many more dying for a little love. The poverty in the West is a different kind of poverty – it is not only a poverty of (3)_____ but also of (4)_____. There's a hunger for affection as there is a hunger for God.

SubQuestion No : 30

Q.30 Select the most appropriate option to fill in blank 1.

- Ans 1. masculine
 2. radical
 3. stubborn
 4. physical

Question ID : 630680404891

Option 1 ID : 6306801579048

Option 2 ID : 6306801579047

Option 3 ID : 6306801579049

Option 4 ID : 6306801579050

Status : Answered

Chosen Option : 4

Comprehension:

In the following passage, some words have been deleted. Read the passage carefully and select the most appropriate option to fill in each blank.

The greatest disease in the West today is not TB or leprosy; it is being unwanted, unloved, and uncared for. We can cure (1)_____ diseases with medicine, but the only cure for loneliness, despair, and hopelessness is love. There are many in the world who are (2)_____ for a piece of bread but there are many more dying for a little love. The poverty in the West is a different kind of poverty – it is not only a poverty of (3)_____ but also of (4)_____. There's a hunger for affection as there is a hunger for God.

SubQuestion No : 31

Q.31 Select the most appropriate option to fill in blank 2.

- Ans 1. dying
 2. neglecting
 3. ignoring
 4. disregarding

Question ID : 630680404892

Option 1 ID : 6306801579053

Option 2 ID : 6306801579051

Option 3 ID : 6306801579052

Option 4 ID : 6306801579054

Status : Answered

Chosen Option : 1

Comprehension:

In the following passage, some words have been deleted. Read the passage carefully and select the most appropriate option to fill in each blank.

The greatest disease in the West today is not TB or leprosy; it is being unwanted, unloved, and uncared for. We can cure (1)_____ diseases with medicine, but the only cure for loneliness, despair, and hopelessness is love. There are many in the world who are (2)_____ for a piece of bread but there are many more dying for a little love. The poverty in the West is a different kind of poverty – it is not only a poverty of (3)_____ but also of (4)_____. There's a hunger for affection as there is a hunger for God.

SubQuestion No : 32**Q.32 Select the most appropriate option to fill in blank 3.**

- Ans 1. abundance
 2. loneliness
 3. lavishness
 4. profusion

Question ID : 630680404893

Option 1 ID : 6306801579055

Option 2 ID : 6306801579057

Option 3 ID : 6306801579058

Option 4 ID : 6306801579056

Status : Answered

Chosen Option : 2

Comprehension:

In the following passage, some words have been deleted. Read the passage carefully and select the most appropriate option to fill in each blank.

The greatest disease in the West today is not TB or leprosy; it is being unwanted, unloved, and uncared for. We can cure (1)_____ diseases with medicine, but the only cure for loneliness, despair, and hopelessness is love. There are many in the world who are (2)_____ for a piece of bread but there are many more dying for a little love. The poverty in the West is a different kind of poverty – it is not only a poverty of (3)_____ but also of (4)_____. There's a hunger for affection as there is a hunger for God.

SubQuestion No : 33**Q.33 Select the most appropriate option to fill in blank 4.**

- Ans 1. covetous
 2. materialistic
 3. spirituality
 4. educate

Question ID : 630680404894

Option 1 ID : 6306801579061

Option 2 ID : 6306801579059

Option 3 ID : 6306801579062

Option 4 ID : 6306801579060

Status : Answered

Chosen Option : 2

Comprehension:

Read the given passage and answer the questions that follow.

The extraction of indigo dye involves harvesting the small, green leaves of the Indigofera plant before its flowers bloom. These leaves undergo a process of soaking in water and churning until a navy blue froth is released. The upper portion of the resulting mixture is drained for irrigation, while the leaves are repurposed as fertilizer. After allowing the water and fine sediment to settle for a day, the liquid is separated from the sediment. The obtained deep blue paste is then subjected to filtration to remove dirt and impurities, followed by compression into cakes and drying for several days. Once dried, the indigo is ready for use as a dye. Lime ($\text{Ca}(\text{OH})_2$) can be added to the initial water and leaves mixture, and various natural sugars can be dissolved into the paste to enhance the extraction process.

SubQuestion No : 34

Q.34 What is the overall tone of the passage?

- Ans 1. Informative and instructional
 2. Critical and analytical
 3. Emotional and sentimental
 4. Humorous and light-hearted

Question ID : 630680545661

Option 1 ID : 6306802133232

Option 2 ID : 6306802133233

Option 3 ID : 6306802133235

Option 4 ID : 6306802133234

Status : Answered

Chosen Option : 1

Comprehension:

Read the given passage and answer the questions that follow.

The extraction of indigo dye involves harvesting the small, green leaves of the Indigofera plant before its flowers bloom. These leaves undergo a process of soaking in water and churning until a navy blue froth is released. The upper portion of the resulting mixture is drained for irrigation, while the leaves are repurposed as fertilizer. After allowing the water and fine sediment to settle for a day, the liquid is separated from the sediment. The obtained deep blue paste is then subjected to filtration to remove dirt and impurities, followed by compression into cakes and drying for several days. Once dried, the indigo is ready for use as a dye. Lime ($\text{Ca}(\text{OH})_2$) can be added to the initial water and leaves mixture, and various natural sugars can be dissolved into the paste to enhance the extraction process.

SubQuestion No : 35

Q.35 Select the most appropriate synonym of the word 'impurities' from the options given below.

- Ans 1. purity
 2. cleanliness
 3. scum
 4. pureness

Question ID : 630680545663

Option 1 ID : 6306802133243

Option 2 ID : 6306802133240

Option 3 ID : 6306802133241

Option 4 ID : 6306802133242

Status : Answered

Chosen Option : 3

Comprehension:

Read the given passage and answer the questions that follow.

The extraction of indigo dye involves harvesting the small, green leaves of the Indigofera plant before its flowers bloom. These leaves undergo a process of soaking in water and churning until a navy blue froth is released. The upper portion of the resulting mixture is drained for irrigation, while the leaves are repurposed as fertilizer. After allowing the water and fine sediment to settle for a day, the liquid is separated from the sediment. The obtained deep blue paste is then subjected to filtration to remove dirt and impurities, followed by compression into cakes and drying for several days. Once dried, the indigo is ready for use as a dye. Lime ($\text{Ca}(\text{OH})_2$) can be added to the initial water and leaves mixture, and various natural sugars can be dissolved into the paste to enhance the extraction process.

SubQuestion No : 36

Q.36 What is the central theme of the passage describing the extraction process of indigo dye from the Indigofera plant?

- Ans**
- 1. The cultivation and growth cycle of the Indigofera plant
 - 2. The various uses of indigo dye in different industries
 - 3. The impact of lime and natural sugars on the indigo extraction process
 - 4. The intricate process of harvesting and processing indigo leaves

Question ID : 630680545660

Option 1 ID : 6306802133228

Option 2 ID : 6306802133229

Option 3 ID : 6306802133231

Option 4 ID : 6306802133230

Status : Answered

Chosen Option : 1

Comprehension:

Read the given passage and answer the questions that follow.

The extraction of indigo dye involves harvesting the small, green leaves of the Indigofera plant before its flowers bloom. These leaves undergo a process of soaking in water and churning until a navy blue froth is released. The upper portion of the resulting mixture is drained for irrigation, while the leaves are repurposed as fertilizer. After allowing the water and fine sediment to settle for a day, the liquid is separated from the sediment. The obtained deep blue paste is then subjected to filtration to remove dirt and impurities, followed by compression into cakes and drying for several days. Once dried, the indigo is ready for use as a dye. Lime ($\text{Ca}(\text{OH})_2$) can be added to the initial water and leaves mixture, and various natural sugars can be dissolved into the paste to enhance the extraction process.

SubQuestion No : 37

Q.37 In the extraction process described, what is the purpose of allowing the water and fine sediment at the bottom of the tank to settle for a day?

- Ans**
- 1. To promote the growth of additional indigo leaves
 - 2. To enhance the aroma of the indigo dye
 - 3. To facilitate the separation of liquid from sediment
 - 4. To create a unique texture in the final indigo paste

Question ID : 630680545662

Option 1 ID : 6306802133236

Option 2 ID : 6306802133237

Option 3 ID : 6306802133238

Option 4 ID : 6306802133239

Status : Answered

Chosen Option : 3

Comprehension:

Read the given passage and answer the questions that follow.

Engaging in regular physical activity is not only beneficial for physical well-being but also has a profound impact on mental health. Studies have shown that exercise releases endorphins, chemicals in the brain that act as natural painkillers and mood elevators. Additionally, consistent exercise has been linked to reduced symptoms of anxiety and depression. Contrary to common misconceptions, it doesn't require intense workouts; even moderate activities like walking or yoga can contribute to improved mental well-being. Making exercise a regular part of one's routine not only supports physical fitness but also nurtures a positive and resilient mindset.

SubQuestion No : 38

Q.38 Determine the tone of the passage by choosing the option that reflects the overall emotional quality of the writing.

- Ans**
- 1. Dramatic
 - 2. Critical
 - 3. Informative
 - 4. Humorous

Question ID : 630680549230

Option 1 ID : 6306802147388

Option 2 ID : 6306802147387

Option 3 ID : 6306802147385

Option 4 ID : 6306802147386

Status : Answered

Chosen Option : 3

Comprehension:

Read the given passage and answer the questions that follow.

Engaging in regular physical activity is not only beneficial for physical well-being but also has a profound impact on mental health. Studies have shown that exercise releases endorphins, chemicals in the brain that act as natural painkillers and mood elevators. Additionally, consistent exercise has been linked to reduced symptoms of anxiety and depression. Contrary to common misconceptions, it doesn't require intense workouts; even moderate activities like walking or yoga can contribute to improved mental well-being. Making exercise a regular part of one's routine not only supports physical fitness but also nurtures a positive and resilient mindset.

SubQuestion No : 39

Q.39 Select the most appropriate title for the given passage.

- Ans**
- 1. Importance of Regular Physical Activities
 - 2. The Impact of Technology on Health
 - 3. The Importance of a Balanced Diet
 - 4. The Benefits of Mindfulness Meditation

Question ID : 630680549165

Option 1 ID : 6306802147130

Option 2 ID : 6306802147132

Option 3 ID : 6306802147129

Option 4 ID : 6306802147131

Status : Answered

Chosen Option : 1

Comprehension:

Read the given passage and answer the questions that follow.

Engaging in regular physical activity is not only beneficial for physical well-being but also has a profound impact on mental health. Studies have shown that exercise releases endorphins, chemicals in the brain that act as natural painkillers and mood elevators. Additionally, consistent exercise has been linked to reduced symptoms of anxiety and depression. Contrary to common misconceptions, it doesn't require intense workouts; even moderate activities like walking or yoga can contribute to improved mental well-being. Making exercise a regular part of one's routine not only supports physical fitness but also nurtures a positive and resilient mindset.

SubQuestion No : 40

Q.40 Select the option that provides an accurate summary of the main points discussed in the passage.

- Ans
- 1. Exercise only impacts physical well-being, not mental health.
 - 2. Exercise requires intense workouts for mental health benefits.
 - 3. Engaging in regular physical activity positively impacts mental health by releasing endorphins and reducing symptoms of anxiety and depression.
 - 4. The passage discusses the negative effects of technology on health.

Question ID : 630680549231

Option 1 ID : 6306802147389

Option 2 ID : 6306802147390

Option 3 ID : 6306802147391

Option 4 ID : 6306802147392

Status : Answered

Chosen Option : 3

Comprehension:

Read the given passage and answer the questions that follow.

Engaging in regular physical activity is not only beneficial for physical well-being but also has a profound impact on mental health. Studies have shown that exercise releases endorphins, chemicals in the brain that act as natural painkillers and mood elevators. Additionally, consistent exercise has been linked to reduced symptoms of anxiety and depression. Contrary to common misconceptions, it doesn't require intense workouts; even moderate activities like walking or yoga can contribute to improved mental well-being. Making exercise a regular part of one's routine not only supports physical fitness but also nurtures a positive and resilient mindset.

SubQuestion No : 41

Q.41 Which of the following is a fact mentioned in the passage?

- Ans
- 1. Exercise requires intense workouts for mental health benefits.
 - 2. Regular exercise has no impact on mental health.
 - 3. Exercise releases endorphins, contributing to improved mental well-being.
 - 4. Only intense physical activities are linked to reduced anxiety and depression.

Question ID : 630680549189

Option 1 ID : 6306802147229

Option 2 ID : 6306802147230

Option 3 ID : 6306802147231

Option 4 ID : 6306802147232

Status : Answered

Chosen Option : 3

Comprehension:

Read the given passage and answer the questions that follow.

Reading is an important communication skill that has many benefits and it has great impact on a person's life. We should develop a reading habit as it allows us to learn new information and gives us access to a wide range of opportunities and ideas. So, reading regularly not only broadens our aspect and knowledge but also improves our intelligence, perspective, judgement and understanding of the world. It helps to stimulate creativity and imagination, to relieve the stress and pressure, and to provide a source of entertainment. The major benefit of reading is to develop the analytical and critical skills of a reader. The former involves gathering information and breaking it down into parts for better understanding, while the latter involves evaluating the same information and making judgments based on evidence. Reading a book or any content improves our language and vocabulary, so we can easily comprehend the words and their use in the context. It also helps in cognitive development in young children so at the primary level, children are more involved in reading rather than writing.

SubQuestion No : 42

Q.42 According to the passage, what is the role of reading?

- Ans** 1. To learn new information to avail opportunity
 2. To make environment healthy
 3. To give strength to the body
 4. To not to share information

Question ID : **630680512951**

Option 1 ID : **6306802004748**

Option 2 ID : **6306802004749**

Option 3 ID : **6306802004746**

Option 4 ID : **6306802004747**

Status : **Answered**

Chosen Option : **1**

Comprehension:

Read the given passage and answer the questions that follow.

Reading is an important communication skill that has many benefits and it has great impact on a person's life. We should develop a reading habit as it allows us to learn new information and gives us access to a wide range of opportunities and ideas. So, reading regularly not only broadens our aspect and knowledge but also improves our intelligence, perspective, judgement and understanding of the world. It helps to stimulate creativity and imagination, to relieve the stress and pressure, and to provide a source of entertainment. The major benefit of reading is to develop the analytical and critical skills of a reader. The former involves gathering information and breaking it down into parts for better understanding, while the latter involves evaluating the same information and making judgments based on evidence. Reading a book or any content improves our language and vocabulary, so we can easily comprehend the words and their use in the context. It also helps in cognitive development in young children so at the primary level, children are more involved in reading rather than writing.

SubQuestion No : 43

Q.43 Which skill is used by a reader when he evaluates the same information and makes judgments based on evidence?

- Ans** 1. Analytical skill
 2. Critical skill
 3. Drawing skill
 4. Technical skill

Question ID : **630680512953**

Option 1 ID : **6306802004754**

Option 2 ID : **6306802004756**

Option 3 ID : **6306802004755**

Option 4 ID : **6306802004757**

Status : **Answered**

Chosen Option : **2**

Comprehension:

Read the given passage and answer the questions that follow.

Reading is an important communication skill that has many benefits and it has great impact on a person's life. We should develop a reading habit as it allows us to learn new information and gives us access to a wide range of opportunities and ideas. So, reading regularly not only broadens our aspect and knowledge but also improves our intelligence, perspective, judgement and understanding of the world. It helps to stimulate creativity and imagination, to relieve the stress and pressure, and to provide a source of entertainment. The major benefit of reading is to develop the analytical and critical skills of a reader. The former involves gathering information and breaking it down into parts for better understanding, while the latter involves evaluating the same information and making judgments based on evidence. Reading a book or any content improves our language and vocabulary, so we can easily comprehend the words and their use in the context. It also helps in cognitive development in young children so at the primary level, children are more involved in reading rather than writing.

SubQuestion No : 44

Q.44 Cognitive development in a child is related to:

- Ans
- 1. social development
 - 2. environmental development
 - 3. mental development
 - 4. technical development

Question ID : 630680512954

Option 1 ID : 6306802004760

Option 2 ID : 6306802004761

Option 3 ID : 6306802004758

Option 4 ID : 6306802004759

Status : Answered

Chosen Option : 3

Comprehension:

Read the given passage and answer the questions that follow.

Reading is an important communication skill that has many benefits and it has great impact on a person's life. We should develop a reading habit as it allows us to learn new information and gives us access to a wide range of opportunities and ideas. So, reading regularly not only broadens our aspect and knowledge but also improves our intelligence, perspective, judgement and understanding of the world. It helps to stimulate creativity and imagination, to relieve the stress and pressure, and to provide a source of entertainment. The major benefit of reading is to develop the analytical and critical skills of a reader. The former involves gathering information and breaking it down into parts for better understanding, while the latter involves evaluating the same information and making judgments based on evidence. Reading a book or any content improves our language and vocabulary, so we can easily comprehend the words and their use in the context. It also helps in cognitive development in young children so at the primary level, children are more involved in reading rather than writing.

SubQuestion No : 45

Q.45 Which skill is used by a reader when he gathers information and breaks it down in a logical pattern to solve a problem?

- Ans
- 1. Speaking skill
 - 2. Critical skill
 - 3. Analytical skill
 - 4. Reasoning skill

Question ID : 630680512952

Option 1 ID : 6306802004752

Option 2 ID : 6306802004750

Option 3 ID : 6306802004751

Option 4 ID : 6306802004753

Status : Answered

Chosen Option : 3

Q.1 निम्नलिखित में से कौन भारत के राष्ट्रपति थे, जब भारत ने पोखरण में अपना पहला परमाणु परीक्षण किया था?

- Ans 1. वीवी गिरि
 2. डॉ ए.पी.जे. अब्दुल कलाम
 3. ज्ञानी जैल सिंह
 4. फखरुद्दीन अली अहमद

Question ID : 630680761432
Option 1 ID : 6306802984653
Option 2 ID : 6306802984656
Option 3 ID : 6306802984655
Option 4 ID : 6306802984654
Status : Answered
Chosen Option : 4

Q.2 हरित क्रांति के कारण प्रारंभ में निम्नलिखित में से किन फसलों की उत्पादकता में वृद्धि हुई थी?

- Ans 1. गेहूँ और गन्ना
 2. गेहूँ और चावल
 3. चावल और दलहन
 4. चावल और कपास

Question ID : 630680607909
Option 1 ID : 6306802378818
Option 2 ID : 6306802378817
Option 3 ID : 6306802378820
Option 4 ID : 6306802378819
Status : Answered
Chosen Option : 2

Q.3 निम्नलिखित में से किस वर्ष में महात्मा गांधी ने भारत में पहली बार सत्याग्रह और भूख हड़ताल का नेतृत्व किया?

- Ans 1. 1919
 2. 1918
 3. 1920
 4. 1917

Question ID : 6306801162474
Option 1 ID : 6306804569269
Option 2 ID : 6306804569268
Option 3 ID : 6306804569270
Option 4 ID : 6306804569267
Status : Answered
Chosen Option : 4

Q.4 Which of the following best defines liberalisation?

- Ans 1. The process of maintaining existing government regulations and restrictions on economic activities.
2. The process of reducing or removing government regulations and restrictions on economic activities.
3. The process of enforcing strict government control over economic activities.
4. The process of increasing government regulations and restrictions on economic activities.

Question ID : 630680637560

Option 1 ID : 6306802495957

Option 2 ID : 6306802495958

Option 3 ID : 6306802495959

Option 4 ID : 6306802495956

Status : Answered

Chosen Option : 2

Q.5 जेम्स चैडविक ने विद्युत आवेश से रहित प्राथमिक कण, न्यूट्रॉन के अस्तित्व को कब सिद्ध किया?

- Ans 1. 1920
2. 1941
3. 1932
4. 1955

Question ID : 630680618166

Option 1 ID : 6306802419005

Option 2 ID : 6306802419007

Option 3 ID : 6306802419006

Option 4 ID : 6306802419008

Status : Not Attempted and Marked For Review

Chosen Option : --

Q.6 कौन-सा पदार्थ आमतौर पर अम्ल-क्षारक सूचक के रूप में उपयोग किया जाता है, जो अम्लीय घोल में लाल और क्षारीय घोल में नीला हो जाता है?

- Ans 1. मेथिल ऑरेंज
2. लिटमस कागज
3. फिनॉल
4. ब्रोमोथाइमॉल नील

Question ID : 630680572262

Option 1 ID : 6306802237907

Option 2 ID : 6306802237906

Option 3 ID : 6306802237904

Option 4 ID : 6306802237905

Status : Answered

Chosen Option : 2

Q.7 भारत की जनगणना 2011 के अनुसार, हिंदू धर्म की दर्ज की गई जनसंख्या वृद्धि दर कितनी थी?

- Ans
- 1. 11.7%
 - 2. 16.8%
 - 3. 18.5%
 - 4. 14.3%

Question ID : 630680569753
Option 1 ID : 6306802227804
Option 2 ID : 6306802227806
Option 3 ID : 6306802227807
Option 4 ID : 6306802227805
Status : Answered
Chosen Option : 2

Q.8 जुलाई 2023 में, 565 km/hr की चाल से शॉट लगाकर, सबसे तेज़ बैडमिंटन शॉट लगाने का नया गिनीज वर्ल्ड रिकॉर्ड किसने बनाया?

- Ans
- 1. साइना नेहवाल
 - 2. सात्विकसाईराज रंकीरेड्डी
 - 3. पी.वी. सिंधु
 - 4. किदांबी श्रीकांत

Question ID : 630680575051
Option 1 ID : 6306802249026
Option 2 ID : 6306802249027
Option 3 ID : 6306802249024
Option 4 ID : 6306802249025
Status : Answered
Chosen Option : 2

Q.9 कौन-सा अमीनो एसिड सेरोटोनिन का अग्रदूत, कोई न्यूरोट्रांसमीटर है, जो आपकी भूख, नींद और मूड को नियंत्रित करता है?

- Ans
- 1. आइसोल्पूसीन
 - 2. वैलीन
 - 3. मेथिओनिन
 - 4. ट्रिप्टोफान

Question ID : 630680618472
Option 1 ID : 6306802420217
Option 2 ID : 6306802420219
Option 3 ID : 6306802420220
Option 4 ID : 6306802420218
Status : Not Answered
Chosen Option : --

Q.10 कोपेन जलवायु वर्गीकरण में कौन-सा अक्षर कोड, मध्य अक्षांश मरुस्थल जलवायु को दर्शाता है?

- Ans
- 1. EF
 - 2. Dw
 - 3. BWk
 - 4. Cfa

Question ID : 630680618279
 Option 1 ID : 6306802419447
 Option 2 ID : 6306802419446
 Option 3 ID : 6306802419445
 Option 4 ID : 6306802419448
 Status : Not Answered
 Chosen Option : --

Q.11 संयुक्त राष्ट्र सांख्यिकी प्रभाग (UNSD) के नेतृत्व में इंटरनेशनल कैपेरीजन प्रोग्राम (ICP) का प्राथमिक लक्ष्य क्या है?

- Ans
- 1. अंतरराष्ट्रीय व्यापार पर डेटा एकत्र करना
 - 2. क्रय शक्ति समानताओं (PPPs) और मूल्य स्तर सूचकांकों की गणना करना
 - 3. विश्व स्तर पर सांख्यिकीय कार्यालयों को कार्यान्वित करना
 - 4. वैश्विक स्तर पर बेरोजगारी आकलन तैयार करना

Question ID : 630680618857
 Option 1 ID : 6306802421709
 Option 2 ID : 6306802421706
 Option 3 ID : 6306802421708
 Option 4 ID : 6306802421707
 Status : Answered
 Chosen Option : 3

Q.12 निम्नलिखित में से किस मामले में, भारत के उच्चतम न्यायालय ने यह निर्णय दिया कि, 'मौलिक अधिकारों और निर्देशक सिद्धांतों के बीच किसी भी विसंगति की स्थिति में, मौलिक अधिकार ही मान्य होगा'?

- Ans
- 1. केशवानंद भारती मामला, 1973
 - 2. गोलकनाथ मामला, 1967
 - 3. मिनर्वा मिल्स मामला, 1980
 - 4. चंपकम दोरईजन मामला, 1951

Question ID : 630680758985
 Option 1 ID : 6306802974897
 Option 2 ID : 6306802974896
 Option 3 ID : 6306802974898
 Option 4 ID : 6306802974895
 Status : Answered
 Chosen Option : 3

Q.13 सिंगर और निकोलसन द्वारा फ्ल्यूड मोजेक मॉडल किस वर्ष प्रस्तावित किया गया था? मॉडल आमतौर पर कोशिका झिल्ली संरचना और गतिशीलता का निरूपण करता है।

- Ans
- 1. 1960
 - 2. 1972
 - 3. 1993
 - 4. 1981

Question ID : 630680618488
Option 1 ID : 6306802420281
Option 2 ID : 6306802420282
Option 3 ID : 6306802420284
Option 4 ID : 6306802420283
Status : Not Answered
Chosen Option : --

Q.14 कुषाण सम्राट कनिष्क, जिसने पहली शताब्दी के अंत से लेकर दूसरी शताब्दी के आरंभ/मध्य तक शासन किया, वह _____ कुषाण शासक था।

- Ans
- 1. पांचवां
 - 2. तीसरा
 - 3. चौथा
 - 4. दूसरा

Question ID : 630680511614
Option 1 ID : 6306801999581
Option 2 ID : 6306801999579
Option 3 ID : 6306801999580
Option 4 ID : 6306801999578
Status : Answered
Chosen Option : 4

Q.15 Which of the following is NOT the qualification for the appointment of judges of supreme court?

- Ans
- 1. A judge of high court for at least five years
 - 2. An advocate of high court for at least ten years
 - 3. An advocate of supreme court for at least ten years
 - 4. A distinguished judge in the opinion of the President

Question ID : 630680616228
Option 1 ID : 6306802411591
Option 2 ID : 6306802411592
Option 3 ID : 6306802411593
Option 4 ID : 6306802411594
Status : Answered
Chosen Option : 2

Q.16 जनवरी 2024 में केंद्रीय नागरिक उड्डयन मंत्री द्वारा उद्घाटन किए गए विंग्स इंडिया 2024, एविएशन एक्सपो का विषय क्या है?

- Ans 1. भारतीय एयरोस्पेस में विमानन और सतत विकास: अमृत काल में भविष्य की संभावनाएं। (Aviation and Sustainable Development in the Indian Aerospace: Future possibilities in Amrit Kaal.)
2. एयरोस्पेस में प्रगति: अमृत काल में भारत के विमानन भविष्य की एक झलक। (Advancements in Aerospace: A Glimpse into India's Aviation Future in Amrit Kaal.)
3. अमृत काल में भारत को विश्व से जोड़ना: भारत नागरिक उड्डयन @2047 के लिए मंच तैयार करना। (Connecting India to the World in Amrit Kaal: Setting the Stage for India Civil Aviation @2047.)
4. अमृत काल में एविएशन एक्सपो-विंग्स इंडिया: भारतीय नागरिक उड्डयन के भविष्य को आकार देना। (Aviation Expo-Wings India in Amrit Kaal: Shaping the Future of Indian Civil Aviation.)

Question ID : 630680571724

Option 1 ID : 6306802235806

Option 2 ID : 6306802235805

Option 3 ID : 6306802235807

Option 4 ID : 6306802235804

Status : Answered

Chosen Option : 3

Q.17 भारत ने किस खेल में पाकिस्तान को 2-1 से हराकर 2023 में पुरुष जूनियर एशिया कप जीता, और इस प्रतिष्ठित प्रतियोगिता में अधिकतम खिताब जीतने के मामले में उन्हें पीछे छोड़ दिया?

- Ans 1. हॉकी
2. बास्केटबॉल
3. बैडमिंटन
4. फुटबॉल

Question ID : 630680579880

Option 1 ID : 6306802268410

Option 2 ID : 6306802268411

Option 3 ID : 6306802268413

Option 4 ID : 6306802268412

Status : Answered

Chosen Option : 1

Q.18 राष्ट्रीय अल्पसंख्यक विकास एवं वित्त निगम (NMDFC) द्वारा ऋण लेखांकन प्रक्रियाओं को डिजिटल बनाने और एंड्रॉइड और आईओएस के लिए मोबाइल ऐप जारी करने सहित एमआईएस पोर्टल को एकीकृत करने के लिए लॉन्च किए गए सॉफ्टवेयर का नाम क्या है?

- Ans 1. LOAN-X (लोन एकाउंटिंग नेटवर्क फॉर एनएमडीएफसी)
2. MILAN (माइनॉरिटी लोन एकाउंटिंग फॉर एनएमडीएफसी)
3. MILAP (माइनॉरिटी लोन एकाउंटिंग सॉफ्टवेयर फॉर प्रोजेक्ट्स)
4. DIGIT (डिजिटल इंटेग्रेशन फॉर गवर्नमेंट ट्रांजैशन)

Question ID : 630680580390

Option 1 ID : 6306802270451

Option 2 ID : 6306802270453

Option 3 ID : 6306802270452

Option 4 ID : 6306802270450

Status : Answered

Chosen Option : 2

Q.19 लीवर और पुली के नियमों की खोज किसने की, जो हमें कम बलों का उपयोग करके भारी वस्तुओं को एक स्थान से दूसरे स्थान तक पहुँचाने में मदद करते हैं?

- Ans 1. पाइथागोरस
 2. आर्किमिडीज
 3. डेमोक्राइटस
 4. यूडोक्सस

Question ID : 630680618160
 Option 1 ID : 6306802418983
 Option 2 ID : 6306802418981
 Option 3 ID : 6306802418984
 Option 4 ID : 6306802418982
 Status : Not Answered
 Chosen Option : --

Q.20 निम्नलिखित में से कौन-सी भारत की पूर्ववर्ती नदी नहीं है?

- Ans 1. कोसी
 2. गंगा
 3. यमुना
 4. सिंधु

Question ID : 630680644612
 Option 1 ID : 6306802523759
 Option 2 ID : 6306802523757
 Option 3 ID : 6306802523758
 Option 4 ID : 6306802523756
 Status : Answered
 Chosen Option : 4

Q.21 समीकरण $F = k(q_1 \times \frac{q_2}{r^2})$ किसका निरूपण करता है?

(जहाँ F दो बिंदु आवेश q_1 और q_2 का आकर्षक या प्रतिकर्षक विद्युत बल है और r दो आवेशों के बीच की दूरी है)

- Ans 1. बायो-सेवर्ट का नियम
 2. चार्ल्स का नियम
 3. ओम का नियम
 4. कूलम्ब का नियम

Question ID : 630680305590
 Option 1 ID : 6306801188736
 Option 2 ID : 6306801188733
 Option 3 ID : 6306801188735
 Option 4 ID : 6306801188734
 Status : Answered
 Chosen Option : 4

Q.22 ख्वाजा मुइनुद्दीन चिश्ती की दरगाह पर जाने वाले पहले सुल्तान (दरगाह शरीफ के दर्ज इतिहास में) कौन थे?

- Ans
- 1. बलबन
 - 2. मुहम्मद बिन तुगलक
 - 3. अलाउद्दीन खिलजी
 - 4. जलालुद्दीन खिलजी

Question ID : 630680362742
 Option 1 ID : 6306801412722
 Option 2 ID : 6306801412724
 Option 3 ID : 6306801412721
 Option 4 ID : 6306801412723
 Status : Answered
 Chosen Option : 3

Q.23 ग्लोबल वार्मिंग से निपटने और इसके प्रभावों की तैयारी को लेकर 1992 में कौन-सी अंतरराष्ट्रीय संधि अपनाई गई थी?

- Ans
- 1. यूनाइटेड नेशन्स फ्रेमवर्क कन्वेंशन ऑन क्लाइमेट चेंज (United Nations Framework Convention on Climate Change)
 - 2. मिनामाता कन्वेंशन ऑन मरकरी (Minamata Convention on Mercury)
 - 3. स्टॉकहोम कन्वेंशन ऑन ऑर्गेनिक पल्यूटेंट्स (Stockholm Convention on Persistent Organic Pollutants)
 - 4. वियना कन्वेंशन फॉर द प्रोटेक्शन ऑफ द ओज़ोन लेयर (Vienna Convention for the Protection of the Ozone Layer)

Question ID : 630680618275
 Option 1 ID : 6306802419429
 Option 2 ID : 6306802419431
 Option 3 ID : 6306802419432
 Option 4 ID : 6306802419430
 Status : Answered
 Chosen Option : 1

Q.24 मध्य भारत के उल्लू की कौन-सी स्थानिक-प्रजाति 2018 से IUCN रेड लिस्ट में लुप्तप्राय के रूप में सूचीबद्ध है?

- Ans
- 1. वन उल्लू
 - 2. बार्न ओवलेट
 - 3. बर्फोला उल्लू
 - 4. लंबे कान वाला उल्लू

Question ID : 630680618938
 Option 1 ID : 6306802422028
 Option 2 ID : 6306802422031
 Option 3 ID : 6306802422029
 Option 4 ID : 6306802422030
 Status : Not Answered
 Chosen Option : --

Q.25 निम्नलिखित में से कौन-सा भारतीय रेलवे के दक्षिण मध्य क्षेत्र का मुख्यालय है?

- Ans
- 1. हाजीपुर
 - 2. बिलासपुर
 - 3. सिकंदराबाद
 - 4. जबलपुर

Question ID : 630680663574
Option 1 ID : 6306802597941
Option 2 ID : 6306802597940
Option 3 ID : 6306802597939
Option 4 ID : 6306802597942
Status : Answered
Chosen Option : 4

Section : Module I Computer Knowledge Module

Q.1 Which keyboard shortcut is used to increase the indent in a paragraph in MS Word 2010?

- Ans
- 1. Ctrl + K
 - 2. Ctrl + M
 - 3. Ctrl + D
 - 4. Ctrl + U

Question ID : 630680995382
Option 1 ID : 6306803905545
Option 2 ID : 6306803905544
Option 3 ID : 6306803905543
Option 4 ID : 6306803905546
Status : Not Answered
Chosen Option : --

Q.2 डेस्कटॉप और लैपटॉप ऑपरेटिंग सिस्टम को एम्बेडेड सिस्टम की तुलना में अधिक उन्नत मेमोरी प्रबंधन तकनीकों की आवश्यकता क्यों होती है?

- Ans
- 1. डेस्कटॉप और लैपटॉप ऑपरेटिंग सिस्टम के लिए मेमोरी प्रबंधन आवश्यक नहीं है।
 - 2. वे सीमित हार्डवेयर संसाधनों के कारण स्टैटिक मेमोरी एलोकेशन पर निर्भर करते हैं।
 - 3. वे अधिक हार्डवेयर संसाधनों का उपयोग करते हैं और उन्हें डायनामिक मेमोरी एलोकेशन (allocation) की आवश्यकता होती है।
 - 4. वे एक समय में केवल एक ही एप्लिकेशन रन करते हैं, जिससे मेमोरी प्रबंधन सरल हो जाता है।

Question ID : 6306801313221
Option 1 ID : 6306805167617
Option 2 ID : 6306805167616
Option 3 ID : 6306805167614
Option 4 ID : 6306805167615
Status : Answered
Chosen Option : 3

Q.3 एमएस पावरपॉइंट में, आप स्लाइड शो एक्जिट करके एडिटिंग मोड पर कैसे लौट सकते हैं?

- Ans
- 1. Esc प्रेस करें
 - 2. Alt + Tab प्रेस करें
 - 3. Spacebar प्रेस करें
 - 4. Ctrl + S प्रेस करें

Question ID : 630680978961
 Option 1 ID : 6306803839825
 Option 2 ID : 6306803839828
 Option 3 ID : 6306803839826
 Option 4 ID : 6306803839827
 Status : Answered
 Chosen Option : 1

Q.4 निम्नलिखित में से कौन-सा परिदृश्य, सिस्टम सॉफ्टवेयर और एप्लिकेशन सॉफ्टवेयर की परस्पर निर्भरता को सही ढंग से स्पष्ट करता है?

- Ans
- 1. एक डिवाइस ड्राइवर जो प्रिंटिंग कार्यक्षमता प्रदान करने के लिए एप्लिकेशन सॉफ्टवेयर के रूप में कार्य करता है।
 - 2. एक ऑपरेटिंग सिस्टम जिसमें हार्डवेयर संसाधनों को प्रबंधित करने के लिए मीडिया प्लेयर की आवश्यकता होती है।
 - 3. एक एंटीवायरस प्रोग्राम, जो डिस्क स्कैन करने और मैलवेयर हटाने के लिए सिस्टम युटिलिटी (system utilities) पर निर्भर होता है।
 - 4. एक वर्ड प्रोसेसर जो किसी ऑपरेटिंग सिस्टम की आवश्यकता के बिना स्वतंत्र रूप से कार्य करता है।

Question ID : 6306801296506
 Option 1 ID : 6306805100694
 Option 2 ID : 6306805100695
 Option 3 ID : 6306805100693
 Option 4 ID : 6306805100692
 Status : Answered
 Chosen Option : 3

Q.5 विंडोज़ में, सिस्टम सेटिंग्स को मॉडिफाई करते समय, यूजर अकाउंट कंट्रोल (UAC) की क्या भूमिका होती है?

- Ans
- 1. सॉफ्टवेयर अपडेट को स्वचालित बनाना
 - 2. मेमोरी यूसेज और परफॉरमेंस को मॉनिटर करना
 - 3. सिस्टम-वाइड परिवर्तन करने से पहले अनुमति के लिए प्राम्प्ट (prompt) करना
 - 4. डिस्प्ले सेटिंग को एडजस्ट करना

Question ID : 6306801313312
 Option 1 ID : 6306805167994
 Option 2 ID : 6306805167992
 Option 3 ID : 6306805167993
 Option 4 ID : 6306805167995
 Status : Answered
 Chosen Option : 2

Q.6 एमएस एक्सेल 2010 में, COUNT() फ़ंक्शन का क्या कार्य है?

- Ans 1. सेल की संख्या गिनना
 2. सेल की संख्या स्टोर करना
 3. सेल की संख्या को डुप्लिकेट करना
 4. सेल की संख्या प्रिंट करना

Question ID : 630680994774
Option 1 ID : 6306803903115
Option 2 ID : 6306803903118
Option 3 ID : 6306803903117
Option 4 ID : 6306803903116
Status : Answered
Chosen Option : 1

Q.7 मल्टीपार्ट ईमेल मैसेज में, Content-Type हेडर में बाउंड्री पैरामीटर क्या दर्शाता है?

- Ans 1. यह मल्टीपार्ट मैसेज में प्रत्येक भाग के आरंभ और अंत को चिह्नित करता है।
 2. यह ईमेल मैसेज की लेंथ (length) निर्धारित करता है।
 3. यह ईमेल की बॉडी को अटैचमेंट से अलग करता है।
 4. यह प्रत्येक अटैचमेंट के फ़ाइल साइज़ को सीमित करता है।

Question ID : 6306801301370
Option 1 ID : 6306805120382
Option 2 ID : 6306805120381
Option 3 ID : 6306805120380
Option 4 ID : 6306805120383
Status : Answered
Chosen Option : 2

Q.8 ROM का उपयोग मुख्यतः निम्नलिखित में से किस उद्देश्य के लिए किया जाता है?

- Ans 1. BIOS या फ़र्मवेयर को स्टोर करना
 2. स्थायी एक्सेस के लिए फ़ाइलें स्टोर करना
 3. रैंडम डेटा एक्सेस
 4. अस्थायी डेटा संग्रहण

Question ID : 6306801305893
Option 1 ID : 6306805138477
Option 2 ID : 6306805138478
Option 3 ID : 6306805138479
Option 4 ID : 6306805138476
Status : Answered
Chosen Option : 2

Q.9 _____ विधि का उपयोग सामान्यतः डेटा की इंटीग्रिटी (integrity) को वेरीफाई करने के लिए किया जाता है।

- Ans 1. डुप्लिकेशन (Duplication)
 2. हैशिंग (Hashing)
 3. कम्प्रेसन (Compression)
 4. कैशिंग (Caching)

Question ID : 630680990659
Option 1 ID : 6306803886975
Option 2 ID : 6306803886972
Option 3 ID : 6306803886974
Option 4 ID : 6306803886973
Status : Answered
Chosen Option : 2

Q.10 सेंट्रल प्रोसेसिंग यूनिट (CPU) के संबंध में, निम्नलिखित में से कौन-सा/से कथन सही है/हैं?
CPU को प्रायः कंप्यूटर का 'मस्तिष्क' कहा जाता है।
CPU में तीन मुख्य इकाइयाँ होती हैं: नियंत्रण इकाई (CU), अंकगणितीय तर्क इकाई (ALU) और कैश मेमोरी।

- Ans
- 1. 1 और 2 दोनों
 - 2. केवल 2
 - 3. केवल 1
 - 4. न तो 1 और न ही 2

Question ID : 6306801312610

Option 1 ID : 6306805165248

Option 2 ID : 6306805165247

Option 3 ID : 6306805165246

Option 4 ID : 6306805165249

Status : Answered

Chosen Option : 1

Q.11 एमएस वर्ड में कौन-सा ऑप्शन, यूजर को डॉक्यूमेंट में टेक्स्ट को बाईं ओर, बीच में, दाईं ओर अलाइन करने या पूरे पेज पर इसे जस्टिफाई करने की सुविधा देता है?

- Ans
- 1. Text Direction: टेक्स्ट के ओरिएंटेशन को बदलता है, जैसे लंबवत या क्षैतिज, लेकिन उसका एलाइनमेंट नहीं बदलता
 - 2. Font Style: यह टेक्स्ट के अपीयरेंस को बदलता है लेकिन उसके एलाइनमेंट को प्रभावित नहीं करता
 - 3. Line Spacing: टेक्स्ट की पंक्तियों के बीच के स्पेस को एडजस्ट करता है लेकिन टेक्स्ट एलाइनमेंट को प्रभावित नहीं करता है
 - 4. Paragraph Alignment: टेक्स्ट के एलाइनमेंट को बाईं ओर, बीच में, दाईं ओर एडजस्ट करता है या इसे जस्टिफाई करता है

Question ID : 630680994002

Option 1 ID : 6306803900098

Option 2 ID : 6306803900097

Option 3 ID : 6306803900100

Option 4 ID : 6306803900099

Status : Answered

Chosen Option : 4

Q.12 PC पर पासवर्ड को इनेबल करने का उद्देश्य क्या होता है?

- Ans
- 1. डेटा सिग्नल की स्ट्रेंथ (strength) में सुधार करना
 - 2. इंस्टॉल किए गए एप्लिकेशन को कम करना
 - 3. PC के डेटा को प्रिंट करना
 - 4. सुरक्षा का एक अतिरिक्त स्तर प्रदान करना

Question ID : 630680995500

Option 1 ID : 6306803906004

Option 2 ID : 6306803906005

Option 3 ID : 6306803906006

Option 4 ID : 6306803906003

Status : Answered

Chosen Option : 4

Q.13 WAN संचार के लिए सामान्यतः किस प्रकार के मीडिया का उपयोग किया जाता है?

- Ans
- 1. एचडीएमआई केबल (HDMI Cable)
 - 2. कोएक्सियल केबल (Coaxial Cable)
 - 3. ट्विस्टेड पेयर केबल (Twisted Pair Cable)
 - 4. फाइबर ऑप्टिक केबल (Fiber Optic Cable)

Question ID : 6306801308865

Option 1 ID : 6306805150290

Option 2 ID : 6306805150288

Option 3 ID : 6306805150287

Option 4 ID : 6306805150289

Status : Answered

Chosen Option : 4

Q.14 विंडोज सिस्टम पर एक्सेक्यूटेबल इंस्टॉलेशन फ़ाइलों (executable installation files) के लिए किस फ़ाइल एक्सटेंशन का सबसे अधिक उपयोग किया जाता है?

- Ans
- 1. .mp3
 - 2. .jpg
 - 3. .exe
 - 4. .txt

Question ID : 6306801313375

Option 1 ID : 6306805168251

Option 2 ID : 6306805168249

Option 3 ID : 6306805168248

Option 4 ID : 6306805168250

Status : Answered

Chosen Option : 3

Q.15 प्रत्येक ASCII कैरेक्टर का बिट में साइज़ कितना होता है?

- Ans
- 1. 5 बिट
 - 2. 16 बिट
 - 3. 4 बिट
 - 4. 8 बिट

Question ID : 6306801272148

Option 1 ID : 6306805003023

Option 2 ID : 6306805003025

Option 3 ID : 6306805003022

Option 4 ID : 6306805003024

Status : Answered

Chosen Option : 4

Q.16 लोकल एरिया नेटवर्क (LAN) में, निम्नलिखित में से किसका उपयोग यह सुनिश्चित करने के लिए सबसे अधिक किया जाता है कि डेटा पैकेट को उसके MAC एड्रेस के आधार पर सही डिवाइस पर कुशलतापूर्वक अग्रेषित किया गया है?

- Ans
- 1. लेयर 3 स्विच (Layer 3 Switch)
 - 2. राउटर (Router)
 - 3. ब्रिज (Bridge)
 - 4. हब (Hub)

Question ID : 6306801301414

Option 1 ID : 6306805120558

Option 2 ID : 6306805120559

Option 3 ID : 6306805120557

Option 4 ID : 6306805120556

Status : Answered

Chosen Option : 2

Q.17 एमएस पावरपॉइंट में ब्लैक प्रेजेंटेशन क्रिएट करने के लिए सही चरण (steps) क्या हैं?

- Ans
- 1. Blank Presentation -> New -> File
 - 2. File -> New -> Blank Presentation
 - 3. File -> Blank Presentation -> New
 - 4. New -> Blank Presentation -> File

Question ID : 630680993339
 Option 1 ID : 6306803897495
 Option 2 ID : 6306803897492
 Option 3 ID : 6306803897494
 Option 4 ID : 6306803897493
 Status : Answered
 Chosen Option : 2

Q.18 आउटबॉक्स में निम्नलिखित में से कौन-सी क्रियाएँ विशिष्ट रूप से की जा सकती हैं?

- Ans
- 1. कॉन्टैक्ट लिस्ट को मैनेज करना
 - 2. प्राप्त ईमेल को डिलीट करना
 - 3. उन ईमेल को एडिट करना जो अभी भेजे जाने बाकी हैं
 - 4. आर्काइव (archived) ईमेल को देखना

Question ID : 630680993896
 Option 1 ID : 6306803899684
 Option 2 ID : 6306803899681
 Option 3 ID : 6306803899682
 Option 4 ID : 6306803899683
 Status : Not Answered
 Chosen Option : --

Q.19 कंप्यूटर के वायरस से संक्रमित (infected) होने का सामान्य संकेत क्या है?

- Ans
- 1. तीव्रतर (Faster) सिस्टम बूट समय
 - 2. सिस्टम का असामान्य रूप से धीमा होना और अप्रत्याशित त्रुटियाँ (error)
 - 3. हार्ड ड्राइव स्पेस में वृद्धि
 - 4. सिस्टम सुरक्षा में सुधार

Question ID : 630680994650
 Option 1 ID : 6306803902647
 Option 2 ID : 6306803902650
 Option 3 ID : 6306803902649
 Option 4 ID : 6306803902648
 Status : Answered
 Chosen Option : 2

Q.20 एक्सेल वर्कशीट में, जब कोई यूजर एक नई पंक्ति (row) इन्सर्ट करता है, तो क्या होता है?

- Ans
- 1. मौजूदा पंक्तियाँ दाईं ओर शिफ्ट हो जाती हैं।
 - 2. पंक्ति में मौजूद डेटा ओवरराइट (overwrite) हो जाता है।
 - 3. नई पंक्ति वर्कशीट के बॉटम में ऐड हो जाती है।
 - 4. मौजूदा पंक्तियाँ नीचे की ओर शिफ्ट हो जाती हैं।

Question ID : 630680992589
 Option 1 ID : 6306803894630
 Option 2 ID : 6306803894631
 Option 3 ID : 6306803894628
 Option 4 ID : 6306803894629
 Status : Answered
 Chosen Option : 4