

Constable GD in Central Armed Police Forces CAPFs SSF Rifleman GD in Assam Rifles Examination 2024

Exam Date	26/02/2024
Exam Time	9:00 AM - 10:00 AM
Subject	Constable GD Examination 2024

Section : Part-A-General Intelligence and Reasoning

Q.1 Eight persons Reena, Kiran, Rahul, Deepak, Amit, Vikas, Preeti and Priya sit around a square table such that two persons sit in each of the sides. All the persons are sitting facing the centre of the table. Reena sits on the immediate right of Amit and they both sit on the same side. Preeti faces the one who is second to the left of Kiran. Preeti is sitting fourth to the right of Reena. Two persons sit between Vikas and Deepak (when counted from one side only) and Deepak is adjacent to Amit. Only one person sits between Preeti and Rahul (when counted from one side only). Who is sitting to the immediate left of Deepak?

- Ans**
- 1. Vikas
 - 2. Rahul
 - 3. Priya
 - 4. Reena

Q.2 பின்வரும் எந்த எண், கொடுக்கப்பட்ட தொடரின் வினாக்குறி (?) உள்ள இடத்தில் பொருந்தும்?
99, 91, ?, 74, 65, 57

- Ans**
- 1. 89
 - 2. 86
 - 3. 82
 - 4. 78

Q.3 கொடுக்கப்பட்ட சமன்பாட்டைச் சரியாக்க எந்த இரண்டு குறியீடுகளானது ஒன்றுக்கொன்று இடமாற்றப்பட வேண்டும்?

$$18 + 2 \div 6 - 8 \times 24 = 22$$

- Ans**
- 1. + மற்றும் ÷
 - 2. × மற்றும் +
 - 3. × மற்றும் -
 - 4. × மற்றும் ÷

Test Prime

ALL EXAMS,
ONE SUBSCRIPTION



40,000+
Mock Tests



Personalised
Report Card



Unlimited
Re-Attempt



500+
Exam Covered



Previous Year
Papers



500%
Refund



DOWNLOAD NOW

Q.4 ஒரு கூறு விடுபட்ட நிலையில் ஒரு தொடரானது கொடுக்கப்பட்டுள்ளது . தொடரை நிறைவு செய்யும் வகையில் கொடுக்கப்பட்டுள்ளவைகளில் இருந்து சரியான மாற்றைத் தேர்ந்து எடுக்கவும்.

SW, UQ, OS, QM, ?

- Ans
- ✓ 1. KO
 - ✗ 2. KR
 - ✗ 3. RS
 - ✗ 4. KM

Q.5 ஒரு குறிப்பிட்ட குறியீட்டு மொழியில், BHUTAN என்பது UHBVCP எனவும், GREECE என்பது ERGGEG எனவும் குறியிடப்பட்டால், FRANCE என்பது எவ்வாறு குறியிடப்படும்?

- Ans
- ✓ 1. ARFPEG
 - ✗ 2. GSBODF
 - ✗ 3. ARFECN
 - ✗ 4. GSBECN

Q.6 Pointing towards a photo of a man, Ram said, "He is the father of my mother's husband". How is the man related to Ram?

- Ans
- ✗ 1. Uncle
 - ✗ 2. Brother
 - ✗ 3. Father
 - ✓ 4. Father's father

Q.7 இரண்டாவது வார்த்தை முதல் வார்த்தையுடன் தொடர்புடையது போலவே, மூன்றாவது வார்த்தையுடன் தொடர்புடைய விடையை தேர்ந்தெடுக்கவும்.
தோட்டம் : பூக்கள் :: நூலகம் : ?

- Ans
- ✓ 1. புத்தகங்கள்
 - ✗ 2. தலைகவசங்கள்
 - ✗ 3. பாட்டுகள்
 - ✗ 4. மேஜைகள்

Q.8 Five friends P, B, C, G and H are sitting around a circular table facing towards the centre. H is sitting to the immediate right of C. B sitting third to the left of H. P is not an immediate neighbour of C. Who is sitting on the immediate right of G?

- Ans
- ✓ 1. C
 - ✗ 2. B
 - ✗ 3. H
 - ✗ 4. P

Q.9 கொடுக்கப்பட்ட விருப்பத்தேர்வு வடிவங்களில் இருந்து, கொடுக்கப்பட்டுள்ள கேள்வி வடிவம் மறைக்கப்பட்டுள்ள /உட்பொதிக்கப்பட்ட ஒன்றைத் தேர்ந்தெடுக்கவும். (சுழற்சி அனுமதி இல்லை)



Ans

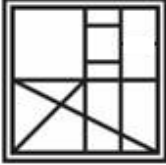
✗ 1.



✗ 2.



✗ 3.



✓ 4.



Q.10 பின்வரும் கேள்விக்கு, கொடுக்கப்பட்ட மாற்றுக்களிலிருந்து தொடர்புடைய எழுத்து ஜோடியை தேர்ந்தெடுக்கவும்.

BHL : YEI :: ?

Ans

✗ 1. OLM : NOP

✗ 2. ABC : DQR

✓ 3. AMG : XJD

✗ 4. LOB : WZA

Q.11 பின்வரும் எந்த எண், கொடுக்கப்பட்ட தொடரின் வினாக்குறி (?) உள்ள இடத்தில் பொருந்தும்?
2, 5, 11, 23, 47, ?, 191

Ans

✗ 1. 80

✗ 2. 90

✓ 3. 95

✗ 4. 85

Q.12 100 R 50 S 18 T 9 = 152 மற்றும் 84 R 30 S 80 T 4 = 134 எனில், 75 R 125 S 200 T 40 = ?

Ans 1. 200

2. 205

3. 185

4. 180

Q.13 $P + Q$ என்றால் P என்பவர் Q வின் சகோதரர் எனவும், $P \times Q$ என்றால் P என்பவர் Q வின் தாயார் எனவும், $P \div Q$ என்றால் P என்பவர் Q வின் தந்தை எனவும், மற்றும் $P - Q$ என்றால் P என்பவர் Q வின் சகோதரி எனவும் அர்த்தமாகின்றது.

$A \times B \div C - D + E - F$ எனில், E என்பவர் A விற்கு என்ன உறவு?


Ans 1. மகள்

2. மகனின் மகள்

3. தாயார்

4. சகோதரி

Q.14 பின்வரும் கேள்வியில், கொடுக்கப்பட்ட மாற்றுக்களிலிருந்து வினாக்குறி(?) உள்ள இடத்தில் எந்த வடிவம் பொருந்தும் என தேர்வு செய்க.




Ans


1.



2.



3.



4.



Q.15 AB என்ற கோட்டின் மீது ஒரு கண்ணாடியானது வைக்கப்படுகிறது எனில், விருப்பத்தேர்வு வடிவங்களில் எந்த வடிவம் கொடுக்கப்பட்டுள்ள கேள்வி வடிவத்தின் சரியான பிம்பமாக இருக்கும்?



Ans

✓ 1.



✗ 2.



✗ 3.



✗ 4.



Adda247

Q.16 பின்வரும் கேள்வியில், கொடுக்கப்பட்ட மாற்றுக்களிலிருந்து, வினாக்குறி(?) உள்ள இடத்தில் எந்த வடிவம் பொருந்தும் என தேர்வு செய்க.



Ans

✗ 1.



✗ 2.



✗ 3.



✓ 4.



Q.17 கொடுக்கப்பட்ட வார்த்தைகளை அகர வரிசைப்படி, வரிசைபடுத்துக:

1. PINK
2. PING
3. PICK
4. PULL
5. PUSH

Ans

✓ 1. 3, 2, 1, 4, 5

✗ 2. 3, 4, 1, 2, 5

✗ 3. 3, 1, 2, 4, 5

✗ 4. 3, 5, 4, 2, 1

Q.18 In the following question below are given some statements followed by some conclusions based on those statements. Taking the given statements to be true even if they seem to be at variance from commonly known facts. Read all the conclusions and then decide which of the given conclusion logically follows the given statements.

Statements:

I. No S is T.

II. Some U are S.

Conclusions:

I. Some U are not T.

II. All T are U.

- Ans**
- 1. Only conclusion II follows
 - 2. Both conclusions I and II follows
 - 3. Only conclusion I follows
 - 4. Neither conclusion follows

Q.19 கொடுக்கப்பட்ட விருப்பத்தேர்வு வடிவங்களில் இருந்து, கொடுக்கப்பட்டுள்ள கேள்வி வடிவம் மறைக்கப்பட்டுள்ள / உட்பொதிக்கப்பட்ட ஒன்றைத் தேர்ந்தெடுக்கவும். (சுழற்சி அனுமதிக்கப்படவில்லை)



Ans

1.



2.



3.



4.



Q.20 பின்வருவனவற்றில் எந்த எழுத்துக் குழுவிலுள்ள எழுத்துக்கள் கொடுக்கப்பட்ட தொடரில் தொடர்ச்சியாக இடமிருந்து வலமாக வைக்கப்படும்போது அத்தொடரை நிறைவு செய்யும்?
defghd_fghd_fghdef_hdefgh_efgh

- Ans
- 1. eged
 - 2. eegd
 - 3. efgh
 - 4. fdgh

Section : Part-B-General Knowledge and General awareness

Q.1 In which year did Abhinav Bindra create history by becoming the first Indian to win an individual gold medal at the Olympic Games in the 10-meter Air Rifle event?

- Ans
- 1. 2005
 - 2. 2010
 - 3. 2008
 - 4. 2000

Q.2 Which state's government launched Gruha Lakshmi Scheme 2023?

- Ans
- 1. Kerala
 - 2. Tamil Nadu
 - 3. Telangana
 - 4. Haryana

Q.3 தென்னிந்தியாவின் கேரளாவில் தோன்றிய _____ கலையானது, அதன் பெயரை புராண கதாபாத்திரமான மயக்கும் மோகினியிலிருந்து பெறுகிறது.

- Ans
- 1. மோகினியாட்டம்
 - 2. மணிப்பூரி நடனம்
 - 3. பிஹு நடனம்
 - 4. பரதநாட்டியம்

Q.4 The Attorney-General for India shall hold office during the pleasure of the _____.

- Ans
- 1. Prime Minister
 - 2. Law Minister of India
 - 3. President of India
 - 4. Chief Justice of India

Q.5 பின்வரும் எந்தத் திருவிழா அருணாச்சலப் பிரதேசத்தின் காம்திஸ் (Khamtis) பழங்குடியினரால் கொண்டாடப்படுகிறது?

- Ans
- ✗ 1. மோபின் (Mopin)
 - ✗ 2. தம் லாடு (Tam ladu)
 - ✗ 3. ரே(Reh)
 - ✓ 4. சங்கென் (Sangken)

Q.6 What is the rank of India in terms of the World's area among the countries of the world?

- Ans
- ✓ 1. 7th
 - ✗ 2. 5th
 - ✗ 3. 8th
 - ✗ 4. 6th

Q.7 ஏப்ரல் 8, 1929 இல், பகத் சிங் மற்றும் B.K. தத் ஆகியோர் _____ இல் ஒரு வெடிகுண்டை வீசினர். அவர்களின் துண்டுப் பிரசாரத்தில் கூறப்பட்டுள்ள படி, அந்நிகழ்வின் நோக்கம் கொல்வது அல்ல, மாறாக "செவிடர்களைக் கேட்க வைப்பது" என்பதாகும்.

- Ans
- ✗ 1. மத்திய மக்கள் மேல்சபை (Central Legislative Council)
 - ✗ 2. மத்திய செயற்குழுப் பேரவை (Central Executive Assembly)
 - ✓ 3. மத்திய மக்களவை (Central Legislative Assembly)
 - ✗ 4. மாநில சட்டமன்றப் பேரவை (State Legislative Assembly)

Q.8 Which sport is played by the Indian sportsperson Sandeep Kumar?

- Ans
- ✗ 1. Boxing
 - ✗ 2. Wrestling
 - ✗ 3. Cricket
 - ✓ 4. Archery

Q.9 வேலையின்மை வீதம், _____ இடையேயான விகிதமாக கணக்கிடப்படுகிறது

- Ans
- ✗ 1. வேலையிலுள்ளவர்கள் மற்றும் தொழிலாளர் வளம்
 - ✓ 2. வேலையற்ற தொழிலாளர்கள் மற்றும் தொழிலாளர் வளம்
 - ✗ 3. மொத்த மக்கள் தொகை மற்றும் தொழிலாளர் வளம்
 - ✗ 4. வேலையற்ற தொழிலாளர்கள் மற்றும் மொத்த மக்கள் தொகை

Q.10 துரந்து கோப்பை (Durand cup)-ஆனது எந்த போட்டியுடன் தொடர்புடையது?

- Ans
- 1. ஹாக்கி
 - 2. கால்பந்து
 - 3. பாட்மிண்டன்
 - 4. கிரிக்கெட்

Q.11 ஜூன், 2023 இல் நியூயார்க்கின் கார்னகி கார்ப்பரேஷனின் வருடாந்திர "கிரேட் இம்மிக்ரன்ட்ஸ்" (Great Immigrants) பட்டியலில் எந்த இந்தியர் அங்கீகரிக்கப்பட்டுள்ளார்?

- Ans
- 1. விக்ரம் தொரைசாமி
 - 2. அஜய் பங்கா
 - 3. சல்மான் ருஷ்டி
 - 4. சாம் பிட்ரோடா

Q.12 Shiv Kumar Sharma's name is synonymous with _____ Indian classical music instrument.

- Ans
- 1. Shehnai
 - 2. Tabla
 - 3. Sitar
 - 4. Santoor

Q.13 அக்டோபர் 2023 இல், இந்திய ரிசர்வ் வங்கியின் நிர்வாக இயக்குநராக நியமிக்கப்பட்டவர் யார்?

- Ans
- 1. மிரிதுல் குமார் சாகர்
 - 2. முனீஸ் கபூர்
 - 3. ஜனக் ராஜ்
 - 4. ரபி N. மிஷ்ரா

Q.14 வர்த்தகம் மற்றும் தொழில் துறை அமைச்சகத்தின்படி, ஏப்ரல் 2022 - ஜனவரி 2023 நிதியாண்டில், விவசாய ஏற்றுமதி மதிப்பானது _____ பில்லியன் அமெரிக்க டாலர்களாகும்.

- Ans
- 1. 13.37
 - 2. 43.37
 - 3. 23.37
 - 4. 33.37

Q.15 இந்தியாவின் பசுமைப் புரட்சியின் தந்தை எந்த ஆண்டு காலமானார்?

- Ans
- 1. 2013
 - 2. 2003
 - 3. 1993
 - 4. 2023

Q.16 Mendeleev's Periodic Law was modified, and _____ was adopted as the basis of the Modern Periodic Table.

- Ans
- 1. Molar mass
 - 2. Similar properties
 - 3. Atomic mass
 - 4. Atomic number

Q.17 வருவாய் வரவுகளை பற்றி கீழே கொடுக்கப்பட்டுள்ள அறிக்கையை படிக்கவும்.

A. வருவாய் வரவுகள் என்பது அரசாங்கத்தின் மீது கோரப்பட வழிவகுக்காத வரவுகள் ஆகும்.

B. வருவாய் வரவுகள் வரி வருவாய் மற்றும் வரியல்லாத வருவாய் என வகைப் படுத்தப்பட்டுள்ளது.

சரியான அறிக்கை/அறிக்கைகளை அடையாளம் காணவும்.

- Ans
- 1. A மற்றும் B ஆகிய இரண்டும்
 - 2. A யும் -இல்லை B-யும் இல்லை
 - 3. A மட்டும்
 - 4. B மட்டும்

Q.18 Folk dance of 'Jatra' is originated from the state of:

- Ans
- 1. Haryana
 - 2. West Bengal
 - 3. Punjab
 - 4. Tamil Nadu

Q.19 Varahamihira's work Panchasiddhantika deals with _____ astronomical systems.

- Ans
- 1. Three
 - 2. Two
 - 3. Four
 - 4. Five

Q.20 நவம்பர் 2023 நிலவரப்படி, இந்திய அரசியலமைப்பில் எத்தனை அடிப்படைக் கடமைகள் உள்ளன?

- Ans
- 1. 9
 - 2. 11
 - 3. 10
 - 4. 8

Section : Part-C-Elementary Mathematics

Q.1 ஒரு பொருளின் குறிக்கப்பட்ட விலை மற்றும் விற்பனை விலை முறையே Rs. 2450 மற்றும் Rs. 1960 எனில், தள்ளுபடி சதவீதம் என்ன?

- Ans
- 1. 25 சதவீதம்
 - 2. 20 சதவீதம்
 - 3. 24 சதவீதம்
 - 4. 15 சதவீதம்

Q.2 மோகன் மற்றும் ரோகன் ஆகியோர் Rs. 3300 க்கு ஒரு வேலையை மேற்கொண்டனர். மோகன் தனியே அந்த வேலையை 10 நாட்களில் செய்ய முடியும் மற்றும் ரோகன் அதே வேலையை 12 நாட்களில் செய்ய முடியும். அவர்கள் இருவரும் இணைந்து வேலை செய்தால், அவர்கள் இருவரும் பெற்ற தொகைகளுக்கு இடையிலான வித்தியாசம் என்ன?

- Ans
- 1. Rs. 370
 - 2. Rs. 400
 - 3. Rs. 350
 - 4. Rs. 300

Q.3 இரண்டு எண்களின் விகிதம் 3 : 5 ஆகும். அவற்றின் பெருக்கற்பலன் 3375 எனில், அவ்விரண்டு எண்களின் கூட்டுத்தொகை என்ன?

- Ans
- 1. 75
 - 2. 120
 - 3. 90
 - 4. 135

Q.4 28 தரவுப்புள்ளிகளின் சராசரி 53 ஆகும். முதல் 11 தரவுப்புள்ளிகளின் சராசரி 54. கடைசி 18 தரவுப்புள்ளிகளின் சராசரி 52.5 எனில், 11வது தரவுப்புள்ளியின் மதிப்பு என்ன?

- Ans
- 1. 55
 - 2. 59
 - 3. 57
 - 4. 63

Q.5 இரண்டு எண்களின் மீ. பொ. வ (HCF) 47 மற்றும் அவற்றின் கூட்டுத்தொகை 188 ஆகும். எனில், அந்த எண்களைக் கண்டறியவும்.

- Ans
- ✗ 1. 141 மற்றும் 138
 - ✗ 2. 215 மற்றும் 211
 - ✓ 3. 47 மற்றும் 141
 - ✗ 4. 47 மற்றும் 51

Q.6 மூன்று வெவ்வேறு எண்களின் மீச்சிறு பொது மடங்கு (LCM) 120 ஆகும். எனில், பின்வருவனவற்றில் எது அவற்றின் மீப்பெரு பொதுக் காரணியாக (HCF) இருக்க முடியாது?

- Ans
- ✗ 1. 15
 - ✓ 2. 16
 - ✗ 3. 20
 - ✗ 4. 40

Q.7 ஒரு நபர் ஒரு குறிப்பிட்ட தூரத்தின் பாதி பகுதியை 45 km/hr வேகத்தில் கடக்கிறார். அவர் மீதமுள்ள பாதி தூரத்தின், 40 சதவீதத்தை 8 km/hr வேகத்திலும் மற்றும் மீதமுள்ள தூரத்தை 24 km/hr வேகத்தில் கடக்கிறார் என்றால், முழு பயணத்திற்குமான அவரது சராசரி வேகம் என்ன?

- Ans
- ✓ 1. 144/7 km/hr
 - ✗ 2. 128/7 km/hr
 - ✗ 3. 164/7 km/hr
 - ✗ 4. 156/7 km/hr

Q.8 25 எண்களின் சராசரி 150 ஆகும். கூடுதலாக, ஒரு எண் சேர்க்கப்பட்டவுடன் கிடைக்கும் புதிய சராசரி 160. எனில், புதிதாக சேர்க்கப்பட்ட எண் என்ன?

- Ans
- ✗ 1. 420
 - ✓ 2. 410
 - ✗ 3. 415
 - ✗ 4. 400

Q.9 ஒரு குறிப்பிட்ட தொகையானது, தனிவட்டியில், 2 ஆண்டுகளில் Rs. 1320 மற்றும் 3 ஆண்டுகளில் Rs. 1380 ஆக அதிகரிக்கிறது எனில், ஆண்டு வட்டி விகிதம் என்ன?

- Ans
- ✗ 1. 8 சதவீதம்
 - ✗ 2. 10 சதவீதம்
 - ✗ 3. 4 சதவீதம்
 - ✓ 4. 5 சதவீதம்

Q.10 15% மற்றும் 10% என்ற இரண்டு தொடர்ச்சியான தள்ளுபடிகளுக்கு சமமான ஒரு ஒற்றைத் தள்ளுபடியைக் கண்டறியவும்.

- Ans
- ✗ 1. 21.8%
 - ✗ 2. 24.5%
 - ✓ 3. 23.5%
 - ✗ 4. 22.5%

Q.11 C தனியாக ஒரு வேலையை 50 நாட்களில் முடிப்பார் மற்றும் D தனியாக அதே வேலையை, C எடுக்கும் நாட்களில் பாதி நாட்களில் முடிப்பார். அவர்கள் இருவரும் இணைந்து மொத்த வேலையின் $\frac{3}{10}$ பங்கை முடிக்க எத்தனை நாட்கள் ஆகும்?

- Ans
- ✗ 1. 4 நாட்கள்
 - ✓ 2. 5 நாட்கள்
 - ✗ 3. 6.5 நாட்கள்
 - ✗ 4. 6 நாட்கள்

Q.12 L இன் வருமானம் M இன் வருமானத்தை விட 30 சதவீதம் அதிகம் மற்றும் M இன் வருமானம் N இன் வருமானத்தை விட 20 சதவீதம் அதிகம். எனில், N இன் வருமானம், L இன் வருமானத்தை விட (தோராயமாக) எவ்வளவு சதவீதம் குறைவாக உள்ளது?

- Ans
- ✗ 1. 44 சதவீதம்
 - ✓ 2. 36 சதவீதம்
 - ✗ 3. 39 சதவீதம்
 - ✗ 4. 32 சதவீதம்

Q.13 18, 24, மற்றும் 36 ஆகியவற்றின் மீ. பொ. ம (LCM) ஐக் கண்டறியவும்

- Ans
- ✗ 1. 64
 - ✓ 2. 72
 - ✗ 3. 36
 - ✗ 4. 24

Q.14 A, B மற்றும் C மூவருக்கும் இடையே Rs. 7400 ஆனது முறையே 9 : 12 : 16 என்ற விகிதத்தில் பிரிக்கப்படுகிறது. எனில், B இன் பங்கு என்ன?

- Ans
- ✗ 1. Rs. 2600
 - ✗ 2. Rs. 9200
 - ✗ 3. Rs. 1800
 - ✓ 4. Rs. 2400

Q.15 $750 - 350 \div 7 + 43 \times 5$ இன் மதிப்பு என்ன?

- Ans
- 1. 795
 - 2. 935
 - 3. 812
 - 4. 915

Q.16 ஒரு கூம்பின் உயரம் 24 cm மற்றும் அதன் அடிப்பக்கத்தின் ஆரம் 10.5 cm ஆகும் . எனில் அக்கூம்பின் கனஅளவு என்ன?

- Ans
- 1. 2398 cm^3
 - 2. 2772 cm^3
 - 3. 2984 cm^3
 - 4. 2546 cm^3

Q.17 ஒரு வணிகர் தன் பொருளின் விலையை கொள்முதல் விலையை விட 40 சதவீதம் அதிகமாகக் குறிக்கிறார். அவர் கொஞ்சம் தள்ளுபடி செய்து 10 சதவீதம் லாபம் ஈட்டுகிறார். எனில், தள்ளுபடி சதவீதம் என்ன?

- Ans
- 1. 20 சதவீதம்
 - 2. 21.42 சதவீதம்
 - 3. 14.28 சதவீதம்
 - 4. 25 சதவீதம்

Q.18 If the cost price of an article is $\frac{5}{8}$ of its selling price, then what is the profit percentage?

- Ans
- 1. 60 percent
 - 2. 30 percent
 - 3. 45 percent
 - 4. 75 percent

Q.19 A1 என்பது A2 ஐ விட 19 மடங்கு அதிகமாக இருக்கிறது எனில், A2 ஆனது A1 ஐ விட எத்தனை சதவீதம் குறைவாகும்?

- Ans
- 1. 100 சதவீதம்
 - 2. 105 சதவீதம்
 - 3. 95 சதவீதம்
 - 4. 85 சதவீதம்

Q.20 ஒரு அசல் தொகையானது ஒரு குறிப்பிட்ட கூட்டுவட்டி வீதத்தில் (ஆண்டுக்கு ஒருமுறை கூட்டப்படும் முறையில்) கடனாக வழங்கப்படுகிறது. 1ஆம் ஆண்டு இறுதியில், அந்தத் தொகையானது Rs. 1150 ஆக ஆகிறது மற்றும் 2 ஆம் ஆண்டு இறுதியில் Rs 1322.5 என ஆகின்றது. எனில், அந்த அசல் தொகை எவ்வளவு?

- Ans
- 1. Rs. 1750
 - 2. Rs. 1000
 - 3. Rs. 1450
 - 4. Rs. 1600

Section : Part-D-English

Q.1 The sentence has been divided into three parts, identify the error segment in the sentence given below. Choose no error if there is no error in the sentence.

Before the meeting/ began, he will have already/ left for his lunch break.

- Ans
- 1. Before the meeting
 - 2. began, he will have already
 - 3. no error
 - 4. left for his lunch break.

Q.2 In the following question, out of the given four alternatives, select the alternative which best expresses the meaning of the Idiom/Phrase.

On the ball

- Ans
- 1. On a new journey
 - 2. On the contrary
 - 3. Alert and aware about something
 - 4. To be very excited or joyful

Q.3 Improve the underlined part of the sentence. Choose 'No improvement' as an answer if the sentence is grammatically correct.

The monkey hung from the tree by its tail.

- Ans
- 1. by it's tailed
 - 2. by its tails
 - 3. No improvement
 - 4. by it's tail

Q.4 Four sentences are given, out of which three have all correct spellings. Choose the sentence with the incorrect spelt word/ words.

- Ans
- 1. His face was repulsive in the quickening light.
 - 2. Rosemary dozed for three hours and then lay awake, suspended in the moonshine.
 - 3. His hat was laying on the floor—an old black slouch with the top caved in, like a lid.
 - 4. His hair was long and tangled and gressy, and hung down, and you could see his eyes shinning.

Q.5 Choose the word that is opposite in meaning to the given word.

Appoint

- Ans
- 1. Avail
 - 2. Instate
 - 3. Declare
 - 4. Dismiss

Q.6 Select the sentence with no spelling errors.

- Ans
- 1. Don't feel guilty for feeling disengaged from the news.
 - 2. Don't feel guilty for feeling disengajed from the news.
 - 3. Don't feel guilty for feling disengaged from the news.
 - 4. Don't feel guilty for feeling disengaged from the news.

Q.7 Choose the word that means the same as the given word.

Fatigued

- Ans
- 1. Beguiled
 - 2. Unwearied
 - 3. Jaded
 - 4. Activated

Q.8 Improve the underlined part of the sentence. Choose 'No improvement' as an answer if the sentence is grammatically correct.

An ant can carry up to 50 times it's body weight.

- Ans
- 1. No improvement
 - 2. times its'
 - 3. time it's
 - 4. times its

Q.9 Select the word segment that substitutes (replaces) the bracketed word segment correctly and completes the sentence meaningfully. Select the option 'no correction required' if the sentence is correct as given.

The driver cracked his whip and called to his horses, (and off they swept on their way) to Bukovina.

- Ans
- 1. No correction required
 - 2. and off they sweep on their way
 - 3. and off they swept on there way
 - 4. and of they swept on their way

Q.10 Select the most appropriate antonym of the given word.

Maleficent

- Ans
- 1. Delightful
 - 2. Obedient
 - 3. Thorough
 - 4. Bad

Q.11 Find the part of the given sentence that has an error in it. If there is no error, choose 'No error'.

Sham is trying to study hardest for his upcoming exams.

- Ans
- 1. his upcoming exams
 - 2. No error
 - 3. Sham is trying
 - 4. to study hardest for

Q.12 Choose the idiom/phrase that can substitute the highlighted group of words meaningfully.

The look in his eyes **shocks and scares me a lot.**

- Ans
- 1. Makes one's blood run cold
 - 2. Sugar rush
 - 3. Sixth sense
 - 4. In seventh heaven

Q.13 Select the most appropriate word to fill in the blank.

Religion is _____ matter of indifference to many of today's youth.

- Ans
- 1. No article
 - 2. an
 - 3. the
 - 4. a

Q.14 Choose the most appropriate antonym of the underlined word.

The speech came to an abrupt end when, losing her balance, she fell to the ground and lay there in drunken contentment.

- Ans
- 1. Pleasure
 - 2. Discomfort
 - 3. Gratification
 - 4. Complacency

Q.15 Find the part of the given sentence that has an error in it. If there is no error, choose 'No error'.
She works hardly to pay his younger sister's school fee.

- Ans
- 1. No error
 - 2. to pay his younger
 - 3. She works hardly
 - 4. sister's school fee.

Comprehension:

In the given passage, four options are given for each blank. Select the most appropriate option to complete the given passage, which also fits contextually as per the word given in the bracket.

Climate change is a pressing global issue that demands immediate attention and action. The (1. seriousness) _____ of this problem can no longer be denied, as we witness more frequent and severe weather events. It is crucial to (2. discuss) _____ the causes of climate change, which primarily result from human activities such as the burning of fossil fuels, deforestation, and industrial processes. To combat climate change, we must reduce our carbon (3. impression) _____ by transitioning to renewable energy sources, conserving forests, and adopting sustainable practices in (4. whole) _____ the sectors of the economy. Additionally, individual actions, such as reducing energy consumption and supporting environmentally-friendly policies, play a vital role in addressing this global crisis. As the consequences of climate change become more evident, it is imperative that we (5. joint efforts) _____ as a society to protect our planet for future generations.

SubQuestion No : 16

Q.16 Fill in the blank (1) with the appropriate word from the options below:

- Ans
- 1. absurdity
 - 2. complexity
 - 3. amenity
 - 4. gravity

Comprehension:

In the given passage, four options are given for each blank. Select the most appropriate option to complete the given passage, which also fits contextually as per the word given in the bracket.

Climate change is a pressing global issue that demands immediate attention and action. The (1. seriousness) _____ of this problem can no longer be denied, as we witness more frequent and severe weather events. It is crucial to (2. discuss) _____ the causes of climate change, which primarily result from human activities such as the burning of fossil fuels, deforestation, and industrial processes. To combat climate change, we must reduce our carbon (3. impression) _____ by transitioning to renewable energy sources, conserving forests, and adopting sustainable practices in (4. whole) _____ the sectors of the economy. Additionally, individual actions, such as reducing energy consumption and supporting environmentally-friendly policies, play a vital role in addressing this global crisis. As the consequences of climate change become more evident, it is imperative that we (5. joint efforts) _____ as a society to protect our planet for future generations.

SubQuestion No : 17

Q.17 Fill in the blank (2) with the appropriate word from the options below:

- Ans
- 1. evade
 - 2. address
 - 3. overlook
 - 4. elaborate

Comprehension:

In the given passage, four options are given for each blank. Select the most appropriate option to complete the given passage, which also fits contextually as per the word given in the bracket.

Climate change is a pressing global issue that demands immediate attention and action. The (1. seriousness) _____ of this problem can no longer be denied, as we witness more frequent and severe weather events. It is crucial to (2. discuss) _____ the causes of climate change, which primarily result from human activities such as the burning of fossil fuels, deforestation, and industrial processes. To combat climate change, we must reduce our carbon (3. impression) _____ by transitioning to renewable energy sources, conserving forests, and adopting sustainable practices in (4. whole) _____ the sectors of the economy. Additionally, individual actions, such as reducing energy consumption and supporting environmentally-friendly policies, play a vital role in addressing this global crisis. As the consequences of climate change become more evident, it is imperative that we (5. joint efforts) _____ as a society to protect our planet for future generations.

SubQuestion No : 18

Q.18 Fill in the blank (3) with the appropriate word from the options below:

- Ans
- ✓ 1. footprint
 - ✗ 2. di-oxide
 - ✗ 3. emission
 - ✗ 4. steps

Comprehension:

In the given passage, four options are given for each blank. Select the most appropriate option to complete the given passage, which also fits contextually as per the word given in the bracket.

Climate change is a pressing global issue that demands immediate attention and action. The (1. seriousness) _____ of this problem can no longer be denied, as we witness more frequent and severe weather events. It is crucial to (2. discuss) _____ the causes of climate change, which primarily result from human activities such as the burning of fossil fuels, deforestation, and industrial processes. To combat climate change, we must reduce our carbon (3. impression) _____ by transitioning to renewable energy sources, conserving forests, and adopting sustainable practices in (4. whole) _____ the sectors of the economy. Additionally, individual actions, such as reducing energy consumption and supporting environmentally-friendly policies, play a vital role in addressing this global crisis. As the consequences of climate change become more evident, it is imperative that we (5. joint efforts) _____ as a society to protect our planet for future generations.

SubQuestion No : 19

Q.19 Fill in the blank (4) with the appropriate word from the options below:

- Ans
- ✗ 1. every
 - ✓ 2. all
 - ✗ 3. some
 - ✗ 4. any

Comprehension:

In the given passage, four options are given for each blank. Select the most appropriate option to complete the given passage, which also fits contextually as per the word given in the bracket.

Climate change is a pressing global issue that demands immediate attention and action. The (1. seriousness) _____ of this problem can no longer be denied, as we witness more frequent and severe weather events. It is crucial to (2. discuss) _____ the causes of climate change, which primarily result from human activities such as the burning of fossil fuels, deforestation, and industrial processes. To combat climate change, we must reduce our carbon (3. impression) _____ by transitioning to renewable energy sources, conserving forests, and adopting sustainable practices in (4. whole) _____ the sectors of the economy. Additionally, individual actions, such as reducing energy consumption and supporting environmentally-friendly policies, play a vital role in addressing this global crisis. As the consequences of climate change become more evident, it is imperative that we (5. joint efforts) _____ as a society to protect our planet for future generations.

SubQuestion No : 20

Q.20 Fill in the blank (5) with the appropriate word from the options below:

- Ans
- ✓ 1. collaborate
 - ✗ 2. colonize
 - ✗ 3. congregate
 - ✗ 4. commemorate

Section : Part-D-Hindi

Q.1 दिए गए शब्द का पर्यायवाची ज्ञात कीजिए।

पवन

- Ans
- ✓ 1. हवा
 - ✗ 2. मंजूरी
 - ✗ 3. प्रार्थना
 - ✗ 4. अनोखा

Q.2 निम्नलिखित प्रश्न में, चार विकल्पों में से, उस विकल्प का चयन करें जो कोष्ठक में दिए गए शब्द के विलोम शब्द का सही विकल्प है। क्या वह दूसरों से जुड़ी ऐसी (जटिल) _____ बात को समझने के काबिल हैं?

- Ans
- ✗ 1. कुटिल
 - ✗ 2. कठिन
 - ✓ 3. सरल
 - ✗ 4. मुश्किल

Q.3 निम्नलिखित प्रश्न में, चार विकल्पों में से, उस विकल्प का चयन करें जो कोष्ठक में दिए गए शब्द के पर्यायवाची शब्द का सही विकल्प है।
मेरी माताजी ने गरमी में पहनने के लिए मेरे लिए बहुत ही सुंदर (वस्त्र) _____ खरीदा है।

- Ans
- ✗ 1. भुज
 - ✗ 2. कुशेशय
 - ✗ 3. कोरक
 - ✓ 4. दुकूल

Q.4 दिए गए शब्द का विलोम शब्द ज्ञात कीजिए।

संगठन

- Ans
- ✗ 1. विद्युत
 - ✓ 2. विघटन
 - ✗ 3. संयुक्त
 - ✗ 4. समागम

Q.5 निम्नलिखित प्रश्न में, चार विकल्पों में से, उस सही विकल्प का चयन करें जो वाक्यांशों के लिए एक शब्द का विकल्प हो।
जिसपर हमला किया गया हो

- Ans
- ✗ 1. आघ्रेय
 - ✗ 2. आत्मघाती
 - ✗ 3. आक्रांता
 - ✓ 4. आक्रांत

Q.6 दिए गए वाक्य का वह भाग ज्ञात करें, जिसमें कोई त्रुटि है।

यद्यपि वह पढ़ा लिखा है परन्तु मूर्खता के कार्य करता है।

- Ans
- ✓ 1. परन्तु मूर्खता के
 - ✗ 2. कार्य करता है।
 - ✗ 3. पढ़ा लिखा है
 - ✗ 4. यद्यपि वह

Q.7 निम्नलिखित प्रश्न में, चार विकल्पों में से, उस विकल्प का चयन करें जो दिए गए मुहावरे का सही अर्थ वाला विकल्प है।
आपे से बाहर होना

- Ans
- ✗ 1. बचने का बहाना ढूँढना
 - ✗ 2. मूर्खतापूर्ण कार्य करना
 - ✓ 3. सामर्थ्य से अधिक क्रोध प्रकट करना
 - ✗ 4. स्वावलंबी होना

Q.8 निम्नलिखित प्रश्न में, दिए गए चार विकल्पों में से, उस विकल्प का चयन करें जो दिए गए मुहावरे के अर्थ को सर्वश्रेष्ठ रूप से व्यक्त करता है।

खिल्लियाँ उड़ाना

- Ans
- ✗ 1. खूब हँसना
 - ✗ 2. हर बात मजाक में लेना
 - ✓ 3. उपहास करना
 - ✗ 4. कोई राज की बात खोलना

Q.9 दिए गए वाक्य में रेखांकित शब्दों के लिए सही शब्दों वाले विकल्प का चयन करें।

आपने ही तो मुझको कहा था।

- Ans
- ✗ 1. परिवर्तन की आवश्यकता नहीं है।
 - ✗ 2. आपने ही तो मुझ कहा था।
 - ✓ 3. आपने ही तो मुझे कहा था।
 - ✗ 4. आपने ही तो मुझमें कहा था।

Q.10 दिए गए वाक्य में से निरर्थक शब्द ज्ञात कीजिए।

ताबकि उठाओ और पढ़ना शुरू करो।

- Ans
- ✗ 1. और
 - ✗ 2. शुरू
 - ✗ 3. उठाओ
 - ✓ 4. ताबकि

Q.11 निम्नलिखित प्रश्न में, चार विकल्पों में से, उस विकल्प का चयन करें जो कोष्ठक में दिए गए शब्द के तद्भव रूप का सही विकल्प है।
मेरी माताजी एक (गृहिणी) _____ हैं वह पूरे घर का बहुत अच्छे से ख्याल रखती हैं।

- Ans
- ✓ 1. घरनी
 - ✗ 2. मेहनती
 - ✗ 3. सुंदर महिला
 - ✗ 4. जयेष्ट

Q.12 दिए गए वाक्य का वह भाग ज्ञात करें, जिसमें कोई त्रुटि है।
उसके पास पचास ग्राम सोने है जिसका हार बनवाना है।

- Ans
- ✗ 1. है जिसका हार
 - ✓ 2. पचास ग्राम सोने
 - ✗ 3. उसके पास
 - ✗ 4. बनवाना है।

Q.13 दिए गए वाक्य में से गलत वर्तनी ज्ञात कीजिए।
इसके अंतर्गत भिन्न प्रकार के प्रांत आते हैं।

- Ans
- ✗ 1. प्रांत
 - ✗ 2. प्रकार
 - ✓ 3. अंतर्गत
 - ✗ 4. भिन्न

Q.14 दिए गए वाक्य में रेखांकित शब्दों के लिए सही शब्दों वाले विकल्प का चयन करें।
तुम्हारी घड़ी में कै बजा है।

- Ans
- ✗ 1. परिवर्तन की आवश्यकता नहीं है।
 - ✗ 2. तुम्हारी घड़ी में कैसा बजा है।
 - ✓ 3. तुम्हारी घड़ी में कितना बजा है।
 - ✗ 4. तुम्हारी घड़ी में क्या बजा है।

Q.15 दिए गए वाक्य में रेखांकित शब्द के लिए सही वर्तनी ज्ञात कीजिए।

मैहनत कर के जीवन व्यतीत करो।

- Ans
- ✓ 1. मेहनत
 - ✗ 2. महनत
 - ✗ 3. मैहनात
 - ✗ 4. मोहनत

Comprehension:

नीचे दिए गए गद्य में कुछ शब्द छोड़ दिए गए हैं और प्रत्येक रिक्त स्थान के चार विकल्प दिए गए हैं। इन चारों में से कौन सा विकल्प रिक्त स्थान की पूर्ति करेगा-

मोबाइल फोन टेलीविजन या टैबलेट जैसे (1)_____ के स्क्रीन पर बच्चों के ज्यादा समय देने को लेकर हाल के वर्षों में (2)_____ अध्ययन हुए हैं। इनके (3)_____ इस बात का इशारा करते हैं कि (4)_____ स्क्रीन टाइम तंत्रिका संबंधी विकास और आपसी मेलजोल बढ़ाने में (5)_____ बनते हैं।

SubQuestion No : 16

Q.16 रिक्त 1 के लिए सबसे उपयुक्त विकल्प का चयन कीजिए।

- Ans
- ✓ 1. उपरकणों
 - ✗ 2. किताबों
 - ✗ 3. भूमि
 - ✗ 4. कार्यलय

Comprehension:

नीचे दिए गए गद्य में कुछ शब्द छोड़ दिए गए हैं और प्रत्येक रिक्त स्थान के चार विकल्प दिए गए हैं। इन चारों में से कौन सा विकल्प रिक्त स्थान की पूर्ति करेगा-

मोबाइल फोन टेलीविजन या टैबलेट जैसे (1)_____ के स्क्रीन पर बच्चों के ज्यादा समय देने को लेकर हाल के वर्षों में (2)_____ अध्ययन हुए हैं। इनके (3)_____ इस बात का इशारा करते हैं कि (4)_____ स्क्रीन टाइम तंत्रिका संबंधी विकास और आपसी मेलजोल बढ़ाने में (5)_____ बनते हैं।

SubQuestion No : 17

Q.17 रिक्त 2 के लिए सबसे उपयुक्त विकल्प का चयन कीजिए।

- Ans
- ✗ 1. दुष्ट
 - ✓ 2. व्यापक
 - ✗ 3. गतिविधि
 - ✗ 4. कोमल

Comprehension:

नीचे दिए गए गद्य में कुछ शब्द छोड़ दिए गए हैं और प्रत्येक रिक्त स्थान के चार विकल्प दिए गए हैं। इन चारों में से कौन सा विकल्प रिक्त स्थान की पूर्ति करेगा-

मोबाइल फोन टेलीविजन या टैबलेट जैसे (1)_____ के स्क्रीन पर बच्चों के ज्यादा समय देने को लेकर हाल के वर्षों में (2)_____ अध्ययन हुए हैं। इनके (3)_____ इस बात का इशारा करते हैं कि (4)_____ स्क्रीन टाइम तंत्रिका संबंधी विकास और आपसी मेलजोल बढ़ाने में (5)_____ बनते हैं।

SubQuestion No : 18

Q.18 रिक्त 3 के लिए सबसे उपयुक्त विकल्प का चयन कीजिए।

- Ans
- 1. अतिरिक्त
 - 2. निष्कर्ष
 - 3. स्मार्ट
 - 4. पैदा

Comprehension:

नीचे दिए गए गद्य में कुछ शब्द छोड़ दिए गए हैं और प्रत्येक रिक्त स्थान के चार विकल्प दिए गए हैं। इन चारों में से कौन सा विकल्प रिक्त स्थान की पूर्ति करेगा-

मोबाइल फोन टेलीविजन या टैबलेट जैसे (1)_____ के स्क्रीन पर बच्चों के ज्यादा समय देने को लेकर हाल के वर्षों में (2)_____ अध्ययन हुए हैं। इनके (3)_____ इस बात का इशारा करते हैं कि (4)_____ स्क्रीन टाइम तंत्रिका संबंधी विकास और आपसी मेलजोल बढ़ाने में (5)_____ बनते हैं।

SubQuestion No : 19

Q.19 रिक्त 4 के लिए सबसे उपयुक्त विकल्प का चयन कीजिए।

- Ans
- 1. अत्यधिक
 - 2. स्वास्थ्य
 - 3. बचपन
 - 4. इशारा

Comprehension:

नीचे दिए गए गद्य में कुछ शब्द छोड़ दिए गए हैं और प्रत्येक रिक्त स्थान के चार विकल्प दिए गए हैं। इन चारों में से कौन सा विकल्प रिक्त स्थान की पूर्ति करेगा-

मोबाइल फोन टेलीविजन या टैबलेट जैसे (1)_____ के स्क्रीन पर बच्चों के ज्यादा समय देने को लेकर हाल के वर्षों में (2)_____ अध्ययन हुए हैं। इनके (3)_____ इस बात का इशारा करते हैं कि (4)_____ स्क्रीन टाइम तंत्रिका संबंधी विकास और आपसी मेलजोल बढ़ाने में (5)_____ बनते हैं।

SubQuestion No : 20

Q.20 रिक्त 5 के लिए सबसे उपयुक्त विकल्प का चयन कीजिए।

- Ans
- 1. सलाह
 - 2. बाधक
 - 3. छुटकारा
 - 4. हताश