

**Constable GD in Central Armed Police Forces CAPFs SSF Rifleman GD in Assam Rifles Examination 2024**

Exam Date	24/02/2024
Exam Time	11:30 AM - 12:30 PM
Subject	Constable GD Examination 2024

Section : Part-A-General Intelligence and Reasoning

Q.1 From the given option figures, select the one in which the question figure is hidden/embedded. (rotation is not allowed)



Ans

✓ 1.



✗ 2.



✗ 3.



✗ 4.



Q.2 In the following question, select the related letter pair from the given alternatives.

JRVP : IQUO :: ?

Ans

✓ 1. QJBV : PIAU

✗ 2. NOPX : ZWXV

✗ 3. NDUR : ABOC

✗ 4. WWYR : URUO

# Test Prime

ALL EXAMS,  
ONE SUBSCRIPTION



**40,000+**  
Mock Tests



Personalised  
Report Card



Unlimited  
Re-Attempt



**500+**  
Exam Covered



Previous Year  
Papers



**500%**  
Refund



**DOWNLOAD NOW**

Q.3 Which two signs should be interchanged to make the given equation correct?

$$26 + 2 \times 8 - 4 \div 1 = 14$$

- Ans
- 1. - and  $\times$
  - 2. = and -
  - 3. = and  $\times$
  - 4. + and -

Q.4 In a certain code language, 'FIELD' is coded as '41', 'WONDER' is coded as '84'. What is the code for 'SKILL' in that code language?

- Ans
- 1. 65
  - 2. 70
  - 3. 63
  - 4. 68

Q.5 Select the option that is related to the third word in the same way as the second word is related to the first word.  
Penguin : Chick :: Duck : ?

- Ans
- 1. Duckling
  - 2. Joey
  - 3. Cub
  - 4. Kitten

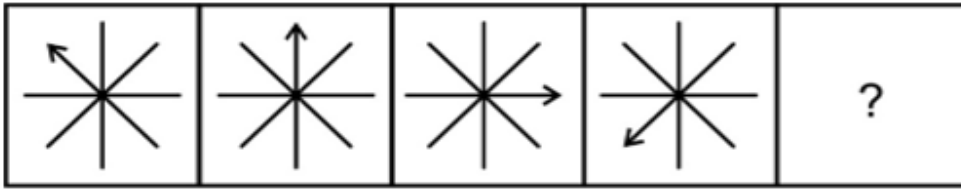
Q.6 In the following question, select the figure which can be placed at the sign of question mark (?) from the given alternatives.



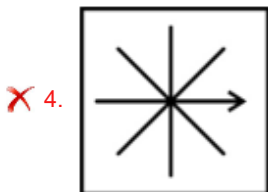
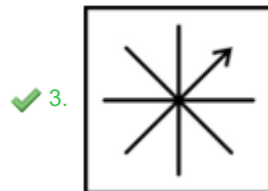
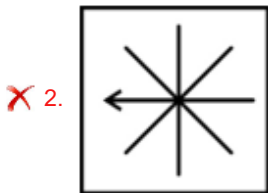
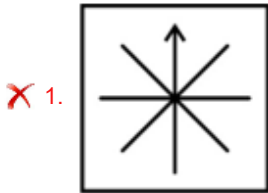
Ans

- 1.
- 2.
- 3.
- 4.

Q.7 Select the figure that will replace the question mark (?) in the following figure series.



Ans



Q.8 Which of the following letter-number cluster will replace the blank (\_\_\_) in the given series?

IDG, \_\_\_\_, EZC, CXA, AVY, YTW

Ans ✗ 1. GBF

✗ 2. GCF

✓ 3. GBE

✗ 4. JBE

Q.9 Six people Alice, Bob, Carol, David, Emily, and Frank are sitting on a circular table facing towards the centre. David sits between Alice and Emily. Carol sits to the immediate right of Bob. Frank and Alice are not neighbors. Carol is an immediate neighbour of Frank. Who sits to the immediate right of Emily?

Ans ✗ 1. Frank

✗ 2. Carol

✓ 3. David

✗ 4. Bob

**Q.10** Three Statements are given followed by two conclusions numbered I and II. Assuming the statements to be true, even if they seem to be at variance with commonly known facts, decide which of the conclusions logically follow(s) from the statements.

Statement I: All curtains are beds.

Statement II: Some beds are chairs.

Statement III: Some chairs are not tables.

Conclusion I: Some chairs are tables.

Conclusion II: Some chairs being curtains is possible.

- Ans**
- 1. Neither conclusion I nor II follows
  - 2. Both conclusions I and II follow
  - 3. Only conclusion II follows
  - 4. Only conclusion I follows

**Q.11** Five friends Pooja, Bhawna, Charu, Geeta and Hema are sitting around a circular table facing towards the centre. Charu is not the immediate neighbour of Bhawna. Bhawna is second to the left of Hema. Geeta is the immediate neighbour of Bhawna and Hema. Who is sitting to the immediate left of Charu?

- Ans**
- 1. Pooja
  - 2. Bhawna
  - 3. Hema
  - 4. Geeta

**Q.12** In the following question, select the missing number from the given series.

115, 94, 72, 49, 25, ?

- Ans**
- 1. 8
  - 2. 0
  - 3. 7
  - 4. 1

**Q.13** In a certain code language, if BOTTLE is coded as CNUUMD, GLASS is coded as HMZTT, then what will MIRROR be coded as?

- Ans**
- 1. NHSNSS
  - 2. NSHSNS
  - 3. NHSSSN
  - 4. NHSSNS

**Q.14** Which of the following numbers will replace the question mark (?) in the given series?

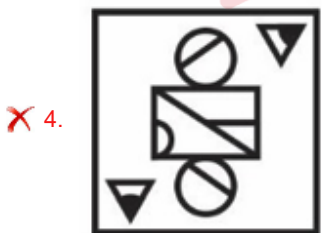
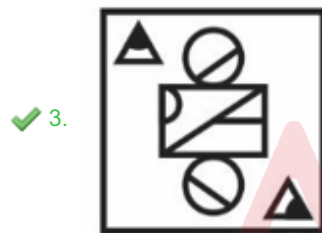
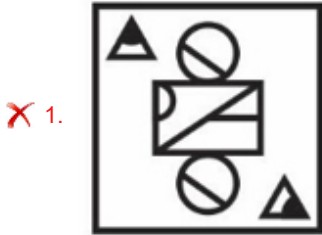
31, 32, 36, ?, 61, 86

- Ans**
- 1. 58
  - 2. 39
  - 3. 45
  - 4. 49

Q.15 If a mirror is placed on the line AB, then out of the option figures which figure will be the right image of the question figure?



Ans



Q.16 If  $13\ A\ 14\ B\ 15\ C\ 20 = 243$  and  $15\ A\ 10\ B\ 8\ C\ 9 = 104$ , then  $45\ A\ 10\ B\ 18\ C\ 50 = ?$

- Ans
- ✗ 1. 265
  - ✗ 2. 280
  - ✗ 3. 145
  - ✓ 4. 275

Q.17 Which answer figure will complete the pattern in the question figure? (rotation is NOT allowed)



Ans

- 1.
- 2.
- 3.
- 4.

Q.18 A series is given with one term missing. Select the correct alternative from the given ones that will complete the series.

QV, TO, MR, PK, ?

Ans

- 1. IR
- 2. IM
- 3. IQ
- 4. IN

Q.19 Pointing towards a picture of a man, Rakhi said, "He is the brother of my son's mother". How man is related to Rakhi?

Ans

- 1. Father's brother
- 2. Father
- 3. Brother
- 4. Son



Q.20 Arrange the given words in the sequence in which they occur in the dictionary.

1. Light

2. Like

3. Lift

4. Life

5. Lignite

Ans  1. 4,3,1,2,5

2. 1,4,3,2,5

3. 1,3,4,5,2

4. 4,3,1,5,2

Section : Part-B-General Knowledge and General awareness

Q.1 Tapan Kumar Pattanayak won the Sangeet Natak Akademi Award in which dance form?

Ans  1. Chhau

2. Sattriya

3. Odissi

4. Kuchipudi

Q.2 Which regulatory body in India oversees and supervises microfinance institutions (MFIs) to ensure their compliance with regulations?

Ans  1. Securities and Exchange Board of India (SEBI)

2. Insurance Regulatory and Development Authority (IRDA)

3. Reserve Bank of India (RBI)

4. Competition Commission of India (CCI)

Q.3 Implementation of family planning Programmes were amongst major targets of which of the following five year plan of India?

Ans  1. Sixth five year plan

2. Fourth five year plan

3. Fifth five year plan

4. Seventh five year plan



Q.4 Which of the following Articles of Indian Constitution under the fundamental duties is related to the value and preservation of the rich heritage of our composite culture?

- Ans
- 1. Article 51A(c)
  - 2. Article 51A(f)
  - 3. Article 51A(g)
  - 4. Article 51A(e)

Q.5 Which of the following articles of the Indian Constitution is mentioned under the Right to Equality?

- Ans
- 1. Abolition of titles
  - 2. Protection of life and personal liberty
  - 3. Freedom to manage religious affairs
  - 4. Right to education

Q.6 Which of the following is required by the aquatic animals to breathe under water?

- Ans
- 1. Dissolved Nitrogen
  - 2. Dissolved CO<sub>2</sub>
  - 3. Dissolved Oxygen
  - 4. Dissolved H<sub>2</sub>S

Q.7 Which country is India's neighbour to the west, sharing a significant border, and is often a topic of geopolitical significance?

- Ans
- 1. Bhutan
  - 2. Sri Lanka
  - 3. Nepal
  - 4. Pakistan

Q.8 Which of the following festival has 'Jalli Kattu' as a feature?

- Ans
- 1. Onam
  - 2. Vishu
  - 3. Bihu
  - 4. Pongal

Q.9 According to the data from the Ministry of Mines, the largest resources of gold ore (primary) are located in which of the following Indian states?

- Ans
- 1. West Bengal
  - 2. Bihar
  - 3. Rajasthan
  - 4. Karnataka

Q.10 Who was the founder of the Shunga Dynasty in India?

- Ans
- 1. Vasumitra
  - 2. Pushyamitra
  - 3. Devabhuti
  - 4. Kanva

Q.11 How many players are there on a standard ice hockey (when there is no overtime or penalties) team during a game?

- Ans
- 1. Seven
  - 2. Six
  - 3. Four
  - 4. Five

Q.12 Which sport features the "Breaststroke" as a technique?

- Ans
- 1. Horse riding
  - 2. Pool
  - 3. Swimming
  - 4. Shooting

Q.13 The Union Cabinet chaired by the Prime Minister of India, has approved a bus scheme "PM-eBus Sewa" for augmenting city bus operation by \_\_\_\_\_ e-buses on PPP model.

- Ans
- 1. 5000
  - 2. 10000
  - 3. 11000
  - 4. 7000

Q.14 Who has been appointed as the new CEO of NITI Aayog?

- Ans
- 1. Parameshwaran Iyer
  - 2. M. K. Talwar
  - 3. P.C. Sudhakar
  - 4. BVR Subrahmanyam

Q.15 Which of the following is an example of Quasi-Judicial Bodies in India?

- Ans
- 1. Supreme Court
  - 2. Inter-State Council
  - 3. State Consumer Disputes Redressal Commission
  - 4. Zonal council

Q.16 To which of the following states does the folk dance Khorisa belong?

- Ans
- 1. Maharashtra
  - 2. Haryana
  - 3. Assam
  - 4. West Bengal

Q.17 According to the 2011 Census of India, the proportion of \_\_\_\_\_ population has declined by 0.2 PP (percentage point).

- Ans
- 1. Buddhist
  - 2. Sikh
  - 3. Muslim
  - 4. Hindu

Q.18 The Bardoli Satyagraha took place in which year?

- Ans
- 1. 1924
  - 2. 1926
  - 3. 1928
  - 4. 1922

Q.19 \_\_\_\_\_ unveiled the Logo, Theme and Website of India's G20 Presidency in Virtual mode.(November 2022)

- Ans
- 1. Prime Minister Shri Narendra Modi
  - 2. President Draupadi Murmu
  - 3. Finance Minister Nirmala Sitharaman
  - 4. Home Minister Amit Shah

Q.20 Which of the following sports is played by Siddharth Suchde?

- Ans
- 1. Football
  - 2. Badminton
  - 3. Tennis
  - 4. Squash

Section : Part-C-Elementary Mathematics

Q.1 A is four times as good a workman as B and together they finish a piece of work in  $\frac{84}{15}$  days. In how many days can A alone finish the work?

- Ans
- 1. 15 days
  - 2. 7 days
  - 3. 9 days
  - 4. 10 days

Q.2 Calculate the area of a right-angled triangle with a base of 22 cm and height corresponding to that base is 15 cm.

- Ans
- 1.  $150 \text{ cm}^2$
  - 2.  $180 \text{ cm}^2$
  - 3.  $165 \text{ cm}^2$
  - 4.  $140 \text{ cm}^2$

Q.3 What is the value of  $3[4 + 2\{42 - 4(9 - 1)\}]$ ?

- Ans
- 1. 81
  - 2. 48
  - 3. 72
  - 4. 69

Q.4 In a bag, the ratio of black balls to white balls is 7:4. If there are 44 white balls, find the total number of balls in the bag.

- Ans
- 1. 112
  - 2. 110
  - 3. 128
  - 4. 121

Q.5 Abhishek marks the price of his laptop 80 percent above the cost price. He allows his customer a discount of 25 percent on the marked price. What is the profit percentage?

- Ans
- 1. 40 percent
  - 2. 25 percent
  - 3. 35 percent
  - 4. 55 percent

Q.6 The average of 17 numbers is 47. If each of the numbers is multiplied by 6, then find the new average.

- Ans
- 1. 265
  - 2. 280
  - 3. 270
  - 4. 282

Q.7 The profit earned on selling an article for Rs. 4550 is 5 times of the loss incurred on selling the same article for Rs. 3290. What will be the selling price of the article to earn a profit of 20 percent?

- Ans
- 1. Rs. 3900
  - 2. Rs. 4200
  - 3. Rs. 4000
  - 4. Rs. 4500

Q.8 If 25 workers can build a wall in 10 days, how many days will it take for 20 workers to build a similar wall?

- Ans
- 1.  $25/4$  days
  - 2.  $23/3$  days
  - 3.  $21/2$  days
  - 4.  $25/2$  days

Q.9 What is the value of  $1100 \div 5 + 420 \div 2 + 550 \div 5$ ?

- Ans
- 1. 460
  - 2. 510
  - 3. 540
  - 4. 500

Q.10 If A percent of A is 9604, then what is the value of A?

- Ans
- 1. 1020
  - 2. 980
  - 3. 920
  - 4. 880

Q.11 What will be the compound interest (compounding annually) on a sum of Rs. 9000 at the rate of 32 percent per annum for 2 years?

- Ans
- 1. Rs. 6400.4
  - 2. Rs. 6908.3
  - 3. Rs. 6790.7
  - 4. Rs. 6681.6

Q.12 Which among the following is divisible by 4, 7 and 23?

- Ans
- 1. 6245
  - 2. 6490
  - 3. 6457
  - 4. 6440

Q.13 A thief steals a car at 2:00 p.m. and drives it at 70 km per hour. The theft is discovered at 3:00 p.m. and the owner sets off in another car at 105 km an hour. At what time owner will overtake the thief?

- Ans
- 1. 5:00 p.m
  - 2. 3:45 p.m
  - 3. 3:30 p.m
  - 4. 4:30 p.m

Q.14 Cost price of a cooler is Rs. 6400. If the profit percentage is 24 percent, then what is the selling price of the cooler?

- Ans
- 1. Rs. 7936
  - 2. Rs. 8239
  - 3. Rs. 7256
  - 4. Rs. 8456

Q.15 In a mixture, milk and water are in ratio of 7 : 9. Some milk is added to the mixture because of which ratio of milk and water becomes 11 : 9. How much milk was added as a percentage of initial mixture?

- Ans
- 1. 10 percent
  - 2. 60 percent
  - 3. 25 percent
  - 4. 30 percent

Q.16 There are 120 hens in a poultry. Due to the addition of 140 more hens, the expenses of the poultry increases by Rs. 4050 while the average expenditure per hen diminishes by Rs. 3. What was the original expenditure of the poultry?

- Ans
- 1. Rs. 4780
  - 2. Rs. 4540
  - 3. Rs. 4140
  - 4. Rs. 4350

Q.17 When a number is successively decreased by 10 percent, 15 percent and 56 percent, then it becomes 20196. What is that number?

- Ans
- 1. 80000
  - 2. 50000
  - 3. 40000
  - 4. 60000

Q.18 What is the value of  $520 \div 10 + 25 \times 7 - 62 \times 3$ ?

- Ans
- 1. 45
  - 2. 41
  - 3. 47
  - 4. 49

Q.19 If the ratio of marked price and selling price of a article is 13 : 9, then what is the discount percentage?

- Ans
- 1. 30.77 percent
  - 2. 28.76 percent
  - 3. 25 percent
  - 4. 32.77 percent

Q.20 The difference between simple interest on a certain sum at the annual rate of 10 percent for 7 years and 8 years is Rs. 57. What is the sum?

- Ans
- 1. Rs. 550
  - 2. Rs. 610
  - 3. Rs. 570
  - 4. Rs. 590

Section : Part-D-English

Q.1 Select the most appropriate word to fill in the blank.

The explosion \_\_\_\_\_ a huge crater.

- Ans
- 1. left
  - 2. leave
  - 3. will leaves
  - 4. have left

Q.2 Select the incorrectly spelt word from the given sentence.

She found fault in every sentence of the exercise sheet that I asimilated from prior observations.

- Ans
- 1. fault
  - 2. asimilated
  - 3. prior
  - 4. exercise



Q.3 Fill in the blank with the most appropriate option.

On the \_\_\_\_\_ in the train he talked to his neighbours about politics and the new railways

- Ans
- 1. entourage
  - 2. tourism
  - 3. itinerary
  - 4. journey

Q.4 Select the sentence with no spelling errors.

- Ans
- 1. Police who did not understand the orthodox methods of the Black Hood suspected him of numeruos crimes.
  - 2. Police who did not understand the urthodox methods of the Black Hood suspected him of numerous crimes.
  - 3. Police who did not understand the orthodox methods of the Black Hood suspected him of numerous crimes.
  - 4. Police who did not understand the orthodox methods of the Black Hood suspected him of numerous crimes.

Q.5 Select the most appropriate word to fill in the blank.

Out of all, this is the \_\_\_\_\_ school in the city.

- Ans
- 1. more famous
  - 2. famousest
  - 3. famous
  - 4. most famous

Q.6 Select the most appropriate antonym of the given word.

Procure

- Ans
- 1. Hinder
  - 2. Multiply
  - 3. Consume
  - 4. Abstain

Q.7 Find the part of the given sentence that has an error in it. If there is no error, choose 'No error'.

There was no one in the cinema hall beside Sham and Rohan.

- Ans
- 1. in the cinema hall
  - 2. There was no one
  - 3. No error
  - 4. beside Sham and Rohan.



Q.8 Improve the underlined part of the sentence. Choose 'No improvement' as an answer if the sentence is grammatically correct.

Walking through the dew, he wet his sneakers.

- Ans
- 1. No improvement
  - 2. from the dew
  - 3. through the dewy
  - 4. across the dewy

Q.9 Identify the segment that contains a grammatical error. If there is no error, select 'No error'.

Suddenly he plumped himself / right into the arms of a tallest, ungainly man, / who had crossed from the other side.

- Ans
- 1. Suddenly he plumed himself
  - 2. No error
  - 3. who had crossed from the other side.
  - 4. right into the arms of a tallest,ungainly man,

Q.10 Choose the most appropriate synonym of the underlined word.

To me, this was both a perfect articulation of the problem and the suggestion of a solution.

- Ans
- 1. Park
  - 2. Enunciation
  - 3. Mispronounce
  - 4. Damp

Q.11 Select the most appropriate antonym of the given word.

Characteristic

- Ans
- 1. Distinctive
  - 2. Inbred
  - 3. Usual
  - 4. Affordable

Q.12 In the following question, out of the given four alternatives, select the alternative which best expresses the meaning of the Idiom/Phrase.

To huff and puff

- Ans
- 1. To be perplexed
  - 2. To get into trouble
  - 3. To breathe heavily or rapidly because one is exhausted
  - 4. To speak ill of

Q.13 Select the most appropriate antonym of the given word.

Prospect

- Ans
- 1. Calculations
  - 2. Impossibility
  - 3. Forecast
  - 4. Contemplation

Q.14 Choose the idiom/phrase that can substitute the highlighted group of words meaningfully.

He **studied till late at night** before his exam and it has paid off.

- Ans
- 1. See eye to eye
  - 2. Run out of steam
  - 3. Lose your marbles
  - 4. Burn the midnight oil

Q.15 Find the part of the given sentence that has an error in it. If there is no error, choose 'No error'.

Pandemic is the highest level of global health emergency and had signifies widespread outbreaks affecting multiple regions of the world.

- Ans
- 1. No error
  - 2. outbreaks affecting multiple regions of the world.
  - 3. Pandemic is the highest level of global
  - 4. health emergency and had signifies widespread

**Comprehension:**

Read the passage carefully and select the correct answer for the given blanks out of the four alternatives.

While you are at Chilika, (1) \_\_\_\_\_ a moment to yourself and admire the beauty of this fabled lake. Indulge in a leisurely boat ride to visit the many (2) \_\_\_\_\_ that the vast expanse of the lake encompasses- the beacon island, bird island to (3) \_\_\_\_\_ a few and of course watch the migratory birds and the critically (4) \_\_\_\_\_ Irrawaddy Dolphins frolic in the prey laden brackish waters. Go heritage hunting in the nearby quaint townships- Chilika never (5) \_\_\_\_\_ to amaze.

SubQuestion No : 16

Q.16 Select the most appropriate option for blank (1)

- Ans
- 1. sleep
  - 2. take
  - 3. carry
  - 4. make

**Comprehension:**

Read the passage carefully and select the correct answer for the given blanks out of the four alternatives.

While you are at Chilika, (1)\_\_\_\_\_ a moment to yourself and admire the beauty of this fabled lake. Indulge in a leisurely boat ride to visit the many (2)\_\_\_\_\_ that the vast expanse of the lake encompasses- the beacon island, bird island to (3)\_\_\_\_\_ a few and of course watch the migratory birds and the critically (4)\_\_\_\_\_ Irrawaddy Dolphins frolic in the prey laden brackish waters. Go heritage hunting in the nearby quaint townships- Chilika never (5)\_\_\_\_\_ to amaze.

SubQuestion No : 17

Q.17 Select the most appropriate option for blank (2)

- Ans
- 1. sections
  - 2. spots
  - 3. marks
  - 4. periods

**Comprehension:**

Read the passage carefully and select the correct answer for the given blanks out of the four alternatives.

While you are at Chilika, (1)\_\_\_\_\_ a moment to yourself and admire the beauty of this fabled lake. Indulge in a leisurely boat ride to visit the many (2)\_\_\_\_\_ that the vast expanse of the lake encompasses- the beacon island, bird island to (3)\_\_\_\_\_ a few and of course watch the migratory birds and the critically (4)\_\_\_\_\_ Irrawaddy Dolphins frolic in the prey laden brackish waters. Go heritage hunting in the nearby quaint townships- Chilika never (5)\_\_\_\_\_ to amaze.

SubQuestion No : 18

Q.18 Select the most appropriate option for blank (3)

- Ans
- 1. name
  - 2. call
  - 3. word
  - 4. announce

**Comprehension:**

Read the passage carefully and select the correct answer for the given blanks out of the four alternatives.

While you are at Chilika, (1)\_\_\_\_\_ a moment to yourself and admire the beauty of this fabled lake. Indulge in a leisurely boat ride to visit the many (2)\_\_\_\_\_ that the vast expanse of the lake encompasses- the beacon island, bird island to (3)\_\_\_\_\_ a few and of course watch the migratory birds and the critically (4)\_\_\_\_\_ Irrawaddy Dolphins frolic in the prey laden brackish waters. Go heritage hunting in the nearby quaint townships- Chilika never (5)\_\_\_\_\_ to amaze.

SubQuestion No : 19

Q.19 Select the most appropriate option for blank (4)

- Ans
- 1. screened
  - 2. sheltered
  - 3. ventured
  - 4. endangered

**Comprehension:**

Read the passage carefully and select the correct answer for the given blanks out of the four alternatives.

While you are at Chilika, (1)\_\_\_\_\_ a moment to yourself and admire the beauty of this fabled lake. Indulge in a leisurely boat ride to visit the many (2)\_\_\_\_\_ that the vast expanse of the lake encompasses- the beacon island, bird island to (3)\_\_\_\_\_ a few and of course watch the migratory birds and the critically (4)\_\_\_\_\_ Irrawaddy Dolphins frolic in the prey laden brackish waters. Go heritage hunting in the nearby quaint townships- Chilika never (5)\_\_\_\_\_ to amaze.

SubQuestion No : 20

Q.20 Select the most appropriate option for blank (5)

- Ans
- ✓ 1. ceases
  - ✗ 2. layoffs
  - ✗ 3. actuates
  - ✗ 4. extenuates

## Section : Part-D-Hindi

Q.1 दिए गए वाक्य में रेखांकित शब्दों के लिए सही शब्दों वाले विकल्प का चयन करें।

जितना गुड़ डालोगे, वैसा मीठा होगा।

- Ans
- ✓ 1. जितना गुड़ डालोगे, उतना मीठा होगा।
  - ✗ 2. परिवर्तन की आवश्यकता नहीं है।
  - ✗ 3. जितना गुड़ डालोगे, उतना मीठी होगा।
  - ✗ 4. जितना गुड़ डालोगे, वैसी मीठी होगा।

Q.2 दिए गए वाक्य में से गलत वर्तनी ज्ञात कीजिए।

प्रकृति का सौंदर्य देखते ही बनता है।

- Ans
- ✗ 1. प्रकृति
  - ✗ 2. बनता
  - ✓ 3. सौंदर्य
  - ✗ 4. देखते

Q.3 निम्नलिखित प्रश्न में, चार विकल्पों में से, उस विकल्प का चयन करें जो रिक्त स्थान के लिए सही शब्द वाला विकल्प हो।

जब समाचार-पत्रों में \_\_\_\_\_ के लिए कोई सूचना प्रकाशित की जाती है तो उसको विज्ञापन कहते हैं।

- Ans
- ✗ 1. विशिष्ट व्यक्तित्व
  - ✓ 2. सर्वसाधारण
  - ✗ 3. बच्चों
  - ✗ 4. कुछ

Q.4 निम्नलिखित प्रश्न में, दिए गए चार विकल्पों में से, उस विकल्प का चयन करें जो दिए गए मुहावरे के अर्थ को सर्वश्रेष्ठ रूप से व्यक्त करता है।

कलेजे पर पत्थर रखना

- Ans
- ✗ 1. अत्यंत भयभीत होना
  - ✓ 2. धैर्य धारण करना
  - ✗ 3. बड़ा बदला लेना
  - ✗ 4. बुद्धि भ्रष्ट होना

Q.5 दिए गए वाक्य में रेखांकित भाग के लिए उचित सार्थक शब्द का चयन कीजिए।

रावेस होते ही सब उठ गए।

- Ans
- ✗ 1. बेसब्र
  - ✗ 2. बसेरा
  - ✓ 3. सवेरा
  - ✗ 4. रेसब

Q.6 दिए गए वाक्य में रेखांकित शब्द का विलोम शब्द ज्ञात कीजिए।

वायु प्रदूषण से काफी हानि हो रही है।

- Ans
- ✗ 1. जीतना
  - ✗ 2. नुकसान
  - ✓ 3. लाभ
  - ✗ 4. फायदा

Q.7 दिए गए वाक्य में रेखांकित शब्द का विलोम शब्द ज्ञात कीजिए।

वह देश में है।

- Ans
- ✗ 1. स्वदेश
  - ✓ 2. विदेश
  - ✗ 3. ग्रामीण
  - ✗ 4. शहर

Q.8 दिए गए वाक्य का वह भाग ज्ञात करें, जिसमें कोई त्रुटि है।

समाचार पत्र विभिन्न प्रकरणों पर जनमत तैयार करने के लिए एक शक्ति यंत्र है।

- Ans
- ✗ 1. प्रकरणों पर जनमत तैयार
  - ✗ 2. समाचार पत्र विभिन्न
  - ✓ 3. शक्ति यंत्र है।
  - ✗ 4. करने के लिए एक

Q.9 दिए गए वाक्यांश के लिए सार्थक शब्द ज्ञात कीजिए।

द्रुपद की पुत्री

- Ans
- ✗ 1. द्रोपदी
  - ✗ 2. निशाचारी
  - ✗ 3. द्रुपद
  - ✓ 4. द्रौपदी

Q.10 दिए गए वाक्य में उचित पर्यायवाची शब्द का चयन करके रिक्त स्थान की पूर्ति करें।

देवप्रयाग में दो नदियों का \_\_\_\_\_ (मेल) होता है।

- Ans
- ✗ 1. अवधि
  - ✗ 2. उचित
  - ✗ 3. मन्द
  - ✓ 4. संगम

Q.11 निम्नलिखित प्रश्न में, दिए गए चार विकल्पों में से, उस विकल्प का चयन करें जो दिए गए मुहावरे के अर्थ को सर्वश्रेष्ठ रूप से व्यक्त करता है।

चिपके रहना

- Ans
- ✗ 1. मजबूती से चिपकना
  - ✓ 2. साथ-साथ रहना
  - ✗ 3. प्रिय संतान
  - ✗ 4. बीमारी का कारण

Q.12 दिए गए वाक्य में रेखांकित शब्द के लिए सही वर्तनी ज्ञात कीजिए।

हिंदी हमारी मात्रभाषा है।

- Ans
- ✓ 1. मातृभाषा
  - ✗ 2. मातरिभाषा
  - ✗ 3. मात्रभाषा
  - ✗ 4. मातरभाषा



Q.13 निम्नलिखित प्रश्न में, चार विकल्पों में से, उस विकल्प का चयन करें जो कोष्ठक में दिए गए शब्द के तत्सम रूप का सही विकल्प है।  
पता नहीं कहाँ से एक (तिनका) \_\_\_\_\_ आकर आँख में चला गया जो अब दर्द दे रहा है।

- Ans
- ✗ 1. त्वरित
  - ✗ 2. तैल
  - ✗ 3. तरवारि
  - ✓ 4. तृण

Q.14 निम्नलिखित प्रश्न में, चार विकल्पों में से, उस विकल्प का चयन करें जो कोष्ठक में दिए गए शब्द के पर्यायवाची शब्द का सही विकल्प है।  
किसी ने सही ही कहा है कि (एकता) \_\_\_\_\_ में शक्ति होती है।

- Ans
- ✓ 1. सुमति
  - ✗ 2. ठसक
  - ✗ 3. अनुरूप
  - ✗ 4. अनुग्रह

Q.15 दिए गए विकल्पों में से तीन विकल्प त्रुटियुक्त हैं, जबकि एक सही है। उस सही विकल्प का चयन करें।

- Ans
- ✗ 1. इस गाँव के घर-घर यही दशा है।
  - ✗ 2. इस गाँव से घर-घर यही दशा है।
  - ✓ 3. इस गाँव के घर-घर में यही दशा है।
  - ✗ 4. इस गाँव को घर-घर यही दशा है।



## Comprehension:

नीचे दिए गये गद्यांश में कुछ शब्द छोड़ दिये गए हैं, प्रत्येक अनुच्छेद के सामने चार विकल्प दिए गए हैं। इस गद्यांश को ध्यानपूर्वक पढ़ें और चार विकल्पों में से सर्वोत्तम उत्तर वाला विकल्प चुनें।

आलस्य एक ऐसा भाव है जो मनुष्य को कार्य करने की \_\_\_\_\_ नहीं देता अर्थात् मनुष्य कोई भी काम नहीं करना चाहता। उसे कोई भी कार्य करना अच्छा नहीं लगता सिवाय आराम फरमाने के। आलस्य मनुष्य को \_\_\_\_\_ मार्ग पर ले जाता है। आलसी मनुष्य को अपने कुर्सी से उठने में भी कठिनाई होती है। उसे लगता है कि उसका काम कोई दूसरा व्यक्ति कर दे तो उसकी नींद पूरी हो जाए। अब बताइये आलसी मनुष्य अपना \_\_\_\_\_ खुद ही बन जाता है। उसे परिश्रम का महत्व समझ नहीं आता। मनुष्य में कई तरह के दोष हैं जैसे, लालच, क्रोध, हिंसा, जलन आदि लेकिन सबसे भयानक आलस का रोग है। आलस्य मनुष्य को असफलता की राह पर ले जाता है। असफलता, अवनति और विनाश आलसी मनुष्य के \_\_\_\_\_ हैं। शेर भी जंगल में शिकार करके अपनी भूख मिटाता है। शेर जंगल का राजा होता है लेकिन वह भी परिश्रम करके जानवर का शिकार करता है। कहने का तात्पर्य है बिना कोई काम किये किसी को जीवन में \_\_\_\_\_ प्राप्ति नहीं होती।

## SubQuestion No : 16

Q.16 आलस्य एक ऐसा भाव है जो मनुष्य को कार्य करने की \_\_\_\_\_ नहीं देता।

- Ans
- ✓ 1. इजाज़त
  - ✗ 2. ज़रूरत
  - ✗ 3. समय
  - ✗ 4. अनुभव

## Comprehension:

नीचे दिए गये गद्यांश में कुछ शब्द छोड़ दिये गए हैं, प्रत्येक अनुच्छेद के सामने चार विकल्प दिए गए हैं। इस गद्यांश को ध्यानपूर्वक पढ़ें और चार विकल्पों में से सर्वोत्तम उत्तर वाला विकल्प चुनें।

आलस्य एक ऐसा भाव है जो मनुष्य को कार्य करने की \_\_\_\_\_ नहीं देता अर्थात् मनुष्य कोई भी काम नहीं करना चाहता। उसे कोई भी कार्य करना अच्छा नहीं लगता सिवाय आराम फरमाने के। आलस्य मनुष्य को \_\_\_\_\_ मार्ग पर ले जाता है। आलसी मनुष्य को अपने कुर्सी से उठने में भी कठिनाई होती है। उसे लगता है कि उसका काम कोई दूसरा व्यक्ति कर दे तो उसकी नींद पूरी हो जाए। अब बताइये आलसी मनुष्य अपना \_\_\_\_\_ खुद ही बन जाता है। उसे परिश्रम का महत्व समझ नहीं आता। मनुष्य में कई तरह के दोष हैं जैसे, लालच, क्रोध, हिंसा, जलन आदि लेकिन सबसे भयानक आलस का रोग है। आलस्य मनुष्य को असफलता की राह पर ले जाता है। असफलता, अवनति और विनाश आलसी मनुष्य के \_\_\_\_\_ हैं। शेर भी जंगल में शिकार करके अपनी भूख मिटाता है। शेर जंगल का राजा होता है लेकिन वह भी परिश्रम करके जानवर का शिकार करता है। कहने का तात्पर्य है बिना कोई काम किये किसी को जीवन में \_\_\_\_\_ प्राप्ति नहीं होती।

## SubQuestion No : 17

Q.17 आलस्य मनुष्य को \_\_\_\_\_ मार्ग पर ले जाता है।

- Ans
- ✗ 1. अच्छे
  - ✗ 2. मनचाहे
  - ✓ 3. दुर्गम
  - ✗ 4. सुगम

## Comprehension:

नीचे दिए गये गद्यांश में कुछ शब्द छोड़ दिये गए हैं, प्रत्येक अनुच्छेद के सामने चार विकल्प दिए गए हैं। इस गद्यांश को ध्यानपूर्वक पढ़ें और चार विकल्पों में से सर्वोत्तम उत्तर वाला विकल्प चुनें।

आलस्य एक ऐसा भाव है जो मनुष्य को कार्य करने की \_\_\_\_\_ नहीं देता अर्थात् मनुष्य कोई भी काम नहीं करना चाहता। उसे कोई भी कार्य करना अच्छा नहीं लगता सिवाय आराम फरमाने के। आलस्य मनुष्य को \_\_\_\_\_ मार्ग पर ले जाता है। आलसी मनुष्य को अपने कुर्सी से उठने में भी कठिनाई होती है। उसे लगता है कि उसका काम कोई दूसरा व्यक्ति कर दे तो उसकी नींद पूरी हो जाए। अब बताइये आलसी मनुष्य अपना \_\_\_\_\_ खुद ही बन जाता है। उसे परिश्रम का महत्व समझ नहीं आता। मनुष्य में कई तरह के दोष हैं जैसे, लालच, क्रोध, हिंसा, जलन आदि लेकिन सबसे भयानक आलस का रोग है। आलस्य मनुष्य को असफलता की राह पर ले जाता है। असफलता, अवनति और विनाश आलसी मनुष्य के \_\_\_\_\_ हैं। शेर भी जंगल में शिकार करके अपनी भूख मिटाता है। शेर जंगल का राजा होता है लेकिन वह भी परिश्रम करके जानवर का शिकार करता है। कहने का तात्पर्य है बिना कोई काम किये किसी को जीवन में \_\_\_\_\_ प्राप्ति नहीं होती।

## SubQuestion No : 18

Q.18 अब बताइये आलसी मनुष्य अपना \_\_\_\_\_ खुद ही बन जाता है।

- Ans
- 1. दोस्त
  - 2. पसंदीदा
  - 3. दुश्मन
  - 4. प्यारा

## Comprehension:

नीचे दिए गये गद्यांश में कुछ शब्द छोड़ दिये गए हैं, प्रत्येक अनुच्छेद के सामने चार विकल्प दिए गए हैं। इस गद्यांश को ध्यानपूर्वक पढ़ें और चार विकल्पों में से सर्वोत्तम उत्तर वाला विकल्प चुनें।

आलस्य एक ऐसा भाव है जो मनुष्य को कार्य करने की \_\_\_\_\_ नहीं देता अर्थात् मनुष्य कोई भी काम नहीं करना चाहता। उसे कोई भी कार्य करना अच्छा नहीं लगता सिवाय आराम फरमाने के। आलस्य मनुष्य को \_\_\_\_\_ मार्ग पर ले जाता है। आलसी मनुष्य को अपने कुर्सी से उठने में भी कठिनाई होती है। उसे लगता है कि उसका काम कोई दूसरा व्यक्ति कर दे तो उसकी नींद पूरी हो जाए। अब बताइये आलसी मनुष्य अपना \_\_\_\_\_ खुद ही बन जाता है। उसे परिश्रम का महत्व समझ नहीं आता। मनुष्य में कई तरह के दोष हैं जैसे, लालच, क्रोध, हिंसा, जलन आदि लेकिन सबसे भयानक आलस का रोग है। आलस्य मनुष्य को असफलता की राह पर ले जाता है। असफलता, अवनति और विनाश आलसी मनुष्य के \_\_\_\_\_ हैं। शेर भी जंगल में शिकार करके अपनी भूख मिटाता है। शेर जंगल का राजा होता है लेकिन वह भी परिश्रम करके जानवर का शिकार करता है। कहने का तात्पर्य है बिना कोई काम किये किसी को जीवन में \_\_\_\_\_ प्राप्ति नहीं होती।

## SubQuestion No : 19

Q.19 असफलता, अवनति और विनाश आलसी मनुष्य के \_\_\_\_\_ हैं।

- Ans
- 1. महान
  - 2. प्रणाम
  - 3. अपने
  - 4. परिणाम

## Comprehension:

नीचे दिए गये गद्यांश में कुछ शब्द छोड़ दिये गए हैं, प्रत्येक अनुच्छेद के सामने चार विकल्प दिए गए हैं। इस गद्यांश को ध्यानपूर्वक पढ़ें और चार विकल्पों में से सर्वोत्तम उत्तर वाला विकल्प चुनें।

आलस्य एक ऐसा भाव है जो मनुष्य को कार्य करने की \_\_\_\_\_ नहीं देता अर्थात् मनुष्य कोई भी काम नहीं करना चाहता। उसे कोई भी कार्य करना अच्छा नहीं लगता सिवाय आराम फरमाने के। आलस्य मनुष्य को \_\_\_\_\_ मार्ग पर ले जाता है। आलसी मनुष्य को अपने कुर्सी से उठने में भी कठिनाई होती है। उसे लगता है कि उसका काम कोई दूसरा व्यक्ति कर दे तो उसकी नींद पूरी हो जाए। अब बताइये आलसी मनुष्य अपना \_\_\_\_\_ खुद ही बन जाता है। उसे परिश्रम का महत्व समझ नहीं आता। मनुष्य में कई तरह के दोष हैं जैसे, लालच, क्रोध, हिंसा, जलन आदि लेकिन सबसे भयानक आलस का रोग है। आलस्य मनुष्य को असफलता की राह पर ले जाता है। असफलता, अवनति और विनाश आलसी मनुष्य के \_\_\_\_\_ हैं। शेर भी जंगल में शिकार करके अपनी भूख मिटाता है। शेर जंगल का राजा होता है लेकिन वह भी परिश्रम करके जानवर का शिकार करता है। कहने का तात्पर्य है बिना कोई काम किये किसी को जीवन में \_\_\_\_\_ प्राप्ति नहीं होती।

SubQuestion No : 20

Q.20 कहने का तात्पर्य है बिना कोई काम किये किसी को जीवन में \_\_\_\_\_ प्राप्ति नहीं होती।

- Ans
- ✓ 1. लक्ष्य
  - ✗ 2. आलस
  - ✗ 3. दुख की
  - ✗ 4. कठिनाई