

Constable GD in Central Armed Police Forces CAPFs SSF Rifleman GD in Assam Rifles Examination 2024

Exam Date	21/02/2024
Exam Time	5:00 PM - 6:00 PM
Subject	Constable GD Examination 2024

Section : Part-A-General Intelligence and Reasoning

Q.1 In the following question, select the missing number from the given series.

2916, 972, 324, ?, 36, 12

- Ans**
- 1. 108
 - 2. 119
 - 3. 117
 - 4. 120

Q.2 Select the option that is related to the fifth number-letter cluster in the same way as the fourth number-letter cluster is related to the third number-letter cluster, and the second number-letter cluster is related to the first number-letter cluster.
COMPLETE : COTEMPLE :: POSITION : POONSITI :: TROPICAL : ?

- Ans**
- 1. TRALOPCI
 - 2. TRLAOPIC
 - 3. TRALPOIC
 - 4. TRALOPIC

Q.3 Three Statements are given followed by two conclusions numbered I and II. Assuming the statements to be true, even if they seem to be at variance with commonly known facts, decide which of the conclusions logically follow(s) from the statements.

Statement I: No mountains is deserts.

Statement II: Some deserts are sandy places.

Statement III: Some sandy places are not mountains.

Conclusion I: Some deserts are not mountains.

Conclusion II: Some sandy places are mountains.

- Ans**
- 1. Neither conclusion I nor II follows
 - 2. Only conclusion II follows
 - 3. Both conclusions I and II follow
 - 4. Only conclusion I follows

Q.4 In a certain code language, 'KEPT' is coded as '52', 'LACK' is coded as '27'. What is the code for 'LINE' in that code language?

- Ans**
- 1. 42
 - 2. 50
 - 3. 41
 - 4. 40

Q.5 By interchanging the given two signs which of the following equation will be correct?

÷ and ×

Ans 1. $9 \times 3 + 8 \div 4 - 7 = 30$

2. $11 \div 12 \times 6 + 8 - 10 = 25$

3. $23 - 20 + 35 \div 2 \times 10 = 10$

4. $32 + 3 - 12 \div 18 \times 9 = 10$

Q.6 If a mirror is placed on the line AB, then out of the option figures which figure will be the right image of the question figure?



Ans

1.



2.



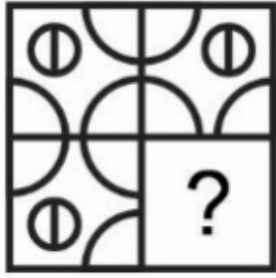
3.



4.



Q.7 Which answer figure will complete the pattern in the question figure? (rotation is not allowed)



Ans

✓ 1.



✗ 2.



✗ 3.

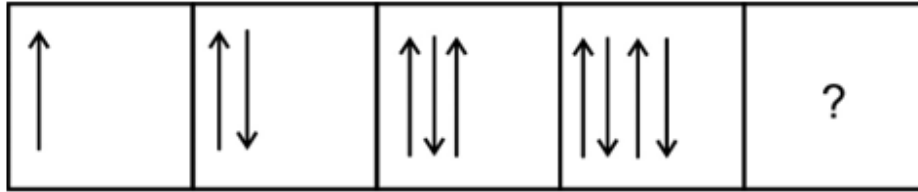


✗ 4.

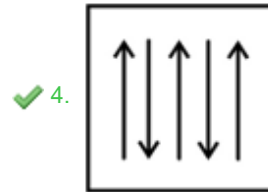
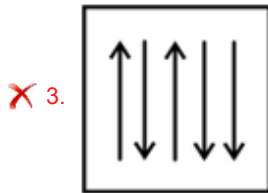
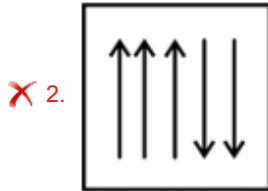
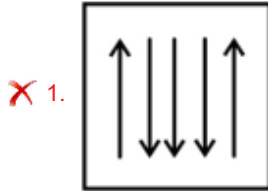


Adda247

Q.8 Select the figure that will replace the question mark (?) in the following figure series.



Ans



Q.9 Which of the following groups of letters when sequentially placed from left to right will complete the given series?

mnopmnop_nop_nopm_o_

Ans ✗ 1. oonp

✓ 2. mmnp

✗ 3. nnop

✗ 4. mnmn

Q.10 In the following question, select the related letter pair from the given

alternatives.

RLDY : SMEZ :: ?

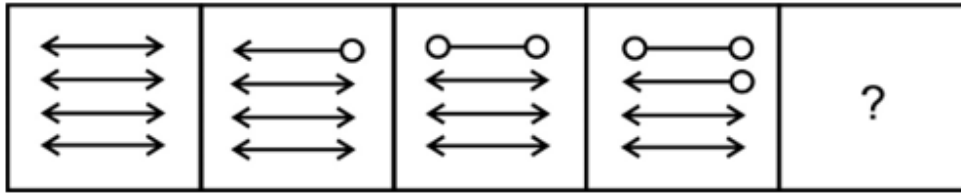
Ans ✗ 1. RUCP : KMOA

✓ 2. CPSF : DQTG

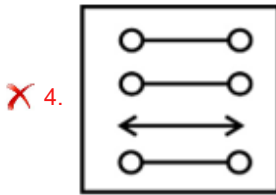
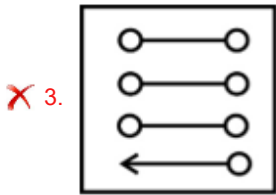
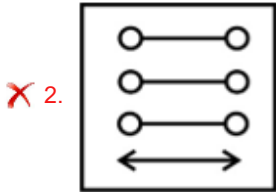
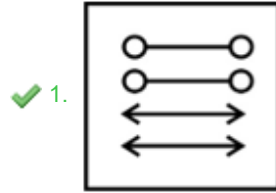
✗ 3. ODAF : GKLN

✗ 4. PORU : ZZOU

Q.11 Select the figure that will replace the question mark (?) in the following figure series.



Ans



Q.12 A series is given with one term missing. Select the correct alternative from the given ones that will complete the series.

MR, VA, EJ, NS, ?

Ans

✓ 1. WB

✗ 2. PR

✗ 3. WX

✗ 4. NQ

Q.13 Pointing towards a photo of a girl, Rakhi said, "She is daughter of my husband's wife". How is the girl related to Rakhi?

Ans

✓ 1. Daughter

✗ 2. Sister

✗ 3. Mother

✗ 4. Father's mother

Q.14 From the given option figures, select the one in which the question figure is hidden/embedded. (rotation is not allowed)



Ans

✗ 1.



✗ 2.



✓ 3.



✗ 4.



Q.15 Six houses Blue, Green, Red, Yellow, Orange, and Purple are arranged in a circle facing towards the center. The Blue house is second to the right of the Green house and opposite to the Orange house. The Yellow house is exactly between the Red and Orange houses. The Purple house is opposite to the Yellow house. Which house is to the immediate right of the Blue house?

Ans

✓ 1. Red

✗ 2. Purple

✗ 3. Yellow

✗ 4. Green

Q.16 In a certain code language, 'TOWARD' is coded as '962147', 'WANTED' is coded as '213957'. What can be the code for 'WARRANT' in that code language?

Ans

✗ 1. 2133129

✗ 2. 2144129

✗ 3. 2145129

✓ 4. 2144139

Q.17 Five persons Anuj, Bheem, Chetan, Dheer and Imran are sitting around a circular table facing towards the centre (not necessarily in the same order). Only one person is sitting between Chetan and Dheer. Bheem is sitting second to the left of Dheer. Anuj is sitting to the immediate right of Bheem. Who is sitting to the immediate right of Chetan?

Ans

✗ 1. Anuj

✓ 2. Bheem

✗ 3. Imran

✗ 4. Dheer

Q.18 In the following question, select the missing number from the given series.

75, 77, 81, 89, 105, ?

- Ans
- 1. 144
 - 2. 137
 - 3. 130
 - 4. 140

Q.19 Arrange the given words in alphabetical order:

1. MISSION
2. MISSED
3. MISSING
4. MIST
5. MIGHT

- Ans
- 1. 5, 1, 3, 4, 2
 - 2. 5, 4, 3, 2, 1
 - 3. 5, 4, 3, 1, 2
 - 4. 5, 2, 3, 1, 4

Q.20 If $59 * 60 \# 45 @ 5 = 128$ and $63 * 50 \# 48 @ 12 = 117$, then $79 * 30 \# 120 @ 20 = ?$

- Ans
- 1. 118
 - 2. 129
 - 3. 120
 - 4. 115

Section : Part-B-General Knowledge and General awareness

Q.1 The Eighth five year plan was finally launched in _____ after the initiation of structural adjustment policies.

- Ans
- 1. 1992
 - 2. 1989
 - 3. 1991
 - 4. 1990

Q.2 In a capitalist society the goods produced are distributed among people _____.

- Ans
- 1. only on the basis of what people need
 - 2. on the basis of what people need and on the basis of Purchasing Power
 - 3. not on the basis of Purchasing Power
 - 4. not on the basis of what people need but on the basis of Purchasing Power

Q.3 India became the winner of the Cricket World Cup for the first time in:

- Ans
- 1. 1983
 - 2. 1981
 - 3. 1999
 - 4. 1975

Q.4 A typical freestyle wrestling bout, is divided into _____ periods of three minutes each with a 30-second break in between.

- Ans
- 1. 4
 - 2. 5
 - 3. 2
 - 4. 3

Q.5 Which of the following articles of the Indian Constitution deals with the Indian Parliament?

- Ans
- 1. 40-70
 - 2. 12-40
 - 3. 79-122
 - 4. 1-12

Q.6 Megasthenes wrote about Pataliputra, saying that it is a large and beautiful city that is surrounded by a massive wall. It has 570 towers and _____ gates.

- Ans
- 1. 74
 - 2. 54
 - 3. 44
 - 4. 64

Q.7 Read the following about Commercial Banks in India.

- A. Commercial banks are the other type of institutions which are a part of the money-creating system of the economy.
B. They accept deposits from the public and lend out part of these funds to those who want to borrow.
Identify the INCORRECT statement/statements.

- Ans
- 1. Neither A nor B
 - 2. Only A
 - 3. Both A and B
 - 4. Only B

Q.8 Which of the following statement is correct regarding rate of diffusion of liquids?

I. Rate of diffusion of liquids is higher than that of solids.

II. This is due to the fact that in the liquid state, particles move freely and have greater space between each other as compared to particles in the solid state.

- Ans
- 1. Neither I nor II
 - 2. Only I
 - 3. Only II
 - 4. Both I and II

Q.9 Which of the following articles of Indian Constitution is related to the Fundamental Duties?

- Ans
- 1. Article 300A
 - 2. Article 51A
 - 3. Article 50
 - 4. Article 49

Q.10 In October 2022, Justice _____ has been appointed as the presiding officer of the Unlawful Activities (Prevention) tribunal by the government of India.

- Ans
- 1. Dinesh Kumar
 - 2. Krishna Khanna
 - 3. Ashok Bhushan
 - 4. Sanjay Kaul

Q.11 Which of the following dances is performed by women on various occasions to the beating of a drum in Madhya Pradesh?

- Ans
- 1. Matki dance
 - 2. Mundari
 - 3. Rouf
 - 4. Bhagoria

Q.12 _____ is a state or condition in which an individual or community lacks the financial resources and essentials for a minimum standard of living.

- Ans
- 1. Unemployment
 - 2. Poverty
 - 3. Unethical
 - 4. Illiteracy

Q.13 Who coined the term 'Evergreen Revolution' to increase agriculture production in India?

- Ans
- 1. Mahatma Gandhi
 - 2. Ram Manohar Lohiya
 - 3. R.V.Rao
 - 4. M.S.Swaminathan

Q.14 In which year was the first edition of the Indian Premier League (IPL) cricket tournament held?

- Ans
- 1. 2015
 - 2. 2003
 - 3. 2008
 - 4. 2018

Q.15 Who among the following was associated with the Young Bengal Movement?

- Ans
- 1. Henry Derozio
 - 2. Henry Thomas Colebrooke
 - 3. Charles Wood
 - 4. William Jones

Q.16 In May 2023, Praveen Sood, the Director General of Police in Karnataka, has been appointed as the next director of the _____.

- Ans
- 1. World Bank
 - 2. Central Bureau of Investigation (CBI)
 - 3. CRPF
 - 4. FBI

Q.17 Given among the options, _____ is a state/UT with highest literacy rate(census 2011).

- Ans
- 1. Goa
 - 2. Rajasthan
 - 3. Bihar
 - 4. Lakshadweep

Q.18 Which of the following state's government launches Bhagwan Birsa Munda Jodaraste Scheme to Connect Tribal Villages with Main Roads?

- Ans
- 1. Haryana
 - 2. Bihar
 - 3. Maharashtra
 - 4. West Bengal

Q.19 In which of the following states is the Hornbill festival celebrated?

- Ans
- 1. Nagaland
 - 2. Manipur
 - 3. Assam
 - 4. Mizoram

Q.20 Who of the following is famous for playing musical instrument Kanjira?

- Ans
- 1. Kishan Maharaj
 - 2. Pannalal Ghosh
 - 3. Pudukkotai Dakshinamurthi Pillai
 - 4. S.V. Rajarao

Q.1 What is the Least Common Multiple of $2^4 \times 3^3$, $2^5 \times 3^2$ and $2^5 \times 3^6$?

- Ans
- 1. 2^5
 - 2. $2^5 \times 3^6$
 - 3. $2^3 \times 3^5$
 - 4. $2^5 \times 3^5$

Q.2 Suresh sells a car at the loss of 36 percent. What will be the ratio of cost price to selling price?

- Ans
- 1. 16 : 25
 - 2. 15 : 16
 - 3. 25 : 16
 - 4. 4 : 5

Q.3 Town A had a population of 62500 in 2022. After one year the population of Town A increased to 75000. What is the percentage increase in the population?

- Ans
- 1. 30%
 - 2. 25%
 - 3. 15%
 - 4. 20%

Q.4 Find the sum required to earn a monthly interest of ₹ 350 at 7% per annum at simple interest.

- Ans
- 1. ₹ 50,000
 - 2. ₹ 60,000
 - 3. ₹ 65,000
 - 4. ₹ 55,000

Q.5 4 bells ring at intervals of 6, 8, 9 and 10 seconds. All the bells ring at the same time. After how many minutes will they ring together again?

- Ans
- 1. 15 min
 - 2. 10 min
 - 3. 8 min
 - 4. 6 min

Q.6 The population of a certain city increases by 5% in the first year and by another 8% in the second year. What is the overall percentage increase in the population?

- Ans
- 1. 18.3%
 - 2. 15.2%
 - 3. 13.0%
 - 4. 13.4%

Q.7 Two cars start from the same point and travel in opposite directions. If one car travels at 40 km/h and the other at 50 km/h, after 5 hours, how far apart are they?

- Ans
- 1. 450 km
 - 2. 480 km
 - 3. 410 km
 - 4. 460 km

Q.8 The difference between the compound interest (compounding half yearly) for 1 year and the simple interest for 1 year on a certain sum lent out at the annual rate of 30 percent is Rs. 337.5. What is the sum?

- Ans
- 1. Rs. 15000
 - 2. Rs. 18500
 - 3. Rs. 17000
 - 4. Rs. 17700

Q.9 Z1, Z2 and Z3 can do a work in 100, 50 and 75 days respectively. All three of them began the work together but Z2 left 15 days before the completion of the work. In how many days was the work completed?

- Ans
- 1. 30 days
 - 2. 45 days
 - 3. 35 days
 - 4. 40 days

Q.10 The marked price of an article is Rs. 640. If discount of 37.5 percent is given, then what will be the selling price of the article?

- Ans
- 1. Rs. 600
 - 2. Rs. 450
 - 3. Rs. 400
 - 4. Rs. 550

Q.11 What is the remainder when 58^{29} is divided by 5?

- Ans
- 1. 7
 - 2. 3
 - 3. 2
 - 4. 4

Q.12 The diameter of a hemisphere is 21 cm. What is the total surface area of the hemisphere?

- Ans
- 1. 1238.5 cm^2
 - 2. 790.5 cm^2
 - 3. 980.5 cm^2
 - 4. 1039.5 cm^2

Q.13 If $4M = 5N = 20C$, then what is the value of $M : N : C$?

- Ans
- 1. $5 : 4 : 3$
 - 2. $5 : 4 : 1$
 - 3. $7 : 5 : 4$
 - 4. $9 : 3 : 1$

Q.14 Average of five numbers is 36. The average of first two numbers is 1.5 times of the average of last three numbers. What is the sum of first two numbers?

- Ans
- 1. 85
 - 2. 79
 - 3. 78
 - 4. 90

Q.15 The difference between cost price and selling price is Rs. 132. If profit percentage is 20 percent, then what is the selling price?

- Ans
- 1. Rs. 760
 - 2. Rs. 822
 - 3. Rs. 802
 - 4. Rs. 792

Q.16 Aman can do a work in 28 days. What part of the total work can be done by Aman in 8 days?

- Ans
- 1. $\frac{3}{8}$
 - 2. $\frac{4}{7}$
 - 3. $\frac{2}{7}$
 - 4. $\frac{3}{7}$

Q.17 A toy originally costs \$25, but it's on sale with a 30% discount. What is the sale price?

- Ans
- 1. \$14.6
 - 2. \$17.5
 - 3. \$19.3
 - 4. \$13.8

Q.18 What is the value of $\sqrt{0.000081}$?

- Ans
- 1. 0.9
 - 2. 0.009
 - 3. 0.09
 - 4. 9.9

Q.19 If Rs.70,000 is distributed among A, B, and C such that $A:B = 2:3$ and $B:C = 4:5$, then find the share of A.

- Ans
- 1. Rs. 18,500
 - 2. Rs. 14,500
 - 3. Rs. 15,800
 - 4. Rs. 16,000

Q.20 What is the average of first 31 odd numbers?

- Ans
- 1. 37
 - 2. 33
 - 3. 31
 - 4. 32

Section : Part-D-English

Q.1 Choose the word that means the same as the given word.

Measure

- Ans
- 1. Diagnose
 - 2. Gauge
 - 3. Propel
 - 4. Deviation

Q.2 Choose the word that is opposite in meaning to the given word.

Noticeable

- Ans
- 1. Hail
 - 2. Taunt
 - 3. Dignified
 - 4. Hidden

Q.3 Find the part of the given sentence that has an error in it. If there is no error, choose 'No error'.

She cracked the most funniest joke at the party.

- Ans
- 1. joke at the party
 - 2. No error
 - 3. She cracked
 - 4. the most funniest

Q.4 Select the most appropriate meaning of the given idiom.

Mince Words

- Ans
- 1. Almost failing
 - 2. To find a way to deal with something.
 - 3. To speak vaguely or indirectly.
 - 4. Work not done for money.

Q.5 Choose the most appropriate antonym of the underlined word.

Before preservationists could put a stop to it, he and other looters had raided and destroyed precious relics buried at the site.

- Ans
- 1. Important
 - 2. Pet
 - 3. Dear
 - 4. Defective

Q.6 Choose the word that is opposite in meaning to the given word.

Spat

- Ans
- 1. Persuade
 - 2. Beguile
 - 3. Agree
 - 4. Nitpick

Q.7 Improve the underlined part of the sentence. Choose 'No improvement' as an answer if the sentence is grammatically correct.

The subway fare is go up next week.

- Ans
- 1. fare is going
 - 2. fare has been going
 - 3. fare has going
 - 4. No improvement

Q.8 Select the sentence with no spelling errors.

- Ans
- 1. The sick woman had raised herself upright, and was stretching her arms towards them.
 - 2. The sick woman had raised herself uprite, and was stretching her arms towards them.
 - 3. The sick woman had raised herself upright, and was stretching her arms towards them.
 - 4. The sick woman had raised herself upright, and was streching her arms towards them.

Q.9 Find the part of the given sentence that has an error in it. If there is no error, choose 'No error'.

Employees are working from home and shoppers are ordering groceries online to minimize time in crowded spaces.

- Ans
- 1. No error
 - 2. Employees are working from home and
 - 3. shoppers are ordering groceries online
 - 4. to minimise time in crowded spaces.

Q.10 Replace the bracketed word with one of the given options, which suitably replaces the word without changing the meaning of the sentence:

The mountaineers embarked on (an arduous) journey to conquer the formidable peak, facing treacherous terrain, extreme weather conditions, and physical exhaustion along the way.

- Ans**
- 1. an important
 - 2. a taxing
 - 3. a rewarding
 - 4. a severe

Q.11 Select the most appropriate word to fill in the blank.

_____! You can do it - it's as easy as pie.

- Ans**
- 1. Hush
 - 2. Wow
 - 3. Buck up
 - 4. Oh

Q.12 In the following question, out of the given four alternatives, select the alternative which best expresses the meaning of the Idiom/Phrase.

To raise the wind

- Ans**
- 1. To teach mannerism
 - 2. To obtain the necessary funds
 - 3. To head an army
 - 4. To release one's frustration

Q.13 Select the incorrectly spelt word from the given sentence.

The cats have the propensity to devour their babies if alarmed and so require a calm environment for breeding.

- Ans**
- 1. environment
 - 2. devour
 - 3. alarmed
 - 4. propensity

Q.14 Select the word segment that substitutes (replaces) the bracketed word segment correctly and completes the sentence meaningfully. Select the option 'no correction required' if the sentence is correct as given.

She (doesn't want to go on staring but it) was very difficult to turn her eyes away.

- Ans**
- 1. does wants to go on staring
 - 2. didn't want to go on staring but it
 - 3. do not wanted to go on staring but it
 - 4. No correction required

Q.15 Find the part of the given sentence that has an error in it. If there is no error, choose 'No error'.
Dr. Stone returned to the UK at January 2001 to begin data analysis.

- Ans**
- 1. No error
 - 2. to begin data analysis.
 - 3. the UK at January 2001
 - 4. Dr. Stone returned to

Comprehension:

Read the passage carefully and select the correct answer for the given blanks out of the four alternatives.

Photographs and videos showing people bursting firecrackers on the (1)_____ of Kedarnath temple are making the (2)_____ on social media. The video clip showed loud bangs of firecrackers, lights and clouds of (3)_____ along with the echo of the ringing temple bells, raising (4)_____ over the effect of such crackers in the geologically (5)_____ glacier region.

SubQuestion No : 16

Q.16 Select the most appropriate option for blank(1)

- Ans**
- 1. establishment
 - 2. plot
 - 3. layout
 - 4. premises

Comprehension:

Read the passage carefully and select the correct answer for the given blanks out of the four alternatives.

Photographs and videos showing people bursting firecrackers on the (1)_____ of Kedarnath temple are making the (2)_____ on social media. The video clip showed loud bangs of firecrackers, lights and clouds of (3)_____ along with the echo of the ringing temple bells, raising (4)_____ over the effect of such crackers in the geologically (5)_____ glacier region.

SubQuestion No : 17

Q.17 Select the most appropriate option for blank(2)

- Ans**
- 1. light
 - 2. Park
 - 3. circle
 - 4. rounds

Comprehension:

Read the passage carefully and select the correct answer for the given blanks out of the four alternatives.

Photographs and videos showing people bursting firecrackers on the (1)_____ of Kedarnath temple are making the (2)_____ on social media. The video clip showed loud bangs of firecrackers, lights and clouds of (3)_____ along with the echo of the ringing temple bells, raising (4)_____ over the effect of such crackers in the geologically (5)_____ glacier region.

SubQuestion No : 18

Q.18 Select the most appropriate option for blank(3)

- Ans**
- 1. smoke
 - 2. air
 - 3. water
 - 4. fire

Comprehension:

Read the passage carefully and select the correct answer for the given blanks out of the four alternatives.

Photographs and videos showing people bursting firecrackers on the (1)_____ of Kedarnath temple are making the (2)_____ on social media. The video clip showed loud bangs of firecrackers, lights and clouds of (3)_____ along with the echo of the ringing temple bells, raising (4)_____ over the effect of such crackers in the geologically (5)_____ glacier region.

SubQuestion No : 19

Q.19 Select the most appropriate option for blank(4)

- Ans**
- 1. subject
 - 2. amazement
 - 3. alarm
 - 4. anxiety

Comprehension:

Read the passage carefully and select the correct answer for the given blanks out of the four alternatives.

Photographs and videos showing people bursting firecrackers on the (1)_____ of Kedarnath temple are making the (2)_____ on social media. The video clip showed loud bangs of firecrackers, lights and clouds of (3)_____ along with the echo of the ringing temple bells, raising (4)_____ over the effect of such crackers in the geologically (5)_____ glacier region.

SubQuestion No : 20

Q.20 Select the most appropriate option for blank(5)

- Ans**
- 1. sensitive
 - 2. appeasing
 - 3. lofty
 - 4. rigorous

Q.1 निम्नलिखित प्रश्न में, चार विकल्पों में से, उस विकल्प का चयन करें जो रिक्त स्थान के लिए सही पुल्लिंग रूप वाला विकल्प हो।

हमें चावल-दाल के साथ _____ खाना चाहिए।

- Ans
- ✗ 1. मिठाई
 - ✗ 2. लस्सी
 - ✓ 3. घी
 - ✗ 4. चटनी

Q.2 निम्नलिखित प्रश्न में, चार विकल्पों में से, उस सही विकल्प का चयन करें जो वाक्यांशों के लिए एक शब्द का विकल्प हो।

अपना मतलब साधने वाला

- Ans
- ✓ 1. स्वार्थी
 - ✗ 2. उपही
 - ✗ 3. व्यापाद
 - ✗ 4. परमार्थी

Q.3 दिए गए वाक्य का वह भाग ज्ञात करें, जिसमें कोई त्रुटि है। यदि कोई त्रुटि नहीं है, तो 'कोई त्रुटि नहीं है' चुनें।
मैं ऐसा करना पहले से निश्चित कर रखा था।

- Ans
- ✗ 1. कोई त्रुटि नहीं है
 - ✗ 2. पहले से निश्चित
 - ✗ 3. कर रखा था।
 - ✓ 4. मैं ऐसा करना

Q.4 दिए गए विकल्पों में से तीन विकल्प शुद्ध वर्तनी वाले हैं, जबकि एक अशुद्ध वर्तनी वाला है। उस अशुद्ध वर्तनी वाले विकल्प का चयन करें।

- Ans
- ✗ 1. इससे आपका क्या तात्पर्य है?
 - ✗ 2. अगर साथ है तो सब संभव है।
 - ✗ 3. छवि कहाँ गई?
 - ✓ 4. बेमलतब की बात मत करो।

Q.5 निम्नलिखित प्रश्न में, चार विकल्पों में से, उस विकल्प का चयन करें जो दी गई लोकोक्ति का सही अर्थ वाला विकल्प है।
बारह बरस पीछे घूरे के भी दिन फिरते हैं

- Ans
- ✗ 1. जो वस्तु काम आ जाए वही अच्छी
 - ✗ 2. धन ही सबसे बड़ा होता है
 - ✗ 3. पिता से दुश्मनी और पुत्र से लगाव
 - ✓ 4. एक न एक दिन अच्छे दिन आ ही जाते हैं

Q.6 दिए गए वाक्य में उचित पर्यायवाची शब्द का चयन करके रिक्त स्थान की पूर्ति करें।

चारों बहनों की प्रॉपर्टी में _____ (भागीदारी) है।

- Ans
- ✗ 1. गिरावट
 - ✗ 2. वारण
 - ✓ 3. हिस्सेदारी
 - ✗ 4. अमीरी

Q.7 दिए गए वाक्य में उचित पर्यायवाची शब्द का चयन करके रिक्त स्थान की पूर्ति करें।

द्रौपदी का _____ (कपड़ा) हरण भरी सभा में हुआ था।

- Ans
- ✗ 1. वर्णन
 - ✓ 2. चीर
 - ✗ 3. गुण
 - ✗ 4. अस्त्र

Q.8 दिए गए वाक्य में रेखांकित शब्द का विलोम शब्द ज्ञात कीजिए।

भोर होते ही सब उठ गए।

- Ans
- ✗ 1. आकाशीय
 - ✗ 2. सुबह
 - ✓ 3. साँझ
 - ✗ 4. प्रभात

Q.9 निम्नलिखित प्रश्न में, दिए गए चार विकल्पों में से, उस विकल्प का चयन करें जो दिए गए मुहावरे के अर्थ को सर्वश्रेष्ठ रूप से व्यक्त करता है।

पानी की तरह बहाना

- Ans
- ✗ 1. नदी पार करना
 - ✓ 2. अँधाधुंध खर्च करना
 - ✗ 3. कीमती न होना
 - ✗ 4. नरम डील होना

Q.10 निम्नलिखित प्रश्न में, चार विकल्पों में से, उस सही विकल्प का चयन करें जो वाक्यांश के लिए एक शब्द का विकल्प हो।

जिससे किसी प्रकार की हानि नहीं हो

- Ans
- ✗ 1. निराधार
 - ✗ 2. निरामिष
 - ✗ 3. निराहार
 - ✓ 4. निरापद

Q.11 निम्नलिखित वाक्य में, उस वाक्यांश को पहचानिए जिसमें मात्राओं से संबंधित अशुद्धियाँ हैं। यदि कोई गलती नहीं है तो 'कोई त्रुटि नहीं है' का चुनाव कीजिए।

जो आदमी दूसरों के भावों का आदर/ करना नहीं जानता उससे दुसरे में भी सद्भावना/ की आशा नहीं करनी चाहिए।

- Ans
- ✗ 1. की आशा नहीं करनी चाहिए
 - ✗ 2. जो आदमी दूसरों के भावों का आदर
 - ✓ 3. करना नहीं जानता उससे दुसरे में भी सद्भावना
 - ✗ 4. कोई त्रुटि नहीं है

Q.12 दिए गए वाक्य में उचित देशज-विदेशज शब्द का चयन करके रिक्त स्थान की पूर्ति कीजिए।

कल उमा की _____ में पेशी है।

- Ans
- ✗ 1. इम्तिहान
 - ✗ 2. हाल
 - ✗ 3. तारीख
 - ✓ 4. अदालत

Q.13 निम्नलिखित प्रश्न में, चार विकल्पों में से, उस सही विकल्प का चयन करें जो वाक्यांशों के लिए एक शब्द का विकल्प हो।

सिर से पाँव तक

- Ans
- ✗ 1. आततायी
 - ✗ 2. आधोपांत
 - ✓ 3. आपादमस्तक
 - ✗ 4. आचारपूत

Q.14 निम्नलिखित प्रश्न में, चार विकल्पों में से, उस विकल्प का चयन करें जो कोष्ठक में दिए गए शब्द के तत्सम रूप का सही विकल्प है।

मेरे मामा के घर में एक बहुत ही सुंदर (घड़ी) _____ टंगी हुई है।

- Ans
- ✗ 1. घोटक
 - ✗ 2. घृत
 - ✗ 3. घट
 - ✓ 4. घटिका

Q.15 दिए गए शब्द का विलोम शब्द ज्ञात कीजिए।

ज्योति

- Ans
- ✓ 1. तम
 - ✗ 2. प्रकाश
 - ✗ 3. उजाला
 - ✗ 4. शीतलता

Comprehension:

नीचे दिए गये गद्यांश में कुछ शब्द छोड़ दिये गए हैं, प्रत्येक अनुच्छेद के सामने चार विकल्प दिए गए हैं। इस गद्यांश को ध्यानपूर्वक पढ़ें और चार विकल्पों में से सर्वोत्तम उत्तर वाला विकल्प चुनें।

शिक्षा से बढ़कर कोई ताकत नहीं होती है। शिक्षा मनुष्य को शिक्षित और _____ इंसान बनाती है। शिक्षा मनुष्य के व्यक्तित्व में सकारात्मक परिवर्तन लाती है। शिक्षित व्यक्ति _____ बनता है और परिवार के लिए रोजगार कर सकता है। लड़का और लड़की एक बराबर हैं। ऐसी कोई चीज़ नहीं जो लड़कियाँ नहीं कर सकती हैं। कई जगहों और क्षेत्रों में लड़कियों ने लड़कों की तुलना में अपने आपको _____ साबित किया है। देश की सम्पूर्ण उन्नति के लिए जितना लड़कों का शिक्षित होना आवश्यक है, उतना लड़कियों का शिक्षित होना ज़रूरी है। अगर पहले सदी से ही लड़कियों को भी उतनी सुविधाएं और सुअवसर दिए जाते, तो लड़कों की तरह, हर एक लड़की आज शिक्षित होती। लड़कियां आजकल शिक्षित हो रही हैं। लड़कियां कई सफल पद पर बड़े _____ और लगन के साथ काम कर रही हैं। कामकाजी महिलाएं दफ्तरों में काम कर रही हैं और घर भी संभाल रही हैं। लड़कियों से उनके पढ़ने का हक छीनना सरासर गलत है। कुछ परिवार लड़कों को कुल का दीपक समझते हैं, मगर घर की _____ तो लड़कियों से भी होती है।

SubQuestion No : 16

Q.16 शिक्षा मनुष्य को शिक्षित और _____ इंसान बनाती है।

- Ans
- ✓ 1. सभ्य
 - ✗ 2. अधीर
 - ✗ 3. अशिक्षित दोनों
 - ✗ 4. असभ्य

adda247

Comprehension:

नीचे दिए गये गद्यांश में कुछ शब्द छोड़ दिये गए हैं, प्रत्येक अनुच्छेद के सामने चार विकल्प दिए गए हैं। इस गद्यांश को ध्यानपूर्वक पढ़ें और चार विकल्पों में से सर्वोत्तम उत्तर वाला विकल्प चुनें।

शिक्षा से बढ़कर कोई ताकत नहीं होती है। शिक्षा मनुष्य को शिक्षित और _____ इंसान बनाती है। शिक्षा मनुष्य के व्यक्तित्व में सकारात्मक परिवर्तन लाती है। शिक्षित व्यक्ति _____ बनता है और परिवार के लिए रोजगार कर सकता है। लड़का और लड़की एक बराबर हैं। ऐसी कोई चीज़ नहीं जो लड़कियाँ नहीं कर सकती हैं। कई जगहों और क्षेत्रों में लड़कियों ने लड़कों की तुलना में अपने आपको _____ साबित किया है। देश की सम्पूर्ण उन्नति के लिए जितना लड़कों का शिक्षित होना आवश्यक है, उतना लड़कियों का शिक्षित होना ज़रूरी है। अगर पहले सदी से ही लड़कियों को भी उतनी सुविधाएं और सुअवसर दिए जाते, तो लड़कों की तरह, हर एक लड़की आज शिक्षित होती। लड़कियां आजकल शिक्षित हो रही हैं। लड़कियां कई सफल पद पर बड़े _____ और लगन के साथ काम कर रही हैं। कामकाजी महिलाएं दफ्तरों में काम कर रही हैं और घर भी संभाल रही हैं। लड़कियों से उनके पढ़ने का हक छीनना सरासर गलत है। कुछ परिवार लड़कों को कुल का दीपक समझते हैं, मगर घर की _____ तो लड़कियों से भी होती है।

SubQuestion No : 17

Q.17 शिक्षित व्यक्ति _____ बनता है और परिवार के लिए रोजगार कर सकता है।

- Ans
- ✗ 1. गैरजिम्मेदार
 - ✗ 2. पढ़ाकू
 - ✓ 3. जिम्मेदार
 - ✗ 4. बड़ा

Comprehension:

नीचे दिए गये गद्यांश में कुछ शब्द छोड़ दिये गए हैं, प्रत्येक अनुच्छेद के सामने चार विकल्प दिए गए हैं। इस गद्यांश को ध्यानपूर्वक पढ़ें और चार विकल्पों में से सर्वोत्तम उत्तर वाला विकल्प चुनें।

शिक्षा से बढ़कर कोई ताकत नहीं होती है। शिक्षा मनुष्य को शिक्षित और _____ इंसान बनाती है। शिक्षा मनुष्य के व्यक्तित्व में सकारात्मक परिवर्तन लाती है। शिक्षित व्यक्ति _____ बनता है और परिवार के लिए रोजगार कर सकता है। लड़का और लड़की एक बराबर हैं। ऐसी कोई चीज़ नहीं जो लड़कियाँ नहीं कर सकती हैं। कई जगहों और क्षेत्रों में लड़कियों ने लड़कों की तुलना में अपने आपको _____ साबित किया है। देश की सम्पूर्ण उन्नति के लिए जितना लड़कों का शिक्षित होना आवश्यक है, उतना लड़कियों का शिक्षित होना ज़रूरी है। अगर पहले सदी से ही लड़कियों को भी उतनी सुविधाएं और सुअवसर दिए जाते, तो लड़कों की तरह, हर एक लड़की आज शिक्षित होती। लड़कियां आजकल शिक्षित हो रही हैं। लड़कियां कई सफल पद पर बड़े _____ और लगन के साथ काम कर रही हैं। कामकाजी महिलाएं दफ्तरों में काम कर रही हैं और घर भी संभाल रही हैं। लड़कियों से उनके पढ़ने का हक छीनना सरासर गलत है। कुछ परिवार लड़कों को कुल का दीपक समझते हैं, मगर घर की _____ तो लड़कियों से भी होती है।

SubQuestion No : 18

Q.18 कई जगहों और क्षेत्रों में लड़कियों ने लड़कों की तुलना में अपने आपको _____ साबित किया है।

- Ans
- ✓ 1. बेहतर
 - ✗ 2. सुंदर
 - ✗ 3. मज़ेदार
 - ✗ 4. परिपूर्ण

Comprehension:

नीचे दिए गये गद्यांश में कुछ शब्द छोड़ दिये गए हैं, प्रत्येक अनुच्छेद के सामने चार विकल्प दिए गए हैं। इस गद्यांश को ध्यानपूर्वक पढ़ें और चार विकल्पों में से सर्वोत्तम उत्तर वाला विकल्प चुनें।

शिक्षा से बढ़कर कोई ताकत नहीं होती है। शिक्षा मनुष्य को शिक्षित और _____ इंसान बनाती है। शिक्षा मनुष्य के व्यक्तित्व में सकारात्मक परिवर्तन लाती है। शिक्षित व्यक्ति _____ बनता है और परिवार के लिए रोजगार कर सकता है। लड़का और लड़की एक बराबर हैं। ऐसी कोई चीज़ नहीं जो लड़कियाँ नहीं कर सकती हैं। कई जगहों और क्षेत्रों में लड़कियों ने लड़कों की तुलना में अपने आपको _____ साबित किया है। देश की सम्पूर्ण उन्नति के लिए जितना लड़कों का शिक्षित होना आवश्यक है, उतना लड़कियों का शिक्षित होना ज़रूरी है। अगर पहले सदी से ही लड़कियों को भी उतनी सुविधाएं और सुअवसर दिए जाते, तो लड़कों की तरह, हर एक लड़की आज शिक्षित होती। लड़कियां आजकल शिक्षित हो रही हैं। लड़कियां कई सफल पद पर बड़े _____ और लगन के साथ काम कर रही हैं। कामकाजी महिलाएं दफ्तरों में काम कर रही हैं और घर भी संभाल रही हैं। लड़कियों से उनके पढ़ने का हक छीनना सरासर गलत है। कुछ परिवार लड़कों को कुल का दीपक समझते हैं, मगर घर की _____ तो लड़कियों से भी होती है।

SubQuestion No : 19

Q.19 लड़कियां कई सफल पद पर बड़े _____ और लगन के साथ काम कर रही हैं।

- Ans
- 1. मस्ती
 - 2. आत्मविश्वास
 - 3. लोगों के साथ
 - 4. काम

Comprehension:

नीचे दिए गये गद्यांश में कुछ शब्द छोड़ दिये गए हैं, प्रत्येक अनुच्छेद के सामने चार विकल्प दिए गए हैं। इस गद्यांश को ध्यानपूर्वक पढ़ें और चार विकल्पों में से सर्वोत्तम उत्तर वाला विकल्प चुनें।

शिक्षा से बढ़कर कोई ताकत नहीं होती है। शिक्षा मनुष्य को शिक्षित और _____ इंसान बनाती है। शिक्षा मनुष्य के व्यक्तित्व में सकारात्मक परिवर्तन लाती है। शिक्षित व्यक्ति _____ बनता है और परिवार के लिए रोजगार कर सकता है। लड़का और लड़की एक बराबर हैं। ऐसी कोई चीज़ नहीं जो लड़कियाँ नहीं कर सकती हैं। कई जगहों और क्षेत्रों में लड़कियों ने लड़कों की तुलना में अपने आपको _____ साबित किया है। देश की सम्पूर्ण उन्नति के लिए जितना लड़कों का शिक्षित होना आवश्यक है, उतना लड़कियों का शिक्षित होना ज़रूरी है। अगर पहले सदी से ही लड़कियों को भी उतनी सुविधाएं और सुअवसर दिए जाते, तो लड़कों की तरह, हर एक लड़की आज शिक्षित होती। लड़कियां आजकल शिक्षित हो रही हैं। लड़कियां कई सफल पद पर बड़े _____ और लगन के साथ काम कर रही हैं। कामकाजी महिलाएं दफ्तरों में काम कर रही हैं और घर भी संभाल रही हैं। लड़कियों से उनके पढ़ने का हक छीनना सरासर गलत है। कुछ परिवार लड़कों को कुल का दीपक समझते हैं, मगर घर की _____ तो लड़कियों से भी होती है।

SubQuestion No : 20

Q.20 कुछ परिवार लड़कों को कुल का दीपक समझते हैं, मगर घर की _____ तो लड़कियों से भी होती है।

- Ans
- 1. सफाई
 - 2. रोशनी
 - 3. कमाई
 - 4. दिवाली