

# Education Consultant India Ltd.

## Notations :

- 1.Options shown in green color and with ✓ icon are correct.
- 2.Options shown in red color and with ✗ icon are incorrect.

<b>Question Paper Name :</b>	Junior Assistant 3
<b>Subject Name :</b>	Junior Assistant
<b>Creation Date :</b>	2021-08-21 19:42:16
<b>Duration :</b>	120
<b>Total Marks :</b>	200
<b>Display Marks:</b>	Yes
<b>Calculator :</b>	None
<b>Magnifying Glass Required? :</b>	No
<b>Ruler Required? :</b>	No
<b>Eraser Required? :</b>	No
<b>Scratch Pad Required? :</b>	No
<b>Rough Sketch/Notepad Required? :</b>	No
<b>Protractor Required? :</b>	No
<b>Show Watermark on Console? :</b>	Yes
<b>Highlighter :</b>	No
<b>Auto Save on Console? ( SA type of questions will be always auto saved ) :</b>	No

## General Ability1

<b>Group Number :</b>	1
<b>Group Id :</b>	275228203
<b>Group Maximum Duration :</b>	0
<b>Group Minimum Duration :</b>	0

Show Attended Group? :	No
Edit Attended Group? :	No
Break time :	0
Group Marks :	20
Is this Group for Examiner? :	No

## General Ability1

Section Id :	275228305
Section Number :	1
Section type :	Online
Mandatory or Optional :	Mandatory
Number of Questions :	20
Number of Questions to be attempted :	20
Section Marks :	20
Enable Mark as Answered Mark for Review and Clear Response :	Yes
Sub-Section Number :	1
Sub-Section Id :	275228366
Question Shuffling Allowed :	Yes

**Question Number : 1 Question Id : 2752285832 Question Type : MCQ Option Shuffling : Yes Is Question Mandatory : No Option Orientation : Vertical**

**Correct Marks : 1 Wrong Marks : 0.25**

When we arrange the letters of the word 'ASLITARUA', we get the name of a country. The third letter from right will be \_\_\_\_\_.

**Options :**

1. ✓ L
2. ✗ S
3. ✗ T
4. ✗ A

**Question Number : 1 Question Id : 2752285832 Question Type : MCQ Option Shuffling : Yes Is Question Mandatory : No Option Orientation : Vertical**

**Correct Marks : 1 Wrong Marks : 0.25**

जब हम 'ASLITARUA' शब्द के अक्षरों को व्यवस्थित करते हैं, तो हमें एक देश का नाम मिलता है। दाईं ओर से तीसरा अक्षर \_\_\_\_\_ होगा।

**Options :**

1. ✓ L
2. ✗ S
3. ✗ T
4. ✗ A

**Question Number : 2 Question Id : 2752285833 Question Type : MCQ Option Shuffling : Yes Is Question Mandatory : No Option Orientation : Vertical**

**Correct Marks : 1 Wrong Marks : 0.25**

In the following question, one of the option cannot be formed by the word, given in the question. Find that word.

SABOTAGE

**Options :**

1. ✗ STAGE
2. ✗ GATES
3. ✗ BEAST
4. ✓ TABLE

**Question Number : 2 Question Id : 2752285833 Question Type : MCQ Option Shuffling : Yes Is Question Mandatory : No Option Orientation : Vertical**

**Correct Marks : 1 Wrong Marks : 0.25**

निम्नलिखित प्रश्न में, प्रश्न में दिए गए शब्द द्वारा, विकल्प में से एक का गठन नहीं किया जा सकता है। उस शब्द को ज्ञात करें।

SABOTAGE

**Options :**

1. ✗ STAGE
2. ✗ GATES
3. ✗ BEAST
4. ✓ TABLE

**Question Number : 3 Question Id : 2752285834 Question Type : MCQ Option Shuffling : Yes Is Question Mandatory : No Option**

**Orientation : Vertical**

**Correct Marks : 1 Wrong Marks : 0.25**

Complete the following letter series:

XAD, FIL, NQT, VYB, \_\_\_\_\_

**Options :**

1. ✘ FIL
2. ✘ CHK
3. ✔ DGJ
4. ✘ EFM

**Question Number : 3 Question Id : 2752285834 Question Type : MCQ Option Shuffling : Yes Is Question Mandatory : No Option**

**Orientation : Vertical**

**Correct Marks : 1 Wrong Marks : 0.25**

निम्नलिखित अक्षर श्रृंखला को पूरा करें:

XAD, FIL, NQT, VYB, \_\_\_\_\_

**Options :**

1. ✘ FIL
2. ✘ CHK
3. ✔ DGJ
4. ✘ EFM

**Question Number : 4 Question Id : 2752285835 Question Type : MCQ Option Shuffling : Yes Is Question Mandatory : No Option**

**Orientation : Vertical**

**Correct Marks : 1 Wrong Marks : 0.25**

Find the wrong term in the following series:

BDA, CEZ, FHU, GIV, JLS

**Options :**

1. ✘ CEZ
2. ✔ FHU
3. ✘ GIV

4. ✖ JLS

**Question Number : 4 Question Id : 2752285835 Question Type : MCQ Option Shuffling : Yes Is Question Mandatory : No Option Orientation : Vertical**

**Correct Marks : 1 Wrong Marks : 0.25**

निम्नलिखित श्रृंखला में गलत पद ज्ञात करें:

BDA, CEZ, FHU, GIV, JLS

**Options :**

1. ✖ CEZ
2. ✔ FHU
3. ✖ GIV
4. ✖ JLS

**Question Number : 5 Question Id : 2752285836 Question Type : MCQ Option Shuffling : Yes Is Question Mandatory : No Option Orientation : Vertical**

**Correct Marks : 1 Wrong Marks : 0.25**

Out of the given options, three are similar in a certain manner. However, one option is NOT like the other three. Select the option which is different from the rest.

**Options :**

1. ✖ ER : IV
2. ✔ PS : TU
3. ✖ UA : YE
4. ✖ LS : PW

**Question Number : 5 Question Id : 2752285836 Question Type : MCQ Option Shuffling : Yes Is Question Mandatory : No Option Orientation : Vertical**

**Correct Marks : 1 Wrong Marks : 0.25**

दिए गए विकल्पों में से, तीन एक निश्चित तरीके से समान हैं। हालाँकि, एक विकल्प अन्य तीन की तरह नहीं है। उस विकल्प का चयन करें जो अन्य से अलग है।

**Options :**

1. ✖ ER : IV
2. ✔ PS : TU

3. ✖ UA : YE

4. ✖ LS : PW

**Question Number : 6 Question Id : 2752285837 Question Type : MCQ Option Shuffling : Yes Is Question Mandatory : No Option Orientation : Vertical**

**Correct Marks : 1 Wrong Marks : 0.25**

Out of the given options, three are similar in a certain manner. However, one option is NOT like the other three. Select the option which is different from the rest.

**Options :**

1. ✖ Fawn

2. ✖ Lamb

3. ✖ Cub

4. ✔ Buffalo

**Question Number : 6 Question Id : 2752285837 Question Type : MCQ Option Shuffling : Yes Is Question Mandatory : No Option Orientation : Vertical**

**Correct Marks : 1 Wrong Marks : 0.25**

दिए गए विकल्पों में से, तीन एक निश्चित तरीके से समान हैं। हालाँकि, एक विकल्प अन्य तीन की तरह नहीं है। उस विकल्प का चयन करें जो अन्य से अलग है।

**Options :**

1. ✖ मृगछौना

2. ✖ मेमना

3. ✖ शिशुचर

4. ✔ भैंस

**Question Number : 7 Question Id : 2752285838 Question Type : MCQ Option Shuffling : Yes Is Question Mandatory : No Option Orientation : Vertical**

**Correct Marks : 1 Wrong Marks : 0.25**

Out of the given options, three are similar in a certain manner. However, one option is NOT like the other three. Select the option which is different from the rest.

**Options :**

1. ✖ Doctor : Hospital

2. ✖ Gambler : Casino

3. ✓ Waiter : Kitchen

4. ✗ Lawyer : Court

**Question Number : 7 Question Id : 2752285838 Question Type : MCQ Option Shuffling : Yes Is Question Mandatory : No Option Orientation : Vertical**

**Correct Marks : 1 Wrong Marks : 0.25**

दिए गए विकल्पों में से, तीन एक निश्चित तरीके से समान हैं। हालाँकि, एक विकल्प अन्य तीन की तरह नहीं है। उस विकल्प का चयन करें जो अन्य से अलग है।

**Options :**

1. ✗ डॉक्टर : चिकित्सक

2. ✗ जुआरी : जुआघर

3. ✓ बैरा : रसोईघर

4. ✗ वकील : न्यायालय

**Question Number : 8 Question Id : 2752285839 Question Type : MCQ Option Shuffling : Yes Is Question Mandatory : No Option Orientation : Vertical**

**Correct Marks : 1 Wrong Marks : 0.25**

Out of the given options, three are similar in a certain manner. However, one option is NOT like the other three. Select the option which is different from the rest.

**Options :**

1. ✓ MQJ

2. ✗ KOG

3. ✗ PTL

4. ✗ UYQ

**Question Number : 8 Question Id : 2752285839 Question Type : MCQ Option Shuffling : Yes Is Question Mandatory : No Option Orientation : Vertical**

**Correct Marks : 1 Wrong Marks : 0.25**

दिए गए विकल्पों में से, तीन एक निश्चित तरीके से समान हैं। हालाँकि, एक विकल्प अन्य तीन की तरह नहीं है। उस विकल्प का चयन करें जो अन्य से अलग है।

**Options :**

1. ✓ MQJ

2. ✗ KOG

3. ✗ PTL

4. ✖ UYQ

**Question Number : 9 Question Id : 2752285840 Question Type : MCQ Option Shuffling : Yes Is Question Mandatory : No Option Orientation : Vertical**

**Correct Marks : 1 Wrong Marks : 0.25**

Select the option that is related to the third term on the same basis as the second term is related to the first term.

Calculus : Mathematics :: Botany : ?

**Options :**

1. ✔ Science
2. ✖ Chemistry
3. ✖ Animals
4. ✖ Zoology

**Question Number : 9 Question Id : 2752285840 Question Type : MCQ Option Shuffling : Yes Is Question Mandatory : No Option Orientation : Vertical**

**Correct Marks : 1 Wrong Marks : 0.25**

उस विकल्प का चयन करें जो तीसरे पद से उसी प्रकार से संबंधित है जिस प्रकार से दूसरा पद पहले पद से संबंधित है।

कलन : गणित :: वनस्पति विज्ञान : ?

**Options :**

1. ✔ विज्ञान
2. ✖ रसायन विज्ञान
3. ✖ पशुओं
4. ✖ प्राणिविज्ञान

**Question Number : 10 Question Id : 2752285841 Question Type : MCQ Option Shuffling : Yes Is Question Mandatory : No Option Orientation : Vertical**

**Correct Marks : 1 Wrong Marks : 0.25**

Select the option that is related to the third term on the same basis as the second term is related to the first term.

ILD : LOG :: ATH : ?

**Options :**



1. ✘ EWL
2. ✘ ESL
3. ✘ CXL
4. ✔ DWK

**Question Number : 10 Question Id : 2752285841 Question Type : MCQ Option Shuffling : Yes Is Question Mandatory : No Option Orientation : Vertical**

**Correct Marks : 1 Wrong Marks : 0.25**

उस विकल्प का चयन करें जो तीसरे पद से उसी प्रकार से संबंधित है जिस प्रकार से दूसरा पद पहले पद से संबंधित है।

ILD : LOG :: ATH : ?

**Options :**

1. ✘ EWL
2. ✘ ESL
3. ✘ CXL
4. ✔ DWK

**Question Number : 11 Question Id : 2752285842 Question Type : MCQ Option Shuffling : Yes Is Question Mandatory : No Option Orientation : Vertical**

**Correct Marks : 1 Wrong Marks : 0.25**

Select the option that is related to the third term on the same basis as the second term is related to the first term.

Quadrilateral : 4 :: Heptagon : ?

**Options :**

1. ✘ 6
2. ✘ 5
3. ✔ 7
4. ✘ 8

**Question Number : 11 Question Id : 2752285842 Question Type : MCQ Option Shuffling : Yes Is Question Mandatory : No Option Orientation : Vertical**

**Correct Marks : 1 Wrong Marks : 0.25**

उस विकल्प का चयन करें जो तीसरे पद से उसी प्रकार से संबंधित है जिस प्रकार से दूसरा पद पहले पद से संबंधित है।

चतुर्भुज : 4 :: सप्तभुज : ?

**Options :**

1. ✘ 6
2. ✘ 5
3. ✔ 7
4. ✘ 8

**Question Number : 12 Question Id : 2752285843 Question Type : MCQ Option Shuffling : Yes Is Question Mandatory : No Option Orientation : Vertical**

**Correct Marks : 1 Wrong Marks : 0.25**

Select the option that is related to the third term on the same basis as the second term is related to the first term.

ENV : IJZ :: ?

**Options :**

1. ✘ JMV : NQB
2. ✔ DKQ : HGU
3. ✘ AIC : DKG
4. ✘ RKC : UMF

**Question Number : 12 Question Id : 2752285843 Question Type : MCQ Option Shuffling : Yes Is Question Mandatory : No Option Orientation : Vertical**

**Correct Marks : 1 Wrong Marks : 0.25**

उस विकल्प का चयन करें जो तीसरे पद से उसी प्रकार से संबंधित है जिस प्रकार से दूसरा पद पहले पद से संबंधित है।

ENV : IJZ :: ?

**Options :**

1. ✘ JMV : NQB
2. ✔ DKQ : HGU
3. ✘ AIC : DKG
4. ✘ RKC : UMF

**Question Number : 13 Question Id : 2752285844 Question Type : MCQ Option Shuffling : Yes Is Question Mandatory : No Option Orientation : Vertical**

**Correct Marks : 1 Wrong Marks : 0.25**

If bed is cupboard, cupboard is shoe rack, shoe rack is mirror, mirror is clock, clock is television, television is sofa, then we can see our reflection in \_\_\_\_\_.

**Options :**

1. ✘ mirror
2. ✔ clock
3. ✘ television
4. ✘ sofa

**Question Number : 13 Question Id : 2752285844 Question Type : MCQ Option Shuffling : Yes Is Question Mandatory : No Option Orientation : Vertical**

**Correct Marks : 1 Wrong Marks : 0.25**

यदि बिस्तर अलमारी है, अलमारी जूते का रैक है, जूते का रैक दर्पण है, दर्पण घड़ी है, घड़ी टेलीविज़न है, टेलीविज़न सोफा है, तो हम अपने प्रतिबिंब को \_\_\_\_\_ में देख सकते हैं।

**Options :**

1. ✘ दर्पण
2. ✔ घड़ी
3. ✘ टेलीविज़न
4. ✘ सोफा

**Question Number : 14 Question Id : 2752285845 Question Type : MCQ Option Shuffling : Yes Is Question Mandatory : No Option Orientation : Vertical**

**Correct Marks : 1 Wrong Marks : 0.25**

If LUCKY is coded as 33327, then what is the code for BRAND?

**Options :**

1. ✘ 37265
2. ✘ 36354
3. ✘ 28144
4. ✔ 29154

**Question Number : 14 Question Id : 2752285845 Question Type : MCQ Option Shuffling : Yes Is Question Mandatory : No Option Orientation : Vertical**

**Correct Marks : 1 Wrong Marks : 0.25**

यदि LUCKY को 33327 के रूप में कोडित किया गया है, तो BRAND के लिए कोड क्या है?

**Options :**

1. ✘ 37265
2. ✘ 36354
3. ✘ 28144
4. ✔ 29154

**Question Number : 15 Question Id : 2752285846 Question Type : MCQ Option Shuffling : Yes Is Question Mandatory : No Option Orientation : Vertical**

**Correct Marks : 1 Wrong Marks : 0.25**

If ICECREAM is coded as LAHAUCDK, then what is the code for FATHER?

**Options :**

1. ✘ MUPKCT
2. ✔ IYWFHP
3. ✘ JZXGIQ
4. ✘ KXUHKR

**Question Number : 15 Question Id : 2752285846 Question Type : MCQ Option Shuffling : Yes Is Question Mandatory : No Option Orientation : Vertical**

**Correct Marks : 1 Wrong Marks : 0.25**

यदि ICECREAM को LAHAUCDK के रूप में कोडित किया गया है, तो FATHER के लिए कोड क्या है?

**Options :**

1. ✘ MUPKCT
2. ✔ IYWFHP
3. ✘ JZXGIQ
4. ✘ KXUHKR

**Question Number : 16 Question Id : 2752285847 Question Type : MCQ Option Shuffling : Yes Is Question Mandatory : No Option Orientation : Vertical**

**Correct Marks : 1 Wrong Marks : 0.25**

In a certain code language,  
min tin zin means uber is taxi,  
zin jin bin means sunflower is yellow,  
jin min means yellow taxi,  
what is the code for 'sunflower'?

**Options :**

1. ✘ zin
2. ✘ jin
3. ✔ bin
4. ✘ tin

**Question Number : 16 Question Id : 2752285847 Question Type : MCQ Option Shuffling : Yes Is Question Mandatory : No Option Orientation : Vertical**

**Correct Marks : 1 Wrong Marks : 0.25**

एक निश्चित कोड भाषा में,  
min tin zin का अर्थ है uber is taxi,  
zin jin bin का अर्थ है sunflower is yellow,  
jin min का अर्थ है yellow taxi,  
'sunflower' के लिए कोड क्या है?

**Options :**

1. ✘ zin
2. ✘ jin
3. ✔ bin
4. ✘ tin

**Question Number : 17 Question Id : 2752285848 Question Type : MCQ Option Shuffling : Yes Is Question Mandatory : No Option Orientation : Vertical**

**Correct Marks : 1 Wrong Marks : 0.25**

Arrange the following in a logical sequence:

1. Chief executive officer (CEO)
2. Assistant Manager
3. Clerk

4. Manager
5. Senior Manager

**Options :**

1. ✘ 5, 4, 2, 3, 1
2. ✘ 2, 3, 5, 4, 1
3. ✘ 4, 3, 2, 5, 1
4. ✔ 3, 2, 4, 5, 1

**Question Number : 17 Question Id : 2752285848 Question Type : MCQ Option Shuffling : Yes Is Question Mandatory : No Option Orientation : Vertical**

**Correct Marks : 1 Wrong Marks : 0.25**

निम्नलिखित को तार्किक क्रम में व्यवस्थित करें:

1. मुख्य कार्यकारी अधिकारी (CEO)
2. सहायक प्रबंधक
3. क्लर्क
4. प्रबंधक
5. वरिष्ठ प्रबंधक

**Options :**

1. ✘ 5, 4, 2, 3, 1
2. ✘ 2, 3, 5, 4, 1
3. ✘ 4, 3, 2, 5, 1
4. ✔ 3, 2, 4, 5, 1

**Question Number : 18 Question Id : 2752285849 Question Type : MCQ Option Shuffling : Yes Is Question Mandatory : No Option Orientation : Vertical**

**Correct Marks : 1 Wrong Marks : 0.25**

Ashish, Binita, Sachin, Diksha, Esha and Manish are friends. Ashish and Sachin belong to Green House, while others belong to Blue House. Diksha and Manish are smart, while others are not. Sachin and Diksha are wearing watches, while others are not wearing. Who among the following belongs to Blue House, is smart and wearing watch?

**Options :**

1. ✔ Diksha
2. ✘ Binita

3. ✖ Sachin
4. ✖ Manish

**Question Number : 18 Question Id : 2752285849 Question Type : MCQ Option Shuffling : Yes Is Question Mandatory : No Option Orientation : Vertical**

**Correct Marks : 1 Wrong Marks : 0.25**

आशीष, बिनीता, सचिन, दीक्षा, एशा और मनीष दोस्त हैं। आशीष और सचिन ग्रीन हाउस से संबंधित हैं, जबकि अन्य ब्लू हाउस से संबंधित हैं। दीक्षा और मनीष चतुर हैं, जबकि अन्य नहीं हैं। सचिन और दीक्षा ने घड़ी पहनी है, जबकि अन्य ने नहीं पहनी है। निम्नलिखित में से कौन ब्लू हाउस से संबंधित है, जो चतुर है और घड़ी पहनी है?

**Options :**

1. ✔ दीक्षा
2. ✖ बिनीता
3. ✖ सचिन
4. ✖ मनीष

**Question Number : 19 Question Id : 2752285850 Question Type : MCQ Option Shuffling : Yes Is Question Mandatory : No Option Orientation : Vertical**

**Correct Marks : 1 Wrong Marks : 0.25**

JKL Company is looking for the post of financial analyst. The candidate must:

1. Have completed CA.
2. Have 2 years of relevant experience.
3. Be 27 years old as on 1/1/2020
4. Sign a bond of 2 years with the company.

The following exceptions apply:

- A. If a candidate meets all other criteria except 3 above, the candidate will be referred to the Manager.
- B. If a candidate meets all other criteria except 4, but he is ready to pay a compensation of Rs 1,00,000 if he leaves the firm before 2 years, then he will be referred to the Assistant Manager.

Aman is a qualified CFA and CA. He has been working for 4 years in an MNC. He was born on 4/01/1995. He is ready to sign the bond with the company.

What decision should be taken about this candidate?

**Options :**

1. ✘ The candidate should be selected.
2. ✘ The candidateshould be rejected.
3. ✘ The candidate should be referred to the Assistant Manager.
4. ✔ The candidate should be referred to the Manager.

**Question Number : 19 Question Id : 2752285850 Question Type : MCQ Option Shuffling : Yes Is Question Mandatory : No Option Orientation : Vertical**

**Correct Marks : 1 Wrong Marks : 0.25**

JKL कंपनी वित्तीय विश्लेषक के पद के लिए खोज कर रही है। उम्मीदवार को:

1. CA पूरा किया होना चाहिए।
2. 2 वर्ष प्रासंगिक अनुभव होना चाहिए।
3. 1/1/2020 तक 27 वर्ष का होना चाहिए
4. कंपनी के साथ 2 वर्ष का बॉन्ड साइन करना होगा।

निम्नलिखित अपवाद लागू होते हैं:

- A. यदि कोई उम्मीदवार उपरोक्त 3 को छोड़कर अन्य सभी मानदंडों को पूरा करता है, तो उम्मीदवार को प्रबंधक को संदर्भित किया जाएगा।
- B. यदि कोई उम्मीदवार 4 को छोड़कर अन्य सभी मानदंडों को पूरा करता है, लेकिन यदि वह 2 वर्ष से पहले फर्म को छोड़ देता है, तो वह 1,00,000 रुपए का मुआवजा देने के लिए तैयार है, तो उसे सहायक प्रबंधक को संदर्भित किया जाएगा।

अमन एक अर्हता प्राप्त (क्वालिफाइड) CFA और CA है। वह एक MNC में 4 वर्ष से काम कर रहा है। उसका जन्म 4/01/1995 को हुआ था। वह कंपनी के साथ बॉन्ड पर हस्ताक्षर करने के लिए तैयार है।

इस उम्मीदवार के बारे में क्या निर्णय लिया जाना चाहिए?

**Options :**

1. ✘ उम्मीदवार का चयन किया जाना चाहिए।
2. ✘ उम्मीदवार को अस्वीकृत किया जाना चाहिए।
3. ✘ उम्मीदवार को सहायक प्रबंधक को संदर्भित किया जाना चाहिए।
4. ✔ उम्मीदवार को प्रबंधक को संदर्भित किया जाना चाहिए।

**Question Number : 20 Question Id : 2752285851 Question Type : MCQ Option Shuffling : Yes Is Question Mandatory : No Option Orientation : Vertical**

**Correct Marks : 1 Wrong Marks : 0.25**



Nayantika, Garima, Yashi, Fiza, Kishore and Rashmi are sitting in a circle facing the centre. Garima is to the right of Kishore who is facing Yashi. Garima is opposite Nayantika, Yashi and Fiza are sitting next to each other. Who is to the left of Rashmi?

**Options :**

1. ✘ Kishore
2. ✘ Fiza
3. ✔ Nayantika
4. ✘ Garima

**Question Number : 20 Question Id : 2752285851 Question Type : MCQ Option Shuffling : Yes Is Question Mandatory : No Option Orientation : Vertical**

**Correct Marks : 1 Wrong Marks : 0.25**

नयनतिका, गरिमा, यशी, फ़िज़ा, किशोर और रश्मि केंद्र की तरफ मुँह करके एक घेरे में बैठे हैं। गरिमा किशोर की दाईं ओर है जो यशी की तरफ मुँह करके बैठा है। गरिमा नयनतिका के विपरीत है, यशी और फ़िज़ा एक दूसरे के बगल में बैठे हैं। रश्मि के बाईं ओर कौन है?

**Options :**

1. ✘ किशोर
2. ✘ फ़िज़ा
3. ✔ नयनतिका
4. ✘ गरिमा

## General Ability2

Group Number :	2
Group Id :	275228204
Group Maximum Duration :	0
Group Minimum Duration :	0
Show Attended Group? :	No
Edit Attended Group? :	No
Break time :	0
Group Marks :	20
Is this Group for Examiner? :	No

## General Ability2

Section Id :	275228306
Section Number :	1
Section type :	Online
Mandatory or Optional :	Mandatory
Number of Questions :	20
Number of Questions to be attempted :	20
Section Marks :	20
Enable Mark as Answered Mark for Review and Clear Response :	Yes
Sub-Section Number :	1
Sub-Section Id :	275228367
Question Shuffling Allowed :	Yes

**Question Number : 21 Question Id : 2752285852 Question Type : MCQ Option Shuffling : Yes Is Question Mandatory : No Option Orientation : Vertical**

**Correct Marks : 1 Wrong Marks : 0.25**

In the question one statement is given, followed by two conclusions, I and II. You have to consider the statements to be true even if it seems to be at variance from commonly known facts. You have to decide which of the given conclusions, if any, follows from the given statement.

Statement: 80 Percent of the students studying in class VIII A passed the final examination.

Conclusion I : Harsh, who is a student of class VIII A, passed in the final examination.

Conclusion II : Harsh, who is a student of class VIII A, failed in the final examination.

**Options :**

- ✘ Only conclusion I follows
- ✘ Only conclusion II follows
- ✔ Either conclusion I or II follows
- ✘ Neither conclusion I nor II follows

**Question Number : 21 Question Id : 2752285852 Question Type : MCQ Option Shuffling : Yes Is Question Mandatory : No Option Orientation : Vertical**

**Correct Marks : 1 Wrong Marks : 0.25**

प्रश्न में एक कथन दिया गया है, जिसके बाद दो निष्कर्ष I और II दिए गए हैं। आपको उन कथनों को सत्य मानना है, भले ही यह सामान्यतः ज्ञात तथ्य से भिन्न प्रतीत हो। आपको यह निर्णय लेना है कि दिए गए निष्कर्षों में से कौन सा, यदि कोई हो, तो दिए गए कथन का अनुसरण करता है।

कथन: कक्षा VIII A में पढ़ने वाले 80 प्रतिशत छात्र अंतिम परीक्षा में उत्तीर्ण हुए।

निष्कर्ष I: हर्ष, जो कक्षा VIII A का छात्र है, अंतिम परीक्षा में उत्तीर्ण हुआ।

निष्कर्ष II: हर्ष, जो कक्षा VIII A का छात्र है, अंतिम परीक्षा में विफल हुआ।

**Options :**

1. ✘ केवल निष्कर्ष I अनुसरण करता है
2. ✘ केवल निष्कर्ष II अनुसरण करता है
3. ✔ निष्कर्ष I या II अनुसरण करता है
4. ✘ न निष्कर्ष I और न ही II अनुसरण करता है

**Question Number : 22 Question Id : 2752285853 Question Type : MCQ Option Shuffling : Yes Is Question Mandatory : No Option Orientation : Vertical**

**Correct Marks : 1 Wrong Marks : 0.25**

In the question two statements are given, followed by two conclusions, I and II. You have to consider the statements to be true even if it seems to be at variance from commonly known facts. You have to decide which of the given conclusions, if any, follows from the given statements.

Statement 1 : No doctors are engineers.

Statement 2 : Some engineers are chef.

Conclusion I : Some chef are doctors.

Conclusion II : No engineers are doctors.

**Options :**

1. ✘ Only conclusion I follows
2. ✔ Only conclusion II follows
3. ✘ Both conclusions I and II follows
4. ✘ Neither conclusion I nor II follows

**Question Number : 22 Question Id : 2752285853 Question Type : MCQ Option Shuffling : Yes Is Question Mandatory : No Option Orientation : Vertical**

**Correct Marks : 1 Wrong Marks : 0.25**

प्रश्न में दो कथन दिए गए हैं, जिसके बाद दो निष्कर्ष I और II दिए गए हैं। आपको उन कथनों को सत्य मानना है, भले ही यह सामान्यतः ज्ञात तथ्य से भिन्न प्रतीत हो। आपको यह निर्णय लेना है कि दिए गए निष्कर्षों में से कौन सा, यदि कोई हो, तो दिए गए कथनों में से अनुसरण करता है।

कथन 1: कोई चिकित्सक इंजीनियर नहीं हैं।

कथन 2: कुछ इंजीनियर बावर्ची हैं।

निष्कर्ष I: कुछ बावर्ची चिकित्सक हैं।

निष्कर्ष II: कोई इंजीनियर चिकित्सक नहीं हैं।

**Options :**

1. ✘ केवल निष्कर्ष I अनुसरण करता है
2. ✔ केवल निष्कर्ष II अनुसरण करता है
3. ✘ निष्कर्ष I और II दोनों अनुसरण करते हैं
4. ✘ न निष्कर्ष I और न ही II अनुसरण करता है

**Question Number : 23 Question Id : 2752285854 Question Type : MCQ Option Shuffling : Yes Is Question Mandatory : No Option Orientation : Vertical**

**Correct Marks : 1 Wrong Marks : 0.25**

In the question one statement is given, followed by two course of actions, I and II. You have to consider the statements to be true even if it seems to be at variance from commonly known facts. You have to decide which of the given course of action, if any, follows from the given statement.

Statement: The poverty level is increasing day by day and is one of the major problems faced by the country.

Courses of Action :

I : The Government should come up with various poverty alleviation programmes to help the poor people.

II : The Government should provide free education to poor people which will increase their employment opportunities.

**Options :**

1. ✘ Only I follows
2. ✘ Only II follows
3. ✔ Both I and II follows
4. ✘ Neither I nor II follows

**Question Number : 23 Question Id : 2752285854 Question Type : MCQ Option Shuffling : Yes Is Question Mandatory : No Option Orientation : Vertical**

**Correct Marks : 1 Wrong Marks : 0.25**

प्रश्न में एक कथन दिया गया है, जिसके बाद कार्रवाई के दो क्रम I और II दिए गए हैं। आपको उन कथनों को सत्य मानना है, भले ही यह सामान्यतः ज्ञात तथ्य से भिन्न प्रतीत हो। आपको यह निर्णय लेना है कि दिए गए कार्रवाई के क्रम में से कौन सा, यदि कोई हो, तो दिए गए कथन का अनुसरण करता है।

कथन: गरीबी का स्तर दिन-प्रतिदिन बढ़ता जा रहा है और यह देश की प्रमुख समस्याओं में से एक है।

कार्रवाई का क्रम:

I: सरकार को गरीब लोगों की मदद के लिए विभिन्न गरीबी उन्मूलन कार्यक्रमों की योजना बनानी चाहिए।

II: सरकार को गरीब लोगों को मुफ्त शिक्षा प्रदान करनी चाहिए जिससे उनके रोजगार के अवसर बढ़ेंगे।

**Options :**

1. ✖ केवल I अनुसरण करता है
2. ✖ केवल II अनुसरण करता है
3. ✔ I और II दोनों अनुसरण करते हैं
4. ✖ न I और न ही II अनुसरण करता है

**Question Number : 24 Question Id : 2752285855 Question Type : MCQ Option Shuffling : Yes Is Question Mandatory : No Option Orientation : Vertical**

**Correct Marks : 1 Wrong Marks : 0.25**

In the question one statement is given, followed by two reasons, I and II. You have to consider the statements to be true even if it seems to be at variance from commonly known facts. You have to decide which of the given reason, if any, follows from the given statement.

Statement : No country in the world is independent.

Reason I : No country has sufficient natural resource to produce all they want.

Reason II : The efficiency of people living in a country has declined.

**Options :**

1. ✔ Only reason I follows
2. ✖ Only reason II follows
3. ✖ Both reasons I and II follows
4. ✖ Neither reasons I nor II follows

**Question Number : 24 Question Id : 2752285855 Question Type : MCQ Option Shuffling : Yes Is Question Mandatory : No Option Orientation : Vertical**

**Correct Marks : 1 Wrong Marks : 0.25**

प्रश्न में एक कथन दिया गया है, जिसके बाद दो कारण, I और II दिए गए हैं। आपको उन कथनों को सत्य मानना है, भले ही यह सामान्यतः ज्ञात तथ्य से भिन्न प्रतीत हो। आपको यह निर्णय लेना है कि दिए गए कारणों में से कौन सा, यदि कोई हो, तो दिए गए कथन का अनुसरण करता है।

कथन: दुनिया का कोई भी देश स्वतंत्र नहीं है।

कारण I: किसी भी देश के पास पर्याप्त प्राकृतिक संसाधन नहीं हैं जिससे वे जो चाहते हैं उसका उत्पादन कर सके।

कारण II: किसी देश में रहने वाले लोगों की दक्षता में गिरावट आई है।

**Options :**

1. ✓ केवल कारण I अनुसरण करता है
2. ✗ केवल कारण II अनुसरण करता है
3. ✗ कारण I और II दोनों अनुसरण करते हैं
4. ✗ न कारण I और न ही II अनुसरण करता है

**Question Number : 25 Question Id : 2752285856 Question Type : MCQ Option Shuffling : Yes Is Question Mandatory : No Option Orientation : Vertical**

**Correct Marks : 1 Wrong Marks : 0.25**

Complete the following number series:

18, 57, \_\_\_\_\_, 525, 1578

**Options :**

1. ✗ 175
2. ✗ 171
3. ✓ 174
4. ✗ 169

**Question Number : 25 Question Id : 2752285856 Question Type : MCQ Option Shuffling : Yes Is Question Mandatory : No Option Orientation : Vertical**

**Correct Marks : 1 Wrong Marks : 0.25**

निम्नलिखित संख्या श्रृंखला को पूरा करें:

18, 57, \_\_\_\_\_, 525, 1578

**Options :**

1. ✗ 175
2. ✗ 171
3. ✓ 174
4. ✗ 169

**Question Number : 26 Question Id : 2752285857 Question Type : MCQ Option Shuffling : Yes Is Question Mandatory : No Option Orientation : Vertical**

**Correct Marks : 1 Wrong Marks : 0.25**

The H.C.F of two numbers are 15 and the other two factors of their L.C.M. are 17 and 19. Which of the following can be the smaller number of the two?

**Options :**

1. ✓ 255
2. ✗ 285
3. ✗ 323
4. ✗ 190

**Question Number : 26 Question Id : 2752285857 Question Type : MCQ Option Shuffling : Yes Is Question Mandatory : No Option Orientation : Vertical**

**Correct Marks : 1 Wrong Marks : 0.25**

दो संख्याओं का महत्तम समापवर्तक 15 है और उनके लघुत्तम समापवर्तक के अन्य दो गुणक 17 और 19 हैं। निम्नलिखित में से कौन सी दो की छोटी संख्या हो सकती है?

**Options :**

1. ✓ 255
2. ✗ 285
3. ✗ 323
4. ✗ 190

**Question Number : 27 Question Id : 2752285858 Question Type : MCQ Option Shuffling : Yes Is Question Mandatory : No Option Orientation : Vertical**

**Correct Marks : 1 Wrong Marks : 0.25**

If  $22 @ 4 = 8$ ;  $16 @ 2 = 9$ ;  $7 @ 15 = 4$ ; then find the value of  $24 @ 2 = ?$

**Options :**

1. ✓ 8
2. ✗ 13
3. ✗ 12
4. ✗ 14

**Question Number : 27 Question Id : 2752285858 Question Type : MCQ Option Shuffling : Yes Is Question Mandatory : No Option Orientation : Vertical**

**Correct Marks : 1 Wrong Marks : 0.25**

यदि  $22 @ 4 = 8$ ;  $16 @ 2 = 9$ ;  $7 @ 15 = 4$ ; तो  $24 @ 2 = ?$  का मान ज्ञात करें।

**Options :**

1. ✓ 8
2. ✗ 13
3. ✗ 12
4. ✗ 14

**Question Number : 28 Question Id : 2752285859 Question Type : MCQ Option Shuffling : Yes Is Question Mandatory : No Option Orientation : Vertical**

**Correct Marks : 1 Wrong Marks : 0.25**

If  $285/15 = 114/x$ , then what is the value of  $12x + 14$ ?

**Options :**

1. ✗ 74
2. ✗ 112
3. ✓ 86
4. ✗ 98

**Question Number : 28 Question Id : 2752285859 Question Type : MCQ Option Shuffling : Yes Is Question Mandatory : No Option Orientation : Vertical**

**Correct Marks : 1 Wrong Marks : 0.25**

यदि  $285/15 = 114/x$ , तो  $12x + 14$  का मान क्या है?

**Options :**

1. ✗ 74
2. ✗ 112
3. ✓ 86
4. ✗ 98

**Question Number : 29 Question Id : 2752285860 Question Type : MCQ Option Shuffling : Yes Is Question Mandatory : No Option**

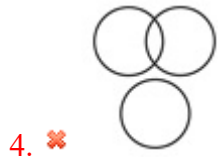
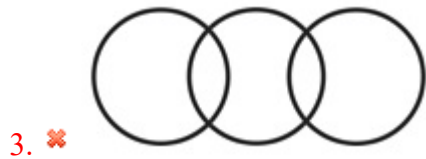

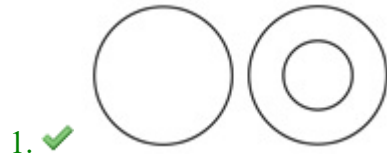


**Orientation : Vertical**

**Correct Marks : 1 Wrong Marks : 0.25**

Which of the following Venn diagrams best represents the relationship between Flowers, Roses and Onions?

**Options :**



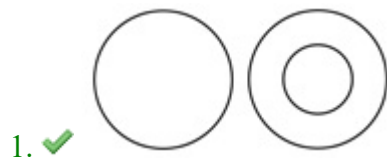
**Question Number : 29 Question Id : 2752285860 Question Type : MCQ Option Shuffling : Yes Is Question Mandatory : No Option**

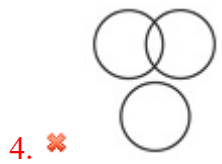
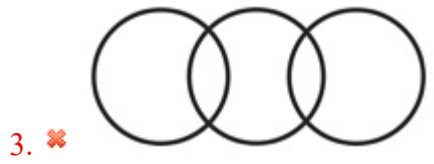
**Orientation : Vertical**

**Correct Marks : 1 Wrong Marks : 0.25**

निम्नलिखित में से कौन सा वेन आरेख फूल, गुलाब और प्याज के बीच के संबंध को सबसे अच्छा दर्शाता है?

**Options :**

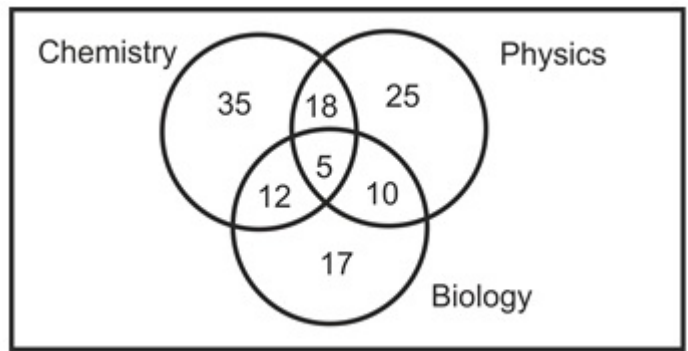




**Question Number : 30 Question Id : 2752285861 Question Type : MCQ Option Shuffling : Yes Is Question Mandatory : No Option Orientation : Vertical**

**Correct Marks : 1 Wrong Marks : 0.25**

The given Venn diagram shows the number of children who passed in Physics, Biology and Chemistry. How many of these children passed in only 2 subjects?



**Options :**

- 1. ✘ 18
- 2. ✘ 12

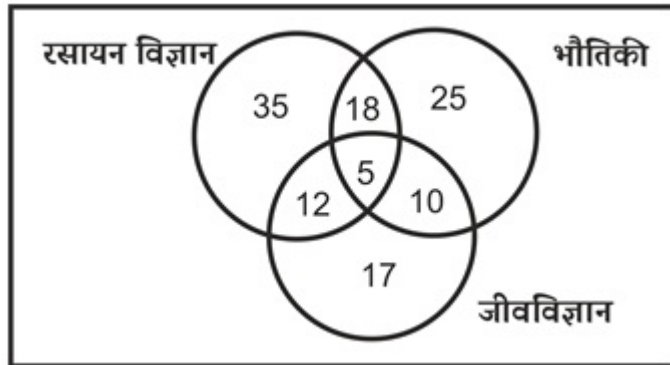
3. ✘ 10

4. ✔ 40

**Question Number : 30 Question Id : 2752285861 Question Type : MCQ Option Shuffling : Yes Is Question Mandatory : No Option Orientation : Vertical**

**Correct Marks : 1 Wrong Marks : 0.25**

दिए गए वेन आरेख में भौतिकी, जीव विज्ञान और रसायन विज्ञान में उत्तीर्ण हुए बच्चों की संख्या दर्शायी गई है। इनमें से कितने बच्चे केवल 2 विषयों में उत्तीर्ण हुए?



**Options :**

1. ✘ 18

2. ✘ 12

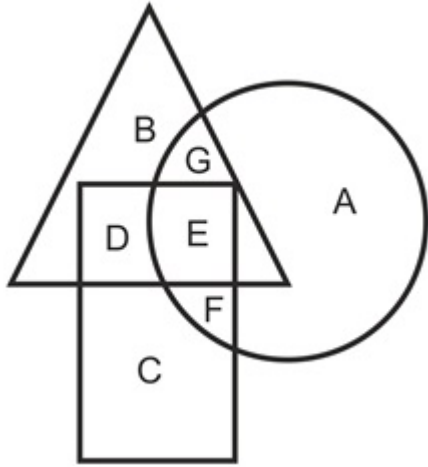
3. ✘ 10

4. ✔ 40

**Question Number : 31 Question Id : 2752285862 Question Type : MCQ Option Shuffling : Yes Is Question Mandatory : No Option Orientation : Vertical**

**Correct Marks : 1 Wrong Marks : 0.25**

In the following figure, triangle represents singers, rectangle represents dancers, circle represents painters. Which area represents dancers who are singers but not painters?



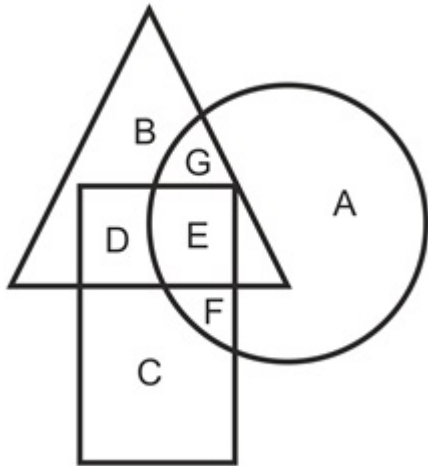
Options :

1. ✘ B
2. ✘ E
3. ✔ D
4. ✘ G

Question Number : 31 Question Id : 2752285862 Question Type : MCQ Option Shuffling : Yes Is Question Mandatory : No Option Orientation : Vertical

Correct Marks : 1 Wrong Marks : 0.25

निम्नलिखित आकृति में, त्रिभुज गायकों का प्रतिनिधित्व करता है, आयत नर्तकों का प्रतिनिधित्व करता है, वृत्त चित्रकारों का प्रतिनिधित्व करता है। कौन सा क्षेत्र नर्तकों का प्रतिनिधित्व करता है जो गायक हैं लेकिन चित्रकार नहीं हैं?



Options :

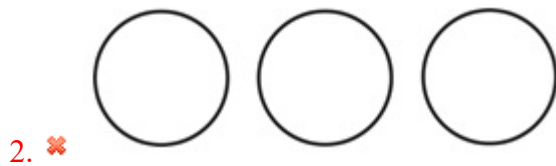
1. ✘ B
2. ✘ E
3. ✔ D
4. ✘ G

Question Number : 32 Question Id : 2752285863 Question Type : MCQ Option Shuffling : Yes Is Question Mandatory : No Option Orientation : Vertical


Correct Marks : 1 Wrong Marks : 0.25

Which of the following Venn diagrams best represents the relationship between week, month and year ?

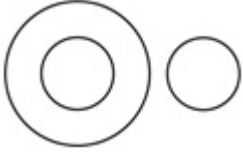
Options :



3. ✘



4. ✘



**Question Number : 32 Question Id : 2752285863 Question Type : MCQ Option Shuffling : Yes Is Question Mandatory : No Option Orientation : Vertical**

**Correct Marks : 1 Wrong Marks : 0.25**


निम्नलिखित में से कौन सा वेन आरेख सप्ताह, महीने और वर्ष के बीच के संबंध को सबसे अच्छा दर्शाता है?

**Options :**


1. ✔



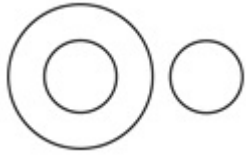
2. ✘



3. ✘



4. ✘




**Question Number : 33 Question Id : 2752285864 Question Type : MCQ Option Shuffling : Yes Is Question Mandatory : No Option Orientation : Vertical**

**Correct Marks : 1 Wrong Marks : 0.25**

Out of the given options, three are similar in a certain manner. However, one option is NOT like the other three. Select the option which is different from the rest.

**Options :**


1. ✘

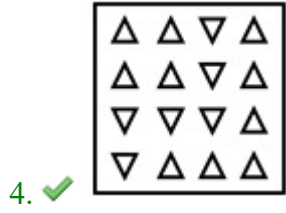


2. ✘



3. ✘





**Question Number : 33 Question Id : 2752285864 Question Type : MCQ Option Shuffling : Yes Is Question Mandatory : No Option Orientation : Vertical**

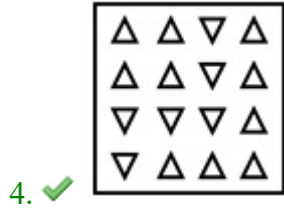
**Correct Marks : 1 Wrong Marks : 0.25**

दिए गए विकल्पों में से, तीन एक निश्चित तरीके से समान हैं। हालाँकि, एक विकल्प अन्य तीन की तरह नहीं है। उस विकल्प का चयन करें जो अन्य से अलग है।

**Options :**







**Question Number : 34 Question Id : 2752285865 Question Type : MCQ Option Shuffling : Yes Is Question Mandatory : No Option Orientation : Vertical**

**Correct Marks : 1 Wrong Marks : 0.25**

Find the missing figure in the following matrix.

30	24	42
27	?	35
42	12	48

**Options :**

1. ✘ 6
2. ✓ 16
3. ✘ 8
4. ✘ 12

**Question Number : 34 Question Id : 2752285865 Question Type : MCQ Option Shuffling : Yes Is Question Mandatory : No Option Orientation : Vertical**

**Correct Marks : 1 Wrong Marks : 0.25**

निम्नलिखित मैट्रिक्स में लुप्त आंकड़ा ज्ञात करें।

30	24	42
27	?	35
42	12	48

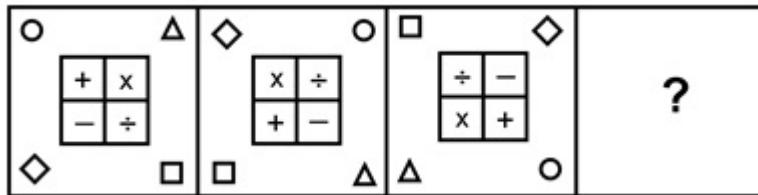
Options :

1. ✘ 6
2. ✔ 16
3. ✘ 8
4. ✘ 12

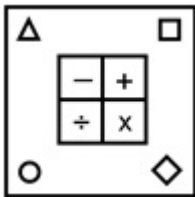
Question Number : 35 Question Id : 2752285866 Question Type : MCQ Option Shuffling : Yes Is Question Mandatory : No Option Orientation : Vertical

Correct Marks : 1 Wrong Marks : 0.25

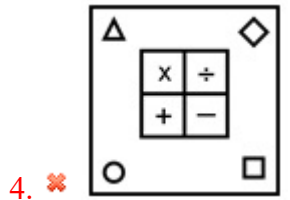
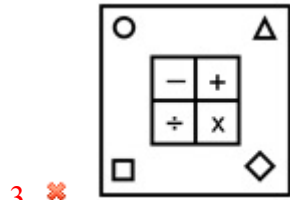
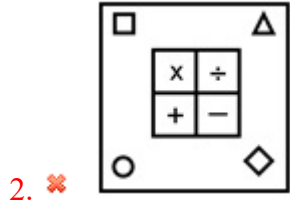
Which of the following answer figure completes the series of the question figure?



Options :



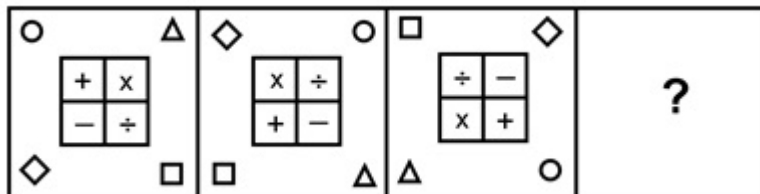
1. ✔



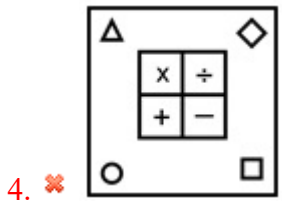
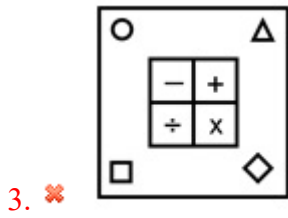
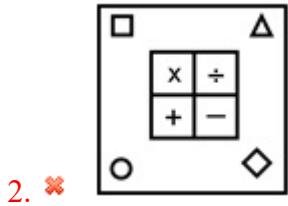
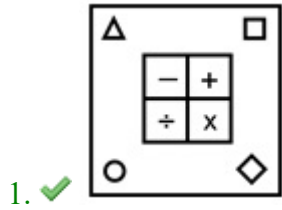
**Question Number : 35 Question Id : 2752285866 Question Type : MCQ Option Shuffling : Yes Is Question Mandatory : No Option Orientation : Vertical**

**Correct Marks : 1 Wrong Marks : 0.25**

निम्नलिखित में से कौन सी उत्तर आकृति प्रश्न आकृति की श्रृंखला को पूरा करती है?



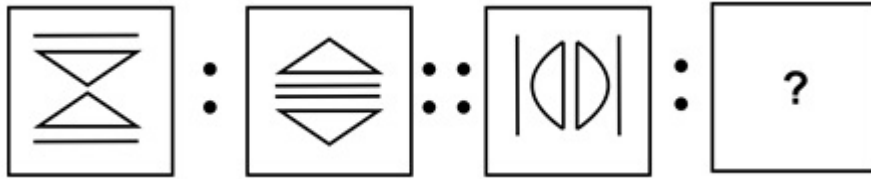
**Options :**



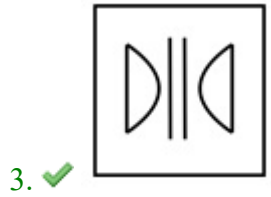
**Question Number : 36 Question Id : 2752285867 Question Type : MCQ Option Shuffling : Yes Is Question Mandatory : No Option Orientation : Vertical**

**Correct Marks : 1 Wrong Marks : 0.25**

Select the option that is related to the third image on the same basis as the second image is related to the first image.



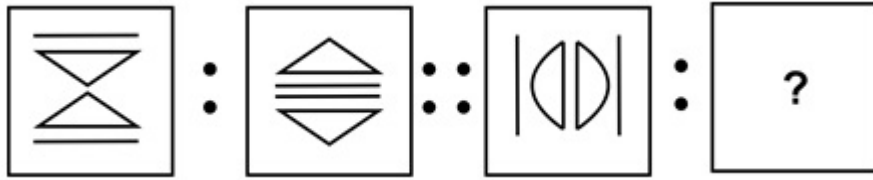
Options :



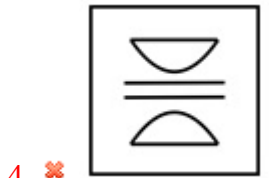
Question Number : 36 Question Id : 2752285867 Question Type : MCQ Option Shuffling : Yes Is Question Mandatory : No Option Orientation : Vertical

Correct Marks : 1 Wrong Marks : 0.25

उस विकल्प का चयन करें जो तीसरी छवि से उसी प्रकार से संबंधित है जिस प्रकार से दूसरी छवि पहली छवि से संबंधित है।

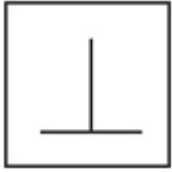


Options :



Question Number : 37 Question Id : 2752285868 Question Type : MCQ Option Shuffling : Yes Is Question Mandatory : No Option Orientation : Vertical Correct Marks : 1 Wrong Marks : 0.25

From the given answer figures, select the one in which the question figure is hidden/embedded.



Options :

1. ✘



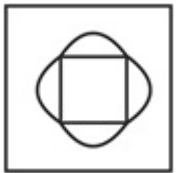
2. ✘



3. ✔

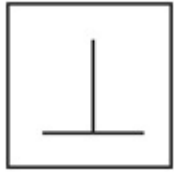


4. ✘



Question Number : 37 Question Id : 2752285868 Question Type : MCQ Option Shuffling : Yes Is Question Mandatory : No Option Orientation : Vertical Correct Marks : 1 Wrong Marks : 0.25

दी गई उत्तर आकृति से, उस आकृति का चयन करें जिसमें प्रश्न आकृति छिपी/सन्निहित है।



Options :

1. ✘



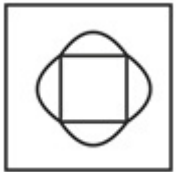
2. ✘



3. ✔



4. ✘



Question Number : 38 Question Id : 2752285869 Question Type : MCQ Option Shuffling : Yes Is Question Mandatory : No Option Orientation : Vertical Correct Marks : 1 Wrong Marks : 0.25



A cube is painted Red on two opposite faces, Blue on other two opposite faces and Green on the last two opposite faces. This cube is cut into 16 smaller cubes. How many of these smaller cubes will have one face Red, the other face Green and no colour on the remaining faces?

**Options :**

1. ✘ 9
2. ✘ 4
3. ✘ 6
4. ✔ 8

**Question Number : 38 Question Id : 2752285869 Question Type : MCQ Option Shuffling : Yes Is Question Mandatory : No Option Orientation : Vertical**

**Correct Marks : 1 Wrong Marks : 0.25**

एक घन को दो विपरीत फलकों (फेस) पर लाल, अन्य दो विपरीत फलकों (फेस) पर नीला और आखरी दो विपरीत फलकों (फेस) पर हरे से पेंट किया जाता है। इस घन को 16 छोटे घनों में काटा जाता है। इनमें से कितने छोटे घनों में एक फलक (फेस) लाल, दूसरा फलक (फेस) हरा और बाकी फलकों (फेस) पर कोई रंग नहीं होगा?

**Options :**

1. ✘ 9
2. ✘ 4
3. ✘ 6
4. ✔ 8

**Question Number : 39 Question Id : 2752285870 Question Type : MCQ Option Shuffling : Yes Is Question Mandatory : No Option Orientation : Vertical**

**Correct Marks : 1 Wrong Marks : 0.25**

Which of the following answer figure patterns can be combined to complete the question figure?

○	□	□	○
△	◇	◇	△
△	◇	?	
□	○		

Options :

◇	△
□	○

1. ✘

◇	○
□	△

2. ✘

◇	△
○	□

3. ✔


◇	□
○	△

4. ✘

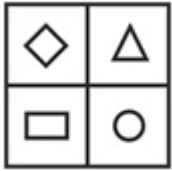
**Orientation : Vertical**

**Correct Marks : 1 Wrong Marks : 0.25**

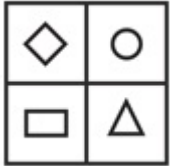
निम्नलिखित में से कौन सी उत्तर आकृति पैटर्न, प्रश्न आकृति को पूरा करने के लिए जोड़ा जा सकता है?



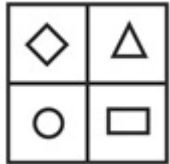
**Options :**



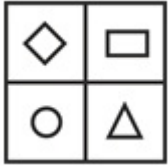
1. ✘



2. ✘



3. ✔

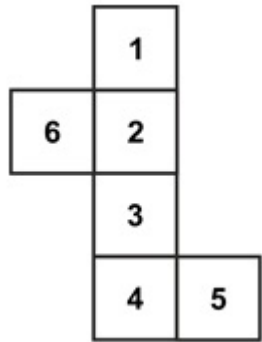


4. ✘

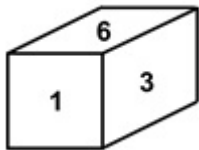
**Question Number : 40 Question Id : 2752285871 Question Type : MCQ Option Shuffling : Yes Is Question Mandatory : No Option Orientation : Vertical**

**Correct Marks : 1 Wrong Marks : 0.25**

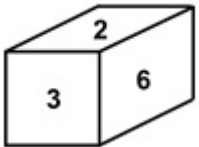
Which of the following answer cube can be made from the question figure?



**Options :**

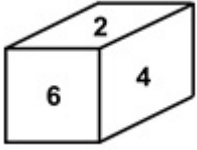


1. ✘

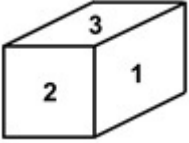


2. ✔

3. ✘



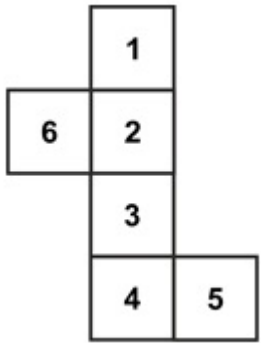
4. ✘



**Question Number : 40 Question Id : 2752285871 Question Type : MCQ Option Shuffling : Yes Is Question Mandatory : No Option Orientation : Vertical**

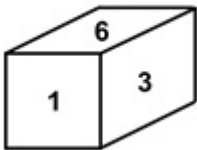
**Correct Marks : 1 Wrong Marks : 0.25**

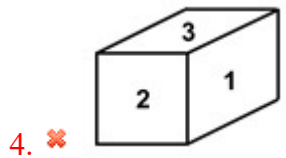
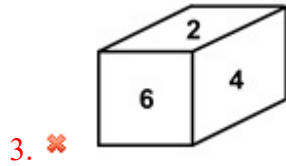
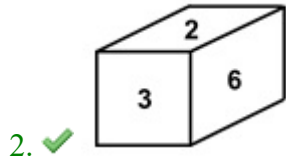
निम्नलिखित में से कौन सा उत्तर घन प्रश्न आकृति से बनाया जा सकता है?



**Options :**

1. ✘





## General Awareness1

Group Number :	3
Group Id :	275228205
Group Maximum Duration :	0
Group Minimum Duration :	0
Show Attended Group? :	No
Edit Attended Group? :	No
Break time :	0
Group Marks :	20
Is this Group for Examiner? :	No

## General Awareness1

Section Id :	275228307
Section Number :	1
Section type :	Online

<b>Mandatory or Optional :</b>	Mandatory
<b>Number of Questions :</b>	20
<b>Number of Questions to be attempted :</b>	20
<b>Section Marks :</b>	20
<b>Enable Mark as Answered Mark for Review and Clear Response :</b>	Yes
<b>Sub-Section Number :</b>	1
<b>Sub-Section Id :</b>	275228368
<b>Question Shuffling Allowed :</b>	Yes

**Question Number : 41 Question Id : 2752285872 Question Type : MCQ Option Shuffling : Yes Is Question Mandatory : No Option Orientation : Vertical**

**Correct Marks : 1 Wrong Marks : 0.25**

Belur Math is a monastery near Kolkata in West Bengal founded by \_\_\_\_\_.

**Options :**

1. ✘ Ramakrishna Paramahansa
2. ✔ Swami Vivekananda
3. ✘ Ram Mohan Roy
4. ✘ Ananda Mohan Bose

**Question Number : 41 Question Id : 2752285872 Question Type : MCQ Option Shuffling : Yes Is Question Mandatory : No Option Orientation : Vertical**

**Correct Marks : 1 Wrong Marks : 0.25**

बेलुड़ मठ पश्चिम बंगाल में कोलकाता के पास एक मठ है जिसे \_\_\_\_\_ द्वारा स्थापित किया गया है।

**Options :**

1. ✘ रामकृष्ण परमहंस
2. ✔ स्वामी विवेकानंद
3. ✘ राममोहन राय
4. ✘ आनंद मोहन बोस

**Question Number : 42 Question Id : 2752285873 Question Type : MCQ Option Shuffling : Yes Is Question Mandatory : No Option Orientation : Vertical**

**Correct Marks : 1 Wrong Marks : 0.25**

The Gochi Festival is associated with which of the following states?

**Options :**

1. ✘ Assam
2. ✘ Haryana
3. ✔ Himachal Pradesh
4. ✘ Madhya Pradesh

**Question Number : 42 Question Id : 2752285873 Question Type : MCQ Option Shuffling : Yes Is Question Mandatory : No Option Orientation : Vertical**

**Correct Marks : 1 Wrong Marks : 0.25**

गोची त्योहार निम्नलिखित में से किस राज्य से जुड़ा है?

**Options :**

1. ✘ असम
2. ✘ हरियाणा
3. ✔ हिमाचल प्रदेश
4. ✘ मध्य प्रदेश

**Question Number : 43 Question Id : 2752285874 Question Type : MCQ Option Shuffling : Yes Is Question Mandatory : No Option Orientation : Vertical**

**Correct Marks : 1 Wrong Marks : 0.25**

The Ghumura dance form of Odisha is performed 15 days before the arrival of full moon in the month of \_\_\_\_\_.

**Options :**

1. ✘ October
2. ✔ September
3. ✘ May
4. ✘ June

**Question Number : 43 Question Id : 2752285874 Question Type : MCQ Option Shuffling : Yes Is Question Mandatory : No Option Orientation : Vertical**

**Correct Marks : 1 Wrong Marks : 0.25**

ओडिशा का घुमुरा नृत्य रूप \_\_\_\_\_ के महीने में पूर्णिमा के आने से 15 दिन पहले किया जाता है।

**Options :**



1. ✘ अक्टूबर
2. ✔ सितंबर
3. ✘ मई
4. ✘ जून

**Question Number : 44 Question Id : 2752285875 Question Type : MCQ Option Shuffling : Yes Is Question Mandatory : No Option Orientation : Vertical**

**Correct Marks : 1 Wrong Marks : 0.25**

Borgeet is a Vaishnava devotional song, popular in which of the following states?

**Options :**

1. ✔ Assam
2. ✘ Manipur
3. ✘ Meghalaya
4. ✘ Nagaland

**Question Number : 44 Question Id : 2752285875 Question Type : MCQ Option Shuffling : Yes Is Question Mandatory : No Option Orientation : Vertical**

**Correct Marks : 1 Wrong Marks : 0.25**

बॉरगीत एक वैष्णव भक्ति गीत है, निम्नलिखित राज्यों में से कहाँ लोकप्रिय है?

**Options :**

1. ✔ असम
2. ✘ मणिपुर
3. ✘ मेघालय
4. ✘ नागालैण्ड

**Question Number : 45 Question Id : 2752285876 Question Type : MCQ Option Shuffling : Yes Is Question Mandatory : No Option Orientation : Vertical**

**Correct Marks : 1 Wrong Marks : 0.25**

Which among the following identities is incorrect?

**Options :**

1. ✘  $GDP = C + I + G + X - M$

2. ✘  $NNP = GNP - Depreciation$
3. ✔  $GDP\ Deflator = Real\ GDP / Nominal\ GDP \times 100$
4. ✘  $NNP = NDP + NFIA$

**Question Number : 45 Question Id : 2752285876 Question Type : MCQ Option Shuffling : Yes Is Question Mandatory : No Option Orientation : Vertical**

**Correct Marks : 1 Wrong Marks : 0.25**

निम्नलिखित में से कौन सी पहचान गलत है?

**Options :**

1. ✘  $GDP = C + I + G + X - M$
2. ✘  $NNP = GNP - \text{मूल्यहास}$
3. ✔  $GDP\ डिफ्लेक्टर = \text{वास्तविक GDP} / \text{नॉमिनल GDP} \times 100$
4. ✘  $NNP = NDP + NFIA$

**Question Number : 46 Question Id : 2752285877 Question Type : MCQ Option Shuffling : Yes Is Question Mandatory : No Option Orientation : Vertical**

**Correct Marks : 1 Wrong Marks : 0.25**

Apart from the Oriental bank of Commerce, which of the following banks were merged with Punjab National Bank in April 2020?

**Options :**

1. ✘ Corporation Bank
2. ✘ Andhra Bank
3. ✔ United Bank of India
4. ✘ Canara Bank

**Question Number : 46 Question Id : 2752285877 Question Type : MCQ Option Shuffling : Yes Is Question Mandatory : No Option Orientation : Vertical**

**Correct Marks : 1 Wrong Marks : 0.25**

ओरिएंटल बैंक ऑफ कॉमर्स के अलावा, अप्रैल 2020 में निम्नलिखित में से किस बैंक को पंजाब नैशनल बैंक में संविलीन किया गया था?

**Options :**

1. ✘ कॉर्पोरेशन बैंक
2. ✘ आंध्रा बैंक

3. ✓ यूनाइटेड बैंक आफ इंडिया

4. ✗ केनरा बैंक

**Question Number : 47 Question Id : 2752285878 Question Type : MCQ Option Shuffling : Yes Is Question Mandatory : No Option Orientation : Vertical**

**Correct Marks : 1 Wrong Marks : 0.25**

Which among the following components should be deducted from Gross Domestic Product to get the Net Domestic Product?

**Options :**

1. ✓ Depreciation

2. ✗ Transfer payments

3. ✗ Tax payments

4. ✗ Interest received

**Question Number : 47 Question Id : 2752285878 Question Type : MCQ Option Shuffling : Yes Is Question Mandatory : No Option Orientation : Vertical**

**Correct Marks : 1 Wrong Marks : 0.25**

निवल देशीय उत्पाद प्राप्त करने के लिए निम्नलिखित घटकों में से किसे सकल घरेलू उत्पाद से घटाया जाना चाहिए?

**Options :**

1. ✓ मूल्यहास

2. ✗ अंतरण अदायगी

3. ✗ कर भुगतान

4. ✗ ब्याज प्राप्ति

**Question Number : 48 Question Id : 2752285879 Question Type : MCQ Option Shuffling : Yes Is Question Mandatory : No Option Orientation : Vertical**

**Correct Marks : 1 Wrong Marks : 0.25**

The Reserve Bank of India (RBI) has announced that all banks and Non-bank financial institutions (NBFCs) have been permitted to allow a moratorium of \_\_\_\_\_ months on repayment of term loans outstanding on 1 March 2020.

**Options :**

1. ✗ 2

2. ✓ 3

3. ✗ 4

4. ✖ 5

**Question Number : 48 Question Id : 2752285879 Question Type : MCQ Option Shuffling : Yes Is Question Mandatory : No Option Orientation : Vertical**

**Correct Marks : 1 Wrong Marks : 0.25**

भारतीय रिज़र्व बैंक (RBI) ने घोषणा की है कि सभी बैंकों और गैर-बैंक वित्तीय संस्थानों को 1 मार्च 2020 को बकाया ऋणों के पुनर्भुगतान पर \_\_\_\_\_ महीने की मोहलत देने की अनुमति दी गई है।

**Options :**

1. ✖ 2

2. ✔ 3

3. ✖ 4

4. ✖ 5

**Question Number : 49 Question Id : 2752285880 Question Type : MCQ Option Shuffling : Yes Is Question Mandatory : No Option Orientation : Vertical**

**Correct Marks : 1 Wrong Marks : 0.25**

As announced in the Budget 2020, customs duty on furniture has been increased to \_\_\_\_\_ from 20 percent.

**Options :**

1. ✖ 26 percent

2. ✖ 28 percent

3. ✖ 22 percent

4. ✔ 25 percent

**Question Number : 49 Question Id : 2752285880 Question Type : MCQ Option Shuffling : Yes Is Question Mandatory : No Option Orientation : Vertical**

**Correct Marks : 1 Wrong Marks : 0.25**

बजट 2020 में घोषणा के अनुसार, फर्नीचर पर सीमा शुल्क 20 प्रतिशत से \_\_\_\_\_ तक बढ़ा दिया गया है।

**Options :**

1. ✖ 26 प्रतिशत

2. ✖ 28 प्रतिशत

3. ✖ 22 प्रतिशत

4. ✓ 25 प्रतिशत

**Question Number : 50 Question Id : 2752285881 Question Type : MCQ Option Shuffling : Yes Is Question Mandatory : No Option Orientation : Vertical**

**Correct Marks : 1 Wrong Marks : 0.25**

Bacteria belongs to which of the following Kingdoms?

**Options :**

1. ✗ Plantae
2. ✗ Fungi
3. ✗ Protista
4. ✓ Monera

**Question Number : 50 Question Id : 2752285881 Question Type : MCQ Option Shuffling : Yes Is Question Mandatory : No Option Orientation : Vertical**

**Correct Marks : 1 Wrong Marks : 0.25**

जीवाणु निम्नलिखित जगत में से किस से संबंधित है?

**Options :**

1. ✗ प्लान्टए
2. ✗ कवक
3. ✗ प्रजीव
4. ✓ मोनेरा

**Question Number : 51 Question Id : 2752285882 Question Type : MCQ Option Shuffling : Yes Is Question Mandatory : No Option Orientation : Vertical**

**Correct Marks : 1 Wrong Marks : 0.25**

Which among the following acids is also known as 'Muriatic acid'?

**Options :**

1. ✗ Carbonic Acid
2. ✗ Sulphuric Acid
3. ✓ Hydrochloric Acid
4. ✗ Acetic Acid

**Question Number : 51 Question Id : 2752285882 Question Type : MCQ Option Shuffling : Yes Is Question Mandatory : No Option Orientation : Vertical**

**Correct Marks : 1 Wrong Marks : 0.25**

निम्नलिखित में से किस अम्ल को 'म्यूरिएटिक अम्ल' के नाम से भी जाना जाता है?

**Options :**

1. ✘ कार्बनिक अम्ल
2. ✘ गन्धकाम्ल
3. ✔ हाइड्रोक्लोरिक अम्ल
4. ✘ एसिटिक अम्ल

**Question Number : 52 Question Id : 2752285883 Question Type : MCQ Option Shuffling : Yes Is Question Mandatory : No Option Orientation : Vertical**

**Correct Marks : 1 Wrong Marks : 0.25**

The attractive force applied by the earth on an object in the downward direction is called \_\_\_\_\_.

**Options :**

1. ✘ Muscular Force
2. ✘ Air Resistance
3. ✘ Frictional Force
4. ✔ Gravitational Force

**Question Number : 52 Question Id : 2752285883 Question Type : MCQ Option Shuffling : Yes Is Question Mandatory : No Option Orientation : Vertical**

**Correct Marks : 1 Wrong Marks : 0.25**

पृथ्वी द्वारा किसी वस्तु पर नीचे की दिशा में लगाए गए आकर्षण बल को \_\_\_\_\_ कहा जाता है।

**Options :**

1. ✘ पेशीय बल
2. ✘ वायु प्रतिरोध
3. ✘ घर्षण बल
4. ✔ गुरुत्वाकर्षण बल

**Question Number : 53 Question Id : 2752285884 Question Type : MCQ Option Shuffling : Yes Is Question Mandatory : No Option Orientation : Vertical**

**Correct Marks : 1 Wrong Marks : 0.25**

The Swachh Bharat Abhiyan (Urban) lies under the \_\_\_\_\_.

**Options :**

1. ✘ Ministry of Drinking Water and Sanitation
2. ✘ Ministry of External Affairs
3. ✔ Ministry of Housing and Urban Affairs
4. ✘ Ministry of Home Affairs

**Question Number : 53 Question Id : 2752285884 Question Type : MCQ Option Shuffling : Yes Is Question Mandatory : No Option Orientation : Vertical**

**Correct Marks : 1 Wrong Marks : 0.25**

स्वच्छ भारत अभियान (शहरी) \_\_\_\_\_ के अंतर्गत आता है।

**Options :**

1. ✘ पेयजल और स्वच्छता मंत्रालय
2. ✘ विदेश मंत्रालय
3. ✔ मिनिस्ट्री ऑफ़ हाउसिंग एंड अर्बन अफेयर्स
4. ✘ गृह मंत्रालय

**Question Number : 54 Question Id : 2752285885 Question Type : MCQ Option Shuffling : Yes Is Question Mandatory : No Option Orientation : Vertical**

**Correct Marks : 1 Wrong Marks : 0.25**

Which among the following laws states that induced electromotive force with different polarities induces a current whose magnetic field opposes the change in magnetic flux through the loop in order to ensure that original flux is maintained through the loop when current flows in it?

**Options :**

1. ✔ Lenz's Law
2. ✘ Ohm's Law
3. ✘ Snell's Law
4. ✘ Boyle's Law

**Question Number : 54 Question Id : 2752285885 Question Type : MCQ Option Shuffling : Yes Is Question Mandatory : No Option**

**Orientation : Vertical**

**Correct Marks : 1 Wrong Marks : 0.25**

निम्नलिखित नियमों में से कौन कहता है कि विभिन्न ध्रुवों के साथ प्रेरित विद्युतवाहक बल एक धारा को प्रेरित करता है जिसका चुंबकीय क्षेत्र लूप के माध्यम से चुंबकीय प्रवाह में होते परिवर्तन का विरोध करता है ताकि यह सुनिश्चित हो सके कि जब उसमें धारा प्रवाह होता है तो मूल प्रवाह लूप के माध्यम से बनाए रखा जाता है?

**Options :**

1. ✓ लेंज का नियम
2. ✗ ओम का नियम
3. ✗ स्नेल का नियम
4. ✗ बॉयल का नियम

**Question Number : 55 Question Id : 2752285886 Question Type : MCQ Option Shuffling : Yes Is Question Mandatory : No Option**

**Orientation : Vertical**

**Correct Marks : 1 Wrong Marks : 0.25**

Which among the following seas is the world's largest inland body of water?

**Options :**

1. ✗ Black Sea
2. ✗ Mediterranean Sea
3. ✓ Caspian Sea
4. ✗ Red Sea

**Question Number : 55 Question Id : 2752285886 Question Type : MCQ Option Shuffling : Yes Is Question Mandatory : No Option**

**Orientation : Vertical**

**Correct Marks : 1 Wrong Marks : 0.25**

निम्नलिखित में से कौन सा समुद्र दुनिया का सबसे बड़ा अन्तर्देशीय जल निकाय है?

**Options :**

1. ✗ काला सागर
2. ✗ भूमध्य सागर
3. ✓ कैस्पियन सागर
4. ✗ लाल सागर



**Question Number : 56 Question Id : 2752285887 Question Type : MCQ Option Shuffling : Yes Is Question Mandatory : No Option Orientation : Vertical**

**Correct Marks : 1 Wrong Marks : 0.25**

Which among the following rivers is not a tributary of river Kaveri?

**Options :**

1. ✘ Bhavani
2. ✔ Sabari
3. ✘ Noyyal
4. ✘ Kabini

**Question Number : 56 Question Id : 2752285887 Question Type : MCQ Option Shuffling : Yes Is Question Mandatory : No Option Orientation : Vertical**

**Correct Marks : 1 Wrong Marks : 0.25**

निम्नलिखित में से कौन सी नदी कावेरी नदी की उपनदी नहीं है?

**Options :**

1. ✘ भवानी
2. ✔ साबरी
3. ✘ नोय्याल
4. ✘ कबिनी

**Question Number : 57 Question Id : 2752285888 Question Type : MCQ Option Shuffling : Yes Is Question Mandatory : No Option Orientation : Vertical**

**Correct Marks : 1 Wrong Marks : 0.25**

The cultivation of trees and shrubs is known as \_\_\_\_\_.

**Options :**

1. ✘ Viticulture
2. ✘ Pomiculture
3. ✔ Arboriculture
4. ✘ Pisciculture

**Question Number : 57 Question Id : 2752285888 Question Type : MCQ Option Shuffling : Yes Is Question Mandatory : No Option Orientation : Vertical**

**Correct Marks : 1 Wrong Marks : 0.25**

पेड़ों और झाड़ियों की खेती को \_\_\_\_\_ के नाम से जाना जाता है।

**Options :**

1. ✘ द्राक्षाकृषि
2. ✘ फल कृषि
3. ✔ वृक्षसंवर्धन
4. ✘ मत्स्यपालन

**Question Number : 58 Question Id : 2752285889 Question Type : MCQ Option Shuffling : Yes Is Question Mandatory : No Option Orientation : Vertical**

**Correct Marks : 1 Wrong Marks : 0.25**

Which among the following mountain peaks is not located on the Western Ghats?

**Options :**

1. ✘ Kalsubai
2. ✘ Mullayanagiri
3. ✘ Anamudi
4. ✔ Dhupgarh

**Question Number : 58 Question Id : 2752285889 Question Type : MCQ Option Shuffling : Yes Is Question Mandatory : No Option Orientation : Vertical**

**Correct Marks : 1 Wrong Marks : 0.25**

निम्नलिखित में से कौन सा पर्वत शिखर पश्चिमी घाट पर स्थित नहीं है?

**Options :**

1. ✘ कलसूबाई
2. ✘ मुल्लायानगिरी
3. ✘ अनाइमुडी
4. ✔ धूपगढ़

**Question Number : 59 Question Id : 2752285890 Question Type : MCQ Option Shuffling : Yes Is Question Mandatory : No Option Orientation : Vertical**

**Correct Marks : 1 Wrong Marks : 0.25**

The \_\_\_\_\_ was also called the White Flowing River because all the people that were joining the procession were wearing white khadi.

**Options :**

1. ✘ Khilafat Movement
2. ✘ Quit India Movement
3. ✔ Salt March
4. ✘ Non Cooperation Movement

**Question Number : 59 Question Id : 2752285890 Question Type : MCQ Option Shuffling : Yes Is Question Mandatory : No Option Orientation : Vertical**

**Correct Marks : 1 Wrong Marks : 0.25**

\_\_\_\_\_ को सफेद बहने वाली नदी भी कहा जाता था क्योंकि जुलूस में शामिल होने वाले सभी लोग सफेद खादी पहने हुए थे।

**Options :**

1. ✘ खिलाफत आन्दोलन
2. ✘ भारत छोड़ो आन्दोलन
3. ✔ नमक मार्च
4. ✘ असहयोग आन्दोलन

**Question Number : 60 Question Id : 2752285891 Question Type : MCQ Option Shuffling : Yes Is Question Mandatory : No Option Orientation : Vertical**

**Correct Marks : 1 Wrong Marks : 0.25**

When was the Pitt's India Act passed?

**Options :**

1. ✘ 1792
2. ✘ 1786
3. ✘ 1780
4. ✔ 1784

**Question Number : 60 Question Id : 2752285891 Question Type : MCQ Option Shuffling : Yes Is Question Mandatory : No Option Orientation : Vertical**

**Correct Marks : 1 Wrong Marks : 0.25**

पिट का भारत अधिनियम कब पारित किया गया था?

**Options :**

1. ✘ 1792
2. ✘ 1786
3. ✘ 1780
4. ✔ 1784

## General Awareness2

Group Number :	4
Group Id :	275228206
Group Maximum Duration :	0
Group Minimum Duration :	0
Show Attended Group? :	No
Edit Attended Group? :	No
Break time :	0
Group Marks :	20
Is this Group for Examiner? :	No

## General Awareness2

Section Id :	275228308
Section Number :	1
Section type :	Online
Mandatory or Optional :	Mandatory
Number of Questions :	20
Number of Questions to be attempted :	20
Section Marks :	20
Enable Mark as Answered Mark for Review and Clear Response :	Yes
Sub-Section Number :	1
Sub-Section Id :	275228369
Question Shuffling Allowed :	Yes

Question Number : 61 Question Id : 2752285892 Question Type : MCQ Option Shuffling : Yes Is Question Mandatory : No Option

**Orientation : Vertical**

**Correct Marks : 1 Wrong Marks : 0.25**

Who was the Governor General of India during the Fourth Anglo-Mysore War?

**Options :**

1. ✘ Lord Bentinck
2. ✔ Lord Wellesley
3. ✘ Lord Canning
4. ✘ Lord Dalhousie

**Question Number : 61 Question Id : 2752285892 Question Type : MCQ Option Shuffling : Yes Is Question Mandatory : No Option**

**Orientation : Vertical**

**Correct Marks : 1 Wrong Marks : 0.25**

चौथे आंग्ल-मैसूर युद्ध के दौरान भारत के महाराज्यपाल कौन थे?

**Options :**

1. ✘ लॉर्ड बैटिक
2. ✔ लॉर्ड वेल्लेस्ली
3. ✘ लॉर्ड कैनिंग
4. ✘ लॉर्ड डलहौजी

**Question Number : 62 Question Id : 2752285893 Question Type : MCQ Option Shuffling : Yes Is Question Mandatory : No Option**

**Orientation : Vertical**

**Correct Marks : 1 Wrong Marks : 0.25**

Who presided over the Congress Session of Banaras in 1905?

**Options :**

1. ✔ Gopal Krishan Gokhale
2. ✘ Dadabhai Naoroji
3. ✘ Pherozeshah Mehta
4. ✘ Subash Chandra Bose

**Question Number : 62 Question Id : 2752285893 Question Type : MCQ Option Shuffling : Yes Is Question Mandatory : No Option**

**Orientation : Vertical**

**Correct Marks : 1 Wrong Marks : 0.25**

1905 में बनारस के कांग्रेस अधिवेशन की अध्यक्षता किसने की?

**Options :**

1. ✓ गोपाल कृष्ण गोखले
2. ✗ दादाभाई नौरोजी
3. ✗ फिरोज़शाह मेहता
4. ✗ सुभाष चन्द्र बोस

**Question Number : 63 Question Id : 2752285894 Question Type : MCQ Option Shuffling : Yes Is Question Mandatory : No Option Orientation : Vertical**

**Correct Marks : 1 Wrong Marks : 0.25**

When was the Second Battle of Tarain fought?

**Options :**

1. ✗ 1206
2. ✗ 1210
3. ✗ 1190
4. ✓ 1192

**Question Number : 63 Question Id : 2752285894 Question Type : MCQ Option Shuffling : Yes Is Question Mandatory : No Option Orientation : Vertical**

**Correct Marks : 1 Wrong Marks : 0.25**

तराइन का दूसरा युद्ध कब लड़ा गया था?

**Options :**

1. ✗ 1206
2. ✗ 1210
3. ✗ 1190
4. ✓ 1192

**Question Number : 64 Question Id : 2752285895 Question Type : MCQ Option Shuffling : Yes Is Question Mandatory : No Option Orientation : Vertical**

**Correct Marks : 1 Wrong Marks : 0.25**

Who among the following didn't receive the Bharat Ratna award in 2019?

**Options :**

1. ✘ Bhupen Hazarika
2. ✘ Nanaji Deshmukh
3. ✘ Pranab Mukherjee
4. ✔ Virat Kohli

**Question Number : 64 Question Id : 2752285895 Question Type : MCQ Option Shuffling : Yes Is Question Mandatory : No Option Orientation : Vertical**

**Correct Marks : 1 Wrong Marks : 0.25**

निम्नलिखित में से किसने 2019 में भारत रत्न पुरस्कार प्राप्त नहीं किया?

**Options :**

1. ✘ भूपेन हाजरिका
2. ✘ नानाजी देशमुख
3. ✘ प्रणब मुखर्जी
4. ✔ विराट कोहली

**Question Number : 65 Question Id : 2752285896 Question Type : MCQ Option Shuffling : Yes Is Question Mandatory : No Option Orientation : Vertical**

**Correct Marks : 1 Wrong Marks : 0.25**

Who is the author of 'India Divided'?

**Options :**

1. ✘ Jawaharlal Nehru
2. ✔ Rajendra Prasad
3. ✘ Shashi Tharoor
4. ✘ A. P. J. Abdul Kalam

**Question Number : 65 Question Id : 2752285896 Question Type : MCQ Option Shuffling : Yes Is Question Mandatory : No Option Orientation : Vertical**

**Correct Marks : 1 Wrong Marks : 0.25**

'इंडिया डिवाइडेड' के लेखक कौन हैं?

**Options :**

1. ✘ जवाहरलाल नेहरू
2. ✔ राजेन्द्र प्रसाद
3. ✘ शशि थरूर
4. ✘ ए.पी. जे. अब्दुल कलाम

**Question Number : 66 Question Id : 2752285897 Question Type : MCQ Option Shuffling : Yes Is Question Mandatory : No Option Orientation : Vertical**

**Correct Marks : 1 Wrong Marks : 0.25**

Where is the headquarters of the Association of Southeast Asian Nations located?

**Options :**

1. ✘ China
2. ✔ Indonesia
3. ✘ Nepal
4. ✘ Vietnam

**Question Number : 66 Question Id : 2752285897 Question Type : MCQ Option Shuffling : Yes Is Question Mandatory : No Option Orientation : Vertical**

**Correct Marks : 1 Wrong Marks : 0.25**

दक्षिण पूर्वी एशियाई राष्ट्रों का संगठन का मुख्यालय कहाँ स्थित है?

**Options :**

1. ✘ चीन
2. ✔ इंडोनेशिया
3. ✘ नेपाल
4. ✘ वियतनाम

**Question Number : 67 Question Id : 2752285898 Question Type : MCQ Option Shuffling : Yes Is Question Mandatory : No Option Orientation : Vertical**

**Correct Marks : 1 Wrong Marks : 0.25**

Who among the following is the current (August 2021) chief minister of Tripura?

**Options :**

1. ✘ Neiphiu Rio



2. ✘ Conrad Sangma
3. ✘ Prem Singh Tamang
4. ✔ Biplab Kumar Deb

**Question Number : 67 Question Id : 2752285898 Question Type : MCQ Option Shuffling : Yes Is Question Mandatory : No Option Orientation : Vertical**

**Correct Marks : 1 Wrong Marks : 0.25**

निम्नलिखित में से कौन त्रिपुरा के वर्तमान (अगस्त 2021) मुख्यमंत्री हैं?

**Options :**

1. ✘ नेफियू रियो
2. ✘ कॉनराड संगमा
3. ✘ प्रेम सिंह तमांग
4. ✔ बिप्लब कुमार देब

**Question Number : 68 Question Id : 2752285899 Question Type : MCQ Option Shuffling : Yes Is Question Mandatory : No Option Orientation : Vertical**

**Correct Marks : 1 Wrong Marks : 0.25**

Every year, the state of Odisha celebrates Utkal Divas on \_\_\_\_\_.

**Options :**

1. ✔ 1st April
2. ✘ 31st march
3. ✘ 2nd April
4. ✘ 29th March

**Question Number : 68 Question Id : 2752285899 Question Type : MCQ Option Shuffling : Yes Is Question Mandatory : No Option Orientation : Vertical**

**Correct Marks : 1 Wrong Marks : 0.25**

हर वर्ष, ओडिशा राज्य \_\_\_\_\_ को उत्कल दिवस मनाता है।

**Options :**

1. ✔ 1 अप्रैल
2. ✘ 31 मार्च

3. ✘ 2 अप्रैल

4. ✘ 29 मार्च

**Question Number : 69 Question Id : 2752285900 Question Type : MCQ Option Shuffling : Yes Is Question Mandatory : No Option Orientation : Vertical**

**Correct Marks : 1 Wrong Marks : 0.25**

Prime Minister Narendra Modi addressed India to switch off their lights on \_\_\_\_\_ at 9 PM for nine minutes and light lamps or candle.

**Options :**

1. ✔ 5th April 2020

2. ✘ 6th April 2020

3. ✘ 7th April 2020

4. ✘ 4th April 2020

**Question Number : 69 Question Id : 2752285900 Question Type : MCQ Option Shuffling : Yes Is Question Mandatory : No Option Orientation : Vertical**

**Correct Marks : 1 Wrong Marks : 0.25**

प्रधान मंत्री नरेंद्र मोदी ने भारत को संबोधित करते हुए \_\_\_\_\_ को रात के 9 बजे नौ मिनट के लिए लाइट बंद करने और दिया या मोमबत्ती जलाने के लिए कहा।

**Options :**

1. ✔ 5 अप्रैल 2020

2. ✘ 6 अप्रैल 2020

3. ✘ 7 अप्रैल 2020

4. ✘ 4 अप्रैल 2020

**Question Number : 70 Question Id : 2752285901 Question Type : MCQ Option Shuffling : Yes Is Question Mandatory : No Option Orientation : Vertical**

**Correct Marks : 1 Wrong Marks : 0.25**

On April 4, 2020, the associations of civil servants formed an initiative called \_\_\_\_\_ to support the government efforts to fight Corona Virus.

**Options :**

1. ✘ PRAAN

2. ✔ CARUNA

3. ✘ KRUNA

4. ✘ JEEVAN

**Question Number : 70 Question Id : 2752285901 Question Type : MCQ Option Shuffling : Yes Is Question Mandatory : No Option Orientation : Vertical**

**Correct Marks : 1 Wrong Marks : 0.25**

4 अप्रैल, 2020 को, सिविल सेवकों के संघों ने कोरोना वायरस से लड़ने के लिए सरकारी प्रयासों का समर्थन करने के लिए \_\_\_\_\_ नामक एक पहल का गठन किया।

**Options :**

1. ✘ PRAAN

2. ✔ CARUNA

3. ✘ KRUNA

4. ✘ JEEVAN

**Question Number : 71 Question Id : 2752285902 Question Type : MCQ Option Shuffling : Yes Is Question Mandatory : No Option Orientation : Vertical**

**Correct Marks : 1 Wrong Marks : 0.25**

Which among the following applications is launched by the Government of India to map the location of a COVID-19 positive patient through GPS on 2nd April 2020?

**Options :**

1. ✘ Corona Tracker

2. ✔ Corona Kavach

3. ✘ Corona Yojana

4. ✘ Corona Naksha

**Question Number : 71 Question Id : 2752285902 Question Type : MCQ Option Shuffling : Yes Is Question Mandatory : No Option Orientation : Vertical**

**Correct Marks : 1 Wrong Marks : 0.25**

2 अप्रैल 2020 को GPS के माध्यम से कोविड-19 पॉजिटिव मरीज के स्थान का पता लगाने के लिए भारत सरकार द्वारा निम्नलिखित में से कौन सा एप्लिकेशन लॉन्च किया गया है?

**Options :**

1. ✘ कोरोना ट्रैकर

2. ✓ कोरोना कवच
3. ✗ कोरोना योजना
4. ✗ कोरोना नकशा

**Question Number : 72 Question Id : 2752285903 Question Type : MCQ Option Shuffling : Yes Is Question Mandatory : No Option Orientation : Vertical**

**Correct Marks : 1 Wrong Marks : 0.25**

The concept of "Equal Protection Under Law" in the Indian Constitution is borrowed from the constitution of which of the following countries?

**Options :**

1. ✗ Australia
2. ✗ United Kingdom
3. ✗ Ireland
4. ✓ United States of America

**Question Number : 72 Question Id : 2752285903 Question Type : MCQ Option Shuffling : Yes Is Question Mandatory : No Option Orientation : Vertical**

**Correct Marks : 1 Wrong Marks : 0.25**

भारतीय संविधान में "कानून के तहत समान सुरक्षा" की अवधारणा निम्नलिखित में से किस देश के संविधान से उधार ली गई है?

**Options :**

1. ✗ ऑस्ट्रेलिया
2. ✗ यूनाइटेड किंगडम
3. ✗ आयरलैण्ड
4. ✓ संयुक्त राज्य अमेरिका

**Question Number : 73 Question Id : 2752285904 Question Type : MCQ Option Shuffling : Yes Is Question Mandatory : No Option Orientation : Vertical**

**Correct Marks : 1 Wrong Marks : 0.25**

Who among the following is the ex-officio chairman of the Rajya Sabha?

**Options :**

1. ✓ Vice President of India
2. ✗ Finance Minister of India

3. ✘ President of India
4. ✘ Prime Minister of India

**Question Number : 73 Question Id : 2752285904 Question Type : MCQ Option Shuffling : Yes Is Question Mandatory : No Option Orientation : Vertical**

**Correct Marks : 1 Wrong Marks : 0.25**

निम्नलिखित में से कौन राज्यसभा का पद कारणात अध्यक्ष है?

**Options :**

1. ✔ भारत के उपराष्ट्रपति
2. ✘ भारत के वित्त मंत्री
3. ✘ भारत के राष्ट्रपति
4. ✘ भारत के प्रधान मंत्री

**Question Number : 74 Question Id : 2752285905 Question Type : MCQ Option Shuffling : Yes Is Question Mandatory : No Option Orientation : Vertical**

**Correct Marks : 1 Wrong Marks : 0.25**

Which among the following Schedules in the Indian Constitution is associated with the central government, state, and concurrent lists of responsibilities?

**Options :**

1. ✘ Sixth
2. ✘ Ninth
3. ✘ Eighth
4. ✔ Seventh

**Question Number : 74 Question Id : 2752285905 Question Type : MCQ Option Shuffling : Yes Is Question Mandatory : No Option Orientation : Vertical**

**Correct Marks : 1 Wrong Marks : 0.25**

भारतीय संविधान में निम्नलिखित अनुसूचियों में से कौन सी केंद्र सरकार, राज्य और जिम्मेदारियों की समवर्ती सूची से जुड़ी है?

**Options :**

1. ✘ छठी
2. ✘ नौवीं

3. ✘ आठवीं
4. ✔ सातवीं

**Question Number : 75 Question Id : 2752285906 Question Type : MCQ Option Shuffling : Yes Is Question Mandatory : No Option Orientation : Vertical**

**Correct Marks : 1 Wrong Marks : 0.25**

Which among the following Constitutional Amendment incorporated Dadra and Nagar Haveli as a Union Territory?

**Options :**

1. ✘ 8th
2. ✘ 9th
3. ✔ 10th
4. ✘ 11th

**Question Number : 75 Question Id : 2752285906 Question Type : MCQ Option Shuffling : Yes Is Question Mandatory : No Option Orientation : Vertical**

**Correct Marks : 1 Wrong Marks : 0.25**

निम्नलिखित संवैधानिक संशोधन में से किसने दादरा और नगर हवेली को केंद्र शासित प्रदेश के रूप में शामिल किया?

**Options :**

1. ✘ 8वीं
2. ✘ 9वीं
3. ✔ 10वीं
4. ✘ 11वीं

**Question Number : 76 Question Id : 2752285907 Question Type : MCQ Option Shuffling : Yes Is Question Mandatory : No Option Orientation : Vertical**

**Correct Marks : 1 Wrong Marks : 0.25**

As per the FIH Rankings 2020, Indian Men's Hockey Team attained \_\_\_\_\_ position.

**Options :**

1. ✘ 3rd
2. ✔ 5th
3. ✘ 4th

4. ✖ 2nd

**Question Number : 76 Question Id : 2752285907 Question Type : MCQ Option Shuffling : Yes Is Question Mandatory : No Option Orientation : Vertical**

**Correct Marks : 1 Wrong Marks : 0.25**

FIH रैंकिंग 2020 के अनुसार, भारतीय पुरुष हॉकी टीम ने \_\_\_\_\_ स्थान प्राप्त किया।

**Options :**

1. ✖ 3रा

2. ✔ 5वां

3. ✖ 4था

4. ✖ 2रा

**Question Number : 77 Question Id : 2752285908 Question Type : MCQ Option Shuffling : Yes Is Question Mandatory : No Option Orientation : Vertical**

**Correct Marks : 1 Wrong Marks : 0.25**

On March 30, 2020 the International Table Tennis Federation (ITTF) announced that it is suspending all the planned events till \_\_\_\_\_.

**Options :**

1. ✔ 30th June 2020

2. ✖ 31st July 2020

3. ✖ 31st August 2020

4. ✖ 30th September 2020

**Question Number : 77 Question Id : 2752285908 Question Type : MCQ Option Shuffling : Yes Is Question Mandatory : No Option Orientation : Vertical**

**Correct Marks : 1 Wrong Marks : 0.25**

30 मार्च, 2020 को इंटरनेशनल टेबल टेनिस फेडरेशन (ITTF) ने घोषणा की कि वह \_\_\_\_\_ तक सभी नियोजित घटनाओं को निलंबित कर रहा है।

**Options :**

1. ✔ 30 जून 2020

2. ✖ 31 जुलाई 2020

3. ✖ 31 अगस्त 2020

4. ✖ 30 सितंबर 2020

**Question Number : 78 Question Id : 2752285909 Question Type : MCQ Option Shuffling : Yes Is Question Mandatory : No Option Orientation : Vertical**

**Correct Marks : 1 Wrong Marks : 0.25**

Which among the following won the first FIFA World Cup held in 1930?

**Options :**

1. ✘ Yugoslavia
2. ✘ Argentina
3. ✔ Uruguay
4. ✘ United States

**Question Number : 78 Question Id : 2752285909 Question Type : MCQ Option Shuffling : Yes Is Question Mandatory : No Option Orientation : Vertical**

**Correct Marks : 1 Wrong Marks : 0.25**

निम्नलिखित में से किसने 1930 में आयोजित पहला फीफा विश्व कप जीता?

**Options :**

1. ✘ यूगोस्लाविया
2. ✘ अर्जेटीना
3. ✔ उरुग्वे
4. ✘ संयुक्त राज्य

**Question Number : 79 Question Id : 2752285910 Question Type : MCQ Option Shuffling : Yes Is Question Mandatory : No Option Orientation : Vertical**

**Correct Marks : 1 Wrong Marks : 0.25**

Which among the following teams won the Ranji Trophy title for the first time in 70 years in March 2020?

**Options :**

1. ✘ Vidarbha
2. ✘ Karnataka
3. ✘ Bengal
4. ✔ Saurashtra

**Question Number : 79 Question Id : 2752285910 Question Type : MCQ Option Shuffling : Yes Is Question Mandatory : No Option**



**Orientation : Vertical**

**Correct Marks : 1 Wrong Marks : 0.25**

निम्नलिखित में से किस टीम ने मार्च 2020 में 70 वर्षों में पहली बार रणजी ट्रॉफी का खिताब जीता?

**Options :**

1. ✘ विदर्भ
2. ✘ कर्नाटक
3. ✘ बंगाल
4. ✔ सौराष्ट्र

**Question Number : 80 Question Id : 2752285911 Question Type : MCQ Option Shuffling : Yes Is Question Mandatory : No Option**

**Orientation : Vertical**

**Correct Marks : 1 Wrong Marks : 0.25**

Which among the following countries will host the third Asian Youth Games to be held in November 2020 as announced by the Olympic Council of Asia?

**Options :**

1. ✔ China
2. ✘ India
3. ✘ United States
4. ✘ United Kingdom

**Question Number : 80 Question Id : 2752285911 Question Type : MCQ Option Shuffling : Yes Is Question Mandatory : No Option**

**Orientation : Vertical**

**Correct Marks : 1 Wrong Marks : 0.25**

निम्नलिखित में से कौन सा देश, एशिया की ओलंपिक परिषद द्वारा की गई घोषणा के अनुसार नवंबर 2020 में आयोजित होने वाले तीसरे एशियाई युवा खेलों की मेज़बानी करेगा?

**Options :**

1. ✔ चीन
2. ✘ भारत
3. ✘ संयुक्त राज्य
4. ✘ यूनाइटेड किंगडम

## Arithmetic Ability1

Group Number :	5
Group Id :	275228207
Group Maximum Duration :	0
Group Minimum Duration :	0
Show Attended Group? :	No
Edit Attended Group? :	No
Break time :	0
Group Marks :	20
Is this Group for Examiner? :	No

## Arithmetic Ability1

Section Id :	275228309
Section Number :	1
Section type :	Online
Mandatory or Optional :	Mandatory
Number of Questions :	20
Number of Questions to be attempted :	20
Section Marks :	20
Enable Mark as Answered Mark for Review and Clear Response :	Yes
Sub-Section Number :	1
Sub-Section Id :	275228370
Question Shuffling Allowed :	Yes

Question Number : 81 Question Id : 2752285912 Question Type : MCQ Option Shuffling : Yes Is Question Mandatory : No Option Orientation : Vertical

Correct Marks : 1 Wrong Marks : 0.25

HCF of two numbers is 11. If these two numbers are in the ratio 14:15 then, what are the numbers?

Options :

1. ✓ 154, 165

2. ✗ 70, 75

3. ✘ 84, 90
4. ✘ 98, 105

**Question Number : 81 Question Id : 2752285912 Question Type : MCQ Option Shuffling : Yes Is Question Mandatory : No Option Orientation : Vertical**

**Correct Marks : 1 Wrong Marks : 0.25**

दो संख्याओं का महत्तम समापवर्तक 11 है। यदि ये दो संख्याएँ 14:15 के अनुपात में हैं, तो संख्याएँ क्या हैं?

**Options :**

1. ✔ 154, 165
2. ✘ 70, 75
3. ✘ 84, 90
4. ✘ 98, 105

**Question Number : 82 Question Id : 2752285913 Question Type : MCQ Option Shuffling : Yes Is Question Mandatory : No Option Orientation : Vertical**

**Correct Marks : 1 Wrong Marks : 0.25**

When a number is subtracted by 30 percent of another number then, it becomes 120 percent of the another number. What is the ratio between the number and the another number?

**Options :**

1. ✘ 2:5
2. ✘ 3:5
3. ✔ 3:2
4. ✘ 1:4

**Question Number : 82 Question Id : 2752285913 Question Type : MCQ Option Shuffling : Yes Is Question Mandatory : No Option Orientation : Vertical**

**Correct Marks : 1 Wrong Marks : 0.25**

जब एक संख्या को किसी अन्य संख्या के 30 प्रतिशत से घटाया जाता है, तो वह दूसरी संख्या का 120 प्रतिशत हो जाती है। संख्या और दूसरी संख्या के बीच का अनुपात क्या है?

**Options :**

1. ✘ 2:5
2. ✘ 3:5

3. ✓ 3:2

4. ✗ 1:4

**Question Number : 83 Question Id : 2752285914 Question Type : MCQ Option Shuffling : Yes Is Question Mandatory : No Option Orientation : Vertical**

**Correct Marks : 1 Wrong Marks : 0.25**

The price of A increases by 30 paise every year, while the price of B increases by 10 paise every year. If in 1992, the price of A was Rs. 5 and that of B was Rs. 6.50, in which year A will cost 50 paise more than B?

**Options :**

1. ✗ 2000

2. ✗ 1998

3. ✓ 2002

4. ✗ 2005

**Question Number : 83 Question Id : 2752285914 Question Type : MCQ Option Shuffling : Yes Is Question Mandatory : No Option Orientation : Vertical**

**Correct Marks : 1 Wrong Marks : 0.25**

A की लागत हर वर्ष 30 पैसे से बढ़ती है, जबकि B की लागत हर वर्ष 10 पैसे से बढ़ती है। यदि 1992 में, A की लागत 5 रुपए थी और B का 6.50 रुपए था, तो किस वर्ष में B की तुलना में A की लागत 50 पैसे से अधिक होगी?

**Options :**

1. ✗ 2000

2. ✗ 1998

3. ✓ 2002

4. ✗ 2005

**Question Number : 84 Question Id : 2752285915 Question Type : MCQ Option Shuffling : Yes Is Question Mandatory : No Option Orientation : Vertical**

**Correct Marks : 1 Wrong Marks : 0.25**

What is the sum of two consecutive even numbers, the difference of whose squares is 60?

**Options :**

1. ✗ 40

2. ✓ 30

3. ✖ 32

4. ✖ 48

**Question Number : 84 Question Id : 2752285915 Question Type : MCQ Option Shuffling : Yes Is Question Mandatory : No Option Orientation : Vertical**

**Correct Marks : 1 Wrong Marks : 0.25**

दो क्रमागत सम संख्याओं का योग क्या है, जिनके वर्ग का अंतर 60 है?

**Options :**

1. ✖ 40

2. ✔ 30

3. ✖ 32

4. ✖ 48

**Question Number : 85 Question Id : 2752285916 Question Type : MCQ Option Shuffling : Yes Is Question Mandatory : No Option Orientation : Vertical**

**Correct Marks : 1 Wrong Marks : 0.25**

For 12 innings, Pankaj has an average of 104 runs. In the thirteenth inning, he scores 143 runs, thus increasing his average. By how much has his average increased?

**Options :**

1. ✖ 13.7 runs

2. ✖ 17 runs

3. ✖ 8 runs

4. ✔ 3 runs

**Question Number : 85 Question Id : 2752285916 Question Type : MCQ Option Shuffling : Yes Is Question Mandatory : No Option Orientation : Vertical**

**Correct Marks : 1 Wrong Marks : 0.25**

12 पारियों के लिए, पंकज का औसत 104 रन है। तेरहवीं पारी में, उसने 143 रन स्कोर किए, जिससे उसके औसत में वृद्धि हुई। उसके औसत में कितने से वृद्धि हुई है?

**Options :**

1. ✖ 13.7 रन

2. ✖ 17 रन

3. ✖ 8 रन

4. ✔ 3 रन

**Question Number : 86 Question Id : 2752285917 Question Type : MCQ Option Shuffling : Yes Is Question Mandatory : No Option Orientation : Vertical**

**Correct Marks : 1 Wrong Marks : 0.25**

Raghu bought some chocolates at 15 percent discount on the original price. The original price of each chocolate is Rs. 160. If he made a total savings of Rs. 480 then, how many chocolates did he buy?

**Options :**

1. ✖ 30

2. ✔ 20

3. ✖ 40

4. ✖ 32

**Question Number : 86 Question Id : 2752285917 Question Type : MCQ Option Shuffling : Yes Is Question Mandatory : No Option Orientation : Vertical**

**Correct Marks : 1 Wrong Marks : 0.25**

रघु ने मूल लागत पर 15 प्रतिशत छूट पर कुछ चॉकलेट खरीदी। प्रत्येक चॉकलेट की मूल लागत 160 रुपए है। यदि उसने 480 रुपए की कुल बचत की है, तो उसने कितनी चॉकलेट खरीदी?

**Options :**

1. ✖ 30

2. ✔ 20

3. ✖ 40

4. ✖ 32

**Question Number : 87 Question Id : 2752285918 Question Type : MCQ Option Shuffling : Yes Is Question Mandatory : No Option Orientation : Vertical**

**Correct Marks : 1 Wrong Marks : 0.25**

The average of 11 consecutive numbers is 'n'. If the next four numbers are included, then what will be the average?

**Options :**

1. ✖ n

2. ✖ n + 1

3. ✓  $n + 2$

4. ✗  $n + 3$

**Question Number : 87 Question Id : 2752285918 Question Type : MCQ Option Shuffling : Yes Is Question Mandatory : No Option Orientation : Vertical**

**Correct Marks : 1 Wrong Marks : 0.25**

क्रमागत 11 संख्याओं का औसत 'n' है। यदि अगले चार संख्या शामिल की जाती हैं, तो औसत क्या होगा?

**Options :**

1. ✗  $n$

2. ✗  $n + 1$

3. ✓  $n + 2$

4. ✗  $n + 3$

**Question Number : 88 Question Id : 2752285919 Question Type : MCQ Option Shuffling : Yes Is Question Mandatory : No Option Orientation : Vertical**

**Correct Marks : 1 Wrong Marks : 0.25**

Kapil has to pay 42 percent of the money in his wallet as electricity bill. He pays Rs. 756 as electricity bill. How much money does he have in his wallet?

**Options :**

1. ✓ Rs. 1800

2. ✗ Rs. 1600

3. ✗ Rs. 1876

4. ✗ Rs. 1956

**Question Number : 88 Question Id : 2752285919 Question Type : MCQ Option Shuffling : Yes Is Question Mandatory : No Option Orientation : Vertical**

**Correct Marks : 1 Wrong Marks : 0.25**

कपिल को अपने बटुए में स्थित राशि का 42 प्रतिशत बिजली बिल के रूप में भुगतान करना है। वह 756 रुपए बिजली बिल के रूप में देता है। उसके बटुए में कितनी राशि है?

**Options :**

1. ✓ 1800 रुपए

2. ✗ 1600 रुपए

3. ✘ 1876 रुपए

4. ✘ 1956 रुपए

**Question Number : 89 Question Id : 2752285920 Question Type : MCQ Option Shuffling : Yes Is Question Mandatory : No Option Orientation : Vertical**

**Correct Marks : 1 Wrong Marks : 0.25**

In an examination 850 boys and 1120 girls appeared. 30 percent of the boys and 60 percent of the girls passed the exam. What is the percentage of failed candidates?

**Options :**

1. ✘ 10 percent

2. ✘ 48.14 percent

3. ✔ 52.94 percent

4. ✘ 30 percent

**Question Number : 89 Question Id : 2752285920 Question Type : MCQ Option Shuffling : Yes Is Question Mandatory : No Option Orientation : Vertical**

**Correct Marks : 1 Wrong Marks : 0.25**

एक परीक्षा में 850 लड़के और 1120 लड़कियां उपस्थित हुईं। 30 प्रतिशत लड़कों और 60 प्रतिशत लड़कियों ने परीक्षा उत्तीर्ण की। असफल उम्मीदवारों का प्रतिशत क्या है?

**Options :**

1. ✘ 10 प्रतिशत

2. ✘ 48.14 प्रतिशत

3. ✔ 52.94 प्रतिशत

4. ✘ 30 प्रतिशत

**Question Number : 90 Question Id : 2752285921 Question Type : MCQ Option Shuffling : Yes Is Question Mandatory : No Option Orientation : Vertical**

**Correct Marks : 1 Wrong Marks : 0.25**

The total population of a town was 8400 in year 1. The number of males and females increases by 8 percent and 5 percent respectively and consequently the population becomes 8955 in year 2. What was the number of females in the town in year 1?

**Options :**

1. ✘ 4500



2. ✓ 3900
3. ✗ 6000
4. ✗ 4800

**Question Number : 90 Question Id : 2752285921 Question Type : MCQ Option Shuffling : Yes Is Question Mandatory : No Option Orientation : Vertical**

**Correct Marks : 1 Wrong Marks : 0.25**

किसी नगर की कुल जनसंख्या वर्ष 1 में 8400 थी। पुरुषों और महिलाओं की संख्या क्रमशः 8 प्रतिशत और 5 प्रतिशत से बढ़ती है और परिणामस्वरूप जनसंख्या वर्ष 2 में 8955 हो जाती है। वर्ष 1 में नगर में महिलाओं की संख्या कितनी थी?

**Options :**

1. ✗ 4500
2. ✓ 3900
3. ✗ 6000
4. ✗ 4800

**Question Number : 91 Question Id : 2752285922 Question Type : MCQ Option Shuffling : Yes Is Question Mandatory : No Option Orientation : Vertical**

**Correct Marks : 1 Wrong Marks : 0.25**

The number of trees in a city increased by 5 percent in the first year, decreased by 8 percent in second year and increased by 15 percent in third year. If now the number of trees is 11109, then what was the number of trees in the beginning?

**Options :**

1. ✓ 10000
2. ✗ 10500
3. ✗ 10409
4. ✗ 10909

**Question Number : 91 Question Id : 2752285922 Question Type : MCQ Option Shuffling : Yes Is Question Mandatory : No Option Orientation : Vertical**

**Correct Marks : 1 Wrong Marks : 0.25**

पहले वर्ष में एक शहर में पेड़ों की संख्या में 5 प्रतिशत की वृद्धि हुई, दूसरे वर्ष में 8 प्रतिशत की कमी हुई और तीसरे वर्ष में 15 प्रतिशत की वृद्धि हुई। यदि अब पेड़ों की संख्या 11109 है, तो शुरुआत में पेड़ों की संख्या कितनी थी?

**Options :**

1. ✓ 10000
2. ✗ 10500
3. ✗ 10409
4. ✗ 10909

**Question Number : 92 Question Id : 2752285923 Question Type : MCQ Option Shuffling : Yes Is Question Mandatory : No Option Orientation : Vertical**

**Correct Marks : 1 Wrong Marks : 0.25**

By selling a garland for Rs. 11.50, a shopkeeper gains 15 percent. For how much should he sell it to gain 30 percent?

**Options :**

1. ✗ Rs. 12
2. ✗ Rs. 12.50
3. ✓ Rs. 13
4. ✗ Rs. 13.50

**Question Number : 92 Question Id : 2752285923 Question Type : MCQ Option Shuffling : Yes Is Question Mandatory : No Option Orientation : Vertical**

**Correct Marks : 1 Wrong Marks : 0.25**

11.50 रुपए के लिए एक माला बेचकर, एक दुकानदार को 15 प्रतिशत का लाभ होता है। 30 प्रतिशत लाभ अर्जित करने के लिए उसे कितने में बेचना चाहिए?

**Options :**

1. ✗ 12 रुपए
2. ✗ 12.50 रुपए
3. ✓ 13 रुपए
4. ✗ 13.50 रुपए

**Question Number : 93 Question Id : 2752285924 Question Type : MCQ Option Shuffling : Yes Is Question Mandatory : No Option Orientation : Vertical**

**Correct Marks : 1 Wrong Marks : 0.25**

If the price of onions falls by 12 percent, by how much percent must a householder increase its consumption, so as not to decrease his expenditure in this item?

**Options :**

1. ✗ 600/49 percent

2. ✓ 150/11 percent

3. ✗ 100/7 percent

4. ✗ 150/7 percent

**Question Number : 93 Question Id : 2752285924 Question Type : MCQ Option Shuffling : Yes Is Question Mandatory : No Option Orientation : Vertical**

**Correct Marks : 1 Wrong Marks : 0.25**

यदि प्याज की लागत में 12 प्रतिशत की गिरावट आती है, तो गृहस्थ को अपनी खपत में कितने प्रतिशत की वृद्धि करनी चाहिए, ताकि इस मद में उसका व्यय कम न हो?

**Options :**

1. ✗ 600/49 प्रतिशत

2. ✓ 150/11 प्रतिशत

3. ✗ 100/7 प्रतिशत

4. ✗ 150/7 प्रतिशत

**Question Number : 94 Question Id : 2752285925 Question Type : MCQ Option Shuffling : Yes Is Question Mandatory : No Option Orientation : Vertical**

**Correct Marks : 1 Wrong Marks : 0.25**

Trishita bought a video game and paid 10 percent less than the original price. She sold it at 20 percent profit on the price she had paid. What was the percentage of profit earned by Trishita on the original price?

**Options :**

1. ✓ 8 percent

2. ✗ 42 percent

3. ✗ 70 percent

4. ✗ 36 percent

**Question Number : 94 Question Id : 2752285925 Question Type : MCQ Option Shuffling : Yes Is Question Mandatory : No Option Orientation : Vertical**

**Correct Marks : 1 Wrong Marks : 0.25**

त्रिशिता ने एक वीडियो गेम खरीदा और मूल लागत से 10 प्रतिशत कम भुगतान किया। उसने इसे लागत पर 20 प्रतिशत लाभ पर बेचा जो उसने भुगतान की थी। मूल लागत पर त्रिशिता द्वारा अर्जित लाभ का प्रतिशत क्या था?

**Options :**

1. ✓ 8 प्रतिशत
2. ✗ 42 प्रतिशत
3. ✗ 70 प्रतिशत
4. ✗ 36 प्रतिशत

**Question Number : 95 Question Id : 2752285926 Question Type : MCQ Option Shuffling : Yes Is Question Mandatory : No Option Orientation : Vertical**

**Correct Marks : 1 Wrong Marks : 0.25**

Two numbers are in the ratio 6 : 7 and if 16 is added to the first number and 16 is subtracted from the second number then, the ratio becomes 2 :

1. What is the difference between these two numbers?

**Options :**

1. ✗ 5
2. ✗ 18
3. ✗ 12
4. ✓ 6

**Question Number : 95 Question Id : 2752285926 Question Type : MCQ Option Shuffling : Yes Is Question Mandatory : No Option Orientation : Vertical**

**Correct Marks : 1 Wrong Marks : 0.25**

दो संख्याएँ 6 : 7 के अनुपात में हैं और यदि 16 को पहली संख्या में जोड़ा जाता है और 16 को दूसरी संख्या से घटाया जाता है, तो अनुपात 2 : 1 हो जाता है। इन दो संख्याओं के बीच क्या अंतर है?

**Options :**

1. ✗ 5
2. ✗ 18
3. ✗ 12
4. ✓ 6

**Question Number : 96 Question Id : 2752285927 Question Type : MCQ Option Shuffling : Yes Is Question Mandatory : No Option Orientation : Vertical**

**Correct Marks : 1 Wrong Marks : 0.25**

An amount of money is to be divided between Praveen, Pankaj and Rohan in the ratio of 4 : 5 : 9. If the difference between the shares of Pankaj and Rohan is Rs. 6720. What is the total amount of money?

**Options :**

1. ✘ Rs. 36050
2. ✘ Rs. 25120
3. ✔ Rs. 30240
4. ✘ Rs. 38050

**Question Number : 96 Question Id : 2752285927 Question Type : MCQ Option Shuffling : Yes Is Question Mandatory : No Option Orientation : Vertical**

**Correct Marks : 1 Wrong Marks : 0.25**

प्रवीण, पंकज और रोहन के बीच 4 : 5 : 9 के अनुपात में धनराशि को विभाजित किया जाना है। यदि पंकज और रोहन के हिस्सों के बीच का अंतर 6720 रुपए हैं। कुल धनराशि कितनी है?

**Options :**

1. ✘ 36050 रुपए
2. ✘ 25120 रुपए
3. ✔ 30240 रुपए
4. ✘ 38050 रुपए

**Question Number : 97 Question Id : 2752285928 Question Type : MCQ Option Shuffling : Yes Is Question Mandatory : No Option Orientation : Vertical**

**Correct Marks : 1 Wrong Marks : 0.25**

A sum of Rs. 3159 was divided among men and women in such a way that each man gets Rs. 40.50 and each women gets Rs. 31.50. If the total number of men and women is 90. What is the number of women?

**Options :**

1. ✘ 36
2. ✔ 54
3. ✘ 48
4. ✘ 52

**Question Number : 97 Question Id : 2752285928 Question Type : MCQ Option Shuffling : Yes Is Question Mandatory : No Option Orientation : Vertical**

**Correct Marks : 1 Wrong Marks : 0.25**

3159 रुपए की राशि को आदमियों और महिलाओं के बीच इस तरह विभाजित किया गया था कि प्रत्येक आदमी को 40.50 रुपए और प्रत्येक महिला को 31.50

रुपए मिलते हैं। यदि पुरुषों और महिलाओं की कुल संख्या 90 है। तो महिलाओं की संख्या क्या है?

**Options :**

1. ✘ 36
2. ✔ 54
3. ✘ 48
4. ✘ 52

**Question Number : 98 Question Id : 2752285929 Question Type : MCQ Option Shuffling : Yes Is Question Mandatory : No Option Orientation : Vertical**

**Correct Marks : 1 Wrong Marks : 0.25**

Four friends P, Q, R and S have some money among them, they decided to equate the money, so first P gave Q what Q had initially, now Q gave R what R had initially, now R gave S what S had initially and finally S gave P what P had now. Thus each of them had an equal sum of Rs. 124. Then what amount did S have initially?

**Options :**

1. ✘ 178.25
2. ✘ 108.5
3. ✔ 93
4. ✘ 62

**Question Number : 98 Question Id : 2752285929 Question Type : MCQ Option Shuffling : Yes Is Question Mandatory : No Option Orientation : Vertical**

**Correct Marks : 1 Wrong Marks : 0.25**

चार दोस्तों P, Q, R और S के बीच कुछ राशि है, उन्होंने राशि को बराबर करने का फैसला किया, इसलिए पहले P ने Q उतना दिया जितना Q के पास शुरू में था, अब Q ने R को उतना दिया जितना R के पास शुरू में था, अब R ने S को उतना दिया जितना S के पास शुरू में था और आखिरकार S ने P को उतना दिया जितना P के पास अभी है। इस प्रकार उनमें से प्रत्येक के पास 124 रुपए की समान राशि थी। तो शुरू में S के पास कितनी राशि थी?

**Options :**

1. ✘ 178.25
2. ✘ 108.5
3. ✔ 93
4. ✘ 62

**Question Number : 99 Question Id : 2752285930 Question Type : MCQ Option Shuffling : Yes Is Question Mandatory : No Option**

**Orientation : Vertical**

**Correct Marks : 1 Wrong Marks : 0.25**

What is the simple interest on Rs. 72000 at  $5\frac{2}{11}$  percent per annum for a period of 11 months?

**Options :**

1. ✓ Rs. 3420
2. ✗ Rs. 7200
3. ✗ Rs. 4840
4. ✗ Rs. 5120

**Question Number : 99 Question Id : 2752285930 Question Type : MCQ Option Shuffling : Yes Is Question Mandatory : No Option**

**Orientation : Vertical**

**Correct Marks : 1 Wrong Marks : 0.25**

11 महीने की अवधि के लिए प्रति वर्ष  $5\frac{2}{11}$  प्रतिशत और 72000 रुपए पर साधारण ब्याज क्या है ?

**Options :**

1. ✓ 3420 रुपए
2. ✗ 7200 रुपए
3. ✗ 4840 रुपए
4. ✗ 5120 रुपए

**Question Number : 100 Question Id : 2752285931 Question Type : MCQ Option Shuffling : Yes Is Question Mandatory : No Option**

**Orientation : Vertical**

**Correct Marks : 1 Wrong Marks : 0.25**

Akshay lent Rs.8000 to Balraj for 3 years and Rs. 5000 to Kavita for 5 years on simple interest at the same rate of interest and received Rs. 4900 in all from both of them as interest. What is the rate of interest per annum?

**Options :**

1. ✗ 5 percent
2. ✗ 6 percent
3. ✗ 8 percent
4. ✓ 10 percent

**Question Number : 100 Question Id : 2752285931 Question Type : MCQ Option Shuffling : Yes Is Question Mandatory : No Option**

**Orientation : Vertical**

**Correct Marks : 1 Wrong Marks : 0.25**

अक्षय ने समान दर पर साधारण ब्याज पर बलराज को 3 वर्ष के लिए 8000 रुपए और कविता को 5 वर्ष के लिए 5000 रुपए उधार दिए और ब्याज के रूप में उसने दोनों से कुल 4900 रुपए अर्जित किए। प्रति वर्ष ब्याज दर क्या है?

**Options :**

1. ✖ 5 प्रतिशत
2. ✖ 6 प्रतिशत
3. ✖ 8 प्रतिशत
4. ✔ 10 प्रतिशत

## Arithmetic Ability2

<b>Group Number :</b>	6
<b>Group Id :</b>	275228208
<b>Group Maximum Duration :</b>	0
<b>Group Minimum Duration :</b>	0
<b>Show Attended Group? :</b>	No
<b>Edit Attended Group? :</b>	No
<b>Break time :</b>	0
<b>Group Marks :</b>	20
<b>Is this Group for Examiner? :</b>	No

## Arithmetic Ability2

<b>Section Id :</b>	275228310
<b>Section Number :</b>	1
<b>Section type :</b>	Online
<b>Mandatory or Optional :</b>	Mandatory
<b>Number of Questions :</b>	20
<b>Number of Questions to be attempted :</b>	20
<b>Section Marks :</b>	20
<b>Enable Mark as Answered Mark for Review and Clear Response :</b>	Yes
<b>Sub-Section Number :</b>	1



Sub-Section Id :

275228371

Question Shuffling Allowed :

Yes

**Question Number : 101 Question Id : 2752285932 Question Type : MCQ Option Shuffling : Yes Is Question Mandatory : No Option Orientation : Vertical**

**Correct Marks : 1 Wrong Marks : 0.25**

If it is given that simple interest is 8.5 percent annually and compound interest is 8 percent annually, what will be the difference between the interests on Rs. 4000 after 2 years?

**Options :**

1. ✓ Rs. 14.4
2. ✗ Rs. 42
3. ✗ Rs. 53.4
4. ✗ Rs. 58.8

**Question Number : 101 Question Id : 2752285932 Question Type : MCQ Option Shuffling : Yes Is Question Mandatory : No Option Orientation : Vertical**

**Correct Marks : 1 Wrong Marks : 0.25**

मान लीजिए कि यदि साधारण ब्याज प्रतिवर्ष 8.5 प्रतिशत है और चक्रवृद्धि ब्याज प्रतिवर्ष 8 प्रतिशत है, तो 2 वर्ष बाद 4000 रुपए पर ब्याज के बीच क्या अंतर होगा?

**Options :**

1. ✓ 14.4 रुपए
2. ✗ 42 रुपए
3. ✗ 53.4 रुपए
4. ✗ 58.8 रुपए

**Question Number : 102 Question Id : 2752285933 Question Type : MCQ Option Shuffling : Yes Is Question Mandatory : No Option Orientation : Vertical**

**Correct Marks : 1 Wrong Marks : 0.25**

A sum of Rs. 10000 is to be divided between a brother and a sister such that if the interest being compounded annually is 6 percent per annum, then the money with the brother after 3 years is equal to the money with sister after 5 years. What is the share of brother?

**Options :**

1. ✗ Rs. 5984.11

2. ✓ Rs. 5291.01
3. ✗ Rs. 6010.01
4. ✗ Rs. 6111.24

**Question Number : 102 Question Id : 2752285933 Question Type : MCQ Option Shuffling : Yes Is Question Mandatory : No Option Orientation : Vertical**

**Correct Marks : 1 Wrong Marks : 0.25**

10000 रुपए की धन राशि को एक भाई और एक बहन के बीच इस तरह विभाजित किया जाना चाहिए कि यदि वार्षिक रूप से चक्रवृद्धि किया जा रहा ब्याज प्रति वर्ष 6 प्रतिशत है, तो 3 वर्ष के बाद भाई के पास का धन 5 वर्ष के बाद बहन के पास के धन के बराबर है। भाई का हिस्सा क्या है?

**Options :**

1. ✗ 5984.11 रुपए
2. ✓ 5291.01 रुपए
3. ✗ 6010.01 रुपए
4. ✗ 6111.24 रुपए

**Question Number : 103 Question Id : 2752285934 Question Type : MCQ Option Shuffling : Yes Is Question Mandatory : No Option Orientation : Vertical**

**Correct Marks : 1 Wrong Marks : 0.25**

A bus covers four successive 4 km stretches at speeds of 20 kmph, 40 kmph, 60 kmph and 80 kmph respectively. What is the average speed of the bus over the total 16 km?

**Options :**

1. ✗ 45.8 kmph
2. ✗ 50 kmph
3. ✓ 38.4 kmph
4. ✗ 60 kmph

**Question Number : 103 Question Id : 2752285934 Question Type : MCQ Option Shuffling : Yes Is Question Mandatory : No Option Orientation : Vertical**

**Correct Marks : 1 Wrong Marks : 0.25**

एक बस क्रमशः 20 kmph, 40 kmph, 60 kmph और 80 kmph की गति पर चार क्रमिक 4 km दौर को पूरा करती है। कुल 16 km में बस की औसत गति क्या है?

**Options :**

1. ✘ 45.8 kmph
2. ✘ 50 kmph
3. ✔ 38.4 kmph
4. ✘ 60 kmph

**Question Number : 104 Question Id : 2752285935 Question Type : MCQ Option Shuffling : Yes Is Question Mandatory : No Option Orientation : Vertical**

**Correct Marks : 1 Wrong Marks : 0.25**

Sonal travelled a distance of 40 Km at the speed of 6 Km/hr, she reached 20 minutes later than a certain fixed time. If she travels at the speed of 10 Km/hr, how early from the fixed time will she reach?

**Options :**

1. ✔ 2 Hrs 20 minutes
2. ✘ 1 Hrs 30 minutes
3. ✘ 2 Hrs 30 minutes
4. ✘ 3 Hrs

**Question Number : 104 Question Id : 2752285935 Question Type : MCQ Option Shuffling : Yes Is Question Mandatory : No Option Orientation : Vertical**

**Correct Marks : 1 Wrong Marks : 0.25**

सोनल ने 6 Km/hr की गति से 40 Km की दूरी तय की, वह एक निश्चित समय से 20 मिनट बाद पहुंची। यदि वह 10 Km/hr की गति से यात्रा करती है, तो वह निर्धारित समय से कितनी जल्दी पहुंचेगी?

**Options :**

1. ✔ 2 घंटे 20 मिनट
2. ✘ 1 घंटे 30 मिनट
3. ✘ 2 घंटे 30 मिनट
4. ✘ 3 घंटे

**Question Number : 105 Question Id : 2752285936 Question Type : MCQ Option Shuffling : Yes Is Question Mandatory : No Option Orientation : Vertical**

**Correct Marks : 1 Wrong Marks : 0.25**

Akash travelled 160 Kms in 3 hours. He went some distance at the rate of 60 Km/hr and the rest at 40 Km/hr. How far did he travel at the rate of 40 Km/hr?

**Options :**

1. ✘ 60 Km
2. ✔ 40 Km
3. ✘ 36 Km
4. ✘ 50 Km

**Question Number : 105 Question Id : 2752285936 Question Type : MCQ Option Shuffling : Yes Is Question Mandatory : No Option Orientation : Vertical**

**Correct Marks : 1 Wrong Marks : 0.25**

आकाश ने 3 घंटे में 160 Kms की यात्रा की। वह 60 Km/hr की गति से कुछ दूरी तक गया और 40 Km/hr की गति पर बाकी की यात्रा की। उसने 40 Km/hr की गति से कितनी दूरी तय की?

**Options :**

1. ✘ 60 Km
2. ✔ 40 Km
3. ✘ 36 Km
4. ✘ 50 Km

**Question Number : 106 Question Id : 2752285937 Question Type : MCQ Option Shuffling : Yes Is Question Mandatory : No Option Orientation : Vertical**

**Correct Marks : 1 Wrong Marks : 0.25**

Ravi and Mohan together can complete a work in 24 days. Ravi alone can complete the work in 40 days. In how many days Mohan alone can finish this work?

**Options :**

1. ✔ 60 days
2. ✘ 40 days
3. ✘ 45 days
4. ✘ 50 days

**Question Number : 106 Question Id : 2752285937 Question Type : MCQ Option Shuffling : Yes Is Question Mandatory : No Option Orientation : Vertical**

**Correct Marks : 1 Wrong Marks : 0.25**

रवि और मोहन एक साथ 24 दिनों में एक काम पूरा कर सकते हैं। रवि अकेला 40 दिनों में काम पूरा कर सकता है। कितने दिनों में मोहन अकेला यह काम पूरा

कर सकता है?

**Options :**

1. ✓ 60 दिन
2. ✗ 40 दिन
3. ✗ 45 दिन
4. ✗ 50 दिन

**Question Number : 107 Question Id : 2752285938 Question Type : MCQ Option Shuffling : Yes Is Question Mandatory : No Option Orientation : Vertical**

**Correct Marks : 1 Wrong Marks : 0.25**

Rohit can do a work in 15 days. Kapil is 50 percent more efficient than Rohit. In how many days will the work be completed by Kapil?

**Options :**

1. ✗ 30 days
2. ✗ 23 days
3. ✗ 8 days
4. ✓ 10 days

**Question Number : 107 Question Id : 2752285938 Question Type : MCQ Option Shuffling : Yes Is Question Mandatory : No Option Orientation : Vertical**

**Correct Marks : 1 Wrong Marks : 0.25**

रोहित 15 दिनों में एक काम कर सकता है। रोहित की तुलना में कपिल 50 प्रतिशत अधिक कुशल हैं। कपिल कितने दिनों में काम पूरा करेगा?

**Options :**

1. ✗ 30 दिन
2. ✗ 23 दिन
3. ✗ 8 दिन
4. ✓ 10 दिन

**Question Number : 108 Question Id : 2752285939 Question Type : MCQ Option Shuffling : Yes Is Question Mandatory : No Option Orientation : Vertical**

**Correct Marks : 1 Wrong Marks : 0.25**

30 employees of a company working for 6 hours a day, completed a task in 7 days. If 36 employees work for 7 hours a day, then what is the time required to complete the work?

**Options :**

1. ✘ 2 days
2. ✘ 4 days
3. ✔ 5 days
4. ✘ 6 days

**Question Number : 108 Question Id : 2752285939 Question Type : MCQ Option Shuffling : Yes Is Question Mandatory : No Option Orientation : Vertical**

**Correct Marks : 1 Wrong Marks : 0.25**

एक कंपनी के 30 कर्मचारियों ने दिन में 6 घंटे काम करके 7 दिनों में एक काम पूरा किया। यदि 36 कर्मचारी दिन में 7 घंटे काम करते हैं, तो काम पूरा करने के लिए कितना समय चाहिए?

**Options :**

1. ✘ 2 दिन
2. ✘ 4 दिन
3. ✔ 5 दिन
4. ✘ 6 दिन

**Question Number : 109 Question Id : 2752285940 Question Type : MCQ Option Shuffling : Yes Is Question Mandatory : No Option Orientation : Vertical**

**Correct Marks : 1 Wrong Marks : 0.25**

A man, a woman and a boy can complete a work in 4 days, 6 days and 12 days respectively. How many boys must assist 1 man and 1 woman to complete the job in half of a day?

**Options :**

1. ✘ 12
2. ✔ 19
3. ✘ 48
4. ✘ 25

**Question Number : 109 Question Id : 2752285940 Question Type : MCQ Option Shuffling : Yes Is Question Mandatory : No Option Orientation : Vertical**

**Correct Marks : 1 Wrong Marks : 0.25**

एक पुरुष, एक महिला और एक लड़का क्रमशः 4 दिन, 6 दिन और 12 दिनों में एक काम पूरा कर सकते हैं। आधे दिन में काम को पूरा करने के लिए कितने

लड़कों को 1 पुरुष और 1 महिला की सहायता करनी चाहिए?

**Options :**

1. ✘ 12
2. ✔ 19
3. ✘ 48
4. ✘ 25

**Question Number : 110 Question Id : 2752285941 Question Type : MCQ Option Shuffling : Yes Is Question Mandatory : No Option Orientation : Vertical**

**Correct Marks : 1 Wrong Marks : 0.25**

If the ratio of the curved surface area and the volume of a cylinder is 4 : 5 then, what is its diameter?

**Options :**

1. ✔ 5 unit
2. ✘ 4 unit
3. ✘ 7 unit
4. ✘ 10 unit

**Question Number : 110 Question Id : 2752285941 Question Type : MCQ Option Shuffling : Yes Is Question Mandatory : No Option Orientation : Vertical**

**Correct Marks : 1 Wrong Marks : 0.25**

यदि वक्र पृष्ठीय क्षेत्रफल और एक बेलन के आयतन का अनुपात 4 : 5 है, तो इसका व्यास क्या है?

**Options :**

1. ✔ 5 इकाई
2. ✘ 4 इकाई
3. ✘ 7 इकाई
4. ✘ 10 इकाई

**Question Number : 111 Question Id : 2752285942 Question Type : MCQ Option Shuffling : Yes Is Question Mandatory : No Option Orientation : Vertical**

**Correct Marks : 1 Wrong Marks : 0.25**

12 Circular plates each of thickness 2 cm are placed one above the other and a hemisphere of diameter 12 cm is placed on the top just to cover the cylindrical solid. What is the volume of the solid so formed?

**Options :**

1. ✘  $800\pi$  cu cm
2. ✘  $890\pi$  cu cm
3. ✔  $1008\pi$  cu cm
4. ✘  $980\pi$  cu cm

**Question Number : 111 Question Id : 2752285942 Question Type : MCQ Option Shuffling : Yes Is Question Mandatory : No Option Orientation : Vertical**

**Correct Marks : 1 Wrong Marks : 0.25**

12 गोलाकार प्लेटों, 2 cm की मोटाई प्रत्येक को एक के ऊपर एक रखा गया है और 12 cm व्यास के गोलाकार को मात्र बेलनाकार ठोस को ढकने के लिए ऊपर रखा गया है। बनाए गए ठोस का आयतन क्या है?

**Options :**

1. ✘  $800\pi$  cu cm
2. ✘  $890\pi$  cu cm
3. ✔  $1008\pi$  cu cm
4. ✘  $980\pi$  cu cm

**Question Number : 112 Question Id : 2752285943 Question Type : MCQ Option Shuffling : Yes Is Question Mandatory : No Option Orientation : Vertical**

**Correct Marks : 1 Wrong Marks : 0.25**

If the volume of a cone of radius 3.5 cm is 269.5 cu cm, then, what is the height of the cone?

**Options :**

1. ✘ 14 cm
2. ✔ 21 cm
3. ✘ 28 cm
4. ✘ 12 cm

**Question Number : 112 Question Id : 2752285943 Question Type : MCQ Option Shuffling : Yes Is Question Mandatory : No Option Orientation : Vertical**

**Correct Marks : 1 Wrong Marks : 0.25**

यदि 3.5 cm त्रिज्या के शंकु का आयतन 269.5 cu cm है, तो, शंकु की ऊँचाई क्या है?

**Options :**



1. ✘ 14 cm
2. ✔ 21 cm
3. ✘ 28 cm
4. ✘ 12 cm

**Question Number : 113 Question Id : 2752285944 Question Type : MCQ Option Shuffling : Yes Is Question Mandatory : No Option Orientation : Vertical**

**Correct Marks : 1 Wrong Marks : 0.25**

The following table shows the sales by 5 students P, Q, R, S and T during a fair in their school. What is the average sales by these five students?

Name	Sale (in Rs.)
P	242
Q	484
R	180
S	510
T	584

**Options :**

1. ✔ 400
2. ✘ 510
3. ✘ 380
4. ✘ 410

**Question Number : 113 Question Id : 2752285944 Question Type : MCQ Option Shuffling : Yes Is Question Mandatory : No Option Orientation : Vertical**

**Correct Marks : 1 Wrong Marks : 0.25**

निम्नलिखित तालिका उनके विद्यालय में एक मेले के दौरान 5 छात्रों P, Q, R, S और T द्वारा की गई बिक्री को दर्शाती है। इन पांच छात्रों द्वारा की गई औसत बिक्री क्या है?

नाम	बिक्री (रुपए में)
P	242
Q	484
R	180
S	510
T	584

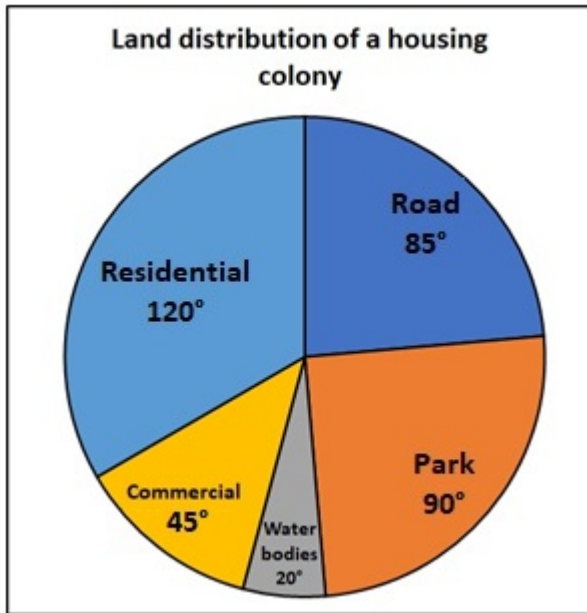
Options :

1. ✓ 400
2. ✗ 510
3. ✗ 380
4. ✗ 410

**Question Number : 114 Question Id : 2752285945 Question Type : MCQ Option Shuffling : Yes Is Question Mandatory : No Option Orientation : Vertical**

**Correct Marks : 1 Wrong Marks : 0.25**

The following pie-chart shows the land distribution of a housing colony. If the total area of the colony is 3600000 sq m. What is the ratio of area allotted for Road to area allotted to Commercial?



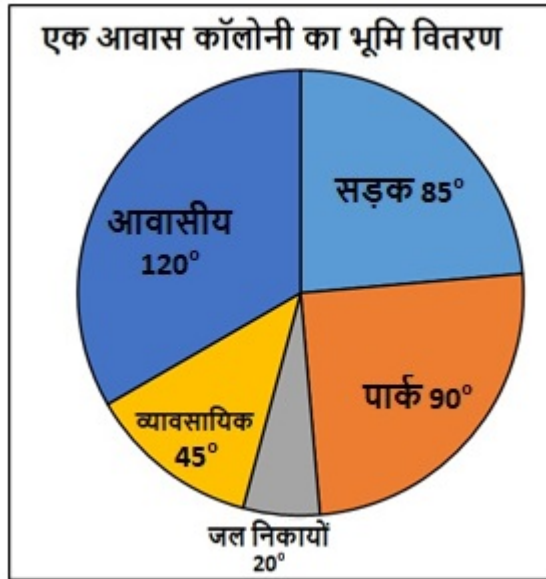
**Options :**

1. ✓ 17 : 9
2. ✗ 9 : 2
3. ✗ 3 : 4
4. ✗ 17 : 24

**Question Number : 114 Question Id : 2752285945 Question Type : MCQ Option Shuffling : Yes Is Question Mandatory : No Option Orientation : Vertical**

**Correct Marks : 1 Wrong Marks : 0.25**

निम्नलिखित पाई-चार्ट एक आवास कॉलोनी के भूमि वितरण को दर्शाता है। यदि कॉलोनी का कुल क्षेत्रफल 3600000 sq m है। तो वाणिज्यिक के लिए आवंटित क्षेत्र से, सड़क के लिए आवंटित क्षेत्र का अनुपात क्या है?



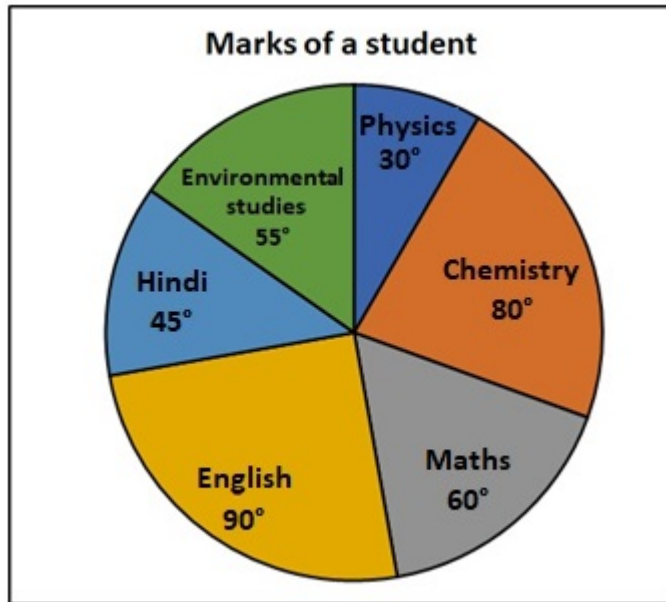
Options :

1. ✓ 17 : 9
2. ✗ 9 : 2
3. ✗ 3 : 4
4. ✗ 17 : 24

Question Number : 115 Question Id : 2752285946 Question Type : MCQ Option Shuffling : Yes Is Question Mandatory : No Option Orientation : Vertical

Correct Marks : 1 Wrong Marks : 0.25

The following pie-chart shows the marks of a student in different subjects in an annual exam. Total marks obtained for the examination is 720. In which subject did the student get 90 marks?



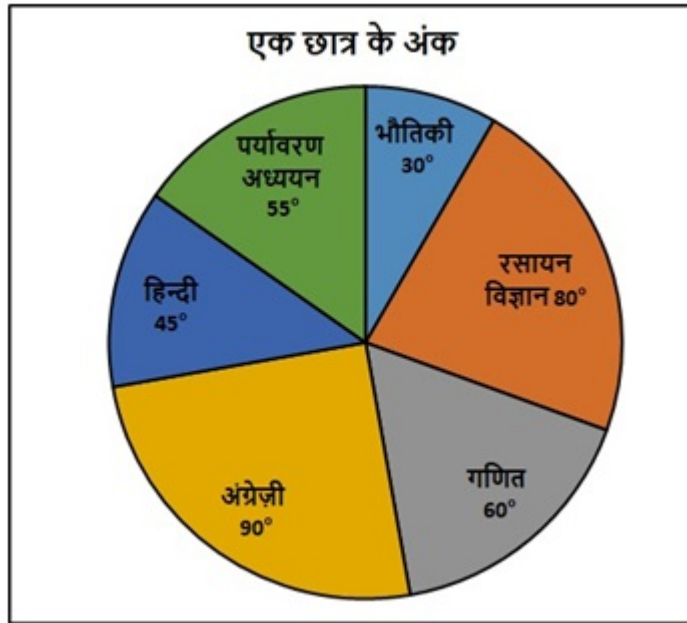
**Options :**

1. ✘ Physics
2. ✘ English
3. ✔ Hindi
4. ✘ Chemistry

**Question Number : 115 Question Id : 2752285946 Question Type : MCQ Option Shuffling : Yes Is Question Mandatory : No Option Orientation : Vertical**

**Correct Marks : 1 Wrong Marks : 0.25**

निम्नलिखित पाई-चार्ट एक वार्षिक परीक्षा में विभिन्न विषयों में एक छात्र के अंकों को दर्शाता है। परीक्षा के लिए प्राप्त कुल अंक 720 हैं। किस विषय में छात्र को 90 अंक प्राप्त हुए हैं?



Options :

- ✘ भौतिकी
- ✘ अंग्रेज़ी
- ✔ हिंदी
- ✘ रसायन विज्ञान

Question Number : 116 Question Id : 2752285947 Question Type : MCQ Option Shuffling : Yes Is Question Mandatory : No Option Orientation : Vertical

Correct Marks : 1 Wrong Marks : 0.25

The following table shows the expenditure of a family in the year 2008. How much percent of the total amount is spent on entertainment?

Activities	Expenditure (in Rs.)
Food	80000
Education	160000
Transport	50000
Housing	140000
Saving	100000
Clothing	40000
Entertainment	30000

Options :

1. ✘ 30 percent
2. ✘ 10 percent
3. ✘ 15 percent
4. ✔ 5 percent

Question Number : 116 Question Id : 2752285947 Question Type : MCQ Option Shuffling : Yes Is Question Mandatory : No Option Orientation : Vertical

Correct Marks : 1 Wrong Marks : 0.25

निम्नलिखित तालिका वर्ष 2008 में एक परिवार के व्यय को दर्शाती है। कुल राशि का कितना प्रतिशत मनोरंजन पर खर्च किया जाता है?

क्रियाएँ	व्यय (रुपए में)
भोजन	80000
शिक्षा	160000
परिवहन	50000
आवास	140000
बचत	100000
कपड़े	40000
मनोरंजन	30000

Options :

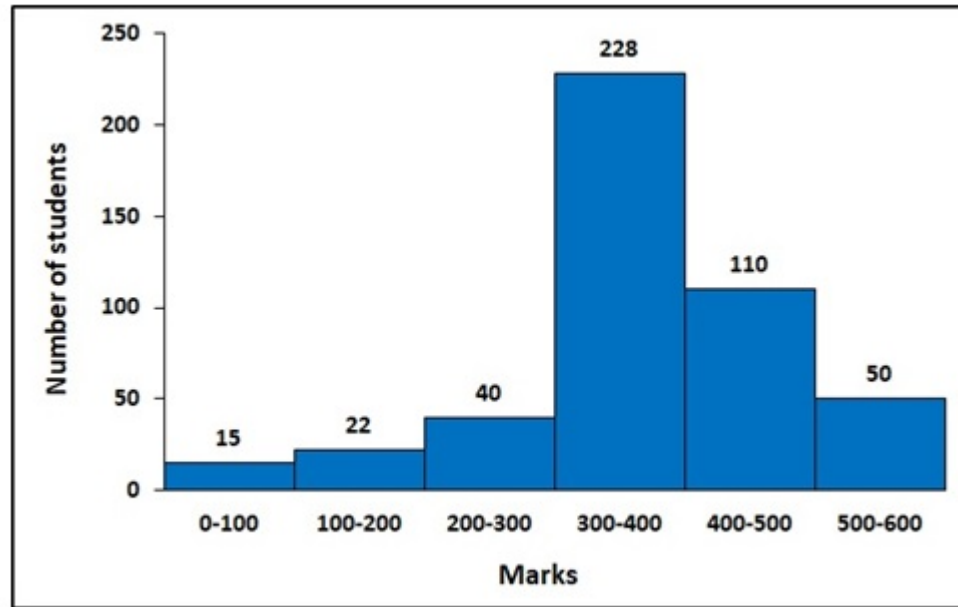
1. ✘ 30 प्रतिशत

2. ✘ 10 प्रतिशत
3. ✘ 15 प्रतिशत
4. ✔ 5 प्रतिशत

**Question Number : 117 Question Id : 2752285948 Question Type : MCQ Option Shuffling : Yes Is Question Mandatory : No Option Orientation : Vertical**

**Correct Marks : 1 Wrong Marks : 0.25**

The following histogram shows the marks of the students of a school. What are the total number of students in this school?



**Options :**

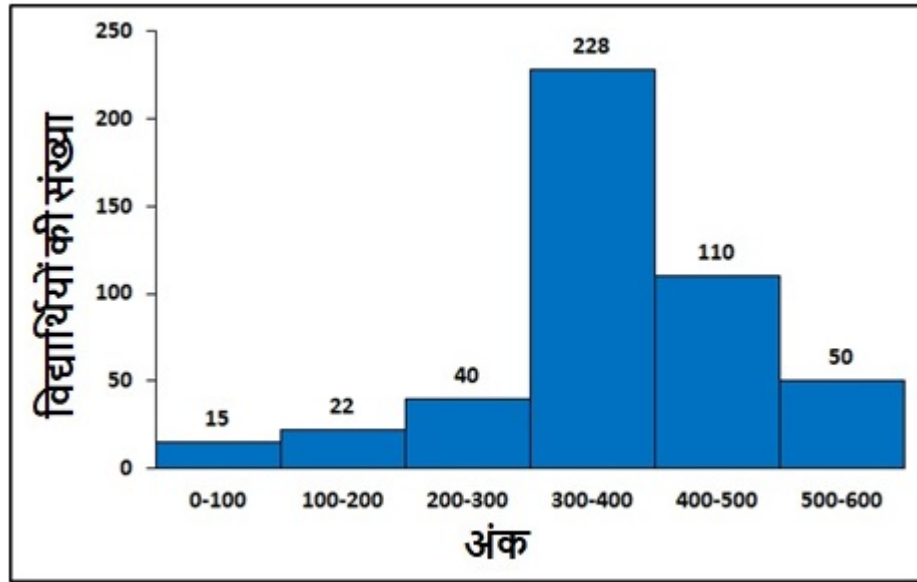
1. ✘ 400
2. ✘ 500
3. ✘ 384
4. ✔ 465

**Question Number : 117 Question Id : 2752285948 Question Type : MCQ Option Shuffling : Yes Is Question Mandatory : No Option Orientation : Vertical**

**Correct Marks : 1 Wrong Marks : 0.25**



निम्नलिखित आयतचित्र एक विद्यालय के छात्रों के अंको को दर्शाता है। इस विद्यालय में छात्रों की कुल संख्या क्या है?



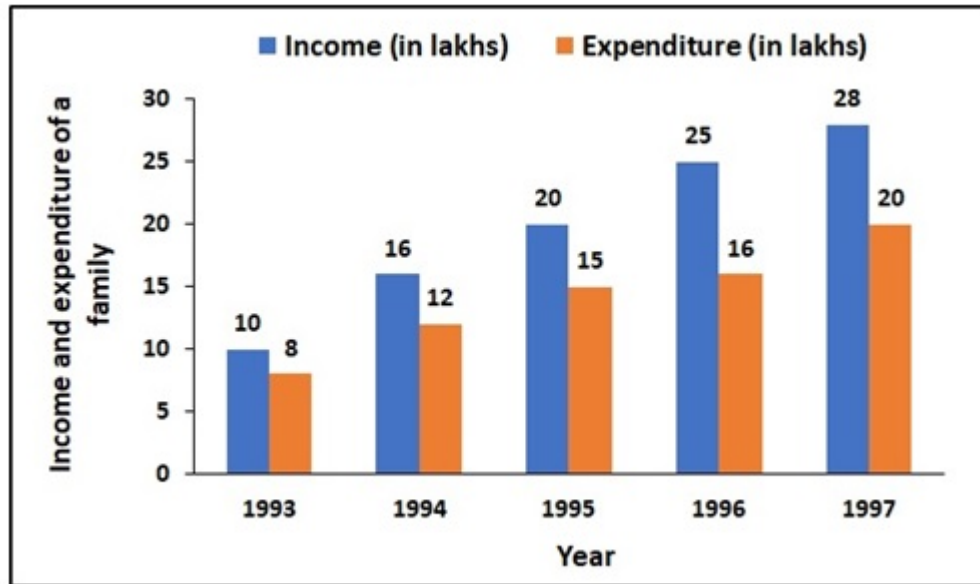
Options :

1. ✘ 400
2. ✘ 500
3. ✘ 384
4. ✔ 465

Question Number : 118 Question Id : 2752285949 Question Type : MCQ Option Shuffling : Yes Is Question Mandatory : No Option Orientation : Vertical

Correct Marks : 1 Wrong Marks : 0.25

The following graph shows the income and expenditure of a family in different years. In which year the savings were maximum?



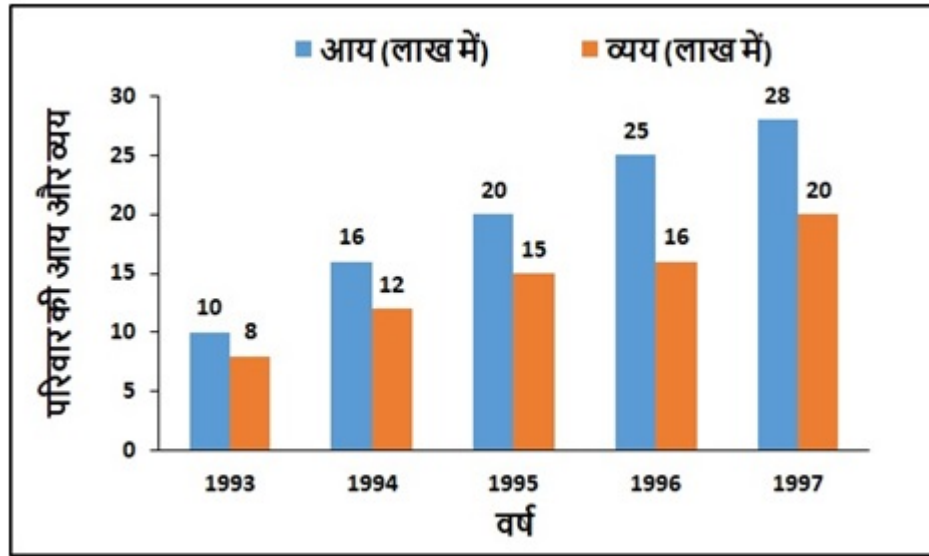
Options :

1. ✘ 1997
2. ✔ 1996
3. ✘ 1995
4. ✘ 1994

Question Number : 118 Question Id : 2752285949 Question Type : MCQ Option Shuffling : Yes Is Question Mandatory : No Option Orientation : Vertical

Correct Marks : 1 Wrong Marks : 0.25

निम्नलिखित ग्राफ विभिन्न वर्षों में एक परिवार की आय और व्यय को दर्शाता है। किस वर्ष में बचत अधिकतम थी?



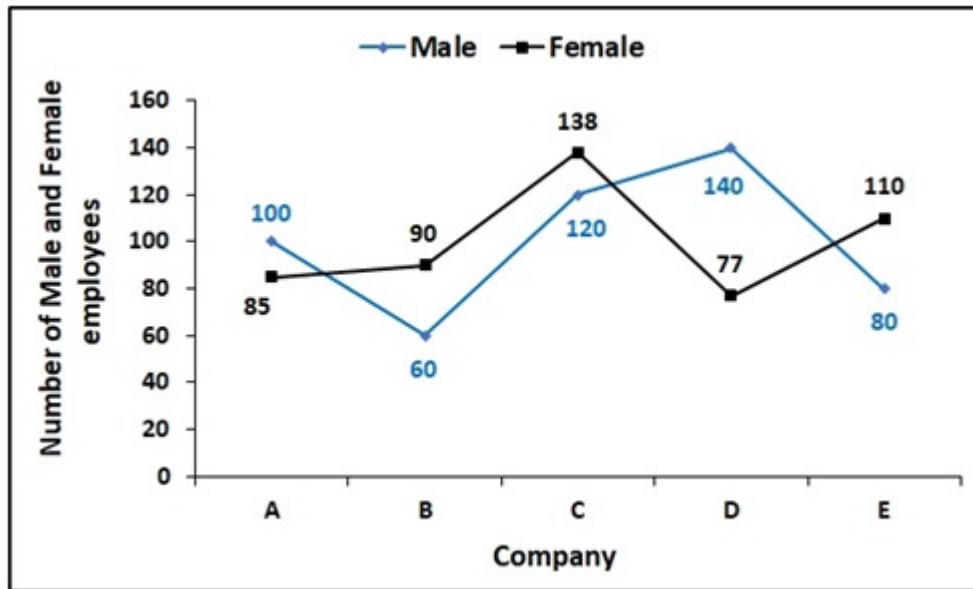
Options :

1. ✘ 1997
2. ✔ 1996
3. ✘ 1995
4. ✘ 1994

**Question Number : 119 Question Id : 2752285950 Question Type : MCQ Option Shuffling : Yes Is Question Mandatory : No Option Orientation : Vertical**

**Correct Marks : 1 Wrong Marks : 0.25**

The following line graph shows the number of male and female employees in five companies. What percentage are the number of females in company E out of the total number of employees in all the companies?



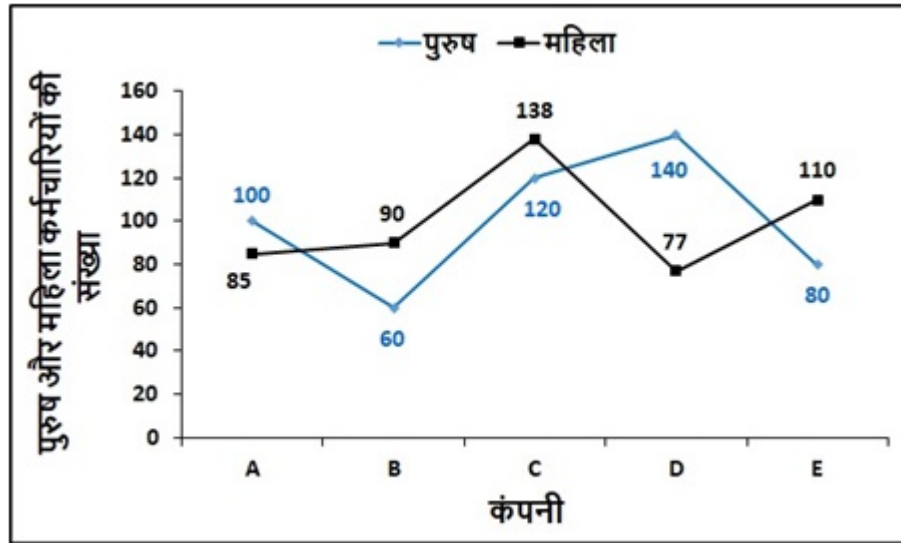
Options :

1. ✘ 77 percent
2. ✘ 54 percent
3. ✘ 22 percent
4. ✔ 11 percent

Question Number : 119 Question Id : 2752285950 Question Type : MCQ Option Shuffling : Yes Is Question Mandatory : No Option Orientation : Vertical

Correct Marks : 1 Wrong Marks : 0.25

निम्नलिखित लाइन ग्राफ पांच कंपनियों में पुरुष और महिला कर्मचारियों की संख्या को दर्शाता है। सभी कंपनियों में कर्मचारियों की कुल संख्या में से कंपनी E में महिलाओं की संख्या का कितना प्रतिशत है?



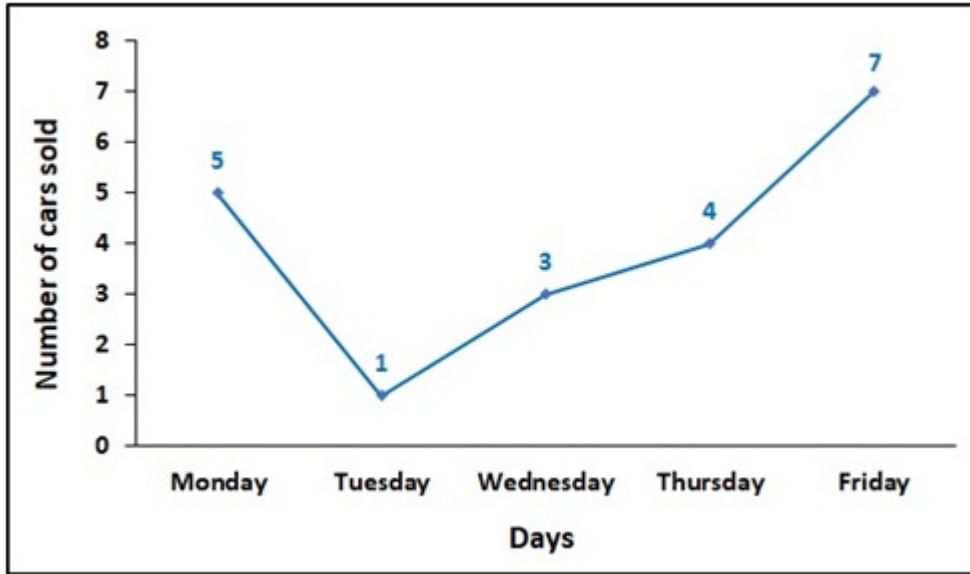
Options :

1. ✘ 77 प्रतिशत
2. ✘ 54 प्रतिशत
3. ✘ 22 प्रतिशत
4. ✔ 11 प्रतिशत

Question Number : 120 Question Id : 2752285951 Question Type : MCQ Option Shuffling : Yes Is Question Mandatory : No Option Orientation : Vertical

Correct Marks : 1 Wrong Marks : 0.25

The following frequency polygon shows the number of cars sold on five days of a week in a showroom. What is the decrease percent of car selling on Tuesday compared to Monday?



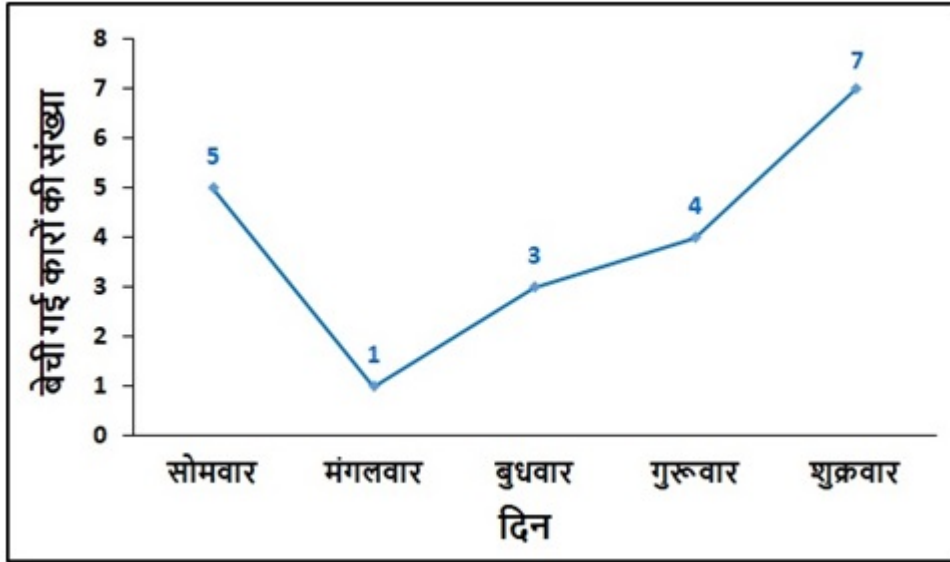
Options :

1. ✘ 400 percent
2. ✘ 120 percent
3. ✔ 80 percent
4. ✘ 40 percent

Question Number : 120 Question Id : 2752285951 Question Type : MCQ Option Shuffling : Yes Is Question Mandatory : No Option Orientation : Vertical

Correct Marks : 1 Wrong Marks : 0.25

निम्नलिखित बारंबरता बहुभुज एक शोरूम में सप्ताह के पांच दिनों में बेची गई कारों की संख्या को दर्शाता है। सोमवार की तुलना में मंगलवार को कार की बिक्री में कमी प्रतिशत क्या है?



Options :

1. ✘ 400 प्रतिशत
2. ✘ 120 प्रतिशत
3. ✔ 80 प्रतिशत
4. ✘ 40 प्रतिशत

## General English1

Group Number :	7
Group Id :	275228209
Group Maximum Duration :	0
Group Minimum Duration :	0
Show Attended Group? :	No
Edit Attended Group? :	No
Break time :	0
Group Marks :	20
Is this Group for Examiner? :	No

# General English1

Section Id :	275228311
Section Number :	1
Section type :	Online
Mandatory or Optional :	Mandatory
Number of Questions :	20
Number of Questions to be attempted :	20
Section Marks :	20
Enable Mark as Answered Mark for Review and Clear Response :	Yes
Sub-Section Number :	1
Sub-Section Id :	275228372
Question Shuffling Allowed :	Yes

**Question Number : 121 Question Id : 2752285952 Question Type : MCQ Option Shuffling : Yes Is Question Mandatory : No Option Orientation : Vertical**

**Correct Marks : 1 Wrong Marks : 0.25**

Find the part of the given sentence that has an error in it. If there is no error, choose 'No error'.

The Karnataka region on average had receive (1)/ heavier rainfall than Kerala, (2)/ Maharashtra and Goa. (3)/ No Error (4)

**Options :**

1. ✓ The Karnataka region on average had receive
2. ✗ heavier rainfall than Kerala,
3. ✗ Maharashtra and Goa.
4. ✗ No Error

**Question Number : 121 Question Id : 2752285952 Question Type : MCQ Option Shuffling : Yes Is Question Mandatory : No Option Orientation : Vertical**

**Correct Marks : 1 Wrong Marks : 0.25**

Find the part of the given sentence that has an error in it. If there is no error, choose 'No error'.

The Karnataka region on average had receive (1)/ heavier rainfall than Kerala, (2)/ Maharashtra and Goa. (3)/ No Error (4)

**Options :**



1. ✓ The Karnataka region on average had receive
2. ✗ heavier rainfall than Kerala,
3. ✗ Maharashtra and Goa.
4. ✗ No Error

**Question Number : 122 Question Id : 2752285953 Question Type : MCQ Option Shuffling : Yes Is Question Mandatory : No Option Orientation : Vertical**

**Correct Marks : 1 Wrong Marks : 0.25**

Find the part of the given sentence that has an error in it. If there is no error, choose 'No error'.

It may probably have involved the knowledge that liberation (1)/ was attained by the combination of mindfulness and dhyāna, applied (2)/ to the understanding of the arising and cease of craving. (3) No Error (4)

**Options :**

1. ✗ It may probably have involved the knowledge that liberation
2. ✗ was attained by the combination of mindfulness and dhyāna, applied
3. ✓ to the understanding of the arising and cease of craving.
4. ✗ No Error

**Question Number : 122 Question Id : 2752285953 Question Type : MCQ Option Shuffling : Yes Is Question Mandatory : No Option Orientation : Vertical**

**Correct Marks : 1 Wrong Marks : 0.25**

Find the part of the given sentence that has an error in it. If there is no error, choose 'No error'.

It may probably have involved the knowledge that liberation (1)/ was attained by the combination of mindfulness and dhyāna, applied (2)/ to the understanding of the arising and cease of craving. (3) No Error (4)

**Options :**

1. ✗ It may probably have involved the knowledge that liberation
2. ✗ was attained by the combination of mindfulness and dhyāna, applied
3. ✓ to the understanding of the arising and cease of craving.
4. ✗ No Error

**Question Number : 123 Question Id : 2752285954 Question Type : MCQ Option Shuffling : Yes Is Question Mandatory : No Option Orientation : Vertical**

**Correct Marks : 1 Wrong Marks : 0.25**

Find the part of the given sentence that has an error in it. If there is no error, choose 'No error'.

According to Bronkhorst, the first two inscriptions are later additions, while insight into (1)/ the four truths represent a later development; within response to concurring religious (2)/ traditions, in which "liberating insight" came to be stressed over the practice of dhyana. (3) No Error (4)

**Options :**

1. ✘ According to Bronkhorst, the first two inscriptions are later additions, while insight into
2. ✔ the four truths represent a later development; within response to concurring religious
3. ✘ traditions, in which "liberating insight" came to be stressed over the practice of dhyana.
4. ✘ No Error

**Question Number : 123 Question Id : 2752285954 Question Type : MCQ Option Shuffling : Yes Is Question Mandatory : No Option Orientation : Vertical**

**Correct Marks : 1 Wrong Marks : 0.25**

Find the part of the given sentence that has an error in it. If there is no error, choose 'No error'.

According to Bronkhorst, the first two inscriptions are later additions, while insight into (1)/ the four truths represent a later development; within response to concurring religious (2)/ traditions, in which "liberating insight" came to be stressed over the practice of dhyana. (3) No Error (4)

**Options :**

1. ✘ According to Bronkhorst, the first two inscriptions are later additions, while insight into
2. ✔ the four truths represent a later development; within response to concurring religious
3. ✘ traditions, in which "liberating insight" came to be stressed over the practice of dhyana.
4. ✘ No Error

**Question Number : 124 Question Id : 2752285955 Question Type : MCQ Option Shuffling : Yes Is Question Mandatory : No Option Orientation : Vertical**

**Correct Marks : 1 Wrong Marks : 0.25**

Find the part of the given sentence that has an error in it. If there is no error, choose 'No error'.

River provide portable water, cheap transportation, (1)/ electricity, and the livelihood for (2)/ many people nationwide. (3)/ No Error (4)

**Options :**

1. ✔ River provide portable water, cheap transportation,
2. ✘ electricity, and the livelihood for
3. ✘ many people nationwide.

4. ✖ No Error

**Question Number : 124 Question Id : 2752285955 Question Type : MCQ Option Shuffling : Yes Is Question Mandatory : No Option Orientation : Vertical**

**Correct Marks : 1 Wrong Marks : 0.25**

Find the part of the given sentence that has an error in it. If there is no error, choose 'No error'.

River provide portable water, cheap transportation, (1)/ electricity, and the livelihood for (2)/ many people nationwide. (3)/ No Error (4)

**Options :**

1. ✔ River provide portable water, cheap transportation,
2. ✖ electricity, and the livelihood for
3. ✖ many people nationwide.
4. ✖ No Error

**Question Number : 125 Question Id : 2752285956 Question Type : MCQ Option Shuffling : Yes Is Question Mandatory : No Option Orientation : Vertical**

**Correct Marks : 1 Wrong Marks : 0.25**

Find the part of the given sentence that has an error in it. If there is no error, choose 'No error'.

Egypt has one of the biggest histories of (1)/ any country, tracing its heritage back (2)/ to the 6th–4th millennia BCE. (3)/ No Error (4)

**Options :**

1. ✔ Egypt has one of the biggest histories of
2. ✖ any country, tracing its heritage back
3. ✖ to the 6th–4th millennia BCE.
4. ✖ No Error

**Question Number : 125 Question Id : 2752285956 Question Type : MCQ Option Shuffling : Yes Is Question Mandatory : No Option Orientation : Vertical**

**Correct Marks : 1 Wrong Marks : 0.25**

Find the part of the given sentence that has an error in it. If there is no error, choose 'No error'.

Egypt has one of the biggest histories of (1)/ any country, tracing its heritage back (2)/ to the 6th–4th millennia BCE. (3)/ No Error (4)

**Options :**

1. ✓ Egypt has one of the biggest histories of
2. ✗ any country, tracing its heritage back
3. ✗ to the 6th–4th millennia BCE.
4. ✗ No Error

**Question Number : 126 Question Id : 2752285957 Question Type : MCQ Option Shuffling : Yes Is Question Mandatory : No Option Orientation : Vertical**

**Correct Marks : 1 Wrong Marks : 0.25**

Select the word segment that substitutes (replaces) the bracketed word segment correctly and completes the sentence meaningfully. Select the option 'no correction required' if the sentence is correct as given.

The range (terminates) north to south along the western edge of the Deccan Plateau, and separates the plateau from a narrow coastal plain, called Konkan, along the Arabian Sea.

**Options :**

1. ✗ absorbs
2. ✓ runs
3. ✗ disperses
4. ✗ No Correction Required

**Question Number : 126 Question Id : 2752285957 Question Type : MCQ Option Shuffling : Yes Is Question Mandatory : No Option Orientation : Vertical**

**Correct Marks : 1 Wrong Marks : 0.25**

Select the word segment that substitutes (replaces) the bracketed word segment correctly and completes the sentence meaningfully. Select the option 'no correction required' if the sentence is correct as given.

The range (terminates) north to south along the western edge of the Deccan Plateau, and separates the plateau from a narrow coastal plain, called Konkan, along the Arabian Sea.

**Options :**

1. ✗ absorbs
2. ✓ runs
3. ✗ disperses
4. ✗ No Correction Required

**Question Number : 127 Question Id : 2752285958 Question Type : MCQ Option Shuffling : Yes Is Question Mandatory : No Option Orientation : Vertical**

**Correct Marks : 1 Wrong Marks : 0.25**

Select the word segment that substitutes (replaces) the bracketed word segment correctly and completes the sentence meaningfully. Select the option 'no correction required' if the sentence is correct as given.

In most armies use of the word "soldier" has taken on a more general (meaning, the increased specialisation) of military occupations that require different areas of knowledge and skill-sets.

**Options :**

1. ✘ meant due to the increased specialisation
2. ✔ meaning due to the increasing specialisation
3. ✘ meaning that the increased specialising
4. ✘ No Correction Required

**Question Number : 127 Question Id : 2752285958 Question Type : MCQ Option Shuffling : Yes Is Question Mandatory : No Option Orientation : Vertical**

**Correct Marks : 1 Wrong Marks : 0.25**

Select the word segment that substitutes (replaces) the bracketed word segment correctly and completes the sentence meaningfully. Select the option 'no correction required' if the sentence is correct as given.

In most armies use of the word "soldier" has taken on a more general (meaning, the increased specialisation) of military occupations that require different areas of knowledge and skill-sets.

**Options :**

1. ✘ meant due to the increased specialisation
2. ✔ meaning due to the increasing specialisation
3. ✘ meaning that the increased specialising
4. ✘ No Correction Required

**Question Number : 128 Question Id : 2752285959 Question Type : MCQ Option Shuffling : Yes Is Question Mandatory : No Option Orientation : Vertical**

**Correct Marks : 1 Wrong Marks : 0.25**

Select the word segment that substitutes (replaces) the bracketed word segment correctly and completes the sentence meaningfully. Select the option 'no correction required' if the sentence is correct as given.

As machines (became increasing capability, tasks considering) to require "intelligence" are often removed from the definition of AI, a phenomenon known as the AI effect.

**Options :**

1. ✓ become increasingly capable, tasks considered
2. ✘ become increasingly capable, tasks considering
3. ✘ increased capability, task considered
4. ✘ No Correction Required

**Question Number : 128 Question Id : 2752285959 Question Type : MCQ Option Shuffling : Yes Is Question Mandatory : No Option Orientation : Vertical**

**Correct Marks : 1 Wrong Marks : 0.25**

Select the word segment that substitutes (replaces) the bracketed word segment correctly and completes the sentence meaningfully. Select the option 'no correction required' if the sentence is correct as given.

As machines (became increasing capability, tasks considering) to require "intelligence" are often removed from the definition of AI, a phenomenon known as the AI effect.

**Options :**

1. ✓ become increasingly capable, tasks considered
2. ✘ become increasingly capable, tasks considering
3. ✘ increased capability, task considered
4. ✘ No Correction Required

**Question Number : 129 Question Id : 2752285960 Question Type : MCQ Option Shuffling : Yes Is Question Mandatory : No Option Orientation : Vertical**

**Correct Marks : 1 Wrong Marks : 0.25**

Select the word segment that substitutes (replaces) the bracketed word segment correctly and completes the sentence meaningfully. Select the option 'no correction required' if the sentence is correct as given.

The pieces (move and capture tilted forward), until they reach the opposite end of the board, when they are crowned and can thereafter move and capture both backward and forward.

**Options :**

1. ✘ moved and captured tilted forward
2. ✘ moved and captured diagonally ahead
3. ✓ move and capture diagonally forward

4. ✘ No Correction Required

**Question Number : 129 Question Id : 2752285960 Question Type : MCQ Option Shuffling : Yes Is Question Mandatory : No Option Orientation : Vertical**

**Correct Marks : 1 Wrong Marks : 0.25**

Select the word segment that substitutes (replaces) the bracketed word segment correctly and completes the sentence meaningfully. Select the option 'no correction required' if the sentence is correct as given.

The pieces (move and capture tilted forward), until they reach the opposite end of the board, when they are crowned and can thereafter move and capture both backward and forward.

**Options :**

1. ✘ moved and captured tilted forward
2. ✘ moved and captured diagonally ahead
3. ✔ move and capture diagonally forward
4. ✘ No Correction Required

**Question Number : 130 Question Id : 2752285961 Question Type : MCQ Option Shuffling : Yes Is Question Mandatory : No Option Orientation : Vertical**

**Correct Marks : 1 Wrong Marks : 0.25**

Fill in the blank with the appropriate word.

Tea is an \_\_\_\_\_ beverage commonly prepared by pouring hot or boiling water over cured leaves of the *Camellia sinensis*, an evergreen shrub native to East Asia.

**Options :**

1. ✘ austere
2. ✘ wholesome
3. ✔ aromatic
4. ✘ luscious

**Question Number : 130 Question Id : 2752285961 Question Type : MCQ Option Shuffling : Yes Is Question Mandatory : No Option Orientation : Vertical**

**Correct Marks : 1 Wrong Marks : 0.25**

Fill in the blank with the appropriate word.

Tea is an \_\_\_\_\_ beverage commonly prepared by pouring hot or boiling water over cured leaves of the Camellia sinensis, an evergreen shrub native to East Asia.

**Options :**

1. ✘ austere
2. ✘ wholesome
3. ✔ aromatic
4. ✘ luscious

**Question Number : 131 Question Id : 2752285962 Question Type : MCQ Option Shuffling : Yes Is Question Mandatory : No Option Orientation : Vertical**

**Correct Marks : 1 Wrong Marks : 0.25**

Fill in the blank with the appropriate word.

The civilian economy, which had slowly \_\_\_\_\_ throughout the war, reached disastrous levels by the middle of 1945.

**Options :**

1. ✔ deteriorated
2. ✘ ameliorated
3. ✘ augmented
4. ✘ modernized

**Question Number : 131 Question Id : 2752285962 Question Type : MCQ Option Shuffling : Yes Is Question Mandatory : No Option Orientation : Vertical**

**Correct Marks : 1 Wrong Marks : 0.25**

Fill in the blank with the appropriate word.

The civilian economy, which had slowly \_\_\_\_\_ throughout the war, reached disastrous levels by the middle of 1945.

**Options :**

1. ✔ deteriorated
2. ✘ ameliorated
3. ✘ augmented
4. ✘ modernized

**Question Number : 132 Question Id : 2752285963 Question Type : MCQ Option Shuffling : Yes Is Question Mandatory : No Option**



**Orientation : Vertical**

**Correct Marks : 1 Wrong Marks : 0.25**

Fill in the blank with the appropriate word.

The \_\_\_\_\_ anchored off Calais, while awaiting communications from the Duke of Parma, it was scattered by an English fire ship night attack and abandoned its rendezvous with Parma's army that was blockaded in harbour by Dutch flyboats.

**Options :**

1. ✘ Squadron
2. ✔ Armada
3. ✘ Troop
4. ✘ Shoal

**Question Number : 132 Question Id : 2752285963 Question Type : MCQ Option Shuffling : Yes Is Question Mandatory : No Option**

**Orientation : Vertical**

**Correct Marks : 1 Wrong Marks : 0.25**

Fill in the blank with the appropriate word.

The \_\_\_\_\_ anchored off Calais, while awaiting communications from the Duke of Parma, it was scattered by an English fire ship night attack and abandoned its rendezvous with Parma's army that was blockaded in harbour by Dutch flyboats.

**Options :**

1. ✘ Squadron
2. ✔ Armada
3. ✘ Troop
4. ✘ Shoal

**Question Number : 133 Question Id : 2752285964 Question Type : MCQ Option Shuffling : Yes Is Question Mandatory : No Option**

**Orientation : Vertical**

**Correct Marks : 1 Wrong Marks : 0.25**

Fill in the blank with the appropriate word.

Etching is an intaglio method of printmaking in which the image is \_\_\_\_\_ into the surface of a metal plate using an acid.

**Options :**

1. ✘ expunged
2. ✘ withdrawn

3. ✘ detached

4. ✔ incised

**Question Number : 133 Question Id : 2752285964 Question Type : MCQ Option Shuffling : Yes Is Question Mandatory : No Option Orientation : Vertical**

**Correct Marks : 1 Wrong Marks : 0.25**

Fill in the blank with the appropriate word.

Etching is an intaglio method of printmaking in which the image is \_\_\_\_\_ into the surface of a metal plate using an acid.

**Options :**

1. ✘ expunged

2. ✘ withdrawn

3. ✘ detached

4. ✔ incised

**Question Number : 134 Question Id : 2752285965 Question Type : MCQ Option Shuffling : Yes Is Question Mandatory : No Option Orientation : Vertical**

**Correct Marks : 1 Wrong Marks : 0.25**

Some parts of a few sentences have been jumbled up, and labelled P, Q, R and S. Select the option that gives the correct sequence in which these parts can be rearranged to form a meaningful and grammatically correct sentence.

Because the

P: of any natural material. Few types of impurity can contaminate it. Small numbers

Q: pink, orange or red. Diamond also has relatively

R: arrangement of atoms in diamond is extremely rigid, it has the highest hardness and thermal conductivity

S: of defects or impurities colour the diamond blue, yellow, brown, green, purple,

high optical dispersion.

**Options :**

1. ✘ SRPQ

2. ✘ PQSR

3. ✔ RPSQ

4. ✘ QSPR

**Question Number : 134 Question Id : 2752285965 Question Type : MCQ Option Shuffling : Yes Is Question Mandatory : No Option Orientation : Vertical**

**Correct Marks : 1 Wrong Marks : 0.25**

Some parts of a few sentences have been jumbled up, and labelled P, Q, R and S. Select the option that gives the correct sequence in which these parts can be rearranged to form a meaningful and grammatically correct sentence.

Because the

P: of any natural material. Few types of impurity can contaminate it. Small numbers

Q: pink, orange or red. Diamond also has relatively

R: arrangement of atoms in diamond is extremely rigid, it has the highest hardness and thermal conductivity

S: of defects or impurities colour the diamond blue, yellow, brown, green, purple,

high optical dispersion.

**Options :**

1. ✘ SRPQ

2. ✘ PQSR

3. ✔ RPSQ

4. ✘ QSPR

**Question Number : 135 Question Id : 2752285966 Question Type : MCQ Option Shuffling : Yes Is Question Mandatory : No Option Orientation : Vertical**

**Correct Marks : 1 Wrong Marks : 0.25**

Some parts of a sentence have been jumbled up, and labelled P, Q, R and S. Select the option that gives the correct sequence in which these parts can be rearranged to form a meaningful and grammatically correct sentence.

The Indian rebellion

P: summary treatment of some rich landowners

Q: and princes, as well as scepticism about the improvements

R: was fed by resentments born of diverse perceptions,

S: including invasive British-style social reforms, harsh land taxes,

brought about by British rule.

**Options :**

1. ✘ PSRQ
2. ✔ RSPQ
3. ✘ SQRP
4. ✘ QPRS

**Question Number : 135 Question Id : 2752285966 Question Type : MCQ Option Shuffling : Yes Is Question Mandatory : No Option Orientation : Vertical**

**Correct Marks : 1 Wrong Marks : 0.25**

Some parts of a sentence have been jumbled up, and labelled P, Q, R and S. Select the option that gives the correct sequence in which these parts can be rearranged to form a meaningful and grammatically correct sentence.

The Indian rebellion

P: summary treatment of some rich landowners

Q: and princes, as well as scepticism about the improvements

R: was fed by resentments born of diverse perceptions,

S: including invasive British-style social reforms, harsh land taxes,

brought about by British rule.

**Options :**

1. ✘ PSRQ
2. ✔ RSPQ
3. ✘ SQRP
4. ✘ QPRS

**Question Number : 136 Question Id : 2752285967 Question Type : MCQ Option Shuffling : Yes Is Question Mandatory : No Option Orientation : Vertical**

**Correct Marks : 1 Wrong Marks : 0.25**

Some parts of a passage have been jumbled up, and labelled P, Q, R and S. Select the option that gives the correct sequence in which these parts can be rearranged to form a meaningful passage.

Royal Enfield was a brand name under which The Enfield Cycle Company Limited of Redditch, Worcestershire sold motorcycles, bicycles, lawnmowers and stationary engines which they had manufactured.

P: The first Royal Enfield motorcycle was built in 1901.

Q: In 1955, Enfield Cycle Company partnered with Madras Motors in India in forming Enfield of India, based in Chennai, and started assembling the 350cc Royal Enfield Bullet motorcycle in Madras.

R: Enfield Cycle Company also used the brand name Enfield without Royal.

S: The Enfield Cycle Company is responsible for the design and original production of the Royal Enfield Bullet, the longest-lived motorcycle design in history.

The Indian government wanted a motorcycle for its police and army, for patrolling the country's border. The Royal Enfield Bullet from Enfield of India was chosen as the most suitable bike for the job.

**Options :**

1. ✘ SRQP

2. ✘ SPQR

3. ✘ QSRP

4. ✔ RPSQ

**Question Number : 136 Question Id : 2752285967 Question Type : MCQ Option Shuffling : Yes Is Question Mandatory : No Option Orientation : Vertical**

**Correct Marks : 1 Wrong Marks : 0.25**

Some parts of a passage have been jumbled up, and labelled P, Q, R and S. Select the option that gives the correct sequence in which these parts can be rearranged to form a meaningful passage.

Royal Enfield was a brand name under which The Enfield Cycle Company Limited of Redditch, Worcestershire sold motorcycles, bicycles, lawnmowers and stationary engines which they had manufactured.

P: The first Royal Enfield motorcycle was built in 1901.

Q: In 1955, Enfield Cycle Company partnered with Madras Motors in India in forming Enfield of India, based in Chennai, and started assembling the 350cc Royal Enfield Bullet motorcycle in Madras.

R: Enfield Cycle Company also used the brand name Enfield without Royal.

S: The Enfield Cycle Company is responsible for the design and original production of the Royal Enfield Bullet, the longest-lived motorcycle design in history.

The Indian government wanted a motorcycle for its police and army, for patrolling the country's border. The Royal Enfield Bullet from Enfield of India was chosen as the most suitable bike for the job.

**Options :**

1. ✘ SRQP

2. ✘ SPQR

3. ✘ QSRP

4. ✓ RPSQ

**Question Number : 137 Question Id : 2752285968 Question Type : MCQ Option Shuffling : Yes Is Question Mandatory : No Option Orientation : Vertical**

**Correct Marks : 1 Wrong Marks : 0.25**

Some parts of a passage have been jumbled up, and labelled P, Q, R and S. Select the option that gives the correct sequence in which these parts can be rearranged to form a meaningful passage.

Most monarchies only have a single person acting as monarch at any given time.

P: There are examples of joint sovereignty of spouses, parent and child or other relatives.

Q: The Empire of Austria-Hungary also had diarchy from 1867 till its collapse in the wake of World War I.

R: Although two monarchs have ruled simultaneously in some countries, a situation known as diarchy.

S: Historically this was the case in the ancient Greek city-state of Sparta, 17th-century Russia.

The leaders of such joint sovereignty are usually known as corulers.

**Options :**

1. ✗ PSRQ

2. ✓ RSQP

3. ✗ SPQR

4. ✗ QPSR

**Question Number : 137 Question Id : 2752285968 Question Type : MCQ Option Shuffling : Yes Is Question Mandatory : No Option Orientation : Vertical**

**Correct Marks : 1 Wrong Marks : 0.25**

Some parts of a passage have been jumbled up, and labelled P, Q, R and S. Select the option that gives the correct sequence in which these parts can be rearranged to form a meaningful passage.

Most monarchies only have a single person acting as monarch at any given time.

P: There are examples of joint sovereignty of spouses, parent and child or other relatives.

Q: The Empire of Austria-Hungary also had diarchy from 1867 till its collapse in the wake of World War I.

R: Although two monarchs have ruled simultaneously in some countries, a situation known as diarchy.

S: Historically this was the case in the ancient Greek city-state of Sparta, 17th-century Russia.

The leaders of such joint sovereignty are usually known as corulers.

**Options :**

1. ✘ PSRQ
2. ✔ RSQP
3. ✘ SPQR
4. ✘ QPSR

**Question Number : 138 Question Id : 2752285969 Question Type : MCQ Option Shuffling : Yes Is Question Mandatory : No Option Orientation : Vertical**

**Correct Marks : 1 Wrong Marks : 0.25**

Select the word that is closest in meaning (SYNONYM) to the word given below.

Persistent

**Options :**

1. ✘ Intermittent
2. ✘ Delinquent
3. ✔ Continual
4. ✘ Periodic

**Question Number : 138 Question Id : 2752285969 Question Type : MCQ Option Shuffling : Yes Is Question Mandatory : No Option Orientation : Vertical**

**Correct Marks : 1 Wrong Marks : 0.25**

Select the word that is closest in meaning (SYNONYM) to the word given below.

Persistent

**Options :**

1. ✘ Intermittent
2. ✘ Delinquent
3. ✔ Continual
4. ✘ Periodic

**Question Number : 139 Question Id : 2752285970 Question Type : MCQ Option Shuffling : Yes Is Question Mandatory : No Option Orientation : Vertical**

**Correct Marks : 1 Wrong Marks : 0.25**

Select the word that is the opposite meaning (ANTONYM) to the word given below.

Lugubrious

**Options :**

1. ✓ Joyful
2. ✗ Pensive
3. ✗ Gloomy
4. ✗ Honest

**Question Number : 139 Question Id : 2752285970 Question Type : MCQ Option Shuffling : Yes Is Question Mandatory : No Option Orientation : Vertical**

**Correct Marks : 1 Wrong Marks : 0.25**

Select the word that is the opposite meaning (ANTONYM) to the word given below.

Lugubrious

**Options :**

1. ✓ Joyful
2. ✗ Pensive
3. ✗ Gloomy
4. ✗ Honest

**Question Number : 140 Question Id : 2752285971 Question Type : MCQ Option Shuffling : Yes Is Question Mandatory : No Option Orientation : Vertical**

**Correct Marks : 1 Wrong Marks : 0.25**

Select the word that is closest in meaning (SYNONYM) to the word given below.

Terse

**Options :**

1. ✓ Brusque
2. ✗ Harsh
3. ✗ Long
4. ✗ Verbose



**Question Number : 140 Question Id : 2752285971 Question Type : MCQ Option Shuffling : Yes Is Question Mandatory : No Option Orientation : Vertical**

**Correct Marks : 1 Wrong Marks : 0.25**

Select the word that is closest in meaning (SYNONYM) to the word given below.

Terse

**Options :**

1. ✓ Brusque
2. ✗ Harsh
3. ✗ Long
4. ✗ Verbose

## General English2

<b>Group Number :</b>	8
<b>Group Id :</b>	275228210
<b>Group Maximum Duration :</b>	0
<b>Group Minimum Duration :</b>	0
<b>Show Attended Group? :</b>	No
<b>Edit Attended Group? :</b>	No
<b>Break time :</b>	0
<b>Group Marks :</b>	20
<b>Is this Group for Examiner? :</b>	No

## General English2

<b>Section Id :</b>	275228312
<b>Section Number :</b>	1
<b>Section type :</b>	Online
<b>Mandatory or Optional :</b>	Mandatory
<b>Number of Questions :</b>	16
<b>Number of Questions to be attempted :</b>	16
<b>Section Marks :</b>	20

**Enable Mark as Answered Mark for Review and Clear Response :** Yes  
**Sub-Section Number :** 1  
**Sub-Section Id :** 275228373  
**Question Shuffling Allowed :** Yes

**Question Number : 141 Question Id : 2752285972 Question Type : MCQ Option Shuffling : Yes Is Question Mandatory : No Option Orientation : Vertical**

**Correct Marks : 1 Wrong Marks : 0.25**

Select the word that is the opposite meaning (ANTONYM) to the word given below.

Approbation

**Options :**

1. ✘ Esteem
2. ✘ Permission
3. ✔ Disagreement
4. ✘ Countenance

**Question Number : 141 Question Id : 2752285972 Question Type : MCQ Option Shuffling : Yes Is Question Mandatory : No Option Orientation : Vertical**

**Correct Marks : 1 Wrong Marks : 0.25**

Select the word that is the opposite meaning (ANTONYM) to the word given below.

Approbation

**Options :**

1. ✘ Esteem
2. ✘ Permission
3. ✔ Disagreement
4. ✘ Countenance

**Question Number : 142 Question Id : 2752285973 Question Type : MCQ Option Shuffling : Yes Is Question Mandatory : No Option Orientation : Vertical**

**Correct Marks : 1 Wrong Marks : 0.25**

Select the word that is closest in meaning (SYNONYM) to the word given below.

Precipice

**Options :**

1. ✘ Sweat
2. ✘ Rain
3. ✔ Cliff
4. ✘ Cheap

**Question Number : 142 Question Id : 2752285973 Question Type : MCQ Option Shuffling : Yes Is Question Mandatory : No Option Orientation : Vertical**

**Correct Marks : 1 Wrong Marks : 0.25**

Select the word that is closest in meaning (SYNONYM) to the word given below.

Precipice

**Options :**

1. ✘ Sweat
2. ✘ Rain
3. ✔ Cliff
4. ✘ Cheap

**Question Number : 143 Question Id : 2752285974 Question Type : MCQ Option Shuffling : Yes Is Question Mandatory : No Option Orientation : Vertical**

**Correct Marks : 1 Wrong Marks : 0.25**

Four words are given, out of which only one word is spelt correctly. Choose the correctly spelt word.

**Options :**

1. ✘ ACCOMMODATE
2. ✔ ACCOMMODATE
3. ✘ ACCOMODATE
4. ✘ ACOMODATE

**Question Number : 143 Question Id : 2752285974 Question Type : MCQ Option Shuffling : Yes Is Question Mandatory : No Option Orientation : Vertical**

**Correct Marks : 1 Wrong Marks : 0.25**

Four words are given, out of which only one word is spelt correctly. Choose the correctly spelt word.

**Options :**

1. ✘ ACOMMODATE
2. ✔ ACCOMMODATE
3. ✘ ACCOMODATE
4. ✘ ACOMODATE

**Question Number : 144 Question Id : 2752285975 Question Type : MCQ Option Shuffling : Yes Is Question Mandatory : No Option Orientation : Vertical**

**Correct Marks : 1 Wrong Marks : 0.25**

Four words are given, out of which only one word is spelt correctly. Choose the correctly spelt word.

**Options :**

1. ✘ CONCENSUS
2. ✘ CONSENCUS
3. ✔ CONSENSUS
4. ✘ CONSENSES

**Question Number : 144 Question Id : 2752285975 Question Type : MCQ Option Shuffling : Yes Is Question Mandatory : No Option Orientation : Vertical**

**Correct Marks : 1 Wrong Marks : 0.25**

Four words are given, out of which only one word is spelt correctly. Choose the correctly spelt word.

**Options :**

1. ✘ CONCENSUS
2. ✘ CONSENCUS
3. ✔ CONSENSUS
4. ✘ CONSENSES

**Question Number : 145 Question Id : 2752285976 Question Type : MCQ Option Shuffling : Yes Is Question Mandatory : No Option Orientation : Vertical**

**Correct Marks : 1 Wrong Marks : 0.25**

Four words are given, out of which only one word is spelt correctly. Choose the correctly spelt word.

**Options :**

1. ✘ DAQUIRI
2. ✘ DAIQUIRE
3. ✘ DAQUERI
4. ✔ DAIQUIRI

**Question Number : 145 Question Id : 2752285976 Question Type : MCQ Option Shuffling : Yes Is Question Mandatory : No Option Orientation : Vertical**

**Correct Marks : 1 Wrong Marks : 0.25**

Four words are given, out of which only one word is spelt correctly. Choose the correctly spelt word.

**Options :**

1. ✘ DAQUIRI
2. ✘ DAIQUIRE
3. ✘ DAQUERI
4. ✔ DAIQUIRI

**Question Number : 146 Question Id : 2752285977 Question Type : MCQ Option Shuffling : Yes Is Question Mandatory : No Option Orientation : Vertical**

**Correct Marks : 1 Wrong Marks : 0.25**

Four words are given, out of which only one word is spelt correctly. Choose the correctly spelt word.

**Options :**

1. ✘ LIASION
2. ✘ LAISON
3. ✔ LIAISON
4. ✘ LIASSION

**Question Number : 146 Question Id : 2752285977 Question Type : MCQ Option Shuffling : Yes Is Question Mandatory : No Option Orientation : Vertical**

**Correct Marks : 1 Wrong Marks : 0.25**

Four words are given, out of which only one word is spelt correctly. Choose the correctly spelt word.

**Options :**

1. ✘ LIASION
2. ✘ LAISON

3. ✓ LIAISON

4. ✗ LIASSION

**Question Number : 147 Question Id : 2752285978 Question Type : MCQ Option Shuffling : Yes Is Question Mandatory : No Option Orientation : Vertical**

**Correct Marks : 1 Wrong Marks : 0.25**

Four words are given, out of which only one word is spelt correctly. Choose the correctly spelt word.

**Options :**

1. ✗ Prospecience

2. ✓ Prospicience

3. ✗ Prospicience

4. ✗ Prospisience

**Question Number : 147 Question Id : 2752285978 Question Type : MCQ Option Shuffling : Yes Is Question Mandatory : No Option Orientation : Vertical**

**Correct Marks : 1 Wrong Marks : 0.25**

Four words are given, out of which only one word is spelt correctly. Choose the correctly spelt word.

**Options :**

1. ✗ Prospecience

2. ✓ Prospicience

3. ✗ Prospicience

4. ✗ Prospisience

**Question Number : 148 Question Id : 2752285979 Question Type : MCQ Option Shuffling : Yes Is Question Mandatory : No Option Orientation : Vertical**

**Correct Marks : 1 Wrong Marks : 0.25**

Select the most appropriate meaning of the given idiom.

Sell like hot cakes.

**Options :**

1. ✗ An easy task

2. ✗ Questionable measures

3. ✘ Having a monopoly

4. ✔ Selling very fast

**Question Number : 148 Question Id : 2752285979 Question Type : MCQ Option Shuffling : Yes Is Question Mandatory : No Option Orientation : Vertical**

**Correct Marks : 1 Wrong Marks : 0.25**

Select the most appropriate meaning of the given idiom.

Sell like hot cakes.

**Options :**

1. ✘ An easy task

2. ✘ Questionable measures

3. ✘ Having a monopoly

4. ✔ Selling very fast

**Question Number : 149 Question Id : 2752285980 Question Type : MCQ Option Shuffling : Yes Is Question Mandatory : No Option Orientation : Vertical**

**Correct Marks : 1 Wrong Marks : 0.25**

Select the most appropriate meaning of the given idiom.

Drive a hard bargain.

**Options :**

1. ✘ To drive very slowly.

2. ✔ To argue hard to get a favourable deal.

3. ✘ To move something with great difficulty.

4. ✘ To love someone you think you can't have.

**Question Number : 149 Question Id : 2752285980 Question Type : MCQ Option Shuffling : Yes Is Question Mandatory : No Option Orientation : Vertical**

**Correct Marks : 1 Wrong Marks : 0.25**

Select the most appropriate meaning of the given idiom.

Drive a hard bargain.

**Options :**

1. ✘ To drive very slowly.
2. ✔ To argue hard to get a favourable deal.
3. ✘ To move something with great difficulty.
4. ✘ To love someone you think you can't have.

**Question Number : 150 Question Id : 2752285981 Question Type : MCQ Option Shuffling : Yes Is Question Mandatory : No Option Orientation : Vertical**

**Correct Marks : 1 Wrong Marks : 0.25**

Select the most appropriate meaning of the given idiom.

Upset someone's applecart

**Options :**

1. ✔ Doing something that causes a plan to go wrong.
2. ✘ Causing trouble for a poor man.
3. ✘ Having a bad stomach.
4. ✘ Ruthlessly breaking a heart.

**Question Number : 150 Question Id : 2752285981 Question Type : MCQ Option Shuffling : Yes Is Question Mandatory : No Option Orientation : Vertical**

**Correct Marks : 1 Wrong Marks : 0.25**

Select the most appropriate meaning of the given idiom.

Upset someone's applecart

**Options :**

1. ✔ Doing something that causes a plan to go wrong.
2. ✘ Causing trouble for a poor man.
3. ✘ Having a bad stomach.
4. ✘ Ruthlessly breaking a heart.

**Question Number : 151 Question Id : 2752285982 Question Type : MCQ Option Shuffling : Yes Is Question Mandatory : No Option Orientation : Vertical**

**Correct Marks : 1 Wrong Marks : 0.25**



Select the most appropriate meaning of the given idiom.

Up in arms

**Options :**

1. ✘ A person with very high thinking.
2. ✘ A military man.
3. ✔ Angry about something.
4. ✘ Kept with very high importance.

**Question Number : 151 Question Id : 2752285982 Question Type : MCQ Option Shuffling : Yes Is Question Mandatory : No Option Orientation : Vertical**

**Correct Marks : 1 Wrong Marks : 0.25**

Select the most appropriate meaning of the given idiom.

Up in arms

**Options :**

1. ✘ A person with very high thinking.
2. ✘ A military man.
3. ✔ Angry about something.
4. ✘ Kept with very high importance.

**Question Number : 152 Question Id : 2752285983 Question Type : MCQ Option Shuffling : Yes Is Question Mandatory : No Option Orientation : Vertical**

**Correct Marks : 1 Wrong Marks : 0.25**

Select the most appropriate 'one word' for the expression given below.

The branch of medicine that deals with the prevention, diagnosis, and treatment of cancer.

**Options :**

1. ✘ Cancerology
2. ✘ Caneology
3. ✘ Codicology
4. ✔ Oncology

**Question Number : 152 Question Id : 2752285983 Question Type : MCQ Option Shuffling : Yes Is Question Mandatory : No Option Orientation : Vertical**

**Correct Marks : 1 Wrong Marks : 0.25**

Select the most appropriate 'one word' for the expression given below.

The branch of medicine that deals with the prevention, diagnosis, and treatment of cancer.

**Options :**

1. ✘ Cancerology
2. ✘ Caneology
3. ✘ Codicology
4. ✔ Oncology

**Question Number : 153 Question Id : 2752285984 Question Type : MCQ Option Shuffling : Yes Is Question Mandatory : No Option Orientation : Vertical**

**Correct Marks : 1 Wrong Marks : 0.25**

Select the most appropriate 'one word' for the expression given below.

To dissent or deviate from a dominant theory, opinion, or practice.

**Options :**

1. ✔ Heresy
2. ✘ Unsavory
3. ✘ Swerve
4. ✘ Undignify

**Question Number : 153 Question Id : 2752285984 Question Type : MCQ Option Shuffling : Yes Is Question Mandatory : No Option Orientation : Vertical**

**Correct Marks : 1 Wrong Marks : 0.25**

Select the most appropriate 'one word' for the expression given below.

To dissent or deviate from a dominant theory, opinion, or practice.

**Options :**

1. ✔ Heresy
2. ✘ Unsavory

3. ✘ Swerve
4. ✘ Undignify

**Question Number : 154 Question Id : 2752285985 Question Type : MCQ Option Shuffling : Yes Is Question Mandatory : No Option Orientation : Vertical**

**Correct Marks : 1 Wrong Marks : 0.25**

Select the most appropriate 'one word' for the expression given below.

The final beatitude transcends suffering, karma, and samsara and is sought especially in Buddhism through the extinction of desire and individual consciousness.

**Options :**

1. ✘ Endurance
2. ✔ Nirvana
3. ✘ Continuance
4. ✘ The big game

**Question Number : 154 Question Id : 2752285985 Question Type : MCQ Option Shuffling : Yes Is Question Mandatory : No Option Orientation : Vertical**

**Correct Marks : 1 Wrong Marks : 0.25**

Select the most appropriate 'one word' for the expression given below.

The final beatitude transcends suffering, karma, and samsara and is sought especially in Buddhism through the extinction of desire and individual consciousness.

**Options :**

1. ✘ Endurance
2. ✔ Nirvana
3. ✘ Continuance
4. ✘ The big game

**Question Number : 155 Question Id : 2752285986 Question Type : MCQ Option Shuffling : Yes Is Question Mandatory : No Option Orientation : Vertical**

**Correct Marks : 1 Wrong Marks : 0.25**

Select the most appropriate 'one word' for the expression given below.

The art of arranging letters and text in a way that makes the copy legible, clear, and visually appealing to the reader.

**Options :**

1. ✘ Calligraphy
2. ✘ Graphology
3. ✔ Typography
4. ✘ Theology

**Question Number : 155 Question Id : 2752285986 Question Type : MCQ Option Shuffling : Yes Is Question Mandatory : No Option Orientation : Vertical**

**Correct Marks : 1 Wrong Marks : 0.25**

Select the most appropriate 'one word' for the expression given below.

The art of arranging letters and text in a way that makes the copy legible, clear, and visually appealing to the reader.

**Options :**

1. ✘ Calligraphy
2. ✘ Graphology
3. ✔ Typography
4. ✘ Theology

**Sub-Section Number :**

2

**Sub-Section Id :**

275228374

**Question Shuffling Allowed :**

Yes

**Question Id : 2752285987 Question Type : COMPREHENSION Sub Question Shuffling Allowed : Yes Group Comprehension Questions : No**

**Question Numbers : (156 to 160)**

Read the following information carefully and answer the given questions.

In the natural world, synergistic phenomena are ubiquitous, ranging from physics, to chemistry, to the cooperative interactions among the genes in genomes, the division of labour in bacterial colonies, in multi-cellular organisms and in by socially-organized groups. The term synergy comes from the Attic Greek word “συνεργία synergia” from “synergos, συνεργός”, meaning "working together".

Effective groups actively look for the points on which they disagree and in consequence encourage conflicts amongst the participants in the early stages of the discussion. In contrast, the ineffective groups feel a need to establish a common view quickly, use simple decision making methods such as averaging, and focus on completing the task rather than on finding solutions they could agree on.

If used in a business application, synergy means that teamwork will produce an overall better result than if each person within the group were working toward the same goal individually. Group cohesion is the property that is inferred from the number and strength of mutual positive attitudes among members of the group. First, the interactions and communication between members increase. Common goals, interests and small size all contribute to this. In addition, group member satisfaction increases as the group provides friendship and support against outside threats. Group cohesion although being good for the group has a negative aspect called Group Polarisation. It is when individuals in a group begin by taking a moderate stance on an issue regarding a common value and, after having discussed it, end up taking a more extreme stance.

### Sub questions

**Question Number : 156 Question Id : 2752285988 Question Type : MCQ Option Shuffling : Yes Is Question Mandatory : No Option Orientation : Vertical**

**Correct Marks : 1 Wrong Marks : 0.25**

What is the meaning of the Greek word from which synergy is derived?

**Options :**

1. ✘ Staying together.
2. ✘ Made of each other.
3. ✘ Disposition of things.
4. ✔ Working together.

**Question Number : 157 Question Id : 2752285989 Question Type : MCQ Option Shuffling : Yes Is Question Mandatory : No Option Orientation : Vertical**

**Correct Marks : 1 Wrong Marks : 0.25**

From the passage what do you understand by 'ubiquitous'?

**Options :**

1. ✘ That is not pristine.
2. ✘ That is relating to god.
3. ✔ That is found everywhere.
4. ✘ That is a phenomena of the present and was not there in the past.

**Question Number : 158 Question Id : 2752285990 Question Type : MCQ Option Shuffling : Yes Is Question Mandatory : No Option Orientation : Vertical**

**Correct Marks : 1 Wrong Marks : 0.25**

What do you understand by synergy?

**Options :**

1. ✘ The haphazard combination of two or more things or other agents to produce an effect greater than the sum of their separate effects.

2. ✓ The interaction or cooperation of two or more organizations, substances, or other agents to produce a combined effect greater than the sum of their separate effects.
3. ✗ The unorganised interaction of two or more forces to produce a combined effect.
4. ✗ The erratic formation of two or more organizations, substances, or other agents to produce a combined effect greater than the sum of their separate effects.

**Question Number : 159 Question Id : 2752285991 Question Type : MCQ Option Shuffling : Yes Is Question Mandatory : No Option Orientation : Vertical**

**Correct Marks : 1 Wrong Marks : 0.25**

What is the risk of having synergy in a group?

**Options :**

1. ✗ The interactions and communication between members increase and aids decision making
2. ✓ It leads to group polarisation.
3. ✗ It leads to group cohesion.
4. ✗ Group provides friendship and support against outside threats.

**Question Number : 160 Question Id : 2752285992 Question Type : MCQ Option Shuffling : Yes Is Question Mandatory : No Option Orientation : Vertical**

**Correct Marks : 1 Wrong Marks : 0.25**

Why is an effective group better than an ineffective group?

**Options :**

1. ✗ Effective groups, in the later stages, actively look for the points in which they disagree.
2. ✗ Ineffective groups spend a lot of time to establish a common view.
3. ✓ Effective groups encourage conflicts amongst the participants in the early stages of the discussion.
4. ✗ Ineffective groups focus on finding solutions they could agree on.

**Question Id : 2752285987 Question Type : COMPREHENSION Sub Question Shuffling Allowed : Yes Group Comprehension Questions : No**

**Question Numbers : (156 to 160)**

Read the following information carefully and answer the given questions.

In the natural world, synergistic phenomena are ubiquitous, ranging from physics, to chemistry, to the cooperative interactions among the genes in genomes, the division of labour in bacterial colonies, in multi-cellular organisms and in by socially-organized groups. The term synergy comes from the Attic Greek word “συνεργία synergia” from “synergos, συνεργός”, meaning "working together".

Effective groups actively look for the points on which they disagree and in consequence encourage conflicts amongst the participants in the early stages of the discussion. In contrast, the ineffective groups feel a need to establish a common view quickly, use simple decision making methods such as averaging, and focus on completing the task rather than on finding solutions they could agree on.

If used in a business application, synergy means that teamwork will produce an overall better result than if each person within the group were working toward the same goal individually. Group cohesion is the property that is inferred from the number and strength of mutual positive attitudes among members of the group. First, the interactions and communication between members increase. Common goals, interests and small size all contribute to this. In addition, group member satisfaction increases as the group provides friendship and support against outside threats. Group cohesion although being good for the group has a negative aspect called Group Polarisation. It is when individuals in a group begin by taking a moderate stance on an issue regarding a common value and, after having discussed it, end up taking a more extreme stance.

### Sub questions

**Question Number : 156 Question Id : 2752285988 Question Type : MCQ Option Shuffling : Yes Is Question Mandatory : No Option Orientation : Vertical**

**Correct Marks : 1 Wrong Marks : 0.25**

What is the meaning of the Greek word from which synergy is derived?

**Options :**

1. ✘ Staying together.
2. ✘ Made of each other.
3. ✘ Disposition of things.
4. ✔ Working together.

**Question Number : 157 Question Id : 2752285989 Question Type : MCQ Option Shuffling : Yes Is Question Mandatory : No Option Orientation : Vertical**

**Correct Marks : 1 Wrong Marks : 0.25**

From the passage what do you understand by 'ubiquitous'?

**Options :**

1. ✘ That is not pristine.
2. ✘ That is relating to god.
3. ✔ That is found everywhere.
4. ✘ That is a phenomena of the present and was not there in the past.

**Question Number : 158 Question Id : 2752285990 Question Type : MCQ Option Shuffling : Yes Is Question Mandatory : No Option Orientation : Vertical**

**Correct Marks : 1 Wrong Marks : 0.25**

What do you understand by synergy?

**Options :**

1. ✘ The haphazard combination of two or more things or other agents to produce an effect greater than the sum of their separate effects.
2. ✔ The interaction or cooperation of two or more organizations, substances, or other agents to produce a combined effect greater than the sum of their separate effects.
3. ✘ The unorganised interaction of two or more forces to produce a combined effect.
4. ✘ The erratic formation of two or more organizations, substances, or other agents to produce a combined effect greater than the sum of their separate effects.

**Question Number : 159 Question Id : 2752285991 Question Type : MCQ Option Shuffling : Yes Is Question Mandatory : No Option Orientation : Vertical**

**Correct Marks : 1 Wrong Marks : 0.25**

What is the risk of having synergy in a group?

**Options :**

1. ✘ The interactions and communication between members increase and aids decision making
2. ✔ It leads to group polarisation.
3. ✘ It leads to group cohesion.
4. ✘ Group provides friendship and support against outside threats.

**Question Number : 160 Question Id : 2752285992 Question Type : MCQ Option Shuffling : Yes Is Question Mandatory : No Option Orientation : Vertical**

**Correct Marks : 1 Wrong Marks : 0.25**

Why is an effective group better than an ineffective group?

**Options :**

1. ✘ Effective groups, in the later stages, actively look for the points in which they disagree.
2. ✘ Ineffective groups spend a lot of time to establish a common view.
3. ✔ Effective groups encourage conflicts amongst the participants in the early stages of the discussion.
4. ✘ Ineffective groups focus on finding solutions they could agree on.

## General Hindi1

**Group Number :**

9

**Group Id :**

275228211



<b>Group Maximum Duration :</b>	0
<b>Group Minimum Duration :</b>	0
<b>Show Attended Group? :</b>	No
<b>Edit Attended Group? :</b>	No
<b>Break time :</b>	0
<b>Group Marks :</b>	20
<b>Is this Group for Examiner? :</b>	No

## General Hindi1

<b>Section Id :</b>	275228313
<b>Section Number :</b>	1
<b>Section type :</b>	Online
<b>Mandatory or Optional :</b>	Mandatory
<b>Number of Questions :</b>	20
<b>Number of Questions to be attempted :</b>	20
<b>Section Marks :</b>	20
<b>Enable Mark as Answered Mark for Review and Clear Response :</b>	Yes
<b>Sub-Section Number :</b>	1
<b>Sub-Section Id :</b>	275228375
<b>Question Shuffling Allowed :</b>	Yes

**Question Number : 161 Question Id : 2752285993 Question Type : MCQ Option Shuffling : Yes Is Question Mandatory : No Option Orientation : Vertical**

**Correct Marks : 1 Wrong Marks : 0.25**

निम्नलिखित प्रश्न में, चार विकल्पों में से, उस विकल्प का चयन करें जो दिए गए सही संधि विच्छेद की संधि का सही विकल्प हो।

भानु + उदय

**Options :**

1. ✘ भानुउदय
2. ✔ भानूदय
3. ✘ भानूउदय
4. ✘ भानुघ

**Question Number : 161 Question Id : 2752285993 Question Type : MCQ Option Shuffling : Yes Is Question Mandatory : No Option Orientation : Vertical**

**Correct Marks : 1 Wrong Marks : 0.25**

निम्नलिखित प्रश्न में, चार विकल्पों में से, उस विकल्प का चयन करें जो दिए गए सही संधि विच्छेद की संधि का सही विकल्प हो।

भानु + उदय

**Options :**

1. ✘ भानुउदय
2. ✔ भानूदय
3. ✘ भानूउदय
4. ✘ भानुघ

**Question Number : 162 Question Id : 2752285994 Question Type : MCQ Option Shuffling : Yes Is Question Mandatory : No Option Orientation : Vertical**

**Correct Marks : 1 Wrong Marks : 0.25**

निम्नलिखित प्रश्न में, चार विकल्पों में से, उस विकल्प का चयन करें जो दिए गए शब्द के सही संधि विच्छेद का विकल्प हो।

तथापि

**Options :**

1. ✘ तथा + पी
2. ✘ तथ + आपि
3. ✔ तथा + अपि
4. ✘ त + थापि

**Question Number : 162 Question Id : 2752285994 Question Type : MCQ Option Shuffling : Yes Is Question Mandatory : No Option Orientation : Vertical**

**Correct Marks : 1 Wrong Marks : 0.25**

निम्नलिखित प्रश्न में, चार विकल्पों में से, उस विकल्प का चयन करें जो दिए गए शब्द के सही संधि विच्छेद का विकल्प हो।

तथापि

**Options :**

1. ✘ तथा + पी
2. ✘ तथ + आपि
3. ✔ तथा + अपि
4. ✘ त + थापि

**Question Number : 163 Question Id : 2752285995 Question Type : MCQ Option Shuffling : Yes Is Question Mandatory : No Option Orientation : Vertical**

**Correct Marks : 1 Wrong Marks : 0.25**

निम्नलिखित प्रश्न में, चार विकल्पों में से, उस विकल्प का चयन करें जो दिए गए शब्द के लिए सही कर्मधारण समास के विग्रह का विकल्प हो।

प्राणप्रिय

**Options :**

1. ✘ प्राण पर प्रिय
2. ✘ प्राण है प्रिय
3. ✘ प्राण का प्रिय
4. ✔ प्राणों के समान प्रिय

**Question Number : 163 Question Id : 2752285995 Question Type : MCQ Option Shuffling : Yes Is Question Mandatory : No Option Orientation : Vertical**

**Correct Marks : 1 Wrong Marks : 0.25**

निम्नलिखित प्रश्न में, चार विकल्पों में से, उस विकल्प का चयन करें जो दिए गए शब्द के लिए सही कर्मधारण समास के विग्रह का विकल्प हो।

प्राणप्रिय

**Options :**

1. ✘ प्राण पर प्रिय
2. ✘ प्राण है प्रिय
3. ✘ प्राण का प्रिय
4. ✔ प्राणों के समान प्रिय

**Question Number : 164 Question Id : 2752285996 Question Type : MCQ Option Shuffling : Yes Is Question Mandatory : No Option Orientation : Vertical**

**Correct Marks : 1 Wrong Marks : 0.25**

निम्नलिखित प्रश्न में, चार विकल्पों में से, उस विकल्प का चयन करें जो उपसर्ग से बने शब्द का सही विकल्प हो।

**Options :**

1. ✓ अवलोकन
2. ✗ मलनी
3. ✗ बुनाई
4. ✗ घटती

**Question Number : 164 Question Id : 2752285996 Question Type : MCQ Option Shuffling : Yes Is Question Mandatory : No Option Orientation : Vertical**

**Correct Marks : 1 Wrong Marks : 0.25**

निम्नलिखित प्रश्न में, चार विकल्पों में से, उस विकल्प का चयन करें जो उपसर्ग से बने शब्द का सही विकल्प हो।

**Options :**

1. ✓ अवलोकन
2. ✗ मलनी
3. ✗ बुनाई
4. ✗ घटती

**Question Number : 165 Question Id : 2752285997 Question Type : MCQ Option Shuffling : Yes Is Question Mandatory : No Option Orientation : Vertical**

**Correct Marks : 1 Wrong Marks : 0.25**

निम्नलिखित प्रश्न में, चार विकल्पों में से, उस विकल्प का चयन करें जो प्रत्यय से बने शब्द का सही विकल्प हो।

**Options :**

1. ✗ उत्थान
2. ✓ मंथन
3. ✗ दुश्चरित्र
4. ✗ निराकरण

**Question Number : 165 Question Id : 2752285997 Question Type : MCQ Option Shuffling : Yes Is Question Mandatory : No Option Orientation : Vertical**

**Correct Marks : 1 Wrong Marks : 0.25**

निम्नलिखित प्रश्न में, चार विकल्पों में से, उस विकल्प का चयन करें जो प्रत्यय से बने शब्द का सही विकल्प हो।

**Options :**

1. ✘ उत्थान
2. ✔ मंथन
3. ✘ दुश्चरित्र
4. ✘ निराकरण

**Question Number : 166 Question Id : 2752285998 Question Type : MCQ Option Shuffling : Yes Is Question Mandatory : No Option Orientation : Vertical**

**Correct Marks : 1 Wrong Marks : 0.25**

निम्नलिखित प्रश्न में, चार विकल्पों में से, उस विकल्प का चयन करें जो दिए गए शब्द का तत्सम रूप हो।

आसरा

**Options :**

1. ✘ अर्ध
2. ✘ आशीष
3. ✔ आच्छारी
4. ✘ काष्ठ

**Question Number : 166 Question Id : 2752285998 Question Type : MCQ Option Shuffling : Yes Is Question Mandatory : No Option Orientation : Vertical**

**Correct Marks : 1 Wrong Marks : 0.25**

निम्नलिखित प्रश्न में, चार विकल्पों में से, उस विकल्प का चयन करें जो दिए गए शब्द का तत्सम रूप हो।

आसरा

**Options :**

1. ✘ अर्ध
2. ✘ आशीष
3. ✔ आच्छारी
4. ✘ काष्ठ

**Question Number : 167 Question Id : 2752285999 Question Type : MCQ Option Shuffling : Yes Is Question Mandatory : No Option Orientation : Vertical**

**Correct Marks : 1 Wrong Marks : 0.25**

निम्नलिखित प्रश्न में, चार विकल्पों में से, उस विकल्प का चयन करें जो दिए गए शब्द का तद्भव रूप हो।

नवनवति

**Options :**

1. ✘ निगलना
2. ✘ नारियल
3. ✘ नीचे
4. ✔ निन्यानवे

**Question Number : 167 Question Id : 2752285999 Question Type : MCQ Option Shuffling : Yes Is Question Mandatory : No Option Orientation : Vertical**

**Correct Marks : 1 Wrong Marks : 0.25**

निम्नलिखित प्रश्न में, चार विकल्पों में से, उस विकल्प का चयन करें जो दिए गए शब्द का तद्भव रूप हो।

नवनवति

**Options :**

1. ✘ निगलना
2. ✘ नारियल
3. ✘ नीचे
4. ✔ निन्यानवे

**Question Number : 168 Question Id : 2752286000 Question Type : MCQ Option Shuffling : Yes Is Question Mandatory : No Option Orientation : Vertical**

**Correct Marks : 1 Wrong Marks : 0.25**

निम्नलिखित प्रश्न में, चार विकल्पों में से, उस विकल्प का चयन करें जो देशज शब्द का सही विकल्प हो।

**Options :**

1. ✘ बहरा
2. ✔ झिलमिल
3. ✘ लिफाफा
4. ✘ चाबुक

**Question Number : 168 Question Id : 2752286000 Question Type : MCQ Option Shuffling : Yes Is Question Mandatory : No Option Orientation : Vertical**

**Correct Marks : 1 Wrong Marks : 0.25**

निम्नलिखित प्रश्न में, चार विकल्पों में से, उस विकल्प का चयन करें जो देशज शब्द का सही विकल्प हो।

**Options :**

1. ✘ बहरा
2. ✔ झिलमिल
3. ✘ लिफाफा
4. ✘ चाबुक

**Question Number : 169 Question Id : 2752286001 Question Type : MCQ Option Shuffling : Yes Is Question Mandatory : No Option Orientation : Vertical**

**Correct Marks : 1 Wrong Marks : 0.25**

निम्नलिखित प्रश्न में, चार विकल्पों में से, उस विकल्प का चयन करें जो दिए गए शब्द के पर्यायवाची शब्द का सही विकल्प नहीं है।

सांप

**Options :**

1. ✘ उरग
2. ✔ भूपाल
3. ✘ अहि
4. ✘ पवनासन

**Question Number : 169 Question Id : 2752286001 Question Type : MCQ Option Shuffling : Yes Is Question Mandatory : No Option Orientation : Vertical**

**Correct Marks : 1 Wrong Marks : 0.25**

निम्नलिखित प्रश्न में, चार विकल्पों में से, उस विकल्प का चयन करें जो दिए गए शब्द के पर्यायवाची शब्द का सही विकल्प नहीं है।

सांप

**Options :**

1. ✘ उरग
2. ✔ भूपाल

3. ✖ अहि
4. ✖ पवनासन

**Question Number : 170 Question Id : 2752286002 Question Type : MCQ Option Shuffling : Yes Is Question Mandatory : No Option Orientation : Vertical**

**Correct Marks : 1 Wrong Marks : 0.25**

निम्नलिखित प्रश्न में, चार विकल्पों में से, उस विकल्प का चयन करें जो विलोम शब्द का सबसे अच्छा विकल्प है।

जंगम

**Options :**

1. ✔ स्थावर
2. ✖ घटाव
3. ✖ मृत
4. ✖ सूक्त

**Question Number : 170 Question Id : 2752286002 Question Type : MCQ Option Shuffling : Yes Is Question Mandatory : No Option Orientation : Vertical**

**Correct Marks : 1 Wrong Marks : 0.25**

निम्नलिखित प्रश्न में, चार विकल्पों में से, उस विकल्प का चयन करें जो विलोम शब्द का सबसे अच्छा विकल्प है।

जंगम

**Options :**

1. ✔ स्थावर
2. ✖ घटाव
3. ✖ मृत
4. ✖ सूक्त

**Question Number : 171 Question Id : 2752286003 Question Type : MCQ Option Shuffling : Yes Is Question Mandatory : No Option Orientation : Vertical**

**Correct Marks : 1 Wrong Marks : 0.25**

निम्नलिखित प्रश्न में, चार विकल्पों में से, उस सही विकल्प का चयन करें जो वाक्यांशों के लिए एक शब्द का विकल्प हो।



जो एक स्थान पर टिक कर नहीं रहता

**Options :**

1. ✘ यथासाध्य
2. ✘ युगप्रवर्तक
3. ✔ यायावर
4. ✘ युयुत्सा

**Question Number : 171 Question Id : 2752286003 Question Type : MCQ Option Shuffling : Yes Is Question Mandatory : No Option Orientation : Vertical**

**Correct Marks : 1 Wrong Marks : 0.25**

निम्नलिखित प्रश्न में, चार विकल्पों में से, उस सही विकल्प का चयन करें जो वाक्यांशों के लिए एक शब्द का विकल्प हो।

जो एक स्थान पर टिक कर नहीं रहता

**Options :**

1. ✘ यथासाध्य
2. ✘ युगप्रवर्तक
3. ✔ यायावर
4. ✘ युयुत्सा

**Question Number : 172 Question Id : 2752286004 Question Type : MCQ Option Shuffling : Yes Is Question Mandatory : No Option Orientation : Vertical**

**Correct Marks : 1 Wrong Marks : 0.25**

निम्नलिखित प्रश्न में, चार विकल्पों में से, उस सही विकल्प का चयन करें जो दिए गए शब्द के सही अर्थ का उचित विकल्प हो।

शर्व

**Options :**

1. ✘ सब
2. ✔ शिव
3. ✘ सर्व
4. ✘ सांप

**Question Number : 172 Question Id : 2752286004 Question Type : MCQ Option Shuffling : Yes Is Question Mandatory : No Option Orientation : Vertical**

**Correct Marks : 1 Wrong Marks : 0.25**

निम्नलिखित प्रश्न में, चार विकल्पों में से, उस सही विकल्प का चयन करें जो दिए गए शब्द के सही अर्थ का उचित विकल्प हो।

शर्व

**Options :**

1. ✘ सब
2. ✔ शिव
3. ✘ सर्व
4. ✘ सांप

**Question Number : 173 Question Id : 2752286005 Question Type : MCQ Option Shuffling : Yes Is Question Mandatory : No Option Orientation : Vertical**

**Correct Marks : 1 Wrong Marks : 0.25**

निम्नलिखित प्रश्न में, चार विकल्पों में से, उस सही विकल्प का चयन करें जो रिक्त स्थान के लिए उपयुक्त शब्द का सही विकल्प है।

उनकी \_\_\_\_\_ चारों ओर फैल गई।

**Options :**

1. ✔ कीर्ति
2. ✘ कृति
3. ✘ कृती
4. ✘ कर्म

**Question Number : 173 Question Id : 2752286005 Question Type : MCQ Option Shuffling : Yes Is Question Mandatory : No Option Orientation : Vertical**

**Correct Marks : 1 Wrong Marks : 0.25**

निम्नलिखित प्रश्न में, चार विकल्पों में से, उस सही विकल्प का चयन करें जो रिक्त स्थान के लिए उपयुक्त शब्द का सही विकल्प है।

उनकी \_\_\_\_\_ चारों ओर फैल गई।

**Options :**

1. ✔ कीर्ति

2. ✘ कृति
3. ✘ कृती
4. ✘ कर्म

**Question Number : 174 Question Id : 2752286006 Question Type : MCQ Option Shuffling : Yes Is Question Mandatory : No Option Orientation : Vertical**

**Correct Marks : 1 Wrong Marks : 0.25**

निम्नलिखित प्रश्न में, चार विकल्पों में से, उस विकल्प का चयन करें जो शुद्ध शब्द का सही विकल्प है।

**Options :**

1. ✘ सदुष्य
2. ✔ सदृश्य
3. ✘ सद्रेष्य
4. ✘ शदृश्य

**Question Number : 174 Question Id : 2752286006 Question Type : MCQ Option Shuffling : Yes Is Question Mandatory : No Option Orientation : Vertical**

**Correct Marks : 1 Wrong Marks : 0.25**

निम्नलिखित प्रश्न में, चार विकल्पों में से, उस विकल्प का चयन करें जो शुद्ध शब्द का सही विकल्प है।

**Options :**

1. ✘ सदुष्य
2. ✔ सदृश्य
3. ✘ सद्रेष्य
4. ✘ शदृश्य

**Question Number : 175 Question Id : 2752286007 Question Type : MCQ Option Shuffling : Yes Is Question Mandatory : No Option Orientation : Vertical**

**Correct Marks : 1 Wrong Marks : 0.25**

निम्नलिखित प्रश्न में, चार विकल्पों में से, उस विकल्प का चयन करें जो शुद्ध शब्द का सही विकल्प है।

**Options :**

1. ✘ उद्घत्न
2. ✘ उदघतन

3. ✓ उद्घाटन

4. ✗ उदघाटन

**Question Number : 175 Question Id : 2752286007 Question Type : MCQ Option Shuffling : Yes Is Question Mandatory : No Option Orientation : Vertical**

**Correct Marks : 1 Wrong Marks : 0.25**

निम्नलिखित प्रश्न में, चार विकल्पों में से, उस विकल्प का चयन करें जो शुद्ध शब्द का सही विकल्प है।

**Options :**

1. ✗ उद्घत्न

2. ✗ उदघतन

3. ✓ उद्घाटन

4. ✗ उदघाटन

**Question Number : 176 Question Id : 2752286008 Question Type : MCQ Option Shuffling : Yes Is Question Mandatory : No Option Orientation : Vertical**

**Correct Marks : 1 Wrong Marks : 0.25**

निम्नलिखित प्रश्न में, चार विकल्पों में से, उस विकल्प का चयन करें जो दिए गए शब्द के समानार्थी शब्द का विकल्प नहीं है।

मत्सर

**Options :**

1. ✗ कुढ़न

2. ✗ जलन

3. ✗ डाह

4. ✓ कलश

**Question Number : 176 Question Id : 2752286008 Question Type : MCQ Option Shuffling : Yes Is Question Mandatory : No Option Orientation : Vertical**

**Correct Marks : 1 Wrong Marks : 0.25**

निम्नलिखित प्रश्न में, चार विकल्पों में से, उस विकल्प का चयन करें जो दिए गए शब्द के समानार्थी शब्द का विकल्प नहीं है।

मत्सर

**Options :**

1. ✘ कुढ़न
2. ✘ जलन
3. ✘ डाह
4. ✔ कलश

**Question Number : 177 Question Id : 2752286009 Question Type : MCQ Option Shuffling : Yes Is Question Mandatory : No Option Orientation : Vertical**

**Correct Marks : 1 Wrong Marks : 0.25**

निम्नलिखित प्रश्न में, चार विकल्पों में से, उस सही विकल्प का चयन करें जो दिए गए शब्द-युग्म के अर्थ का सही विकल्प हो।

भीड़ और भिड

**Options :**

1. ✔ जनसमूह और बर्रे
2. ✘ जनसमूह और दीवार
3. ✘ डरा हुआ और बर्रे
4. ✘ बर्रे और मेहतर

**Question Number : 177 Question Id : 2752286009 Question Type : MCQ Option Shuffling : Yes Is Question Mandatory : No Option Orientation : Vertical**

**Correct Marks : 1 Wrong Marks : 0.25**

निम्नलिखित प्रश्न में, चार विकल्पों में से, उस सही विकल्प का चयन करें जो दिए गए शब्द-युग्म के अर्थ का सही विकल्प हो।

भीड़ और भिड

**Options :**

1. ✔ जनसमूह और बर्रे
2. ✘ जनसमूह और दीवार
3. ✘ डरा हुआ और बर्रे
4. ✘ बर्रे और मेहतर

**Question Number : 178 Question Id : 2752286010 Question Type : MCQ Option Shuffling : Yes Is Question Mandatory : No Option Orientation : Vertical**

**Correct Marks : 1 Wrong Marks : 0.25**

निम्नलिखित प्रश्न में, चार विकल्पों में से, उस विकल्प का चयन करें जो सदैव पुल्लिंग रूप वाला विकल्प नहीं है।

**Options :**

1. ✘ फारसी
2. ✔ आक्रमण
3. ✘ जीत
4. ✘ दुविधा

**Question Number : 178 Question Id : 2752286010 Question Type : MCQ Option Shuffling : Yes Is Question Mandatory : No Option Orientation : Vertical**

**Correct Marks : 1 Wrong Marks : 0.25**

निम्नलिखित प्रश्न में, चार विकल्पों में से, उस विकल्प का चयन करें जो सदैव पुल्लिंग रूप वाला विकल्प नहीं है।

**Options :**

1. ✘ फारसी
2. ✔ आक्रमण
3. ✘ जीत
4. ✘ दुविधा

**Question Number : 179 Question Id : 2752286011 Question Type : MCQ Option Shuffling : Yes Is Question Mandatory : No Option Orientation : Vertical**

**Correct Marks : 1 Wrong Marks : 0.25**

निम्नलिखित प्रश्न में, चार विकल्पों में से, उस विकल्प का चयन करें जो सदैव बहुवचन रूप का सबसे अच्छा विकल्प है।

**Options :**

1. ✘ जाति
2. ✘ अधिकारी
3. ✔ सुधिजन
4. ✘ व्यापारी

**Question Number : 179 Question Id : 2752286011 Question Type : MCQ Option Shuffling : Yes Is Question Mandatory : No Option**

**Orientation : Vertical**

**Correct Marks : 1 Wrong Marks : 0.25**

निम्नलिखित प्रश्न में, चार विकल्पों में से, उस विकल्प का चयन करें जो सदैव बहुवचन रूप का सबसे अच्छा विकल्प है।

**Options :**

1. ✘ जाति
2. ✘ अधिकारी
3. ✔ सुधिजन
4. ✘ व्यापारी

**Question Number : 180 Question Id : 2752286012 Question Type : MCQ Option Shuffling : Yes Is Question Mandatory : No Option**

**Orientation : Vertical**

**Correct Marks : 1 Wrong Marks : 0.25**

निम्नलिखित प्रश्न में, चार विकल्पों में से, उस विकल्प का चयन करें जो कोष्ठक में दिए गए शब्द के अनुसार उत्तम पुरुष वाचक सर्वनाम का सबसे अच्छा विकल्प है।

**Options :**

1. ✘ (तुम) कुछ परेशान लग रहे हो।
2. ✔ (मुझे) कुछ खरीदारी करनी है
3. ✘ (वह) बाजार गया है।
4. ✘ (उन्होंने) मेरी बहुत सहायता की।

**Question Number : 180 Question Id : 2752286012 Question Type : MCQ Option Shuffling : Yes Is Question Mandatory : No Option**

**Orientation : Vertical**

**Correct Marks : 1 Wrong Marks : 0.25**

निम्नलिखित प्रश्न में, चार विकल्पों में से, उस विकल्प का चयन करें जो कोष्ठक में दिए गए शब्द के अनुसार उत्तम पुरुष वाचक सर्वनाम का सबसे अच्छा विकल्प है।

**Options :**

1. ✘ (तुम) कुछ परेशान लग रहे हो।
2. ✔ (मुझे) कुछ खरीदारी करनी है
3. ✘ (वह) बाजार गया है।
4. ✘ (उन्होंने) मेरी बहुत सहायता की।

## General Hindi2

Group Number :	10
Group Id :	275228212
Group Maximum Duration :	0
Group Minimum Duration :	120
Show Attended Group? :	No
Edit Attended Group? :	No
Break time :	0
Group Marks :	20
Is this Group for Examiner? :	No

## General Hindi2

Section Id :	275228314
Section Number :	1
Section type :	Online
Mandatory or Optional :	Mandatory
Number of Questions :	16
Number of Questions to be attempted :	16
Section Marks :	20
Enable Mark as Answered Mark for Review and Clear Response :	Yes
Sub-Section Number :	1
Sub-Section Id :	275228376
Question Shuffling Allowed :	Yes

**Question Number : 181 Question Id : 2752286013 Question Type : MCQ Option Shuffling : Yes Is Question Mandatory : No Option Orientation : Vertical**

**Correct Marks : 1 Wrong Marks : 0.25**

निम्नलिखित प्रश्न में, चार विकल्पों में से, उस विकल्प का चयन करें जो दिए गए वाक्य के काल का सही विकल्प हो।

वह कपडे धो चुकी थी।



**Options :**

1. ✘ सामान्य भूतकाल
2. ✘ तात्कालिक वर्तमानकाल
3. ✔ पूर्ण भूतकाल
4. ✘ आसन्न भूतकाल

**Question Number : 181 Question Id : 2752286013 Question Type : MCQ Option Shuffling : Yes Is Question Mandatory : No Option Orientation : Vertical**

**Correct Marks : 1 Wrong Marks : 0.25**

निम्नलिखित प्रश्न में, चार विकल्पों में से, उस विकल्प का चयन करें जो दिए गए वाक्य के काल का सही विकल्प हो।

वह कपडे धो चुकी थी।

**Options :**

1. ✘ सामान्य भूतकाल
2. ✘ तात्कालिक वर्तमानकाल
3. ✔ पूर्ण भूतकाल
4. ✘ आसन्न भूतकाल

**Question Number : 182 Question Id : 2752286014 Question Type : MCQ Option Shuffling : Yes Is Question Mandatory : No Option Orientation : Vertical**

**Correct Marks : 1 Wrong Marks : 0.25**

निम्नलिखित प्रश्न में, चार विकल्पों में से, उस विकल्प का चयन करें जो दिए गए वाक्य के लिए वृत्ति के भेद का सबसे अच्छा विकल्प है।

सभी दीपक जला रहे हैं।

**Options :**

1. ✘ संकेतार्थ
2. ✘ संदेहार्थ
3. ✔ निश्चयार्थ
4. ✘ विध्यर्थ

**Question Number : 182 Question Id : 2752286014 Question Type : MCQ Option Shuffling : Yes Is Question Mandatory : No Option Orientation : Vertical**

**Correct Marks : 1 Wrong Marks : 0.25**

निम्नलिखित प्रश्न में, चार विकल्पों में से, उस विकल्प का चयन करें जो दिए गए वाक्य के लिए वृत्ति के भेद का सबसे अच्छा विकल्प है।

सभी दीपक जला रहे हैं।

**Options :**

1. ✘ संकेतार्थ
2. ✘ संदेहार्थ
3. ✔ निश्चयार्थ
4. ✘ विध्यर्थ

**Question Number : 183 Question Id : 2752286015 Question Type : MCQ Option Shuffling : Yes Is Question Mandatory : No Option Orientation : Vertical**

**Correct Marks : 1 Wrong Marks : 0.25**

निम्नलिखित प्रश्न में, चार विकल्पों में से, उस विकल्प का चयन करें जो दिए गए वाक्य के लिए पक्ष के भेद का सबसे अच्छा विकल्प है।

अब जोरो की भूख लग गई है!

**Options :**

1. ✘ अभ्यासद्योतक
2. ✘ नित्यताद्योतक
3. ✘ प्रगतिद्योतक
4. ✔ आरंभद्योतक

**Question Number : 183 Question Id : 2752286015 Question Type : MCQ Option Shuffling : Yes Is Question Mandatory : No Option Orientation : Vertical**

**Correct Marks : 1 Wrong Marks : 0.25**

निम्नलिखित प्रश्न में, चार विकल्पों में से, उस विकल्प का चयन करें जो दिए गए वाक्य के लिए पक्ष के भेद का सबसे अच्छा विकल्प है।

अब जोरो की भूख लग गई है!

**Options :**

1. ✘ अभ्यासद्योतक
2. ✘ नित्यताद्योतक
3. ✘ प्रगतिद्योतक

4. ✓ आरंभद्योतक

**Question Number : 184 Question Id : 2752286016 Question Type : MCQ Option Shuffling : Yes Is Question Mandatory : No Option Orientation : Vertical**

**Correct Marks : 1 Wrong Marks : 0.25**

निम्नलिखित प्रश्न में, चार विकल्पों में से, उस विकल्प का चयन करें जो शुद्ध वाक्य का सबसे अच्छा विकल्प है।

**Options :**

1. ✘ आठ बजने को दस मिनट हैं
2. ✘ आठ को बजने में दस मिनट है
3. ✓ आठ बजने में दस मिनट है
4. ✘ आठ को बज जाने में दस मिनट है

**Question Number : 184 Question Id : 2752286016 Question Type : MCQ Option Shuffling : Yes Is Question Mandatory : No Option Orientation : Vertical**

**Correct Marks : 1 Wrong Marks : 0.25**

निम्नलिखित प्रश्न में, चार विकल्पों में से, उस विकल्प का चयन करें जो शुद्ध वाक्य का सबसे अच्छा विकल्प है।

**Options :**

1. ✘ आठ बजने को दस मिनट हैं
2. ✘ आठ को बजने में दस मिनट है
3. ✓ आठ बजने में दस मिनट है
4. ✘ आठ को बज जाने में दस मिनट है

**Question Number : 185 Question Id : 2752286017 Question Type : MCQ Option Shuffling : Yes Is Question Mandatory : No Option Orientation : Vertical**

**Correct Marks : 1 Wrong Marks : 0.25**

निम्नलिखित प्रश्न में, चार विकल्पों में से, उस विकल्प का चयन करें जो सही वाक्य भेद का विकल्प हो।

जो आदमी समझदार है वो अपने भविष्य का ध्यान रखता है।

**Options :**

1. ✘ संयुक्त वाक्य
2. ✓ मिश्र वाक्य

3. ✖ प्रश्नवाचक वाक्य

4. ✖ सरल वाक्य

**Question Number : 185 Question Id : 2752286017 Question Type : MCQ Option Shuffling : Yes Is Question Mandatory : No Option Orientation : Vertical**

**Correct Marks : 1 Wrong Marks : 0.25**

निम्नलिखित प्रश्न में, चार विकल्पों में से, उस विकल्प का चयन करें जो सही वाक्य भेद का विकल्प हो।

जो आदमी समझदार है वो अपने भविष्य का ध्यान रखता है।

**Options :**

1. ✖ संयुक्त वाक्य

2. ✔ मिश्र वाक्य

3. ✖ प्रश्नवाचक वाक्य

4. ✖ सरल वाक्य

**Question Number : 186 Question Id : 2752286018 Question Type : MCQ Option Shuffling : Yes Is Question Mandatory : No Option Orientation : Vertical**

**Correct Marks : 1 Wrong Marks : 0.25**

निम्नलिखित प्रश्न में, चार विकल्पों में से, उस विकल्प का चयन करें जो सही वाक्य भेद का विकल्प हो।

मैं आपसे प्रार्थना करता हूँ कि मुझे छुट्टी दी जाए।

**Options :**

1. ✖ विधानवाचक वाक्य

2. ✖ सरल वाक्य

3. ✔ मिश्र वाक्य

4. ✖ संयुक्त वाक्य

**Question Number : 186 Question Id : 2752286018 Question Type : MCQ Option Shuffling : Yes Is Question Mandatory : No Option Orientation : Vertical**

**Correct Marks : 1 Wrong Marks : 0.25**

निम्नलिखित प्रश्न में, चार विकल्पों में से, उस विकल्प का चयन करें जो सही वाक्य भेद का विकल्प हो।

मैं आपसे प्रार्थना करता हूँ कि मुझे छुट्टी दी जाए।

**Options :**

1. ✘ विधानवाचक वाक्य
2. ✘ सरल वाक्य
3. ✔ मिश्र वाक्य
4. ✘ संयुक्त वाक्य

**Question Number : 187 Question Id : 2752286019 Question Type : MCQ Option Shuffling : Yes Is Question Mandatory : No Option Orientation : Vertical**

**Correct Marks : 1 Wrong Marks : 0.25**

निम्नलिखित प्रश्न में, चार विकल्पों में से, उस विकल्प का चयन करें जो विराम चिह्न युक्त वाक्य का सही विकल्प हो।

**Options :**

1. ✔ एकाएक हुक्म दिया, "जाओ! हाथी के पैर से कुचलकर, इन्हें मार डालो।"
2. ✘ 'एकाएक, हुक्म दिया, जाओ! हाथी के पैर से कुचलकर इन्हें मार डालो।'
3. ✘ 'एकाएक हुक्म दिया, "जाओ! - हाथी के पैर से, कुचलकर इन्हें मार डालो।"
4. ✘ एकाएक, हुक्म दिया, "जाओ! हाथी के पैर से कुचलकर! इन्हें मार डालो।"

**Question Number : 187 Question Id : 2752286019 Question Type : MCQ Option Shuffling : Yes Is Question Mandatory : No Option Orientation : Vertical**

**Correct Marks : 1 Wrong Marks : 0.25**

निम्नलिखित प्रश्न में, चार विकल्पों में से, उस विकल्प का चयन करें जो विराम चिह्न युक्त वाक्य का सही विकल्प हो।

**Options :**

1. ✔ एकाएक हुक्म दिया, "जाओ! हाथी के पैर से कुचलकर, इन्हें मार डालो।"
2. ✘ 'एकाएक, हुक्म दिया, जाओ! हाथी के पैर से कुचलकर इन्हें मार डालो।'
3. ✘ 'एकाएक हुक्म दिया, "जाओ! - हाथी के पैर से, कुचलकर इन्हें मार डालो।"
4. ✘ एकाएक, हुक्म दिया, "जाओ! हाथी के पैर से कुचलकर! इन्हें मार डालो।"

**Question Number : 188 Question Id : 2752286020 Question Type : MCQ Option Shuffling : Yes Is Question Mandatory : No Option Orientation : Vertical**

**Correct Marks : 1 Wrong Marks : 0.25**

निम्नलिखित प्रश्न में, चार विकल्पों में से, उस विकल्प का चयन करें जो विराम चिह्न युक्त वाक्य का सही विकल्प हो।

**Options :**

1. ✓ काली कठपुतली बोली, " क्या री रानी! रानी बनी दासी, दासी बनी रानी।"
2. ✗ 'काली कठपुतली बोली, " क्या री रानी - रानी बनी दासी, दासी बनी रानी।"
3. ✗ 'काली" : कठपुतली बोली, " क्या री रानी!, रानी बनी दासी, दासी बनी रानी!"
4. ✗ काली कठपुतली बोली, " क्या री रानी, "रानी बनी दासी, दासी बनी रानी।

**Question Number : 188 Question Id : 2752286020 Question Type : MCQ Option Shuffling : Yes Is Question Mandatory : No Option Orientation : Vertical**

**Correct Marks : 1 Wrong Marks : 0.25**

निम्नलिखित प्रश्न में, चार विकल्पों में से, उस विकल्प का चयन करें जो विराम चिह्न युक्त वाक्य का सही विकल्प हो।

**Options :**

1. ✓ काली कठपुतली बोली, " क्या री रानी! रानी बनी दासी, दासी बनी रानी।"
2. ✗ 'काली कठपुतली बोली, " क्या री रानी - रानी बनी दासी, दासी बनी रानी।"
3. ✗ 'काली" : कठपुतली बोली, " क्या री रानी!, रानी बनी दासी, दासी बनी रानी!"
4. ✗ काली कठपुतली बोली, " क्या री रानी, "रानी बनी दासी, दासी बनी रानी।

**Question Number : 189 Question Id : 2752286021 Question Type : MCQ Option Shuffling : Yes Is Question Mandatory : No Option Orientation : Vertical**

**Correct Marks : 1 Wrong Marks : 0.25**

निम्नलिखित प्रश्न में, चार विकल्पों में से, उस विकल्प का चयन करें जो विराम चिह्न युक्त वाक्य का सही विकल्प हो।

**Options :**

1. ✗ 'साधु बोले, " तुम राजा की सेवा करना चाहते हो! अच्छी बात है, हम तुम्हें आशीर्वाद देते हैं।"
2. ✗ 'साधु बोले, तुम राजा की सेवा करना चाहते हो! अच्छी बात है, हम तुम्हें आशीर्वाद देते हैं।"
3. ✗ 'साधु बोले, तुम राजा की सेवा करना चाहते हो!" अच्छी बात है, हम तुम्हें आशीर्वाद देते हैं।"
4. ✓ साधु बोले, " तुम राजा की सेवा करना चाहते हो! अच्छी बात है, हम तुम्हें आशीर्वाद देते हैं।"

**Question Number : 189 Question Id : 2752286021 Question Type : MCQ Option Shuffling : Yes Is Question Mandatory : No Option Orientation : Vertical**

**Correct Marks : 1 Wrong Marks : 0.25**

निम्नलिखित प्रश्न में, चार विकल्पों में से, उस विकल्प का चयन करें जो विराम चिह्न युक्त वाक्य का सही विकल्प हो।

**Options :**

1. ✘ 'साधु बोले, " तुम राजा की सेवा करना चाहते हो! अच्छी बात है, हम तुम्हें आशीर्वाद देते हैं।"
2. ✘ 'साधु बोले, तुम राजा की सेवा करना चाहते हो! अच्छी बात है, हम तुम्हें आशीर्वाद देते हैं।"
3. ✘ 'साधु बोले, तुम राजा की सेवा करना चाहते हो!" अच्छी बात है, हम तुम्हें आशीर्वाद देते हैं।"
4. ✔ साधु बोले, " तुम राजा की सेवा करना चाहते हो! अच्छी बात है, हम तुम्हें आशीर्वाद देते हैं।"

**Question Number : 190 Question Id : 2752286022 Question Type : MCQ Option Shuffling : Yes Is Question Mandatory : No Option Orientation : Vertical**

**Correct Marks : 1 Wrong Marks : 0.25**

निम्नलिखित प्रश्न में, चार विकल्पों में से, उस विकल्प का चयन करें जो दिए गए लोकोक्ति का सही अर्थ वाला विकल्प है।

अपनी अपनी डफली, अपना अपना राग

**Options :**

1. ✘ अपने स्वार्थ के लिए दूसरों की हानि करना
2. ✘ स्वार्थी आदमी दूसरों की परवाह नहीं करता
3. ✔ सभी का अलग-अलग मत होना
4. ✘ अपनी गरज से लोग गधे को भी बाप बनाते हैं

**Question Number : 190 Question Id : 2752286022 Question Type : MCQ Option Shuffling : Yes Is Question Mandatory : No Option Orientation : Vertical**

**Correct Marks : 1 Wrong Marks : 0.25**

निम्नलिखित प्रश्न में, चार विकल्पों में से, उस विकल्प का चयन करें जो दिए गए लोकोक्ति का सही अर्थ वाला विकल्प है।

अपनी अपनी डफली, अपना अपना राग

**Options :**

1. ✘ अपने स्वार्थ के लिए दूसरों की हानि करना
2. ✘ स्वार्थी आदमी दूसरों की परवाह नहीं करता
3. ✔ सभी का अलग-अलग मत होना
4. ✘ अपनी गरज से लोग गधे को भी बाप बनाते हैं

**Question Number : 191 Question Id : 2752286023 Question Type : MCQ Option Shuffling : Yes Is Question Mandatory : No Option Orientation : Vertical**

**Correct Marks : 1 Wrong Marks : 0.25**

निम्नलिखित प्रश्न में, चार विकल्पों में से, उस विकल्प का चयन करें जो दिए गए लोकोक्ति का सही अर्थ वाला विकल्प है।

अनजान सुजान, सदा कल्याण

**Options :**

1. ✘ दुविधा में पड़ने से काम नहीं होता
2. ✔ मूर्ख और ज्ञानी सदा सुखी रहते हैं
3. ✘ बड़े बूढ़ों के अनुभव का लाभ उठाना चाहिए
4. ✘ किसी दूसरे के भरोसे नहीं रहना

**Question Number : 191 Question Id : 2752286023 Question Type : MCQ Option Shuffling : Yes Is Question Mandatory : No Option Orientation : Vertical**

**Correct Marks : 1 Wrong Marks : 0.25**

निम्नलिखित प्रश्न में, चार विकल्पों में से, उस विकल्प का चयन करें जो दिए गए लोकोक्ति का सही अर्थ वाला विकल्प है।

अनजान सुजान, सदा कल्याण

**Options :**

1. ✘ दुविधा में पड़ने से काम नहीं होता
2. ✔ मूर्ख और ज्ञानी सदा सुखी रहते हैं
3. ✘ बड़े बूढ़ों के अनुभव का लाभ उठाना चाहिए
4. ✘ किसी दूसरे के भरोसे नहीं रहना

**Question Number : 192 Question Id : 2752286024 Question Type : MCQ Option Shuffling : Yes Is Question Mandatory : No Option Orientation : Vertical**

**Correct Marks : 1 Wrong Marks : 0.25**

निम्नलिखित प्रश्न में, चार विकल्पों में से, उस विकल्प का चयन करें जो दिए गए लोकोक्ति का सही अर्थ वाला विकल्प है।

आँख एक नहीं कजरौटा दस-दस

**Options :**

1. ✔ व्यर्थ का आडंबर करना
2. ✘ अच्छे-बुरे का ज्ञान न होना
3. ✘ नादान व्यक्ति
4. ✘ सुख-दुःख आते जाते रहते हैं



**Question Number : 192 Question Id : 2752286024 Question Type : MCQ Option Shuffling : Yes Is Question Mandatory : No Option Orientation : Vertical**

**Correct Marks : 1 Wrong Marks : 0.25**

निम्नलिखित प्रश्न में, चार विकल्पों में से, उस विकल्प का चयन करें जो दिए गए लोकोक्ति का सही अर्थ वाला विकल्प है।

आँख एक नहीं कजरौटा दस-दस

**Options :**

1. ✓ व्यर्थ का आडंबर करना
2. ✗ अच्छे-बुरे का ज्ञान न होना
3. ✗ नादान व्यक्ति
4. ✗ सुख-दुःख आते जाते रहते हैं

**Question Number : 193 Question Id : 2752286025 Question Type : MCQ Option Shuffling : Yes Is Question Mandatory : No Option Orientation : Vertical**

**Correct Marks : 1 Wrong Marks : 0.25**

निम्नलिखित प्रश्न में, चार विकल्पों में से, उस विकल्प का चयन करें जो दी गई मुहावरे का सही अर्थ वाला विकल्प है।

निन्यानवे के फेर में पड़ना

**Options :**

1. ✗ बढ़ा-चढ़ा कर कहना
2. ✗ कहीं का न रहना
3. ✗ भाग जाना
4. ✓ अत्यधिक धन कमाने में व्यस्त होना

**Question Number : 193 Question Id : 2752286025 Question Type : MCQ Option Shuffling : Yes Is Question Mandatory : No Option Orientation : Vertical**

**Correct Marks : 1 Wrong Marks : 0.25**

निम्नलिखित प्रश्न में, चार विकल्पों में से, उस विकल्प का चयन करें जो दी गई मुहावरे का सही अर्थ वाला विकल्प है।

निन्यानवे के फेर में पड़ना

**Options :**

1. ✘ बढ़ा-चढ़ा कर कहना
2. ✘ कहीं का न रहना
3. ✘ भाग जाना
4. ✔ अत्यधिक धन कमाने में व्यस्त होना

**Question Number : 194 Question Id : 2752286026 Question Type : MCQ Option Shuffling : Yes Is Question Mandatory : No Option Orientation : Vertical**

**Correct Marks : 1 Wrong Marks : 0.25**

निम्नलिखित प्रश्न में, चार विकल्पों में से, उस विकल्प का चयन करें जो दी गई मुहावरे का सही अर्थ वाला विकल्प है।

आँखों में समाना

**Options :**

1. ✘ शत्रु होना
2. ✔ हमेशा ध्यान में रहना
3. ✘ शर्म लिहाज करना
4. ✘ धोखा देना

**Question Number : 194 Question Id : 2752286026 Question Type : MCQ Option Shuffling : Yes Is Question Mandatory : No Option Orientation : Vertical**

**Correct Marks : 1 Wrong Marks : 0.25**

निम्नलिखित प्रश्न में, चार विकल्पों में से, उस विकल्प का चयन करें जो दी गई मुहावरे का सही अर्थ वाला विकल्प है।

आँखों में समाना

**Options :**

1. ✘ शत्रु होना
2. ✔ हमेशा ध्यान में रहना
3. ✘ शर्म लिहाज करना
4. ✘ धोखा देना

**Question Number : 195 Question Id : 2752286027 Question Type : MCQ Option Shuffling : Yes Is Question Mandatory : No Option Orientation : Vertical**

**Correct Marks : 1 Wrong Marks : 0.25**

निम्नलिखित प्रश्न में, चार विकल्पों में से, उस विकल्प का चयन करें जो दी गई मुहावरे का सही अर्थ वाला विकल्प है।

कलेजा टूक-टूक होना

**Options :**

1. ✘ ईर्ष्या होना
2. ✘ बदला पूरा होने पर संतोष
3. ✔ हृदय पर गहरा आघात पहुंचना
4. ✘ हृदय की बात कहना

**Question Number : 195 Question Id : 2752286027 Question Type : MCQ Option Shuffling : Yes Is Question Mandatory : No Option Orientation : Vertical**

**Correct Marks : 1 Wrong Marks : 0.25**

निम्नलिखित प्रश्न में, चार विकल्पों में से, उस विकल्प का चयन करें जो दी गई मुहावरे का सही अर्थ वाला विकल्प है।

कलेजा टूक-टूक होना

**Options :**

1. ✘ ईर्ष्या होना
2. ✘ बदला पूरा होने पर संतोष
3. ✔ हृदय पर गहरा आघात पहुंचना
4. ✘ हृदय की बात कहना

**Sub-Section Number :**

2

**Sub-Section Id :**

275228377

**Question Shuffling Allowed :**

Yes

**Question Id : 2752286028 Question Type : COMPREHENSION Sub Question Shuffling Allowed : Yes Group Comprehension Questions : No**

**Question Numbers : (196 to 200)**

निम्नलिखित गद्यांश को पढ़िए और दिए गए प्रश्नों के उत्तर दीजिए।

1971 के भारत-पाक युद्ध में समुद्र में जीत हासिल करने में भारतीय नौसेना द्वारा निभाई गई निर्णायक भूमिका की याद में प्रति वर्ष 04 दिसंबर को नौसेना दिवस मनाया जाता है। यह एक ऐसा अवसर है जब हम अपने शहीदों को श्रद्धांजलि अर्पित करते हैं तथा अपने सेवानिवृत्त सैनिकों और युद्ध-विधवाओं के बलिदान को याद करते हैं। इस दिन भारतीय नौसेना राष्ट्र की निरंतर सेवा के प्रति अपनी वचनबद्धता और निष्ठा को दोहराती है। भारत की समुद्री शक्ति के प्रमुख उपादान

और अभिव्यक्ति के रूप में समुद्री अधिकार-क्षेत्र में राष्ट्रीय सुरक्षा की निगरानी और उसमें बढ़ोत्तरी के लिए भारतीय नौसेना एक अहम भूमिका का निर्वाह करती है, जो सतत रूप से बढ़ते इसके कार्यक्षेत्र तथा राष्ट्रीय सुरक्षा में इसके बढ़ते महत्व के अनुरूप है। नौसेना की सक्रियात्मक गतिविधियों में तदनुसार संगत विस्तार हुआ है तथा इसमें हिंद महासागरीय क्षेत्र तथा उससे परे के क्षेत्रों का भी समावेश हो गया है। यह जानकर सुखद अनुभूति होती है कि नौसेना हमारी विस्तृत समुद्री सीमाओं की निरंतर चौकसी कर रही है और उनमें पेश आने वाले खतरों और चुनौतियों का हमेशा तेजी से और पूरी दक्षता के साथ मुकाबला किया है। समुद्री डकैती की रोकथाम, प्राकृतिक आपदाओं और मानवीय त्रासदी के दौरान तत्काल सहायता उपलब्ध कराने में भारतीय नौसेना का कार्य सराहनीय है।

#### Sub questions

**Question Number : 196 Question Id : 2752286029 Question Type : MCQ Option Shuffling : Yes Is Question Mandatory : No Option Orientation : Vertical**

**Correct Marks : 1 Wrong Marks : 0.25**

अनुच्छेद के अनुसार नौसेना दिवस क्यों मनाया जाता है?

**Options :**

1. ✓ युद्ध के दौरान भारत की निर्णायक भूमिका की याद में
2. ✗ भारत की तीनों सेना के लिए
3. ✗ नौसेना को युद्ध करने के लिए प्रेरित करने के लिए
4. ✗ सारे विश्व को दिखाने के लिए

**Question Number : 197 Question Id : 2752286030 Question Type : MCQ Option Shuffling : Yes Is Question Mandatory : No Option Orientation : Vertical**

**Correct Marks : 1 Wrong Marks : 0.25**

4 दिसंबर के दिन भारतीय नौसेना किस बात को दोहराती है?

**Options :**

1. ✗ सतत युद्ध करने को
2. ✓ निरंतर सेवा की अपनी वचनबद्धता और निष्ठा को
3. ✗ अपने किए गए कार्यों को बताती है
4. ✗ 1971 के युद्ध की बातों को दोहराती है

**Question Number : 198 Question Id : 2752286031 Question Type : MCQ Option Shuffling : Yes Is Question Mandatory : No Option Orientation : Vertical**

**Correct Marks : 1 Wrong Marks : 0.25**

गद्यांश के अनुसार नौसेना के बारे में किस बात को जानकर बहुत आनंद की प्राप्ति होती है ?

**Options :**

1. ✓ नौसेना विशाल समुद्री सीमा की चौकसी कर रही है।
2. ✗ विशाल युद्धों में भाग लेती है।
3. ✗ जनता की नजरों से दूर रह कर काम करती है।
4. ✗ विशाल हिंद महासागर में स्थित है।

**Question Number : 199 Question Id : 2752286032 Question Type : MCQ Option Shuffling : Yes Is Question Mandatory : No Option Orientation : Vertical**

**Correct Marks : 1 Wrong Marks : 0.25**

इनमें से कौन - सा शब्द निर्वाह का समानार्थी शब्द नहीं है?

**Options :**

1. ✗ निबाह
2. ✗ निष्पादन
3. ✗ गुज़ारा
4. ✓ उपयोग

**Question Number : 200 Question Id : 2752286033 Question Type : MCQ Option Shuffling : Yes Is Question Mandatory : No Option Orientation : Vertical**

**Correct Marks : 1 Wrong Marks : 0.25**

इस अनुच्छेद का कोई उपयुक्त शीर्षक:

**Options :**

1. ✗ युद्ध की नीति
2. ✗ भारत का बल
3. ✓ भारतीय नौसेना की अहम भूमिका
4. ✗ 4 दिसंबर का अवसर

**Question Id : 2752286028 Question Type : COMPREHENSION Sub Question Shuffling Allowed : Yes Group Comprehension Questions : No**

**Question Numbers : (196 to 200)**

निम्नलिखित गद्यांश को पढ़िए और दिए गए प्रश्नों के उत्तर दीजिए।

1971 के भारत-पाक युद्ध में समुद्र में जीत हासिल करने में भारतीय नौसेना द्वारा निभाई गई निर्णायक भूमिका की याद में प्रति वर्ष 04 दिसंबर को नौसेना दिवस मनाया जाता है। यह एक ऐसा अवसर है जब हम अपने शहीदों को श्रद्धांजलि अर्पित करते हैं तथा अपने सेवानिवृत्त सैनिकों और युद्ध-विधवाओं के बलिदान को

याद करते हैं। इस दिन भारतीय नौसेना राष्ट्र की निरंतर सेवा के प्रति अपनी वचनबद्धता और निष्ठा को दोहराती है। भारत की समुद्री शक्ति के प्रमुख उपादान और अभिव्यक्ति के रूप में समुद्री अधिकार-क्षेत्र में राष्ट्रीय सुरक्षा की निगरानी और उसमें बढ़ोत्तरी के लिए भारतीय नौसेना एक अहम भूमिका का निर्वाह करती है, जो सतत रूप से बढ़ते इसके कार्यक्षेत्र तथा राष्ट्रीय सुरक्षा में इसके बढ़ते महत्व के अनुरूप है। नौसेना की सक्रियात्मक गतिविधियों में तदनुसार संगत विस्तार हुआ है तथा इसमें हिंद महासागरीय क्षेत्र तथा उससे परे के क्षेत्रों का भी समावेश हो गया है। यह जानकर सुखद अनुभूति होती है कि नौसेना हमारी विस्तृत समुद्री सीमाओं की निरंतर चौकसी कर रही है और उनमें पेश आने वाले खतरों और चुनौतियों का हमेशा तेजी से और पूरी दक्षता के साथ मुकाबला किया है। समुद्री डकैती की रोकथाम, प्राकृतिक आपदाओं और मानवीय त्रासदी के दौरान तत्काल सहायता उपलब्ध कराने में भारतीय नौसेना का कार्य सराहनीय है।

#### Sub questions

**Question Number : 196 Question Id : 2752286029 Question Type : MCQ Option Shuffling : Yes Is Question Mandatory : No Option Orientation : Vertical**

**Correct Marks : 1 Wrong Marks : 0.25**

अनुच्छेद के अनुसार नौसेना दिवस क्यों मनाया जाता है?

**Options :**

1. ✓ युद्ध के दौरान भारत की निर्णायक भूमिका की याद में
2. ✗ भारत की तीनों सेना के लिए
3. ✗ नौसेना को युद्ध करने के लिए प्रेरित करने के लिए
4. ✗ सारे विश्व को दिखाने के लिए

**Question Number : 197 Question Id : 2752286030 Question Type : MCQ Option Shuffling : Yes Is Question Mandatory : No Option Orientation : Vertical**

**Correct Marks : 1 Wrong Marks : 0.25**

4 दिसंबर के दिन भारतीय नौसेना किस बात को दोहराती है?

**Options :**

1. ✗ सतत युद्ध करने को
2. ✓ निरंतर सेवा की अपनी वचनबद्धता और निष्ठा को
3. ✗ अपने किए गए कार्यों को बताती है
4. ✗ 1971 के युद्ध की बातों को दोहराती है

**Question Number : 198 Question Id : 2752286031 Question Type : MCQ Option Shuffling : Yes Is Question Mandatory : No Option Orientation : Vertical**

**Correct Marks : 1 Wrong Marks : 0.25**

गद्यांश के अनुसार नौसेना के बारे में किस बात को जानकर बहुत आनंद की प्राप्ति होती है ?

**Options :**

1. ✓ नौसेना विशाल समुद्री सीमा की चौकसी कर रही है।
2. ✗ विशाल युद्धों में भाग लेती है।
3. ✗ जनता की नजरों से दूर रह कर काम करती है।
4. ✗ विशाल हिंद महासागर में स्थित है।

**Question Number : 199 Question Id : 2752286032 Question Type : MCQ Option Shuffling : Yes Is Question Mandatory : No Option Orientation : Vertical**

**Correct Marks : 1 Wrong Marks : 0.25**

इनमें से कौन - सा शब्द निर्वाह का समानार्थी शब्द नहीं है?

**Options :**

1. ✗ निबाह
2. ✗ निष्पादन
3. ✗ गुजारा
4. ✓ उपयोग

**Question Number : 200 Question Id : 2752286033 Question Type : MCQ Option Shuffling : Yes Is Question Mandatory : No Option Orientation : Vertical**

**Correct Marks : 1 Wrong Marks : 0.25**

इस अनुच्छेद का कोई उपयुक्त शीर्षक:

**Options :**

1. ✗ युद्ध की नीति
2. ✗ भारत का बल
3. ✓ भारतीय नौसेना की अहम भूमिका
4. ✗ 4 दिसंबर का अवसर