

# Education Consultant India Ltd.

## Notations :

- 1.Options shown in green color and with ✓ icon are correct.
- 2.Options shown in red color and with ✗ icon are incorrect.

<b>Question Paper Name :</b>	Junior Assistant 2
<b>Subject Name :</b>	Junior Assistant
<b>Creation Date :</b>	2021-08-21 16:19:01
<b>Duration :</b>	120
<b>Total Marks :</b>	200
<b>Display Marks:</b>	Yes
<b>Calculator :</b>	None
<b>Magnifying Glass Required? :</b>	No
<b>Ruler Required? :</b>	No
<b>Eraser Required? :</b>	No
<b>Scratch Pad Required? :</b>	No
<b>Rough Sketch/Notepad Required? :</b>	No
<b>Protractor Required? :</b>	No
<b>Show Watermark on Console? :</b>	Yes
<b>Highlighter :</b>	No
<b>Auto Save on Console? ( SA type of questions will be always auto saved ) :</b>	No

## General Ability1

<b>Group Number :</b>	1
<b>Group Id :</b>	275228193
<b>Group Maximum Duration :</b>	0
<b>Group Minimum Duration :</b>	0

<b>Show Attended Group? :</b>	No
<b>Edit Attended Group? :</b>	No
<b>Break time :</b>	0
<b>Group Marks :</b>	20
<b>Is this Group for Examiner? :</b>	No

## General Ability1

<b>Section Id :</b>	275228295
<b>Section Number :</b>	1
<b>Section type :</b>	Online
<b>Mandatory or Optional :</b>	Mandatory
<b>Number of Questions :</b>	20
<b>Number of Questions to be attempted :</b>	20
<b>Section Marks :</b>	20
<b>Enable Mark as Answered Mark for Review and Clear Response :</b>	Yes
<b>Sub-Section Number :</b>	1
<b>Sub-Section Id :</b>	275228354
<b>Question Shuffling Allowed :</b>	Yes

**Question Number : 1 Question Id : 2752285630 Question Type : MCQ Option Shuffling : Yes Is Question Mandatory : No Option Orientation : Vertical**

**Correct Marks : 1 Wrong Marks : 0.25**

Find the wrong term in the following series:

SO, GK, BF, WA

**Options :**

1. ✓ SO
2. ✗ GK
3. ✗ BF
4. ✗ WA

**Question Number : 1 Question Id : 2752285630 Question Type : MCQ Option Shuffling : Yes Is Question Mandatory : No Option**

**Orientation : Vertical**

**Correct Marks : 1 Wrong Marks : 0.25**

निम्नलिखित श्रृंखला में गलत पद ज्ञात करें:

SO, GK, BF, WA

**Options :**

1. ✓ SO
2. ✗ GK
3. ✗ BF
4. ✗ WA

**Question Number : 2 Question Id : 2752285631 Question Type : MCQ Option Shuffling : Yes Is Question Mandatory : No Option**

**Orientation : Vertical**

**Correct Marks : 1 Wrong Marks : 0.25**

Arrange the given words in the sequence in which they occur in the dictionary.

1. HACKLED
2. HACKER
3. HABITAT
4. HALOGEN
5. HALFWAY

**Options :**

1. ✗ 1, 2, 4, 5, 3
2. ✗ 2, 1, 3, 4, 5
3. ✓ 3, 2, 1, 5, 4
4. ✗ 3, 1, 2, 4, 5

**Question Number : 2 Question Id : 2752285631 Question Type : MCQ Option Shuffling : Yes Is Question Mandatory : No Option**

**Orientation : Vertical**

**Correct Marks : 1 Wrong Marks : 0.25**

दिए गए शब्दों को उस क्रम में व्यवस्थित करें जिस क्रम में वे शब्दकोश में होते हैं।

1. HACKLED
2. HACKER

3. HABITAT
4. HALOGEN
5. HALFWAY

**Options :**

1. ✘ 1, 2, 4, 5, 3
2. ✘ 2, 1, 3, 4, 5
3. ✔ 3, 2, 1, 5, 4
4. ✘ 3, 1, 2, 4, 5

**Question Number : 3 Question Id : 2752285632 Question Type : MCQ Option Shuffling : Yes Is Question Mandatory : No Option Orientation : Vertical**

**Correct Marks : 1 Wrong Marks : 0.25**

Find the missing term in the following series:

RPT, \_\_\_\_\_, ZXB, DBF, HFJ

**Options :**

1. ✘ USY
2. ✔ VTX
3. ✘ VSZ
4. ✘ URP

**Question Number : 3 Question Id : 2752285632 Question Type : MCQ Option Shuffling : Yes Is Question Mandatory : No Option Orientation : Vertical**

**Correct Marks : 1 Wrong Marks : 0.25**

निम्नलिखित श्रृंखला में लुप्त पद ज्ञात करें:

RPT, \_\_\_\_\_, ZXB, DBF, HFJ

**Options :**

1. ✘ USY
2. ✔ VTX
3. ✘ VSZ
4. ✘ URP

**Question Number : 4 Question Id : 2752285633 Question Type : MCQ Option Shuffling : Yes Is Question Mandatory : No Option Orientation : Vertical**

**Correct Marks : 1 Wrong Marks : 0.25**

Choose the wrong term in the following series:

CEZ, DGY, EIX, FKW, GNV

**Options :**

1. ✘ CEZ
2. ✘ DGY
3. ✘ FKW
4. ✔ GNV

**Question Number : 4 Question Id : 2752285633 Question Type : MCQ Option Shuffling : Yes Is Question Mandatory : No Option Orientation : Vertical**

**Correct Marks : 1 Wrong Marks : 0.25**

निम्नलिखित श्रृंखला में गलत पद चुनें:

CEZ, DGY, EIX, FKW, GNV

**Options :**

1. ✘ CEZ
2. ✘ DGY
3. ✘ FKW
4. ✔ GNV

**Question Number : 5 Question Id : 2752285634 Question Type : MCQ Option Shuffling : Yes Is Question Mandatory : No Option Orientation : Vertical**

**Correct Marks : 1 Wrong Marks : 0.25**

Out of the given options, three are similar in a certain manner. However, one option is NOT like the other three. Select the option which is different from the rest.

**Options :**

1. ✘ Pigeon
2. ✘ Sparrow
3. ✔ Ostrich

4. ✖ Crow

**Question Number : 5 Question Id : 2752285634 Question Type : MCQ Option Shuffling : Yes Is Question Mandatory : No Option Orientation : Vertical**

**Correct Marks : 1 Wrong Marks : 0.25**

दिए गए विकल्पों में से, तीन एक निश्चित तरीके से समान हैं। हालाँकि, एक विकल्प अन्य तीन की तरह नहीं है। उस विकल्प का चयन करें जो अन्य से अलग है।

**Options :**

1. ✖ कबूतर
2. ✖ गौरैया
3. ✔ शुतुरमुर्ग
4. ✖ कौआ

**Question Number : 6 Question Id : 2752285635 Question Type : MCQ Option Shuffling : Yes Is Question Mandatory : No Option Orientation : Vertical**

**Correct Marks : 1 Wrong Marks : 0.25**

Out of the given options, three are similar in a certain manner. However, one option is NOT like the other three. Select the option which is different from the rest.

**Options :**

1. ✖ ND : RB
2. ✖ FN : JL
3. ✖ PS : TQ
4. ✔ WH : ZE

**Question Number : 6 Question Id : 2752285635 Question Type : MCQ Option Shuffling : Yes Is Question Mandatory : No Option Orientation : Vertical**

**Correct Marks : 1 Wrong Marks : 0.25**

दिए गए विकल्पों में से, तीन एक निश्चित तरीके से समान हैं। हालाँकि, एक विकल्प अन्य तीन की तरह नहीं है। उस विकल्प का चयन करें जो अन्य से अलग है।

**Options :**

1. ✖ ND : RB
2. ✖ FN : JL
3. ✖ PS : TQ
4. ✔ WH : ZE

**Question Number : 7 Question Id : 2752285636 Question Type : MCQ Option Shuffling : Yes Is Question Mandatory : No Option Orientation : Vertical**

**Correct Marks : 1 Wrong Marks : 0.25**

Out of the given options, three are similar in a certain manner. However, one option is NOT like the other three. Select the option which is different from the rest.

**Options :**

1. ✓ Horse : Stallion
2. ✗ Spider : Web
3. ✗ Lunatic : Asylum
4. ✗ Hare : Burrow

**Question Number : 7 Question Id : 2752285636 Question Type : MCQ Option Shuffling : Yes Is Question Mandatory : No Option Orientation : Vertical**

**Correct Marks : 1 Wrong Marks : 0.25**

दिए गए विकल्पों में से, तीन एक निश्चित तरीके से समान हैं। हालाँकि, एक विकल्प अन्य तीन की तरह नहीं है। उस विकल्प का चयन करें जो अन्य से अलग है।

**Options :**

1. ✓ घोड़ा : बीजाश्व
2. ✗ मकड़ी : जाल
3. ✗ पागल : पागलखाना
4. ✗ खरहा : बिल

**Question Number : 8 Question Id : 2752285637 Question Type : MCQ Option Shuffling : Yes Is Question Mandatory : No Option Orientation : Vertical**

**Correct Marks : 1 Wrong Marks : 0.25**

Out of the given options, three are similar in a certain manner. However, one option is NOT like the other three. Select the option which is different from the rest.

**Options :**

1. ✗ PMS
2. ✓ UVE
3. ✗ VSY
4. ✗ KHN

**Question Number : 8 Question Id : 2752285637 Question Type : MCQ Option Shuffling : Yes Is Question Mandatory : No Option Orientation : Vertical**

**Correct Marks : 1 Wrong Marks : 0.25**

दिए गए विकल्पों में से, तीन एक निश्चित तरीके से समान हैं। हालाँकि, एक विकल्प अन्य तीन की तरह नहीं है। उस विकल्प का चयन करें जो अन्य से अलग है।

**Options :**

1. ✘ PMS
2. ✔ UVE
3. ✘ VSY
4. ✘ KHN

**Question Number : 9 Question Id : 2752285638 Question Type : MCQ Option Shuffling : Yes Is Question Mandatory : No Option Orientation : Vertical**

**Correct Marks : 1 Wrong Marks : 0.25**

Select the option that is related to the third term on the same basis as the second term is related to the first term.

Cricket : 11 :: Football : ?

**Options :**

1. ✘ 14
2. ✘ 10
3. ✘ 12
4. ✔ 11

**Question Number : 9 Question Id : 2752285638 Question Type : MCQ Option Shuffling : Yes Is Question Mandatory : No Option Orientation : Vertical**

**Correct Marks : 1 Wrong Marks : 0.25**

उस विकल्प का चयन करें जो तीसरे पद से उसी प्रकार से संबंधित है जिस प्रकार से दूसरा पद पहले पद से संबंधित है।

क्रिकेट : 11 :: फुटबॉल : ?

**Options :**

1. ✘ 14
2. ✘ 10
3. ✘ 12



4. ✓ 11

**Question Number : 10 Question Id : 2752285639 Question Type : MCQ Option Shuffling : Yes Is Question Mandatory : No Option Orientation : Vertical**

**Correct Marks : 1 Wrong Marks : 0.25**

Select the option that is related to the third term on the same basis as the second term is related to the first term.

OVY : SZC :: FRW : ?

**Options :**

1. ✓ JVA
2. ✗ HVY
3. ✗ GUZ
4. ✗ KVY

**Question Number : 10 Question Id : 2752285639 Question Type : MCQ Option Shuffling : Yes Is Question Mandatory : No Option Orientation : Vertical**

**Correct Marks : 1 Wrong Marks : 0.25**

उस विकल्प का चयन करें जो तीसरे पद से उसी प्रकार से संबंधित है जिस प्रकार से दूसरा पद पहले पद से संबंधित है।

OVY : SZC :: FRW : ?

**Options :**

1. ✓ JVA
2. ✗ HVY
3. ✗ GUZ
4. ✗ KVY

**Question Number : 11 Question Id : 2752285640 Question Type : MCQ Option Shuffling : Yes Is Question Mandatory : No Option Orientation : Vertical**

**Correct Marks : 1 Wrong Marks : 0.25**

Select the pair that is related on the same basis to the pair given in the question.

PDN : SAQ :: ?

**Options :**

1. ✘ TPA : VNB
2. ✘ KMC : MJE
3. ✔ SHB : VEE
4. ✘ LSR : OQW

**Question Number : 11 Question Id : 2752285640 Question Type : MCQ Option Shuffling : Yes Is Question Mandatory : No Option Orientation : Vertical**

**Correct Marks : 1 Wrong Marks : 0.25**

उस जोड़ी का चयन करें जो प्रश्न में दी गई जोड़ी से समान प्रकार से संबंधित है।

PDN : SAQ :: ?

**Options :**

1. ✘ TPA : VNB
2. ✘ KMC : MJE
3. ✔ SHB : VEE
4. ✘ LSR : OQW

**Question Number : 12 Question Id : 2752285641 Question Type : MCQ Option Shuffling : Yes Is Question Mandatory : No Option Orientation : Vertical**

**Correct Marks : 1 Wrong Marks : 0.25**

Select the pair that is related on the same basis to the pair given in the question.

Steering : Car :: ?

**Options :**

1. ✘ Wall : Clock
2. ✘ Fan : Ceiling
3. ✘ Furniture : Carpenter
4. ✔ Wheel : Cart

**Question Number : 12 Question Id : 2752285641 Question Type : MCQ Option Shuffling : Yes Is Question Mandatory : No Option Orientation : Vertical**

**Correct Marks : 1 Wrong Marks : 0.25**

उस जोड़ी का चयन करें जो प्रश्न में दी गई जोड़ी से समान प्रकार से संबंधित है।

स्टीयरिंग : कार :: ?

**Options :**

1. ✘ दिवार : घड़ी
2. ✘ पंखा : छत
3. ✘ फर्नीचर : बढ़ई
4. ✔ पहिया : गाड़ी

**Question Number : 13 Question Id : 2752285642 Question Type : MCQ Option Shuffling : Yes Is Question Mandatory : No Option Orientation : Vertical**

**Correct Marks : 1 Wrong Marks : 0.25**

If BRAIN is coded as 4-20-3-11-16, then what is the code for CLERK?

**Options :**

1. ✘ 3-12-5-18-11
2. ✔ 5-14-7-20-13
3. ✘ 6-15-8-21-14
4. ✘ 4-13-6-19-12

**Question Number : 13 Question Id : 2752285642 Question Type : MCQ Option Shuffling : Yes Is Question Mandatory : No Option Orientation : Vertical**

**Correct Marks : 1 Wrong Marks : 0.25**

यदि BRAIN को 4-20-3-11-16 के रूप में कोडित किया गया है, तो CLERK के लिए कोड क्या है?

**Options :**

1. ✘ 3-12-5-18-11
2. ✔ 5-14-7-20-13
3. ✘ 6-15-8-21-14
4. ✘ 4-13-6-19-12

**Question Number : 14 Question Id : 2752285643 Question Type : MCQ Option Shuffling : Yes Is Question Mandatory : No Option Orientation : Vertical**

**Correct Marks : 1 Wrong Marks : 0.25**

If MEAN = 32, FLAKE = 50, ANIMAL = 72, then what is the code for SCENARIO?

**Options :**

1. ✓ 128
2. ✗ 64
3. ✗ 72
4. ✗ 112

**Question Number : 14 Question Id : 2752285643 Question Type : MCQ Option Shuffling : Yes Is Question Mandatory : No Option Orientation : Vertical**

**Correct Marks : 1 Wrong Marks : 0.25**

यदि MEAN = 32, FLAKE = 50, ANIMAL = 72, तो SCENARIO के लिए कोड क्या है?

**Options :**

1. ✓ 128
2. ✗ 64
3. ✗ 72
4. ✗ 112

**Question Number : 15 Question Id : 2752285644 Question Type : MCQ Option Shuffling : Yes Is Question Mandatory : No Option Orientation : Vertical**

**Correct Marks : 1 Wrong Marks : 0.25**

If DRONE is coded as FUSSK, then what is the code for FLASH?

**Options :**

1. ✗ HODYM
2. ✗ HPDYO
3. ✓ HOEXN
4. ✗ HNCUJ

**Question Number : 15 Question Id : 2752285644 Question Type : MCQ Option Shuffling : Yes Is Question Mandatory : No Option Orientation : Vertical**

**Correct Marks : 1 Wrong Marks : 0.25**

यदि DRONE को FUSSK के रूप में कोडित किया गया है, तो FLASH के लिए कोड क्या है?

**Options :**

1. ✘ HODYM
2. ✘ HPDYO
3. ✔ HOEXN
4. ✘ HNCUJ

**Question Number : 16 Question Id : 2752285645 Question Type : MCQ Option Shuffling : Yes Is Question Mandatory : No Option Orientation : Vertical**

**Correct Marks : 1 Wrong Marks : 0.25**

In a certain code language,  
bi zi si mi means let's wait for her,  
fi li zi means come wait here,  
mi di bi ti means let's play with her,  
what is the code for 'for'?

**Options :**

1. ✘ bi
2. ✘ zi
3. ✔ si
4. ✘ mi

**Question Number : 16 Question Id : 2752285645 Question Type : MCQ Option Shuffling : Yes Is Question Mandatory : No Option Orientation : Vertical**

**Correct Marks : 1 Wrong Marks : 0.25**

एक निश्चित कोड भाषा में,  
bi zi si mi का अर्थ है let's wait for her,  
fi li zi का अर्थ है come wait here,  
mi di bi ti का अर्थ है let's play with her,  
'for' के लिए कोड क्या है?

**Options :**

1. ✘ bi
2. ✘ zi
3. ✔ si
4. ✘ mi

**Question Number : 17 Question Id : 2752285646 Question Type : MCQ Option Shuffling : Yes Is Question Mandatory : No Option Orientation : Vertical**

**Correct Marks : 1 Wrong Marks : 0.25**

If A @ B means A is the father of B, A + B means A is the wife of B and A - B means A is the mother of B, then what does P + Q @ R - S mean?

**Options :**

1. ✘ P is the sister of S
2. ✔ P is the grandmother of S
3. ✘ P is the wife of S
4. ✘ P is the mother of S

**Question Number : 17 Question Id : 2752285646 Question Type : MCQ Option Shuffling : Yes Is Question Mandatory : No Option Orientation : Vertical**

**Correct Marks : 1 Wrong Marks : 0.25**

यदि A @ B का अर्थ है A, B का पिता है, A + B का अर्थ है A, B की पत्नी है और A - B का अर्थ है, A, B की माता है, तो P + Q @ R - S का क्या अर्थ है?

**Options :**

1. ✘ P, S की बहन है
2. ✔ P, S की दादी/नानी है
3. ✘ P, S की पत्नी है
4. ✘ P, S की माता है

**Question Number : 18 Question Id : 2752285647 Question Type : MCQ Option Shuffling : Yes Is Question Mandatory : No Option Orientation : Vertical**

**Correct Marks : 1 Wrong Marks : 0.25**

Lalita is shorter than Gagan but taller than Perna. Binita is taller than Gagan but shorter than Danish. Who is the shortest of all?

**Options :**

1. ✔ Perna
2. ✘ Danish
3. ✘ Lalita
4. ✘ Gagan

**Question Number : 18 Question Id : 2752285647 Question Type : MCQ Option Shuffling : Yes Is Question Mandatory : No Option**

**Orientation : Vertical**

**Correct Marks : 1 Wrong Marks : 0.25**

ललिता गगन से छोटी है लेकिन प्रेरणा से लंबी है। बिनीता गगन से लंबी है लेकिन दानिश से छोटी है। सब में सबसे छोटा कौन है?

**Options :**

1. ✓ प्रेरणा
2. ✗ दानिश
3. ✗ ललिता
4. ✗ गगन

**Question Number : 19 Question Id : 2752285648 Question Type : MCQ Option Shuffling : Yes Is Question Mandatory : No Option**

**Orientation : Vertical**

**Correct Marks : 1 Wrong Marks : 0.25**

In a queue, Manish is 5th from the left and Sachin is 7th from the right. Both of them interchange their positions and now Manish becomes 12th from the left. How many people were there in the queue?

**Options :**

1. ✗ 24
2. ✓ 18
3. ✗ 16
4. ✗ 19

**Question Number : 19 Question Id : 2752285648 Question Type : MCQ Option Shuffling : Yes Is Question Mandatory : No Option**

**Orientation : Vertical**

**Correct Marks : 1 Wrong Marks : 0.25**

एक कतार में, मनीष बाईं ओर से 5वां और सचिन दाएं से 7वें स्थान पर हैं। दोनों ने अपने स्थानों को परस्पर बदला और अब मनीष बाईं ओर से 12वें स्थान पर आ गया। कतार में कितने लोग थे?

**Options :**

1. ✗ 24
2. ✓ 18
3. ✗ 16
4. ✗ 19

**Question Number : 20 Question Id : 2752285649 Question Type : MCQ Option Shuffling : Yes Is Question Mandatory : No Option**

**Orientation : Vertical**

**Correct Marks : 1 Wrong Marks : 0.25**

Manisha and Sanjana are good in Geography and Hindi. Akansha and Manisha are good in Hindi and Chemistry. Akansha, Preksha and Naman are good in Chemistry and English. Naman and Akansha are good in Chemistry and Maths. Preksha and Sanjana are good in English and Geography. Who among the following is good in Chemistry, English and Maths but not in Hindi?

**Options :**

1. ✘ Manisha
2. ✘ Preksha
3. ✔ Naman
4. ✘ Akansha

**Question Number : 20 Question Id : 2752285649 Question Type : MCQ Option Shuffling : Yes Is Question Mandatory : No Option**

**Orientation : Vertical**

**Correct Marks : 1 Wrong Marks : 0.25**

मनीषा और संजना भूगोल और हिंदी में अच्छे हैं। आकांशा और मनीषा हिंदी और रसायन विज्ञान में अच्छे हैं। आकांशा, प्रेक्षा और नमन रसायन विज्ञान और अंग्रेजी में अच्छे हैं। नमन और आकांशा रसायन विज्ञान और गणित में अच्छे हैं। प्रेक्षा और संजना अंग्रेजी और भूगोल में अच्छे हैं। निम्नलिखित में से कौन रसायन विज्ञान, अंग्रेजी और गणित में अच्छा है लेकिन हिंदी में नहीं है?

**Options :**

1. ✘ मनीषा
2. ✘ प्रेक्षा
3. ✔ नमन
4. ✘ आकांशा

## General Ability2

<b>Group Number :</b>	2
<b>Group Id :</b>	275228194
<b>Group Maximum Duration :</b>	0
<b>Group Minimum Duration :</b>	0
<b>Show Attended Group? :</b>	No
<b>Edit Attended Group? :</b>	No
<b>Break time :</b>	0



**Group Marks :** 20  
**Is this Group for Examiner? :** No

## General Ability2

**Section Id :** 275228296  
**Section Number :** 1  
**Section type :** Online  
**Mandatory or Optional :** Mandatory  
**Number of Questions :** 20  
**Number of Questions to be attempted :** 20  
**Section Marks :** 20  
**Enable Mark as Answered Mark for Review and Clear Response :** Yes  
**Sub-Section Number :** 1  
**Sub-Section Id :** 275228355  
**Question Shuffling Allowed :** Yes

**Question Number : 21 Question Id : 2752285650 Question Type : MCQ Option Shuffling : Yes Is Question Mandatory : No Option Orientation : Vertical**

**Correct Marks : 1 Wrong Marks : 0.25**

In the question a statement is given, followed by two arguments, I and II. You have to consider the statements to be true even if it seems to be at variance from commonly known facts. You have to decide which of the given conclusions, if any, follows from the given statement.

Statement: Should India support all the decisions and policies made by Pakistan.

Arguments:

I. Yes, as this is the only way to maintain peace among both the nations.

II. No, as India should have it's own opinion on the decisions and policies made by Pakistan as some may be correct and some may be incorrect.

**Options :**

1. ✘ Only argument I is strong
2. ✔ Only argument II is strong
3. ✘ Either argument I or argument II is strong
4. ✘ Neither argument I nor argument II is strong

**Question Number : 21 Question Id : 2752285650 Question Type : MCQ Option Shuffling : Yes Is Question Mandatory : No Option Orientation : Vertical**

**Correct Marks : 1 Wrong Marks : 0.25**

प्रश्न में एक कथन दिया गया है, जिसके बाद दो तर्क, I और II दिए गए हैं। आपको उन कथनों को सत्य मानना है, भले ही यह सामान्यतः ज्ञात तथ्य से भिन्न प्रतीत हो। आपको यह निर्णय लेना है कि दिए गए तर्कों में से कौन सा, यदि कोई हो, तो दिए गए कथन का अनुसरण करता है।

कथन: क्या भारत को पाकिस्तान द्वारा किए गए सभी निर्णयों और नीतियों का समर्थन करना चाहिए।

तर्क:

I. हाँ, क्योंकि दोनों राष्ट्रों के बीच शांति बनाए रखने का यह एकमात्र तरीका है।

II. नहीं, क्योंकि भारत की पाकिस्तान द्वारा किए गए निर्णयों और नीतियों पर अपनी स्वयं की राय होनी चाहिए क्योंकि कुछ सही हो सकते हैं और कुछ गलत हो सकते हैं।

**Options :**

1. ✘ केवल तर्क I सबल है
2. ✔ केवल तर्क II सबल है
3. ✘ तर्क I या तर्क II सबल है
4. ✘ न तर्क I और न ही तर्क II सबल है

**Question Number : 22 Question Id : 2752285651 Question Type : MCQ Option Shuffling : Yes Is Question Mandatory : No Option Orientation : Vertical**

**Correct Marks : 1 Wrong Marks : 0.25**

In the question two statements are given, followed by two conclusions, I and II. You have to consider the statements to be true even if it seems to be at variance from commonly known facts. You have to decide which of the given conclusions, if any, follows from the given statements.

Statement 1 : Some schools are colleges.

Statement 2 : Some colleges are universities.

Conclusion I : Some schools are universities.

Conclusion II : No university is school.

**Options :**

1. ✘ Only conclusion I follows
2. ✘ Only conclusion II follows
3. ✘ Both conclusions I and II follows
4. ✔ Either conclusion I or II follows

**Question Number : 22 Question Id : 2752285651 Question Type : MCQ Option Shuffling : Yes Is Question Mandatory : No Option Orientation : Vertical**

**Correct Marks : 1 Wrong Marks : 0.25**

प्रश्न में दो कथन दिए गए हैं, जिसके बाद दो निष्कर्ष I और II दिए गए हैं। आपको उन कथनों को सत्य मानना है, भले ही यह सामान्यतः ज्ञात तथ्य से भिन्न प्रतीत हो। आपको यह निर्णय लेना है कि दिए गए निष्कर्षों में से कौन सा, यदि कोई हो, तो दिए गए कथनों में से अनुसरण करता है।

कथन 1: कुछ विद्यालय महाविद्यालय हैं।

कथन 2: कुछ महाविद्यालय विश्वविद्यालय हैं।

निष्कर्ष I: कुछ विद्यालय विश्वविद्यालय हैं।

निष्कर्ष II: कोई विश्वविद्यालय विद्यालय नहीं है।

**Options :**

1. ✘ केवल निष्कर्ष I अनुसरण करता है
2. ✘ केवल निष्कर्ष II अनुसरण करता है
3. ✘ निष्कर्ष I और II दोनों अनुसरण करते हैं
4. ✔ निष्कर्ष I या निष्कर्ष II अनुसरण करता है

**Question Number : 23 Question Id : 2752285652 Question Type : MCQ Option Shuffling : Yes Is Question Mandatory : No Option Orientation : Vertical**

**Correct Marks : 1 Wrong Marks : 0.25**

In the question one statement is given, followed by two conclusions, I and II. You have to consider the statements to be true even if it seems to be at variance from commonly known facts. You have to decide which of the given conclusions, if any, follows from the given statement.

Statement : Aman is shortlisted for the interview process based on his application for the post of Investment Analyst at BCD Firm.

Conclusion I : Aman will be selected as the Investment Analyst at BCD Firm.

Conclusion II : Aman will not be selected as the Investment Analyst at BCD Firm.

**Options :**

1. ✘ Only conclusion I follows
2. ✘ Only conclusion II follows
3. ✔ Either conclusion I or II follows
4. ✘ Neither conclusion I nor II follows

**Question Number : 23 Question Id : 2752285652 Question Type : MCQ Option Shuffling : Yes Is Question Mandatory : No Option Orientation : Vertical**

**Correct Marks : 1 Wrong Marks : 0.25**

प्रश्न में एक कथन दिया गया है, जिसके बाद दो निष्कर्ष I और II दिए गए हैं। आपको उन कथनों को सत्य मानना है, भले ही यह सामान्यतः ज्ञात तथ्य से भिन्न प्रतीत हो। आपको यह निर्णय लेना है कि दिए गए निष्कर्षों में से कौन सा, यदि कोई हो, तो दिए गए कथन का अनुसरण करता है।

कथन: BCD फर्म में निवेश विश्लेषक के पद के लिए अमन के आवेदन के आधार पर साक्षात्कार प्रक्रिया के लिए अमन को चुना गया है।

निष्कर्ष I: अमन को BCD फर्म में निवेश विश्लेषक के रूप में चुना जाएगा।

निष्कर्ष II: अमन को BCD फर्म में निवेश विश्लेषक के रूप में नहीं चुना जाएगा।

**Options :**

1. ✘ केवल निष्कर्ष I अनुसरण करता है
2. ✘ केवल निष्कर्ष II अनुसरण करता है
3. ✔ या निष्कर्ष I या निष्कर्ष II अनुसरण करता है
4. ✘ न निष्कर्ष I और न ही निष्कर्ष II अनुसरण करता है

**Question Number : 24 Question Id : 2752285653 Question Type : MCQ Option Shuffling : Yes Is Question Mandatory : No Option Orientation : Vertical**

**Correct Marks : 1 Wrong Marks : 0.25**

In the question one statement is given, followed by two reasons, I and II. You have to consider the statements to be true even if it seems to be at variance from commonly known facts. You have to decide which of the given reasons, if any, follows from the given statement.

Statement : The prices of food grains in the last quarter have increased substantially.

Reason I : There was a shortage of supply because of poor rainfall during the last quarter.

Reason II : Farmers have become greedy and they want more money.

**Options :**

1. ✔ Only reason I follows
2. ✘ Only reason II follows
3. ✘ Both conclusions I and II follows
4. ✘ Neither conclusion I nor II follows

**Question Number : 24 Question Id : 2752285653 Question Type : MCQ Option Shuffling : Yes Is Question Mandatory : No Option Orientation : Vertical**

**Correct Marks : 1 Wrong Marks : 0.25**

प्रश्न में एक कथन दिया गया है, जिसके बाद दो कारण, I और II दिए गए हैं। आपको उन कथनों को सत्य मानना है, भले ही यह सामान्यतः ज्ञात तथ्य से भिन्न प्रतीत हो। आपको यह निर्णय लेना है कि दिए गए कारणों में से कौन सा, यदि कोई हो, तो दिए गए कथन का अनुसरण करता है।

कथन: पिछली तिमाही में खाद्यान्न की कीमतों में काफी वृद्धि हुई है।

कारण I: अंतिम तिमाही के दौरान कम वर्षा के कारण आपूर्ति में कमी थी।

कारण II: किसान लालची हो गए हैं और वे अधिक पैसे चाहते हैं।

**Options :**

1. ✓ केवल कारण I अनुसरण करता है
2. ✗ केवल कारण II अनुसरण करता है
3. ✗ I और II दोनों निष्कर्ष अनुसरण करते हैं
4. ✗ न निष्कर्ष I और न ही II अनुसरण करता है

**Question Number : 25 Question Id : 2752285654 Question Type : MCQ Option Shuffling : Yes Is Question Mandatory : No Option Orientation : Vertical**

**Correct Marks : 1 Wrong Marks : 0.25**

Which two numbers should be interchanged to make the below equation mathematically correct?

$$62 + 6 \times 105 \div 3 - 25 = 247$$

**Options :**

1. ✗ 62, 25
2. ✓ 6, 105
3. ✗ 6, 25
4. ✗ 62, 6

**Question Number : 25 Question Id : 2752285654 Question Type : MCQ Option Shuffling : Yes Is Question Mandatory : No Option Orientation : Vertical**

**Correct Marks : 1 Wrong Marks : 0.25**

नीचे दिए गए समीकरण को सही बनाने के लिए किन दो संख्याओं को गणितीय रूप से परस्पर बदलना चाहिए?

$$62 + 6 \times 105 \div 3 - 25 = 247$$

**Options :**

1. ✘ 62, 25
2. ✔ 6, 105
3. ✘ 6, 25
4. ✘ 62, 6

**Question Number : 26 Question Id : 2752285655 Question Type : MCQ Option Shuffling : Yes Is Question Mandatory : No Option Orientation : Vertical**

**Correct Marks : 1 Wrong Marks : 0.25**

If  $16\$8 = 36$ ;  $17\$3 = 30$ ;  $22\$4 = 39$ ; then find the value of  $32\$6 = ?$

**Options :**

1. ✘ 76
2. ✘ 38
3. ✔ 57
4. ✘ 54

**Question Number : 26 Question Id : 2752285655 Question Type : MCQ Option Shuffling : Yes Is Question Mandatory : No Option Orientation : Vertical**

**Correct Marks : 1 Wrong Marks : 0.25**

यदि  $16\$8 = 36$ ;  $17\$3 = 30$ ;  $22\$4 = 39$ ; तो  $32\$6 = ?$  का मान ज्ञात करें।

**Options :**

1. ✘ 76
2. ✘ 38
3. ✔ 57
4. ✘ 54

**Question Number : 27 Question Id : 2752285656 Question Type : MCQ Option Shuffling : Yes Is Question Mandatory : No Option Orientation : Vertical**

**Correct Marks : 1 Wrong Marks : 0.25**

Out of the given options, three are similar in a certain manner. However, one option is NOT like the other three. Select the option which is different from the rest.

**Options :**

1. ✔ 14-182

2. ✘ 22-506
3. ✘ 18-342
4. ✘ 16-272

**Question Number : 27 Question Id : 2752285656 Question Type : MCQ Option Shuffling : Yes Is Question Mandatory : No Option Orientation : Vertical**

**Correct Marks : 1 Wrong Marks : 0.25**

दिए गए विकल्पों में से, तीन एक निश्चित तरीके से समान हैं। हालाँकि, एक विकल्प अन्य तीन की तरह नहीं है। उस विकल्प का चयन करें जो अन्य से अलग है।

**Options :**

1. ✔ 14-182
2. ✘ 22-506
3. ✘ 18-342
4. ✘ 16-272

**Question Number : 28 Question Id : 2752285657 Question Type : MCQ Option Shuffling : Yes Is Question Mandatory : No Option Orientation : Vertical**

**Correct Marks : 1 Wrong Marks : 0.25**

Find the wrong number in the following number series:

0.0384, 0.192, 0.96, 4.6, 24

**Options :**

1. ✘ 0.0384
2. ✘ 0.192
3. ✘ 0.96
4. ✔ 4.6

**Question Number : 28 Question Id : 2752285657 Question Type : MCQ Option Shuffling : Yes Is Question Mandatory : No Option Orientation : Vertical**

**Correct Marks : 1 Wrong Marks : 0.25**

निम्नलिखित संख्या श्रृंखला में गलत संख्या ज्ञात करें:

0.0384, 0.192, 0.96, 4.6, 24

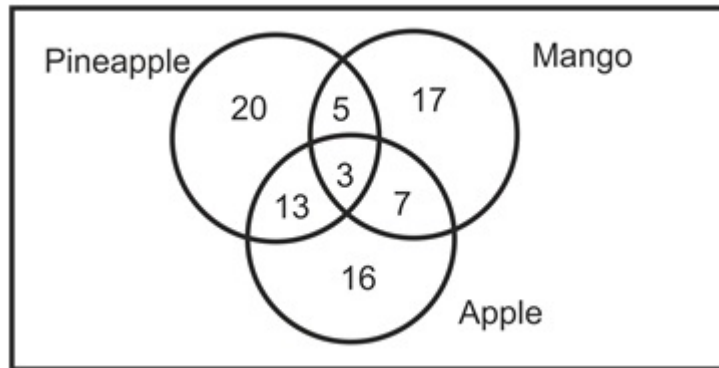
**Options :**

1. ✘ 0.0384
2. ✘ 0.192
3. ✘ 0.96
4. ✔ 4.6

**Question Number : 29 Question Id : 2752285658 Question Type : MCQ Option Shuffling : Yes Is Question Mandatory : No Option Orientation : Vertical**

**Correct Marks : 1 Wrong Marks : 0.25**

The given Venn diagram shows the number of children who love Pineapple, Apple and Mango. How many of these children only like any one fruit?



**Options :**

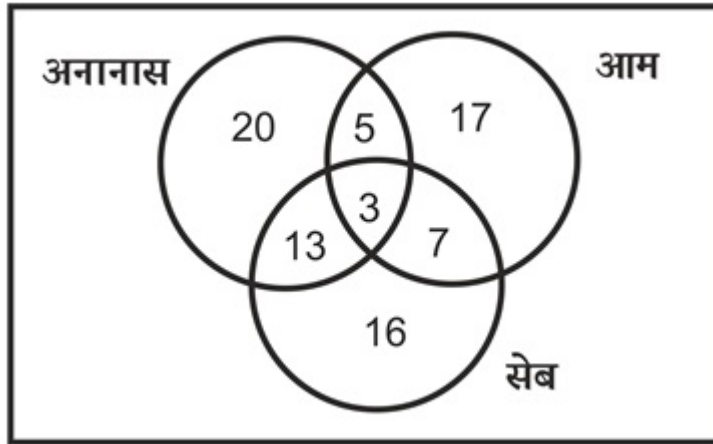
1. ✘ 37
2. ✘ 28
3. ✔ 53
4. ✘ 25

**Question Number : 29 Question Id : 2752285658 Question Type : MCQ Option Shuffling : Yes Is Question Mandatory : No Option Orientation : Vertical**

**Correct Marks : 1 Wrong Marks : 0.25**

दिए गए वेन आरेख में उन बच्चों की संख्या दर्शायी गई है जिन्हें अनानास, सेब और आम पसंद हैं। इनमें से कितने बच्चे केवल किसी एक फल को पसंद करते हैं?





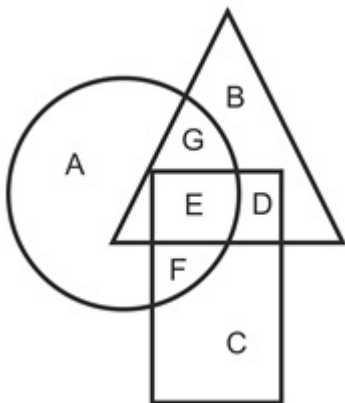
Options :

1. ✘ 37
2. ✘ 28
3. ✔ 53
4. ✘ 25

Question Number : 30 Question Id : 2752285659 Question Type : MCQ Option Shuffling : Yes Is Question Mandatory : No Option Orientation : Vertical

Correct Marks : 1 Wrong Marks : 0.25

In the following figure, triangle represents animals, rectangle represents four legged, circle represents herbivorous. Which area represents four legged animals who are herbivorous?



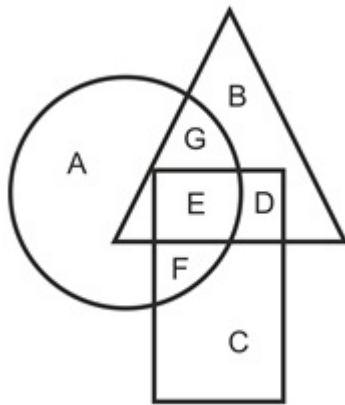
Options :

1. ✘ D
2. ✘ G
3. ✘ F
4. ✔ E

**Question Number : 30 Question Id : 2752285659 Question Type : MCQ Option Shuffling : Yes Is Question Mandatory : No Option Orientation : Vertical**

**Correct Marks : 1 Wrong Marks : 0.25**

निम्नलिखित आकृति में, त्रिभुज जानवरों का प्रतिनिधित्व करता है, आयत चार पैर वालों का प्रतिनिधित्व करता है, वृत्त तृणभक्षी का प्रतिनिधित्व करता है। कौन सा क्षेत्र चार पैर वालों का प्रतिनिधित्व करता है जो तृणभक्षी हैं?



**Options :**


1. ✘ D
2. ✘ G
3. ✘ F
4. ✔ E

**Question Number : 31 Question Id : 2752285660 Question Type : MCQ Option Shuffling : Yes Is Question Mandatory : No Option Orientation : Vertical**


**Correct Marks : 1 Wrong Marks : 0.25**

Which of the following Venn diagrams best represents the relationship between reptile, snake and rat ?

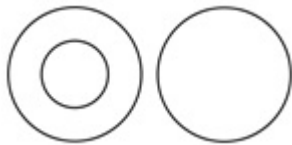
**Options :**



1. ✘



2. ✘



3. ✔




4. ✘

**Question Number : 31 Question Id : 2752285660 Question Type : MCQ Option Shuffling : Yes Is Question Mandatory : No Option Orientation : Vertical**


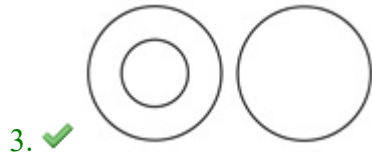
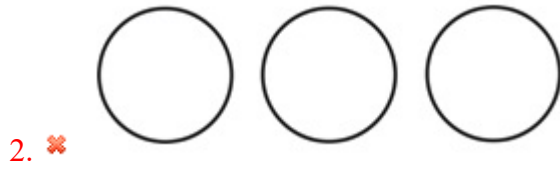
**Correct Marks : 1 Wrong Marks : 0.25**

निम्नलिखित में से कौन सा वेन आरेख सरीसृप, साँप और चूहे के बीच के संबंध को सबसे अच्छा दर्शाता है?

**Options :**



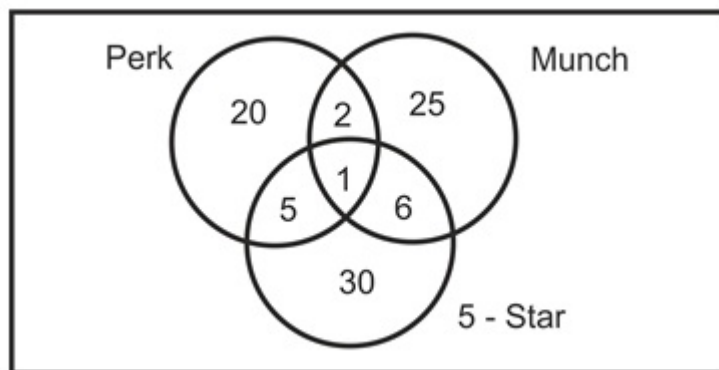
1. ✘



**Question Number : 32 Question Id : 2752285661 Question Type : MCQ Option Shuffling : Yes Is Question Mandatory : No Option Orientation : Vertical**

**Correct Marks : 1 Wrong Marks : 0.25**

The given Venn diagram shows the number of students in a class who likes 5 star, Perk and Munch. There are 100 students in the class. How many of these students do not like any of them?



**Options :**

1. ✔ 11

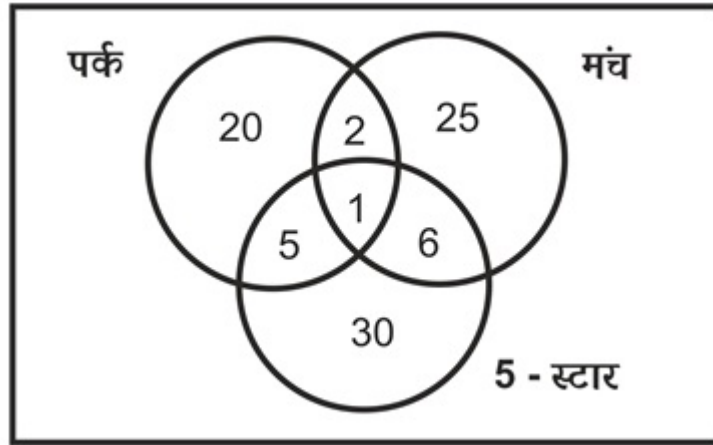
2. ✘ 10

3. ✘ 5  
4. ✘ 12

**Question Number : 32 Question Id : 2752285661 Question Type : MCQ Option Shuffling : Yes Is Question Mandatory : No Option Orientation : Vertical**

**Correct Marks : 1 Wrong Marks : 0.25**

दिए गए वेन आरेख में एक कक्षा में उन छात्रों की संख्या को दर्शाया गया है जिन्हें 5 स्टार, पर्क और मंच पसंद करते हैं। कक्षा में 100 छात्र हैं। इनमें से कितने छात्रों को उनमें से कोई भी पसंद नहीं है?



**Options :**

1. ✔ 11  
2. ✘ 10  
3. ✘ 5  
4. ✘ 12

**Question Number : 33 Question Id : 2752285662 Question Type : MCQ Option Shuffling : Yes Is Question Mandatory : No Option Orientation : Vertical**

**Correct Marks : 1 Wrong Marks : 0.25**

Find the missing figure in the following matrix.

17	19	23
24	36	48
25	?	39

Options :

1. ✓ 31
2. ✗ 37
3. ✗ 55
4. ✗ 17

Question Number : 33 Question Id : 2752285662 Question Type : MCQ Option Shuffling : Yes Is Question Mandatory : No Option Orientation : Vertical

Correct Marks : 1 Wrong Marks : 0.25

निम्नलिखित मैट्रिक्स में लुप्त आंकड़ा ज्ञात करें।

17	19	23
24	36	48
25	?	39

Options :

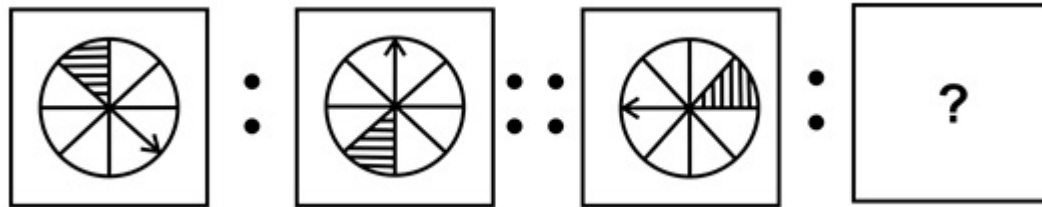
1. ✓ 31
2. ✗ 37
3. ✗ 55

4. ✘ 17

Question Number : 34 Question Id : 2752285663 Question Type : MCQ Option Shuffling : Yes Is Question Mandatory : No Option Orientation : Vertical

Correct Marks : 1 Wrong Marks : 0.25

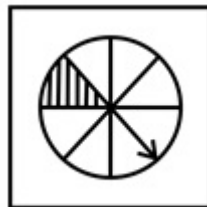
Select the option that is related to the third image on the same basis as the second image is related to the first image.



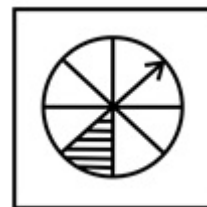
Options :



1. ✘



2. ✔



3. ✘

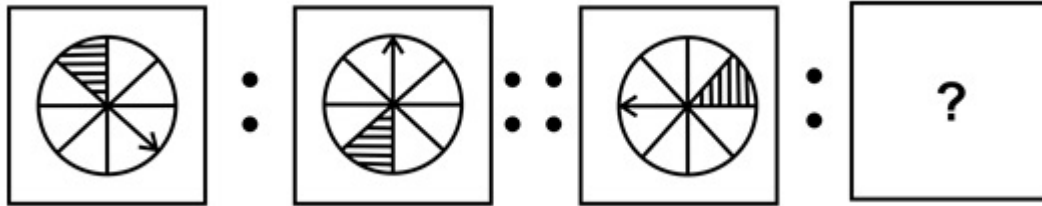
4. ✘



**Question Number : 34 Question Id : 2752285663 Question Type : MCQ Option Shuffling : Yes Is Question Mandatory : No Option Orientation : Vertical**

**Correct Marks : 1 Wrong Marks : 0.25**

उस विकल्प का चयन करें जो तीसरी छवि से उसी प्रकार से संबंधित है जिस प्रकार से दूसरी छवि पहली छवि से संबंधित है।



**Options :**

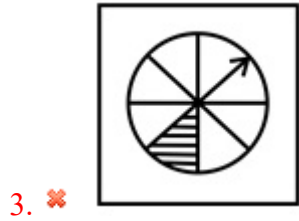
1. ✘



2. ✔



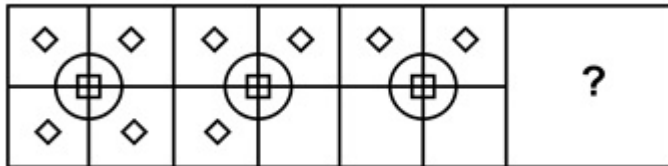




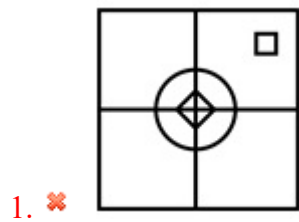
**Question Number : 35 Question Id : 2752285664 Question Type : MCQ Option Shuffling : Yes Is Question Mandatory : No Option Orientation : Vertical**

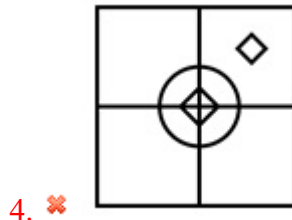
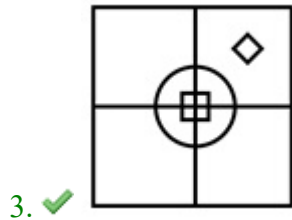
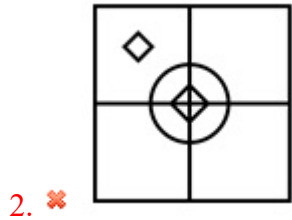
**Correct Marks : 1 Wrong Marks : 0.25**

Which of the following answer figure completes the series of the question figure?



**Options :**

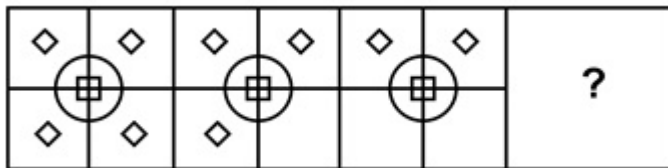




**Question Number : 35 Question Id : 2752285664 Question Type : MCQ Option Shuffling : Yes Is Question Mandatory : No Option Orientation : Vertical**

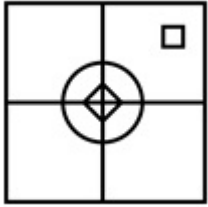
**Correct Marks : 1 Wrong Marks : 0.25**

निम्नलिखित में से कौन सी उत्तर आकृति प्रश्न आकृति की श्रृंखला को पूरा करती है?

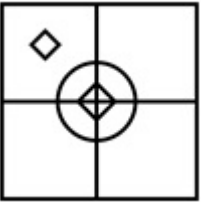


**Options :**

1. ✘



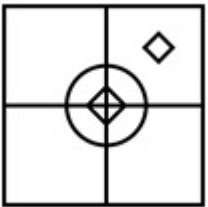
2. ✘



3. ✔



4. ✘

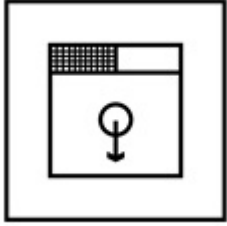


**Question Number : 36 Question Id : 2752285665 Question Type : MCQ Option Shuffling : Yes Is Question Mandatory : No Option Orientation : Vertical**

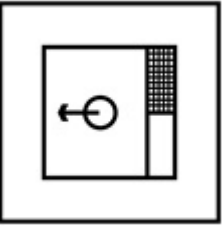
**Correct Marks : 1 Wrong Marks : 0.25**

Out of the given options, three are similar in a certain manner. However, one option is NOT like the other three. Select the option which is different from the rest.


**Options :**



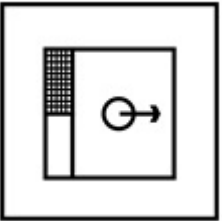
1. ✘



2. ✘



3. ✘



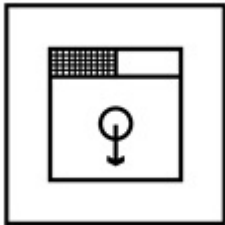
4. ✔

**Question Number : 36 Question Id : 2752285665 Question Type : MCQ Option Shuffling : Yes Is Question Mandatory : No Option Orientation : Vertical**

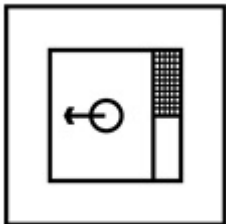
**Correct Marks : 1 Wrong Marks : 0.25**

दिए गए विकल्पों में से, तीन एक निश्चित तरीके से समान हैं। हालाँकि, एक विकल्प अन्य तीन की तरह नहीं है। उस विकल्प का चयन करें जो अन्य से अलग है।

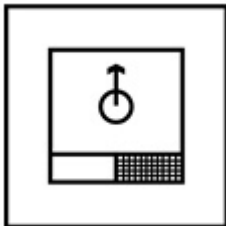
**Options :**



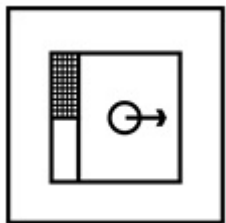
1. ✘



2. ✘



3. ✘

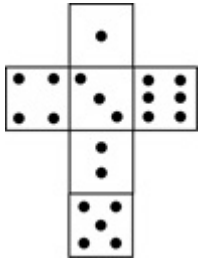


4. ✔

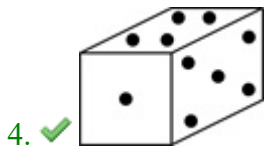
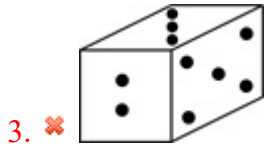
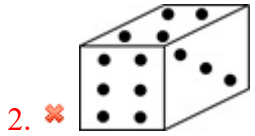
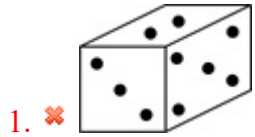
**Question Number : 37 Question Id : 2752285666 Question Type : MCQ Option Shuffling : Yes Is Question Mandatory : No Option Orientation : Vertical**

**Correct Marks : 1 Wrong Marks : 0.25**

Which of the following cube in the answer figure can be made based on the unfolded cube in the question figure?



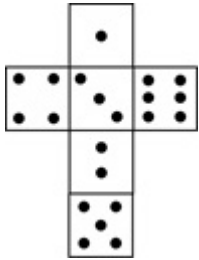
Options :



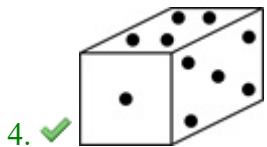
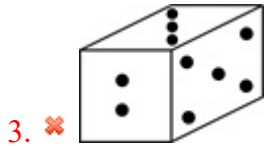
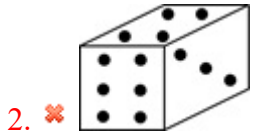
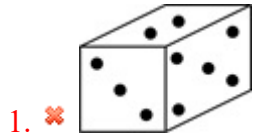
Question Number : 37 Question Id : 2752285666 Question Type : MCQ Option Shuffling : Yes Is Question Mandatory : No Option Orientation : Vertical

Correct Marks : 1 Wrong Marks : 0.25

उत्तर आकृति में निम्नलिखित में से कौन सा घन प्रश्न आकृति में खुले घन के आधार पर बनाया जा सकता है?



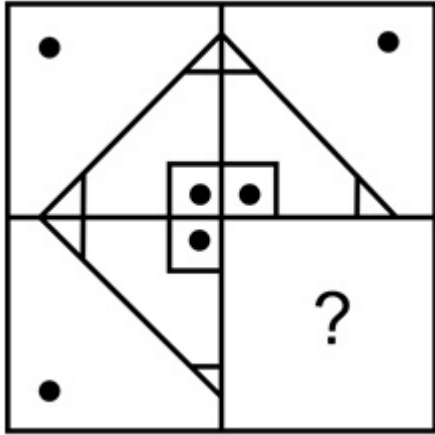
Options :



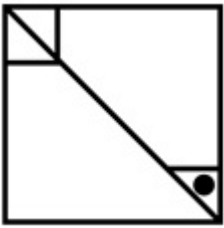
Question Number : 38 Question Id : 2752285667 Question Type : MCQ Option Shuffling : Yes Is Question Mandatory : No Option Orientation : Vertical

Correct Marks : 1 Wrong Marks : 0.25

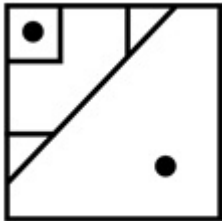
Which of the following answer figure patterns can be combined to make the question figure?



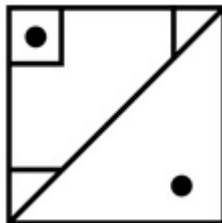
Options :



1. ✘

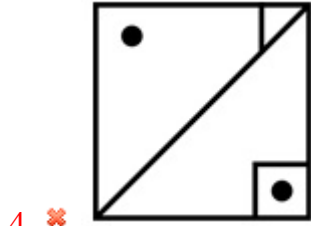


2. ✔



3. ✘

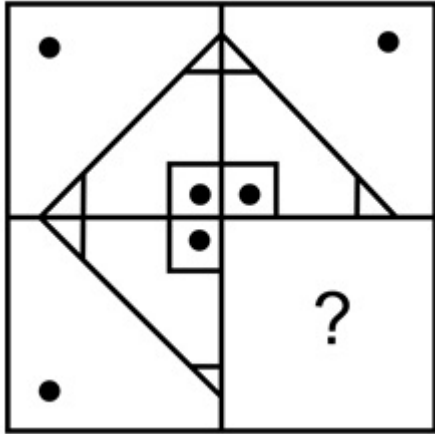




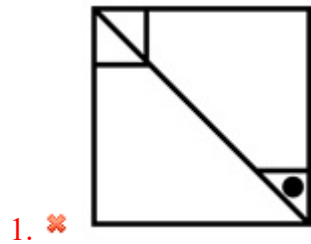
Question Number : 38 Question Id : 2752285667 Question Type : MCQ Option Shuffling : Yes Is Question Mandatory : No Option Orientation : Vertical

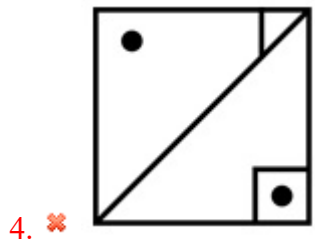
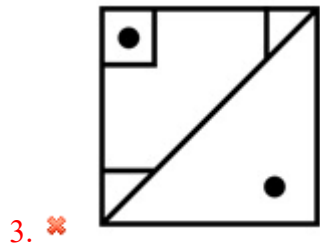
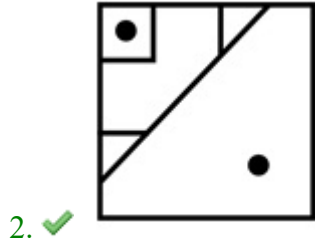
Correct Marks : 1 Wrong Marks : 0.25

निम्नलिखित में से कौन सी उत्तर आकृति पैटर्न को प्रश्न आकृति बनाने के लिए जोड़ा जा सकता है?



Options :

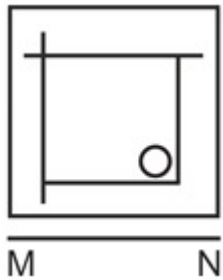




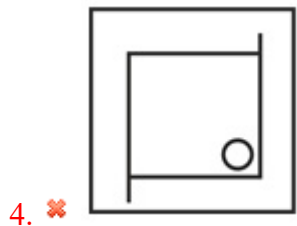
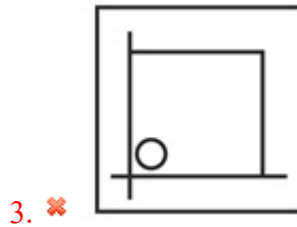
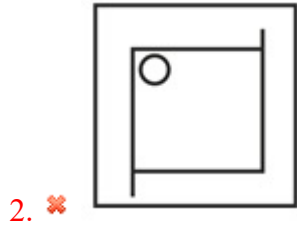
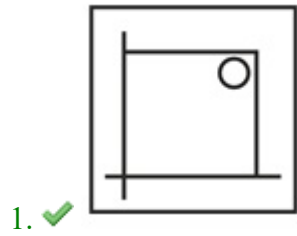
**Question Number : 39 Question Id : 2752285668 Question Type : MCQ Option Shuffling : Yes Is Question Mandatory : No Option Orientation : Vertical**

**Correct Marks : 1 Wrong Marks : 0.25**

If a mirror is placed on the line MN, then which of the answer figures is the right image of the given figure?



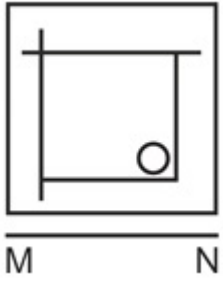
Options :



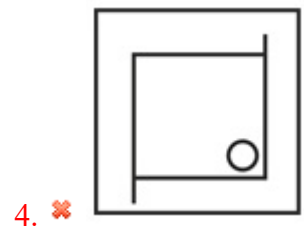
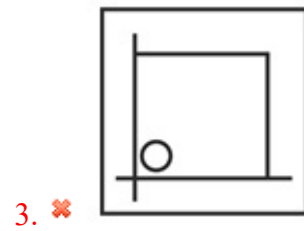
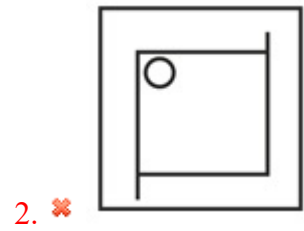
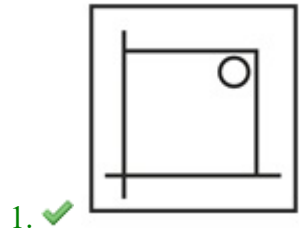
Question Number : 39 Question Id : 2752285668 Question Type : MCQ Option Shuffling : Yes Is Question Mandatory : No Option Orientation : Vertical

Correct Marks : 1 Wrong Marks : 0.25

यदि एक दर्पण को रेखा MN पर रखा गया है, तो कौन सी उत्तर आकृति दी गई आकृति का सही दर्पण प्रतिबिंब है?




Options :



**Question Number : 40 Question Id : 2752285669 Question Type : MCQ Option Shuffling : Yes Is Question Mandatory : No Option Orientation : Vertical**

**Correct Marks : 1 Wrong Marks : 0.25**

How many circles are there in the given question figure?




**Options :**

1. ✘ 11
2. ✔ 13
3. ✘ 15
4. ✘ 19

**Question Number : 40 Question Id : 2752285669 Question Type : MCQ Option Shuffling : Yes Is Question Mandatory : No Option Orientation : Vertical**

**Correct Marks : 1 Wrong Marks : 0.25**

दिए गए प्रश्न आकृति में कितने वृत्त हैं?



**Options :**

1. ✘ 11
2. ✔ 13
3. ✘ 15
4. ✘ 19

<b>Group Number :</b>	3
<b>Group Id :</b>	275228195
<b>Group Maximum Duration :</b>	0
<b>Group Minimum Duration :</b>	0
<b>Show Attended Group? :</b>	No
<b>Edit Attended Group? :</b>	No
<b>Break time :</b>	0
<b>Group Marks :</b>	20
<b>Is this Group for Examiner? :</b>	No

## General Awareness1

## General Awareness1

<b>Section Id :</b>	275228297
<b>Section Number :</b>	1

<b>Section type :</b>	Online
<b>Mandatory or Optional :</b>	Mandatory
<b>Number of Questions :</b>	20
<b>Number of Questions to be attempted :</b>	20
<b>Section Marks :</b>	20
<b>Enable Mark as Answered Mark for Review and Clear Response :</b>	Yes
<b>Sub-Section Number :</b>	1
<b>Sub-Section Id :</b>	275228356
<b>Question Shuffling Allowed :</b>	Yes

**Question Number : 41 Question Id : 2752285670 Question Type : MCQ Option Shuffling : Yes Is Question Mandatory : No Option Orientation : Vertical**

**Correct Marks : 1 Wrong Marks : 0.25**

The Shalimar Garden of Jammu and Kashmir was built by which of the following Mughal emperor?

**Options :**

1. ✘ Aurangzeb
2. ✔ Jahangir
3. ✘ Shah Jahan
4. ✘ Babur

**Question Number : 41 Question Id : 2752285670 Question Type : MCQ Option Shuffling : Yes Is Question Mandatory : No Option Orientation : Vertical**

**Correct Marks : 1 Wrong Marks : 0.25**

जम्मू और कश्मीर का शालीमार बाग निम्नलिखित में से किस मुगल सम्राट द्वारा बनाया गया था?

**Options :**

1. ✘ औरंगजेब
2. ✔ जहाँगीर
3. ✘ शाह जहाँ
4. ✘ बाबर

**Question Number : 42 Question Id : 2752285671 Question Type : MCQ Option Shuffling : Yes Is Question Mandatory : No Option Orientation : Vertical**

**Correct Marks : 1 Wrong Marks : 0.25**

The Marfa music is associated with which of the following cities?

**Options :**

1. ✘ Nagpur
2. ✔ Hyderabad
3. ✘ Kolkata
4. ✘ Bangalore

**Question Number : 42 Question Id : 2752285671 Question Type : MCQ Option Shuffling : Yes Is Question Mandatory : No Option Orientation : Vertical**

**Correct Marks : 1 Wrong Marks : 0.25**

मारफा संगीत निम्नलिखित में से किस शहर से जुड़ा है?

**Options :**

1. ✘ नागपुर
2. ✔ हैदराबाद
3. ✘ कोलकाता
4. ✘ बंगलौर

**Question Number : 43 Question Id : 2752285672 Question Type : MCQ Option Shuffling : Yes Is Question Mandatory : No Option Orientation : Vertical**

**Correct Marks : 1 Wrong Marks : 0.25**

Karma is a harvest festival which is held on the 11th day of a Purnima of the Hindu month of \_\_\_\_\_.

**Options :**

1. ✘ Chaith
2. ✘ Kartik
3. ✘ Phagun
4. ✔ Bhado

**Question Number : 43 Question Id : 2752285672 Question Type : MCQ Option Shuffling : Yes Is Question Mandatory : No Option Orientation : Vertical**

**Correct Marks : 1 Wrong Marks : 0.25**

कर्मा एक फसल त्योहार है जो हिंदू माह के \_\_\_\_\_ की पूर्णिमा के 11वें दिन आयोजित किया जाता है।



**Options :**

1. ✘ चैत्र
2. ✘ कार्तिक
3. ✘ फागुन
4. ✔ भादो

**Question Number : 44 Question Id : 2752285673 Question Type : MCQ Option Shuffling : Yes Is Question Mandatory : No Option Orientation : Vertical**

**Correct Marks : 1 Wrong Marks : 0.25**

Dhol Cholom, a drum dance, is one of the dances performed during which of the following festivals in Manipur?

**Options :**

1. ✔ Holi
2. ✘ Diwali
3. ✘ Navratri
4. ✘ Ganesh Chaturthi

**Question Number : 44 Question Id : 2752285673 Question Type : MCQ Option Shuffling : Yes Is Question Mandatory : No Option Orientation : Vertical**

**Correct Marks : 1 Wrong Marks : 0.25**

नृत्यों में से, ढोल चोलम, एक ढोल नृत्य, मणिपुर में निम्नलिखित में से किस त्योहार के दौरान किया जाता है?

**Options :**

1. ✔ होली
2. ✘ दिवाली
3. ✘ नवरात्रि
4. ✘ गणेश चतुर्थी

**Question Number : 45 Question Id : 2752285674 Question Type : MCQ Option Shuffling : Yes Is Question Mandatory : No Option Orientation : Vertical**

**Correct Marks : 1 Wrong Marks : 0.25**

Which among the following banks is not a public sector bank?

**Options :**

1. ✘ United Bank of India
2. ✘ Central Bank of India
3. ✔ Lakshmi Vilas Bank
4. ✘ Syndicate Bank

**Question Number : 45 Question Id : 2752285674 Question Type : MCQ Option Shuffling : Yes Is Question Mandatory : No Option Orientation : Vertical**

**Correct Marks : 1 Wrong Marks : 0.25**

निम्नलिखित में से कौन सा बैंक सार्वजनिक क्षेत्रक बैंक नहीं है?

**Options :**

1. ✘ यूनाइटेड बैंक ऑफ इंडिया
2. ✘ सेन्ट्रल बैंक ऑफ इंडिया
3. ✔ लक्ष्मी विलास बैंक
4. ✘ सिंडिकेट बैंक

**Question Number : 46 Question Id : 2752285675 Question Type : MCQ Option Shuffling : Yes Is Question Mandatory : No Option Orientation : Vertical**

**Correct Marks : 1 Wrong Marks : 0.25**

Which among the following components is added to the Gross Domestic Product to arrive at the Net National Product?

**Options :**

1. ✔ Income from Abroad
2. ✘ Depreciation
3. ✘ Tax payments
4. ✘ Transfer payments

**Question Number : 46 Question Id : 2752285675 Question Type : MCQ Option Shuffling : Yes Is Question Mandatory : No Option Orientation : Vertical**

**Correct Marks : 1 Wrong Marks : 0.25**

शुद्ध राष्ट्रीय उत्पाद पर पहुंचने के लिए निम्नलिखित में से किस घटक को सकल घरेलू उत्पाद में जोड़ा जाता है?

**Options :**

1. ✔ विदेश से आय

2. ✘ मूल्यहास
3. ✘ कर भुगतान
4. ✘ अंतरण अदायगी

**Question Number : 47 Question Id : 2752285676 Question Type : MCQ Option Shuffling : Yes Is Question Mandatory : No Option Orientation : Vertical**

**Correct Marks : 1 Wrong Marks : 0.25**

When was the Small Industries Development Bank of India established?

**Options :**

1. ✘ 1995
2. ✘ 1984
3. ✘ 1998
4. ✔ 1990

**Question Number : 47 Question Id : 2752285676 Question Type : MCQ Option Shuffling : Yes Is Question Mandatory : No Option Orientation : Vertical**

**Correct Marks : 1 Wrong Marks : 0.25**

भारतीय लघु उद्योग विकास बैंक की स्थापना कब की गई थी?

**Options :**

1. ✘ 1995
2. ✘ 1984
3. ✘ 1998
4. ✔ 1990

**Question Number : 48 Question Id : 2752285677 Question Type : MCQ Option Shuffling : Yes Is Question Mandatory : No Option Orientation : Vertical**

**Correct Marks : 1 Wrong Marks : 0.25**

As announced in the Budget 2020, basic customs duty on imports of news print and light-weight coated paper has been reduced from 10 percent to \_\_\_\_\_.

**Options :**

1. ✘ 6 percent
2. ✔ 5 percent

3. ✘ 4 percent

4. ✘ 7 percent

**Question Number : 48 Question Id : 2752285677 Question Type : MCQ Option Shuffling : Yes Is Question Mandatory : No Option Orientation : Vertical**

**Correct Marks : 1 Wrong Marks : 0.25**

बजट 2020 में घोषणा के अनुसार, न्यूज प्रिंट और हलके वजन वाले लेपित पेपर के आयात पर मूल सीमा शुल्क 10 प्रतिशत से घटाकर \_\_\_\_\_ कर दिया गया है।

**Options :**

1. ✘ 6 प्रतिशत

2. ✔ 5 प्रतिशत

3. ✘ 4 प्रतिशत

4. ✘ 7 प्रतिशत

**Question Number : 49 Question Id : 2752285678 Question Type : MCQ Option Shuffling : Yes Is Question Mandatory : No Option Orientation : Vertical**

**Correct Marks : 1 Wrong Marks : 0.25**

As announced in the Budget 2020, Jan Aushadhi Kendra Scheme has been introduced to offer 2000 medicines and 300 surgicals in all districts by the year \_\_\_\_\_.

**Options :**

1. ✔ 2024

2. ✘ 2022

3. ✘ 2023

4. ✘ 2025

**Question Number : 49 Question Id : 2752285678 Question Type : MCQ Option Shuffling : Yes Is Question Mandatory : No Option Orientation : Vertical**

**Correct Marks : 1 Wrong Marks : 0.25**

बजट 2020 में घोषणा के अनुसार, वर्ष \_\_\_\_\_ तक सभी जिलों में 2000 दवाओं और 300 शल्यचिकित्सा की पेशकश करने के लिए जन औषधि केंद्र योजना शुरू की गई है।

**Options :**

1. ✔ 2024

2. ✘ 2022
3. ✘ 2023
4. ✘ 2025

**Question Number : 50 Question Id : 2752285679 Question Type : MCQ Option Shuffling : Yes Is Question Mandatory : No Option Orientation : Vertical**

**Correct Marks : 1 Wrong Marks : 0.25**

Which among the following is not an exhaustible resource?

**Options :**

1. ✘ Natural gas
2. ✘ Petroleum
3. ✔ Biogas
4. ✘ Coal

**Question Number : 50 Question Id : 2752285679 Question Type : MCQ Option Shuffling : Yes Is Question Mandatory : No Option Orientation : Vertical**

**Correct Marks : 1 Wrong Marks : 0.25**

निम्नलिखित में से कौन सा एक क्षयशील संसाधन नहीं है?

**Options :**

1. ✘ प्राकृतिक गैस
2. ✘ शिलारस
3. ✔ बायोगैस
4. ✘ कोयला

**Question Number : 51 Question Id : 2752285680 Question Type : MCQ Option Shuffling : Yes Is Question Mandatory : No Option Orientation : Vertical**

**Correct Marks : 1 Wrong Marks : 0.25**

Which among the following is an example of double class 1 lever?

**Options :**

1. ✔ Scissors
2. ✘ Wheelbarrow

3. ✘ Broom
4. ✘ Nut cracker

**Question Number : 51 Question Id : 2752285680 Question Type : MCQ Option Shuffling : Yes Is Question Mandatory : No Option Orientation : Vertical**

**Correct Marks : 1 Wrong Marks : 0.25**

निम्नलिखित में से कौन दोहरी श्रेणी 1 उत्तोलक का उदाहरण है?

**Options :**

1. ✔ कैंची
2. ✘ एकपहिया ठेला
3. ✘ झाड़ू
4. ✘ सरौता

**Question Number : 52 Question Id : 2752285681 Question Type : MCQ Option Shuffling : Yes Is Question Mandatory : No Option Orientation : Vertical**

**Correct Marks : 1 Wrong Marks : 0.25**

Ferns belongs to which of the following divisions of the plant kingdom?

**Options :**

1. ✘ Gymnosperms
2. ✘ Angiosperms
3. ✘ Thallophyta
4. ✔ Pteridophyta

**Question Number : 52 Question Id : 2752285681 Question Type : MCQ Option Shuffling : Yes Is Question Mandatory : No Option Orientation : Vertical**

**Correct Marks : 1 Wrong Marks : 0.25**

फर्न वनस्पति-जगत के निम्नलिखित में से किस विभाग से संबंधित है?

**Options :**

1. ✘ अनावृतबीजी
2. ✘ आवृतबीजी
3. ✘ थैलोफाइटा

#### 4. ✓ टेरिडोफाइटा

**Question Number : 53 Question Id : 2752285682 Question Type : MCQ Option Shuffling : Yes Is Question Mandatory : No Option Orientation : Vertical**

**Correct Marks : 1 Wrong Marks : 0.25**

Which among the following laws states that the current passing through a conductor between two points is directly proportional to the potential difference across the two points provided the physical state and temperature etc. of the conductor does not change?

**Options :**

1. ✓ Ohm's Law
2. ✗ Avogadro's Law
3. ✗ Coulomb's Law
4. ✗ Pascal's Law

**Question Number : 53 Question Id : 2752285682 Question Type : MCQ Option Shuffling : Yes Is Question Mandatory : No Option Orientation : Vertical**

**Correct Marks : 1 Wrong Marks : 0.25**

निम्नलिखित नियमों में से कौन सा यह कहता है कि संवाहक के दो सिरों के बीच से गुजरने वाली धारा, किसी संवाहक के सिरों के बीच उत्पन्न विभवान्तर उससे प्रवाहित धारा के समानुपाती होता है यदि संवाहक के भौतिक अवस्थाएँ और ताप आदि नियत रखीं जाएं।

**Options :**

1. ✓ ओम का नियम
2. ✗ अवोगाद्रो का नियम
3. ✗ कूलॉम का नियम
4. ✗ पास्कल का नियम

**Question Number : 54 Question Id : 2752285683 Question Type : MCQ Option Shuffling : Yes Is Question Mandatory : No Option Orientation : Vertical**

**Correct Marks : 1 Wrong Marks : 0.25**

Swachh Vidyalaya is the national campaign driving \_\_\_\_\_.

**Options :**

1. ✗ Ek kadam Swachh Vidyalaya ki aur
2. ✓ Clean India: Clean Schools
3. ✗ Schools and Cleanliness

4. ✖ Clean Schools - The Future of India

**Question Number : 54 Question Id : 2752285683 Question Type : MCQ Option Shuffling : Yes Is Question Mandatory : No Option Orientation : Vertical**

**Correct Marks : 1 Wrong Marks : 0.25**

स्वच्छ विद्यालय राष्ट्रीय अभियान है जो \_\_\_\_\_ की ओर निर्दिष्ट है।

**Options :**

1. ✖ एक कदम स्वच्छ विद्यालय की ओर
2. ✔ स्वच्छ भारत: स्वच्छ विद्यालय
3. ✖ विद्यालय और स्वच्छता
4. ✖ स्वच्छ विद्यालय - भारत का भविष्य

**Question Number : 55 Question Id : 2752285684 Question Type : MCQ Option Shuffling : Yes Is Question Mandatory : No Option Orientation : Vertical**

**Correct Marks : 1 Wrong Marks : 0.25**

Nepal shares it's borders with which of the following Indian states?

**Options :**

1. ✔ West Bengal
2. ✖ Mizoram
3. ✖ Rajasthan
4. ✖ Punjab

**Question Number : 55 Question Id : 2752285684 Question Type : MCQ Option Shuffling : Yes Is Question Mandatory : No Option Orientation : Vertical**

**Correct Marks : 1 Wrong Marks : 0.25**

निम्नलिखित भारतीय राज्यों में से किसके साथ नेपाल अपनी सीमाएँ साझा करता है?

**Options :**

1. ✔ पश्चिम बंगाल
2. ✖ मिज़ोरम
3. ✖ राजस्थान
4. ✖ पंजाब



**Question Number : 56 Question Id : 2752285685 Question Type : MCQ Option Shuffling : Yes Is Question Mandatory : No Option Orientation : Vertical**

**Correct Marks : 1 Wrong Marks : 0.25**

The Indian Ocean is bounded by \_\_\_\_\_ in the east.

**Options :**

1. ✘ Antarctica
2. ✔ Australia
3. ✘ Africa
4. ✘ Iran

**Question Number : 56 Question Id : 2752285685 Question Type : MCQ Option Shuffling : Yes Is Question Mandatory : No Option Orientation : Vertical**

**Correct Marks : 1 Wrong Marks : 0.25**

हिंद महासागर पूर्व में \_\_\_\_\_ से घिरा हुआ है।

**Options :**

1. ✘ अंटार्कटिका
2. ✔ ऑस्ट्रेलिया
3. ✘ अफ्रीका
4. ✘ ईरान

**Question Number : 57 Question Id : 2752285686 Question Type : MCQ Option Shuffling : Yes Is Question Mandatory : No Option Orientation : Vertical**

**Correct Marks : 1 Wrong Marks : 0.25**

Which among the following rivers is also known as 'Gorakhpur's Sorrow'?

**Options :**

1. ✘ West Jhelum
2. ✘ West Gandak
3. ✔ West Rapti
4. ✘ West Kosi

**Question Number : 57 Question Id : 2752285686 Question Type : MCQ Option Shuffling : Yes Is Question Mandatory : No Option**

**Orientation : Vertical**

**Correct Marks : 1 Wrong Marks : 0.25**

निम्नलिखित नदियों में से किसे 'गोरखपुर का सोरो' के नाम से भी जाना जाता है?

**Options :**

1. ✘ पश्चिम झेलम
2. ✘ पश्चिम गंडक
3. ✔ पश्चिम राप्ती
4. ✘ पश्चिम कोसी

**Question Number : 58 Question Id : 2752285687 Question Type : MCQ Option Shuffling : Yes Is Question Mandatory : No Option**

**Orientation : Vertical**

**Correct Marks : 1 Wrong Marks : 0.25**

Eravimala, which is the highest peak located in the Anamalai Hills in the Western Ghats, is located in which of the following states?

**Options :**

1. ✔ Kerala
2. ✘ Karnataka
3. ✘ Tamil Nadu
4. ✘ Maharashtra

**Question Number : 58 Question Id : 2752285687 Question Type : MCQ Option Shuffling : Yes Is Question Mandatory : No Option**

**Orientation : Vertical**

**Correct Marks : 1 Wrong Marks : 0.25**

एरविमाला, जो पश्चिमी घाट में अन्नामलाई की पहाड़ियों में स्थित सबसे ऊँची चोटी है, निम्नलिखित में से किस राज्य में स्थित है?

**Options :**

1. ✔ केरल
2. ✘ कर्नाटक
3. ✘ तमिल नाडु
4. ✘ महाराष्ट्र

**Question Number : 59 Question Id : 2752285688 Question Type : MCQ Option Shuffling : Yes Is Question Mandatory : No Option**

**Orientation : Vertical**

**Correct Marks : 1 Wrong Marks : 0.25**

Who among the following was the founder of the Kalachuri Dynasty?

**Options :**

1. ✘ Gangeyadeva
2. ✘ Kokalla II
3. ✔ Kokalla I
4. ✘ Ashoka

**Question Number : 59 Question Id : 2752285688 Question Type : MCQ Option Shuffling : Yes Is Question Mandatory : No Option Orientation : Vertical**

**Correct Marks : 1 Wrong Marks : 0.25**

निम्नलिखित में से कौन कलचुरी राजवंश का संस्थापक था?

**Options :**

1. ✘ गांगेयदेव
2. ✘ कोकल्ला II
3. ✔ कोकल्ला I
4. ✘ अशोक

**Question Number : 60 Question Id : 2752285689 Question Type : MCQ Option Shuffling : Yes Is Question Mandatory : No Option Orientation : Vertical**

**Correct Marks : 1 Wrong Marks : 0.25**

When was the Sadharan Brahmo Samaj of Calcutta founded?

**Options :**

1. ✘ 1866
2. ✘ 1884
3. ✔ 1878
4. ✘ 1892

**Question Number : 60 Question Id : 2752285689 Question Type : MCQ Option Shuffling : Yes Is Question Mandatory : No Option Orientation : Vertical**

**Correct Marks : 1 Wrong Marks : 0.25**

कलकत्ता का साधरण ब्राह्म समाज की स्थापना कब हुई थी?

**Options :**

1. ✘ 1866
2. ✘ 1884
3. ✔ 1878
4. ✘ 1892

## General Awareness2

<b>Group Number :</b>	4
<b>Group Id :</b>	275228196
<b>Group Maximum Duration :</b>	0
<b>Group Minimum Duration :</b>	0
<b>Show Attended Group? :</b>	No
<b>Edit Attended Group? :</b>	No
<b>Break time :</b>	0
<b>Group Marks :</b>	20
<b>Is this Group for Examiner? :</b>	No

## General Awareness2

<b>Section Id :</b>	275228298
<b>Section Number :</b>	1
<b>Section type :</b>	Online
<b>Mandatory or Optional :</b>	Mandatory
<b>Number of Questions :</b>	20
<b>Number of Questions to be attempted :</b>	20
<b>Section Marks :</b>	20
<b>Enable Mark as Answered Mark for Review and Clear Response :</b>	Yes
<b>Sub-Section Number :</b>	1
<b>Sub-Section Id :</b>	275228357
<b>Question Shuffling Allowed :</b>	Yes

**Question Number : 61 Question Id : 2752285690 Question Type : MCQ Option Shuffling : Yes Is Question Mandatory : No Option Orientation : Vertical**

**Correct Marks : 1 Wrong Marks : 0.25**

When did the Khilafat movement start?

**Options :**

1. ✘ 1928
2. ✘ 1892
3. ✔ 1919
4. ✘ 1935

**Question Number : 61 Question Id : 2752285690 Question Type : MCQ Option Shuffling : Yes Is Question Mandatory : No Option Orientation : Vertical**

**Correct Marks : 1 Wrong Marks : 0.25**

खिलाफत आन्दोलन कब शुरू हुआ था?

**Options :**

1. ✘ 1928
2. ✘ 1892
3. ✔ 1919
4. ✘ 1935

**Question Number : 62 Question Id : 2752285691 Question Type : MCQ Option Shuffling : Yes Is Question Mandatory : No Option Orientation : Vertical**

**Correct Marks : 1 Wrong Marks : 0.25**

Which among the following movements was also known as the August Movement?

**Options :**

1. ✘ Khilafat Movement
2. ✔ Quit India Movement
3. ✘ Simon Go Back Movement
4. ✘ Dandi March

**Question Number : 62 Question Id : 2752285691 Question Type : MCQ Option Shuffling : Yes Is Question Mandatory : No Option Orientation : Vertical**

**Correct Marks : 1 Wrong Marks : 0.25**

निम्नलिखित आन्दोलनों में से किसे अगस्त आन्दोलन के नाम से भी जाना जाता था?

**Options :**

1. ✘ खिलाफ़त आन्दोलन
2. ✔ भारत छोड़ो आन्दोलन
3. ✘ साइमन वापस जाओ आन्दोलन
4. ✘ दांडी मार्च

**Question Number : 63 Question Id : 2752285692 Question Type : MCQ Option Shuffling : Yes Is Question Mandatory : No Option Orientation : Vertical**

**Correct Marks : 1 Wrong Marks : 0.25**

When was the Akali movement started?

**Options :**

1. ✘ 1930
2. ✘ 1925
3. ✔ 1920
4. ✘ 1935

**Question Number : 63 Question Id : 2752285692 Question Type : MCQ Option Shuffling : Yes Is Question Mandatory : No Option Orientation : Vertical**

**Correct Marks : 1 Wrong Marks : 0.25**

अकाली आन्दोलन कब शुरू किया गया था?

**Options :**

1. ✘ 1930
2. ✘ 1925
3. ✔ 1920
4. ✘ 1935

**Question Number : 64 Question Id : 2752285693 Question Type : MCQ Option Shuffling : Yes Is Question Mandatory : No Option Orientation : Vertical**

**Correct Marks : 1 Wrong Marks : 0.25**

Which among the following awards are famously known as 'Oscars'?

**Options :**

1. ✓ Academy Awards
2. ✗ Grammy Awards
3. ✗ Emmy Awards
4. ✗ Golden Globe Awards

**Question Number : 64 Question Id : 2752285693 Question Type : MCQ Option Shuffling : Yes Is Question Mandatory : No Option Orientation : Vertical**

**Correct Marks : 1 Wrong Marks : 0.25**

निम्नलिखित पुरस्कारों में से कौन सा 'ऑस्कर' के नाम से प्रसिद्ध है?

**Options :**

1. ✓ अकादमी पुरस्कार
2. ✗ ग्रैमी पुरस्कार
3. ✗ एमी पुरस्कार
4. ✗ गोल्डन ग्लोब पुरस्कार

**Question Number : 65 Question Id : 2752285694 Question Type : MCQ Option Shuffling : Yes Is Question Mandatory : No Option Orientation : Vertical**

**Correct Marks : 1 Wrong Marks : 0.25**

Who among the following was known as the "Young Turk"?

**Options :**

1. ✗ Jawaharlal Nehru
2. ✗ Ashutosh Mukherji
3. ✓ Chandra Shekhar
4. ✗ Bal Gangadhar Tilak

**Question Number : 65 Question Id : 2752285694 Question Type : MCQ Option Shuffling : Yes Is Question Mandatory : No Option Orientation : Vertical**

**Correct Marks : 1 Wrong Marks : 0.25**

निम्नलिखित में से किसे "युवा तुर्क" के नाम से जाना जाता था?

**Options :**

1. ✘ जवाहरलाल नेहरू
2. ✘ आशुतोष मुखर्जी
3. ✔ चन्द्रशेखर
4. ✘ बाल गंगाधर तिलक

**Question Number : 66 Question Id : 2752285695 Question Type : MCQ Option Shuffling : Yes Is Question Mandatory : No Option Orientation : Vertical**

**Correct Marks : 1 Wrong Marks : 0.25**

Which among the following books is not written by Chetan Bhagat?

**Options :**

1. ✘ Revolution 2020
2. ✘ One Indian Girl
3. ✘ What Young India Wants
4. ✔ Sons and Lovers

**Question Number : 66 Question Id : 2752285695 Question Type : MCQ Option Shuffling : Yes Is Question Mandatory : No Option Orientation : Vertical**

**Correct Marks : 1 Wrong Marks : 0.25**

निम्नलिखित में से कौन सी किताब चेतन भगत ने नहीं लिखी है?

**Options :**

1. ✘ रिवोल्यूशन 2020
2. ✘ वन इंडियन गर्ल
3. ✘ व्हाट यंग इंडिया वांट्स
4. ✔ संस एंड लवर्स

**Question Number : 67 Question Id : 2752285696 Question Type : MCQ Option Shuffling : Yes Is Question Mandatory : No Option Orientation : Vertical**

**Correct Marks : 1 Wrong Marks : 0.25**

Who among the following is the Governor of the Reserve Bank of India as of April 2020?

**Options :**

1. ✘ Urjit Patel



2. ✓ Shaktikanta Das
3. ✗ Raghuram Rajan
4. ✗ Nirmala Sitharaman

**Question Number : 67 Question Id : 2752285696 Question Type : MCQ Option Shuffling : Yes Is Question Mandatory : No Option Orientation : Vertical**

**Correct Marks : 1 Wrong Marks : 0.25**

निम्नलिखित में से कौन अप्रैल 2020 तक भारतीय रिज़र्व बैंक के गवर्नर है?

**Options :**

1. ✗ उर्जित पटेल
2. ✓ शक्तिकांत दास
3. ✗ रघुराम राजन
4. ✗ निर्मला सीतारामन्

**Question Number : 68 Question Id : 2752285697 Question Type : MCQ Option Shuffling : Yes Is Question Mandatory : No Option Orientation : Vertical**

**Correct Marks : 1 Wrong Marks : 0.25**

Which among the following institutions launched the SAFE scheme in March 2020?

**Options :**

1. ✓ SIDBI
2. ✗ RBI
3. ✗ NABARD
4. ✗ SEBI

**Question Number : 68 Question Id : 2752285697 Question Type : MCQ Option Shuffling : Yes Is Question Mandatory : No Option Orientation : Vertical**

**Correct Marks : 1 Wrong Marks : 0.25**

निम्नलिखित संस्थानों में से किसने मार्च 2020 में SAFE स्कीम शुरू की?

**Options :**

1. ✓ सिडबी (SIDBI)
2. ✗ RBI

3. ✖ नाबार्ड (NABARD)

4. ✖ सेबी (SEBI)

**Question Number : 69 Question Id : 2752285698 Question Type : MCQ Option Shuffling : Yes Is Question Mandatory : No Option Orientation : Vertical**

**Correct Marks : 1 Wrong Marks : 0.25**

Which among the following is a low-cost energy efficient ventilator made by the Rail Coach Factory, Kapurthala?

**Options :**

1. ✖ Zindagi

2. ✖ Praan

3. ✖ Life

4. ✔ Jeevan

**Question Number : 69 Question Id : 2752285698 Question Type : MCQ Option Shuffling : Yes Is Question Mandatory : No Option Orientation : Vertical**

**Correct Marks : 1 Wrong Marks : 0.25**

निम्नलिखित में से कौन सा रेल कोच फैक्ट्री, कपूरथला द्वारा बनाई गई कम लागत वाली ऊर्जा कुशल वेंटीलेटर है?

**Options :**

1. ✖ जिंदगी

2. ✖ प्राण

3. ✖ लाइफ

4. ✔ जीवन

**Question Number : 70 Question Id : 2752285699 Question Type : MCQ Option Shuffling : Yes Is Question Mandatory : No Option Orientation : Vertical**

**Correct Marks : 1 Wrong Marks : 0.25**

Which among the following Governments has launched “Mo Prativa” programme in collaboration with UNICEF (United Nations Children’s Funds)?

**Options :**

1. ✖ Karnataka

2. ✖ West Bengal

3. ✔ Odisha

4. ✖ Maharashtra

**Question Number : 70 Question Id : 2752285699 Question Type : MCQ Option Shuffling : Yes Is Question Mandatory : No Option Orientation : Vertical**

**Correct Marks : 1 Wrong Marks : 0.25**

निम्नलिखित सरकारों में से किसने यूनिसेफ (संयुक्त राष्ट्र बाल कोष) के सहयोग से "मो प्रतिवा" कार्यक्रम शुरू किया है?

**Options :**

1. ✖ कर्नाटक
2. ✖ पश्चिम बंगाल
3. ✔ ओडिशा
4. ✖ महाराष्ट्र

**Question Number : 71 Question Id : 2752285700 Question Type : MCQ Option Shuffling : Yes Is Question Mandatory : No Option Orientation : Vertical**

**Correct Marks : 1 Wrong Marks : 0.25**

Apart from India, which of the following countries is unlikely to be hit by the global recession as analysed by the United Nations in March 2020?

**Options :**

1. ✔ China
2. ✖ United States
3. ✖ United Kingdom
4. ✖ France

**Question Number : 71 Question Id : 2752285700 Question Type : MCQ Option Shuffling : Yes Is Question Mandatory : No Option Orientation : Vertical**

**Correct Marks : 1 Wrong Marks : 0.25**

मार्च 2020 में संयुक्त राष्ट्र द्वारा किए गए विश्लेषण के अनुसार, भारत के अलावा, निम्नलिखित में से कौन सा देश वैश्विक मंदी की चपेट में आने की संभावना नहीं है?

**Options :**

1. ✔ चीन
2. ✖ संयुक्त राज्य
3. ✖ यूनाइटेड किंगडम

4. ✖ फ्रांस

**Question Number : 72 Question Id : 2752285701 Question Type : MCQ Option Shuffling : Yes Is Question Mandatory : No Option Orientation : Vertical**

**Correct Marks : 1 Wrong Marks : 0.25**

The quorum for the meeting of the Rajya Sabha is fixed at \_\_\_\_\_ of the total members.

**Options :**

1. ✔ one-tenth
2. ✖ one-seventh
3. ✖ one-sixth
4. ✖ one-ninth

**Question Number : 72 Question Id : 2752285701 Question Type : MCQ Option Shuffling : Yes Is Question Mandatory : No Option Orientation : Vertical**

**Correct Marks : 1 Wrong Marks : 0.25**

राज्य सभा की बैठक के लिए कोरम कुल सदस्यों के \_\_\_\_\_ पर निर्धारित होती है।

**Options :**

1. ✔ एक-दसवें भाग
2. ✖ एक-सातवें भाग
3. ✖ एक-छँठवे भाग
4. ✖ एक-नौवें भाग

**Question Number : 73 Question Id : 2752285702 Question Type : MCQ Option Shuffling : Yes Is Question Mandatory : No Option Orientation : Vertical**

**Correct Marks : 1 Wrong Marks : 0.25**

Who was the chairman of the States Committee of the Constituent Assembly?

**Options :**

1. ✔ Jawaharlal Nehru
2. ✖ Rajendra Prasad
3. ✖ B.R. Ambedkar
4. ✖ Gopinath Bardoloi

**Question Number : 73 Question Id : 2752285702 Question Type : MCQ Option Shuffling : Yes Is Question Mandatory : No Option Orientation : Vertical**

**Correct Marks : 1 Wrong Marks : 0.25**

संविधान सभा की राज्य समिति के अध्यक्ष कौन थे?

**Options :**

1. ✓ जवाहरलाल नेहरू
2. ✗ राजेन्द्र प्रसाद
3. ✗ बी.आर. आम्बेडकर
4. ✗ गोपीनाथ बोस

**Question Number : 74 Question Id : 2752285703 Question Type : MCQ Option Shuffling : Yes Is Question Mandatory : No Option Orientation : Vertical**

**Correct Marks : 1 Wrong Marks : 0.25**

Which among the following Amendment Bills is known as the 'Women Reservation Bill' ?

**Options :**

1. ✗ 102
2. ✓ 108
3. ✗ 105
4. ✗ 110

**Question Number : 74 Question Id : 2752285703 Question Type : MCQ Option Shuffling : Yes Is Question Mandatory : No Option Orientation : Vertical**

**Correct Marks : 1 Wrong Marks : 0.25**

निम्नलिखित संशोधन विधेयकों में से किसे 'महिला आरक्षण विधेयक' के रूप में जाना जाता है?

**Options :**

1. ✗ 102
2. ✓ 108
3. ✗ 105
4. ✗ 110

**Question Number : 75 Question Id : 2752285704 Question Type : MCQ Option Shuffling : Yes Is Question Mandatory : No Option Orientation : Vertical**

**Correct Marks : 1 Wrong Marks : 0.25**

Which among the following Parts of the Indian Constitution is related with the special provisions relating to certain classes?

**Options :**

1. ✘ XIII
2. ✘ XV
3. ✘ XIV
4. ✔ XVI

**Question Number : 75 Question Id : 2752285704 Question Type : MCQ Option Shuffling : Yes Is Question Mandatory : No Option Orientation : Vertical**

**Correct Marks : 1 Wrong Marks : 0.25**

भारतीय संविधान के निम्नलिखित भागों में से कौन सा निश्चित वर्गों से संबंधित विशेष प्रावधानों से जुड़ा है?

**Options :**

1. ✘ XIII
2. ✘ XV
3. ✘ XIV
4. ✔ XVI

**Question Number : 76 Question Id : 2752285705 Question Type : MCQ Option Shuffling : Yes Is Question Mandatory : No Option Orientation : Vertical**

**Correct Marks : 1 Wrong Marks : 0.25**

Who among the following Indian Football players has been chosen for the FIFA Campaign to spread awareness for COVID 19?

**Options :**

1. ✘ Harmanpreet Singh
2. ✔ Sunil Chhetri
3. ✘ Manpreet Singh
4. ✘ Gurinder Singh

**Question Number : 76 Question Id : 2752285705 Question Type : MCQ Option Shuffling : Yes Is Question Mandatory : No Option Orientation : Vertical**

**Correct Marks : 1 Wrong Marks : 0.25**

निम्नलिखित भारतीय फुटबॉल खिलाड़ियों में से किसे कोविड-19 के लिए जागरूकता फैलाने के लिए फीफा अभियान के लिए चुना गया है?

**Options :**

1. ✘ हरमनप्रीत सिंह
2. ✔ सुनील छेत्री
3. ✘ मनप्रीत सिंह
4. ✘ गुरिंदर सिंह

**Question Number : 77 Question Id : 2752285706 Question Type : MCQ Option Shuffling : Yes Is Question Mandatory : No Option Orientation : Vertical**

**Correct Marks : 1 Wrong Marks : 0.25**

The 2021 World Games that was scheduled to be held in Birmingham, Alabama is postponed to \_\_\_\_\_.

**Options :**

1. ✘ 2025
2. ✘ 2024
3. ✔ 2022
4. ✘ 2023

**Question Number : 77 Question Id : 2752285706 Question Type : MCQ Option Shuffling : Yes Is Question Mandatory : No Option Orientation : Vertical**

**Correct Marks : 1 Wrong Marks : 0.25**

बर्मिंघम, अलाबामा में होने वाले 2021 के विश्व खेल, \_\_\_\_\_ के लिए स्थगित कर दिया गया है।

**Options :**

1. ✘ 2025
2. ✘ 2024
3. ✔ 2022
4. ✘ 2023

**Question Number : 78 Question Id : 2752285707 Question Type : MCQ Option Shuffling : Yes Is Question Mandatory : No Option Orientation : Vertical**

**Correct Marks : 1 Wrong Marks : 0.25**

Which among the following teams won the first edition of the ICC Women's T20 World Cup in 2009?

**Options :**

1. ✓ England
2. ✗ Australia
3. ✗ India
4. ✗ New Zealand

**Question Number : 78 Question Id : 2752285707 Question Type : MCQ Option Shuffling : Yes Is Question Mandatory : No Option Orientation : Vertical**

**Correct Marks : 1 Wrong Marks : 0.25**

निम्नलिखित में से किस टीम ने 2009 में ICC महिला T20 विश्व कप का पहला संस्करण जीता?

**Options :**

1. ✓ इंग्लैण्ड
2. ✗ ऑस्ट्रेलिया
3. ✗ भारत
4. ✗ न्यूज़ीलैंड

**Question Number : 79 Question Id : 2752285708 Question Type : MCQ Option Shuffling : Yes Is Question Mandatory : No Option Orientation : Vertical**

**Correct Marks : 1 Wrong Marks : 0.25**

The Under-17 Women's World Cup which was scheduled to be played in \_\_\_\_\_ 2020, has been postponed by the Federation Internationale de Football Association (FIFA) or the International Federation of Association Football .

**Options :**

1. ✗ December
2. ✗ September
3. ✗ October
4. ✓ November

**Question Number : 79 Question Id : 2752285708 Question Type : MCQ Option Shuffling : Yes Is Question Mandatory : No Option Orientation : Vertical**

**Correct Marks : 1 Wrong Marks : 0.25**

अंडर -17 महिला विश्व कप जिसे \_\_\_\_\_ 2020 में खेला जाना था, फेडरेशन इंटरनेशनल डी फुटबॉल एसोसिएशन (फीफा) या इंटरनेशनल फेडरेशन ऑफ एसोसिएशन फुटबॉल ने स्थगित कर दिया है।



**Options :**

1. ✘ दिसंबर
2. ✘ सितंबर
3. ✘ अक्टूबर
4. ✔ नवंबर

**Question Number : 80 Question Id : 2752285709 Question Type : MCQ Option Shuffling : Yes Is Question Mandatory : No Option Orientation : Vertical**

**Correct Marks : 1 Wrong Marks : 0.25**

Which among the following is the first country that has won 5 men's and 6 women's world cup titles in cricket till April 2020?

**Options :**

1. ✘ England
2. ✔ Australia
3. ✘ India
4. ✘ New Zealand

**Question Number : 80 Question Id : 2752285709 Question Type : MCQ Option Shuffling : Yes Is Question Mandatory : No Option Orientation : Vertical**

**Correct Marks : 1 Wrong Marks : 0.25**

निम्नलिखित में से कौन सा पहला देश है जिसने अप्रैल 2020 तक क्रिकेट में 5 पुरुष और 6 महिला विश्व कप खिताब जीते हैं?

**Options :**

1. ✘ इंग्लैण्ड
2. ✔ ऑस्ट्रेलिया
3. ✘ भारत
4. ✘ न्यूज़ीलैंड

## Arithmetic Ability1

**Group Number :**

5

**Group Id :**

275228197

**Group Maximum Duration :**

0

<b>Group Minimum Duration :</b>	0
<b>Show Attended Group? :</b>	No
<b>Edit Attended Group? :</b>	No
<b>Break time :</b>	0
<b>Group Marks :</b>	20
<b>Is this Group for Examiner? :</b>	No

## Arithmetic Ability1

<b>Section Id :</b>	275228299
<b>Section Number :</b>	1
<b>Section type :</b>	Online
<b>Mandatory or Optional :</b>	Mandatory
<b>Number of Questions :</b>	20
<b>Number of Questions to be attempted :</b>	20
<b>Section Marks :</b>	20
<b>Enable Mark as Answered Mark for Review and Clear Response :</b>	Yes
<b>Sub-Section Number :</b>	1
<b>Sub-Section Id :</b>	275228358
<b>Question Shuffling Allowed :</b>	Yes

**Question Number : 81 Question Id : 2752285710 Question Type : MCQ Option Shuffling : Yes Is Question Mandatory : No Option Orientation : Vertical**

**Correct Marks : 1 Wrong Marks : 0.25**

What is the largest 5-digits number divisible by 8, 12 and 22?

**Options :**

1. ✘ 99999
2. ✘ 99978
3. ✘ 99888
4. ✔ 99792

**Question Number : 81 Question Id : 2752285710 Question Type : MCQ Option Shuffling : Yes Is Question Mandatory : No Option Orientation : Vertical**

**Correct Marks : 1 Wrong Marks : 0.25**

सबसे बड़ी 5-अंकीय संख्या कौन सी है जो 8, 12 और 22 से विभाज्य है?

**Options :**

1. ✘ 99999
2. ✘ 99978
3. ✘ 99888
4. ✔ 99792

**Question Number : 82 Question Id : 2752285711 Question Type : MCQ Option Shuffling : Yes Is Question Mandatory : No Option Orientation : Vertical**

**Correct Marks : 1 Wrong Marks : 0.25**

The numerator of a rational number is 5 less than its denominator. If the numerator is increased by 5 and denominator is decreased by 8, then it becomes 3. What was the rational number?

**Options :**

1. ✔ 7/12
2. ✘ 9/14
3. ✘ 6/11
4. ✘ 8/13

**Question Number : 82 Question Id : 2752285711 Question Type : MCQ Option Shuffling : Yes Is Question Mandatory : No Option Orientation : Vertical**

**Correct Marks : 1 Wrong Marks : 0.25**

एक परिमेय संख्या का अंश इसके हर से 5 कम है। यदि अंश को 5 से बढ़ाया जाता है और हर को 8 से घटाया जाता है, तो यह 3 हो जाता है। परिमेय संख्या क्या थी?

**Options :**

1. ✔ 7/12
2. ✘ 9/14
3. ✘ 6/11
4. ✘ 8/13

**Question Number : 83 Question Id : 2752285712 Question Type : MCQ Option Shuffling : Yes Is Question Mandatory : No Option Orientation : Vertical**

**Correct Marks : 1 Wrong Marks : 0.25**

In a three digit number, the digit at one's place is thrice the digit at ten's place and double the digit at hundred's place. What is the number, if the sum of the digits is 11?

**Options :**

1. ✘ 163
2. ✘ 231
3. ✘ 462
4. ✔ 326

**Question Number : 83 Question Id : 2752285712 Question Type : MCQ Option Shuffling : Yes Is Question Mandatory : No Option Orientation : Vertical**

**Correct Marks : 1 Wrong Marks : 0.25**

तीन अंकीय संख्या में, इकाई के स्थान पर का अंक, दहाई के स्थान पर के अंक से तीन गुना है और सैकड़ा के स्थान पर का दोगुना है। यदि अंकों का योग 11 है, तो संख्या क्या है?

**Options :**

1. ✘ 163
2. ✘ 231
3. ✘ 462
4. ✔ 326

**Question Number : 84 Question Id : 2752285713 Question Type : MCQ Option Shuffling : Yes Is Question Mandatory : No Option Orientation : Vertical**

**Correct Marks : 1 Wrong Marks : 0.25**

What is the highest common factor of the fractions  $(4/3)$ ,  $(14/27)$  and  $(16/9)$ ?

**Options :**

1. ✘  $4/9$
2. ✔  $2/27$
3. ✘  $16/27$
4. ✘  $2/9$

**Question Number : 84 Question Id : 2752285713 Question Type : MCQ Option Shuffling : Yes Is Question Mandatory : No Option Orientation : Vertical**

**Correct Marks : 1 Wrong Marks : 0.25**

भिन्न (4/3), (14/27) और (16/9) का महत्तम समापवर्तक क्या है?

**Options :**

1. ✘ 4/9
2. ✔ 2/27
3. ✘ 16/27
4. ✘ 2/9

**Question Number : 85 Question Id : 2752285714 Question Type : MCQ Option Shuffling : Yes Is Question Mandatory : No Option Orientation : Vertical**

**Correct Marks : 1 Wrong Marks : 0.25**

The average of 6 terms is 35 and the sixth term is half of the remaining terms. What will be the sixth term?

**Options :**

1. ✘ 85
2. ✘ 105
3. ✔ 70
4. ✘ 60

**Question Number : 85 Question Id : 2752285714 Question Type : MCQ Option Shuffling : Yes Is Question Mandatory : No Option Orientation : Vertical**

**Correct Marks : 1 Wrong Marks : 0.25**

6 पद का औसत 35 है और छठा पद शेष पदों का आधा है। छठा पद क्या होगा?

**Options :**

1. ✘ 85
2. ✘ 105
3. ✔ 70
4. ✘ 60

**Question Number : 86 Question Id : 2752285715 Question Type : MCQ Option Shuffling : Yes Is Question Mandatory : No Option Orientation : Vertical**

**Correct Marks : 1 Wrong Marks : 0.25**

The marked price of the washing machine is Rs. 2000 more than the money Arpit has. The shopkeeper offers two successive discounts of 8

percent and 5 percent respectively. Now Arpit still has Rs. 3040 left after buying the washing machine. What is the marked price of the washing machine?

**Options :**

1. ✖ Rs. 38000
2. ✔ Rs. 40000
3. ✖ Rs. 50000
4. ✖ Rs. 48000

**Question Number : 86 Question Id : 2752285715 Question Type : MCQ Option Shuffling : Yes Is Question Mandatory : No Option Orientation : Vertical**

**Correct Marks : 1 Wrong Marks : 0.25**

वाशिंग मशीन का चिह्नित मूल्य, अर्पित के पास जितने पैसे है उससे 2000 रुपए ज्यादा है। दुकानदार क्रमशः 8 प्रतिशत और 5 प्रतिशत की दो क्रमिक छूट प्रदान करता है। वाशिंग मशीन खरीदने के बाद भी अर्पित के पास अभी भी 3040 रुपए बचे हैं। वाशिंग मशीन का चिह्नित मूल्य क्या है?

**Options :**

1. ✖ 38000 रुपए
2. ✔ 40000 रुपए
3. ✖ 50000 रुपए
4. ✖ 48000 रुपए

**Question Number : 87 Question Id : 2752285716 Question Type : MCQ Option Shuffling : Yes Is Question Mandatory : No Option Orientation : Vertical**

**Correct Marks : 1 Wrong Marks : 0.25**

A merchant agrees to give a discount of 10 percent on cost price of wheat but gives away only 800 gm for every 1 Kg weight of wheat. What is his profit percent?

**Options :**

1. ✔ 12.5 percent
2. ✖ 10 percent
3. ✖ 11.5 percent
4. ✖ 8.5 percent

**Question Number : 87 Question Id : 2752285716 Question Type : MCQ Option Shuffling : Yes Is Question Mandatory : No Option Orientation : Vertical**

**Correct Marks : 1 Wrong Marks : 0.25**

एक व्यापारी गेहूं की लागत मूल्य पर 10 प्रतिशत की छूट देने के लिए सहमत है, लेकिन गेहूं के प्रत्येक 1 kg वजन के लिए केवल 800 gm देता है। उसका लाभ प्रतिशत क्या है?

**Options :**

1. ✓ 12.5 प्रतिशत
2. ✗ 10 प्रतिशत
3. ✗ 11.5 प्रतिशत
4. ✗ 8.5 प्रतिशत

**Question Number : 88 Question Id : 2752285717 Question Type : MCQ Option Shuffling : Yes Is Question Mandatory : No Option Orientation : Vertical**

**Correct Marks : 1 Wrong Marks : 0.25**

A student has to secure 45 percent marks to pass. He gets 294 marks and fails by 66 marks. What are the maximum marks?

**Options :**

1. ✗ 1000
2. ✗ 900
3. ✓ 800
4. ✗ 600

**Question Number : 88 Question Id : 2752285717 Question Type : MCQ Option Shuffling : Yes Is Question Mandatory : No Option Orientation : Vertical**

**Correct Marks : 1 Wrong Marks : 0.25**

एक छात्र को उत्तीर्ण होने के लिए 45 प्रतिशत अंक प्राप्त करने होंगे। उसे 294 अंक मिले और 66 अंकों से विफल हो गया। अधिकतम अंक क्या हैं?

**Options :**

1. ✗ 1000
2. ✗ 900
3. ✓ 800
4. ✗ 600

**Question Number : 89 Question Id : 2752285718 Question Type : MCQ Option Shuffling : Yes Is Question Mandatory : No Option Orientation : Vertical**

**Correct Marks : 1 Wrong Marks : 0.25**

180 percent of a number is 972. What will be 240 percent of that number?

**Options :**

1. ✘ 1386
2. ✔ 1296
3. ✘ 540
4. ✘ 1080

**Question Number : 89 Question Id : 2752285718 Question Type : MCQ Option Shuffling : Yes Is Question Mandatory : No Option Orientation : Vertical**

**Correct Marks : 1 Wrong Marks : 0.25**

एक संख्या का 180 प्रतिशत 972 है। उस संख्या का 240 प्रतिशत क्या होगा?

**Options :**

1. ✘ 1386
2. ✔ 1296
3. ✘ 540
4. ✘ 1080

**Question Number : 90 Question Id : 2752285719 Question Type : MCQ Option Shuffling : Yes Is Question Mandatory : No Option Orientation : Vertical**

**Correct Marks : 1 Wrong Marks : 0.25**

The difference between two numbers is 1500. 6 percent of a number is 8 percent of the other number. What is the ratio between the two numbers?

**Options :**

1. ✘ 6 : 1
2. ✘ 7 : 4
3. ✘ 5 : 3
4. ✔ 4 : 3

**Question Number : 90 Question Id : 2752285719 Question Type : MCQ Option Shuffling : Yes Is Question Mandatory : No Option Orientation : Vertical**

**Correct Marks : 1 Wrong Marks : 0.25**

दो संख्याओं के बीच का अंतर 1500 है। एक संख्या का 6 प्रतिशत अन्य संख्या का 8 प्रतिशत है। दो संख्याओं के बीच का अनुपात क्या है?

**Options :**



1. ✘ 6 : 1
2. ✘ 7 : 4
3. ✘ 5 : 3
4. ✔ 4 : 3

**Question Number : 91 Question Id : 2752285720 Question Type : MCQ Option Shuffling : Yes Is Question Mandatory : No Option Orientation : Vertical**

**Correct Marks : 1 Wrong Marks : 0.25**

The current birth rate per thousand per year is 35, whereas corresponding death rate is 13 per thousand per year. What is the net growth rate in terms of population increase per year in percent?

**Options :**

1. ✘ 2 percent
2. ✔ 2.2 percent
3. ✘ 5 percent
4. ✘ 4.3 percent

**Question Number : 91 Question Id : 2752285720 Question Type : MCQ Option Shuffling : Yes Is Question Mandatory : No Option Orientation : Vertical**

**Correct Marks : 1 Wrong Marks : 0.25**

वर्तमान में प्रति वर्ष प्रति हजार जन्म दर 35 है, जबकि तद्विषयक मृत्यु दर प्रति वर्ष प्रति हजार 13 है। प्रतिशत में प्रति वर्ष जनसंख्या वृद्धि के संदर्भ में शुद्ध वृद्धि दर क्या है?

**Options :**

1. ✘ 2 प्रतिशत
2. ✔ 2.2 प्रतिशत
3. ✘ 5 प्रतिशत
4. ✘ 4.3 प्रतिशत

**Question Number : 92 Question Id : 2752285721 Question Type : MCQ Option Shuffling : Yes Is Question Mandatory : No Option Orientation : Vertical**

**Correct Marks : 1 Wrong Marks : 0.25**

If a pen is sold at 10 percent gain instead of 10 percent loss, then the seller gets Rs. 2 more. What is the cost price of that pen?

**Options :**

1. ✘ Rs. 15
2. ✘ Rs. 12
3. ✘ Rs. 5
4. ✔ Rs. 10

**Question Number : 92 Question Id : 2752285721 Question Type : MCQ Option Shuffling : Yes Is Question Mandatory : No Option Orientation : Vertical**

**Correct Marks : 1 Wrong Marks : 0.25**

यदि एक कलम को 10 प्रतिशत हानि के बजाय 10 प्रतिशत लाभ पर बेचा जाता है, तो विक्रेता को 2 रुपए अधिक मिलते हैं। उस कलम की लागत मूल्य क्या है?

**Options :**

1. ✘ 15 रुपए
2. ✘ 12 रुपए
3. ✘ 5 रुपए
4. ✔ 10 रुपए

**Question Number : 93 Question Id : 2752285722 Question Type : MCQ Option Shuffling : Yes Is Question Mandatory : No Option Orientation : Vertical**

**Correct Marks : 1 Wrong Marks : 0.25**

Kabir and Anushka sells some articles for Rs. 12000 each. Kabir calculates his profit percent on his cost price and Anushka calculates her profit percent wrongly on selling price. What is the difference in their profits if both claim to have a profit of 50 percent?

**Options :**

1. ✘ Rs. 4000
2. ✘ Rs. 6000
3. ✔ Rs. 2000
4. ✘ Rs. 1000

**Question Number : 93 Question Id : 2752285722 Question Type : MCQ Option Shuffling : Yes Is Question Mandatory : No Option Orientation : Vertical**

**Correct Marks : 1 Wrong Marks : 0.25**

कबीर और अनुष्का कुछ वस्तुओं को प्रत्येक 12000 रुपए में बेचते हैं। कबीर अपने लाभ प्रतिशत की गणना अपने लागत मूल्य पर करता है और अनुष्का विक्रय मूल्य पर अपने लाभ प्रतिशत की गलत गणना करती है। यदि दोनों 50 प्रतिशत के लाभ का दावा करते हैं तो उनके लाभों में क्या अंतर है?

**Options :**

1. ✘ 4000 रुपए
2. ✘ 6000 रुपए
3. ✔ 2000 रुपए
4. ✘ 1000 रुपए

**Question Number : 94 Question Id : 2752285723 Question Type : MCQ Option Shuffling : Yes Is Question Mandatory : No Option Orientation : Vertical**

**Correct Marks : 1 Wrong Marks : 0.25**

Ronit sells an article at a discount of 30 percent and gets a profit of 40 percent on that article. What is the mark up over the cost price of the article?

**Options :**

1. ✘ 50 percent
2. ✔ 100 percent
3. ✘ 200 percent
4. ✘ 300 percent

**Question Number : 94 Question Id : 2752285723 Question Type : MCQ Option Shuffling : Yes Is Question Mandatory : No Option Orientation : Vertical**

**Correct Marks : 1 Wrong Marks : 0.25**

रोनित 30 प्रतिशत की छूट पर एक वस्तु बेचता है और उस वस्तु पर 40 प्रतिशत का लाभ अर्जित करता है। वस्तु की लागत मूल्य पर मॉर्कप कितना होगा?

**Options :**

1. ✘ 50 प्रतिशत
2. ✔ 100 प्रतिशत
3. ✘ 200 प्रतिशत
4. ✘ 300 प्रतिशत

**Question Number : 95 Question Id : 2752285724 Question Type : MCQ Option Shuffling : Yes Is Question Mandatory : No Option Orientation : Vertical**

**Correct Marks : 1 Wrong Marks : 0.25**

An amount is to be divided between Ram, Tanish and Veer in the ratio 3 : 8 : 9 respectively. If Veer gets Rs. 1620 then, what is the share of Ram?

**Options :**

1. ✔ Rs. 540

2. ✘ Rs. 1440
3. ✘ Rs. 1280
4. ✘ Rs. 980

**Question Number : 95 Question Id : 2752285724 Question Type : MCQ Option Shuffling : Yes Is Question Mandatory : No Option Orientation : Vertical**

**Correct Marks : 1 Wrong Marks : 0.25**

एक राशि को क्रमशः राम, तनिष और वीर के बीच 3 : 8 : 9 के अनुपात में विभाजित किया जाना है। यदि वीर को 1620 रुपए मिलते हैं, तो राम का हिस्सा क्या है?

**Options :**

1. ✔ 540 रुपए
2. ✘ 1440 रुपए
3. ✘ 1280 रुपए
4. ✘ 980 रुपए

**Question Number : 96 Question Id : 2752285725 Question Type : MCQ Option Shuffling : Yes Is Question Mandatory : No Option Orientation : Vertical**

**Correct Marks : 1 Wrong Marks : 0.25**

The ratio between girls and boys in a college is 3:2. If 25 percent of girls and 20 percent of boys are scholarship holders, then what percentage of the total students do not get scholarship?

**Options :**

1. ✘ 64 percent
2. ✔ 77 percent
3. ✘ 75 percent
4. ✘ 80 percent

**Question Number : 96 Question Id : 2752285725 Question Type : MCQ Option Shuffling : Yes Is Question Mandatory : No Option Orientation : Vertical**

**Correct Marks : 1 Wrong Marks : 0.25**

एक महाविद्यालय में लड़कियों और लड़कों के बीच का अनुपात 3:2 है। यदि 25 प्रतिशत लड़कियां और 20 प्रतिशत लड़के छात्रवृत्ति धारक हैं, तो कुल छात्रों के कितने प्रतिशत को छात्रवृत्ति नहीं मिलती है?

**Options :**

1. ✖ 64 प्रतिशत
2. ✔ 77 प्रतिशत
3. ✖ 75 प्रतिशत
4. ✖ 80 प्रतिशत

**Question Number : 97 Question Id : 2752285726 Question Type : MCQ Option Shuffling : Yes Is Question Mandatory : No Option Orientation : Vertical**

**Correct Marks : 1 Wrong Marks : 0.25**

Three cats X, Y and Z move in such a way that when X takes 6 steps, Y takes 7 steps and Z takes 8 steps in the same time. 3 steps of X are equal to 4 steps of Y and 5 steps of Z. What is the ratio of their speeds?

**Options :**

1. ✖ 6:7:8
2. ✖ 3:4:5
3. ✔ 40:35:32
4. ✖ 31:27:32

**Question Number : 97 Question Id : 2752285726 Question Type : MCQ Option Shuffling : Yes Is Question Mandatory : No Option Orientation : Vertical**

**Correct Marks : 1 Wrong Marks : 0.25**

तीन बिल्लियां X, Y और Z इस तरह से चलती हैं कि एक ही समय में X, 6 कदम चलती है, Y, 7 कदम चलती है और Z, 8 कदम चलती है। X के 3 कदम, Y के 4 कदमों और Z के 5 कदमों के बराबर हैं। उनकी गति का अनुपात क्या है?

**Options :**

1. ✖ 6:7:8
2. ✖ 3:4:5
3. ✔ 40:35:32
4. ✖ 31:27:32

**Question Number : 98 Question Id : 2752285727 Question Type : MCQ Option Shuffling : Yes Is Question Mandatory : No Option Orientation : Vertical**

**Correct Marks : 1 Wrong Marks : 0.25**

In a horse race, there are four horses P, Q, R and S. The payoff at P is 2:5, at Q is 4:7, at R is 5:9 and at S is 6:11. Amit bets Rs. 3465 on a horse which would fetch maximum amount. Luckily his horse has won. What is the total amount won by him?

**Options :**

1. ✓ Rs. 5445
2. ✗ Rs. 4851
3. ✗ Rs. 5390
4. ✗ Rs. 5355

**Question Number : 98 Question Id : 2752285727 Question Type : MCQ Option Shuffling : Yes Is Question Mandatory : No Option Orientation : Vertical**

**Correct Marks : 1 Wrong Marks : 0.25**

एक घोड़े की रेस में, चार घोड़े P, Q, R और S हैं। P पर भुगतान 2:5 है, Q पर 4:7 है, R पर 5:9 है और S पर 6:11 है। अमित ने एक घोड़े पर 3465 रुपए का दांव लगाया जो अधिकतम राशि प्राप्त कर सकता है। सौभाग्य से उसका घोड़ा जीत गया। उसके द्वारा जीती गई कुल राशि क्या है?

**Options :**

1. ✓ 5445 रुपए
2. ✗ 4851 रुपए
3. ✗ 5390 रुपए
4. ✗ 5355 रुपए

**Question Number : 99 Question Id : 2752285728 Question Type : MCQ Option Shuffling : Yes Is Question Mandatory : No Option Orientation : Vertical**

**Correct Marks : 1 Wrong Marks : 0.25**

Abhiraj took a loan of Rs. 100000 from a bank at the rate of 9.8 percent p.a. simple interest. He had to pay Rs. 68600 as interest. What is the time period?

**Options :**

1. ✗ 2 years
2. ✗ 3 years
3. ✗ 5 years
4. ✓ 7 years

**Question Number : 99 Question Id : 2752285728 Question Type : MCQ Option Shuffling : Yes Is Question Mandatory : No Option Orientation : Vertical**

**Correct Marks : 1 Wrong Marks : 0.25**

अभिराज ने साधारण ब्याज पर प्रति वर्ष 9.8 प्रतिशत की दर से एक बैंक से 100000 रुपए का ऋण लिया। उसे ब्याज के रूप में 68600 रुपए देने थे। समयावधि

क्या है?

**Options :**

1. ✘ 2 वर्ष
2. ✘ 3 वर्ष
3. ✘ 5 वर्ष
4. ✔ 7 वर्ष

**Question Number : 100 Question Id : 2752285729 Question Type : MCQ Option Shuffling : Yes Is Question Mandatory : No Option Orientation : Vertical**

**Correct Marks : 1 Wrong Marks : 0.25**

The difference between compound interest and simple interest on a certain sum of money at 4 percent per annum for 2 years is Rs. 80. What is the principal if interest is compounded annually?

**Options :**

1. ✘ Rs. 45000
2. ✔ Rs. 50000
3. ✘ Rs. 38000
4. ✘ Rs.40000

**Question Number : 100 Question Id : 2752285729 Question Type : MCQ Option Shuffling : Yes Is Question Mandatory : No Option Orientation : Vertical**

**Correct Marks : 1 Wrong Marks : 0.25**

2 वर्ष के लिए प्रति वर्ष 4 प्रतिशत पर एक निश्चित धन राशि पर चक्रवृद्धि ब्याज और साधारण ब्याज के बीच का अंतर 80 रुपए हैं। यदि ब्याज प्रतिवर्ष चक्रवृद्धि किया जाता है तो मूलधन क्या है?

**Options :**

1. ✘ 45000 रुपए
2. ✔ 50000 रुपए
3. ✘ 38000 रुपए
4. ✘ 40000 रुपए

**Arithmetic Ability2**

<b>Group Number :</b>	6
<b>Group Id :</b>	275228198
<b>Group Maximum Duration :</b>	0
<b>Group Minimum Duration :</b>	0
<b>Show Attended Group? :</b>	No
<b>Edit Attended Group? :</b>	No
<b>Break time :</b>	0
<b>Group Marks :</b>	20
<b>Is this Group for Examiner? :</b>	No

## Arithmetic Ability2

<b>Section Id :</b>	275228300
<b>Section Number :</b>	1
<b>Section type :</b>	Online
<b>Mandatory or Optional :</b>	Mandatory
<b>Number of Questions :</b>	20
<b>Number of Questions to be attempted :</b>	20
<b>Section Marks :</b>	20
<b>Enable Mark as Answered Mark for Review and Clear Response :</b>	Yes
<b>Sub-Section Number :</b>	1
<b>Sub-Section Id :</b>	275228359
<b>Question Shuffling Allowed :</b>	Yes

**Question Number : 101 Question Id : 2752285730 Question Type : MCQ Option Shuffling : Yes Is Question Mandatory : No Option Orientation : Vertical**

**Correct Marks : 1 Wrong Marks : 0.25**

A car financier claims to be lending money at simple interest, but he includes the interest every six months for calculating principal. If he is charging an interest of 14 percent then, what is the effective rate of interest?

**Options :**

1. ✘ 14 percent
2. ✘ 14.25 percent
3. ✔ 14.49 percent



4. ✖ 15.19 percent

**Question Number : 101 Question Id : 2752285730 Question Type : MCQ Option Shuffling : Yes Is Question Mandatory : No Option Orientation : Vertical**

**Correct Marks : 1 Wrong Marks : 0.25**

एक कार वित्तदाता साधारण ब्याज पर पैसे उधार देने का दावा करता है, लेकिन वह मूलधन की गणना के लिए हर छह महीने में ब्याज शामिल करता है। यदि वह 14 प्रतिशत का ब्याज लगाता है, तो ब्याज की प्रभावी दर क्या है?

**Options :**

1. ✖ 14 प्रतिशत
2. ✖ 14.25 प्रतिशत
3. ✔ 14.49 प्रतिशत
4. ✖ 15.19 प्रतिशत

**Question Number : 102 Question Id : 2752285731 Question Type : MCQ Option Shuffling : Yes Is Question Mandatory : No Option Orientation : Vertical**

**Correct Marks : 1 Wrong Marks : 0.25**

Arpit borrows some money at the rate of 4 percent p.a. for the first three years. He borrows the money at the rate of 8 percent p.a. for the next 4 years and at the rate of 12 percent p. a. for the next 5 years. If he pays a total simple interest of Rs. 8320 at the end of 12 years then, how much money did he borrow?

**Options :**

1. ✔ Rs. 8000
2. ✖ Rs. 8300
3. ✖ Rs. 7320
4. ✖ Rs. 6000

**Question Number : 102 Question Id : 2752285731 Question Type : MCQ Option Shuffling : Yes Is Question Mandatory : No Option Orientation : Vertical**

**Correct Marks : 1 Wrong Marks : 0.25**

अर्पित ने पहले तीन वर्षों के लिए प्रति वर्ष 4 प्रतिशत की दर से कुछ पैसे उधार लिए। वह अगले 4 वर्षों के लिए प्रति वर्ष 8 प्रतिशत की दर से पैसे उधार लेता है और अगले 5 वर्षों के लिए प्रति वर्ष 12 प्रतिशत की दर से उधार लेता है। यदि वह 12 वर्षों के अंत पर 8320 रुपए का कुल साधारण ब्याज का भुगतान करता है तो उसने कितने पैसे उधार लिए?

**Options :**

1. ✓ 8000 रुपए
2. ✗ 8300 रुपए
3. ✗ 7320 रुपए
4. ✗ 6000 रुपए

**Question Number : 103 Question Id : 2752285732 Question Type : MCQ Option Shuffling : Yes Is Question Mandatory : No Option Orientation : Vertical**

**Correct Marks : 1 Wrong Marks : 0.25**

Aditi had to walk a certain distance. She walked one-fourth distance at a speed of 3 Km/hr and the remaining distance at a speed of 6 Km/hr. If the total time taken was 10 hours, then what was the total distance?

**Options :**

1. ✗ 50 Kms
2. ✓ 48 Kms
3. ✗ 40 Kms
4. ✗ 36 Kms

**Question Number : 103 Question Id : 2752285732 Question Type : MCQ Option Shuffling : Yes Is Question Mandatory : No Option Orientation : Vertical**

**Correct Marks : 1 Wrong Marks : 0.25**

अदिति को एक निश्चित दूरी चलके तय करनी थी। वह 3 Km/hr की गति से एक-चौथाई दूरी चली और शेष दूरी 6 Km/hr की गति से चली। यदि 10 घंटे का कुल समय लिया गया था, तो कुल दूरी क्या थी?

**Options :**

1. ✗ 50 Kms
2. ✓ 48 Kms
3. ✗ 40 Kms
4. ✗ 36 Kms

**Question Number : 104 Question Id : 2752285733 Question Type : MCQ Option Shuffling : Yes Is Question Mandatory : No Option Orientation : Vertical**

**Correct Marks : 1 Wrong Marks : 0.25**

Abhishek rides a bicycle around a circular path of radius 100 m. The radius of the wheel of the bicycle is 150 cm. The bicycle comes to the starting point for the first time in 1 hour 40 minutes. What is the number of revolutions of the wheel in 45 minutes?

**Options :**

1. ✓ 30
2. ✗ 40
3. ✗ 45
4. ✗ 35

**Question Number : 104 Question Id : 2752285733 Question Type : MCQ Option Shuffling : Yes Is Question Mandatory : No Option Orientation : Vertical**

**Correct Marks : 1 Wrong Marks : 0.25**

अभिषेक ने 100 m के त्रिज्या के गोलाकार मार्ग पर साइकिल चलाता है। साइकिल के पहिये की त्रिज्या 150 cm है। साइकिल 1 घंटे 40 मिनट में पहली बार शुरुआती बिंदु पर आती है। 45 मिनट में पहिये के चक्करों की संख्या क्या है?

**Options :**

1. ✓ 30
2. ✗ 40
3. ✗ 45
4. ✗ 35

**Question Number : 105 Question Id : 2752285734 Question Type : MCQ Option Shuffling : Yes Is Question Mandatory : No Option Orientation : Vertical**

**Correct Marks : 1 Wrong Marks : 0.25**

A man rides his bike 5 Km at an average speed of 30 Km/hr and travels a further 10 Km at an average speed of 20 Km/hr. What is the average speed for the entire trip?

**Options :**

1. ✗ 25.5 kmph
2. ✗ 23 kmph
3. ✓ 22.5 kmph
4. ✗ 28.5 kmph

**Question Number : 105 Question Id : 2752285734 Question Type : MCQ Option Shuffling : Yes Is Question Mandatory : No Option Orientation : Vertical**

**Correct Marks : 1 Wrong Marks : 0.25**

एक आदमी अपनी बाइक 30 Km/hr की औसत गति से 5 Km चलाता है और 20 Km/hr की औसत गति से आगे और 10 km की यात्रा करता है। पूरी यात्रा के

लिए औसत गति क्या है?

**Options :**

1. ✘ 25.5 kmph
2. ✘ 23 kmph
3. ✔ 22.5 kmph
4. ✘ 28.5 kmph

**Question Number : 106 Question Id : 2752285735 Question Type : MCQ Option Shuffling : Yes Is Question Mandatory : No Option Orientation : Vertical**

**Correct Marks : 1 Wrong Marks : 0.25**

Ashita can do a work in 'a' days and Suman can do the same work in '2a' days. To finish the work together they take 10 days. What is the value of 'a'?

**Options :**

1. ✘ 12
2. ✘ 10
3. ✔ 15
4. ✘ 16

**Question Number : 106 Question Id : 2752285735 Question Type : MCQ Option Shuffling : Yes Is Question Mandatory : No Option Orientation : Vertical**

**Correct Marks : 1 Wrong Marks : 0.25**

आशिता 'a' दिनों में एक काम कर सकती है और सुमन '2a' दिनों में वही काम कर सकती है। एक साथ काम को पूरा करने के लिए उन्हें 10 दिन लगते हैं। 'a' का मान क्या है?

**Options :**

1. ✘ 12
2. ✘ 10
3. ✔ 15
4. ✘ 16

**Question Number : 107 Question Id : 2752285736 Question Type : MCQ Option Shuffling : Yes Is Question Mandatory : No Option Orientation : Vertical**

**Correct Marks : 1 Wrong Marks : 0.25**

A and B can do a work in 120 hours, B and C in 150 hours and C and A in 100 hours. If A, B and C worked together then, in how much time they will complete the work?

**Options :**

1. ✘ 1 day and 16 hours
2. ✔ 3 days and 8 hours
3. ✘ 5 days
4. ✘ 4 days and 10 hours

**Question Number : 107 Question Id : 2752285736 Question Type : MCQ Option Shuffling : Yes Is Question Mandatory : No Option Orientation : Vertical**

**Correct Marks : 1 Wrong Marks : 0.25**

A और B 120 घंटों में एक काम कर सकते हैं, B और C 150 घंटों में और C और A 100 घंटों में काम कर सकते हैं। यदि A, B और C एक साथ काम करते हैं, तो वे कितने समय में काम पूरा करेंगे?

**Options :**

1. ✘ 1 दिन और 16 घंटे
2. ✔ 3 दिन और 8 घंटे
3. ✘ 5 दिन
4. ✘ 4 दिन और 10 घंटे

**Question Number : 108 Question Id : 2752285737 Question Type : MCQ Option Shuffling : Yes Is Question Mandatory : No Option Orientation : Vertical**

**Correct Marks : 1 Wrong Marks : 0.25**

P and Q can do a work in 10 and 15 days respectively. They worked together for 2 days and then P left. In how many days Q can finish the remaining work?

**Options :**

1. ✘ 8 days
2. ✔ 10 days
3. ✘ 12 days
4. ✘ 15 days

**Question Number : 108 Question Id : 2752285737 Question Type : MCQ Option Shuffling : Yes Is Question Mandatory : No Option Orientation : Vertical**

**Correct Marks : 1 Wrong Marks : 0.25**

P और Q क्रमशः 10 और 15 दिनों में एक काम कर सकते हैं। उन्होंने 2 दिनों तक साथ काम किया और फिर P ने छोड़ दिया। शेष काम को Q कितने दिनों में पूरा कर सकता है?

**Options :**

1. ✘ 8 दिन
2. ✔ 10 दिन
3. ✘ 12 दिन
4. ✘ 15 दिन

**Question Number : 109 Question Id : 2752285738 Question Type : MCQ Option Shuffling : Yes Is Question Mandatory : No Option Orientation : Vertical**

**Correct Marks : 1 Wrong Marks : 0.25**

8 men can do a piece of work in 8 days while 16 women can do a piece of work in 5 days. In how many days 4 men and 5 women together can do this work?

**Options :**

1. ✘ 10 days
2. ✘ 14 days
3. ✔ 8 days
4. ✘ 6 days

**Question Number : 109 Question Id : 2752285738 Question Type : MCQ Option Shuffling : Yes Is Question Mandatory : No Option Orientation : Vertical**

**Correct Marks : 1 Wrong Marks : 0.25**

8 आदमी 8 दिनों में एक कार्य कर सकते हैं जबकि 16 महिलाएं 5 दिनों में एक कार्य कर सकती हैं। कितने दिनों में 4 आदमी और 5 महिलाएं मिलकर यह कार्य कर सकते हैं?

**Options :**

1. ✘ 10 दिन
2. ✘ 14 दिन
3. ✔ 8 दिन
4. ✘ 6 दिन

**Question Number : 110 Question Id : 2752285739 Question Type : MCQ Option Shuffling : Yes Is Question Mandatory : No Option Orientation : Vertical**

**Correct Marks : 1 Wrong Marks : 0.25**

A cylindrical drainage pipe is 70 cm long. The inside and outside diameters are 20 cm and 32 cm respectively. What is the volume of the pipe?

**Options :**

1. ✓ 34320 cu cm
2. ✗ 13728 cu cm
3. ✗ 24240 cu cm
4. ✗ 28630 cu cm

**Question Number : 110 Question Id : 2752285739 Question Type : MCQ Option Shuffling : Yes Is Question Mandatory : No Option Orientation : Vertical**

**Correct Marks : 1 Wrong Marks : 0.25**

एक बेलनाकार निकासी पाइप 70 cm लंबा है। अंदर और बाहर का व्यास क्रमशः 20 cm और 32 cm हैं। पाइप का आयतन क्या है?

**Options :**

1. ✓ 34320 cu cm
2. ✗ 13728 cu cm
3. ✗ 24240 cu cm
4. ✗ 28630 cu cm

**Question Number : 111 Question Id : 2752285740 Question Type : MCQ Option Shuffling : Yes Is Question Mandatory : No Option Orientation : Vertical**

**Correct Marks : 1 Wrong Marks : 0.25**

If 512 identical small spheres are made out of a big sphere of diameter 32 cm, then what is the surface area of each small sphere?

**Options :**

1. ✗  $14\pi$  sq cm
2. ✓  $16\pi$  sq cm
3. ✗  $10\pi$  sq cm
4. ✗  $12\pi$  sq cm

**Question Number : 111 Question Id : 2752285740 Question Type : MCQ Option Shuffling : Yes Is Question Mandatory : No Option Orientation : Vertical**

**Correct Marks : 1 Wrong Marks : 0.25**

यदि 32 cm व्यास के एक बड़े गोले से 512 समान छोटे गोले बनाए जाते हैं, तो प्रत्येक छोटे गोले का पृष्ठीय क्षेत्रफल क्या है?

**Options :**

1. ✘  $14\pi$  sq cm
2. ✔  $16\pi$  sq cm
3. ✘  $10\pi$  sq cm
4. ✘  $12\pi$  sq cm

**Question Number : 112 Question Id : 2752285741 Question Type : MCQ Option Shuffling : Yes Is Question Mandatory : No Option Orientation : Vertical**

**Correct Marks : 1 Wrong Marks : 0.25**

A right circular cone is 6 cm high and the radius is 12 cm. It is melted and recast into a sphere. What is the diameter of the sphere?

**Options :**

1. ✘ 8 cm
2. ✘ 10 cm
3. ✔ 12 cm
4. ✘ 16 cm

**Question Number : 112 Question Id : 2752285741 Question Type : MCQ Option Shuffling : Yes Is Question Mandatory : No Option Orientation : Vertical**

**Correct Marks : 1 Wrong Marks : 0.25**

एक लंबवृत्तीय शंकु 6 cm ऊंचा है और त्रिज्या 12 cm है। इसे पिघलाकर एक गोले में फिर से बनाया जाता है। गोले का व्यास क्या है?

**Options :**

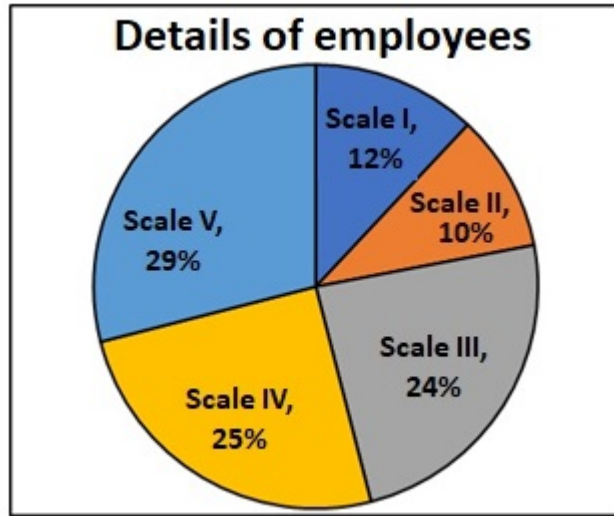
1. ✘ 8 cm
2. ✘ 10 cm
3. ✔ 12 cm
4. ✘ 16 cm

**Question Number : 113 Question Id : 2752285742 Question Type : MCQ Option Shuffling : Yes Is Question Mandatory : No Option Orientation : Vertical**

**Correct Marks : 1 Wrong Marks : 0.25**

The following pie-chart shows the details of 2000 employees of a company in various scales. How many employees are working on scale III?





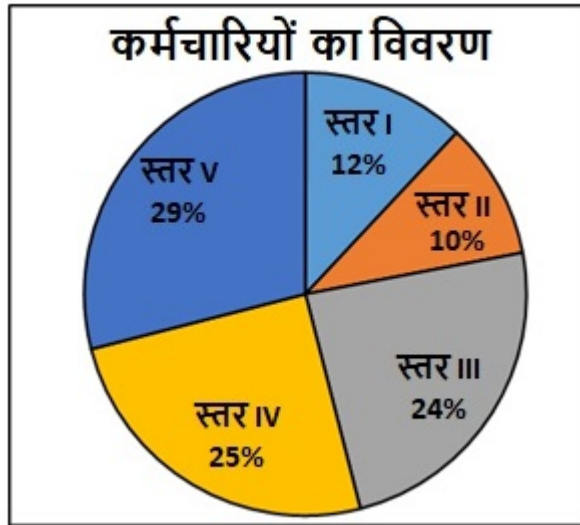
**Options :**

1. ✘ 240
2. ✘ 200
3. ✔ 480
4. ✘ 500

**Question Number : 113 Question Id : 2752285742 Question Type : MCQ Option Shuffling : Yes Is Question Mandatory : No Option Orientation : Vertical**

**Correct Marks : 1 Wrong Marks : 0.25**

निम्नलिखित पाई-चार्ट विभिन्न स्तरों में एक कंपनी के 2000 कर्मचारियों के विवरण को दर्शाता है। स्तर III पर कितने कर्मचारी काम कर रहे हैं?



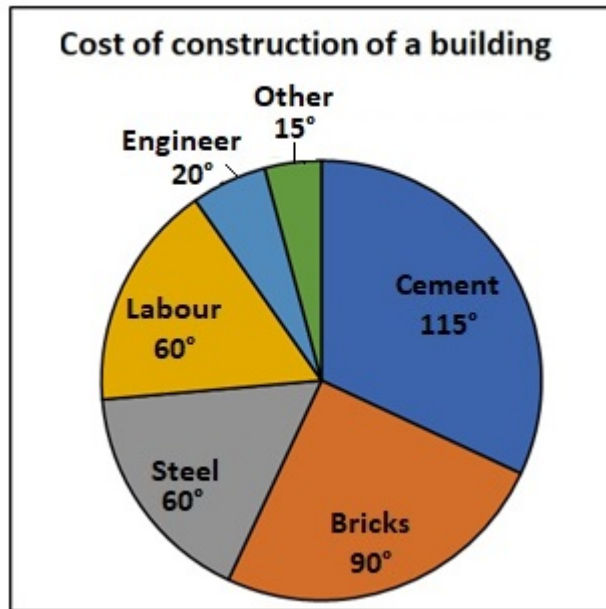
Options :

1. ✘ 240
2. ✘ 200
3. ✔ 480
4. ✘ 500

Question Number : 114 Question Id : 2752285743 Question Type : MCQ Option Shuffling : Yes Is Question Mandatory : No Option Orientation : Vertical

Correct Marks : 1 Wrong Marks : 0.25

The following pie chart shows the breakup in degrees the cost of construction of a building. The total cost of construction is Rs. 54000000. How much percentage of total amount is spent on bricks?



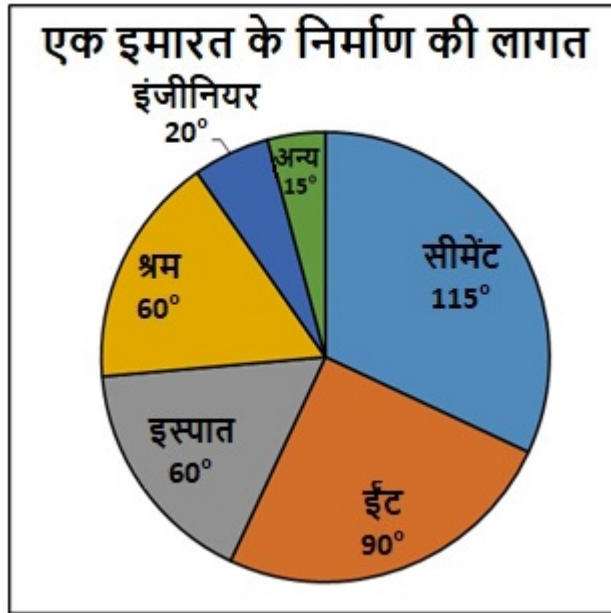
**Options :**

1. ✘ 90 percent
2. ✘ 60 percent
3. ✘ 15 percent
4. ✔ 25 percent

**Question Number : 114 Question Id : 2752285743 Question Type : MCQ Option Shuffling : Yes Is Question Mandatory : No Option Orientation : Vertical**

**Correct Marks : 1 Wrong Marks : 0.25**

निम्नलिखित पाई चार्ट एक इमारत के निर्माण की लागत को डिग्री में ब्रेकअप को दर्शाता है। निर्माण की कुल लागत 54000000 रुपए हैं। ईंटों पर कुल राशि का कितना प्रतिशत खर्च होता है?



Options :

1. ✘ 90 प्रतिशत
2. ✘ 60 प्रतिशत
3. ✘ 15 प्रतिशत
4. ✔ 25 प्रतिशत

Question Number : 115 Question Id : 2752285744 Question Type : MCQ Option Shuffling : Yes Is Question Mandatory : No Option Orientation : Vertical

Correct Marks : 1 Wrong Marks : 0.25

The following table shows the sales, expenses and capital of a company from 2005 to 2008. In which year was the ratio of expenses and capital is highest?

Years	Sales	Expenses	Capital
2005	400	200	300
2006	600	200	400
2007	500	300	700
2008	700	300	700

**Options :**

1. ✓ 2005
2. ✗ 2006
3. ✗ 2007
4. ✗ 2008

**Question Number : 115 Question Id : 2752285744 Question Type : MCQ Option Shuffling : Yes Is Question Mandatory : No Option Orientation : Vertical**

**Correct Marks : 1 Wrong Marks : 0.25**

निम्नलिखित तालिका 2005 से 2008 तक किसी कंपनी की बिक्री, व्यय और पूंजी को दर्शाती है। किस वर्ष में व्यय और पूंजी का अनुपात सबसे अधिक था?

वर्ष	बिक्री	व्यय	पूंजी
2005	400	200	300
2006	600	200	400
2007	500	300	700
2008	700	300	700

**Options :**

1. ✓ 2005
2. ✗ 2006
3. ✗ 2007
4. ✗ 2008

**Question Number : 116 Question Id : 2752285745 Question Type : MCQ Option Shuffling : Yes Is Question Mandatory : No Option Orientation : Vertical**

**Correct Marks : 1 Wrong Marks : 0.25**

The following table shows the population of India in various years. What is the percentage increase in population from 1991 to 2011?

Years	Population (in crores)
1981	70
1991	81.4
2001	90.5
2011	110.6

Options :

1. ✘ 24.69 percent
2. ✔ 35.87 percent
3. ✘ 37.59 percent
4. ✘ 40.12 percent

Question Number : 116 Question Id : 2752285745 Question Type : MCQ Option Shuffling : Yes Is Question Mandatory : No Option Orientation : Vertical

Correct Marks : 1 Wrong Marks : 0.25

निम्नलिखित तालिका विभिन्न वर्षों में भारत की जनसंख्या को दर्शाती है। 1991 से 2011 तक जनसंख्या में प्रतिशत वृद्धि क्या है?

वर्ष	जनसंख्या (करोड़ में)
1981	70
1991	81.4
2001	90.5
2011	110.6

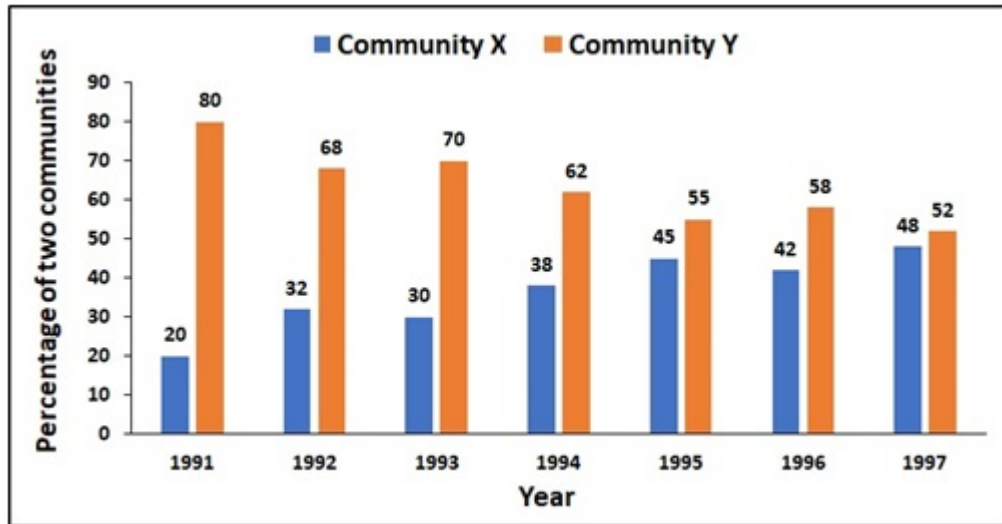
Options :

1. ✘ 24.69 प्रतिशत
2. ✔ 35.87 प्रतिशत
3. ✘ 37.59 प्रतिशत
4. ✘ 40.12 प्रतिशत

Question Number : 117 Question Id : 2752285746 Question Type : MCQ Option Shuffling : Yes Is Question Mandatory : No Option Orientation : Vertical

**Correct Marks : 1 Wrong Marks : 0.25**

The following bar diagram shows the percentage of two communities- Community X and Community Y in a state during the years from 1991 to 1997. What was the ratio between community X and community Y in the year 1995?



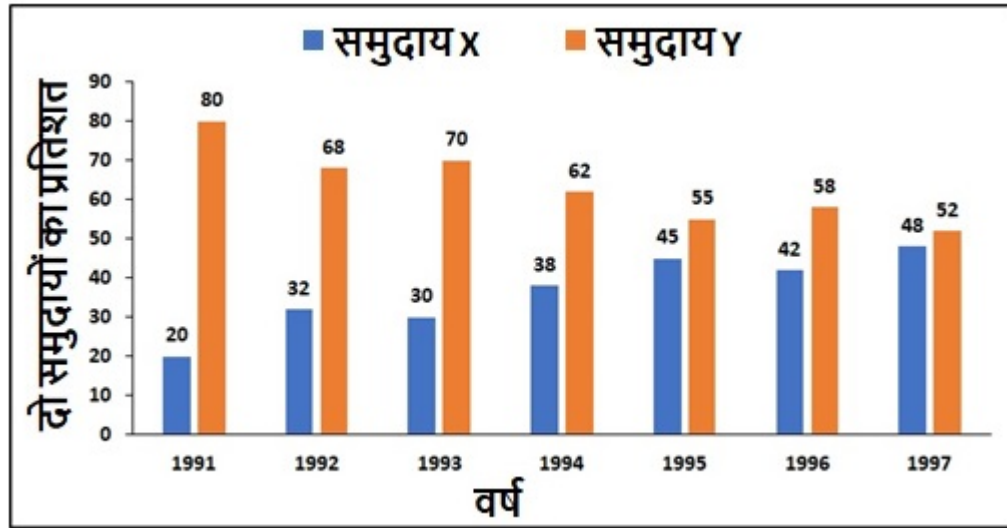
**Options :**

- ✘ 75:76
- ✘ 25:23
- ✘ 5:17
- ✔ 9:11

**Question Number : 117 Question Id : 2752285746 Question Type : MCQ Option Shuffling : Yes Is Question Mandatory : No Option Orientation : Vertical**

**Correct Marks : 1 Wrong Marks : 0.25**

निम्नलिखित बार आरेख 1991 से 1997 तक के वर्षों के दौरान एक राज्य में दो समुदायों- समुदाय X और समुदाय Y का प्रतिशत दर्शाता है। वर्ष 1995 में समुदाय X और समुदाय Y के बीच का अनुपात क्या था?



Options :

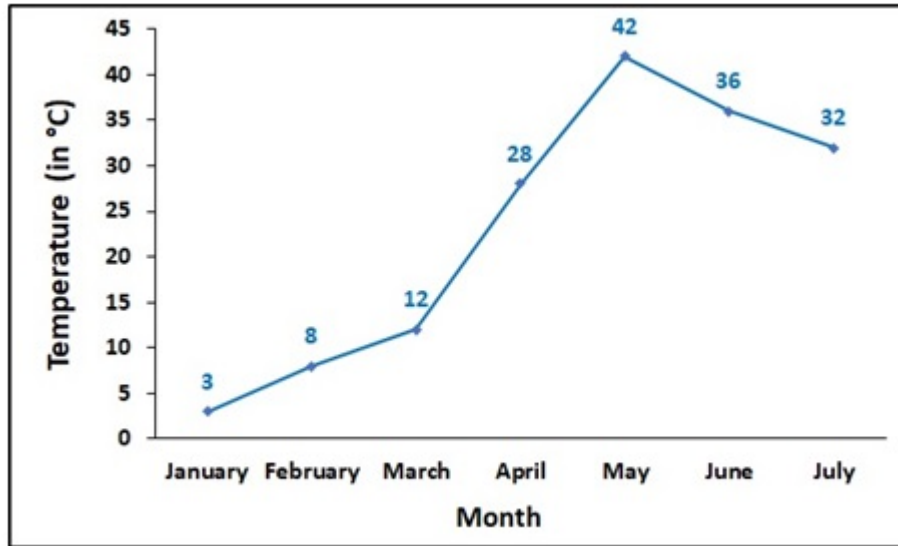
1. ✘ 75:76
2. ✘ 25:23
3. ✘ 5:17
4. ✔ 9:11

Question Number : 118 Question Id : 2752285747 Question Type : MCQ Option Shuffling : Yes Is Question Mandatory : No Option Orientation : Vertical

Correct Marks : 1 Wrong Marks : 0.25

The following line graph shows the average temperature of a city in different months of a year. What is the decrease percentage of the temperature from May to June?





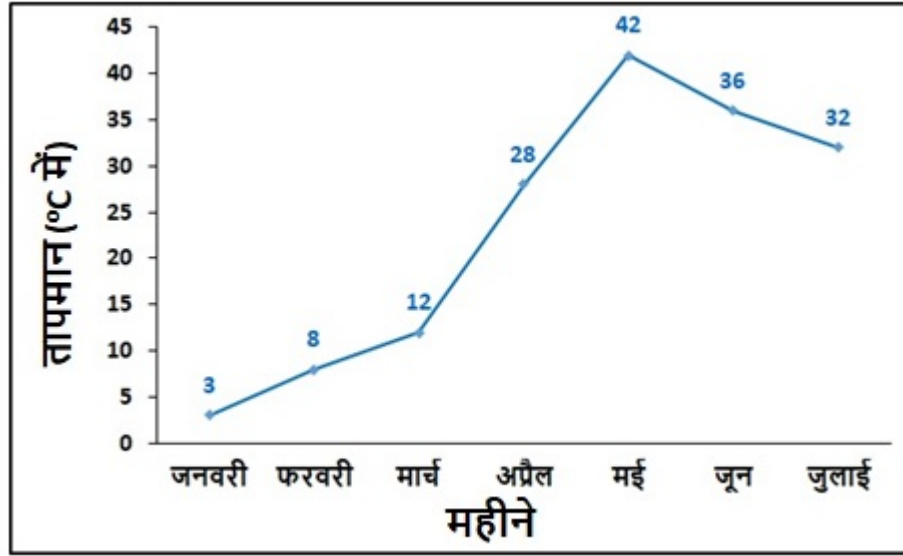
Options :

1. ✓ (100/7) percent
2. ✗ (500/21) percent
3. ✗ (200/7) percent
4. ✗ (300/17) percent

Question Number : 118 Question Id : 2752285747 Question Type : MCQ Option Shuffling : Yes Is Question Mandatory : No Option Orientation : Vertical

Correct Marks : 1 Wrong Marks : 0.25

निम्नलिखित लाइन ग्राफ एक वर्ष के विभिन्न महीनों में शहर के औसत तापमान को दर्शाता है। मई से जून तक तापमान की कमी प्रतिशत क्या है?



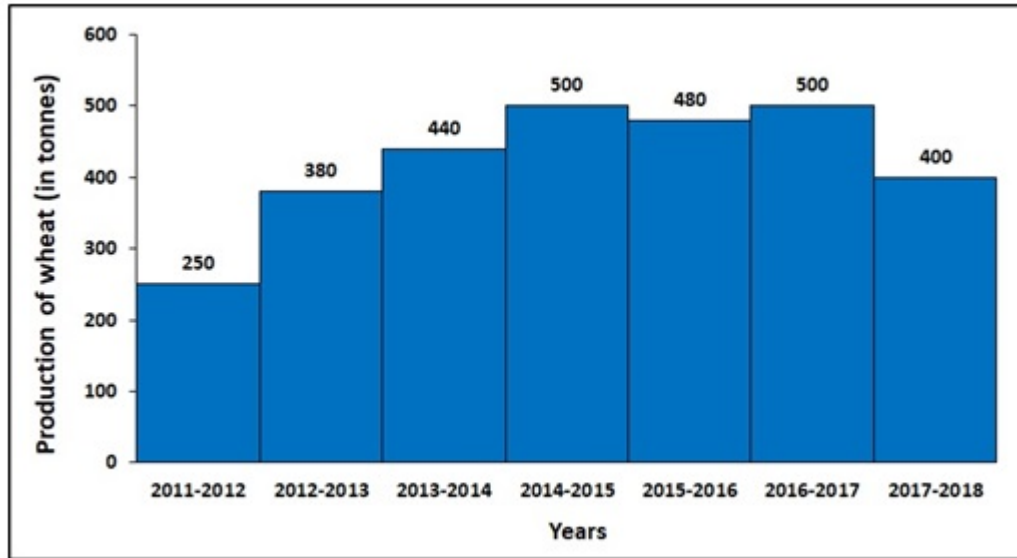
Options :

1. ✓ (100/7) प्रतिशत
2. ✗ (500/21) प्रतिशत
3. ✗ (200/7) प्रतिशत
4. ✗ (300/17) प्रतिशत

Question Number : 119 Question Id : 2752285748 Question Type : MCQ Option Shuffling : Yes Is Question Mandatory : No Option Orientation : Vertical

Correct Marks : 1 Wrong Marks : 0.25

The following histogram shows the production of wheat from the year 2011-2012 to 2017-2018. By how much percent the production in 2016-2017 increased compared to the production in 2011-2012?



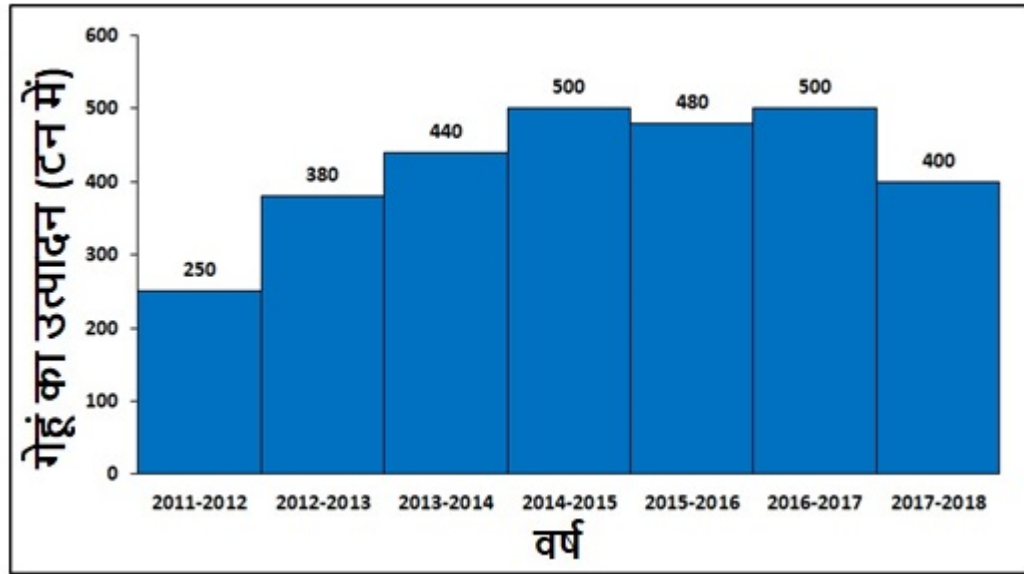
Options :

1. ✘ 200 percent
2. ✘ 128 percent
3. ✔ 100 percent
4. ✘ 80 percent

Question Number : 119 Question Id : 2752285748 Question Type : MCQ Option Shuffling : Yes Is Question Mandatory : No Option Orientation : Vertical

Correct Marks : 1 Wrong Marks : 0.25

निम्नलिखित आयतचित्र वर्ष 2011-2012 से 2017-2018 तक गेहूं के उत्पादन को दर्शाता है। 2011-2012 में उत्पादन की तुलना में 2016-2017 में उत्पादन में कितनी प्रतिशत वृद्धि हुई?



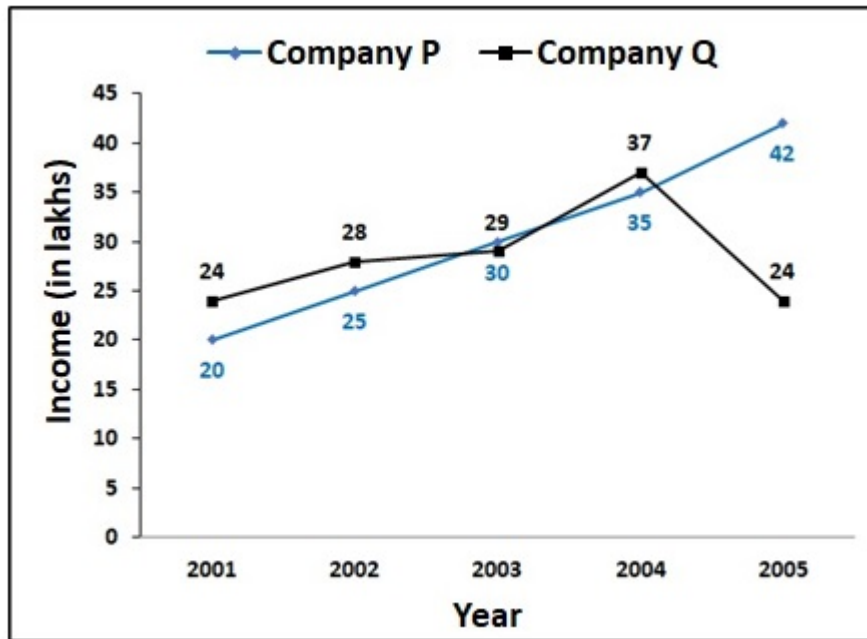
Options :

- ✘ 200 प्रतिशत
- ✘ 128 प्रतिशत
- ✔ 100 प्रतिशत
- ✘ 80 प्रतिशत

Question Number : 120 Question Id : 2752285749 Question Type : MCQ Option Shuffling : Yes Is Question Mandatory : No Option Orientation : Vertical

Correct Marks : 1 Wrong Marks : 0.25

The following line graph shows the income (in lakh rupees) of two water purifier manufacturing companies P and Q over 5 years. What would be the ratio of total income of these 5 years of Company P to that of Company Q?



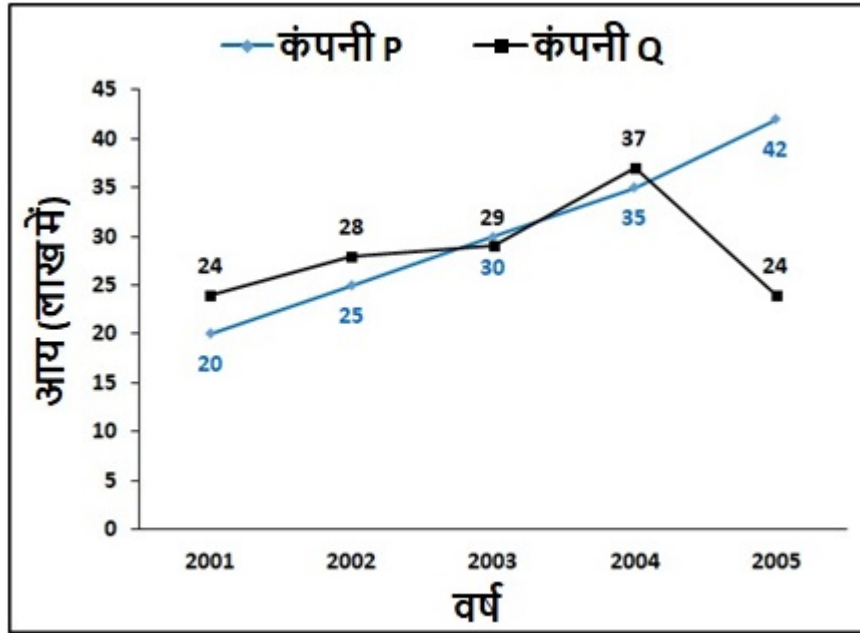
Options :

1. ✓ 76 : 71
2. ✗ 24 : 25
3. ✗ 2 : 3
4. ✗ 1 : 1

Question Number : 120 Question Id : 2752285749 Question Type : MCQ Option Shuffling : Yes Is Question Mandatory : No Option Orientation : Vertical

Correct Marks : 1 Wrong Marks : 0.25

निम्नलिखित लाइन ग्राफ 5 वर्षों में दो जल शोधक निर्माण कंपनियों P और Q की आय को (लाख रुपए में) दर्शाता है। कंपनी P की इन 5 वर्षों की कुल आय का, कंपनी Q की कुल आय के लिए अनुपात क्या होगा?



Options :

1. ✓ 76 : 71
2. ✗ 24 : 25
3. ✗ 2 : 3
4. ✗ 1 : 1

## General English1

Group Number :	7
Group Id :	275228199
Group Maximum Duration :	0
Group Minimum Duration :	0
Show Attended Group? :	No
Edit Attended Group? :	No
Break time :	0
Group Marks :	20
Is this Group for Examiner? :	No

# General English1

Section Id :	275228301
Section Number :	1
Section type :	Online
Mandatory or Optional :	Mandatory
Number of Questions :	20
Number of Questions to be attempted :	20
Section Marks :	20
Enable Mark as Answered Mark for Review and Clear Response :	Yes
Sub-Section Number :	1
Sub-Section Id :	275228360
Question Shuffling Allowed :	Yes

**Question Number : 121 Question Id : 2752285750 Question Type : MCQ Option Shuffling : Yes Is Question Mandatory : No Option Orientation : Vertical**

**Correct Marks : 1 Wrong Marks : 0.25**

Find the part of the given sentence that has an error in it. If there is no error, choose 'No error'.

Living standards vary widely from country to country, and (1)/ furthermore the change in living standards over time varies (2)/ widely from country to country. (3)/ No Error (4)

**Options :**

1. ✓ Living standards vary widely from country to country, and
2. ✗ furthermore the change in living standards over time varies
3. ✗ widely from country to country.
4. ✗ No Error

**Question Number : 121 Question Id : 2752285750 Question Type : MCQ Option Shuffling : Yes Is Question Mandatory : No Option Orientation : Vertical**

**Correct Marks : 1 Wrong Marks : 0.25**

Find the part of the given sentence that has an error in it. If there is no error, choose 'No error'.

Living standards vary widely from country to country, and (1)/ furthermore the change in living standards over time varies (2)/ widely from country to country. (3)/ No Error (4)

**Options :**

1. ✓ Living standards vary widely from country to country, and
2. ✗ furthermore the change in living standards over time varies
3. ✗ widely from country to country.
4. ✗ No Error

**Question Number : 122 Question Id : 2752285751 Question Type : MCQ Option Shuffling : Yes Is Question Mandatory : No Option Orientation : Vertical**

**Correct Marks : 1 Wrong Marks : 0.25**

Find the part of the given sentence that has an error in it. If there is no error, choose 'No error'.

A country's level of human capital is (1)/ difficult to be measure since it is created (2)/ at home, at school, and on the job. (3)/ No Error (4)

**Options :**

1. ✗ A country's level of human capital is
2. ✓ difficult to be measure since it is created
3. ✗ at home, at school, and on the job.
4. ✗ No Error

**Question Number : 122 Question Id : 2752285751 Question Type : MCQ Option Shuffling : Yes Is Question Mandatory : No Option Orientation : Vertical**

**Correct Marks : 1 Wrong Marks : 0.25**

Find the part of the given sentence that has an error in it. If there is no error, choose 'No error'.

A country's level of human capital is (1)/ difficult to be measure since it is created (2)/ at home, at school, and on the job. (3)/ No Error (4)

**Options :**

1. ✗ A country's level of human capital is
2. ✓ difficult to be measure since it is created
3. ✗ at home, at school, and on the job.
4. ✗ No Error

**Question Number : 123 Question Id : 2752285752 Question Type : MCQ Option Shuffling : Yes Is Question Mandatory : No Option**



**Orientation : Vertical**

**Correct Marks : 1 Wrong Marks : 0.25**

Find the part of the given sentence that has an error in it. If there is no error, choose 'No error'.

Not having clear legal title to properly limits (1)/ its potential to be used as collateral to (2)/ secure loans, depriving many poor countries. (3)/ No Error (4)

**Options :**

1. ✓ Not having clear legal title to properly limits
2. ✗ its potential to be used as collateral to
3. ✗ secure loans, depriving many poor countries.
4. ✗ No Error

**Question Number : 123 Question Id : 2752285752 Question Type : MCQ Option Shuffling : Yes Is Question Mandatory : No Option**

**Orientation : Vertical**

**Correct Marks : 1 Wrong Marks : 0.25**

Find the part of the given sentence that has an error in it. If there is no error, choose 'No error'.

Not having clear legal title to properly limits (1)/ its potential to be used as collateral to (2)/ secure loans, depriving many poor countries. (3)/ No Error (4)

**Options :**

1. ✓ Not having clear legal title to properly limits
2. ✗ its potential to be used as collateral to
3. ✗ secure loans, depriving many poor countries.
4. ✗ No Error

**Question Number : 124 Question Id : 2752285753 Question Type : MCQ Option Shuffling : Yes Is Question Mandatory : No Option**

**Orientation : Vertical**

**Correct Marks : 1 Wrong Marks : 0.25**

Find the part of the given sentence that has an error in it. If there is no error, choose 'No error'.

The servicing and government sectors, where output (1)/ per hour and productivity growth is low, last saw increases in their shares of the (2)/ economy and employment during the 1990s. (3)/ No Error (4)

**Options :**

1. ✓ The servicing and government sectors, where output

2. ✘ per hour and productivity growth is low, last saw increases in their shares of the
3. ✘ economy and employment during the 1990s.
4. ✘ No Error

**Question Number : 124 Question Id : 2752285753 Question Type : MCQ Option Shuffling : Yes Is Question Mandatory : No Option Orientation : Vertical**

**Correct Marks : 1 Wrong Marks : 0.25**

Find the part of the given sentence that has an error in it. If there is no error, choose 'No error'.

The servicing and government sectors, where output (1)/ per hour and productivity growth is low, last saw increases in their shares of the (2)/ economy and employment during the 1990s. (3)/ No Error (4)

**Options :**

1. ✔ The servicing and government sectors, where output
2. ✘ per hour and productivity growth is low, last saw increases in their shares of the
3. ✘ economy and employment during the 1990s.
4. ✘ No Error

**Question Number : 125 Question Id : 2752285754 Question Type : MCQ Option Shuffling : Yes Is Question Mandatory : No Option Orientation : Vertical**

**Correct Marks : 1 Wrong Marks : 0.25**

Find the part of the given sentence that has an error in it. If there is no error, choose 'No error'.

In line with the predictions of the Malthusian theory, a cross-country analysis (1)/ finds a significant positive affect of the technical level on population density (2)/ and insignificant effect on income per significantly over the years. (3)/ No Error (4)

**Options :**

1. ✘ In line with the predictions of the Malthusian theory, a cross-country analysis
2. ✔ finds a significant positive affect of the technical level on population density
3. ✘ and insignificant effect on income per significantly over the years.
4. ✘ No Error

**Question Number : 125 Question Id : 2752285754 Question Type : MCQ Option Shuffling : Yes Is Question Mandatory : No Option Orientation : Vertical**

**Correct Marks : 1 Wrong Marks : 0.25**

Find the part of the given sentence that has an error in it. If there is no error, choose 'No error'.

In line with the predictions of the Malthusian theory, a cross-country analysis (1)/ finds a significant positive affect of the technical level on population density (2)/ and insignificant effect on income per significantly over the years. (3)/ No Error (4)

**Options :**

1. ✘ In line with the predictions of the Malthusian theory, a cross-country analysis
2. ✔ finds a significant positive affect of the technical level on population density
3. ✘ and insignificant effect on income per significantly over the years.
4. ✘ No Error

**Question Number : 126 Question Id : 2752285755 Question Type : MCQ Option Shuffling : Yes Is Question Mandatory : No Option Orientation : Vertical**

**Correct Marks : 1 Wrong Marks : 0.25**

Select the word segment that substitutes (replaces) the bracketed word segment correctly and completes the sentence meaningfully. Select the option 'no correction required' if the sentence is correct as given.

Detailed knowledge of fission and fusion weapons is (proliferated) to some degree in virtually every industrialized nation.

**Options :**

1. ✔ classified
2. ✘ privileged
3. ✘ mocked
4. ✘ No Correction Required

**Question Number : 126 Question Id : 2752285755 Question Type : MCQ Option Shuffling : Yes Is Question Mandatory : No Option Orientation : Vertical**

**Correct Marks : 1 Wrong Marks : 0.25**

Select the word segment that substitutes (replaces) the bracketed word segment correctly and completes the sentence meaningfully. Select the option 'no correction required' if the sentence is correct as given.

Detailed knowledge of fission and fusion weapons is (proliferated) to some degree in virtually every industrialized nation.

**Options :**

1. ✔ classified
2. ✘ privileged
3. ✘ mocked

4. ✘ No Correction Required

**Question Number : 127 Question Id : 2752285756 Question Type : MCQ Option Shuffling : Yes Is Question Mandatory : No Option Orientation : Vertical**

**Correct Marks : 1 Wrong Marks : 0.25**

Select the word segment that substitutes (replaces) the bracketed word segment correctly and completes the sentence meaningfully. Select the option 'no correction required' if the sentence is correct as given.

Heating or electricity is one of the most (considered) costs in the operation of greenhouses across the globe, especially in colder climates.

**Options :**

1. ✘ considering
2. ✘ consideration
3. ✔ considerable
4. ✘ No Correction Required

**Question Number : 127 Question Id : 2752285756 Question Type : MCQ Option Shuffling : Yes Is Question Mandatory : No Option Orientation : Vertical**

**Correct Marks : 1 Wrong Marks : 0.25**

Select the word segment that substitutes (replaces) the bracketed word segment correctly and completes the sentence meaningfully. Select the option 'no correction required' if the sentence is correct as given.

Heating or electricity is one of the most (considered) costs in the operation of greenhouses across the globe, especially in colder climates.

**Options :**

1. ✘ considering
2. ✘ consideration
3. ✔ considerable
4. ✘ No Correction Required

**Question Number : 128 Question Id : 2752285757 Question Type : MCQ Option Shuffling : Yes Is Question Mandatory : No Option Orientation : Vertical**

**Correct Marks : 1 Wrong Marks : 0.25**

Select the word segment that substitutes (replaces) the bracketed word segment correctly and completes the sentence meaningfully. Select the option 'no correction required' if the sentence is correct as given.

Standpoint theory's most important concept is that an individual's own (speculates) are shaped by his or her social and political experiences.

**Options :**

1. ✓ perspectives
2. ✗ perseverance
3. ✗ perception
4. ✗ No Correction Required

**Question Number : 128 Question Id : 2752285757 Question Type : MCQ Option Shuffling : Yes Is Question Mandatory : No Option Orientation : Vertical**

**Correct Marks : 1 Wrong Marks : 0.25**

Select the word segment that substitutes (replaces) the bracketed word segment correctly and completes the sentence meaningfully. Select the option 'no correction required' if the sentence is correct as given.

Standpoint theory's most important concept is that an individual's own (speculates) are shaped by his or her social and political experiences.

**Options :**

1. ✓ perspectives
2. ✗ perseverance
3. ✗ perception
4. ✗ No Correction Required

**Question Number : 129 Question Id : 2752285758 Question Type : MCQ Option Shuffling : Yes Is Question Mandatory : No Option Orientation : Vertical**

**Correct Marks : 1 Wrong Marks : 0.25**

Select the word segment that substitutes (replaces) the bracketed word segment correctly and completes the sentence meaningfully. Select the option 'no correction required' if the sentence is correct as given.

The words "opacity" and "opaque" are often used as (sequential) terms for objects or media. However, there is also a specific, quantitative definition of "opacity", used in astronomy, plasma physics, and other fields.

**Options :**

1. ✗ metaphorical
2. ✓ colloquial
3. ✗ demographical
4. ✗ No Correction Required

**Question Number : 129 Question Id : 2752285758 Question Type : MCQ Option Shuffling : Yes Is Question Mandatory : No Option Orientation : Vertical**

**Correct Marks : 1 Wrong Marks : 0.25**

Select the word segment that substitutes (replaces) the bracketed word segment correctly and completes the sentence meaningfully. Select the option 'no correction required' if the sentence is correct as given.

The words "opacity" and "opaque" are often used as (sequential) terms for objects or media. However, there is also a specific, quantitative definition of "opacity", used in astronomy, plasma physics, and other fields.

**Options :**

1. ✘ metaphorical
2. ✔ colloquial
3. ✘ demographical
4. ✘ No Correction Required

**Question Number : 130 Question Id : 2752285759 Question Type : MCQ Option Shuffling : Yes Is Question Mandatory : No Option Orientation : Vertical**

**Correct Marks : 1 Wrong Marks : 0.25**

Fill in the blank with the appropriate word.

Human population control is the practice of \_\_\_\_\_ the rate of growth of a human population.

**Options :**

1. ✘ stagnating
2. ✘ destroying
3. ✘ preserving
4. ✔ altering

**Question Number : 130 Question Id : 2752285759 Question Type : MCQ Option Shuffling : Yes Is Question Mandatory : No Option Orientation : Vertical**

**Correct Marks : 1 Wrong Marks : 0.25**

Fill in the blank with the appropriate word.

Human population control is the practice of \_\_\_\_\_ the rate of growth of a human population.

**Options :**

1. ✘ stagnating
2. ✘ destroying
3. ✘ preserving
4. ✔ altering

**Question Number : 131 Question Id : 2752285760 Question Type : MCQ Option Shuffling : Yes Is Question Mandatory : No Option Orientation : Vertical**

**Correct Marks : 1 Wrong Marks : 0.25**

Fill in the blank with the appropriate word.

The rich religious literature unwritten secular literature passed down from one generation to another in the form of \_\_\_\_\_ chants.

**Options :**

1. ✘ swarthy
2. ✔ sacerdotal
3. ✘ notonectal
4. ✘ atheistical

**Question Number : 131 Question Id : 2752285760 Question Type : MCQ Option Shuffling : Yes Is Question Mandatory : No Option Orientation : Vertical**

**Correct Marks : 1 Wrong Marks : 0.25**

Fill in the blank with the appropriate word.

The rich religious literature unwritten secular literature passed down from one generation to another in the form of \_\_\_\_\_ chants.

**Options :**

1. ✘ swarthy
2. ✔ sacerdotal
3. ✘ notonectal
4. ✘ atheistical

**Question Number : 132 Question Id : 2752285761 Question Type : MCQ Option Shuffling : Yes Is Question Mandatory : No Option Orientation : Vertical**

**Correct Marks : 1 Wrong Marks : 0.25**

Fill in the blank with the appropriate word.

The Sātavāhanas are known for their \_\_\_\_\_ of Hinduism and Buddhism, which resulted in the construction of Buddhist monuments from Ellora to Amaravati.

**Options :**

1. ✘ antagonism
2. ✘ partitioning
3. ✔ patronage
4. ✘ obstruction

**Question Number : 132 Question Id : 2752285761 Question Type : MCQ Option Shuffling : Yes Is Question Mandatory : No Option Orientation : Vertical**

**Correct Marks : 1 Wrong Marks : 0.25**

Fill in the blank with the appropriate word.

The Sātavāhanas are known for their \_\_\_\_\_ of Hinduism and Buddhism, which resulted in the construction of Buddhist monuments from Ellora to Amaravati.

**Options :**

1. ✘ antagonism
2. ✘ partitioning
3. ✔ patronage
4. ✘ obstruction

**Question Number : 133 Question Id : 2752285762 Question Type : MCQ Option Shuffling : Yes Is Question Mandatory : No Option Orientation : Vertical**

**Correct Marks : 1 Wrong Marks : 0.25**

Fill in the blank with the appropriate word.

The British East India Company, by the 18th century, had entered the Indian political \_\_\_\_\_ and established its dominance over other European powers.

**Options :**

1. ✔ theatre
2. ✘ lineament
3. ✘ inaction
4. ✘ languor



**Question Number : 133 Question Id : 2752285762 Question Type : MCQ Option Shuffling : Yes Is Question Mandatory : No Option Orientation : Vertical**

**Correct Marks : 1 Wrong Marks : 0.25**

Fill in the blank with the appropriate word.

The British East India Company, by the 18th century, had entered the Indian political \_\_\_\_\_ and established its dominance over other European powers.

**Options :**

1. ✓ theatre
2. ✗ lineament
3. ✗ inaction
4. ✗ languor

**Question Number : 134 Question Id : 2752285763 Question Type : MCQ Option Shuffling : Yes Is Question Mandatory : No Option Orientation : Vertical**

**Correct Marks : 1 Wrong Marks : 0.25**

Some parts of a sentence have been jumbled up, and labelled P, Q, R and S. Select the option that gives the correct sequence in which these parts can be rearranged to form a meaningful and grammatically correct sentence.

The first is that the objective

P: to the home, on the justified premise

Q: that one's religion is a personal matter and is not

R: determined effort to restrict religious practices

S: will not be reached unless there is a

conductive to mass assertiveness.

**Options :**

1. ✗ SRQP
2. ✗ QPSR
3. ✓ SRPQ
4. ✗ QPRS

**Question Number : 134 Question Id : 2752285763 Question Type : MCQ Option Shuffling : Yes Is Question Mandatory : No Option Orientation : Vertical**

**Correct Marks : 1 Wrong Marks : 0.25**

Some parts of a sentence have been jumbled up, and labelled P, Q, R and S. Select the option that gives the correct sequence in which these parts can be rearranged to form a meaningful and grammatically correct sentence.

The first is that the objective

P: to the home, on the justified premise

Q: that one's religion is a personal matter and is not

R: determined effort to restrict religious practices

S: will not be reached unless there is a

conducive to mass assertiveness.

**Options :**

1. ✘ SRQP

2. ✘ QPSR

3. ✔ SRPQ

4. ✘ QPRS

**Question Number : 135 Question Id : 2752285764 Question Type : MCQ Option Shuffling : Yes Is Question Mandatory : No Option Orientation : Vertical**

**Correct Marks : 1 Wrong Marks : 0.25**

Some parts of a sentence have been jumbled up, and labelled P, Q, R and S. Select the option that gives the correct sequence in which these parts can be rearranged to form a meaningful and grammatically correct sentence.

Distillation may result

P: that increases the

Q: in essentially complete separation,

R: concentration of selected

S: or it may be a partial separation

components in the mixture.

**Options :**

1. ✘ RPQS

2. ✔ QSPR

3. ✖ RPSQ

4. ✖ QSRP

**Question Number : 135 Question Id : 2752285764 Question Type : MCQ Option Shuffling : Yes Is Question Mandatory : No Option Orientation : Vertical**

**Correct Marks : 1 Wrong Marks : 0.25**

Some parts of a sentence have been jumbled up, and labelled P, Q, R and S. Select the option that gives the correct sequence in which these parts can be rearranged to form a meaningful and grammatically correct sentence.

Distillation may result

P: that increases the

Q: in essentially complete separation,

R: concentration of selected

S: or it may be a partial separation

components in the mixture.

**Options :**

1. ✖ RPQS

2. ✔ QSPR

3. ✖ RPSQ

4. ✖ QSRP

**Question Number : 136 Question Id : 2752285765 Question Type : MCQ Option Shuffling : Yes Is Question Mandatory : No Option Orientation : Vertical**

**Correct Marks : 1 Wrong Marks : 0.25**

Some parts of a passage have been jumbled up, and labelled P, Q, R and S. Select the option that gives the correct sequence in which these parts can be rearranged to form a meaningful passage.

Glassblowing is a glass-forming technique that involves inflating molten glass into a bubble with the aid of a blowpipe.

P. Mold-blowing is an alternative glassblowing method that came after the invention of free-blowing.

Q. A lampworker is also a glassblower but manipulates glass with the use of a torch on a smaller scale.

R. A person who blows glass is called a glassblower, glassmith, or gaffer.

S. It is a tube through which a stream of air or gas is forced into a flame to concentrate and increase its heating action.

There are two types of mold, namely single-piece molds and multi-piece molds, are frequently used to produce mold-blown vessels.

**Options :**

1. ✓ SRQP
2. ✗ QPRS
3. ✗ RPQS
4. ✗ PRQS

**Question Number : 136 Question Id : 2752285765 Question Type : MCQ Option Shuffling : Yes Is Question Mandatory : No Option Orientation : Vertical**

**Correct Marks : 1 Wrong Marks : 0.25**

Some parts of a passage have been jumbled up, and labelled P, Q, R and S. Select the option that gives the correct sequence in which these parts can be rearranged to form a meaningful passage.

Glassblowing is a glass-forming technique that involves inflating molten glass into a bubble with the aid of a blowpipe.

P. Mold-blowing is an alternative glassblowing method that came after the invention of free-blowing.

Q. A lampworker is also a glassblower but manipulates glass with the use of a torch on a smaller scale.

R. A person who blows glass is called a glassblower, glassmith, or gaffer.

S. It is a tube through which a stream of air or gas is forced into a flame to concentrate and increase its heating action.

There are two types of mold, namely single-piece molds and multi-piece molds, are frequently used to produce mold-blown vessels.

**Options :**

1. ✓ SRQP
2. ✗ QPRS
3. ✗ RPQS
4. ✗ PRQS

**Question Number : 137 Question Id : 2752285766 Question Type : MCQ Option Shuffling : Yes Is Question Mandatory : No Option Orientation : Vertical**

**Correct Marks : 1 Wrong Marks : 0.25**

Some parts of a passage have been jumbled up, and labelled P, Q, R and S. Select the option that gives the correct sequence in which these parts can be rearranged to form a meaningful passage.

A supernova is a powerful and luminous stellar explosion.

P: A black hole as mentioned above is expected to form when very massive stars collapse at the end of their life cycle; it is region of spacetime where gravity is so strong that nothing—no particles or even electromagnetic radiation such as light—can escape from it.  
Q: This transient astronomical event occurs during the last evolutionary stages of a massive star or when a white dwarf is triggered into runaway nuclear fusion.  
R: The peak optical luminosity of a supernova can be comparable to that of an entire galaxy, before fading over several weeks or months.  
S: The original form of the white dwarf, called the progenitor, either collapses to a neutron star or black hole, or it is completely destroyed.

The theory of general relativity predicts that a sufficiently compact mass can deform spacetime to form a black hole.

**Options :**

1. ✘ RSPQ
2. ✘ SPRQ
3. ✘ PQRS
4. ✔ QSRP

**Question Number : 137 Question Id : 2752285766 Question Type : MCQ Option Shuffling : Yes Is Question Mandatory : No Option Orientation : Vertical**

**Correct Marks : 1 Wrong Marks : 0.25**

Some parts of a passage have been jumbled up, and labelled P, Q, R and S. Select the option that gives the correct sequence in which these parts can be rearranged to form a meaningful passage.

A supernova is a powerful and luminous stellar explosion.

P: A black hole as mentioned above is expected to form when very massive stars collapse at the end of their life cycle; it is region of spacetime where gravity is so strong that nothing—no particles or even electromagnetic radiation such as light—can escape from it.  
Q: This transient astronomical event occurs during the last evolutionary stages of a massive star or when a white dwarf is triggered into runaway nuclear fusion.  
R: The peak optical luminosity of a supernova can be comparable to that of an entire galaxy, before fading over several weeks or months.  
S: The original form of the white dwarf, called the progenitor, either collapses to a neutron star or black hole, or it is completely destroyed.

The theory of general relativity predicts that a sufficiently compact mass can deform spacetime to form a black hole.

**Options :**

1. ✘ RSPQ
2. ✘ SPRQ
3. ✘ PQRS
4. ✔ QSRP

**Question Number : 138 Question Id : 2752285767 Question Type : MCQ Option Shuffling : Yes Is Question Mandatory : No Option Orientation : Vertical**

**Correct Marks : 1 Wrong Marks : 0.25**

Select the word that is the opposite meaning (ANTONYM) to the word given below.

VEHEMENT

**Options :**

1. ✘ ARDENT
2. ✘ FERVENT
3. ✘ POTENT
4. ✔ GENTLE

**Question Number : 138 Question Id : 2752285767 Question Type : MCQ Option Shuffling : Yes Is Question Mandatory : No Option Orientation : Vertical**

**Correct Marks : 1 Wrong Marks : 0.25**

Select the word that is the opposite meaning (ANTONYM) to the word given below.

VEHEMENT

**Options :**

1. ✘ ARDENT
2. ✘ FERVENT
3. ✘ POTENT
4. ✔ GENTLE

**Question Number : 139 Question Id : 2752285768 Question Type : MCQ Option Shuffling : Yes Is Question Mandatory : No Option Orientation : Vertical**

**Correct Marks : 1 Wrong Marks : 0.25**

Select the word that is closest in meaning (SYNONYM) to the word given below.

REPUGNANT

**Options :**

1. ✘ RECREANT

2. ✘ AGREEABLE
3. ✔ ABOMINABLE
4. ✘ LIKEABLE

**Question Number : 139 Question Id : 2752285768 Question Type : MCQ Option Shuffling : Yes Is Question Mandatory : No Option Orientation : Vertical**

**Correct Marks : 1 Wrong Marks : 0.25**

Select the word that is closest in meaning (SYNONYM) to the word given below.

REPUGNANT

**Options :**

1. ✘ RECREANT
2. ✘ AGREEABLE
3. ✔ ABOMINABLE
4. ✘ LIKEABLE

**Question Number : 140 Question Id : 2752285769 Question Type : MCQ Option Shuffling : Yes Is Question Mandatory : No Option Orientation : Vertical**

**Correct Marks : 1 Wrong Marks : 0.25**

Select the word that is closest in meaning (SYNONYM) to the word given below.

ACUMEN

**Options :**

1. ✘ IGNORANCE
2. ✘ ELICITATION
3. ✘ MISINTERPRETATION
4. ✔ INGENUITY

**Question Number : 140 Question Id : 2752285769 Question Type : MCQ Option Shuffling : Yes Is Question Mandatory : No Option Orientation : Vertical**

**Correct Marks : 1 Wrong Marks : 0.25**

Select the word that is closest in meaning (SYNONYM) to the word given below.

ACUMEN

**Options :**

1. ✘ IGNORANCE
2. ✘ ELICITATION
3. ✘ MISINTERPRETATION
4. ✔ INGENUITY

## General English2

<b>Group Number :</b>	8
<b>Group Id :</b>	275228200
<b>Group Maximum Duration :</b>	0
<b>Group Minimum Duration :</b>	0
<b>Show Attended Group? :</b>	No
<b>Edit Attended Group? :</b>	No
<b>Break time :</b>	0
<b>Group Marks :</b>	20
<b>Is this Group for Examiner? :</b>	No

## General English2

<b>Section Id :</b>	275228302
<b>Section Number :</b>	1
<b>Section type :</b>	Online
<b>Mandatory or Optional :</b>	Mandatory
<b>Number of Questions :</b>	16
<b>Number of Questions to be attempted :</b>	16
<b>Section Marks :</b>	20
<b>Enable Mark as Answered Mark for Review and Clear Response :</b>	Yes
<b>Sub-Section Number :</b>	1
<b>Sub-Section Id :</b>	275228361
<b>Question Shuffling Allowed :</b>	Yes



**Question Number : 141 Question Id : 2752285770 Question Type : MCQ Option Shuffling : Yes Is Question Mandatory : No Option Orientation : Vertical**

**Correct Marks : 1 Wrong Marks : 0.25**

Select the word that is closest in meaning (SYNONYM) to the word given below.

CHURLISH

**Options :**

1. ✘ EXORBITANT
2. ✔ SULLEN
3. ✘ REFINED
4. ✘ RELIGIOUS

**Question Number : 141 Question Id : 2752285770 Question Type : MCQ Option Shuffling : Yes Is Question Mandatory : No Option Orientation : Vertical**

**Correct Marks : 1 Wrong Marks : 0.25**

Select the word that is closest in meaning (SYNONYM) to the word given below.

CHURLISH

**Options :**

1. ✘ EXORBITANT
2. ✔ SULLEN
3. ✘ REFINED
4. ✘ RELIGIOUS

**Question Number : 142 Question Id : 2752285771 Question Type : MCQ Option Shuffling : Yes Is Question Mandatory : No Option Orientation : Vertical**

**Correct Marks : 1 Wrong Marks : 0.25**

Select the word that is the opposite meaning (ANTONYM) to the word given below.

TEMPESTUOUS

**Options :**

1. ✔ APATHETIC

2. ✘ IMPASSIONED
3. ✘ FURIOUS
4. ✘ NEFARIOUS

**Question Number : 142 Question Id : 2752285771 Question Type : MCQ Option Shuffling : Yes Is Question Mandatory : No Option Orientation : Vertical**

**Correct Marks : 1 Wrong Marks : 0.25**

Select the word that is the opposite meaning (ANTONYM) to the word given below.

TEMPESTUOUS

**Options :**

1. ✔ APATHETIC
2. ✘ IMPASSIONED
3. ✘ FURIOUS
4. ✘ NEFARIOUS

**Question Number : 143 Question Id : 2752285772 Question Type : MCQ Option Shuffling : Yes Is Question Mandatory : No Option Orientation : Vertical**

**Correct Marks : 1 Wrong Marks : 0.25**

Four words are given, out of which only one word is spelt correctly. Choose the correctly spelt word.

**Options :**

1. ✔ BELVEDERE
2. ✘ BEVELDERE
3. ✘ BEVELDER
4. ✘ BELVEDER

**Question Number : 143 Question Id : 2752285772 Question Type : MCQ Option Shuffling : Yes Is Question Mandatory : No Option Orientation : Vertical**

**Correct Marks : 1 Wrong Marks : 0.25**

Four words are given, out of which only one word is spelt correctly. Choose the correctly spelt word.

**Options :**

1. ✔ BELVEDERE

2. ✘ BEVELDERE
3. ✘ BEVELDER
4. ✘ BELVEDER

**Question Number : 144 Question Id : 2752285773 Question Type : MCQ Option Shuffling : Yes Is Question Mandatory : No Option Orientation : Vertical**

**Correct Marks : 1 Wrong Marks : 0.25**

Four words are given, out of which only one word is spelt correctly. Choose the correctly spelt word.

**Options :**

1. ✘ IGNONIMINY
2. ✘ IGNOMINI
3. ✔ IGNOMINY
4. ✘ IGNONIMINI

**Question Number : 144 Question Id : 2752285773 Question Type : MCQ Option Shuffling : Yes Is Question Mandatory : No Option Orientation : Vertical**

**Correct Marks : 1 Wrong Marks : 0.25**

Four words are given, out of which only one word is spelt correctly. Choose the correctly spelt word.

**Options :**

1. ✘ IGNONIMINY
2. ✘ IGNOMINI
3. ✔ IGNOMINY
4. ✘ IGNONIMINI

**Question Number : 145 Question Id : 2752285774 Question Type : MCQ Option Shuffling : Yes Is Question Mandatory : No Option Orientation : Vertical**

**Correct Marks : 1 Wrong Marks : 0.25**

Four words are given, out of which only one word is spelt correctly. Choose the correctly spelt word.

**Options :**

1. ✘ NARCISISM
2. ✘ NARCICISSM
3. ✔ NARCISSISM

4. ✘ NARSICISM

**Question Number : 145 Question Id : 2752285774 Question Type : MCQ Option Shuffling : Yes Is Question Mandatory : No Option Orientation : Vertical**

**Correct Marks : 1 Wrong Marks : 0.25**

Four words are given, out of which only one word is spelt correctly. Choose the correctly spelt word.

**Options :**

1. ✘ NARCISISM
2. ✘ NARCICISSM
3. ✔ NARCISSISM
4. ✘ NARSICISM

**Question Number : 146 Question Id : 2752285775 Question Type : MCQ Option Shuffling : Yes Is Question Mandatory : No Option Orientation : Vertical**

**Correct Marks : 1 Wrong Marks : 0.25**

Four words are given, out of which only one word is spelt correctly. Choose the correctly spelt word.

**Options :**

1. ✘ CONCENSUS
2. ✘ CONSECUS
3. ✔ CONSENSUS
4. ✘ CONSENSES

**Question Number : 146 Question Id : 2752285775 Question Type : MCQ Option Shuffling : Yes Is Question Mandatory : No Option Orientation : Vertical**

**Correct Marks : 1 Wrong Marks : 0.25**

Four words are given, out of which only one word is spelt correctly. Choose the correctly spelt word.

**Options :**

1. ✘ CONCENSUS
2. ✘ CONSECUS
3. ✔ CONSENSUS
4. ✘ CONSENSES

**Question Number : 147 Question Id : 2752285776 Question Type : MCQ Option Shuffling : Yes Is Question Mandatory : No Option Orientation : Vertical**

**Correct Marks : 1 Wrong Marks : 0.25**

Four words are given, out of which only one word is spelt correctly. Choose the correctly spelt word.

**Options :**

1. ✘ GIMICKEY
2. ✔ GIMMICKY
3. ✘ GIMICKY
4. ✘ GIMMICKEY

**Question Number : 147 Question Id : 2752285776 Question Type : MCQ Option Shuffling : Yes Is Question Mandatory : No Option Orientation : Vertical**

**Correct Marks : 1 Wrong Marks : 0.25**

Four words are given, out of which only one word is spelt correctly. Choose the correctly spelt word.

**Options :**

1. ✘ GIMICKEY
2. ✔ GIMMICKY
3. ✘ GIMICKY
4. ✘ GIMMICKEY

**Question Number : 148 Question Id : 2752285777 Question Type : MCQ Option Shuffling : Yes Is Question Mandatory : No Option Orientation : Vertical**

**Correct Marks : 1 Wrong Marks : 0.25**

Select the most appropriate meaning of the given idiom.

“Head over heels”

**Options :**

1. ✘ In a precarious position.
2. ✘ Wrongly understanding something.
3. ✘ A stupid person or a person with low IQ.
4. ✔ Being completely in love.

**Question Number : 148 Question Id : 2752285777 Question Type : MCQ Option Shuffling : Yes Is Question Mandatory : No Option Orientation : Vertical**

**Correct Marks : 1 Wrong Marks : 0.25**

Select the most appropriate meaning of the given idiom.

“Head over heels”

**Options :**

1. ✘ In a precarious position.
2. ✘ Wrongly understanding something.
3. ✘ A stupid person or a person with low IQ.
4. ✔ Being completely in love.

**Question Number : 149 Question Id : 2752285778 Question Type : MCQ Option Shuffling : Yes Is Question Mandatory : No Option Orientation : Vertical**

**Correct Marks : 1 Wrong Marks : 0.25**

Select the most appropriate meaning of the given idiom.

“Back against the wall”

**Options :**

1. ✘ Being in an intimate position.
2. ✔ Be in a difficult situation from where escape is difficult.
3. ✘ To be forced into doing something wrong.
4. ✘ To run away from the truth.

**Question Number : 149 Question Id : 2752285778 Question Type : MCQ Option Shuffling : Yes Is Question Mandatory : No Option Orientation : Vertical**

**Correct Marks : 1 Wrong Marks : 0.25**

Select the most appropriate meaning of the given idiom.

“Back against the wall”

**Options :**

1. ✘ Being in an intimate position.
2. ✔ Be in a difficult situation from where escape is difficult.

3. ✘ To be forced into doing something wrong.
4. ✘ To run away from the truth.

**Question Number : 150 Question Id : 2752285779 Question Type : MCQ Option Shuffling : Yes Is Question Mandatory : No Option Orientation : Vertical**

**Correct Marks : 1 Wrong Marks : 0.25**

Select the most appropriate meaning of the given idiom.

“Stir up a hornets’ nest”

**Options :**

1. ✘ Cook a difficult recipe.
2. ✘ Tease a friend.
3. ✔ Provoke trouble.
4. ✘ Using foul or derogatory language.

**Question Number : 150 Question Id : 2752285779 Question Type : MCQ Option Shuffling : Yes Is Question Mandatory : No Option Orientation : Vertical**

**Correct Marks : 1 Wrong Marks : 0.25**

Select the most appropriate meaning of the given idiom.

“Stir up a hornets’ nest”

**Options :**

1. ✘ Cook a difficult recipe.
2. ✘ Tease a friend.
3. ✔ Provoke trouble.
4. ✘ Using foul or derogatory language.

**Question Number : 151 Question Id : 2752285780 Question Type : MCQ Option Shuffling : Yes Is Question Mandatory : No Option Orientation : Vertical**

**Correct Marks : 1 Wrong Marks : 0.25**

Select the most appropriate meaning of the given idiom.

“Bend over backwards”

**Options :**

1. ✓ To try to please or accommodate someone to an unusual degree.
2. ✗ To take a step back to avoid the situation.
3. ✗ Being very physically fit, active and agile.
4. ✗ Taking steps to simplify a situation or question.

**Question Number : 151 Question Id : 2752285780 Question Type : MCQ Option Shuffling : Yes Is Question Mandatory : No Option Orientation : Vertical**

**Correct Marks : 1 Wrong Marks : 0.25**

Select the most appropriate meaning of the given idiom.

“Bend over backwards”

**Options :**

1. ✓ To try to please or accommodate someone to an unusual degree.
2. ✗ To take a step back to avoid the situation.
3. ✗ Being very physically fit, active and agile.
4. ✗ Taking steps to simplify a situation or question.

**Question Number : 152 Question Id : 2752285781 Question Type : MCQ Option Shuffling : Yes Is Question Mandatory : No Option Orientation : Vertical**

**Correct Marks : 1 Wrong Marks : 0.25**

Select the most appropriate 'one word' for the expressions given below.

To impart or suggest in an artful or indirect way

**Options :**

1. ✗ Conceal
2. ✓ Insinuate
3. ✗ With draw
4. ✗ Withhold

**Question Number : 152 Question Id : 2752285781 Question Type : MCQ Option Shuffling : Yes Is Question Mandatory : No Option Orientation : Vertical**

**Correct Marks : 1 Wrong Marks : 0.25**



Select the most appropriate 'one word' for the expressions given below.

To impart or suggest in an artful or indirect way

**Options :**

1. ✘ Conceal
2. ✔ Insinuate
3. ✘ With draw
4. ✘ Withhold

**Question Number : 153 Question Id : 2752285782 Question Type : MCQ Option Shuffling : Yes Is Question Mandatory : No Option Orientation : Vertical**

**Correct Marks : 1 Wrong Marks : 0.25**

Select the most appropriate 'one word' for the expressions given below.

Extending or existing since beyond the reach of memory, record, or tradition.

**Options :**

1. ✔ Immemorial
2. ✘ Modern
3. ✘ Ambivalent
4. ✘ Amenable

**Question Number : 153 Question Id : 2752285782 Question Type : MCQ Option Shuffling : Yes Is Question Mandatory : No Option Orientation : Vertical**

**Correct Marks : 1 Wrong Marks : 0.25**

Select the most appropriate 'one word' for the expressions given below.

Extending or existing since beyond the reach of memory, record, or tradition.

**Options :**

1. ✔ Immemorial
2. ✘ Modern
3. ✘ Ambivalent
4. ✘ Amenable

**Question Number : 154 Question Id : 2752285783 Question Type : MCQ Option Shuffling : Yes Is Question Mandatory : No Option Orientation : Vertical**

**Correct Marks : 1 Wrong Marks : 0.25**

Select the most appropriate 'one word' for the expressions given below.

Something that cannot be denied or not open to question.

**Options :**

1. ✘ Disputed
2. ✘ Controvertible
3. ✔ Incontrovertible
4. ✘ Variable

**Question Number : 154 Question Id : 2752285783 Question Type : MCQ Option Shuffling : Yes Is Question Mandatory : No Option Orientation : Vertical**

**Correct Marks : 1 Wrong Marks : 0.25**

Select the most appropriate 'one word' for the expressions given below.

Something that cannot be denied or not open to question.

**Options :**

1. ✘ Disputed
2. ✘ Controvertible
3. ✔ Incontrovertible
4. ✘ Variable

**Question Number : 155 Question Id : 2752285784 Question Type : MCQ Option Shuffling : Yes Is Question Mandatory : No Option Orientation : Vertical**

**Correct Marks : 1 Wrong Marks : 0.25**

Select the most appropriate 'one word' for the expressions given below.

A small portion or limited quantity

**Options :**

1. ✘ Entirety
2. ✘ Munificent

3. ✘ Onerous

4. ✔ Modicum

**Question Number : 155 Question Id : 2752285784 Question Type : MCQ Option Shuffling : Yes Is Question Mandatory : No Option Orientation : Vertical**

**Correct Marks : 1 Wrong Marks : 0.25**

Select the most appropriate 'one word' for the expressions given below.

A small portion or limited quantity

**Options :**

1. ✘ Entirety

2. ✘ Munificent

3. ✘ Onerous

4. ✔ Modicum

**Sub-Section Number :**

2

**Sub-Section Id :**

275228362

**Question Shuffling Allowed :**

Yes

**Question Id : 2752285785 Question Type : COMPREHENSION Sub Question Shuffling Allowed : Yes Group Comprehension Questions : No**

**Question Numbers : (156 to 160)**

Read the following information carefully and answer the given questions.

The origins of asceticism lie in man's attempts to achieve various ultimate goals or ideals: development of the "whole" person, human creativity, ideas, the "self," or skills demanding technical proficiency. Among the ancient Greeks, athletes preparing for physical contests disciplined their bodies by abstaining from various normal pleasures and by enduring difficult physical tests. As values other than those concerned with physical proficiency were developed, the concept expressed by asceticism and its cognates was applied to other ideals—e.g., mental facility, moral vitality, and spiritual ability.

Plato believed that it is necessary to suppress bodily desires so that the soul can be free to search for knowledge. The Stoics, among whom asceticism was primarily a discipline to achieve control over the promptings of the emotions, upheld the dignity of human nature and the wise man's necessary imperturbability, which they believed would become possible through the suppression of the affective, or appetitive, part of man. In all strictly ascetic movements, celibacy has been regarded as the first commandment. Celibates emerged among the earliest Christian communities and came to occupy a prominent status. Among the earliest Mesopotamian Christian communities, only the celibates were accepted as full members of the church, and in some religions only celibates have been permitted to be priests. Abstinence and fasting are by far the most common of all ascetic practices. Personal hygiene also fell under condemnation among ascetics. Psychological forms of asceticism have also

been developed. A technique of pain-causing introspection was used by Buddhist ascetics in connection with their practices for meditation.

### Sub questions

**Question Number : 156 Question Id : 2752285786 Question Type : MCQ Option Shuffling : Yes Is Question Mandatory : No Option Orientation : Vertical**

**Correct Marks : 1 Wrong Marks : 0.25**

When asceticism originated, it was used by ancient Greeks for:

**Options :**

1. ✘ Connecting to god on a spiritual level.
2. ✔ Preparing for physical contests.
3. ✘ Gaining political stability in the society.
4. ✘ Improving relations with partners.

**Question Number : 157 Question Id : 2752285787 Question Type : MCQ Option Shuffling : Yes Is Question Mandatory : No Option Orientation : Vertical**

**Correct Marks : 1 Wrong Marks : 0.25**

In the past the concept of asceticism have not been applied to:

**Options :**

1. ✘ Mental facility.
2. ✘ Moral vitality.
3. ✔ Devotional agility.
4. ✘ Spiritual ability.

**Question Number : 158 Question Id : 2752285788 Question Type : MCQ Option Shuffling : Yes Is Question Mandatory : No Option Orientation : Vertical**

**Correct Marks : 1 Wrong Marks : 0.25**

Stoic means a person who can endure pain or hardships without showing their feelings or complaining; Stoicism is a school of Hellenistic philosophy which was founded by Zeno of Citium, in Athens; Which of the following was not taught to students in Stoicism?

**Options :**

1. ✔ To be acutely sensitive to emotional disturbance.
2. ✘ Achieve control over the promptings of the emotions.
3. ✘ Suppression of the affective, or appetitive, part of man.

4. ✘ Being imperturbable using asceticism.

**Question Number : 159 Question Id : 2752285789 Question Type : MCQ Option Shuffling : Yes Is Question Mandatory : No Option Orientation : Vertical**

**Correct Marks : 1 Wrong Marks : 0.25**

What is the meaning of the word 'celibate' as derived from the passage?

**Options :**

1. ✘ A person who can stay without eating or drinking for long durations.
2. ✘ A person who has a lot of respect amongst the people of his community.
3. ✘ A person who does not believe in humanity.
4. ✔ A person who abstains from marriage and sexual relations.

**Question Number : 160 Question Id : 2752285790 Question Type : MCQ Option Shuffling : Yes Is Question Mandatory : No Option Orientation : Vertical**

**Correct Marks : 1 Wrong Marks : 0.25**

Which of the following is not an ascetic practice as given in the passage?

**Options :**

1. ✘ Not maintaining personal hygiene and reduction in movement.
2. ✔ Offering a sacrifice to the almighty to develop a connection.
3. ✘ Abstinence and fasting.
4. ✘ Pain causing introspection as part of meditation.

**Question Id : 2752285785 Question Type : COMPREHENSION Sub Question Shuffling Allowed : Yes Group Comprehension Questions : No**

**Question Numbers : (156 to 160)**

Read the following information carefully and answer the given questions.

The origins of asceticism lie in man's attempts to achieve various ultimate goals or ideals: development of the "whole" person, human creativity, ideas, the "self," or skills demanding technical proficiency. Among the ancient Greeks, athletes preparing for physical contests disciplined their bodies by abstaining from various normal pleasures and by enduring difficult physical tests. As values other than those concerned with physical proficiency were developed, the concept expressed by asceticism and its cognates was applied to other ideals—e.g., mental facility, moral vitality, and spiritual ability.

Plato believed that it is necessary to suppress bodily desires so that the soul can be free to search for knowledge. The Stoics, among whom asceticism was primarily a discipline to achieve control over the promptings of the emotions, upheld the dignity of human nature and the wise

man's necessary imperturbability, which they believed would become possible through the suppression of the affective, or appetitive, part of man. In all strictly ascetic movements, celibacy has been regarded as the first commandment. Celibates emerged among the earliest Christian communities and came to occupy a prominent status. Among the earliest Mesopotamian Christian communities, only the celibates were accepted as full members of the church, and in some religions only celibates have been permitted to be priests. Abstinence and fasting are by far the most common of all ascetic practices. Personal hygiene also fell under condemnation among ascetics. Psychological forms of asceticism have also been developed. A technique of pain-causing introspection was used by Buddhist ascetics in connection with their practices for meditation.

### Sub questions

**Question Number : 156 Question Id : 2752285786 Question Type : MCQ Option Shuffling : Yes Is Question Mandatory : No Option Orientation : Vertical**

**Correct Marks : 1 Wrong Marks : 0.25**

When asceticism originated, it was used by ancient Greeks for:

**Options :**

1. ✘ Connecting to god on a spiritual level.
2. ✔ Preparing for physical contests.
3. ✘ Gaining political stability in the society.
4. ✘ Improving relations with partners.

**Question Number : 157 Question Id : 2752285787 Question Type : MCQ Option Shuffling : Yes Is Question Mandatory : No Option Orientation : Vertical**

**Correct Marks : 1 Wrong Marks : 0.25**

In the past the concept of asceticism have not been applied to:

**Options :**

1. ✘ Mental facility.
2. ✘ Moral vitality.
3. ✔ Devotional agility.
4. ✘ Spiritual ability.

**Question Number : 158 Question Id : 2752285788 Question Type : MCQ Option Shuffling : Yes Is Question Mandatory : No Option Orientation : Vertical**

**Correct Marks : 1 Wrong Marks : 0.25**

Stoic means a person who can endure pain or hardships without showing their feelings or complaining; Stoicism is a school of Hellenistic philosophy which was founded by Zeno of Citium, in Athens; Which of the following was not taught to students in Stoicism?

**Options :**

1. ✓ To be acutely sensitive to emotional disturbance.
2. ✗ Achieve control over the promptings of the emotions.
3. ✗ Suppression of the affective, or appetitive, part of man.
4. ✗ Being imperturbable using asceticism.

**Question Number : 159 Question Id : 2752285789 Question Type : MCQ Option Shuffling : Yes Is Question Mandatory : No Option Orientation : Vertical**

**Correct Marks : 1 Wrong Marks : 0.25**

What is the meaning of the word 'celibate' as derived from the passage?

**Options :**

1. ✗ A person who can stay without eating or drinking for long durations.
2. ✗ A person who has a lot of respect amongst the people of his community.
3. ✗ A person who does not believe in humanity.
4. ✓ A person who abstains from marriage and sexual relations.

**Question Number : 160 Question Id : 2752285790 Question Type : MCQ Option Shuffling : Yes Is Question Mandatory : No Option Orientation : Vertical**

**Correct Marks : 1 Wrong Marks : 0.25**

Which of the following is not an ascetic practice as given in the passage?

**Options :**

1. ✗ Not maintaining personal hygiene and reduction in movement.
2. ✓ Offering a sacrifice to the almighty to develop a connection.
3. ✗ Abstinence and fasting.
4. ✗ Pain causing introspection as part of meditation.

## General Hindi1

<b>Group Number :</b>	9
<b>Group Id :</b>	275228201
<b>Group Maximum Duration :</b>	0
<b>Group Minimum Duration :</b>	0

Show Attended Group? :	No
Edit Attended Group? :	No
Break time :	0
Group Marks :	20
Is this Group for Examiner? :	No

## General Hindi1

Section Id :	275228303
Section Number :	1
Section type :	Online
Mandatory or Optional :	Mandatory
Number of Questions :	20
Number of Questions to be attempted :	20
Section Marks :	20
Enable Mark as Answered Mark for Review and Clear Response :	Yes
Sub-Section Number :	1
Sub-Section Id :	275228363
Question Shuffling Allowed :	Yes

Question Number : 161 Question Id : 2752285791 Question Type : MCQ Option Shuffling : Yes Is Question Mandatory : No Option Orientation : Vertical

Correct Marks : 1 Wrong Marks : 0.25

निम्नलिखित प्रश्न में, चार विकल्पों में से, उस विकल्प का चयन करें जो क्रिया के भेद वाला सही विकल्प हो।

तुम घर चले जाओ।

Options :

1. ✘ पूर्वकालिक क्रिया
2. ✘ प्रेरणार्थक क्रिया
3. ✘ नामधातु क्रिया
4. ✔ संयुक्त क्रिया



**Question Number : 161 Question Id : 2752285791 Question Type : MCQ Option Shuffling : Yes Is Question Mandatory : No Option Orientation : Vertical**

**Correct Marks : 1 Wrong Marks : 0.25**

निम्नलिखित प्रश्न में, चार विकल्पों में से, उस विकल्प का चयन करें जो क्रिया के भेद वाला सही विकल्प हो।

तुम घर चले जाओ।

**Options :**

1. ✘ पूर्वकालिक क्रिया
2. ✘ प्रेरणार्थक क्रिया
3. ✘ नामधातु क्रिया
4. ✔ संयुक्त क्रिया

**Question Number : 162 Question Id : 2752285792 Question Type : MCQ Option Shuffling : Yes Is Question Mandatory : No Option Orientation : Vertical**

**Correct Marks : 1 Wrong Marks : 0.25**

निम्नलिखित प्रश्न में, चार विकल्पों में से, उस विकल्प का चयन करें जो कोष्ठक में दिए गए शब्द के अनुसार दिए गए वाक्य के लिए अव्यय के भेद का सही विकल्प हो।

वह (लगभग) साढ़े बारह बजे आया था।

**Options :**

1. ✔ निपात
2. ✘ समुच्चयबोधक अव्यय
3. ✘ विस्मयादिबोधक अव्यय
4. ✘ संबंधबोधक अव्यय

**Question Number : 162 Question Id : 2752285792 Question Type : MCQ Option Shuffling : Yes Is Question Mandatory : No Option Orientation : Vertical**

**Correct Marks : 1 Wrong Marks : 0.25**

निम्नलिखित प्रश्न में, चार विकल्पों में से, उस विकल्प का चयन करें जो कोष्ठक में दिए गए शब्द के अनुसार दिए गए वाक्य के लिए अव्यय के भेद का सही विकल्प हो।

वह (लगभग) साढ़े बारह बजे आया था।

**Options :**

1. ✓ निपात
2. ✘ समुच्चयबोधक अव्यय
3. ✘ विस्मयादिबोधक अव्यय
4. ✘ संबंधबोधक अव्यय

**Question Number : 163 Question Id : 2752285793 Question Type : MCQ Option Shuffling : Yes Is Question Mandatory : No Option Orientation : Vertical**

**Correct Marks : 1 Wrong Marks : 0.25**

निम्नलिखित प्रश्न में, चार विकल्पों में से, उस विकल्प का चयन करें जो भाववाचक संज्ञा का सही विकल्प नहीं है।

**Options :**

1. ✘ घबराहट
2. ✓ ढोना
3. ✘ बिक्री
4. ✘ जागरण

**Question Number : 163 Question Id : 2752285793 Question Type : MCQ Option Shuffling : Yes Is Question Mandatory : No Option Orientation : Vertical**

**Correct Marks : 1 Wrong Marks : 0.25**

निम्नलिखित प्रश्न में, चार विकल्पों में से, उस विकल्प का चयन करें जो भाववाचक संज्ञा का सही विकल्प नहीं है।

**Options :**

1. ✘ घबराहट
2. ✓ ढोना
3. ✘ बिक्री
4. ✘ जागरण

**Question Number : 164 Question Id : 2752285794 Question Type : MCQ Option Shuffling : Yes Is Question Mandatory : No Option Orientation : Vertical**

**Correct Marks : 1 Wrong Marks : 0.25**

निम्नलिखित प्रश्न में, चार विकल्पों में से, उस विकल्प का चयन करें जो कोष्ठक में दिए गए शब्द के अनुसार सर्वनाम के भेद का सही विकल्प हो।

(कोई) यहाँ आया था।

**Options :**

1. ✘ निजवाचक
2. ✘ निश्चयवाचक
3. ✘ प्रश्नवाचक
4. ✔ अनिश्चयवाचक

**Question Number : 164 Question Id : 2752285794 Question Type : MCQ Option Shuffling : Yes Is Question Mandatory : No Option Orientation : Vertical**

**Correct Marks : 1 Wrong Marks : 0.25**

निम्नलिखित प्रश्न में, चार विकल्पों में से, उस विकल्प का चयन करें जो कोष्ठक में दिए गए शब्द के अनुसार सर्वनाम के भेद का सही विकल्प हो।

(कोई) यहाँ आया था।

**Options :**

1. ✘ निजवाचक
2. ✘ निश्चयवाचक
3. ✘ प्रश्नवाचक
4. ✔ अनिश्चयवाचक

**Question Number : 165 Question Id : 2752285795 Question Type : MCQ Option Shuffling : Yes Is Question Mandatory : No Option Orientation : Vertical**

**Correct Marks : 1 Wrong Marks : 0.25**

निम्नलिखित प्रश्न में, चार विकल्पों में से, उस विकल्प का चयन करें जो विशेषण के भेद वाला विकल्प हो।

मेरी पुस्तक गायब हो गई।

**Options :**

1. ✔ सार्वनामिक
2. ✘ अनिश्चित परिमाण वाचक
3. ✘ निश्चित संख्यावाचक
4. ✘ गुणवाचक

**Question Number : 165 Question Id : 2752285795 Question Type : MCQ Option Shuffling : Yes Is Question Mandatory : No Option Orientation : Vertical**

**Correct Marks : 1 Wrong Marks : 0.25**

निम्नलिखित प्रश्न में, चार विकल्पों में से, उस विकल्प का चयन करें जो विशेषण के भेद वाला विकल्प हो।

मेरी पुस्तक गायब हो गई।

**Options :**

1. ✓ सार्वनामिक
2. ✗ अनिश्चित परिमाण वाचक
3. ✗ निश्चित संख्यावाचक
4. ✗ गुणवाचक

**Question Number : 166 Question Id : 2752285796 Question Type : MCQ Option Shuffling : Yes Is Question Mandatory : No Option Orientation : Vertical**

**Correct Marks : 1 Wrong Marks : 0.25**

निम्नलिखित प्रश्न में, चार विकल्पों में से, उस विकल्प का चयन करें जो देशज शब्द का सही विकल्प हो।

**Options :**

1. ✗ खबर
2. ✗ कैची
3. ✓ झुगगी
4. ✗ अचार

**Question Number : 166 Question Id : 2752285796 Question Type : MCQ Option Shuffling : Yes Is Question Mandatory : No Option Orientation : Vertical**

**Correct Marks : 1 Wrong Marks : 0.25**

निम्नलिखित प्रश्न में, चार विकल्पों में से, उस विकल्प का चयन करें जो देशज शब्द का सही विकल्प हो।

**Options :**

1. ✗ खबर
2. ✗ कैची
3. ✓ झुगगी
4. ✗ अचार

**Question Number : 167 Question Id : 2752285797 Question Type : MCQ Option Shuffling : Yes Is Question Mandatory : No Option**

**Orientation : Vertical**

**Correct Marks : 1 Wrong Marks : 0.25**

निम्नलिखित प्रश्न में, चार विकल्पों में से, उस विकल्प का चयन करें जो दिए गए शब्द के लिए सही तत्पुरुष समास के विग्रह का विकल्प हो।

परिक्षोपयोगी

**Options :**

1. ✘ परीक्षा और उपयोग
2. ✘ परीक्षा का उपयोग
3. ✘ परीक्षा से उपयोग
4. ✔ परीक्षा के लिए उपयोगी

**Question Number : 167 Question Id : 2752285797 Question Type : MCQ Option Shuffling : Yes Is Question Mandatory : No Option**

**Orientation : Vertical**

**Correct Marks : 1 Wrong Marks : 0.25**

निम्नलिखित प्रश्न में, चार विकल्पों में से, उस विकल्प का चयन करें जो दिए गए शब्द के लिए सही तत्पुरुष समास के विग्रह का विकल्प हो।

परिक्षोपयोगी

**Options :**

1. ✘ परीक्षा और उपयोग
2. ✘ परीक्षा का उपयोग
3. ✘ परीक्षा से उपयोग
4. ✔ परीक्षा के लिए उपयोगी

**Question Number : 168 Question Id : 2752285798 Question Type : MCQ Option Shuffling : Yes Is Question Mandatory : No Option**

**Orientation : Vertical**

**Correct Marks : 1 Wrong Marks : 0.25**

निम्नलिखित प्रश्न में, चार विकल्पों में से, उस विकल्प का चयन करें जो दिए गए शब्द का तत्सम रूप हो।

हृदय

**Options :**

1. ✘ हारि
2. ✘ खार

3. ✘ हाट

4. ✔ हिया

**Question Number : 168 Question Id : 2752285798 Question Type : MCQ Option Shuffling : Yes Is Question Mandatory : No Option Orientation : Vertical**

**Correct Marks : 1 Wrong Marks : 0.25**

निम्नलिखित प्रश्न में, चार विकल्पों में से, उस विकल्प का चयन करें जो दिए गए शब्द का तत्सम रूप हो।

हृदय

**Options :**

1. ✘ हारि

2. ✘ खार

3. ✘ हाट

4. ✔ हिया

**Question Number : 169 Question Id : 2752285799 Question Type : MCQ Option Shuffling : Yes Is Question Mandatory : No Option Orientation : Vertical**

**Correct Marks : 1 Wrong Marks : 0.25**

निम्नलिखित प्रश्न में, चार विकल्पों में से, उस विकल्प का चयन करें जो दिए गए शब्द के पर्यायवाची शब्द का सही विकल्प नहीं है।

फरेब

**Options :**

1. ✘ छल

2. ✘ प्रवंचना

3. ✔ ब्याल

4. ✘ कपट

**Question Number : 169 Question Id : 2752285799 Question Type : MCQ Option Shuffling : Yes Is Question Mandatory : No Option Orientation : Vertical**

**Correct Marks : 1 Wrong Marks : 0.25**

निम्नलिखित प्रश्न में, चार विकल्पों में से, उस विकल्प का चयन करें जो दिए गए शब्द के पर्यायवाची शब्द का सही विकल्प नहीं है।

फरेब

**Options :**

1. ✘ छल
2. ✘ प्रवचना
3. ✔ व्याल
4. ✘ कपट

**Question Number : 170 Question Id : 2752285800 Question Type : MCQ Option Shuffling : Yes Is Question Mandatory : No Option Orientation : Vertical**

**Correct Marks : 1 Wrong Marks : 0.25**

निम्नलिखित प्रश्न में, चार विकल्पों में से, उस विकल्प का चयन करें जो विलोम शब्द का सबसे अच्छा विकल्प है।

समास

**Options :**

1. ✘ सम्पद
2. ✔ व्यास
3. ✘ विपद
4. ✘ शोषण

**Question Number : 170 Question Id : 2752285800 Question Type : MCQ Option Shuffling : Yes Is Question Mandatory : No Option Orientation : Vertical**

**Correct Marks : 1 Wrong Marks : 0.25**

निम्नलिखित प्रश्न में, चार विकल्पों में से, उस विकल्प का चयन करें जो विलोम शब्द का सबसे अच्छा विकल्प है।

समास

**Options :**

1. ✘ सम्पद
2. ✔ व्यास
3. ✘ विपद
4. ✘ शोषण

**Question Number : 171 Question Id : 2752285801 Question Type : MCQ Option Shuffling : Yes Is Question Mandatory : No Option Orientation : Vertical**

**Correct Marks : 1 Wrong Marks : 0.25**

निम्नलिखित प्रश्न में, चार विकल्पों में से, उस सही विकल्प का चयन करें जो वाक्यांशों के लिए एक शब्द का विकल्प हो।

दूसरे के अन्न पर जीने वाला

**Options :**

1. ✘ अपव्ययी
2. ✘ पराश्रित
3. ✔ परान्नभोगी
4. ✘ पारित

**Question Number : 171 Question Id : 2752285801 Question Type : MCQ Option Shuffling : Yes Is Question Mandatory : No Option Orientation : Vertical**

**Correct Marks : 1 Wrong Marks : 0.25**

निम्नलिखित प्रश्न में, चार विकल्पों में से, उस सही विकल्प का चयन करें जो वाक्यांशों के लिए एक शब्द का विकल्प हो।

दूसरे के अन्न पर जीने वाला

**Options :**

1. ✘ अपव्ययी
2. ✘ पराश्रित
3. ✔ परान्नभोगी
4. ✘ पारित

**Question Number : 172 Question Id : 2752285802 Question Type : MCQ Option Shuffling : Yes Is Question Mandatory : No Option Orientation : Vertical**

**Correct Marks : 1 Wrong Marks : 0.25**

निम्नलिखित प्रश्न में, चार विकल्पों में से, उस सही विकल्प का चयन करें जो दिए गए शब्द के सही अर्थ का उचित विकल्प हो।

अवसान

**Options :**

1. ✔ समाप्ति



2. ✖ आसान
3. ✖ सरल
4. ✖ कठिनाई

**Question Number : 172 Question Id : 2752285802 Question Type : MCQ Option Shuffling : Yes Is Question Mandatory : No Option Orientation : Vertical**

**Correct Marks : 1 Wrong Marks : 0.25**

निम्नलिखित प्रश्न में, चार विकल्पों में से, उस सही विकल्प का चयन करें जो दिए गए शब्द के सही अर्थ का उचित विकल्प हो।

अवसान

**Options :**

1. ✔ समाप्ति
2. ✖ आसान
3. ✖ सरल
4. ✖ कठिनाई

**Question Number : 173 Question Id : 2752285803 Question Type : MCQ Option Shuffling : Yes Is Question Mandatory : No Option Orientation : Vertical**

**Correct Marks : 1 Wrong Marks : 0.25**

निम्नलिखित प्रश्न में, चार विकल्पों में से, उस सही विकल्प का चयन करें जो रिक्त स्थान के लिए उपयुक्त शब्द का सही विकल्प है।

जयंत के \_\_\_\_\_ में जगदीश जैसा पुत्र नहीं हुआ।

**Options :**

1. ✖ कूल
2. ✔ कुल
3. ✖ कर्म
4. ✖ सर्व

**Question Number : 173 Question Id : 2752285803 Question Type : MCQ Option Shuffling : Yes Is Question Mandatory : No Option Orientation : Vertical**

**Correct Marks : 1 Wrong Marks : 0.25**

निम्नलिखित प्रश्न में, चार विकल्पों में से, उस सही विकल्प का चयन करें जो रिक्त स्थान के लिए उपयुक्त शब्द का सही विकल्प है।

जयंत के \_\_\_\_\_ में जगदीश जैसा पुत्र नहीं हुआ।

**Options :**

1. ✘ कूल
2. ✔ कुल
3. ✘ कर्म
4. ✘ सर्व

**Question Number : 174 Question Id : 2752285804 Question Type : MCQ Option Shuffling : Yes Is Question Mandatory : No Option Orientation : Vertical**

**Correct Marks : 1 Wrong Marks : 0.25**

निम्नलिखित प्रश्न में, चार विकल्पों में से, उस विकल्प का चयन करें जो शुद्ध शब्द का सही विकल्प है।

**Options :**

1. ✘ अष्ठानयोग
2. ✘ अष्टगयोग
3. ✔ अष्टांगयोग
4. ✘ अष्टांगयोग्य

**Question Number : 174 Question Id : 2752285804 Question Type : MCQ Option Shuffling : Yes Is Question Mandatory : No Option Orientation : Vertical**

**Correct Marks : 1 Wrong Marks : 0.25**

निम्नलिखित प्रश्न में, चार विकल्पों में से, उस विकल्प का चयन करें जो शुद्ध शब्द का सही विकल्प है।

**Options :**

1. ✘ अष्ठानयोग
2. ✘ अष्टगयोग
3. ✔ अष्टांगयोग
4. ✘ अष्टांगयोग्य

**Question Number : 175 Question Id : 2752285805 Question Type : MCQ Option Shuffling : Yes Is Question Mandatory : No Option Orientation : Vertical**

**Correct Marks : 1 Wrong Marks : 0.25**

निम्नलिखित प्रश्न में, चार विकल्पों में से, उस विकल्प का चयन करें जो शुद्ध शब्द का सही विकल्प है।

**Options :**

1. ✓ आवंटन
2. ✗ आवन्थान
3. ✗ आवांठन
4. ✗ आबंटन

**Question Number : 175 Question Id : 2752285805 Question Type : MCQ Option Shuffling : Yes Is Question Mandatory : No Option Orientation : Vertical**

**Correct Marks : 1 Wrong Marks : 0.25**

निम्नलिखित प्रश्न में, चार विकल्पों में से, उस विकल्प का चयन करें जो शुद्ध शब्द का सही विकल्प है।

**Options :**

1. ✓ आवंटन
2. ✗ आवन्थान
3. ✗ आवांठन
4. ✗ आबंटन

**Question Number : 176 Question Id : 2752285806 Question Type : MCQ Option Shuffling : Yes Is Question Mandatory : No Option Orientation : Vertical**

**Correct Marks : 1 Wrong Marks : 0.25**

निम्नलिखित प्रश्न में, चार विकल्पों में से, उस विकल्प का चयन करें जो दिए गए शब्द के समानार्थी शब्द का विकल्प नहीं है।

भ्रू

**Options :**

1. ✗ भृकुटी
2. ✓ खंड
3. ✗ त्यौरी
4. ✗ भौह

**Question Number : 176 Question Id : 2752285806 Question Type : MCQ Option Shuffling : Yes Is Question Mandatory : No Option Orientation : Vertical**

**Correct Marks : 1 Wrong Marks : 0.25**

निम्नलिखित प्रश्न में, चार विकल्पों में से, उस विकल्प का चयन करें जो दिए गए शब्द के समानार्थी शब्द का विकल्प नहीं है।

भू

**Options :**

1. ✘ भृकुटी
2. ✔ खंड
3. ✘ त्यौरी
4. ✘ भौह

**Question Number : 177 Question Id : 2752285807 Question Type : MCQ Option Shuffling : Yes Is Question Mandatory : No Option Orientation : Vertical**

**Correct Marks : 1 Wrong Marks : 0.25**

निम्नलिखित प्रश्न में, चार विकल्पों में से, उस सही विकल्प का चयन करें जो दिए गए शब्द-युग्म के अर्थ का सही विकल्प हो।

द्विप और द्वीप

**Options :**

1. ✘ दूसरा और टापू
2. ✘ हाथी और भाग्य
3. ✘ रस और टापू
4. ✔ हाथी और टापू

**Question Number : 177 Question Id : 2752285807 Question Type : MCQ Option Shuffling : Yes Is Question Mandatory : No Option Orientation : Vertical**

**Correct Marks : 1 Wrong Marks : 0.25**

निम्नलिखित प्रश्न में, चार विकल्पों में से, उस सही विकल्प का चयन करें जो दिए गए शब्द-युग्म के अर्थ का सही विकल्प हो।

द्विप और द्वीप

**Options :**

1. ✘ दूसरा और टापू
2. ✘ हाथी और भाग्य
3. ✘ रस और टापू

4. ✓ हाथी और टापू

**Question Number : 178 Question Id : 2752285808 Question Type : MCQ Option Shuffling : Yes Is Question Mandatory : No Option Orientation : Vertical**

**Correct Marks : 1 Wrong Marks : 0.25**

निम्नलिखित प्रश्न में, चार विकल्पों में से, उस विकल्प का चयन करें जो सदैव स्त्रीलिंग रूप वाला विकल्प है।

**Options :**

1. ✘ आँसू
2. ✘ गजब
3. ✓ आस्तीन
4. ✘ जीव

**Question Number : 178 Question Id : 2752285808 Question Type : MCQ Option Shuffling : Yes Is Question Mandatory : No Option Orientation : Vertical**

**Correct Marks : 1 Wrong Marks : 0.25**

निम्नलिखित प्रश्न में, चार विकल्पों में से, उस विकल्प का चयन करें जो सदैव स्त्रीलिंग रूप वाला विकल्प है।

**Options :**

1. ✘ आँसू
2. ✘ गजब
3. ✓ आस्तीन
4. ✘ जीव

**Question Number : 179 Question Id : 2752285809 Question Type : MCQ Option Shuffling : Yes Is Question Mandatory : No Option Orientation : Vertical**

**Correct Marks : 1 Wrong Marks : 0.25**

निम्नलिखित प्रश्न में, चार विकल्पों में से, उस विकल्प का चयन करें जो सदैव बहुवचन शब्द का सबसे अच्छा विकल्प है।

**Options :**

1. ✘ चीनी
2. ✓ ओठ

3. ✖ तेल
4. ✖ प्रत्येक

**Question Number : 179 Question Id : 2752285809 Question Type : MCQ Option Shuffling : Yes Is Question Mandatory : No Option Orientation : Vertical**

**Correct Marks : 1 Wrong Marks : 0.25**

निम्नलिखित प्रश्न में, चार विकल्पों में से, उस विकल्प का चयन करें जो सदैव बहुवचन शब्द का सबसे अच्छा विकल्प है।

**Options :**

1. ✖ चीनी
2. ✔ ओठ
3. ✖ तेल
4. ✖ प्रत्येक

**Question Number : 180 Question Id : 2752285810 Question Type : MCQ Option Shuffling : Yes Is Question Mandatory : No Option Orientation : Vertical**

**Correct Marks : 1 Wrong Marks : 0.25**

निम्नलिखित प्रश्न में, चार विकल्पों में से, उस विकल्प का चयन करें जो कोष्ठक में दिए गए शब्द के अनुसार अन्य पुरुष वाचक सर्वनाम का सबसे अच्छा विकल्प है।

**Options :**

1. ✔ (इनका) कहना कभी गलत नहीं हो सकता है।
2. ✖ (आपने) तो मेरी चिंता दूर कर दी।
3. ✖ (मैं) बहुत थक गया हूँ।
4. ✖ (तुम) जल्दी दुकान पर जाओ।

**Question Number : 180 Question Id : 2752285810 Question Type : MCQ Option Shuffling : Yes Is Question Mandatory : No Option Orientation : Vertical**

**Correct Marks : 1 Wrong Marks : 0.25**

निम्नलिखित प्रश्न में, चार विकल्पों में से, उस विकल्प का चयन करें जो कोष्ठक में दिए गए शब्द के अनुसार अन्य पुरुष वाचक सर्वनाम का सबसे अच्छा विकल्प है।

**Options :**

1. ✔ (इनका) कहना कभी गलत नहीं हो सकता है।

2. ✖ (आपने) तो मेरी चिंता दूर कर दी।
3. ✖ (मैं) बहुत थक गया हूँ।
4. ✖ (तुम) जल्दी दुकान पर जाओ।

## General Hindi2

Group Number :	10
Group Id :	275228202
Group Maximum Duration :	0
Group Minimum Duration :	120
Show Attended Group? :	No
Edit Attended Group? :	No
Break time :	0
Group Marks :	20
Is this Group for Examiner? :	No

## General Hindi2

Section Id :	275228304
Section Number :	1
Section type :	Online
Mandatory or Optional :	Mandatory
Number of Questions :	16
Number of Questions to be attempted :	16
Section Marks :	20
Enable Mark as Answered Mark for Review and Clear Response :	Yes
Sub-Section Number :	1
Sub-Section Id :	275228364
Question Shuffling Allowed :	Yes

Question Number : 181 Question Id : 2752285811 Question Type : MCQ Option Shuffling : Yes Is Question Mandatory : No Option Orientation : Vertical

**Correct Marks : 1 Wrong Marks : 0.25**

निम्नलिखित प्रश्न में, चार विकल्पों में से, उस विकल्प का चयन करें जो दिए गए वाक्य के काल का सही विकल्प हो।

शायद कल दुकानें खुल जाए।

**Options :**

1. ✘ संभाव्य वर्तमानकाल
2. ✔ संभाव्य भविष्यकाल
3. ✘ सामान्य भविष्यकाल
4. ✘ आसन्न भूतकाल

**Question Number : 181 Question Id : 2752285811 Question Type : MCQ Option Shuffling : Yes Is Question Mandatory : No Option Orientation : Vertical**

**Correct Marks : 1 Wrong Marks : 0.25**

निम्नलिखित प्रश्न में, चार विकल्पों में से, उस विकल्प का चयन करें जो दिए गए वाक्य के काल का सही विकल्प हो।

शायद कल दुकानें खुल जाए।

**Options :**

1. ✘ संभाव्य वर्तमानकाल
2. ✔ संभाव्य भविष्यकाल
3. ✘ सामान्य भविष्यकाल
4. ✘ आसन्न भूतकाल

**Question Number : 182 Question Id : 2752285812 Question Type : MCQ Option Shuffling : Yes Is Question Mandatory : No Option Orientation : Vertical**

**Correct Marks : 1 Wrong Marks : 0.25**

निम्नलिखित प्रश्न में, चार विकल्पों में से, उस विकल्प का चयन करें जो दिए गए वाक्य के लिए वृत्ति के भेद का सबसे अच्छा विकल्प है।

अगर बारिश हो जाए तो खेतों को पानी मिल जाता।

**Options :**

1. ✔ संकेतार्थ
2. ✘ निश्चयार्थ
3. ✘ संभावनार्थ



4. ✖ विध्यर्थ

**Question Number : 182 Question Id : 2752285812 Question Type : MCQ Option Shuffling : Yes Is Question Mandatory : No Option Orientation : Vertical**

**Correct Marks : 1 Wrong Marks : 0.25**

निम्नलिखित प्रश्न में, चार विकल्पों में से, उस विकल्प का चयन करें जो दिए गए वाक्य के लिए वृत्ति के भेद का सबसे अच्छा विकल्प है।

अगर बारिश हो जाए तो खेतों को पानी मिल जाता।

**Options :**

1. ✓ संकेतार्थ
2. ✖ निश्चयार्थ
3. ✖ संभावनार्थ
4. ✖ विध्यर्थ

**Question Number : 183 Question Id : 2752285813 Question Type : MCQ Option Shuffling : Yes Is Question Mandatory : No Option Orientation : Vertical**

**Correct Marks : 1 Wrong Marks : 0.25**

निम्नलिखित प्रश्न में, चार विकल्पों में से, उस विकल्प का चयन करें जो दिए गए वाक्य के लिए पक्ष के भेद का सबसे अच्छा विकल्प है।

अब काम अच्छा चलने लगा है!

**Options :**

1. ✖ सातप्यबोधक
2. ✖ नित्यताद्योतक
3. ✖ पूर्णताद्योतक
4. ✓ आरंभद्योतक

**Question Number : 183 Question Id : 2752285813 Question Type : MCQ Option Shuffling : Yes Is Question Mandatory : No Option Orientation : Vertical**

**Correct Marks : 1 Wrong Marks : 0.25**

निम्नलिखित प्रश्न में, चार विकल्पों में से, उस विकल्प का चयन करें जो दिए गए वाक्य के लिए पक्ष के भेद का सबसे अच्छा विकल्प है।

अब काम अच्छा चलने लगा है!

**Options :**

1. ✘ सातप्यबोधक
2. ✘ नित्यताद्योतक
3. ✘ पूर्णताद्योतक
4. ✔ आरंभद्योतक

**Question Number : 184 Question Id : 2752285814 Question Type : MCQ Option Shuffling : Yes Is Question Mandatory : No Option Orientation : Vertical**

**Correct Marks : 1 Wrong Marks : 0.25**

निम्नलिखित प्रश्न में, चार विकल्पों में से, उस विकल्प का चयन करें जो शुद्ध वाक्य का सबसे अच्छा विकल्प है।

**Options :**

1. ✘ मुझे सफल होने की निराशा है।
2. ✘ मुझे सफल होने से आशा नहीं है।
3. ✔ मुझे सफल होने की आशा नहीं है।
4. ✘ मुझे सफल का होने की आशा नहीं है।

**Question Number : 184 Question Id : 2752285814 Question Type : MCQ Option Shuffling : Yes Is Question Mandatory : No Option Orientation : Vertical**

**Correct Marks : 1 Wrong Marks : 0.25**

निम्नलिखित प्रश्न में, चार विकल्पों में से, उस विकल्प का चयन करें जो शुद्ध वाक्य का सबसे अच्छा विकल्प है।

**Options :**

1. ✘ मुझे सफल होने की निराशा है।
2. ✘ मुझे सफल होने से आशा नहीं है।
3. ✔ मुझे सफल होने की आशा नहीं है।
4. ✘ मुझे सफल का होने की आशा नहीं है।

**Question Number : 185 Question Id : 2752285815 Question Type : MCQ Option Shuffling : Yes Is Question Mandatory : No Option Orientation : Vertical**

**Correct Marks : 1 Wrong Marks : 0.25**

निम्नलिखित प्रश्न में, चार विकल्पों में से, उस विकल्प का चयन करें जो सही वाक्य भेद का विकल्प हो।

इसकी तलाशी लो और घड़ी मिल जाएगी।

**Options :**

1. ✓ संयुक्त वाक्य
2. ✗ मिश्र वाक्य
3. ✗ संदेहवाचक वाक्य
4. ✗ सरल वाक्य

**Question Number : 185 Question Id : 2752285815 Question Type : MCQ Option Shuffling : Yes Is Question Mandatory : No Option Orientation : Vertical**

**Correct Marks : 1 Wrong Marks : 0.25**

निम्नलिखित प्रश्न में, चार विकल्पों में से, उस विकल्प का चयन करें जो सही वाक्य भेद का विकल्प हो।

इसकी तलाशी लो और घड़ी मिल जाएगी।

**Options :**

1. ✓ संयुक्त वाक्य
2. ✗ मिश्र वाक्य
3. ✗ संदेहवाचक वाक्य
4. ✗ सरल वाक्य

**Question Number : 186 Question Id : 2752285816 Question Type : MCQ Option Shuffling : Yes Is Question Mandatory : No Option Orientation : Vertical**

**Correct Marks : 1 Wrong Marks : 0.25**

निम्नलिखित प्रश्न में, चार विकल्पों में से, उस विकल्प का चयन करें जो सही वाक्य भेद का विकल्प हो।

वह पुस्तक खो गई थी, परंतु मुझे मिल गई।

**Options :**

1. ✗ विधानवाचक वाक्य
2. ✗ सरल वाक्य
3. ✗ मिश्र वाक्य
4. ✓ संयुक्त वाक्य

**Question Number : 186 Question Id : 2752285816 Question Type : MCQ Option Shuffling : Yes Is Question Mandatory : No Option Orientation : Vertical**

**Correct Marks : 1 Wrong Marks : 0.25**

निम्नलिखित प्रश्न में, चार विकल्पों में से, उस विकल्प का चयन करें जो सही वाक्य भेद का विकल्प हो।

वह पुस्तक खो गई थी, परंतु मुझे मिल गई।

**Options :**

1. ✘ विधानवाचक वाक्य
2. ✘ सरल वाक्य
3. ✘ मिश्र वाक्य
4. ✔ संयुक्त वाक्य

**Question Number : 187 Question Id : 2752285817 Question Type : MCQ Option Shuffling : Yes Is Question Mandatory : No Option Orientation : Vertical**

**Correct Marks : 1 Wrong Marks : 0.25**

निम्नलिखित प्रश्न में, चार विकल्पों में से, उस विकल्प का चयन करें जो विराम चिह्न युक्त वाक्य का सही विकल्प हो।

**Options :**

1. ✘ इस पर उस मित्र ने कहा, बहन जी! जब मैं आपके पति को देखने आया था, तभी रुपए लौटा दिए थे।
2. ✔ इस पर उस मित्र ने कहा, "बहन जी! जब मैं आपके पति को देखने आया था, तभी रुपए लौटा दिए थे।"
3. ✘ इस पर उस मित्र ने कहा, "बहन जी! जब मैं आपके पति को देखने आया था तभी रुपए लौटा दिए थे"
4. ✘ इस पर उस मित्र ने कहा, "बहन जी! जब मैं आपके पति को देखने आया था, तभी रुपए लौटा दिए थे?"

**Question Number : 187 Question Id : 2752285817 Question Type : MCQ Option Shuffling : Yes Is Question Mandatory : No Option Orientation : Vertical**

**Correct Marks : 1 Wrong Marks : 0.25**

निम्नलिखित प्रश्न में, चार विकल्पों में से, उस विकल्प का चयन करें जो विराम चिह्न युक्त वाक्य का सही विकल्प हो।

**Options :**

1. ✘ इस पर उस मित्र ने कहा, बहन जी! जब मैं आपके पति को देखने आया था, तभी रुपए लौटा दिए थे।
2. ✔ इस पर उस मित्र ने कहा, "बहन जी! जब मैं आपके पति को देखने आया था, तभी रुपए लौटा दिए थे।"
3. ✘ इस पर उस मित्र ने कहा, "बहन जी! जब मैं आपके पति को देखने आया था तभी रुपए लौटा दिए थे"
4. ✘ इस पर उस मित्र ने कहा, "बहन जी! जब मैं आपके पति को देखने आया था, तभी रुपए लौटा दिए थे?"

**Question Number : 188 Question Id : 2752285818 Question Type : MCQ Option Shuffling : Yes Is Question Mandatory : No Option Orientation : Vertical**

**Correct Marks : 1 Wrong Marks : 0.25**

निम्नलिखित प्रश्न में, चार विकल्पों में से, उस विकल्प का चयन करें जो विराम चिह्न युक्त वाक्य का सही विकल्प हो।

**Options :**

1. ✘ "सच बुआ?" राकेश ने खुश होकर कहा।
2. ✘ सच बुआ? राकेश ने खुश होकर कहा।
3. ✘ सच बुआ राकेश ने खुश होकर कहा।
4. ✔ "सच बुआ?" राकेश ने खुश होकर कहा।

**Question Number : 188 Question Id : 2752285818 Question Type : MCQ Option Shuffling : Yes Is Question Mandatory : No Option Orientation : Vertical**

**Correct Marks : 1 Wrong Marks : 0.25**

निम्नलिखित प्रश्न में, चार विकल्पों में से, उस विकल्प का चयन करें जो विराम चिह्न युक्त वाक्य का सही विकल्प हो।

**Options :**

1. ✘ "सच बुआ?" राकेश ने खुश होकर कहा।
2. ✘ सच बुआ? राकेश ने खुश होकर कहा।
3. ✘ सच बुआ राकेश ने खुश होकर कहा।
4. ✔ "सच बुआ?" राकेश ने खुश होकर कहा।

**Question Number : 189 Question Id : 2752285819 Question Type : MCQ Option Shuffling : Yes Is Question Mandatory : No Option Orientation : Vertical**

**Correct Marks : 1 Wrong Marks : 0.25**

निम्नलिखित प्रश्न में, चार विकल्पों में से, उस विकल्प का चयन करें जो विराम चिह्न युक्त वाक्य का सही विकल्प हो।

**Options :**

1. ✘ "मुझे ऐसा धन नहीं चाहिए, जो बिना परिश्रम के मिले।" सोहम ने कहा?
2. ✘ "मुझे ऐसा धन नहीं चाहिए, जो बिना परिश्रम के मिले" सोहम ने कहा।
3. ✔ "मुझे ऐसा धन नहीं चाहिए, जो बिना परिश्रम के मिले।" सोहम ने कहा।
4. ✘ मुझे ऐसा धन नहीं चाहिए जो बिना परिश्रम के मिले। सोहम ने कहा।

**Question Number : 189 Question Id : 2752285819 Question Type : MCQ Option Shuffling : Yes Is Question Mandatory : No Option Orientation : Vertical**

**Correct Marks : 1 Wrong Marks : 0.25**

निम्नलिखित प्रश्न में, चार विकल्पों में से, उस विकल्प का चयन करें जो विराम चिह्न युक्त वाक्य का सही विकल्प हो।

**Options :**

1. ✘ "मुझे ऐसा धन नहीं चाहिए, जो बिना परिश्रम के मिले।" सोहम ने कहा?
2. ✘ "मुझे ऐसा धन नहीं चाहिए, जो बिना परिश्रम के मिले" सोहम ने कहा।
3. ✔ "मुझे ऐसा धन नहीं चाहिए, जो बिना परिश्रम के मिले।" सोहम ने कहा।
4. ✘ मुझे ऐसा धन नहीं चाहिए जो बिना परिश्रम के मिले। सोहम ने कहा।

**Question Number : 190 Question Id : 2752285820 Question Type : MCQ Option Shuffling : Yes Is Question Mandatory : No Option Orientation : Vertical**

**Correct Marks : 1 Wrong Marks : 0.25**

निम्नलिखित प्रश्न में, चार विकल्पों में से, उस विकल्प का चयन करें जो दिए गए मुहावरे का सही अर्थ वाला विकल्प है।

कलेजा निकाल के रख देना

**Options :**

1. ✘ असहनीय दुःख होना
2. ✔ सब कुछ समर्पित कर देना
3. ✘ व्याकुल होना
4. ✘ अत्यधिक प्रिय होना

**Question Number : 190 Question Id : 2752285820 Question Type : MCQ Option Shuffling : Yes Is Question Mandatory : No Option Orientation : Vertical**

**Correct Marks : 1 Wrong Marks : 0.25**

निम्नलिखित प्रश्न में, चार विकल्पों में से, उस विकल्प का चयन करें जो दिए गए मुहावरे का सही अर्थ वाला विकल्प है।

कलेजा निकाल के रख देना

**Options :**

1. ✘ असहनीय दुःख होना
2. ✔ सब कुछ समर्पित कर देना
3. ✘ व्याकुल होना

4. ✖ अत्यधिक प्रिय होना

**Question Number : 191 Question Id : 2752285821 Question Type : MCQ Option Shuffling : Yes Is Question Mandatory : No Option Orientation : Vertical**

**Correct Marks : 1 Wrong Marks : 0.25**

निम्नलिखित प्रश्न में, चार विकल्पों में से, उस विकल्प का चयन करें जो दिए गए मुहावरे का सही अर्थ वाला विकल्प है।

कागजी घोड़े दौड़ाना

**Options :**

1. ✔ केवल लिखा-पढ़ी करते रहना
2. ✖ हर किसी की बात पर भरोसा करना
3. ✖ प्रभावित करना
4. ✖ ध्यान न देना

**Question Number : 191 Question Id : 2752285821 Question Type : MCQ Option Shuffling : Yes Is Question Mandatory : No Option Orientation : Vertical**

**Correct Marks : 1 Wrong Marks : 0.25**

निम्नलिखित प्रश्न में, चार विकल्पों में से, उस विकल्प का चयन करें जो दिए गए मुहावरे का सही अर्थ वाला विकल्प है।

कागजी घोड़े दौड़ाना

**Options :**

1. ✔ केवल लिखा-पढ़ी करते रहना
2. ✖ हर किसी की बात पर भरोसा करना
3. ✖ प्रभावित करना
4. ✖ ध्यान न देना

**Question Number : 192 Question Id : 2752285822 Question Type : MCQ Option Shuffling : Yes Is Question Mandatory : No Option Orientation : Vertical**

**Correct Marks : 1 Wrong Marks : 0.25**

निम्नलिखित प्रश्न में, चार विकल्पों में से, उस विकल्प का चयन करें जो दिए गए मुहावरे का सही अर्थ वाला विकल्प है।

काल के गाल में जाना

**Options :**

1. ✘ काम में रुकावट आना
2. ✘ बुद्धि भ्रष्ट होना
3. ✘ बहुत दूर की सोचना
4. ✔ मृत्यु-पथ पर बढ़ना

**Question Number : 192 Question Id : 2752285822 Question Type : MCQ Option Shuffling : Yes Is Question Mandatory : No Option Orientation : Vertical**

**Correct Marks : 1 Wrong Marks : 0.25**

निम्नलिखित प्रश्न में, चार विकल्पों में से, उस विकल्प का चयन करें जो दिए गए मुहावरे का सही अर्थ वाला विकल्प है।

काल के गाल में जाना

**Options :**

1. ✘ काम में रुकावट आना
2. ✘ बुद्धि भ्रष्ट होना
3. ✘ बहुत दूर की सोचना
4. ✔ मृत्यु-पथ पर बढ़ना

**Question Number : 193 Question Id : 2752285823 Question Type : MCQ Option Shuffling : Yes Is Question Mandatory : No Option Orientation : Vertical**

**Correct Marks : 1 Wrong Marks : 0.25**

निम्नलिखित प्रश्न में, चार विकल्पों में से, उस विकल्प का चयन करें जो दी गई लोकोक्ति का सही अर्थ वाला विकल्प है।

खुदा गंजे को नाखून नहीं देता

**Options :**

1. ✘ अत्यंत तुच्छ होना
2. ✘ अपनी असफलता पर खीझना
3. ✘ भाग्यशाली होना
4. ✔ ईश्वर सभी की भलाई का ध्यान रखता

**Question Number : 193 Question Id : 2752285823 Question Type : MCQ Option Shuffling : Yes Is Question Mandatory : No Option Orientation : Vertical**



**Correct Marks : 1 Wrong Marks : 0.25**

निम्नलिखित प्रश्न में, चार विकल्पों में से, उस विकल्प का चयन करें जो दी गई लोकोक्ति का सही अर्थ वाला विकल्प है।

खुदा गंजे को नाखून नहीं देता

**Options :**

1. ✘ अत्यंत तुच्छ होना
2. ✘ अपनी असफलता पर खीझना
3. ✘ भाग्यशाली होना
4. ✔ ईश्वर सभी की भलाई का ध्यान रखता

**Question Number : 194 Question Id : 2752285824 Question Type : MCQ Option Shuffling : Yes Is Question Mandatory : No Option Orientation : Vertical**

**Correct Marks : 1 Wrong Marks : 0.25**

निम्नलिखित प्रश्न में, चार विकल्पों में से, उस विकल्प का चयन करें जो दी गई लोकोक्ति का सही अर्थ वाला विकल्प है।

खूंटे के बल बछड़ा कूदे

**Options :**

1. ✘ देखा-देखी काम करना
2. ✘ अपनी सामर्थ्य से ज्यादा सोचना
3. ✔ दूसरे की शह पाकर ही अकड़ दिखाना
4. ✘ खुशामद से कार्य करना

**Question Number : 194 Question Id : 2752285824 Question Type : MCQ Option Shuffling : Yes Is Question Mandatory : No Option Orientation : Vertical**

**Correct Marks : 1 Wrong Marks : 0.25**

निम्नलिखित प्रश्न में, चार विकल्पों में से, उस विकल्प का चयन करें जो दी गई लोकोक्ति का सही अर्थ वाला विकल्प है।

खूंटे के बल बछड़ा कूदे

**Options :**

1. ✘ देखा-देखी काम करना
2. ✘ अपनी सामर्थ्य से ज्यादा सोचना
3. ✔ दूसरे की शह पाकर ही अकड़ दिखाना

4. ✖ खुशामद से कार्य करना

**Question Number : 195 Question Id : 2752285825 Question Type : MCQ Option Shuffling : Yes Is Question Mandatory : No Option Orientation : Vertical**

**Correct Marks : 1 Wrong Marks : 0.25**

निम्नलिखित प्रश्न में, चार विकल्पों में से, उस विकल्प का चयन करें जो दी गई लोकोक्ति का सही अर्थ वाला विकल्प है।

गधा धोने से बछड़ा नहीं हो जाता

**Options :**

1. ✖ विपत्ति में बुद्धि काम नहीं करती
2. ✖ गरीब की किस्मत ही बुरी होती है
3. ✖ अपना नुकसान करना
4. ✔ स्वभाव नहीं बदलता

**Question Number : 195 Question Id : 2752285825 Question Type : MCQ Option Shuffling : Yes Is Question Mandatory : No Option Orientation : Vertical**

**Correct Marks : 1 Wrong Marks : 0.25**

निम्नलिखित प्रश्न में, चार विकल्पों में से, उस विकल्प का चयन करें जो दी गई लोकोक्ति का सही अर्थ वाला विकल्प है।

गधा धोने से बछड़ा नहीं हो जाता

**Options :**

1. ✖ विपत्ति में बुद्धि काम नहीं करती
2. ✖ गरीब की किस्मत ही बुरी होती है
3. ✖ अपना नुकसान करना
4. ✔ स्वभाव नहीं बदलता

**Sub-Section Number :**

2

**Sub-Section Id :**

275228365

**Question Shuffling Allowed :**

Yes

**Question Id : 2752285826 Question Type : COMPREHENSION Sub Question Shuffling Allowed : Yes Group Comprehension Questions : No**

**Question Numbers : (196 to 200)**

निम्नलिखित गद्यांश को पढ़िए और दिए गए प्रश्नों के उत्तर दीजिए।

चेन्नई में आई बाढ़ अब उतार पर है। इस त्रासदी से निबटने में इस शहर ने जिस साहस का परिचय दिया, जिस तरह से सोशल मीडिया ने एक बार फिर बचाव के काम में अहम किरदार निभाया, बल्कि कुछ मामलों में तो जान बचाने में भी उसकी भूमिका रही। चेन्नई में आई बाढ़ की असली वजह थी अड्यार नदी-बेसिन का नये हवाई अड्डे के लिए अतिक्रमण। ठीक उसी तरह, जैसे दूसरे नदी विस्तारों का आवासीय निर्माण के लिए इस्तमाल कर लिया गया है। नदी के कुदरती रास्तों को अवरुद्ध किए जाने से इसका जल आस-पास के इलाकों में उमड़ गया। जब तक प्रकृति अपना क्रोध नहीं दिखाती, हमारे योजनाकार हर जोखिम को नजरअंदाज करते रहते हैं और उस चीज की तलाश में रहते हैं, जिसे वे ले सकते हैं। हमने इसी तरह का विध्वंसक सैलाब मुम्बई में भी देखा। कुछ ही समय पहले श्रीनगर में भी ऐसी ही बर्बादी देखी। हर जगह मुख्य वजह मिली - अनियोजित शहरीकरण और बुनियादी नियमों की अनदेखी। फिर भी हर बार त्रासदी की गम्भीरता लोगों की यादों में धुंधली पड़ जाती है। चेन्नई की तरह दिल्ली में भी ऐसे सैलाब की सम्भावना है।

**Sub questions**

**Question Number : 196 Question Id : 2752285827 Question Type : MCQ Option Shuffling : Yes Is Question Mandatory : No Option Orientation : Vertical**

**Correct Marks : 1 Wrong Marks : 0.25**

अनुच्छेद के अनुसार 'बाढ़ अब उतार पर है' का क्या अर्थ है?

**Options :**

1. ✘ बाढ़ उतर गई है
2. ✔ बाढ़ घट रही है
3. ✘ बाढ़ फैल रही है
4. ✘ बाढ़ अनियंत्रित है

**Question Number : 197 Question Id : 2752285828 Question Type : MCQ Option Shuffling : Yes Is Question Mandatory : No Option Orientation : Vertical**

**Correct Marks : 1 Wrong Marks : 0.25**

अनुच्छेद के अनुसार योजनाकार कब तक लापरवाह रहते हैं?

**Options :**

1. ✔ प्रकृति अपना क्रोध न दिखाए
2. ✘ जनता जागरूक न हो जाए
3. ✘ सरकार दबाव न बनाए
4. ✘ समस्या हल न हो जाए

**Question Number : 198 Question Id : 2752285829 Question Type : MCQ Option Shuffling : Yes Is Question Mandatory : No Option Orientation : Vertical**

**Correct Marks : 1 Wrong Marks : 0.25**

मुंबई, श्रीनगर जैसे स्थानों में बाढ़ से हुई बर्बादी के पीछे कारण था?

**Options :**

1. ✘ प्रकृति का सहयोग
2. ✘ त्रासदी की गम्भीरता
3. ✔ अनियोजित शहरीकरण
4. ✘ शहरों का संकुचन

**Question Number : 199 Question Id : 2752285830 Question Type : MCQ Option Shuffling : Yes Is Question Mandatory : No Option Orientation : Vertical**

**Correct Marks : 1 Wrong Marks : 0.25**

इनमें से कौन - सा बाढ़ का पर्यायवाची शब्द नहीं है?

**Options :**

1. ✘ वृद्धि
2. ✘ सैलाब
3. ✘ विकास
4. ✔ दुर्बल

**Question Number : 200 Question Id : 2752285831 Question Type : MCQ Option Shuffling : Yes Is Question Mandatory : No Option Orientation : Vertical**

**Correct Marks : 1 Wrong Marks : 0.25**

इस अनुच्छेद का कोई उपयुक्त शीर्षक:

**Options :**

1. ✘ शहरीकरण
2. ✘ प्राचीन समाज
3. ✔ प्रकृति का कहर
4. ✘ आज के समय की माँग

**Question Id : 2752285826 Question Type : COMPREHENSION Sub Question Shuffling Allowed : Yes Group Comprehension Questions : No**

**Question Numbers : (196 to 200)**

निम्नलिखित गद्यांश को पढ़िए और दिए गए प्रश्नों के उत्तर दीजिए।

चेन्नई में आई बाढ़ अब उतार पर है। इस त्रासदी से निबटने में इस शहर ने जिस साहस का परिचय दिया, जिस तरह से सोशल मीडिया ने एक बार फिर बचाव के काम में अहम किरदार निभाया, बल्कि कुछ मामलों में तो जान बचाने में भी उसकी भूमिका रही। चेन्नई में आई बाढ़ की असली वजह थी अड्यार नदी-बेसिन का नये हवाई अड्डे के लिए अतिक्रमण। ठीक उसी तरह, जैसे दूसरे नदी विस्तारों का आवासीय निर्माण के लिए इस्तमाल कर लिया गया है। नदी के कुदरती रास्तों को अवरुद्ध किए जाने से इसका जल आस-पास के इलाकों में उमड़ गया। जब तक प्रकृति अपना क्रोध नहीं दिखाती, हमारे योजनाकार हर जोखिम को नजरअंदाज करते रहते हैं और उस चीज की तलाश में रहते हैं, जिसे वे ले सकते हैं। हमने इसी तरह का विध्वंसक सैलाब मुम्बई में भी देखा। कुछ ही समय पहले श्रीनगर में भी ऐसी ही बर्बादी देखी। हर जगह मुख्य वजह मिली - अनियोजित शहरीकरण और बुनियादी नियमों की अनदेखी। फिर भी हर बार त्रासदी की गम्भीरता लोगों की यादों में धुंधली पड़ जाती है। चेन्नई की तरह दिल्ली में भी ऐसे सैलाब की सम्भावना है।

**Sub questions**

**Question Number : 196 Question Id : 2752285827 Question Type : MCQ Option Shuffling : Yes Is Question Mandatory : No Option Orientation : Vertical**

**Correct Marks : 1 Wrong Marks : 0.25**

अनुच्छेद के अनुसार 'बाढ़ अब उतार पर है' का क्या अर्थ है?

**Options :**

1. ✘ बाढ़ उतर गई है
2. ✔ बाढ़ घट रही है
3. ✘ बाढ़ फैल रही है
4. ✘ बाढ़ अनियंत्रित है

**Question Number : 197 Question Id : 2752285828 Question Type : MCQ Option Shuffling : Yes Is Question Mandatory : No Option Orientation : Vertical**

**Correct Marks : 1 Wrong Marks : 0.25**

अनुच्छेद के अनुसार योजनाकार कब तक लापरवाह रहते हैं?

**Options :**

1. ✔ प्रकृति अपना क्रोध न दिखाए
2. ✘ जनता जागरूक न हो जाए
3. ✘ सरकार दबाव न बनाए
4. ✘ समस्या हल न हो जाए

**Question Number : 198 Question Id : 2752285829 Question Type : MCQ Option Shuffling : Yes Is Question Mandatory : No Option Orientation : Vertical**

**Correct Marks : 1 Wrong Marks : 0.25**

मुंबई, श्रीनगर जैसे स्थानों में बाढ़ से हुई बर्बादी के पीछे कारण था?

**Options :**

1. ✘ प्रकृति का सहयोग
2. ✘ त्रासदी की गम्भीरता
3. ✔ अनियोजित शहरीकरण
4. ✘ शहरों का संकुचन

**Question Number : 199 Question Id : 2752285830 Question Type : MCQ Option Shuffling : Yes Is Question Mandatory : No Option Orientation : Vertical**

**Correct Marks : 1 Wrong Marks : 0.25**

इनमें से कौन - सा बाढ़ का पर्यायवाची शब्द नहीं है?

**Options :**

1. ✘ वृद्धि
2. ✘ सैलाब
3. ✘ विकास
4. ✔ दुर्बल

**Question Number : 200 Question Id : 2752285831 Question Type : MCQ Option Shuffling : Yes Is Question Mandatory : No Option Orientation : Vertical**

**Correct Marks : 1 Wrong Marks : 0.25**

इस अनुच्छेद का कोई उपयुक्त शीर्षक:

**Options :**

1. ✘ शहरीकरण
2. ✘ प्राचीन समाज
3. ✔ प्रकृति का कहर
4. ✘ आज के समय की माँग