

Education Consultant India Ltd.

Notations :

- 1.Options shown in green color and with ✓ icon are correct.
- 2.Options shown in red color and with ✗ icon are incorrect.

Question Paper Name :	MATRIXSTENO8AUGS3
Subject Name :	Stenographer (Hindi)
Creation Date :	2021-08-08 19:32:26
Duration :	120
Total Marks :	200
Display Marks:	Yes
Calculator :	None
Magnifying Glass Required? :	No
Ruler Required? :	No
Eraser Required? :	No
Scratch Pad Required? :	No
Rough Sketch/Notepad Required? :	No
Protractor Required? :	No
Show Watermark on Console? :	Yes
Highlighter :	No
Auto Save on Console? (SA type of questions will be always auto saved) :	No

General Ability1

Group Number :	1
Group Id :	976755468
Group Maximum Duration :	0
Group Minimum Duration :	0

Show Attended Group? : No
Edit Attended Group? : No
Break time : 0
Group Marks : 20
Is this Group for Examiner? : No

General Ability1

Section Id : 976755805
Section Number : 1
Section type : Online
Mandatory or Optional : Mandatory
Number of Questions : 20
Number of Questions to be attempted : 20
Section Marks : 20
Enable Mark as Answered Mark for Review and Clear Response : Yes
Sub-Section Number : 1
Sub-Section Id : 976755946
Question Shuffling Allowed : Yes

Question Number : 1 Question Id : 97675513749 Question Type : MCQ Option Shuffling : Yes Is Question Mandatory : No Option Orientation : Vertical

Correct Marks : 1 Wrong Marks : 0.25

Find the missing term in the following letter series :

GL, _____, AF, XC

Options :

1. ✘ CJ
2. ✔ DI
3. ✘ EK
4. ✘ FL

Question Number : 1 Question Id : 97675513749 Question Type : MCQ Option Shuffling : Yes Is Question Mandatory : No Option Orientation : Vertical

Correct Marks : 1 Wrong Marks : 0.25

निम्नलिखित अक्षर श्रृंखला में लुप्त पद ज्ञात करें:

GL, _____, AF, XC

Options :

1. ✘ CJ
2. ✔ DI
3. ✘ EK
4. ✘ FL

Question Number : 2 Question Id : 97675513750 Question Type : MCQ Option Shuffling : Yes Is Question Mandatory : No Option Orientation : Vertical

Correct Marks : 1 Wrong Marks : 0.25

Some letters are numbered as 1,2,3,4,5 and 6. In the options, four possible arrangements of these numbers are given. Choose the option so that the letters form a meaningful word.

DELOBN

1 2 3 4 5 6

Options :

1. ✔ 534612
2. ✘ 341265
3. ✘ 145362
4. ✘ 153462

Question Number : 2 Question Id : 97675513750 Question Type : MCQ Option Shuffling : Yes Is Question Mandatory : No Option Orientation : Vertical

Correct Marks : 1 Wrong Marks : 0.25

कुछ अक्षरों को 1,2,3,4,5 और 6 में क्रमांकित किया गया है। विकल्पों में, इन संख्याओं की चार संभावित व्यवस्थाएँ दी गई हैं। उस विकल्प का चयन करें जिससे अक्षर एक सार्थक शब्द बना सकें।

DELOBN

1 2 3 4 5 6

Options :

1. ✔ 534612
2. ✘ 341265
3. ✘ 145362

4. ✘ 153462

Question Number : 3 Question Id : 97675513751 Question Type : MCQ Option Shuffling : Yes Is Question Mandatory : No Option Orientation : Vertical

Correct Marks : 1 Wrong Marks : 0.25

Find the missing term in the following series :

N5R, S9W, _____, C14G

Options :

1. ✔ X12B

2. ✘ Y11C

3. ✘ Z12D

4. ✘ W12A

Question Number : 3 Question Id : 97675513751 Question Type : MCQ Option Shuffling : Yes Is Question Mandatory : No Option Orientation : Vertical

Correct Marks : 1 Wrong Marks : 0.25

निम्नलिखित श्रृंखला में लुप्त पद ज्ञात करें:

N5R, S9W, _____, C14G

Options :

1. ✔ X12B

2. ✘ Y11C

3. ✘ Z12D

4. ✘ W12A

Question Number : 4 Question Id : 97675513752 Question Type : MCQ Option Shuffling : Yes Is Question Mandatory : No Option Orientation : Vertical

Correct Marks : 1 Wrong Marks : 0.25

Find the wrong term in the following series :

TWZ, QTW, NQT, LNR, HKN

Options :

1. ✘ QTW

2. ✘ NQT

3. ✓ LNR

4. ✗ HKN

Question Number : 4 Question Id : 97675513752 Question Type : MCQ Option Shuffling : Yes Is Question Mandatory : No Option Orientation : Vertical

Correct Marks : 1 Wrong Marks : 0.25

निम्नलिखित श्रृंखला में गलत पद ज्ञात करें:

TWZ, QTW, NQT, LNR, HKN

Options :

1. ✗ QTW

2. ✗ NQT

3. ✓ LNR

4. ✗ HKN

Question Number : 5 Question Id : 97675513753 Question Type : MCQ Option Shuffling : Yes Is Question Mandatory : No Option Orientation : Vertical

Correct Marks : 1 Wrong Marks : 0.25

Select the option that is related to the third term on the same basis as the second term is related to the first term.

Spinach : Vegetable :: Cow : ?

Options :

1. ✓ Mammal

2. ✗ Grass

3. ✗ Milk

4. ✗ Carnivorous

Question Number : 5 Question Id : 97675513753 Question Type : MCQ Option Shuffling : Yes Is Question Mandatory : No Option Orientation : Vertical

Correct Marks : 1 Wrong Marks : 0.25

उस विकल्प का चयन करें जो तीसरे पद से उसी प्रकार से संबंधित है जिस प्रकार से दूसरा पद पहले पद से संबंधित है।

पालक : सब्ज़ी :: गाय : ?

Options :

1. ✓ स्तनधारी

2. ✘ घास
3. ✘ दूध
4. ✘ मांसभक्षी

Question Number : 6 Question Id : 97675513754 Question Type : MCQ Option Shuffling : Yes Is Question Mandatory : No Option Orientation : Vertical

Correct Marks : 1 Wrong Marks : 0.25

Select the pair that is related on the same basis to the pair given in the question.

Bark : Dog :: ?

Options :

1. ✘ Cow : Moo
2. ✔ Buzz : Bees
3. ✘ Hive : Bees
4. ✘ Grass : Cow

Question Number : 6 Question Id : 97675513754 Question Type : MCQ Option Shuffling : Yes Is Question Mandatory : No Option Orientation : Vertical

Correct Marks : 1 Wrong Marks : 0.25

उस जोड़ी का चयन करें जो प्रश्न में दी गई जोड़ी से समान प्रकार से संबंधित है।

भौकना : कुत्ता :: ?

Options :

1. ✘ गाय : राँभना
2. ✔ भनभनाहट : मधुमक्खियां
3. ✘ छत्ता : मधुमक्खियां
4. ✘ घास : गाय

Question Number : 7 Question Id : 97675513755 Question Type : MCQ Option Shuffling : Yes Is Question Mandatory : No Option Orientation : Vertical

Correct Marks : 1 Wrong Marks : 0.25

Select the option that is related to the third term on the same basis as the second term is related to the first term.

HOV : MTA :: CLP : ?

Options :

1. ✘ JSX
2. ✘ IRV
3. ✘ GPT
4. ✔ HQU

Question Number : 7 Question Id : 97675513755 Question Type : MCQ Option Shuffling : Yes Is Question Mandatory : No Option Orientation : Vertical

Correct Marks : 1 Wrong Marks : 0.25

उस विकल्प का चयन करें जो तीसरे पद से उसी प्रकार से संबंधित है जिस प्रकार से दूसरा पद पहले पद से संबंधित है।

HOV : MTA :: CLP : ?

Options :

1. ✘ JSX
2. ✘ IRV
3. ✘ GPT
4. ✔ HQU

Question Number : 8 Question Id : 97675513756 Question Type : MCQ Option Shuffling : Yes Is Question Mandatory : No Option Orientation : Vertical

Correct Marks : 1 Wrong Marks : 0.25

IF SING is coded as QGLE, then what is the code for DANCE?

Options :

1. ✘ ZWJYA
2. ✘ CWJBD
3. ✘ AXKZB
4. ✔ BYLAC

Question Number : 8 Question Id : 97675513756 Question Type : MCQ Option Shuffling : Yes Is Question Mandatory : No Option Orientation : Vertical

Correct Marks : 1 Wrong Marks : 0.25

यदि SING को QGLE के रूप में कोडित किया गया है, तो DANCE के लिए कोड क्या है?

Options :

1. ✘ ZWJYA

2. ✘ CWJBD
3. ✘ AXKZB
4. ✔ BYLAC

Question Number : 9 Question Id : 97675513757 Question Type : MCQ Option Shuffling : Yes Is Question Mandatory : No Option Orientation : Vertical

Correct Marks : 1 Wrong Marks : 0.25

If WHEAT is coded as 58512, BREAK is coded as 29512, then what is the code for LUCKY?

Options :

1. ✘ 43427
2. ✘ 44438
3. ✔ 33327
4. ✘ 34338

Question Number : 9 Question Id : 97675513757 Question Type : MCQ Option Shuffling : Yes Is Question Mandatory : No Option Orientation : Vertical

Correct Marks : 1 Wrong Marks : 0.25

यदि WHEAT को 58512 के रूप में कोडित किया गया है, BREAK को 29512 के रूप में कोडित किया गया है, तो LUCKY के लिए कोड क्या है?

Options :

1. ✘ 43427
2. ✘ 44438
3. ✔ 33327
4. ✘ 34338

Question Number : 10 Question Id : 97675513758 Question Type : MCQ Option Shuffling : Yes Is Question Mandatory : No Option Orientation : Vertical

Correct Marks : 1 Wrong Marks : 0.25

If PEAR is coded as 7519, then what is the code for TANK?

Options :

1. ✔ 2152
2. ✘ 1041
3. ✘ 2164

4. ✖ 1052

Question Number : 10 Question Id : 97675513758 Question Type : MCQ Option Shuffling : Yes Is Question Mandatory : No Option Orientation : Vertical

Correct Marks : 1 Wrong Marks : 0.25

यदि PEAR को 7519 के रूप में कोडित किया गया है, तो TANK के लिए कोड क्या है?

Options :

1. ✔ 2152

2. ✖ 1041

3. ✖ 2164

4. ✖ 1052

Question Number : 11 Question Id : 97675513759 Question Type : MCQ Option Shuffling : Yes Is Question Mandatory : No Option Orientation : Vertical

Correct Marks : 1 Wrong Marks : 0.25

In a certain code language,
nigzil means moveably
dijzil means movement
dijpin means embarassment
which word would mean 'embarassing'?

Options :

1. ✔ rizpin

2. ✖ bihdij

3. ✖ zilbuy

4. ✖ qirnig

Question Number : 11 Question Id : 97675513759 Question Type : MCQ Option Shuffling : Yes Is Question Mandatory : No Option Orientation : Vertical

Correct Marks : 1 Wrong Marks : 0.25

एक निश्चित कोड भाषा में,
nigzil का अर्थ है moveably
dijzil का अर्थ है movement

dijpin का अर्थ है embarassment
तो किस शब्द का अर्थ 'embarassing' है?

Options :

1. ✓ rizpin
2. ✗ bihdij
3. ✗ zilbuy
4. ✗ qirnig

Question Number : 12 Question Id : 97675513760 Question Type : MCQ Option Shuffling : Yes Is Question Mandatory : No Option Orientation : Vertical

Correct Marks : 1 Wrong Marks : 0.25

If P \$ Q means P is the father of Q; P ! Q means P is the mother of Q and P * Q means P is the daughter of Q, which of the following shows that D is son-in-law of A?

Options :

1. ✗ A ! B \$ C * D
2. ✓ A \$ B ! C * D
3. ✗ A \$ B * C ! D
4. ✗ A ! B * C \$ D

Question Number : 12 Question Id : 97675513760 Question Type : MCQ Option Shuffling : Yes Is Question Mandatory : No Option Orientation : Vertical

Correct Marks : 1 Wrong Marks : 0.25

यदि P \$ Q का अर्थ है P, Q का पिता है; P ! Q का अर्थ है P, Q की माता है और P * Q का अर्थ है P, Q की बेटी है, तो निम्नलिखित में से कौन दर्शाता है कि D, A का दामाद है?

Options :

1. ✗ A ! B \$ C * D
2. ✓ A \$ B ! C * D
3. ✗ A \$ B * C ! D
4. ✗ A ! B * C \$ D

Question Number : 13 Question Id : 97675513761 Question Type : MCQ Option Shuffling : Yes Is Question Mandatory : No Option Orientation : Vertical

Correct Marks : 1 Wrong Marks : 0.25

Pawan scored more than Rashi. Yashika scored as much as Disha. Lalita scored less than Manisha. Rashi scored more than Yashika. Manisha scored less than Disha. Who scored the highest?

Options :

1. ✘ Disha
2. ✘ Lalita
3. ✘ Rashi
4. ✔ Pawan

Question Number : 13 Question Id : 97675513761 Question Type : MCQ Option Shuffling : Yes Is Question Mandatory : No Option Orientation : Vertical

Correct Marks : 1 Wrong Marks : 0.25

पवन ने राशि से ज्यादा स्कोर किया। याशिका ने दिशा जितना ही स्कोर किया। ललिता ने मनीषा से कम स्कोर किया। राशि ने याशिका से अधिक स्कोर किया। मनीषा ने दिशा से कम स्कोर किया। सबसे अधिक किसने स्कोर किया?

Options :

1. ✘ दिशा
2. ✘ ललिता
3. ✘ राशि
4. ✔ पवन

Question Number : 14 Question Id : 97675513762 Question Type : MCQ Option Shuffling : Yes Is Question Mandatory : No Option Orientation : Vertical

Correct Marks : 1 Wrong Marks : 0.25

Jeevan, Agni, Gauri, Ema, Vinod and Fatima are sitting around a round table facing the centre. Fatima is to the left of Gauri, who is opposite Agni, Vinod is between Agni and Jeevan. Who is to the left of Ema?

Options :

1. ✘ Vinod
2. ✔ Agni
3. ✘ Fatima
4. ✘ Gauri

Question Number : 14 Question Id : 97675513762 Question Type : MCQ Option Shuffling : Yes Is Question Mandatory : No Option

Orientation : Vertical

Correct Marks : 1 Wrong Marks : 0.25

जीवन, अग्नि, गौरी, एमा, विनोद और फातिमा केंद्र की ओर मुँह करके एक गोल मेज के चारों ओर बैठे हैं। फातिमा, गौरी के बाईं ओर बैठी है, जो अग्नि के सामने है, विनोद, अग्नि और जीवन के बीच में बैठा है। एमा के बाईं ओर कौन है?

Options :

1. ✘ विनोद
2. ✔ अग्नि
3. ✘ फातिमा
4. ✘ गौरी

Question Number : 15 Question Id : 97675513763 Question Type : MCQ Option Shuffling : Yes Is Question Mandatory : No Option Orientation : Vertical

Correct Marks : 1 Wrong Marks : 0.25

Arrange the given words in the sequence in which they occur in the dictionary.

1. RATTLED
2. RATINGS
3. RAPTURE
4. RAMPANT
5. RADICAL

Options :

1. ✔ 5, 4, 3, 2, 1
2. ✘ 5, 4, 2, 3, 1
3. ✘ 4, 5, 3, 2, 1
4. ✘ 4, 3, 5, 1, 2

Question Number : 15 Question Id : 97675513763 Question Type : MCQ Option Shuffling : Yes Is Question Mandatory : No Option Orientation : Vertical

Correct Marks : 1 Wrong Marks : 0.25

दिए गए शब्दों को उस क्रम में व्यवस्थित करें जिस क्रम में वे शब्दकोश में होते हैं।

1. RATTLED
2. RATINGS
3. RAPTURE
4. RAMPANT
5. RADICAL

Options :

1. ✓ 5, 4, 3, 2, 1
2. ✗ 5, 4, 2, 3, 1
3. ✗ 4, 5, 3, 2, 1
4. ✗ 4, 3, 5, 1, 2

Question Number : 16 Question Id : 97675513764 Question Type : MCQ Option Shuffling : Yes Is Question Mandatory : No Option Orientation : Vertical

Correct Marks : 1 Wrong Marks : 0.25

In the question two statements are given, followed by two conclusions, I and II. You have to consider the statements to be true even if it seems to be at variance from commonly known facts. You have to decide which of the given conclusions, if any, follows from the given statements.

Statement 1 : All pineapples are mangoes.

Statement 2 : All mangoes are apples.

Conclusion I : No apples are mangoes.

Conclusion II : All pineapples are apples.

Options :

1. ✗ Only conclusion I follows
2. ✓ Only conclusion II follows
3. ✗ Both I and II follow
4. ✗ Neither I nor II follows

Question Number : 16 Question Id : 97675513764 Question Type : MCQ Option Shuffling : Yes Is Question Mandatory : No Option Orientation : Vertical

Correct Marks : 1 Wrong Marks : 0.25

प्रश्न में दो कथन दिए गए हैं, जिसके बाद दो निष्कर्ष I और II दिए गए हैं। आपको उन कथनों को सही मानना है, भले ही यह सामान्यतः ज्ञात तथ्य से भिन्न प्रतीत हो। आपको यह निर्णय लेना है कि दिए गए निष्कर्षों में से कौन सा, यदि कोई हो, तो दिए गए कथनों में से अनुसरण करता है।

कथन 1: सभी अनानास आम हैं।

कथन 2: सभी आम सेब हैं।

निष्कर्ष I: कोई सेब आम नहीं है।

निष्कर्ष II: सभी अनानास सेब हैं।

Options :

1. ✘ केवल निष्कर्ष I अनुसरण करता है
2. ✔ केवल निष्कर्ष II अनुसरण करता है
3. ✘ I और II दोनों अनुसरण करते है
4. ✘ न I और न ही II अनुसरण करता है

Question Number : 17 Question Id : 97675513765 Question Type : MCQ Option Shuffling : Yes Is Question Mandatory : No Option Orientation : Vertical

Correct Marks : 1 Wrong Marks : 0.25

In the question two statements are given, followed by three conclusions, I, II and III. You have to consider the statements to be true even if it seems to be at variance from commonly known facts. You have to decide which of the given conclusions, if any, follows from the given statements.

Statement 1 : Some lakes are rivers.

Statement 2 : All rivers are ponds.

Conclusion I : Some lakes are ponds.

Conclusion II : No rivers are lakes.

Conclusion III : Some ponds are rivers.

Options :

1. ✘ Only conclusion I follows
2. ✘ Only conclusion I and II follows
3. ✔ Only conclusion I and III follows
4. ✘ All conclusions I, II and III follow

Question Number : 17 Question Id : 97675513765 Question Type : MCQ Option Shuffling : Yes Is Question Mandatory : No Option Orientation : Vertical

Correct Marks : 1 Wrong Marks : 0.25

प्रश्न में दो कथन दिए गए हैं, जिसके बाद तीन निष्कर्ष I,II और III दिए गए हैं। आपको उन कथनों को सही मानना है, भले ही यह सामान्यतः ज्ञात तथ्य से भिन्न प्रतीत हो। आपको यह निर्णय लेना है कि दिए गए निष्कर्षों में से कौन सा, यदि कोई हो, तो दिए गए कथनों में से अनुसरण करता है।

कथन 1: कुछ झीलें नदियाँ हैं।

कथन 2: सभी नदियाँ तालाब हैं।

निष्कर्ष I: कुछ झीलें तालाब हैं।
निष्कर्ष II: कोई भी नदी झील नहीं है।
निष्कर्ष III: कुछ तालाब नदियाँ हैं।

Options :

1. ✘ केवल निष्कर्ष I अनुसरण करता है
2. ✘ केवल निष्कर्ष I और II अनुसरण करते हैं
3. ✔ केवल निष्कर्ष I और III अनुसरण करते हैं
4. ✘ सभी निष्कर्ष I, II और III अनुसरण करते हैं

Question Number : 18 Question Id : 97675513766 Question Type : MCQ Option Shuffling : Yes Is Question Mandatory : No Option Orientation : Vertical

Correct Marks : 1 Wrong Marks : 0.25

In the question two statements I and II are given, followed by two conclusions, I and II. You have to consider the statements to be true even if it seems to be at variance from commonly known facts. You have to decide which of the given conclusions, if any, follows from the given statements.

Statement I : 70% employees of XYZ Organisation did not come today.

Statement II : Ashoka is an employee of XYZ Organisation.

Conclusion I : Ashoka did not come today.

Conclusion II : Ashoka came today.

Options :

1. ✘ Only conclusion I follows
2. ✘ Only conclusion II follows
3. ✘ Both I and II follow
4. ✔ Either I or II follows

Question Number : 18 Question Id : 97675513766 Question Type : MCQ Option Shuffling : Yes Is Question Mandatory : No Option Orientation : Vertical

Correct Marks : 1 Wrong Marks : 0.25

प्रश्न में दो कथन I और II दिए गए हैं, जिसके बाद दो निष्कर्ष I और II दिए गए हैं। आपको उन कथनों को सही मानना है, भले ही यह सामान्यतः ज्ञात तथ्य से भिन्न प्रतीत हो। आपको यह निर्णय लेना है कि दिए गए निष्कर्षों में से कौन सा, यदि कोई हो, तो दिए गए कथनों में से अनुसरण करता है।

कथन I: XYZ संगठन के 70% कर्मचारी आज नहीं आए।

कथन II: अशोक XYZ संगठन का एक कर्मचारी है।

निष्कर्ष I: अशोक आज नहीं आया है।

निष्कर्ष II: अशोक आज आया है।

Options :

1. ✘ केवल निष्कर्ष I अनुसरण करता है
2. ✘ केवल निष्कर्ष II अनुसरण करता है
3. ✘ I और II दोनों अनुसरण करते हैं
4. ✔ या I या II अनुसरण करता है

Question Number : 19 Question Id : 97675513767 Question Type : MCQ Option Shuffling : Yes Is Question Mandatory : No Option Orientation : Vertical

Correct Marks : 1 Wrong Marks : 0.25

Find the wrong number in the following number series:

2, 4, 16, 96, 576

Options :

1. ✘ 4
2. ✘ 16
3. ✘ 96
4. ✔ 576

Question Number : 19 Question Id : 97675513767 Question Type : MCQ Option Shuffling : Yes Is Question Mandatory : No Option Orientation : Vertical

Correct Marks : 1 Wrong Marks : 0.25

निम्नलिखित संख्या श्रृंखला में गलत संख्या ज्ञात करें:

2, 4, 16, 96, 576

Options :

1. ✘ 4
2. ✘ 16
3. ✘ 96
4. ✔ 576

Question Number : 20 Question Id : 97675513768 Question Type : MCQ Option Shuffling : Yes Is Question Mandatory : No Option Orientation : Vertical

Correct Marks : 1 Wrong Marks : 0.25

Find the missing number in the following number series:

215, 247, _____, 341, 403

Options :

1. ✘ 282

2. ✘ 279

3. ✔ 289

4. ✘ 272

Question Number : 20 Question Id : 97675513768 Question Type : MCQ Option Shuffling : Yes Is Question Mandatory : No Option Orientation : Vertical

Correct Marks : 1 Wrong Marks : 0.25

निम्नलिखित संख्या श्रृंखला में लुप्त संख्या ज्ञात करें:

215, 247, _____, 341, 403

Options :

1. ✘ 282

2. ✘ 279

3. ✔ 289

4. ✘ 272

General Ability2

Group Number :	2
Group Id :	976755469
Group Maximum Duration :	0
Group Minimum Duration :	0
Show Attended Group? :	No
Edit Attended Group? :	No
Break time :	0
Group Marks :	20

Is this Group for Examiner? :

No

General Ability2

Section Id :	976755806
Section Number :	1
Section type :	Online
Mandatory or Optional :	Mandatory
Number of Questions :	20
Number of Questions to be attempted :	20
Section Marks :	20
Enable Mark as Answered Mark for Review and Clear Response :	Yes
Sub-Section Number :	1
Sub-Section Id :	976755947
Question Shuffling Allowed :	Yes

Question Number : 21 Question Id : 97675513769 Question Type : MCQ Option Shuffling : Yes Is Question Mandatory : No Option Orientation : Vertical

Correct Marks : 1 Wrong Marks : 0.25

Select the option that is related to the third number on the same basis as the second number is related to the first number.

8 : 128 :: 9 : ?

Options :

1. ✓ 162
2. ✗ 90
3. ✗ 147
4. ✗ 81

Question Number : 21 Question Id : 97675513769 Question Type : MCQ Option Shuffling : Yes Is Question Mandatory : No Option Orientation : Vertical

Correct Marks : 1 Wrong Marks : 0.25

उस विकल्प का चयन करें जो तीसरी संख्या से उसी प्रकार से संबंधित है जिस प्रकार से दूसरी संख्या पहली संख्या से संबंधित है।

8 : 128 :: 9 : ?

Options :

1. ✓ 162
2. ✗ 90
3. ✗ 147
4. ✗ 81

Question Number : 22 Question Id : 97675513770 Question Type : MCQ Option Shuffling : Yes Is Question Mandatory : No Option Orientation : Vertical

Correct Marks : 1 Wrong Marks : 0.25

Find the number which when added to itself 18 times, gives 152.

Options :

1. ✓ 8
2. ✗ 7
3. ✗ 9
4. ✗ 6

Question Number : 22 Question Id : 97675513770 Question Type : MCQ Option Shuffling : Yes Is Question Mandatory : No Option Orientation : Vertical

Correct Marks : 1 Wrong Marks : 0.25

वह संख्या ज्ञात करें, जिसे 18 बार स्वयं से जोड़ने पर, 152 देता है।

Options :

1. ✓ 8
2. ✗ 7
3. ✗ 9
4. ✗ 6

Question Number : 23 Question Id : 97675513771 Question Type : MCQ Option Shuffling : Yes Is Question Mandatory : No Option Orientation : Vertical

Correct Marks : 1 Wrong Marks : 0.25

Which two numbers should be interchanged to make the below equation mathematically correct?

$$114 \div 3 \times 19 - 9 + 12 = 21$$

Options :

1. ✗ 19, 9

2. ✓ 3, 19
3. ✗ 9, 12
4. ✗ 3, 12

Question Number : 23 Question Id : 97675513771 Question Type : MCQ Option Shuffling : Yes Is Question Mandatory : No Option Orientation : Vertical

Correct Marks : 1 Wrong Marks : 0.25

नीचे दिए गए समीकरण को सही बनाने के लिए किन दो संख्याओं को गणितीय रूप से परस्पर बदलना चाहिए?

$$114 \div 3 \times 19 - 9 + 12 = 21$$

Options :

1. ✗ 19, 9
2. ✓ 3, 19
3. ✗ 9, 12
4. ✗ 3, 12

Question Number : 24 Question Id : 97675513772 Question Type : MCQ Option Shuffling : Yes Is Question Mandatory : No Option Orientation : Vertical

Correct Marks : 1 Wrong Marks : 0.25

If $x - 6 > y + 4$, then which of the following is true?

Options :

1. ✓ $x - y > 10$
2. ✗ $x + y < 10$
3. ✗ $x - y < 10$
4. ✗ $x + y > 10$

Question Number : 24 Question Id : 97675513772 Question Type : MCQ Option Shuffling : Yes Is Question Mandatory : No Option Orientation : Vertical

Correct Marks : 1 Wrong Marks : 0.25

यदि $x - 6 > y + 4$ है, तो निम्नलिखित में से कौन सा सत्य है?

Options :

1. ✓ $x - y > 10$
2. ✗ $x + y < 10$

3. ✘ $x - y < 10$

4. ✘ $x + y > 10$

Question Number : 25 Question Id : 97675513773 Question Type : MCQ Option Shuffling : Yes Is Question Mandatory : No Option Orientation : Vertical

Correct Marks : 1 Wrong Marks : 0.25

Two numbers are 50% and 80% respectively more than a third number. What is the ratio of first number is to the second number?

Options :

1. ✘ 6:5

2. ✘ 5:8

3. ✘ 8:5

4. ✔ 5:6

Question Number : 25 Question Id : 97675513773 Question Type : MCQ Option Shuffling : Yes Is Question Mandatory : No Option Orientation : Vertical

Correct Marks : 1 Wrong Marks : 0.25

दो संख्याएं, क्रमशः 50% और 80% एक तीसरी संख्या से अधिक हैं। पहली संख्या का दूसरी संख्या से अनुपात क्या है?

Options :

1. ✘ 6:5

2. ✘ 5:8

3. ✘ 8:5

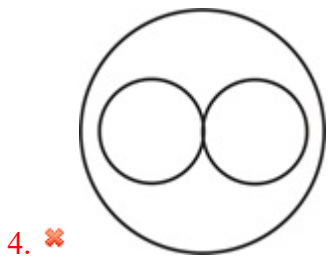
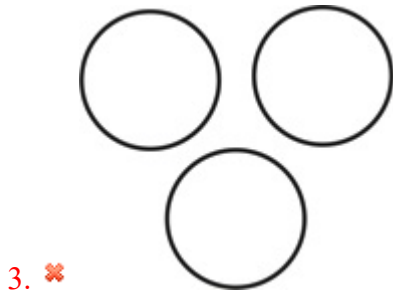
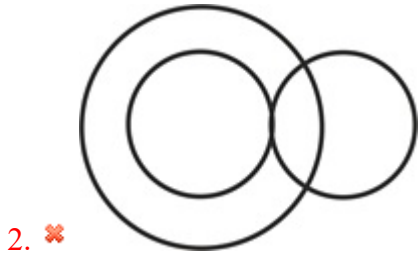
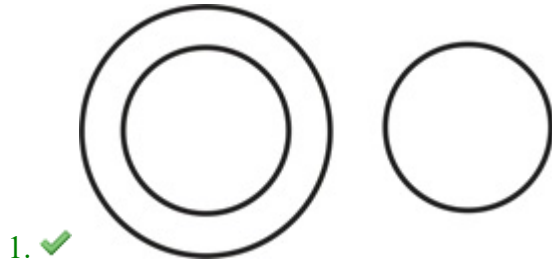
4. ✔ 5:6

Question Number : 26 Question Id : 97675513774 Question Type : MCQ Option Shuffling : Yes Is Question Mandatory : No Option Orientation : Vertical

Correct Marks : 1 Wrong Marks : 0.25

Which of the following Venn diagrams best represents the relationship between nieces, females and brothers?

Options :

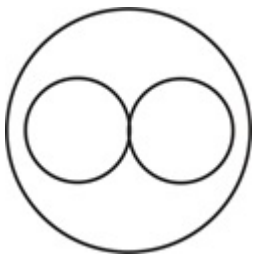
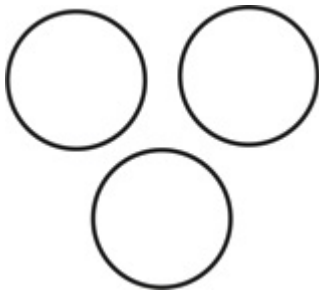
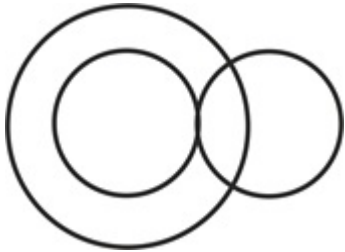
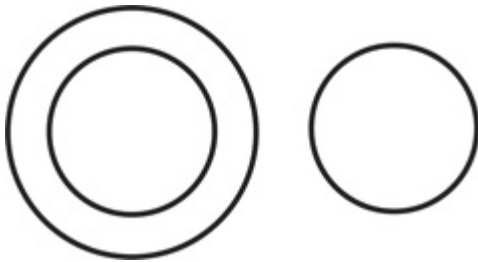


Question Number : 26 Question Id : 97675513774 Question Type : MCQ Option Shuffling : Yes Is Question Mandatory : No Option Orientation : Vertical

Correct Marks : 1 Wrong Marks : 0.25

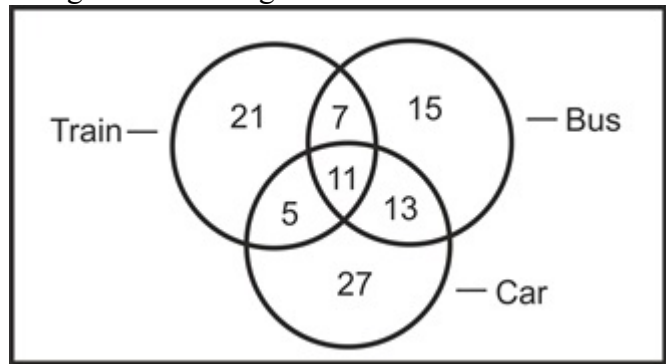
निम्नलिखित में से कौन सा वेन आरेख भतीजी, महिलाओं और भाइयों के बीच के संबंध को सबसे अच्छा दर्शाता है?

Options :



Question Number : 27 Question Id : 97675513775 Question Type : MCQ Option Shuffling : Yes Is Question Mandatory : No Option Orientation : Vertical Correct Marks : 1 Wrong Marks : 0.25

The given Venn diagram shows the number of students who travel by bus, car or train. How many students travel by only one medium?



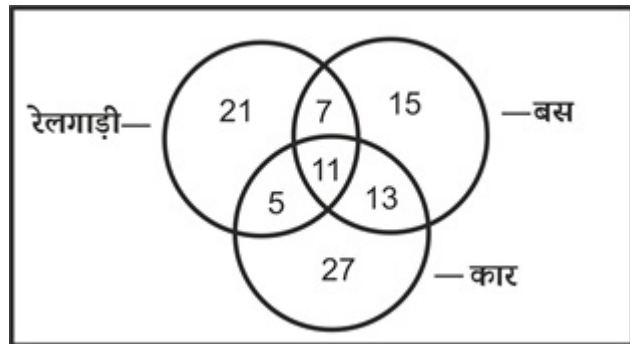
Options :

1. ✘ 36
2. ✘ 47
3. ✔ 63
4. ✘ 11

Question Number : 27 Question Id : 97675513775 Question Type : MCQ Option Shuffling : Yes Is Question Mandatory : No Option Orientation : Vertical

Correct Marks : 1 Wrong Marks : 0.25

दिया गया वेन आरेख उन छात्रों की संख्या को दर्शाता है जो बस, कार या रेलगाड़ी से यात्रा करते हैं। केवल एक माध्यम से कितने छात्र यात्रा करते हैं?



Options :

1. ✘ 36
2. ✘ 47
3. ✔ 63
4. ✘ 11

Question Number : 28 Question Id : 97675513776 Question Type : MCQ Option Shuffling : Yes Is Question Mandatory : No Option Orientation : Vertical

Correct Marks : 1 Wrong Marks : 0.25

If West is South, North-East is North-West, then North-West is _____.

Options :

1. ✘ North
2. ✘ South-East
3. ✔ South-West
4. ✘ East

Question Number : 28 Question Id : 97675513776 Question Type : MCQ Option Shuffling : Yes Is Question Mandatory : No Option Orientation : Vertical

Correct Marks : 1 Wrong Marks : 0.25

यदि पश्चिम दक्षिण है, उत्तर-पूर्व उत्तर-पश्चिम है, तो उत्तर-पश्चिम _____ है।

Options :

1. ✘ उत्तर
2. ✘ दक्षिण-पूर्व
3. ✔ दक्षिण-पश्चिम
4. ✘ पूर्व

Question Number : 29 Question Id : 97675513777 Question Type : MCQ Option Shuffling : Yes Is Question Mandatory : No Option Orientation : Vertical

Correct Marks : 1 Wrong Marks : 0.25

Rashi walk 0.3 km towards West. Then, she turns right and goes for 0.5 km. Then, she turns right and goes straight for 0.3 km to reach her friend's place. What is the shortest distance between Pallavi's friend's place and her home?

Options :

1. ✔ 0.5 km
2. ✘ 0.4 km
3. ✘ 0.8 km
4. ✘ 0.3 km

Question Number : 29 Question Id : 97675513777 Question Type : MCQ Option Shuffling : Yes Is Question Mandatory : No Option Orientation : Vertical

Correct Marks : 1 Wrong Marks : 0.25

राशी पश्चिम की ओर 0.3 km चलती है फिर, वह दाईं ओर मुड़ती है और 0.5 km चलती है। फिर, वह दाईं ओर मुड़ती है और अपने मित्र के स्थान तक पहुंचने के लिए सीधा 0.3 km चलती है। पल्लवी की सहेली के स्थान और उसके घर के बीच सबसे कम दूरी क्या है?

Options :

1. ✓ 0.5 km
2. ✗ 0.4 km
3. ✗ 0.8 km
4. ✗ 0.3 km

Question Number : 30 Question Id : 97675513778 Question Type : MCQ Option Shuffling : Yes Is Question Mandatory : No Option Orientation : Vertical

Correct Marks : 1 Wrong Marks : 0.25

Astha walks 7 km north, then turns west and walks 6 km, then turns south and walks 2 km, then turns west and walks 3 km, then turns to her left and walks 5 km. Where is she now with reference to her starting position?

Options :

1. ✗ 9 km east
2. ✗ 3 km west
3. ✓ 9 km west
4. ✗ 3 km east

Question Number : 30 Question Id : 97675513778 Question Type : MCQ Option Shuffling : Yes Is Question Mandatory : No Option Orientation : Vertical

Correct Marks : 1 Wrong Marks : 0.25

आस्था 7 km उत्तर की ओर चलती है, फिर पश्चिम की ओर मुड़ती है और 6 km चलती है, फिर दक्षिण की ओर मुड़ती है और 2 km चलती है, फिर पश्चिम की ओर मुड़ती है और 3 km चलती है, फिर अपनी बाईं ओर मुड़ती है और 5 km चलती है। अपने प्रारंभिक स्थान के संदर्भ में अब वह कहां है?

Options :

1. ✗ 9 km पूर्व
2. ✗ 3 km पश्चिम
3. ✓ 9 km पश्चिम
4. ✗ 3 km पूर्व

Question Number : 31 Question Id : 97675513779 Question Type : MCQ Option Shuffling : Yes Is Question Mandatory : No Option Orientation : Vertical

Correct Marks : 1 Wrong Marks : 0.25

Charlie travels 9 km west, then turns to his left and travels 11 km. Darsheel travels 5 km south, then turns west and travels 17 km, then turns south and travels 18 km, then turns to his left and travels 8 km. Where is Darsheel with respect to Charlie now?

Options :

1. ✘ 12 km north
2. ✘ 34 km south
3. ✔ 12 km south
4. ✘ 34 km north

Question Number : 31 Question Id : 97675513779 Question Type : MCQ Option Shuffling : Yes Is Question Mandatory : No Option Orientation : Vertical

Correct Marks : 1 Wrong Marks : 0.25

चाली 9 km पश्चिम की ओर यात्रा करता है, फिर अपनी बाईं ओर मुड़ता है और 11 km यात्रा करता है। दर्शील 5 km दक्षिण की ओर यात्रा करता है, फिर पश्चिम की ओर मुड़ता है और 17 km की यात्रा करता है, फिर दक्षिण की ओर मुड़ता है और 18 km यात्रा करता है, फिर अपनी बाईं ओर मुड़ता है और 8 km यात्रा करता है। चाली के संबंध में अब दर्शील कहां है?

Options :

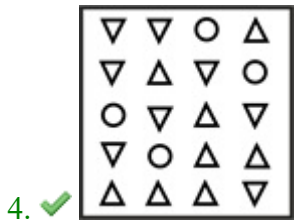



1. ✘ 12 km उत्तर
2. ✘ 34 km दक्षिण
3. ✔ 12 km दक्षिण
4. ✘ 34 km उत्तर

Question Number : 32 Question Id : 97675513780 Question Type : MCQ Option Shuffling : Yes Is Question Mandatory : No Option Orientation : Vertical

Correct Marks : 1 Wrong Marks : 0.25

Out of the given options, three are similar in a certain manner. However, one option is NOT like the other three. Select the option which is different from the rest.

Options :

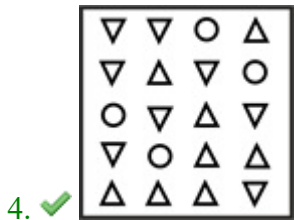





Question Number : 32 Question Id : 97675513780 Question Type : MCQ Option Shuffling : Yes Is Question Mandatory : No Option Orientation : Vertical

Correct Marks : 1 Wrong Marks : 0.25

दिए गए विकल्पों में से तीन एक निश्चित तरीके से समान हैं। हालाँकि, एक विकल्प अन्य तीन की तरह नहीं है। उस विकल्प का चयन करें जो अन्य से अलग है।

Options :



Question Number : 33 Question Id : 97675513781 Question Type : MCQ Option Shuffling : Yes Is Question Mandatory : No Option Orientation : Vertical

Correct Marks : 1 Wrong Marks : 0.25

Which of the following answer figure completes the series of the question figure?

@	○	+	□	#	/	
+	□	#	/	◇	÷	
#	/	◇	○	\$	-	*
◇		\$	*	-	@	
\$	-	*	÷	\$	-	*
						+
						?

Options :

1. ✘

@	+
◇	○
	□
	÷
	/
\$ * - #	@

2. ✔

◇	÷
	○
	□
	/
	@
\$ * -	+
	#

3. ✘

◇	÷
	○
	□
	@
	/
\$ - *	+
	#

4. ✘

◇	○
	□
\$	÷
	/
# - * +	@

Question Number : 33 Question Id : 97675513781 Question Type : MCQ Option Shuffling : Yes Is Question Mandatory : No Option Orientation : Vertical

Correct Marks : 1 Wrong Marks : 0.25

निम्नलिखित में से कौन सी उत्तर आकृति प्रश्न आकृति की श्रृंखला को पूरा करती है?

@	○	+	□	#	/	
+	□	#	/	◇	○	?
#	/	◇	○	\$	*	@
◇	\$	*	-	@	\$	-
\$	-	*	÷	\$	*	+

Options :

1. ✘

@	+
◇	○
	□
	÷
	/
\$ *	# @

2. ✔

◇	÷
	○
	□
	/
	@
\$ *	+
	#

3. ✘

◇	÷
	○
	□
	@
	/
\$ - *	+
	#

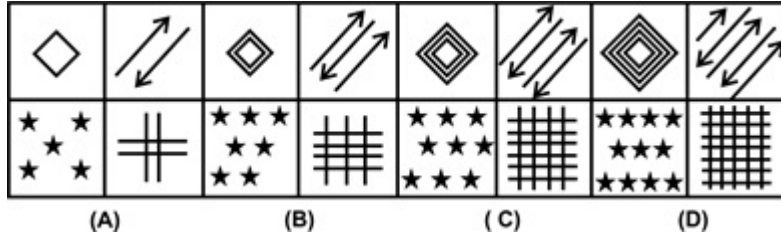
4. ✘

◇	○
	□
\$	÷
	/
# - *	+
	@

Question Number : 34 Question Id : 97675513782 Question Type : MCQ Option Shuffling : Yes Is Question Mandatory : No Option Orientation : Vertical

Correct Marks : 1 Wrong Marks : 0.25

Which of the following options is the wrong figure in the series?



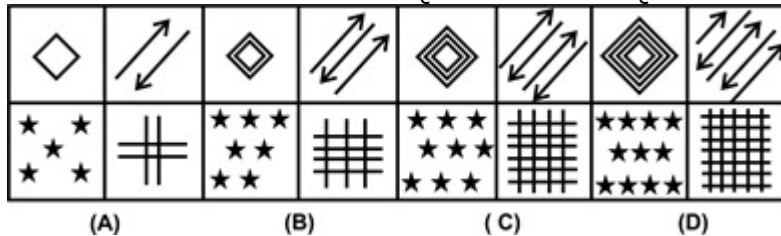
Options :

1. ✘ Image A
2. ✘ Image B
3. ✘ Image C
4. ✔ Image D

Question Number : 34 Question Id : 97675513782 Question Type : MCQ Option Shuffling : Yes Is Question Mandatory : No Option Orientation : Vertical

Correct Marks : 1 Wrong Marks : 0.25

निम्नलिखित में से कौन सा विकल्प श्रृंखला में गलत आकृति है?



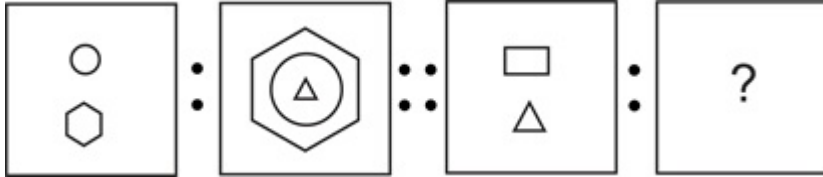
Options :

1. ✘ छवि A
2. ✘ छवि B
3. ✘ छवि C
4. ✔ छवि D

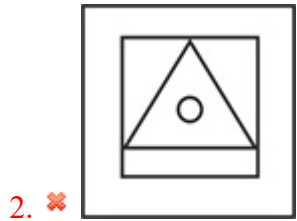
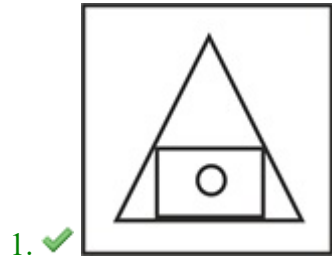
Question Number : 35 Question Id : 97675513783 Question Type : MCQ Option Shuffling : Yes Is Question Mandatory : No Option Orientation : Vertical

Correct Marks : 1 Wrong Marks : 0.25

Select the option that is related to the third image on the same basis as the second image is related to the first image.



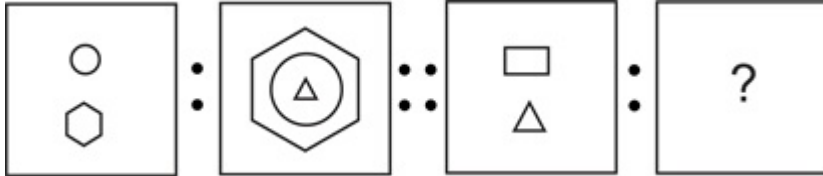
Options :



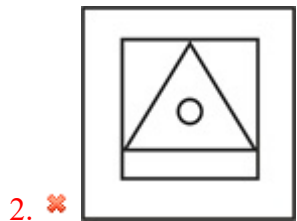
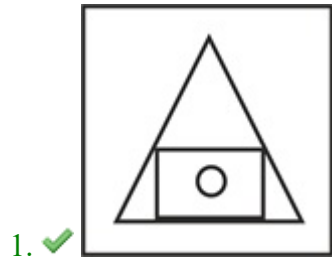
Question Number : 35 Question Id : 97675513783 Question Type : MCQ Option Shuffling : Yes Is Question Mandatory : No Option Orientation : Vertical

Correct Marks : 1 Wrong Marks : 0.25

उस विकल्प का चयन करें जो तीसरी छवि से उसी प्रकार से संबंधित है जिस प्रकार से दूसरी छवि पहली छवि से संबंधित है।



Options :

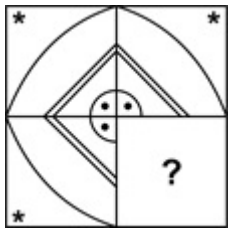




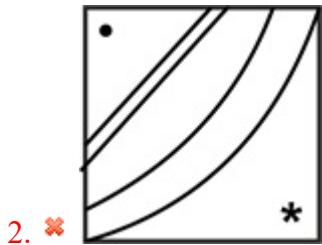
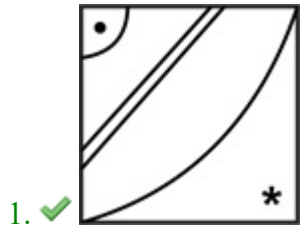
Question Number : 36 Question Id : 97675513784 Question Type : MCQ Option Shuffling : Yes Is Question Mandatory : No Option Orientation : Vertical

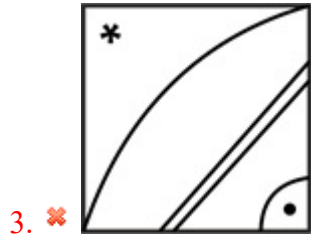
Correct Marks : 1 Wrong Marks : 0.25

Which of the following answer figure patterns can be combined to make the question figure?



Options :

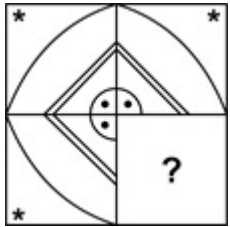




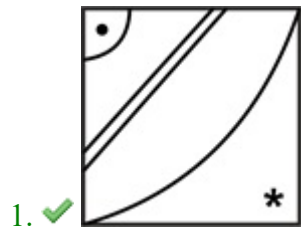
Question Number : 36 Question Id : 97675513784 Question Type : MCQ Option Shuffling : Yes Is Question Mandatory : No Option Orientation : Vertical

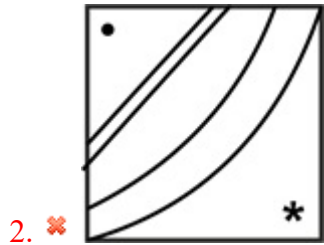
Correct Marks : 1 Wrong Marks : 0.25

निम्नलिखित में से कौन सी उत्तर आकृति पैटर्न को प्रश्न आकृति बनाने के लिए जोड़ा जा सकता है?



Options :

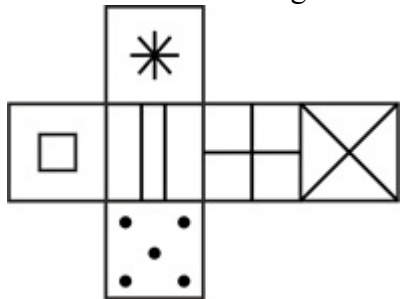




Question Number : 37 Question Id : 97675513785 Question Type : MCQ Option Shuffling : Yes Is Question Mandatory : No Option Orientation : Vertical

Correct Marks : 1 Wrong Marks : 0.25

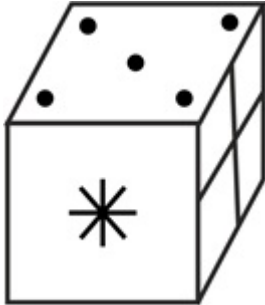
Which of the following cube in the answer figure cannot be made based on the unfolded cube in the question figure?




Options :



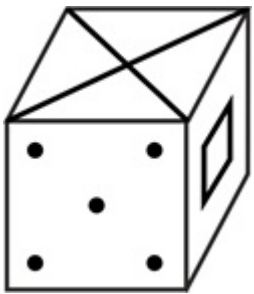
1. ✘



2. ✔



3. ✘

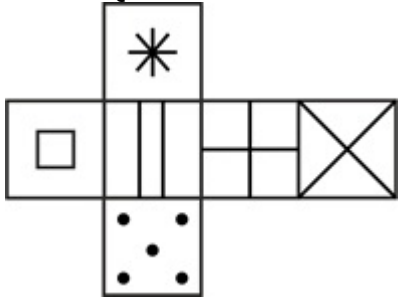


4. ✘

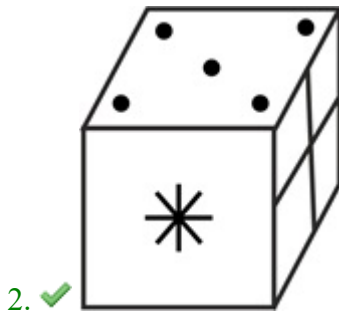
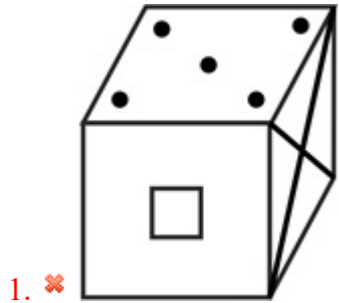
Question Number : 37 Question Id : 97675513785 Question Type : MCQ Option Shuffling : Yes Is Question Mandatory : No Option Orientation : Vertical

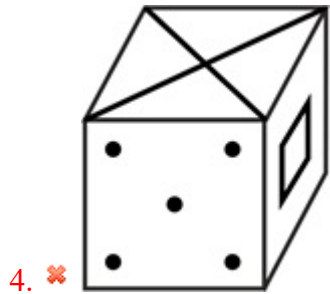
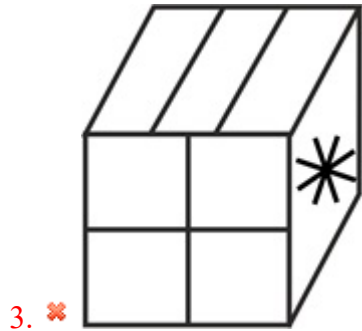
Correct Marks : 1 Wrong Marks : 0.25

उत्तर आकृति में किस घन को प्रश्न आकृति में नहीं मोड़े गए घन के आधार पर नहीं बनाया जा सकता है?



Options :

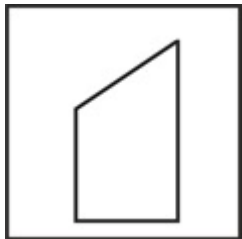




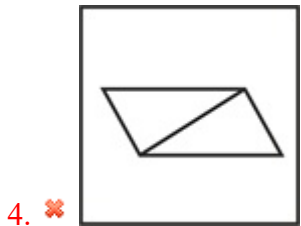
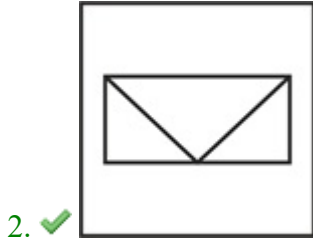
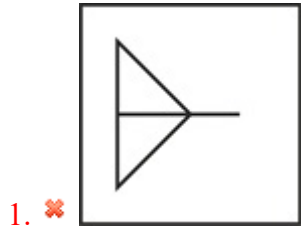
Question Number : 38 Question Id : 97675513786 Question Type : MCQ Option Shuffling : Yes Is Question Mandatory : No Option Orientation : Vertical

Correct Marks : 1 Wrong Marks : 0.25

From the given answer figures, select the one in which the question figure is hidden/embedded.



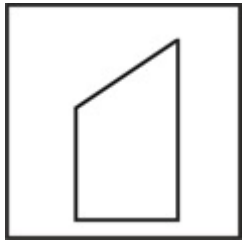
Options :



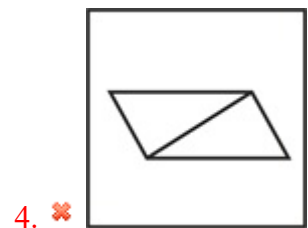
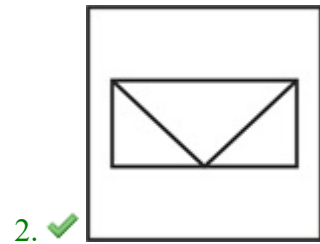
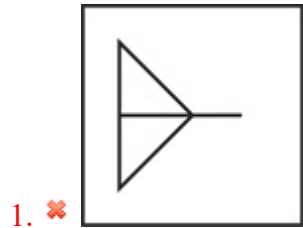
Question Number : 38 Question Id : 97675513786 Question Type : MCQ Option Shuffling : Yes Is Question Mandatory : No Option Orientation : Vertical

Correct Marks : 1 Wrong Marks : 0.25

दी गई उत्तर आकृति से, उस आकृति का चयन करें जिसमें प्रश्न आकृति छिपी/सन्निहित है।



Options :



Question Number : 39 Question Id : 97675513787 Question Type : MCQ Option Shuffling : Yes Is Question Mandatory : No Option Orientation : Vertical

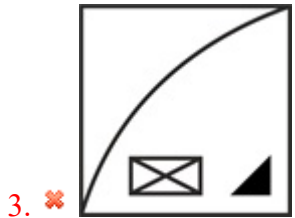

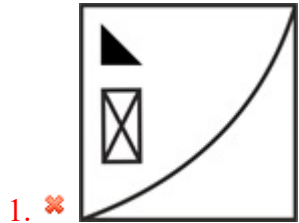
Correct Marks : 1 Wrong Marks : 0.25

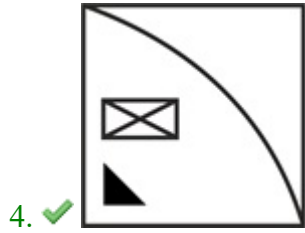
If a mirror is placed on the line MN, then which of the answer figures is the correct image of the given figure?



M N

Options :





Question Number : 39 Question Id : 97675513787 Question Type : MCQ Option Shuffling : Yes Is Question Mandatory : No Option Orientation : Vertical

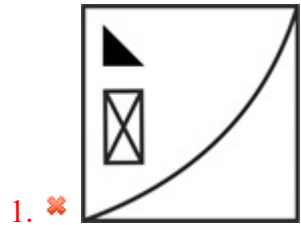
Correct Marks : 1 Wrong Marks : 0.25

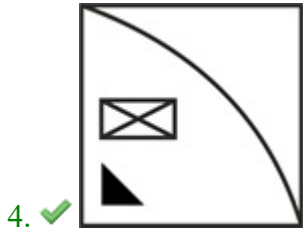
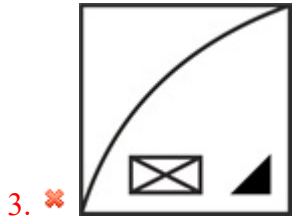
यदि एक दर्पण को रेखा MN पर रखा गया है, तो कौन सी उत्तर आकृति दी गई आकृति का सही दर्पण प्रतिबिंब है?



M N

Options :

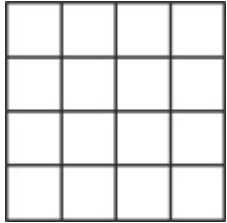




Question Number : 40 Question Id : 97675513788 Question Type : MCQ Option Shuffling : Yes Is Question Mandatory : No Option Orientation : Vertical

Correct Marks : 1 Wrong Marks : 0.25

How many maximum squares are there in the question figure?



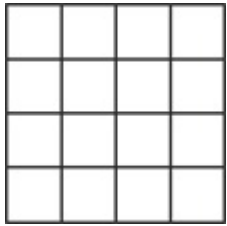
Options :

- 1. ✘ 36
- 2. ✘ 24
- 3. ✔ 30
- 4. ✘ 20

Question Number : 40 Question Id : 97675513788 Question Type : MCQ Option Shuffling : Yes Is Question Mandatory : No Option Orientation : Vertical

Correct Marks : 1 Wrong Marks : 0.25

प्रश्न आकृति में कितने अधिकतम वर्ग हैं?



Options :

1. ✘ 36
2. ✘ 24
3. ✔ 30
4. ✘ 20

General Awareness1

Group Number :	3
Group Id :	976755470
Group Maximum Duration :	0
Group Minimum Duration :	0
Show Attended Group? :	No
Edit Attended Group? :	No
Break time :	0
Group Marks :	20
Is this Group for Examiner? :	No

General Awareness1

Section Id :	976755807
Section Number :	1
Section type :	Online
Mandatory or Optional :	Mandatory
Number of Questions :	20
Number of Questions to be attempted :	20
Section Marks :	20

Enable Mark as Answered Mark for Review and Clear Response : Yes
Sub-Section Number : 1
Sub-Section Id : 976755948
Question Shuffling Allowed : Yes

Question Number : 41 Question Id : 97675513789 Question Type : MCQ Option Shuffling : Yes Is Question Mandatory : No Option Orientation : Vertical

Correct Marks : 1 Wrong Marks : 0.25

Who among the following built the Moti Masjid of Agra?

Options :

1. ✘ Aurangzeb
2. ✔ Shah Jahan
3. ✘ Babur
4. ✘ Humayun

Question Number : 41 Question Id : 97675513789 Question Type : MCQ Option Shuffling : Yes Is Question Mandatory : No Option Orientation : Vertical

Correct Marks : 1 Wrong Marks : 0.25

निम्नलिखित में से किसने आगरा के मोती मस्जिद का निर्माण किया था?

Options :

1. ✘ औरंगज़ेब
2. ✔ शाह जहाँ
3. ✘ बाबर
4. ✘ हुमायूँ

Question Number : 42 Question Id : 97675513790 Question Type : MCQ Option Shuffling : Yes Is Question Mandatory : No Option Orientation : Vertical

Correct Marks : 1 Wrong Marks : 0.25

Onam is celebrated for _____ days with the arrival of Mahabali.

Options :

1. ✔ ten
2. ✘ five

3. ✘ three
4. ✘ eight

Question Number : 42 Question Id : 97675513790 Question Type : MCQ Option Shuffling : Yes Is Question Mandatory : No Option Orientation : Vertical

Correct Marks : 1 Wrong Marks : 0.25

ओणम, महाबली के आगमन के साथ _____ दिनों के लिए मनाया जाता है।

Options :

1. ✔ दस
2. ✘ पांच
3. ✘ तीन
4. ✘ आठ

Question Number : 43 Question Id : 97675513791 Question Type : MCQ Option Shuffling : Yes Is Question Mandatory : No Option Orientation : Vertical

Correct Marks : 1 Wrong Marks : 0.25

The only objective of _____ dance form of Bihar is to invoke Lord Indra at a time of severe drought.

Options :

1. ✘ Jawara
2. ✘ Bhagoria
3. ✘ Ghumra
4. ✔ Jhijhian

Question Number : 43 Question Id : 97675513791 Question Type : MCQ Option Shuffling : Yes Is Question Mandatory : No Option Orientation : Vertical

Correct Marks : 1 Wrong Marks : 0.25

बिहार के _____ नृत्य रूप का एकमात्र उद्देश्य गंभीर सूखे के समय भगवान इंद्र का आह्वान करना है।

Options :

1. ✘ जावरा
2. ✘ भगोरिया
3. ✘ घुमरा

4. ✓ झिझियां

Question Number : 44 Question Id : 97675513792 Question Type : MCQ Option Shuffling : Yes Is Question Mandatory : No Option Orientation : Vertical

Correct Marks : 1 Wrong Marks : 0.25

Chakri is one of the most important folk music of which of the following states/union territories?

Options :

1. ✘ Uttar Pradesh
2. ✘ Himachal Pradesh
3. ✓ Jammu and Kashmir
4. ✘ Madhya Pradesh

Question Number : 44 Question Id : 97675513792 Question Type : MCQ Option Shuffling : Yes Is Question Mandatory : No Option Orientation : Vertical

Correct Marks : 1 Wrong Marks : 0.25

चकरी निम्नलिखित में से किस राज्य/केन्द्र-शासित प्रदेश का सबसे महत्वपूर्ण लोक संगीत है?

Options :

1. ✘ उत्तर प्रदेश
2. ✘ हिमाचल प्रदेश
3. ✓ जम्मू और कश्मीर
4. ✘ मध्य प्रदेश

Question Number : 45 Question Id : 97675513793 Question Type : MCQ Option Shuffling : Yes Is Question Mandatory : No Option Orientation : Vertical

Correct Marks : 1 Wrong Marks : 0.25

Reserve Bank of India was established in the year _____.

Options :

1. ✘ 1930
2. ✓ 1935
3. ✘ 1938
4. ✘ 1932

Question Number : 45 Question Id : 97675513793 Question Type : MCQ Option Shuffling : Yes Is Question Mandatory : No Option Orientation : Vertical

Correct Marks : 1 Wrong Marks : 0.25

भारतीय रिज़र्व बैंक की स्थापना _____ वर्ष में की गई थी।

Options :

1. ✘ 1930
2. ✔ 1935
3. ✘ 1938
4. ✘ 1932

Question Number : 46 Question Id : 97675513794 Question Type : MCQ Option Shuffling : Yes Is Question Mandatory : No Option Orientation : Vertical

Correct Marks : 1 Wrong Marks : 0.25

Which among the following is the first Indian bank to open an overseas branch?

Options :

1. ✔ Bank of India
2. ✘ Central Bank of India
3. ✘ State Bank of India
4. ✘ Presidency Bank

Question Number : 46 Question Id : 97675513794 Question Type : MCQ Option Shuffling : Yes Is Question Mandatory : No Option Orientation : Vertical

Correct Marks : 1 Wrong Marks : 0.25

निम्नलिखित में से कौन सा पहला भारतीय बैंक है जिसने विदेशी शाखा खोली?

Options :

1. ✔ बैंक ऑफ इंडिया
2. ✘ सेंट्रल बैंक ऑफ इंडिया
3. ✘ भारतीय स्टेट बैंक
4. ✘ प्रेसीडेंसी बैंक

Question Number : 47 Question Id : 97675513795 Question Type : MCQ Option Shuffling : Yes Is Question Mandatory : No Option Orientation : Vertical

Correct Marks : 1 Wrong Marks : 0.25

_____ refers to the total value of all the final goods and services produced in an economy during a certain period after deduction of depreciation of capital goods.

Options :

1. ✘ Private Income
2. ✘ Gross Domestic Product
3. ✔ Net National Product
4. ✘ Gross National Product

Question Number : 47 Question Id : 97675513795 Question Type : MCQ Option Shuffling : Yes Is Question Mandatory : No Option Orientation : Vertical

Correct Marks : 1 Wrong Marks : 0.25

_____ पूंजीगत वस्तुओं के मूल्यहास की कटौती के बाद एक निश्चित अवधि के दौरान एक अर्थव्यवस्था में उत्पादित सभी अंतिम वस्तुओं और सेवाओं के कुल मूल्य को संदर्भित करता है।

Options :

1. ✘ निजी आय
2. ✘ सकल घरेलू उत्पाद
3. ✔ शुद्ध राष्ट्रीय उत्पाद
4. ✘ सकल राष्ट्रीय उत्पाद

Question Number : 48 Question Id : 97675513796 Question Type : MCQ Option Shuffling : Yes Is Question Mandatory : No Option Orientation : Vertical

Correct Marks : 1 Wrong Marks : 0.25

As announced in Budget 2021, the custom duty on cotton has increased from nil to _____.

Options :

1. ✘ 5%
2. ✔ 10%
3. ✘ 15%
4. ✘ 20%

Question Number : 48 Question Id : 97675513796 Question Type : MCQ Option Shuffling : Yes Is Question Mandatory : No Option Orientation : Vertical

Correct Marks : 1 Wrong Marks : 0.25

बजट 2021 में घोषणा के अनुसार, कपास पर सीमा-शुल्क शून्य से बढ़कर _____ हो गई है।

Options :

1. ✘ 5%
2. ✔ 10%
3. ✘ 15%
4. ✘ 20%

Question Number : 49 Question Id : 97675513797 Question Type : MCQ Option Shuffling : Yes Is Question Mandatory : No Option Orientation : Vertical

Correct Marks : 1 Wrong Marks : 0.25

_____ is calculated by dividing the national income of the country by the total population of a country.

Options :

1. ✘ Personal Income
2. ✘ Disposable Income
3. ✔ Per Capita Income
4. ✘ Net National Product

Question Number : 49 Question Id : 97675513797 Question Type : MCQ Option Shuffling : Yes Is Question Mandatory : No Option Orientation : Vertical

Correct Marks : 1 Wrong Marks : 0.25

_____ की गणना देश की कुल जनसंख्या द्वारा देश की राष्ट्रीय आय को विभाजित करके की जाती है।

Options :

1. ✘ व्यक्तिगत आय
2. ✘ प्रयोज्य आय
3. ✔ प्रति व्यक्ति आय
4. ✘ शुद्ध राष्ट्रीय उत्पाद

Question Number : 50 Question Id : 97675513798 Question Type : MCQ Option Shuffling : Yes Is Question Mandatory : No Option Orientation : Vertical

Correct Marks : 1 Wrong Marks : 0.25

Which of the following elements does not belong to the Halogen group of Periodic Table?

Options :

1. ✘ Fluorine
2. ✘ Iodine
3. ✘ Bromine
4. ✔ Helium

Question Number : 50 Question Id : 97675513798 Question Type : MCQ Option Shuffling : Yes Is Question Mandatory : No Option Orientation : Vertical

Correct Marks : 1 Wrong Marks : 0.25

निम्न में से कौन सा तत्व आवर्त सारणी के हैलोजन समूह से संबंधित नहीं है?

Options :

1. ✘ फ्लोरीन
2. ✘ आयोडिन
3. ✘ ब्रोमीन
4. ✔ हिलियम

Question Number : 51 Question Id : 97675513799 Question Type : MCQ Option Shuffling : Yes Is Question Mandatory : No Option Orientation : Vertical

Correct Marks : 1 Wrong Marks : 0.25

According to Kepler's _____ law, the square of the time period of the planet's orbit is directly proportional to the cube of the semimajor axis of its elliptical path.

Options :

1. ✘ first
2. ✘ second
3. ✔ third
4. ✘ fourth

Question Number : 51 Question Id : 97675513799 Question Type : MCQ Option Shuffling : Yes Is Question Mandatory : No Option Orientation : Vertical

Correct Marks : 1 Wrong Marks : 0.25

केप्लर के _____ नियम के अनुसार, ग्रह की कक्षा के समयावधि का वर्ग, उसके एलिप्टिकल (दीर्घवृत्तीय) पाथ के अर्ध दीर्घ अक्ष के घन के सीधे आनुपातिक है।

Options :

1. ✘ पहले
2. ✘ दूसरे
3. ✔ तीसरे
4. ✘ चौथे

Question Number : 52 Question Id : 97675513800 Question Type : MCQ Option Shuffling : Yes Is Question Mandatory : No Option Orientation : Vertical

Correct Marks : 1 Wrong Marks : 0.25

Water harvesting is called _____ in Himachal Pradesh.

Options :

1. ✔ Kulhs
2. ✘ Eris
3. ✘ Bundhis
4. ✘ Kattas

Question Number : 52 Question Id : 97675513800 Question Type : MCQ Option Shuffling : Yes Is Question Mandatory : No Option Orientation : Vertical

Correct Marks : 1 Wrong Marks : 0.25

हिमाचल प्रदेश में जल संचयन को _____ कहा जाता है।

Options :

1. ✔ कुल्ह
2. ✘ एरीस
3. ✘ बुँदिस
4. ✘ कट्टा

Question Number : 53 Question Id : 97675513801 Question Type : MCQ Option Shuffling : Yes Is Question Mandatory : No Option Orientation : Vertical

Correct Marks : 1 Wrong Marks : 0.25

The scientific name of Vitamin K1 is _____.

Options :

1. ✘ Cobalamin
2. ✘ Riboflavin
3. ✔ Phytomenadione
4. ✘ Pyridoxine

Question Number : 53 Question Id : 97675513801 Question Type : MCQ Option Shuffling : Yes Is Question Mandatory : No Option Orientation : Vertical

Correct Marks : 1 Wrong Marks : 0.25

विटामिन K1 का वैज्ञानिक नाम _____ है।

Options :

1. ✘ कोबालामिन
2. ✘ रिबोफ्लेविन
3. ✔ फायटोमेनाडिओन
4. ✘ पायरीडॉक्सीन

Question Number : 54 Question Id : 97675513802 Question Type : MCQ Option Shuffling : Yes Is Question Mandatory : No Option Orientation : Vertical

Correct Marks : 1 Wrong Marks : 0.25

Khadar and Bhangar are types of which of the following soil?

Options :

1. ✘ Black
2. ✔ Alluvial
3. ✘ Laterite
4. ✘ Saline

Question Number : 54 Question Id : 97675513802 Question Type : MCQ Option Shuffling : Yes Is Question Mandatory : No Option Orientation : Vertical

Correct Marks : 1 Wrong Marks : 0.25

खादर और भांगर निम्नलिखित में से किस मृदा के प्रकार हैं?

Options :

1. ✘ काली
2. ✔ जलोढ़ (एलूवियल)
3. ✘ लैटेराइट
4. ✘ खारा (सेलाइन)

Question Number : 55 Question Id : 97675513803 Question Type : MCQ Option Shuffling : Yes Is Question Mandatory : No Option Orientation : Vertical

Correct Marks : 1 Wrong Marks : 0.25

Which among the following is an example of Zaid crops?

Options :

1. ✘ Wheat
2. ✘ Rice
3. ✔ Cucumber
4. ✘ Mustard

Question Number : 55 Question Id : 97675513803 Question Type : MCQ Option Shuffling : Yes Is Question Mandatory : No Option Orientation : Vertical

Correct Marks : 1 Wrong Marks : 0.25

निम्नलिखित में से कौन सा ज़ायद की फ़सल का उदाहरण है?

Options :

1. ✘ गेहूँ
2. ✘ चावल
3. ✔ खीरा
4. ✘ सरसों

Question Number : 56 Question Id : 97675513804 Question Type : MCQ Option Shuffling : Yes Is Question Mandatory : No Option Orientation : Vertical

Correct Marks : 1 Wrong Marks : 0.25

Which among the following rivers is not a tributary of Yamuna?

Options :

1. ✘ Sindh

2. ✘ Betwa
3. ✘ Tons
4. ✔ Kosi

Question Number : 56 Question Id : 97675513804 Question Type : MCQ Option Shuffling : Yes Is Question Mandatory : No Option Orientation : Vertical

Correct Marks : 1 Wrong Marks : 0.25

निम्नलिखित नदियों में से कौन सी यमुना की एक उपनदी नहीं है?

Options :

1. ✘ सिंद
2. ✘ बेतवा
3. ✘ टोंस
4. ✔ कोसी

Question Number : 57 Question Id : 97675513805 Question Type : MCQ Option Shuffling : Yes Is Question Mandatory : No Option Orientation : Vertical

Correct Marks : 1 Wrong Marks : 0.25

The highest peak of Karnataka, Mullayanagiri, is located on which of the following range?

Options :

1. ✔ Western Ghats
2. ✘ Eastern Ghats
3. ✘ Aravalli
4. ✘ Satapura

Question Number : 57 Question Id : 97675513805 Question Type : MCQ Option Shuffling : Yes Is Question Mandatory : No Option Orientation : Vertical

Correct Marks : 1 Wrong Marks : 0.25

कर्नाटक की सबसे ऊंची चोटी, मुल्लयानगिरी, निम्नलिखित में से किस पर्वतमाला पर स्थित है?

Options :

1. ✔ पश्चिमी घाट
2. ✘ पूर्वी घाट

3. ✖ अरावली
4. ✖ सतपुड़ा

Question Number : 58 Question Id : 97675513806 Question Type : MCQ Option Shuffling : Yes Is Question Mandatory : No Option Orientation : Vertical

Correct Marks : 1 Wrong Marks : 0.25

Which among the following trench was earlier known as the Java Trench?

Options :

1. ✖ Puerto Rico Trench
2. ✖ South Sandwich Trench
3. ✔ Sunda Trench
4. ✖ Mariana Trench

Question Number : 58 Question Id : 97675513806 Question Type : MCQ Option Shuffling : Yes Is Question Mandatory : No Option Orientation : Vertical

Correct Marks : 1 Wrong Marks : 0.25

निम्नलिखित में से किस गर्त को पहले जावा गर्त के नाम से जाना जाता था?

Options :

1. ✖ पुएर्टोरीको गर्त
2. ✖ दक्षिण सैंडविच गर्त
3. ✔ सुन्दा गर्त
4. ✖ मारियाना गर्त

Question Number : 59 Question Id : 97675513807 Question Type : MCQ Option Shuffling : Yes Is Question Mandatory : No Option Orientation : Vertical

Correct Marks : 1 Wrong Marks : 0.25

Who was the founder of the Satavahana Dynasty?

Options :

1. ✖ Yagya Sri Satakarni
2. ✔ Simuka
3. ✖ Gautamiputra Satakarni

4. ✖ Yajna Satakarni

Question Number : 59 Question Id : 97675513807 Question Type : MCQ Option Shuffling : Yes Is Question Mandatory : No Option Orientation : Vertical

Correct Marks : 1 Wrong Marks : 0.25

सातवाहन राजवंश का संस्थापक कौन था?

Options :

1. ✖ यज्ञ श्री सतकर्णी
2. ✔ सीमुक
3. ✖ गौतमी पुत्र शातकर्णी
4. ✖ यजना शातकर्णी

Question Number : 60 Question Id : 97675513808 Question Type : MCQ Option Shuffling : Yes Is Question Mandatory : No Option Orientation : Vertical

Correct Marks : 1 Wrong Marks : 0.25

Which among the following vedas is known as "Veda of Melodies and Chants"?

Options :

1. ✖ Rig
2. ✖ Atharva
3. ✖ Yajur
4. ✔ Sama

Question Number : 60 Question Id : 97675513808 Question Type : MCQ Option Shuffling : Yes Is Question Mandatory : No Option Orientation : Vertical

Correct Marks : 1 Wrong Marks : 0.25

निम्नलिखित वेदों में से किसे "गीत और संगीत के वेद" के रूप में जाना जाता है?

Options :

1. ✖ ऋग
2. ✖ अथर्व
3. ✖ यजुर
4. ✔ साम

General Awareness2

Group Number :	4
Group Id :	976755471
Group Maximum Duration :	0
Group Minimum Duration :	0
Show Attended Group? :	No
Edit Attended Group? :	No
Break time :	0
Group Marks :	20
Is this Group for Examiner? :	No

General Awareness2

Section Id :	976755808
Section Number :	1
Section type :	Online
Mandatory or Optional :	Mandatory
Number of Questions :	20
Number of Questions to be attempted :	20
Section Marks :	20
Enable Mark as Answered Mark for Review and Clear Response :	Yes
Sub-Section Number :	1
Sub-Section Id :	976755949
Question Shuffling Allowed :	Yes

Question Number : 61 Question Id : 97675513809 Question Type : MCQ Option Shuffling : Yes Is Question Mandatory : No Option Orientation : Vertical

Correct Marks : 1 Wrong Marks : 0.25

_____ account of travels is known as the Rihla.

Options :

1. ✓ Ibn Battuta's
2. ✗ Marco Polo's
3. ✗ Hiuen Tsang's
4. ✗ Fahien's

Question Number : 61 Question Id : 97675513809 Question Type : MCQ Option Shuffling : Yes Is Question Mandatory : No Option Orientation : Vertical

Correct Marks : 1 Wrong Marks : 0.25

यात्रा के _____ खाते को रिहला के के नाम से जाना जाता है।

Options :

1. ✓ इब्र बतूता
2. ✗ मार्को पोलो
3. ✗ हेन त्सांग
4. ✗ फ़ाहियान

Question Number : 62 Question Id : 97675513810 Question Type : MCQ Option Shuffling : Yes Is Question Mandatory : No Option Orientation : Vertical

Correct Marks : 1 Wrong Marks : 0.25

Who won the Battle of Karnal fought in 1739?

Options :

1. ✓ Nader Shah
2. ✗ Muhammad Shah
3. ✗ Aurangzeb
4. ✗ Ibrahim Lodi

Question Number : 62 Question Id : 97675513810 Question Type : MCQ Option Shuffling : Yes Is Question Mandatory : No Option Orientation : Vertical

Correct Marks : 1 Wrong Marks : 0.25

1739 में लड़े गए करनाल का युद्ध किसने जीता था?

Options :

1. ✓ नादिर शाह

2. ✘ मुहम्मद शाह
3. ✘ औरंगज़ेब
4. ✘ इब्राहिम लोदी

Question Number : 63 Question Id : 97675513811 Question Type : MCQ Option Shuffling : Yes Is Question Mandatory : No Option Orientation : Vertical

Correct Marks : 1 Wrong Marks : 0.25

When was the Treaty of Alinagar signed?

Options :

1. ✘ 1793
2. ✘ 1782
3. ✘ 1795
4. ✔ 1757

Question Number : 63 Question Id : 97675513811 Question Type : MCQ Option Shuffling : Yes Is Question Mandatory : No Option Orientation : Vertical

Correct Marks : 1 Wrong Marks : 0.25

अलीनगर की संधि पर हस्ताक्षर कब किए गए थे?

Options :

1. ✘ 1793
2. ✘ 1782
3. ✘ 1795
4. ✔ 1757

Question Number : 64 Question Id : 97675513812 Question Type : MCQ Option Shuffling : Yes Is Question Mandatory : No Option Orientation : Vertical

Correct Marks : 1 Wrong Marks : 0.25

Who among the following built the Virupaksha temple of Karnataka?

Options :

1. ✘ Chola Empire
2. ✘ Rashtrakuta Empire
3. ✔ Vijayanagara Empire

4. ✖ Solanki Empire

Question Number : 64 Question Id : 97675513812 Question Type : MCQ Option Shuffling : Yes Is Question Mandatory : No Option Orientation : Vertical

Correct Marks : 1 Wrong Marks : 0.25

निम्नलिखित में से किसने कर्नाटक के विरुपाक्ष मंदिर का निर्माण किया था?

Options :

1. ✖ चोल साम्राज्य
2. ✖ राष्ट्रकूट साम्राज्य
3. ✔ विजयनगर साम्राज्य
4. ✖ सोलंकी साम्राज्य

Question Number : 65 Question Id : 97675513813 Question Type : MCQ Option Shuffling : Yes Is Question Mandatory : No Option Orientation : Vertical

Correct Marks : 1 Wrong Marks : 0.25

Veer Bhumi is the memorial of which of the following leaders?

Options :

1. ✔ Rajiv Gandhi
2. ✖ Morarjee Desai
3. ✖ Lal Bahadur Shastri
4. ✖ Charan Singh

Question Number : 65 Question Id : 97675513813 Question Type : MCQ Option Shuffling : Yes Is Question Mandatory : No Option Orientation : Vertical

Correct Marks : 1 Wrong Marks : 0.25

वीर भूमि निम्नलिखित में से किस नेता का स्मारक है?

Options :

1. ✔ राजीव गांधी
2. ✖ मोरारजी देसाई
3. ✖ लालबहादुर शास्त्री
4. ✖ चरण सिंह

Question Number : 66 Question Id : 97675513814 Question Type : MCQ Option Shuffling : Yes Is Question Mandatory : No Option Orientation : Vertical

Correct Marks : 1 Wrong Marks : 0.25

Atmakatha' is an autobiography of which of the following persons?

Options :

1. ✓ Rajendra Prasad
2. ✗ Jawaharlal Nehru
3. ✗ Narendra Modi
4. ✗ A.P.J Abdul Kalam

Question Number : 66 Question Id : 97675513814 Question Type : MCQ Option Shuffling : Yes Is Question Mandatory : No Option Orientation : Vertical

Correct Marks : 1 Wrong Marks : 0.25

अथमकथा' निम्नलिखित में से किस व्यक्ति की आत्मकथा है?

Options :

1. ✓ राजेन्द्र प्रसाद
2. ✗ जवाहरलाल नेहरू
3. ✗ नरेंद्र मोदी
4. ✗ ए. पी. जे. अब्दुल कलाम

Question Number : 67 Question Id : 97675513815 Question Type : MCQ Option Shuffling : Yes Is Question Mandatory : No Option Orientation : Vertical

Correct Marks : 1 Wrong Marks : 0.25

Which among the following books is not written by Amitav Ghosh?

Options :

1. ✗ The Glass Palace
2. ✓ The Tunnel of Time
3. ✗ The Circle of Reason
4. ✗ The Shadow Lines

Question Number : 67 Question Id : 97675513815 Question Type : MCQ Option Shuffling : Yes Is Question Mandatory : No Option

Orientation : Vertical

Correct Marks : 1 Wrong Marks : 0.25

निम्नलिखित में से कौन सी किताब अमिताभ घोष ने नहीं लिखी है?

Options :

1. ✘ द ग्लास पैलेस
2. ✔ द टनल ऑफ़ टाइम
3. ✘ द सर्कल ऑफ़ रीसन
4. ✘ द शैडो लाइन्स

Question Number : 68 Question Id : 97675513816 Question Type : MCQ Option Shuffling : Yes Is Question Mandatory : No Option

Orientation : Vertical

Correct Marks : 1 Wrong Marks : 0.25

Which among the following songs won the 65th Filmfare Awards 2020 in the 'Best Lyrics' category?

Options :

1. ✘ Kalank
2. ✘ Ve Maahi
3. ✔ Apna Time Ayega
4. ✘ Teri Mitti

Question Number : 68 Question Id : 97675513816 Question Type : MCQ Option Shuffling : Yes Is Question Mandatory : No Option

Orientation : Vertical

Correct Marks : 1 Wrong Marks : 0.25

निम्नलिखित गीतों में से किसने 'सर्वश्रेष्ठ गीतिकाव्य' श्रेणी में 65वां फ़िल्मफ़ेयर पुरस्कार 2020 जीता?

Options :

1. ✘ कलंक
2. ✘ वे माही
3. ✔ अपना टाइम आएगा
4. ✘ तेरी मिट्टी

Question Number : 69 Question Id : 97675513817 Question Type : MCQ Option Shuffling : Yes Is Question Mandatory : No Option

Orientation : Vertical

Correct Marks : 1 Wrong Marks : 0.25

What is the real name of Tansen?

Options :

1. ✓ Ramtanu Pandey
2. ✗ Narendra Nath Datta
3. ✗ Dhanpat Rai
4. ✗ Satyanarayana Raju

Question Number : 69 Question Id : 97675513817 Question Type : MCQ Option Shuffling : Yes Is Question Mandatory : No Option Orientation : Vertical

Correct Marks : 1 Wrong Marks : 0.25

तानसेन का वास्तविक नाम क्या है?

Options :

1. ✓ रामतनु पाण्डेय
2. ✗ नरेन्द्र नाथ दत्त
3. ✗ धनपत राय
4. ✗ सत्यनारायण राजू

Question Number : 70 Question Id : 97675513818 Question Type : MCQ Option Shuffling : Yes Is Question Mandatory : No Option Orientation : Vertical

Correct Marks : 1 Wrong Marks : 0.25

Which among the following is an autobiography of Mary Kom?

Options :

1. ✗ Courage and Conviction
2. ✗ Playing It My Way
3. ✗ Straight from the Heart
4. ✓ Unbreakable

Question Number : 70 Question Id : 97675513818 Question Type : MCQ Option Shuffling : Yes Is Question Mandatory : No Option Orientation : Vertical

Correct Marks : 1 Wrong Marks : 0.25

निम्नलिखित में से कौन सी मैरी कॉम की आत्मकथा है?

Options :

1. ✘ करेज एंड कन्विकशन
2. ✘ प्लेइंग इट माय वे
3. ✘ स्ट्रैट फ्रॉम द हार्ट
4. ✔ अनब्रेकेबल

Question Number : 71 Question Id : 97675513819 Question Type : MCQ Option Shuffling : Yes Is Question Mandatory : No Option Orientation : Vertical

Correct Marks : 1 Wrong Marks : 0.25

47th Constitutional Amendment included _____ land reforms Acts of various states in the Ninth Schedule.

Options :

1. ✔ 14
2. ✘ 15
3. ✘ 9
4. ✘ 12

Question Number : 71 Question Id : 97675513819 Question Type : MCQ Option Shuffling : Yes Is Question Mandatory : No Option Orientation : Vertical

Correct Marks : 1 Wrong Marks : 0.25

47वीं संवैधानिक संशोधन ने नौवीं अनुसूची में विभिन्न राज्यों के _____ भूमि सुधार अधिनियम शामिल किया।

Options :

1. ✔ 14
2. ✘ 15
3. ✘ 9
4. ✘ 12

Question Number : 72 Question Id : 97675513820 Question Type : MCQ Option Shuffling : Yes Is Question Mandatory : No Option Orientation : Vertical

Correct Marks : 1 Wrong Marks : 0.25

Which among the following Schedule in the Indian Constitution contains provisions as to the Administration and Control of Scheduled Areas and Scheduled Tribes?

Options :

1. ✘ Third
2. ✘ Fourth
3. ✔ Fifth
4. ✘ Sixth

Question Number : 72 Question Id : 97675513820 Question Type : MCQ Option Shuffling : Yes Is Question Mandatory : No Option Orientation : Vertical

Correct Marks : 1 Wrong Marks : 0.25

भारतीय संविधान में निम्नलिखित अनुसूची में से किसमें अनुसूचित क्षेत्रों और अनुसूचित जनजातियों के प्रशासन और नियंत्रण के प्रावधान शामिल हैं?

Options :

1. ✘ तीसरे
2. ✘ चौथे
3. ✔ पांचवें
4. ✘ छठे

Question Number : 73 Question Id : 97675513821 Question Type : MCQ Option Shuffling : Yes Is Question Mandatory : No Option Orientation : Vertical

Correct Marks : 1 Wrong Marks : 0.25

Which among the following part of the Indian Constitution deals with Emergency Provisions?

Options :

1. ✘ XIX
2. ✘ XIII
3. ✘ XV
4. ✔ XVIII

Question Number : 73 Question Id : 97675513821 Question Type : MCQ Option Shuffling : Yes Is Question Mandatory : No Option Orientation : Vertical

Correct Marks : 1 Wrong Marks : 0.25

भारतीय संविधान के निम्नलिखित भाग में से कौन सा आपातकालीन प्रावधान से संबंधित है?

Options :

1. ✘ XIX

2. ✘ XIII
3. ✘ XV
4. ✔ XVIII

Question Number : 74 Question Id : 97675513822 Question Type : MCQ Option Shuffling : Yes Is Question Mandatory : No Option Orientation : Vertical

Correct Marks : 1 Wrong Marks : 0.25

The concept of Cabinet system in the Indian Constitution is borrowed from the constitution of _____.

Options :

1. ✔ United Kingdom
2. ✘ Ireland
3. ✘ Germany
4. ✘ France

Question Number : 74 Question Id : 97675513822 Question Type : MCQ Option Shuffling : Yes Is Question Mandatory : No Option Orientation : Vertical

Correct Marks : 1 Wrong Marks : 0.25

भारतीय संविधान में कैबिनेट प्रणाली की अवधारणा _____ के संविधान से उधार ली गई है।

Options :

1. ✔ यूनाइटेड किंगडम
2. ✘ आयरलैंड
3. ✘ जर्मनी
4. ✘ फ्रांस

Question Number : 75 Question Id : 97675513823 Question Type : MCQ Option Shuffling : Yes Is Question Mandatory : No Option Orientation : Vertical

Correct Marks : 1 Wrong Marks : 0.25

Which among the following Constitutional Amendment facilitated the creation of a new autonomous State of Meghalaya within the State of Assam?

Options :

1. ✘ 25th
2. ✔ 22nd

3. ✖ 42nd

4. ✖ 38th

Question Number : 75 Question Id : 97675513823 Question Type : MCQ Option Shuffling : Yes Is Question Mandatory : No Option Orientation : Vertical

Correct Marks : 1 Wrong Marks : 0.25

निम्नलिखित में से कौन से संवैधानिक संशोधन असम राज्य के भीतर मेघालय के एक नए स्वायत्त राज्य के निर्माण को सुगम किया है?

Options :

1. ✖ 25वें

2. ✔ 22वें

3. ✖ 42वें

4. ✖ 38वें

Question Number : 76 Question Id : 97675513824 Question Type : MCQ Option Shuffling : Yes Is Question Mandatory : No Option Orientation : Vertical

Correct Marks : 1 Wrong Marks : 0.25

Sudirman Cup is associated with which of the following sports?

Options :

1. ✖ Table Tennis

2. ✔ Badminton

3. ✖ Golf

4. ✖ Football

Question Number : 76 Question Id : 97675513824 Question Type : MCQ Option Shuffling : Yes Is Question Mandatory : No Option Orientation : Vertical

Correct Marks : 1 Wrong Marks : 0.25

सुदीरमन कप निम्नलिखित में से किस खेल से जुड़ा है?

Options :

1. ✖ टेबल टेनिस

2. ✔ बैडमिंटन

3. ✖ गोल्फ़

4. ✖ फुटबॉल

Question Number : 77 Question Id : 97675513825 Question Type : MCQ Option Shuffling : Yes Is Question Mandatory : No Option Orientation : Vertical

Correct Marks : 1 Wrong Marks : 0.25

Who is the first Indian woman badminton player to win an Asian Games medal?

Options :

1. ✖ Ashwini Ponnappa
2. ✖ Jwala Gutta
3. ✔ Saina Nehwal
4. ✖ P.V. Sindhu

Question Number : 77 Question Id : 97675513825 Question Type : MCQ Option Shuffling : Yes Is Question Mandatory : No Option Orientation : Vertical

Correct Marks : 1 Wrong Marks : 0.25

एशियाई खेलों का पदक जीतने वाली पहली भारतीय महिला बैडमिंटन खिलाड़ी कौन है?

Options :

1. ✖ अश्विनी पोनप्पा
2. ✖ ज्वाला गुट्टा
3. ✔ साइना नेहवाल
4. ✖ पी.वी. सिंधु

Question Number : 78 Question Id : 97675513826 Question Type : MCQ Option Shuffling : Yes Is Question Mandatory : No Option Orientation : Vertical

Correct Marks : 1 Wrong Marks : 0.25

P.V. Sindhu has _____ in the BWF Swiss Open Super 300 in the final of the women's singles event held at Basel, Switzerland in March 2021.

Options :

1. ✖ won the Gold medal
2. ✖ did not win any medal
3. ✔ won the Silver medal
4. ✖ won the Bronze medal

Question Number : 78 Question Id : 97675513826 Question Type : MCQ Option Shuffling : Yes Is Question Mandatory : No Option Orientation : Vertical

Correct Marks : 1 Wrong Marks : 0.25

पी.वी. सिंधु मार्च 2021 में स्विट्जरलैंड के बासेल में आयोजित महिला एकल के फाइनल में BWF स्विस् ओपन सुपर 300 में _____ हैं।

Options :

1. ✘ स्वर्ण पदक जीता
2. ✘ कोई पदक नहीं जीता
3. ✔ रजत पदक जीता
4. ✘ कांस्य पदक जीता

Question Number : 79 Question Id : 97675513827 Question Type : MCQ Option Shuffling : Yes Is Question Mandatory : No Option Orientation : Vertical

Correct Marks : 1 Wrong Marks : 0.25

Who won the men's singles in Yonex All England Badminton Championships 2020 in Birmingham, England?

Options :

1. ✔ Viktor Axelsen
2. ✘ Peter Gade
3. ✘ Chou Tien-Chen
4. ✘ Hiroyuki Endo

Question Number : 79 Question Id : 97675513827 Question Type : MCQ Option Shuffling : Yes Is Question Mandatory : No Option Orientation : Vertical

Correct Marks : 1 Wrong Marks : 0.25

बर्मिंघम, इंग्लैंड में योनेक्स ऑल इंग्लैंड बैडमिंटन चैंपियनशिप 2020 में पुरुष एकल किसने जीता?

Options :

1. ✔ विक्टर एक्सेलसन
2. ✘ पीटर गेड
3. ✘ चौउ टिएन-चेन
4. ✘ हिरोयुकी एंडो

Question Number : 80 Question Id : 97675513828 Question Type : MCQ Option Shuffling : Yes Is Question Mandatory : No Option Orientation : Vertical

Correct Marks : 1 Wrong Marks : 0.25

The Khelo India University Games 2021 will be hosted by _____.

Options :

1. ✘ West Bengal
2. ✘ Odisha
3. ✔ Karnataka
4. ✘ Maharashtra

Question Number : 80 Question Id : 97675513828 Question Type : MCQ Option Shuffling : Yes Is Question Mandatory : No Option Orientation : Vertical

Correct Marks : 1 Wrong Marks : 0.25

खेलो इंडिया यूनिवर्सिटी गेम्स 2021 की मेजबानी _____ द्वारा की जाएगी।

Options :

1. ✘ पश्चिम बंगाल
2. ✘ ओडिशा
3. ✔ कर्नाटक
4. ✘ महाराष्ट्र

Arithmetic Ability1

Group Number :	5
Group Id :	976755472
Group Maximum Duration :	0
Group Minimum Duration :	0
Show Attended Group? :	No
Edit Attended Group? :	No
Break time :	0
Group Marks :	20
Is this Group for Examiner? :	No

Arithmetic Ability1

Section Id :	976755809
Section Number :	1
Section type :	Online
Mandatory or Optional :	Mandatory
Number of Questions :	20
Number of Questions to be attempted :	20
Section Marks :	20
Enable Mark as Answered Mark for Review and Clear Response :	Yes
Sub-Section Number :	1
Sub-Section Id :	976755950
Question Shuffling Allowed :	Yes

Question Number : 81 Question Id : 97675513829 Question Type : MCQ Option Shuffling : Yes Is Question Mandatory : No Option Orientation : Vertical

Correct Marks : 1 Wrong Marks : 0.25

Simplify: $(5616 \div 9) \div 6 = ?$

Options :

1. ✘ 102
2. ✔ 104
3. ✘ 103
4. ✘ 101

Question Number : 81 Question Id : 97675513829 Question Type : MCQ Option Shuffling : Yes Is Question Mandatory : No Option Orientation : Vertical

Correct Marks : 1 Wrong Marks : 0.25

सरलीकृत करें: $(5616 \div 9) \div 6 = ?$

Options :

1. ✘ 102
2. ✔ 104
3. ✘ 103

4. ✘ 101

Question Number : 82 Question Id : 97675513830 Question Type : MCQ Option Shuffling : Yes Is Question Mandatory : No Option Orientation : Vertical

Correct Marks : 1 Wrong Marks : 0.25

Simplify: $(4865 \times 2.2) - (4590 \times 2.3) + 1 = ?$

Options :

1. ✔ 147

2. ✘ 124

3. ✘ 156

4. ✘ 146

Question Number : 82 Question Id : 97675513830 Question Type : MCQ Option Shuffling : Yes Is Question Mandatory : No Option Orientation : Vertical

Correct Marks : 1 Wrong Marks : 0.25

सरलीकृत करें: $(4865 \times 2.2) - (4590 \times 2.3) + 1 = ?$

Options :

1. ✔ 147

2. ✘ 124

3. ✘ 156

4. ✘ 146

Question Number : 83 Question Id : 97675513831 Question Type : MCQ Option Shuffling : Yes Is Question Mandatory : No Option Orientation : Vertical

Correct Marks : 1 Wrong Marks : 0.25

A natural number is 15 more than its one-fourth part. What is the number?

Options :

1. ✘ 10

2. ✘ 15

3. ✔ 20

4. ✘ 25

Question Number : 83 Question Id : 97675513831 Question Type : MCQ Option Shuffling : Yes Is Question Mandatory : No Option Orientation : Vertical

Correct Marks : 1 Wrong Marks : 0.25

एक प्राकृत संख्या उसके एक-चौथाई भाग से 15 अधिक है। संख्या क्या है?

Options :

1. ✘ 10

2. ✘ 15

3. ✔ 20

4. ✘ 25

Question Number : 84 Question Id : 97675513832 Question Type : MCQ Option Shuffling : Yes Is Question Mandatory : No Option Orientation : Vertical

Correct Marks : 1 Wrong Marks : 0.25

Which is largest of the following fractions:

$\frac{10}{16}$, $\frac{4}{6}$, $\frac{14}{18}$ and $\frac{6}{10}$?

Options :

1. ✘ $\frac{10}{16}$

2. ✘ $\frac{4}{6}$

3. ✔ $\frac{14}{18}$

4. ✘ $\frac{6}{10}$

Question Number : 84 Question Id : 97675513832 Question Type : MCQ Option Shuffling : Yes Is Question Mandatory : No Option Orientation : Vertical

Correct Marks : 1 Wrong Marks : 0.25

निम्नलिखित भिन्न में से कौन सा सबसे बड़ा है:

$$\frac{10}{16}, \frac{4}{6}, \frac{14}{18} \text{ और } \frac{6}{10}$$

Options :

1. ✘ $\frac{10}{16}$

2. ✘ $\frac{4}{6}$

3. ✔ $\frac{14}{18}$

4. ✘ $\frac{6}{10}$

Question Number : 85 Question Id : 97675513833 Question Type : MCQ Option Shuffling : Yes Is Question Mandatory : No Option Orientation : Vertical

Correct Marks : 1 Wrong Marks : 0.25

Which of the following fraction does not lie between $\frac{1}{2}$ and $\frac{8}{9}$?

Options :

1. ✘ $\frac{3}{4}$

2. ✘ $\frac{5}{6}$

3. ✔ $\frac{9}{10}$

4. ✘ $\frac{6}{7}$

Question Number : 85 Question Id : 97675513833 Question Type : MCQ Option Shuffling : Yes Is Question Mandatory : No Option Orientation : Vertical

Correct Marks : 1 Wrong Marks : 0.25

निम्नलिखित में से कौन सा भिन्न $\frac{1}{2}$ और $\frac{8}{9}$ के बीच नहीं आता है?

Options :

1. ✘ $\frac{3}{4}$

2. ✘ $\frac{5}{6}$

3. ✔ $\frac{9}{10}$

4. ✘ $\frac{6}{7}$

Question Number : 86 Question Id : 97675513834 Question Type : MCQ Option Shuffling : Yes Is Question Mandatory : No Option Orientation : Vertical

Correct Marks : 1 Wrong Marks : 0.25

Riya was 50 cm long at birth. She is 6 years old now and is 1.02 m tall. How much has Riya grown in height in the past 6 years?

Options :

1. ✘ 0.45 m
2. ✘ 0.48 m
3. ✘ 0.5 m
4. ✔ 0.52 m

Question Number : 86 Question Id : 97675513834 Question Type : MCQ Option Shuffling : Yes Is Question Mandatory : No Option Orientation : Vertical

Correct Marks : 1 Wrong Marks : 0.25

जन्म के समय रिया 50 cm लंबी थी। वह अभी 6 वर्ष की है और 1.02 m लंबी है। पिछले 6 वर्षों में रिया ऊंचाई में कितना बढ़ी है?

Options :

1. ✘ 0.45 m
2. ✘ 0.48 m
3. ✘ 0.5 m
4. ✔ 0.52 m

Question Number : 87 Question Id : 97675513835 Question Type : MCQ Option Shuffling : Yes Is Question Mandatory : No Option Orientation : Vertical

Correct Marks : 1 Wrong Marks : 0.25

Simplify: $12.12 + 1.212 + 0.1212 + 0.01212 = ?$

Options :

1. ✔ 13.46532

2. ✘ 13.45632
3. ✘ 14.56743
4. ✘ 16.78452

Question Number : 87 Question Id : 97675513835 Question Type : MCQ Option Shuffling : Yes Is Question Mandatory : No Option Orientation : Vertical

Correct Marks : 1 Wrong Marks : 0.25

सरलीकृत करें: $12.12 + 1.212 + 0.1212 + 0.01212 = ?$

Options :

1. ✔ 13.46532
2. ✘ 13.45632
3. ✘ 14.56743
4. ✘ 16.78452

Question Number : 88 Question Id : 97675513836 Question Type : MCQ Option Shuffling : Yes Is Question Mandatory : No Option Orientation : Vertical

Correct Marks : 1 Wrong Marks : 0.25

Simplify:

$25000 \times 0.25 - 0.125 \text{ of } 1000 + 1200 \div 0.80 = ?$

Options :

1. ✘ 7725
2. ✘ 7750
3. ✔ 7625
4. ✘ 7630

Question Number : 88 Question Id : 97675513836 Question Type : MCQ Option Shuffling : Yes Is Question Mandatory : No Option Orientation : Vertical

Correct Marks : 1 Wrong Marks : 0.25

सरलीकृत करें:

$1000 + 1200 \div 0.80 \text{ का } 25000 \times 0.25 - 0.125 = ?$

Options :

1. ✘ 7725
2. ✘ 7750
3. ✔ 7625
4. ✘ 7630

Question Number : 89 Question Id : 97675513837 Question Type : MCQ Option Shuffling : Yes Is Question Mandatory : No Option Orientation : Vertical

Correct Marks : 1 Wrong Marks : 0.25

The average weight of a group of 10 persons increased by 4.5 kg when a new person came and replaced one of the members of the group. If the weight of the member replaced was 70 kg, calculate the weight of the new person?

Options :

1. ✔ 115 kg
2. ✘ 85 kg
3. ✘ 90 kg
4. ✘ 87 kg

Question Number : 89 Question Id : 97675513837 Question Type : MCQ Option Shuffling : Yes Is Question Mandatory : No Option Orientation : Vertical

Correct Marks : 1 Wrong Marks : 0.25

समूह के 10 व्यक्तियों का औसत वजन 4.5 kg से बढ़ गया, जब एक नया व्यक्ति आया और समूह के एक सदस्य को प्रतिस्थापित किया। यदि प्रतिस्थापित सदस्य का वजन 70 kg था, तो नए व्यक्ति के वजन की गणना करें?

Options :

1. ✔ 115 kg
2. ✘ 85 kg
3. ✘ 90 kg
4. ✘ 87 kg

Question Number : 90 Question Id : 97675513838 Question Type : MCQ Option Shuffling : Yes Is Question Mandatory : No Option Orientation : Vertical

Correct Marks : 1 Wrong Marks : 0.25

A dishonest merchant gives a discount of 30 percent on a packet of wheat. Also, he sells wheat in packets. One packet actually contains 1000g of

wheat. If the shopkeeper labels each packet as 1500 g, find his profit percent?

Options :

1. ✘ 4 percent
2. ✔ 5 percent
3. ✘ 7 percent
4. ✘ 10 percent

Question Number : 90 Question Id : 97675513838 Question Type : MCQ Option Shuffling : Yes Is Question Mandatory : No Option Orientation : Vertical

Correct Marks : 1 Wrong Marks : 0.25

एक बेईमान व्यापारी गेहूं के एक पैकेट पर 30 प्रतिशत की छूट देता है। इसके अलावा, वह पैकेट में गेहूं बेचता है। वास्तव में, एक पैकेट में 1000g गेहूं होता है। यदि दुकानदार प्रत्येक पैकेट को 1500g के रूप में लेबल करता है, तो उसका लाभ प्रतिशत ज्ञात करें?

Options :

1. ✘ 4 प्रतिशत
2. ✔ 5 प्रतिशत
3. ✘ 7 प्रतिशत
4. ✘ 10 प्रतिशत

Question Number : 91 Question Id : 97675513839 Question Type : MCQ Option Shuffling : Yes Is Question Mandatory : No Option Orientation : Vertical

Correct Marks : 1 Wrong Marks : 0.25

How much discount does 2 successive discounts of 10 percent result to?

Options :

1. ✔ 19 percent
2. ✘ 20 percent
3. ✘ 18 percent
4. ✘ 217 percent

Question Number : 91 Question Id : 97675513839 Question Type : MCQ Option Shuffling : Yes Is Question Mandatory : No Option Orientation : Vertical

Correct Marks : 1 Wrong Marks : 0.25

10 प्रतिशत के 2 क्रमिक छूट पर कितनी छूट मिलती है?

Options :

1. ✓ 19 प्रतिशत
2. ✗ 20 प्रतिशत
3. ✗ 18 प्रतिशत
4. ✗ 217 प्रतिशत

Question Number : 92 Question Id : 97675513840 Question Type : MCQ Option Shuffling : Yes Is Question Mandatory : No Option Orientation : Vertical

Correct Marks : 1 Wrong Marks : 0.25

Amar spends 30 percent of his income on food, 20 percent on clothing and 75 percent of the remaining income on house rent. What percent of his income does he save ?

Options :

1. ✗ 25 percent
2. ✗ 30 percent
3. ✓ 12.5 percent
4. ✗ 35 percent

Question Number : 92 Question Id : 97675513840 Question Type : MCQ Option Shuffling : Yes Is Question Mandatory : No Option Orientation : Vertical

Correct Marks : 1 Wrong Marks : 0.25

अमर अपनी आय का 30 प्रतिशत भोजन पर, 20 प्रतिशत कपड़ों पर और शेष का 75 प्रतिशत घर के किराए पर खर्च करता है। वह अपनी आय का कितना प्रतिशत बचाता है?

Options :

1. ✗ 25 प्रतिशत
2. ✗ 30 प्रतिशत
3. ✓ 12.5 प्रतिशत
4. ✗ 35 प्रतिशत

Question Number : 93 Question Id : 97675513841 Question Type : MCQ Option Shuffling : Yes Is Question Mandatory : No Option Orientation : Vertical

Correct Marks : 1 Wrong Marks : 0.25

The price of a commodity is increased by 60 percent. If the expenditure is to remain the same, by what fraction must its consumption be reduced

?

Options :

1. ✘ $\frac{1}{2}$

2. ✔ $\frac{3}{8}$

3. ✘ $\frac{5}{8}$

4. ✘ $\frac{7}{9}$

Question Number : 93 Question Id : 97675513841 Question Type : MCQ Option Shuffling : Yes Is Question Mandatory : No Option Orientation : Vertical

Correct Marks : 1 Wrong Marks : 0.25

एक पण्य के मूल्य में 60 प्रतिशत से वृद्धि हुई है। यदि व्यय समान रहना है, तो किस भिन्न से इसकी खपत कम होनी चाहिए?

Options :

1. ✘ $\frac{1}{2}$

2. ✔ $\frac{3}{8}$

3. ✘ $\frac{5}{8}$

4. ✘ $\frac{7}{9}$

Question Number : 94 Question Id : 97675513842 Question Type : MCQ Option Shuffling : Yes Is Question Mandatory : No Option Orientation : Vertical

Correct Marks : 1 Wrong Marks : 0.25

The results of an election between two candidates were as follows: One candidate got 60 percent of the total valid votes, 10 percent of the votes were invalid, and the rest of the valid votes went to the other candidate. If the total number of votes casted was 8000, the number of valid votes that the other candidate got, was _____.

Options :

- 1. ✘ 4320
- 2. ✔ 2880
- 3. ✘ 2500
- 4. ✘ 7200

Question Number : 94 Question Id : 97675513842 Question Type : MCQ Option Shuffling : Yes Is Question Mandatory : No Option Orientation : Vertical

Correct Marks : 1 Wrong Marks : 0.25

दो उम्मीदवारों के बीच एक चुनाव के परिणाम इस प्रकार थे: एक उम्मीदवार को कुल वैध मतों का 60 प्रतिशत मिला, मत का 10 प्रतिशत अवैध था, और शेष वैध मत दूसरे उम्मीदवार को गए। यदि डाले गए मतों की कुल संख्या 8000 थी, तो दूसरे उम्मीदवार को मिले वैध मतों की संख्या _____ थी।

Options :

- 1. ✘ 4320
- 2. ✔ 2880
- 3. ✘ 2500
- 4. ✘ 7200

Question Number : 95 Question Id : 97675513843 Question Type : MCQ Option Shuffling : Yes Is Question Mandatory : No Option Orientation : Vertical

Correct Marks : 1 Wrong Marks : 0.25

The cost price of 36 articles is equal to selling price of 30 articles. Find the gain or loss percent.

Options :

1. ✓ 20 percent
2. ✗ 27 percent
3. ✗ 13 percent
4. ✗ 10 percent

Question Number : 95 Question Id : 97675513843 Question Type : MCQ Option Shuffling : Yes Is Question Mandatory : No Option Orientation : Vertical

Correct Marks : 1 Wrong Marks : 0.25

36 वस्तुओं की लागत मूल्य, 30 वस्तुओं के विक्रय मूल्य के बराबर है। लाभ या हानि प्रतिशत ज्ञात करें।

Options :

1. ✓ 20 प्रतिशत
2. ✗ 27 प्रतिशत
3. ✗ 13 प्रतिशत
4. ✗ 10 प्रतिशत

Question Number : 96 Question Id : 97675513844 Question Type : MCQ Option Shuffling : Yes Is Question Mandatory : No Option Orientation : Vertical

Correct Marks : 1 Wrong Marks : 0.25

The marked price of a shirt and a suit are in the ratio of 4:5. The shopkeeper gives 40 percent discount on the suit. If the total discount on the suit and the shirt is 25 percent. Find the discount offered on the shirt.

Options :

1. ✗ 4.75 percent
2. ✓ 6.25 percent
3. ✗ 5.75 percent
4. ✗ 7.75 percent

Question Number : 96 Question Id : 97675513844 Question Type : MCQ Option Shuffling : Yes Is Question Mandatory : No Option

Orientation : Vertical

Correct Marks : 1 Wrong Marks : 0.25

एक शर्ट और एक सूट का चिह्नित मूल्य 4:5 के अनुपात में है। दुकानदार सूट पर 40 प्रतिशत की छूट देता है। यदि सूट और शर्ट पर कुल छूट 25 प्रतिशत है। तो शर्ट पर दी जाने वाली छूट ज्ञात करें।

Options :

1. ✘ 4.75 प्रतिशत
2. ✔ 6.25 प्रतिशत
3. ✘ 5.75 प्रतिशत
4. ✘ 7.75 प्रतिशत

Question Number : 97 Question Id : 97675513845 Question Type : MCQ Option Shuffling : Yes Is Question Mandatory : No Option

Orientation : Vertical

Correct Marks : 1 Wrong Marks : 0.25

Manoj purchased a house for Rs 11 lakh and spent by Rs 50000 on its repairs. If he wants to make a profit of 25 percent profit, find the price at which he needs to sell the house?

Options :

1. ✘ Rs. 1437550
2. ✘ Rs. 1438500
3. ✔ Rs. 1437500
4. ✘ Rs. 1200000

Question Number : 97 Question Id : 97675513845 Question Type : MCQ Option Shuffling : Yes Is Question Mandatory : No Option

Orientation : Vertical

Correct Marks : 1 Wrong Marks : 0.25

मनोज ने 11 लाख रुपए में एक घर खरीदा और इसकी मरम्मत पर 50000 रुपए तक खर्च किए। यदि वह 25 प्रतिशत का लाभ अर्जित करना चाहता है, तो वह कीमत ज्ञात करें, जिस पर उसे घर बेचने की आवश्यकता है?

Options :

1. ✘ 1437550 रुपए
2. ✘ 1438500 रुपए
3. ✔ 1437500 रुपए
4. ✘ 1200000 रुपए

Question Number : 98 Question Id : 97675513846 Question Type : MCQ Option Shuffling : Yes Is Question Mandatory : No Option Orientation : Vertical

Correct Marks : 1 Wrong Marks : 0.25

A bag contains 50 Paise, 25 Paise and 1 Rupee coins in the ratio 2 : 4 : 5, amounting to Rs. 210. Find the number of coins of each type respectively.

Options :

1. ✘ 50, 100, 125
2. ✘ 44, 88, 110
3. ✔ 60, 120, 150
4. ✘ 30, 60, 75

Question Number : 98 Question Id : 97675513846 Question Type : MCQ Option Shuffling : Yes Is Question Mandatory : No Option Orientation : Vertical

Correct Marks : 1 Wrong Marks : 0.25

एक बैग में 2 : 4 : 5 के अनुपात में 50 पैसे, 25 पैसे और 1 रुपए के सिक्के हैं जिसका कुल 210 रुपए है। प्रत्येक प्रकार के सिक्कों की संख्या क्रमशः ज्ञात करें।

Options :

1. ✘ 50, 100, 125
2. ✘ 44, 88, 110
3. ✔ 60, 120, 150
4. ✘ 30, 60, 75

Question Number : 99 Question Id : 97675513847 Question Type : MCQ Option Shuffling : Yes Is Question Mandatory : No Option Orientation : Vertical

Correct Marks : 1 Wrong Marks : 0.25

Find the second number if there are three numbers, sum of which is 115; and the ratio of the first to second is 7:4 and that of the second to the third is 1:3?

Options :

1. ✘ 60
2. ✘ 25
3. ✘ 35
4. ✔ 20

Question Number : 99 Question Id : 97675513847 Question Type : MCQ Option Shuffling : Yes Is Question Mandatory : No Option Orientation : Vertical

Correct Marks : 1 Wrong Marks : 0.25

दूसरी संख्या ज्ञात करें यदि तीन संख्याएँ हैं, जिनका योग 115 है; और पहले से दूसरे का अनुपात 7:4 है और दूसरे से तीसरे का अनुपात 1:3 है?

Options :

1. ✖ 60
2. ✖ 25
3. ✖ 35
4. ✔ 20

Question Number : 100 Question Id : 97675513848 Question Type : MCQ Option Shuffling : Yes Is Question Mandatory : No Option Orientation : Vertical

Correct Marks : 1 Wrong Marks : 0.25

If Rs. 12048 is divided in the ratio 1:2:5, then what is the second part?

Options :

1. ✖ 2012
2. ✖ 3024
3. ✖ 2024
4. ✔ 3012

Question Number : 100 Question Id : 97675513848 Question Type : MCQ Option Shuffling : Yes Is Question Mandatory : No Option Orientation : Vertical

Correct Marks : 1 Wrong Marks : 0.25

यदि 12048 रुपए को 1:2:5 के अनुपात में विभाजित किया गया है, तो दूसरा भाग क्या है?

Options :

1. ✖ 2012
2. ✖ 3024
3. ✖ 2024
4. ✔ 3012

Arithmetic Ability2

Group Number :	6
Group Id :	976755473
Group Maximum Duration :	0
Group Minimum Duration :	0
Show Attended Group? :	No
Edit Attended Group? :	No
Break time :	0
Group Marks :	20
Is this Group for Examiner? :	No

Arithmetic Ability2

Section Id :	976755810
Section Number :	1
Section type :	Online
Mandatory or Optional :	Mandatory
Number of Questions :	20
Number of Questions to be attempted :	20
Section Marks :	20
Enable Mark as Answered Mark for Review and Clear Response :	Yes
Sub-Section Number :	1
Sub-Section Id :	976755951
Question Shuffling Allowed :	Yes

Question Number : 101 Question Id : 97675513849 Question Type : MCQ Option Shuffling : Yes Is Question Mandatory : No Option Orientation : Vertical

Correct Marks : 1 Wrong Marks : 0.25

A sum of Rs. 900 yields Rs. 162 as interest at 9 percent per annum of simple interest. Calculate the time?

Options :

- ✘ 1 year
- ✔ 2 years

3. ✘ 3 years

4. ✘ 4 years

Question Number : 101 Question Id : 97675513849 Question Type : MCQ Option Shuffling : Yes Is Question Mandatory : No Option Orientation : Vertical

Correct Marks : 1 Wrong Marks : 0.25

900 रुपए की राशि, साधारण ब्याज के 9 प्रतिशत प्रति वर्ष ब्याज के रूप में 162 रुपए देता है। समय की गणना करें?

Options :

1. ✘ 1 वर्ष

2. ✔ 2 वर्ष

3. ✘ 3 वर्ष

4. ✘ 4 वर्ष

Question Number : 102 Question Id : 97675513850 Question Type : MCQ Option Shuffling : Yes Is Question Mandatory : No Option Orientation : Vertical

Correct Marks : 1 Wrong Marks : 0.25

Calculate the duration in which Rs.60,000 yields a compound interest of Rs.11,286 at 9 percent per annum?

Options :

1. ✘ 1 year

2. ✔ 2 years

3. ✘ 3 years

4. ✘ 4 years

Question Number : 102 Question Id : 97675513850 Question Type : MCQ Option Shuffling : Yes Is Question Mandatory : No Option Orientation : Vertical

Correct Marks : 1 Wrong Marks : 0.25

उस अवधि की गणना करें जिसमें 60,000 रुपए, 9 प्रतिशत प्रति वर्ष की दर से 11,286 रुपए का चक्रवृद्धि ब्याज देता है?

Options :

1. ✘ 1 वर्ष

2. ✔ 2 वर्ष

3. ✘ 3 वर्ष

4. ✖ 4 वर्ष

Question Number : 103 Question Id : 97675513851 Question Type : MCQ Option Shuffling : Yes Is Question Mandatory : No Option Orientation : Vertical

Correct Marks : 1 Wrong Marks : 0.25

A sum of money increases by 90 percent in 5 years at simple interest. What will be the compound interest of Rs. 24,000 after 2 years at the same rate?

Options :

1. ✖ Rs. 9147.60
2. ✖ Rs. 9000
3. ✖ Rs. 8976.20
4. ✔ Rs. 9417.60

Question Number : 103 Question Id : 97675513851 Question Type : MCQ Option Shuffling : Yes Is Question Mandatory : No Option Orientation : Vertical

Correct Marks : 1 Wrong Marks : 0.25

साधारण ब्याज पर 5 वर्षों में 90 प्रतिशत तक धन राशि में वृद्धि होती है। उसी दर पर 2 वर्ष बाद 24,000 रुपए का चक्रवृद्धि ब्याज क्या होगा ?

Options :

1. ✖ 9147.60 रुपए
2. ✖ 9000 रुपए
3. ✖ 8976.20 रुपए
4. ✔ 9417.60 रुपए

Question Number : 104 Question Id : 97675513852 Question Type : MCQ Option Shuffling : Yes Is Question Mandatory : No Option Orientation : Vertical

Correct Marks : 1 Wrong Marks : 0.25

The difference in simple interest and compound interest on a certain sum of money is Rs. 25. If the rate is 5 percent p.a. and the duration is 2 years, what is the sum?

Options :

1. ✖ Rs. 20000
2. ✖ Rs. 12000
3. ✔ Rs. 10000

4. ✖ Rs. 15000

Question Number : 104 Question Id : 97675513852 Question Type : MCQ Option Shuffling : Yes Is Question Mandatory : No Option Orientation : Vertical

Correct Marks : 1 Wrong Marks : 0.25

एक निश्चित धन राशि पर साधारण ब्याज और चक्रवृद्धि ब्याज में अंतर 25 रुपए है यदि दर 5 प्रतिशत प्रति वर्ष है और अवधि 2 वर्ष है, तो राशि क्या है?

Options :

1. ✖ 20000 रुपए
2. ✖ 12000 रुपए
3. ✔ 10000 रुपए
4. ✖ 15000 रुपए

Question Number : 105 Question Id : 97675513853 Question Type : MCQ Option Shuffling : Yes Is Question Mandatory : No Option Orientation : Vertical

Correct Marks : 1 Wrong Marks : 0.25

Sushma could have covered 10 km more by running at 7 kmph instead of 5 kmph in the same time. What is the actual distance ran by her?

Options :

1. ✖ 10 km
2. ✔ 25 km
3. ✖ 20 km
4. ✖ 30 km

Question Number : 105 Question Id : 97675513853 Question Type : MCQ Option Shuffling : Yes Is Question Mandatory : No Option Orientation : Vertical

Correct Marks : 1 Wrong Marks : 0.25

सुषमा ने 5 kmph के बजाय 7 kmph की गति से दौड़कर उसी समय में 10 km अधिक दूरी तय कर सकती थीं। उसके द्वारा तय की गई वास्तविक दूरी क्या है?

Options :

1. ✖ 10 km
2. ✔ 25 km
3. ✖ 20 km
4. ✖ 30 km

Question Number : 106 Question Id : 97675513854 Question Type : MCQ Option Shuffling : Yes Is Question Mandatory : No Option Orientation : Vertical

Correct Marks : 1 Wrong Marks : 0.25

Shyam completes a journey in 20 hours. He travels first half of the journey at the rate of 42 km/hr and second half at the rate of 48 km/hr. Find the total distance covered in the journey in km?

Options :

1. ✘ 780km
2. ✔ 896 km
3. ✘ 996 km
4. ✘ 787 km

Question Number : 106 Question Id : 97675513854 Question Type : MCQ Option Shuffling : Yes Is Question Mandatory : No Option Orientation : Vertical

Correct Marks : 1 Wrong Marks : 0.25

श्याम ने 20 घंटे में यात्रा पूरी की। वह यात्रा का पहला आधा भाग 42 km/hr की दर से और दूसरा आधा 48 km/hr की दर से यात्रा करता है। यात्रा में तय की गई कुल दूरी km में ज्ञात करें?

Options :

1. ✘ 780km
2. ✔ 896 km
3. ✘ 996 km
4. ✘ 787 km

Question Number : 107 Question Id : 97675513855 Question Type : MCQ Option Shuffling : Yes Is Question Mandatory : No Option Orientation : Vertical

Correct Marks : 1 Wrong Marks : 0.25

Robin is travelling in his car and has calculated to reach point X at 4 PM if he travels at 40 kmph. He will reach there at 1 PM if he travels at 60 kmph. At what speed must he travel to reach X at 3 PM?

Options :

1. ✘ 65 kmph
2. ✘ 50 kmph
3. ✔ 45 kmph

4. ✖ 55 kmph

Question Number : 107 Question Id : 97675513855 Question Type : MCQ Option Shuffling : Yes Is Question Mandatory : No Option Orientation : Vertical

Correct Marks : 1 Wrong Marks : 0.25

रॉबिन अपनी कार में यात्रा कर रहा है और उसने गणना की है कि यदि वह 40 kmph की गति से यात्रा करता है तो 4 अपराह्न तक बिंदु X पहुंच जाएगा। यदि 60 kmph की गति से यात्रा करता है तो वह वहाँ 1 अपराह्न पहुंचेगा। 3 अपराह्न X तक पहुंचने के लिए उसे किस गति से यात्रा करनी चाहिए?

Options :

1. ✖ 65 kmph

2. ✖ 50 kmph

3. ✔ 45 kmph

4. ✖ 55 kmph

Question Number : 108 Question Id : 97675513856 Question Type : MCQ Option Shuffling : Yes Is Question Mandatory : No Option Orientation : Vertical

Correct Marks : 1 Wrong Marks : 0.25

A can do a piece of work in 8 hours; B and C together can do it in 6 hours, while A and C together can do it in 4 hours. How long will B alone take to do it?

Options :

1. ✖ 49 hours

2. ✖ 52 hours

3. ✖ 42 hours

4. ✔ 24 hours

Question Number : 108 Question Id : 97675513856 Question Type : MCQ Option Shuffling : Yes Is Question Mandatory : No Option Orientation : Vertical

Correct Marks : 1 Wrong Marks : 0.25

A एक कार्य को 8 घंटे में कर सकता है; B और C साथ मिलकर इसे 6 घंटे में कर सकते हैं, जबकि A और C साथ मिलकर इसे 4 घंटे में कर सकते हैं। B अकेले इसे करने में कितना समय लेगा?

Options :

1. ✖ 49 घंटे

2. ✖ 52 घंटे

3. ✘ 42 घंटे

4. ✔ 24 घंटे

Question Number : 109 Question Id : 97675513857 Question Type : MCQ Option Shuffling : Yes Is Question Mandatory : No Option Orientation : Vertical

Correct Marks : 1 Wrong Marks : 0.25

A is 100% more efficient than B and therefore is able to finish a job in 40 days less than B. Working together, they can do it in _____. (fraction to be considered as full day)

Options :

1. ✘ 29 days

2. ✘ 26 days

3. ✘ 25 Days

4. ✔ 27 days

Question Number : 109 Question Id : 97675513857 Question Type : MCQ Option Shuffling : Yes Is Question Mandatory : No Option Orientation : Vertical

Correct Marks : 1 Wrong Marks : 0.25

A, B की तुलना में 100% अधिक कुशल है और इसलिए B से कम समय में काम को 40 दिनों में पूरा करने में सक्षम है, साथ मिलकर करने से, वे इसे _____ में कर सकते हैं। (भिन्न को पूरा दिन माना जाएगा)

Options :

1. ✘ 29 दिन

2. ✘ 26 दिन

3. ✘ 25 दिन

4. ✔ 27 दिन

Question Number : 110 Question Id : 97675513858 Question Type : MCQ Option Shuffling : Yes Is Question Mandatory : No Option Orientation : Vertical

Correct Marks : 1 Wrong Marks : 0.25

A machine A can print 1000 copies of a magazine in 6 hours, machine B can print the same number of books in 8 hours while machine R can print them in 10 hours. All the machines are started at 7 A.M. while machine A is closed at 9 A.M. and the remaining two machines complete the work. Approximately at what time will the work (to print 1000 copies of a magazine) be finished ?

Options :

1. ✓ 9:58 AM
2. ✗ 10:00 AM
3. ✗ 10:02 AM
4. ✗ 10:05 AM

Question Number : 110 Question Id : 97675513858 Question Type : MCQ Option Shuffling : Yes Is Question Mandatory : No Option Orientation : Vertical

Correct Marks : 1 Wrong Marks : 0.25

एक मशीन A एक पत्रिका की 1000 प्रतियों को 6 घंटे में मुद्रित कर सकती है, मशीन B किताबों की समान संख्या को 8 घंटों में मुद्रित कर सकती है जबकि मशीन R उन्हें 10 घंटों में मुद्रित कर सकती है। सभी मशीनों को 7 पूर्वाह्न चालू किया गया जबकि मशीन A को 9 पूर्वाह्न पर बंद किया गया और शेष दो मशीनें काम पूरा करती हैं। लगभग किस समय (पत्रिका की 1000 प्रतियाँ छापने का) में काम समाप्त हो जाएगा?

Options :

1. ✓ 9:58 पूर्वाह्न
2. ✗ 10:00 पूर्वाह्न
3. ✗ 10:02 पूर्वाह्न
4. ✗ 10:05 पूर्वाह्न

Question Number : 111 Question Id : 97675513859 Question Type : MCQ Option Shuffling : Yes Is Question Mandatory : No Option Orientation : Vertical

Correct Marks : 1 Wrong Marks : 0.25

Find the area of the iron sheet required to prepare a cone 40 cm high with a base radius of 42 cm (in cm^2) approx?

Options :

1. ✗ 11200
2. ✓ 13200
3. ✗ 5600
4. ✗ 7800

Question Number : 111 Question Id : 97675513859 Question Type : MCQ Option Shuffling : Yes Is Question Mandatory : No Option Orientation : Vertical

Correct Marks : 1 Wrong Marks : 0.25

लगभग 42 cm (cm^2 में) आधार त्रिज्या के साथ 40 cm ऊंचा शंकु तैयार करने के लिए आवश्यक लोहे की शीट का क्षेत्रफल ज्ञात करें?

Options :

1. ✘ 11200
2. ✔ 13200
3. ✘ 5600
4. ✘ 7800

Question Number : 112 Question Id : 97675513860 Question Type : MCQ Option Shuffling : Yes Is Question Mandatory : No Option Orientation : Vertical

Correct Marks : 1 Wrong Marks : 0.25

Seven cubes of volumes :216 cu cm, 27 cu cm, 1 cu cm, 27 cu cm, 1 cu cm, 216 cu cm and 512 cu cm are melted to form a new cube. What is the diagonal of the new cube?

Options :

1. ✘ 15.9 cm
2. ✘ 16.20 cm
3. ✘ 12.96 cm
4. ✔ 17.30 cm

Question Number : 112 Question Id : 97675513860 Question Type : MCQ Option Shuffling : Yes Is Question Mandatory : No Option Orientation : Vertical

Correct Marks : 1 Wrong Marks : 0.25

आयतन: 216 cu cm, 27 cu cm, 1 cu cm, 27 cu cm, 1 cu cm, 216 cu cm और 512 cu cm के सात घनों को एक नया घन बनाने के लिए पिघलाया जाता है। नए घन का विकर्ण क्या है?

Options :

1. ✘ 15.9 cm
2. ✘ 16.20 cm
3. ✘ 12.96 cm
4. ✔ 17.30 cm

Question Number : 113 Question Id : 97675513861 Question Type : MCQ Option Shuffling : Yes Is Question Mandatory : No Option Orientation : Vertical

Correct Marks : 1 Wrong Marks : 0.25

How many bullets can be made from a sphere of 12 cm radius such that the radius of each spherical bullet is 0.4 cm?

Options :

1. ✘ 30000
2. ✔ 27000
3. ✘ 25000
4. ✘ 60000

Question Number : 113 Question Id : 97675513861 Question Type : MCQ Option Shuffling : Yes Is Question Mandatory : No Option Orientation : Vertical

Correct Marks : 1 Wrong Marks : 0.25

12 cm त्रिज्या के एक गोले में से कितनी गोलियां बनाई जा सकती हैं जैसे कि प्रत्येक गोलाकार गोली की त्रिज्या 0.4 cm है?

Options :

1. ✘ 30000
2. ✔ 27000
3. ✘ 25000
4. ✘ 60000

Question Number : 114 Question Id : 97675513862 Question Type : MCQ Option Shuffling : Yes Is Question Mandatory : No Option Orientation : Vertical

Correct Marks : 1 Wrong Marks : 0.25

Study the following table and answer the following question: In which year was the sale of 32AH batteries the highest?

YEAR	TYPES OF BATTERIES				
	4AH	7AH	32AH	35AH	55AH
2010	150	144	114	119	118
2011	120	165	112	94	78
2012	106	196	85	112	147
2013	95	56	129	96	84
2014	75	95	173	80	78
2015	107	55	196	65	90
2016	154	120	163	110	90

Options :

1. ✔ 2015
2. ✘ 2016
3. ✘ 2011

4. ✖ 2012

Question Number : 114 Question Id : 97675513862 Question Type : MCQ Option Shuffling : Yes Is Question Mandatory : No Option Orientation : Vertical

Correct Marks : 1 Wrong Marks : 0.25

निम्नलिखित तालिका का अध्ययन करें और निम्नलिखित प्रश्न का उत्तर दें: 32AH बैटरी की बिक्री किस वर्ष में सबसे अधिक थी?

वर्ष	बैटरियों के प्रकार				
	4AH	7AH	32AH	35AH	55AH
2010	150	144	114	119	118
2011	120	165	112	94	78
2012	106	196	85	112	147
2013	95	56	129	96	84
2014	75	95	173	80	78
2015	107	55	196	65	90
2016	154	120	163	110	90

Options :

1. ✔ 2015
2. ✖ 2016
3. ✖ 2011
4. ✖ 2012

Question Number : 115 Question Id : 97675513863 Question Type : MCQ Option Shuffling : Yes Is Question Mandatory : No Option Orientation : Vertical

Correct Marks : 1 Wrong Marks : 0.25

Study the following table and answer the following question. What is the difference between the number of students passed with 30 as cut-off marks in Maths and those passed with 30 as cut-off marks in English?

SUBJECT	MARKS OUT OF 50				
	40 AND ABOVE	30 AND ABOVE	20 AND ABOVE	10 AND ABOVE	0 AND ABOVE
MATHS	15	45	72	88	100
ENGLISH	20	30	78	90	100
AVERAGE(AGGREGATE)	7	27	73	87	100

Options :

1. ✖ 10
2. ✖ 12

3. ✘ 13

4. ✔ 15

Question Number : 115 Question Id : 97675513863 Question Type : MCQ Option Shuffling : Yes Is Question Mandatory : No Option Orientation : Vertical

Correct Marks : 1 Wrong Marks : 0.25

निम्नलिखित तालिका का अध्ययन करें और निम्नलिखित प्रश्न का उत्तर दें। गणित में कट-ऑफ अंक के रूप में 30 के साथ उत्तीर्ण हुए छात्रों की संख्या और अंग्रेजी में कट-ऑफ अंक के रूप में 30 के साथ उत्तीर्ण हुए छात्रों की संख्या के बीच अंतर क्या है?

विषय	50 में से अंक				
	40 और ऊपर	30 और ऊपर	20 और ऊपर	10 और ऊपर	0 और ऊपर
गणित	15	45	72	88	100
अंग्रेजी	20	30	78	90	100
औसत (कुल)	7	27	73	87	100

Options :

1. ✘ 10

2. ✘ 12

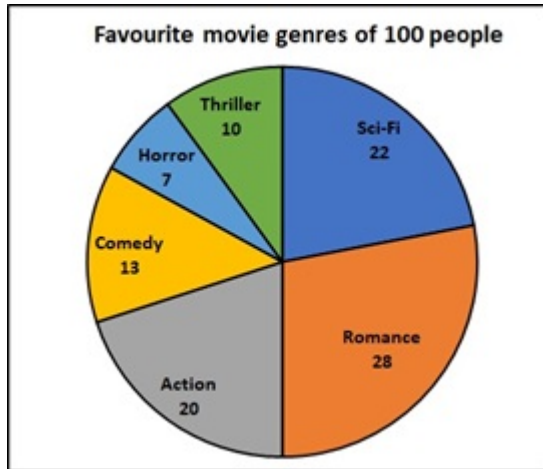
3. ✘ 13

4. ✔ 15

Question Number : 116 Question Id : 97675513864 Question Type : MCQ Option Shuffling : Yes Is Question Mandatory : No Option Orientation : Vertical

Correct Marks : 1 Wrong Marks : 0.25

The following pie-chart shows the favourite movie genres of a sample of 100 people. Study it and answer the following question: What percentage of people like Horror and Sci-fi movies?



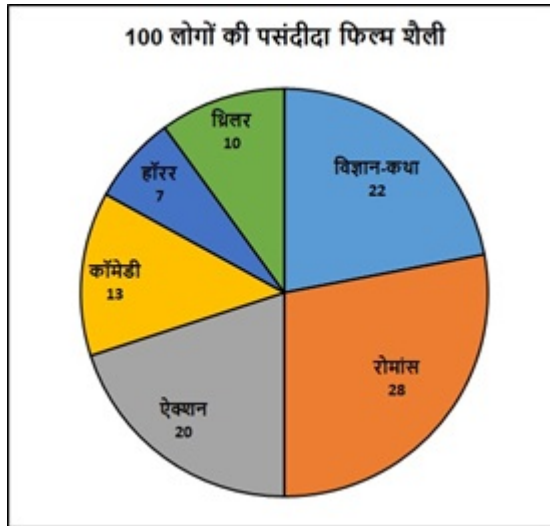
Options :

1. ✘ 30
2. ✔ 29
3. ✘ 31
4. ✘ 32

Question Number : 116 Question Id : 97675513864 Question Type : MCQ Option Shuffling : Yes Is Question Mandatory : No Option Orientation : Vertical

Correct Marks : 1 Wrong Marks : 0.25

निम्नलिखित पाई-चार्ट 100 लोगों के दृष्टांत की पसंदीदा फिल्म शैलियों को दर्शाता है। इसका अध्ययन करें और निम्नलिखित प्रश्न का उत्तर दें: कितने प्रतिशत लोग को हॉरर और विज्ञान-कथा फ़िल्में पसंद हैं?



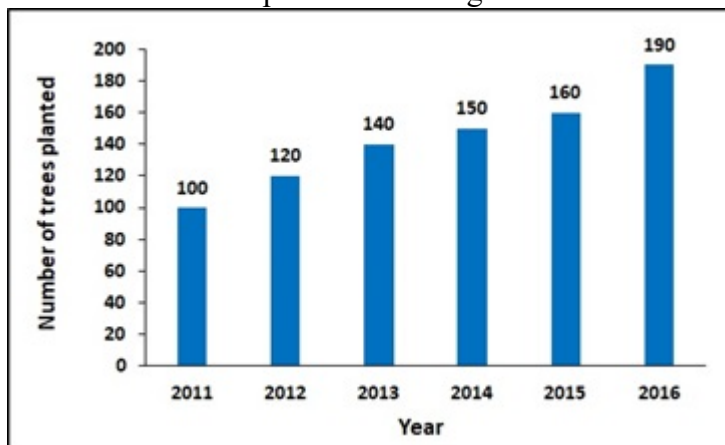
Options :

1. ✘ 30
2. ✔ 29
3. ✘ 31
4. ✘ 32

Question Number : 117 Question Id : 97675513865 Question Type : MCQ Option Shuffling : Yes Is Question Mandatory : No Option Orientation : Vertical

Correct Marks : 1 Wrong Marks : 0.25

The number of trees planted by Eco-club of a school in different years is shown on the following bar graph. In which year the percent increase in the number of trees planted is the highest?



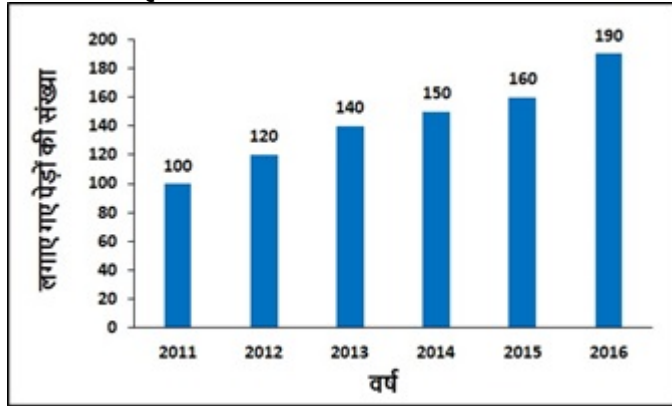
Options :

1. ✓ 2012
2. ✗ 2013
3. ✗ 2016
4. ✗ 2015

Question Number : 117 Question Id : 97675513865 Question Type : MCQ Option Shuffling : Yes Is Question Mandatory : No Option Orientation : Vertical

Correct Marks : 1 Wrong Marks : 0.25

निम्नलिखित बार ग्राफ पर विभिन्न वर्षों में एक पाठशाला के इको-क्लब द्वारा लगाए गए पेड़ों की संख्या को दर्शाया गया है। किस वर्ष में लगाए गए पेड़ों की संख्या में प्रतिशत वृद्धि सबसे अधिक है?



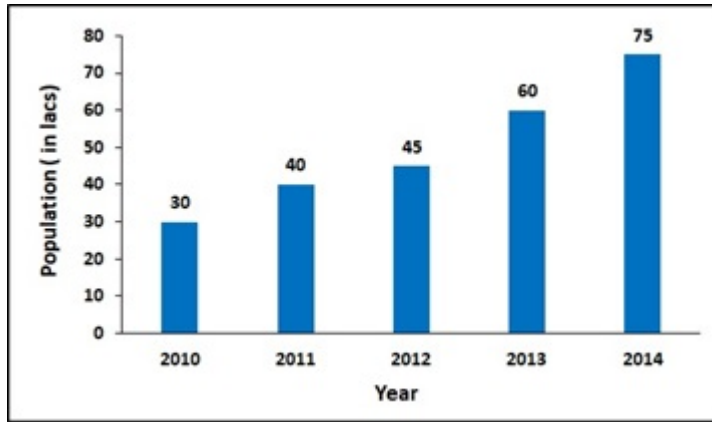
Options :

1. ✓ 2012
2. ✗ 2013
3. ✗ 2016
4. ✗ 2015

Question Number : 118 Question Id : 97675513866 Question Type : MCQ Option Shuffling : Yes Is Question Mandatory : No Option Orientation : Vertical

Correct Marks : 1 Wrong Marks : 0.25

The population of a particular state in different years is shown on the following bar graph. In which year the percent increase in population is the lowest?



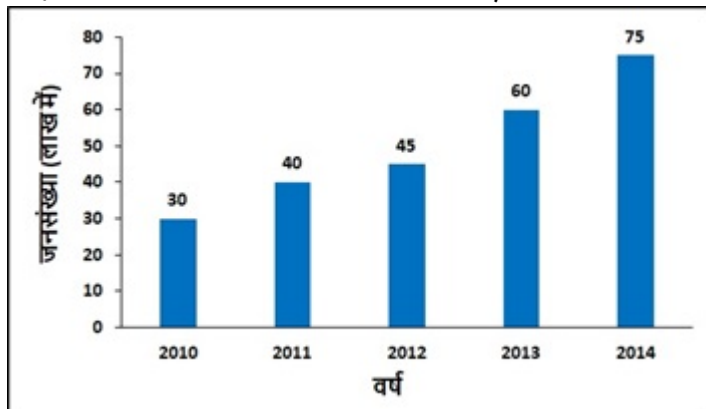
Options :

1. ✓ 2012
2. ✗ 2011
3. ✗ 2013
4. ✗ 2014

Question Number : 118 Question Id : 97675513866 Question Type : MCQ Option Shuffling : Yes Is Question Mandatory : No Option Orientation : Vertical

Correct Marks : 1 Wrong Marks : 0.25

निम्नलिखित बार ग्राफ पर विभिन्न वर्षों में एक विशेष राज्य की जनसंख्या को दर्शाया गया है। किस वर्ष में जनसंख्या में प्रतिशत वृद्धि सबसे कम है?



Options :

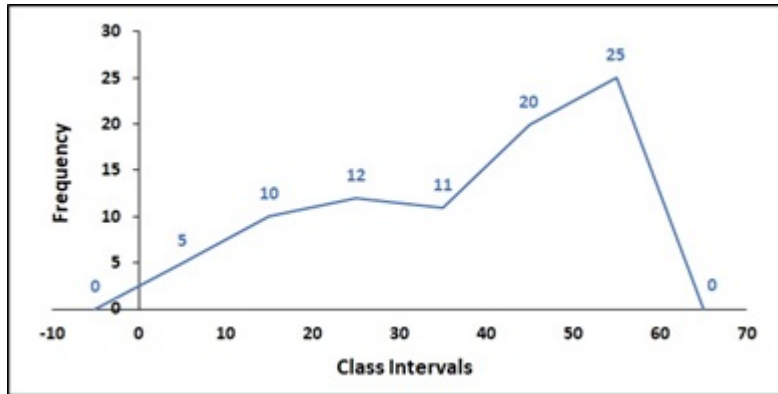
1. ✓ 2012
2. ✗ 2011
3. ✗ 2013

4. ✖ 2014

Question Number : 119 Question Id : 97675513867 Question Type : MCQ Option Shuffling : Yes Is Question Mandatory : No Option Orientation : Vertical

Correct Marks : 1 Wrong Marks : 0.25

The frequency polygon of a frequency distribution is shown below and answer the following question: What is the frequency of the class whose class mark is 25?



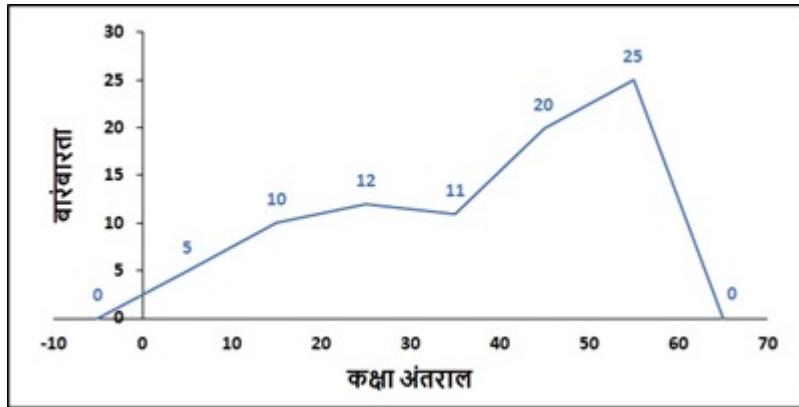
Options :

1. ✓ 12
2. ✖ 11
3. ✖ 10
4. ✖ 5

Question Number : 119 Question Id : 97675513867 Question Type : MCQ Option Shuffling : Yes Is Question Mandatory : No Option Orientation : Vertical

Correct Marks : 1 Wrong Marks : 0.25

एक बारंबारता वितरण का बारंबारता बहुभुज को नीचे दर्शाया गया है और निम्नलिखित प्रश्न का उत्तर दें: उस कक्षा की बारंबारता क्या है जिसका कक्षा अंक 25 है?



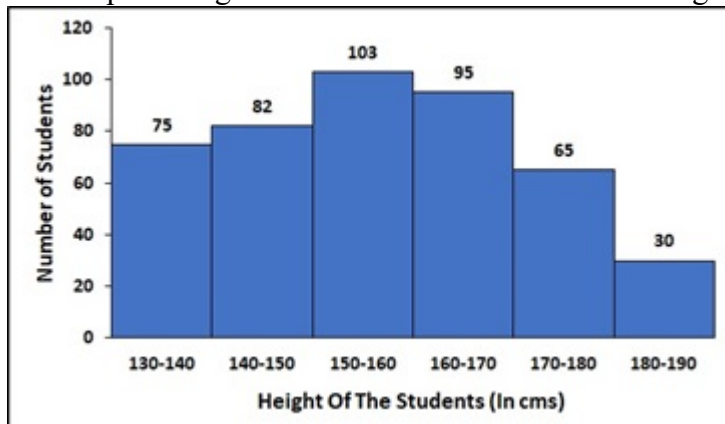
Options :

1. ✓ 12
2. ✗ 11
3. ✗ 10
4. ✗ 5

Question Number : 120 Question Id : 97675513868 Question Type : MCQ Option Shuffling : Yes Is Question Mandatory : No Option Orientation : Vertical

Correct Marks : 1 Wrong Marks : 0.25

The following histogram shows the height of 450 students. Study it and answer the following question: Number of students of height 180-190 cm is what percentage of the number of students with height 130-140 cm?



Options :

1. ✗ 30
2. ✓ 40

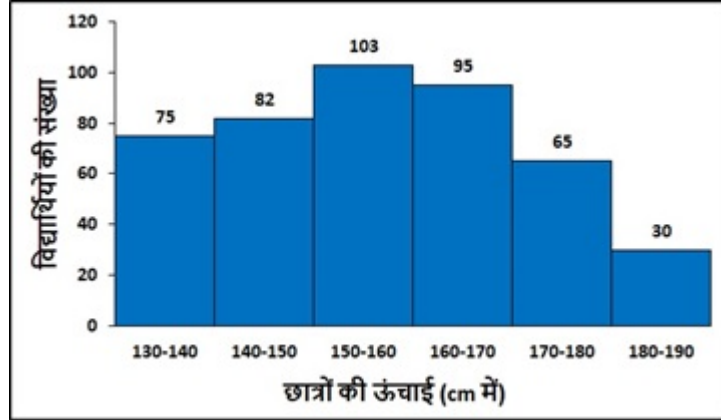
3. ✖ 50

4. ✖ 55

Question Number : 120 Question Id : 97675513868 Question Type : MCQ Option Shuffling : Yes Is Question Mandatory : No Option Orientation : Vertical

Correct Marks : 1 Wrong Marks : 0.25

निम्नलिखित आयतचित्र 450 छात्रों की ऊंचाई को दर्शाता है। इसका अध्ययन करें और निम्नलिखित प्रश्न का उत्तर दें: 180-190 cm की ऊंचाई वाले छात्रों की संख्या, 130-140 cm की ऊंचाई वाले छात्रों की संख्या का कितना प्रतिशत है?



Options :

1. ✖ 30

2. ✔ 40

3. ✖ 50

4. ✖ 55

General English1

Group Number :

7

Group Id :

976755474

Group Maximum Duration :

0

Group Minimum Duration :

0

Show Attended Group? :

No

Edit Attended Group? :

No

Break time :

0

Group Marks : 20
Is this Group for Examiner? : No

General English1

Section Id : 976755811
Section Number : 1
Section type : Online
Mandatory or Optional : Mandatory
Number of Questions : 20
Number of Questions to be attempted : 20
Section Marks : 20
Enable Mark as Answered Mark for Review and Clear Response : Yes
Sub-Section Number : 1
Sub-Section Id : 976755952
Question Shuffling Allowed : Yes

Question Number : 121 Question Id : 97675513869 Question Type : MCQ Option Shuffling : Yes Is Question Mandatory : No Option Orientation : Vertical

Correct Marks : 1 Wrong Marks : 0.25

The sentence below has been divided into three parts. Select the part of the sentence that has an error. If the sentence has no error, select the option 'No Error'.

DRDO is developing the 200-km strike range / Pranash ballistic missile which / has to be used for tactical missions.

Options :

- ✘ DRDO is developing the 200-km strike range
- ✘ Pranash ballistic missile which
- ✔ has to be used for tactical missions.
- ✘ No Error

Question Number : 121 Question Id : 97675513869 Question Type : MCQ Option Shuffling : Yes Is Question Mandatory : No Option Orientation : Vertical

Correct Marks : 1 Wrong Marks : 0.25

The sentence below has been divided into three parts. Select the part of the sentence that has an error. If the sentence has no error, select the option 'No Error'.

DRDO is developing the 200-km strike range / Pranash ballistic missile which / has to be used for tactical missions.

Options :

1. ✘ DRDO is developing the 200-km strike range
2. ✘ Pranash ballistic missile which
3. ✔ has to be used for tactical missions.
4. ✘ No Error

Question Number : 122 Question Id : 97675513870 Question Type : MCQ Option Shuffling : Yes Is Question Mandatory : No Option Orientation : Vertical

Correct Marks : 1 Wrong Marks : 0.25

The sentence below has been divided into three parts. Select the part of the sentence that has an error. If the sentence has no error, select the option 'No Error'.

Right to Protest should not be used as a tool that weakens the social order, / it is meant for enrichment of democracy as it provided a platform to civil society to register / its grievances and also encourage discussions and debates.

Options :

1. ✘ Right to Protest should not be used as a tool that weakens the social order
2. ✔ it is meant for enrichment of democracy as it provided a platform to civil society to register
3. ✘ its grievances and also encourage discussions and debates.
4. ✘ No Error

Question Number : 122 Question Id : 97675513870 Question Type : MCQ Option Shuffling : Yes Is Question Mandatory : No Option Orientation : Vertical

Correct Marks : 1 Wrong Marks : 0.25

The sentence below has been divided into three parts. Select the part of the sentence that has an error. If the sentence has no error, select the option 'No Error'.

Right to Protest should not be used as a tool that weakens the social order, / it is meant for enrichment of democracy as it provided a platform to civil society to register / its grievances and also encourage discussions and debates.

Options :

1. ✘ Right to Protest should not be used as a tool that weakens the social order

2. ✓ it is meant for enrichment of democracy as it provided a platform to civil society to register
3. ✗ its grievances and also encourage discussions and debates.
4. ✗ No Error

Question Number : 123 Question Id : 97675513871 Question Type : MCQ Option Shuffling : Yes Is Question Mandatory : No Option Orientation : Vertical

Correct Marks : 1 Wrong Marks : 0.25

The sentence below has been divided into three parts. Select the part of the sentence that has an error. If the sentence has no error, select the option 'No Error'.

The discovery of the Siva linga has thrown light on the / religious practices of Neolithic civilisations during who people used to worship idols of / Gods and Goddesses in standing posture.

Options :

1. ✗ The discovery of the Siva linga has thrown light on the
2. ✓ religious practices of Neolithic civilisations during who people used to worship idols of
3. ✗ Gods and Goddesses in standing posture.
4. ✗ No Error

Question Number : 123 Question Id : 97675513871 Question Type : MCQ Option Shuffling : Yes Is Question Mandatory : No Option Orientation : Vertical

Correct Marks : 1 Wrong Marks : 0.25

The sentence below has been divided into three parts. Select the part of the sentence that has an error. If the sentence has no error, select the option 'No Error'.

The discovery of the Siva linga has thrown light on the / religious practices of Neolithic civilisations during who people used to worship idols of / Gods and Goddesses in standing posture.

Options :

1. ✗ The discovery of the Siva linga has thrown light on the
2. ✓ religious practices of Neolithic civilisations during who people used to worship idols of
3. ✗ Gods and Goddesses in standing posture.
4. ✗ No Error

Question Number : 124 Question Id : 97675513872 Question Type : MCQ Option Shuffling : Yes Is Question Mandatory : No Option Orientation : Vertical

Correct Marks : 1 Wrong Marks : 0.25

The sentence below has been divided into three parts. Select the part of the sentence that has an error. If the sentence has no error, select the option 'No Error'.

It was established on the plain and built accordingly / to a grid plan interpreted in the / light of Vedic architecture.

Options :

1. ✓ It was established on the plain and built accordingly
2. ✗ to a grid plan interpreted in the
3. ✗ light of Vedic architecture.
4. ✗ No Error

Question Number : 124 Question Id : 97675513872 Question Type : MCQ Option Shuffling : Yes Is Question Mandatory : No Option Orientation : Vertical

Correct Marks : 1 Wrong Marks : 0.25

The sentence below has been divided into three parts. Select the part of the sentence that has an error. If the sentence has no error, select the option 'No Error'.

It was established on the plain and built accordingly / to a grid plan interpreted in the / light of Vedic architecture.

Options :

1. ✓ It was established on the plain and built accordingly
2. ✗ to a grid plan interpreted in the
3. ✗ light of Vedic architecture.
4. ✗ No Error

Question Number : 125 Question Id : 97675513873 Question Type : MCQ Option Shuffling : Yes Is Question Mandatory : No Option Orientation : Vertical

Correct Marks : 1 Wrong Marks : 0.25

Select the word segment that substitutes (replaces) the bracketed word segment correctly and completes the sentence meaningfully. Select the option 'no correction required' if the sentence is correct as given.

The difference between a cartoonist and an illustrator is the same as the difference between a comedian and a comedy actor—(the first of those) deliver their own lines and take full responsibility for them, the latter could always hide behind the fact that it was not his entire creation.

Options :

1. ✗ the first both

2. ✓ the former both
3. ✗ the first and the second of them
4. ✗ no correction required

Question Number : 125 Question Id : 97675513873 Question Type : MCQ Option Shuffling : Yes Is Question Mandatory : No Option Orientation : Vertical

Correct Marks : 1 Wrong Marks : 0.25

Select the word segment that substitutes (replaces) the bracketed word segment correctly and completes the sentence meaningfully. Select the option 'no correction required' if the sentence is correct as given.

The difference between a cartoonist and an illustrator is the same as the difference between a comedian and a comedy actor—(the first of those) deliver their own lines and take full responsibility for them, the latter could always hide behind the fact that it was not his entire creation.

Options :

1. ✗ the first both
2. ✓ the former both
3. ✗ the first and the second of them
4. ✗ no correction required

Question Number : 126 Question Id : 97675513874 Question Type : MCQ Option Shuffling : Yes Is Question Mandatory : No Option Orientation : Vertical

Correct Marks : 1 Wrong Marks : 0.25

Select the word segment that substitutes (replaces) the bracketed word segment correctly and completes the sentence meaningfully. Select the option 'no correction required' if the sentence is correct as given.

Drought affect food production and human society, so (these are being considered a) disaster, of natural, supernatural or human cause.

Options :

1. ✓ they are considered a
2. ✗ they have to be considered a
3. ✗ these are considered an
4. ✗ no correction required

Question Number : 126 Question Id : 97675513874 Question Type : MCQ Option Shuffling : Yes Is Question Mandatory : No Option Orientation : Vertical

Correct Marks : 1 Wrong Marks : 0.25

Select the word segment that substitutes (replaces) the bracketed word segment correctly and completes the sentence meaningfully. Select the option 'no correction required' if the sentence is correct as given.

Drought affect food production and human society, so (these are being considered a) disaster, of natural, supernatural or human cause.

Options :

1. ✓ they are considered a
2. ✗ they have to be considered a
3. ✗ these are considered an
4. ✗ no correction required

Question Number : 127 Question Id : 97675513875 Question Type : MCQ Option Shuffling : Yes Is Question Mandatory : No Option Orientation : Vertical

Correct Marks : 1 Wrong Marks : 0.25

Select the word segment that substitutes (replaces) the bracketed word segment correctly and completes the sentence meaningfully. Select the option 'no correction required' if the sentence is correct as given.

Any tree can be used for pulp-making, coniferous trees (are ought to be used) because the cellulose fibres in the pulp of these species are longer, and therefore make stronger paper.

Options :

1. ✗ are never taken
2. ✗ while being used
3. ✓ are preferred
4. ✗ no correction required

Question Number : 127 Question Id : 97675513875 Question Type : MCQ Option Shuffling : Yes Is Question Mandatory : No Option Orientation : Vertical

Correct Marks : 1 Wrong Marks : 0.25

Select the word segment that substitutes (replaces) the bracketed word segment correctly and completes the sentence meaningfully. Select the option 'no correction required' if the sentence is correct as given.

Any tree can be used for pulp-making, coniferous trees (are ought to be used) because the cellulose fibres in the pulp of these species are longer, and therefore make stronger paper.

Options :

1. ✘ are never taken
2. ✘ while being used
3. ✔ are preferred
4. ✘ no correction required

Question Number : 128 Question Id : 97675513876 Question Type : MCQ Option Shuffling : Yes Is Question Mandatory : No Option Orientation : Vertical

Correct Marks : 1 Wrong Marks : 0.25

Select the word segment that substitutes (replaces) the bracketed word segment correctly and completes the sentence meaningfully. Select the option 'no correction required' if the sentence is correct as given.

The Food and Agriculture Organization of the United Nations estimates that in coming decades, cropland (would be continuing to be lost to) industrial and urban development, along with reclamation of wetlands, and conversion of forest to cultivation, resulting in the loss of biodiversity and increased soil erosion.

Options :

1. ✔ will continue to be lost to
2. ✘ would continuing to be losing to
3. ✘ will be continuing to lose
4. ✘ no correction required

Question Number : 128 Question Id : 97675513876 Question Type : MCQ Option Shuffling : Yes Is Question Mandatory : No Option Orientation : Vertical

Correct Marks : 1 Wrong Marks : 0.25

Select the word segment that substitutes (replaces) the bracketed word segment correctly and completes the sentence meaningfully. Select the option 'no correction required' if the sentence is correct as given.

The Food and Agriculture Organization of the United Nations estimates that in coming decades, cropland (would be continuing to be lost to) industrial and urban development, along with reclamation of wetlands, and conversion of forest to cultivation, resulting in the loss of biodiversity and increased soil erosion.

Options :

1. ✔ will continue to be lost to
2. ✘ would continuing to be losing to
3. ✘ will be continuing to lose
4. ✘ no correction required

Question Number : 129 Question Id : 97675513877 Question Type : MCQ Option Shuffling : Yes Is Question Mandatory : No Option Orientation : Vertical

Correct Marks : 1 Wrong Marks : 0.25

Fill in the blank with the appropriate word.

It takes something more than words to _____ them to do our will, to cover us with glory.

Options :

1. ✘ dissuade
2. ✔ cajole
3. ✘ prorate
4. ✘ counsel

Question Number : 129 Question Id : 97675513877 Question Type : MCQ Option Shuffling : Yes Is Question Mandatory : No Option Orientation : Vertical

Correct Marks : 1 Wrong Marks : 0.25

Fill in the blank with the appropriate word.

It takes something more than words to _____ them to do our will, to cover us with glory.

Options :

1. ✘ dissuade
2. ✔ cajole
3. ✘ prorate
4. ✘ counsel

Question Number : 130 Question Id : 97675513878 Question Type : MCQ Option Shuffling : Yes Is Question Mandatory : No Option Orientation : Vertical

Correct Marks : 1 Wrong Marks : 0.25

Fill in the blank with the appropriate word.

Of all her Court ladies I was the most youthful and, perhaps, the most _____.

Options :

1. ✘ indiscernible

2. ✘ imperceptible
3. ✔ conspicuous
4. ✘ shadowy

Question Number : 130 Question Id : 97675513878 Question Type : MCQ Option Shuffling : Yes Is Question Mandatory : No Option Orientation : Vertical

Correct Marks : 1 Wrong Marks : 0.25

Fill in the blank with the appropriate word.

Of all her Court ladies I was the most youthful and, perhaps, the most _____.

Options :

1. ✘ indiscernible
2. ✘ imperceptible
3. ✔ conspicuous
4. ✘ shadowy

Question Number : 131 Question Id : 97675513879 Question Type : MCQ Option Shuffling : Yes Is Question Mandatory : No Option Orientation : Vertical

Correct Marks : 1 Wrong Marks : 0.25

Fill in the blank with the appropriate word.

Not that he took little interest in it, but it had no power to absorb and _____ him.

Options :

1. ✘ monopolize
2. ✘ swallow
3. ✘ disgrace
4. ✔ engross

Question Number : 131 Question Id : 97675513879 Question Type : MCQ Option Shuffling : Yes Is Question Mandatory : No Option Orientation : Vertical

Correct Marks : 1 Wrong Marks : 0.25

Fill in the blank with the appropriate word.

Not that he took little interest in it, but it had no power to absorb and _____ him.

Options :

1. ✘ monopolize
2. ✘ swallow
3. ✘ disgrace
4. ✔ engross

Question Number : 132 Question Id : 97675513880 Question Type : MCQ Option Shuffling : Yes Is Question Mandatory : No Option Orientation : Vertical

Correct Marks : 1 Wrong Marks : 0.25

Fill in the blank with the appropriate word.

A low hot wind began to rise, and fan his cheek with pestiferous kisses, and _____ his frame with its poisonous embrace.

Options :

1. ✘ enfleurance
2. ✔ enervate
3. ✘ silicify
4. ✘ stellify

Question Number : 132 Question Id : 97675513880 Question Type : MCQ Option Shuffling : Yes Is Question Mandatory : No Option Orientation : Vertical

Correct Marks : 1 Wrong Marks : 0.25

Fill in the blank with the appropriate word.

A low hot wind began to rise, and fan his cheek with pestiferous kisses, and _____ his frame with its poisonous embrace.

Options :

1. ✘ enfleurance
2. ✔ enervate
3. ✘ silicify
4. ✘ stellify

Question Number : 133 Question Id : 97675513881 Question Type : MCQ Option Shuffling : Yes Is Question Mandatory : No Option Orientation : Vertical

Correct Marks : 1 Wrong Marks : 0.25

Fill in the blank with the appropriate word.

What a pity that they are as _____ as the bloom of these flowers and the fragrance they exhale!

Options :

1. ✓ **evanescent**
2. ✗ **lasting**
3. ✗ **imperishable**
4. ✗ **perdurable**

Question Number : 133 Question Id : 97675513881 Question Type : MCQ Option Shuffling : Yes Is Question Mandatory : No Option Orientation : Vertical

Correct Marks : 1 Wrong Marks : 0.25

Fill in the blank with the appropriate word.

What a pity that they are as _____ as the bloom of these flowers and the fragrance they exhale!

Options :

1. ✓ **evanescent**
2. ✗ **lasting**
3. ✗ **imperishable**
4. ✗ **perdurable**

Question Number : 134 Question Id : 97675513882 Question Type : MCQ Option Shuffling : Yes Is Question Mandatory : No Option Orientation : Vertical

Correct Marks : 1 Wrong Marks : 0.25

Fill in the blank with the appropriate word.

One may _____ what he only holds in trust; he shares what is his own.

Options :

1. ✗ **appropriate**
2. ✗ **appellate**
3. ✓ **apportion**
4. ✗ **apply**

Question Number : 134 Question Id : 97675513882 Question Type : MCQ Option Shuffling : Yes Is Question Mandatory : No Option Orientation : Vertical

Correct Marks : 1 Wrong Marks : 0.25

Fill in the blank with the appropriate word.

One may _____ what he only holds in trust; he shares what is his own.

Options :

1. ✘ appropriate
2. ✘ appellate
3. ✔ apportion
4. ✘ apply

Question Number : 135 Question Id : 97675513883 Question Type : MCQ Option Shuffling : Yes Is Question Mandatory : No Option Orientation : Vertical

Correct Marks : 1 Wrong Marks : 0.25

Some parts of a sentence have been jumbled up, and labelled P, Q, R and S. Select the option that gives the correct sequence in which these parts can be rearranged to form a meaningful and grammatically correct sentence.

Aqua regia

P: because, in combination,

Q: though neither constituent acid will do so alone,

R: each acid performs a

S: dissolves gold,

different task.

Options :

1. ✘ RPQS
2. ✘ SRQP
3. ✘ QSPR
4. ✔ SQPR

Question Number : 135 Question Id : 97675513883 Question Type : MCQ Option Shuffling : Yes Is Question Mandatory : No Option Orientation : Vertical

Correct Marks : 1 Wrong Marks : 0.25

Some parts of a sentence have been jumbled up, and labelled P, Q, R and S. Select the option that gives the correct sequence in which these parts can be rearranged to form a meaningful and grammatically correct sentence.

Aqua regia

P: because, in combination,

Q: though neither constituent acid will do so alone,

R: each acid performs a

S: dissolves gold,

different task.

Options :

1. ✘ RPQS

2. ✘ SRQP

3. ✘ QSPR

4. ✔ SQPR

Question Number : 136 Question Id : 97675513884 Question Type : MCQ Option Shuffling : Yes Is Question Mandatory : No Option Orientation : Vertical

Correct Marks : 1 Wrong Marks : 0.25

Some parts of a sentence have been jumbled up, and labelled P, Q, R and S. Select the option that gives the correct sequence in which these parts can be rearranged to form a meaningful and grammatically correct sentence.

This doesn't

P: but it does happen. And when it does,

Q: happen very often,

R: to understand which one

S: you need to know both meanings

is being used.

Options :

1. ✘ QPRS

2. ✘ QRPS

3. ✔ QPSR

4. ✘ RQPS

Question Number : 136 Question Id : 97675513884 Question Type : MCQ Option Shuffling : Yes Is Question Mandatory : No Option Orientation : Vertical

Correct Marks : 1 Wrong Marks : 0.25

Some parts of a sentence have been jumbled up, and labelled P, Q, R and S. Select the option that gives the correct sequence in which these parts can be rearranged to form a meaningful and grammatically correct sentence.

This doesn't

P: but it does happen. And when it does,

Q: happen very often,

R: to understand which one

S: you need to know both meanings

is being used.

Options :

1. ✘ QPRS

2. ✘ QRPS

3. ✔ QPSR

4. ✘ RQPS

Question Number : 137 Question Id : 97675513885 Question Type : MCQ Option Shuffling : Yes Is Question Mandatory : No Option Orientation : Vertical

Correct Marks : 1 Wrong Marks : 0.25

Some parts of a sentence have been jumbled up, and labelled P, Q, R and S. Select the option that gives the correct sequence in which these parts can be rearranged to form a meaningful and grammatically correct sentence.

Larceny laws

P: of another with the

Q: intent to permanently deprive the owner

R: to which larceny involves the trespassory taking and carrying away of the tangible personal property

S: in the United States have their roots in common law, pursuant

of its possession.

Options :

1. ✘ SRQP
2. ✔ SRPQ
3. ✘ SPQR
4. ✘ SPRQ

Question Number : 137 Question Id : 97675513885 Question Type : MCQ Option Shuffling : Yes Is Question Mandatory : No Option Orientation : Vertical

Correct Marks : 1 Wrong Marks : 0.25

Some parts of a sentence have been jumbled up, and labelled P, Q, R and S. Select the option that gives the correct sequence in which these parts can be rearranged to form a meaningful and grammatically correct sentence.

Larceny laws

P: of another with the

Q: intent to permanently deprive the owner

R: to which larceny involves the trespassory taking and carrying away of the tangible personal property

S: in the United States have their roots in common law, pursuant

of its possession.

Options :

1. ✘ SRQP
2. ✔ SRPQ
3. ✘ SPQR
4. ✘ SPRQ

Question Number : 138 Question Id : 97675513886 Question Type : MCQ Option Shuffling : Yes Is Question Mandatory : No Option Orientation : Vertical

Correct Marks : 1 Wrong Marks : 0.25

Some parts of a sentence have been jumbled up, and labelled P, Q, R and S. Select the option that gives the correct sequence in which these parts can be rearranged to form a meaningful and grammatically correct sentence.

The prisoners in India

P: lack of proper medical facilities and consistent risk of torment

Q: kitchens are congested and unhygienic and the diet has remained unchanged
R: suffer from severe unhygienic conditions,
S: and misuse. The

for years now.

Options :

1. ✘ QSPR
2. ✘ QRPS
3. ✔ RPSQ
4. ✘ RSPQ

Question Number : 138 Question Id : 97675513886 Question Type : MCQ Option Shuffling : Yes Is Question Mandatory : No Option Orientation : Vertical

Correct Marks : 1 Wrong Marks : 0.25

Some parts of a sentence have been jumbled up, and labelled P, Q, R and S. Select the option that gives the correct sequence in which these parts can be rearranged to form a meaningful and grammatically correct sentence.

The prisoners in India

P: lack of proper medical facilities and consistent risk of torment
Q: kitchens are congested and unhygienic and the diet has remained unchanged
R: suffer from severe unhygienic conditions,
S: and misuse. The

for years now.

Options :

1. ✘ QSPR
2. ✘ QRPS
3. ✔ RPSQ
4. ✘ RSPQ

Question Number : 139 Question Id : 97675513887 Question Type : MCQ Option Shuffling : Yes Is Question Mandatory : No Option Orientation : Vertical

Correct Marks : 1 Wrong Marks : 0.25

Select the word that is closest in meaning (SYNONYM) to the word given below.

METICULOUS

Options :

1. ✘ UNDEMANDING
2. ✘ CARELESS
3. ✘ IMPECUNIOUS
4. ✔ CONSCIENTIOUS

Question Number : 139 Question Id : 97675513887 Question Type : MCQ Option Shuffling : Yes Is Question Mandatory : No Option Orientation : Vertical

Correct Marks : 1 Wrong Marks : 0.25

Select the word that is closest in meaning (SYNONYM) to the word given below.

METICULOUS

Options :

1. ✘ UNDEMANDING
2. ✘ CARELESS
3. ✘ IMPECUNIOUS
4. ✔ CONSCIENTIOUS

Question Number : 140 Question Id : 97675513888 Question Type : MCQ Option Shuffling : Yes Is Question Mandatory : No Option Orientation : Vertical

Correct Marks : 1 Wrong Marks : 0.25

Select the word that is the opposite meaning (ANTONYM) to the word given below.

ABSCOND

Options :

1. ✘ ABSTAIN
2. ✘ FADE
3. ✔ APPEAR
4. ✘ DESPOND

Question Number : 140 Question Id : 97675513888 Question Type : MCQ Option Shuffling : Yes Is Question Mandatory : No Option

Orientation : Vertical

Correct Marks : 1 Wrong Marks : 0.25

Select the word that is the opposite meaning (ANTONYM) to the word given below.

ABSCOND

Options :

1. ✘ ABSTAIN
2. ✘ FADE
3. ✔ APPEAR
4. ✘ DESPOND

General English2

Group Number :	8
Group Id :	976755475
Group Maximum Duration :	0
Group Minimum Duration :	0
Show Attended Group? :	No
Edit Attended Group? :	No
Break time :	0
Group Marks :	20
Is this Group for Examiner? :	No

General English2

Section Id :	976755812
Section Number :	1
Section type :	Online
Mandatory or Optional :	Mandatory
Number of Questions :	16
Number of Questions to be attempted :	16
Section Marks :	20

Enable Mark as Answered Mark for Review and Clear Response : Yes
Sub-Section Number : 1
Sub-Section Id : 976755953
Question Shuffling Allowed : Yes

Question Number : 141 Question Id : 97675513889 Question Type : MCQ Option Shuffling : Yes Is Question Mandatory : No Option Orientation : Vertical

Correct Marks : 1 Wrong Marks : 0.25

Select the word that is closest in meaning (SYNONYM) to the word given below.

AMENABLE

Options :

1. ✘ RECALCITRANT
2. ✔ AGREEABLE
3. ✘ INTRACTABLE
4. ✘ OBDURATE

Question Number : 141 Question Id : 97675513889 Question Type : MCQ Option Shuffling : Yes Is Question Mandatory : No Option Orientation : Vertical

Correct Marks : 1 Wrong Marks : 0.25

Select the word that is closest in meaning (SYNONYM) to the word given below.

AMENABLE

Options :

1. ✘ RECALCITRANT
2. ✔ AGREEABLE
3. ✘ INTRACTABLE
4. ✘ OBDURATE

Question Number : 142 Question Id : 97675513890 Question Type : MCQ Option Shuffling : Yes Is Question Mandatory : No Option Orientation : Vertical

Correct Marks : 1 Wrong Marks : 0.25

Select the word that is closest in meaning (SYNONYM) to the word given below.

ELICIT

Options :

1. ✓ WREST
2. ✗ SOOTHE
3. ✗ PLACATE
4. ✗ COVER

Question Number : 142 Question Id : 97675513890 Question Type : MCQ Option Shuffling : Yes Is Question Mandatory : No Option Orientation : Vertical

Correct Marks : 1 Wrong Marks : 0.25

Select the word that is closest in meaning (SYNONYM) to the word given below.

ELICIT

Options :

1. ✓ WREST
2. ✗ SOOTHE
3. ✗ PLACATE
4. ✗ COVER

Question Number : 143 Question Id : 97675513891 Question Type : MCQ Option Shuffling : Yes Is Question Mandatory : No Option Orientation : Vertical

Correct Marks : 1 Wrong Marks : 0.25

Select the word that is closest in meaning (SYNONYM) to the word given below.

PARADIGM

Options :

1. ✗ ACUMEN
2. ✗ MOIETY
3. ✓ EXEMPLAR
4. ✗ PECUNIARY

Question Number : 143 Question Id : 97675513891 Question Type : MCQ Option Shuffling : Yes Is Question Mandatory : No Option

Orientation : Vertical

Correct Marks : 1 Wrong Marks : 0.25

Select the word that is closest in meaning (SYNONYM) to the word given below.

PARADIGM

Options :

1. ✘ ACUMEN
2. ✘ MOIETY
3. ✔ EXEMPLAR
4. ✘ PECUNIARY

Question Number : 144 Question Id : 97675513892 Question Type : MCQ Option Shuffling : Yes Is Question Mandatory : No Option

Orientation : Vertical

Correct Marks : 1 Wrong Marks : 0.25

Four words are given, out of which only one word is spelt correctly. Choose the correctly spelt word.

Options :

1. ✘ PROTEEN
2. ✘ PROTIEN
3. ✔ PROTEIN
4. ✘ PROTIN

Question Number : 144 Question Id : 97675513892 Question Type : MCQ Option Shuffling : Yes Is Question Mandatory : No Option

Orientation : Vertical

Correct Marks : 1 Wrong Marks : 0.25

Four words are given, out of which only one word is spelt correctly. Choose the correctly spelt word.

Options :

1. ✘ PROTEEN
2. ✘ PROTIEN
3. ✔ PROTEIN
4. ✘ PROTIN

Question Number : 145 Question Id : 97675513893 Question Type : MCQ Option Shuffling : Yes Is Question Mandatory : No Option

Orientation : Vertical

Correct Marks : 1 Wrong Marks : 0.25

Four words are given, out of which only one word is spelt correctly. Choose the correctly spelt word.

Options :

1. ✓ ACCESSION
2. ✗ ACESSION
3. ✗ ACESSION
4. ✗ ACESION

Question Number : 145 Question Id : 97675513893 Question Type : MCQ Option Shuffling : Yes Is Question Mandatory : No Option Orientation : Vertical

Correct Marks : 1 Wrong Marks : 0.25

Four words are given, out of which only one word is spelt correctly. Choose the correctly spelt word.

Options :

1. ✓ ACCESSION
2. ✗ ACESSION
3. ✗ ACESSION
4. ✗ ACESION

Question Number : 146 Question Id : 97675513894 Question Type : MCQ Option Shuffling : Yes Is Question Mandatory : No Option Orientation : Vertical

Correct Marks : 1 Wrong Marks : 0.25

Four words are given, out of which only one word is spelt correctly. Choose the correctly spelt word.

Options :

1. ✗ CAMRADRIE
2. ✓ CAMARADERIE
3. ✗ CAMRADEIRE
4. ✗ CAMRADERIE

Question Number : 146 Question Id : 97675513894 Question Type : MCQ Option Shuffling : Yes Is Question Mandatory : No Option Orientation : Vertical

Correct Marks : 1 Wrong Marks : 0.25

Four words are given, out of which only one word is spelt correctly. Choose the correctly spelt word.

Options :

1. ✘ CAMRADRIE
2. ✔ CAMARADERIE
3. ✘ CAMRADEIRE
4. ✘ CAMRADERIE

Question Number : 147 Question Id : 97675513895 Question Type : MCQ Option Shuffling : Yes Is Question Mandatory : No Option Orientation : Vertical

Correct Marks : 1 Wrong Marks : 0.25

Four words are given, out of which only one word is spelt correctly. Choose the correctly spelt word.

Options :

1. ✘ PALCHRITUDE
2. ✔ PULCHRITUDE
3. ✘ PULSHRITUDE
4. ✘ PALSHRITUDE

Question Number : 147 Question Id : 97675513895 Question Type : MCQ Option Shuffling : Yes Is Question Mandatory : No Option Orientation : Vertical

Correct Marks : 1 Wrong Marks : 0.25

Four words are given, out of which only one word is spelt correctly. Choose the correctly spelt word.

Options :

1. ✘ PALCHRITUDE
2. ✔ PULCHRITUDE
3. ✘ PULSHRITUDE
4. ✘ PALSHRITUDE

Question Number : 148 Question Id : 97675513896 Question Type : MCQ Option Shuffling : Yes Is Question Mandatory : No Option Orientation : Vertical

Correct Marks : 1 Wrong Marks : 0.25

Select the most appropriate meaning of the given idiom.

"The ball is in your court".

Options :

1. ✘ You should finish what you started.
2. ✔ It's your decision.
3. ✘ To give a warm handshake.
4. ✘ Telling someone that they are worthless.

Question Number : 148 Question Id : 97675513896 Question Type : MCQ Option Shuffling : Yes Is Question Mandatory : No Option Orientation : Vertical

Correct Marks : 1 Wrong Marks : 0.25

Select the most appropriate meaning of the given idiom.

"The ball is in your court".

Options :

1. ✘ You should finish what you started.
2. ✔ It's your decision.
3. ✘ To give a warm handshake.
4. ✘ Telling someone that they are worthless.

Question Number : 149 Question Id : 97675513897 Question Type : MCQ Option Shuffling : Yes Is Question Mandatory : No Option Orientation : Vertical

Correct Marks : 1 Wrong Marks : 0.25

Select the most appropriate meaning of the given idiom.

"Spill the beans".

Options :

1. ✘ To loose the hold of the situation.
2. ✘ To give away an opportunity.
3. ✘ To drop an expensive article .
4. ✔ To give away a secret.

Question Number : 149 Question Id : 97675513897 Question Type : MCQ Option Shuffling : Yes Is Question Mandatory : No Option Orientation : Vertical

Correct Marks : 1 Wrong Marks : 0.25

Select the most appropriate meaning of the given idiom.

"Spill the beans".

Options :

1. ✘ To loose the hold of the situation.
2. ✘ To give away an opportunity.
3. ✘ To drop an expensive article .
4. ✔ To give away a secret.

Question Number : 150 Question Id : 97675513898 Question Type : MCQ Option Shuffling : Yes Is Question Mandatory : No Option Orientation : Vertical

Correct Marks : 1 Wrong Marks : 0.25

Select the most appropriate meaning of the given idiom.

"Take a rain check".

Options :

1. ✔ Postpone a plan.
2. ✘ Having a hold of the situation.
3. ✘ Things that do not matter.
4. ✘ Being sure about everything.

Question Number : 150 Question Id : 97675513898 Question Type : MCQ Option Shuffling : Yes Is Question Mandatory : No Option Orientation : Vertical

Correct Marks : 1 Wrong Marks : 0.25

Select the most appropriate meaning of the given idiom.

"Take a rain check".

Options :

1. ✔ Postpone a plan.
2. ✘ Having a hold of the situation.
3. ✘ Things that do not matter.
4. ✘ Being sure about everything.

Question Number : 151 Question Id : 97675513899 Question Type : MCQ Option Shuffling : Yes Is Question Mandatory : No Option Orientation : Vertical

Correct Marks : 1 Wrong Marks : 0.25

Select the most appropriate meaning of the given phrase.

"The best thing since sliced bread".

Options :

1. ✘ Things of daily importance.
2. ✘ Things of less importance.
3. ✔ A really good invention.
4. ✘ Not being good at anything.

Question Number : 151 Question Id : 97675513899 Question Type : MCQ Option Shuffling : Yes Is Question Mandatory : No Option Orientation : Vertical

Correct Marks : 1 Wrong Marks : 0.25

Select the most appropriate meaning of the given phrase.

"The best thing since sliced bread".

Options :

1. ✘ Things of daily importance.
2. ✘ Things of less importance.
3. ✔ A really good invention.
4. ✘ Not being good at anything.

Question Number : 152 Question Id : 97675513900 Question Type : MCQ Option Shuffling : Yes Is Question Mandatory : No Option Orientation : Vertical

Correct Marks : 1 Wrong Marks : 0.25

Select the most appropriate 'one word ' for the expressions given below.

"causing or having a very sharp feeling of sadness."

Options :

1. ✘ FUCHSIA

2. ✓ POIGNANT
3. ✗ FUSION
4. ✗ FISSION

Question Number : 152 Question Id : 97675513900 Question Type : MCQ Option Shuffling : Yes Is Question Mandatory : No Option Orientation : Vertical

Correct Marks : 1 Wrong Marks : 0.25

Select the most appropriate 'one word ' for the expressions given below.

"causing or having a very sharp feeling of sadness."

Options :

1. ✗ FUCHSIA
2. ✓ POIGNANT
3. ✗ FUSION
4. ✗ FISSION

Question Number : 153 Question Id : 97675513901 Question Type : MCQ Option Shuffling : Yes Is Question Mandatory : No Option Orientation : Vertical

Correct Marks : 1 Wrong Marks : 0.25

Select the most appropriate 'one word ' for the expressions given below.

"a speech, piece of writing, poem, etc. containing great praise, especially for someone who recently died or retired from work".

Options :

1. ✗ BALLAD
2. ✗ ODE
3. ✓ EULOGY
4. ✗ SONNET

Question Number : 153 Question Id : 97675513901 Question Type : MCQ Option Shuffling : Yes Is Question Mandatory : No Option Orientation : Vertical

Correct Marks : 1 Wrong Marks : 0.25

Select the most appropriate 'one word ' for the expressions given below.

"a speech, piece of writing, poem, etc. containing great praise, especially for someone who recently died or retired from work".

Options :

1. ✘ BALLAD
2. ✘ ODE
3. ✔ EULOGY
4. ✘ SONNET

Question Number : 154 Question Id : 97675513902 Question Type : MCQ Option Shuffling : Yes Is Question Mandatory : No Option Orientation : Vertical

Correct Marks : 1 Wrong Marks : 0.25

Select the most appropriate 'one word ' for the expressions given below.

"affectedly grand, solemn, or self-important."

Options :

1. ✘ SULLY
2. ✘ DEMURE
3. ✘ UNPRETENTIOUS
4. ✔ POMPOUS

Question Number : 154 Question Id : 97675513902 Question Type : MCQ Option Shuffling : Yes Is Question Mandatory : No Option Orientation : Vertical

Correct Marks : 1 Wrong Marks : 0.25

Select the most appropriate 'one word ' for the expressions given below.

"affectedly grand, solemn, or self-important."

Options :

1. ✘ SULLY
2. ✘ DEMURE
3. ✘ UNPRETENTIOUS
4. ✔ POMPOUS

Question Number : 155 Question Id : 97675513903 Question Type : MCQ Option Shuffling : Yes Is Question Mandatory : No Option Orientation : Vertical

Correct Marks : 1 Wrong Marks : 0.25

Select the most appropriate 'one word ' for the expressions given below.

"to make unclean or impure".

Options :

1. ✓ **DEFILE**
2. ✗ **ENCUMBERED**
3. ✗ **LIMERICK**
4. ✗ **CRAMP**

Question Number : 155 Question Id : 97675513903 Question Type : MCQ Option Shuffling : Yes Is Question Mandatory : No Option Orientation : Vertical

Correct Marks : 1 Wrong Marks : 0.25

Select the most appropriate 'one word ' for the expressions given below.

"to make unclean or impure".

Options :

1. ✓ **DEFILE**
2. ✗ **ENCUMBERED**
3. ✗ **LIMERICK**
4. ✗ **CRAMP**

Sub-Section Number :

2

Sub-Section Id :

976755954

Question Shuffling Allowed :

Yes

Question Id : 97675513904 Question Type : COMPREHENSION Sub Question Shuffling Allowed : Yes Group Comprehension Questions : No

Question Numbers : (156 to 160)

A passage is given with 5 questions following it. Read the passage carefully and choose the best answer to each question out of the four alternatives.

To rise like a phoenix from the ashes means to emerge from a catastrophe stronger, smarter and more powerful. An example of rising like a phoenix from the ashes is someone who opens a new, successful business after his previous business has failed. Another example is someone who builds a new house after his previous house has been destroyed in a tornado. The phoenix bird is a mythical bird from Greek mythology. It

was a feathered creature of great size with talons and wings, its plumage radiant and beautiful. The phoenix lived for 500 years before it built its own funeral pyre, burst into flame, and died, consumed in its own fiery inferno. Soon after, the mythical creature rose out of the ashes, in a transformation from death to life. This story of becoming born again predates the story of the phoenix rising from the ashes. A counterpart to the phoenix is the Bennu of Egyptian mythology, which was a large heron venerated in Heliopolis, Egypt. The fenghuang is a Chinese bird often depicted with fire balls. The feathers of the Russian firebird emit light, and is often the subject of quests in folklore. Christianity adopted the depiction of the phoenix rising from the ashes as a symbol of rebirth and eternal life. The classical, mythical imagery and symbolism of resurrection, of life reborn anew and transformed, resonated with the Christian story. The phrase rise like a phoenix from the ashes is often shortened to rise like a phoenix, or even rise from the ashes. Related phrases are rises like a phoenix from the ashes, rose like a phoenix from the ashes, risen like a phoenix from the ashes, rising like a phoenix from the ashes. Note that the word phoenix is spelled with a lowercase letter. When capitalized, as in Phoenix, the term is the name of a city in Arizona, United States.

Sub questions

Question Number : 156 Question Id : 97675513905 Question Type : MCQ Option Shuffling : Yes Is Question Mandatory : No Option Orientation : Vertical

Correct Marks : 1 Wrong Marks : 0.25

What is Phoenix ?

Options :

1. ✘ A fiery bird.
2. ✘ A metaphor for charm.
3. ✔ A city in United States.
4. ✘ A character in John Keat's poems.

Question Number : 157 Question Id : 97675513906 Question Type : MCQ Option Shuffling : Yes Is Question Mandatory : No Option Orientation : Vertical

Correct Marks : 1 Wrong Marks : 0.25

The idea of the bird is derived from which part of the world ?

Options :

1. ✘ Romania
2. ✔ Greece
3. ✘ Greenland
4. ✘ Colombia

Question Number : 158 Question Id : 97675513907 Question Type : MCQ Option Shuffling : Yes Is Question Mandatory : No Option Orientation : Vertical

Correct Marks : 1 Wrong Marks : 0.25

Why is the Russian firebird compared to a phoenix?

Options :

1. ✘ Because the Russian firebird lays eggs which only hatch when kept in fire.
2. ✘ Because the eyes of the Russian firebird light up at night.
3. ✘ Because the Russian firebird's tail is made of a long single flame.
4. ✔ Because the feather of Russian firebird emit light.

Question Number : 159 Question Id : 97675513908 Question Type : MCQ Option Shuffling : Yes Is Question Mandatory : No Option Orientation : Vertical

Correct Marks : 1 Wrong Marks : 0.25

Which of the following is not as closely related to the others ?

Options :

1. ✘ Resurrection
2. ✘ Transformation from death to life.
3. ✔ Emerge from a catastrophe stronger, smarter and more powerful.
4. ✘ Rebirth, life reborn anew and transformed.

Question Number : 160 Question Id : 97675513909 Question Type : MCQ Option Shuffling : Yes Is Question Mandatory : No Option Orientation : Vertical

Correct Marks : 1 Wrong Marks : 0.25

Fill in the blank with the appropriate word.

The phrase "To rise like a phoenix from the ashes" is a _____

Options :

1. ✘ Onomatopoeia
2. ✔ Simile
3. ✘ Hyperbole
4. ✘ Synecdoche

Question Id : 97675513904 Question Type : COMPREHENSION Sub Question Shuffling Allowed : Yes Group Comprehension Questions : No

Question Numbers : (156 to 160)

A passage is given with 5 questions following it. Read the passage carefully and choose the best answer to each question out of the four

alternatives.

To rise like a phoenix from the ashes means to emerge from a catastrophe stronger, smarter and more powerful. An example of rising like a phoenix from the ashes is someone who opens a new, successful business after his previous business has failed. Another example is someone who builds a new house after his previous house has been destroyed in a tornado. The phoenix bird is a mythical bird from Greek mythology. It was a feathered creature of great size with talons and wings, its plumage radiant and beautiful. The phoenix lived for 500 years before it built its own funeral pyre, burst into flame, and died, consumed in its own fiery inferno. Soon after, the mythical creature rose out of the ashes, in a transformation from death to life. This story of becoming born again predates the story of the phoenix rising from the ashes. A counterpart to the phoenix is the Bennu of Egyptian mythology, which was a large heron venerated in Heliopolis, Egypt. The fenghuang is a Chinese bird often depicted with fire balls. The feathers of the Russian firebird emit light, and is often the subject of quests in folklore. Christianity adopted the depiction of the phoenix rising from the ashes as a symbol of rebirth and eternal life. The classical, mythical imagery and symbolism of resurrection, of life reborn anew and transformed, resonated with the Christian story. The phrase rise like a phoenix from the ashes is often shortened to rise like a phoenix, or even rise from the ashes. Related phrases are rises like a phoenix from the ashes, rose like a phoenix from the ashes, risen like a phoenix from the ashes, rising like a phoenix from the ashes. Note that the word phoenix is spelled with a lowercase letter. When capitalized, as in Phoenix, the term is the name of a city in Arizona, United States.

Sub questions

Question Number : 156 Question Id : 97675513905 Question Type : MCQ Option Shuffling : Yes Is Question Mandatory : No Option Orientation : Vertical

Correct Marks : 1 Wrong Marks : 0.25

What is Phoenix ?

Options :

1. ✘ A fiery bird.
2. ✘ A metaphor for charm.
3. ✔ A city in United States.
4. ✘ A character in John Keat's poems.

Question Number : 157 Question Id : 97675513906 Question Type : MCQ Option Shuffling : Yes Is Question Mandatory : No Option Orientation : Vertical

Correct Marks : 1 Wrong Marks : 0.25

The idea of the bird is derived from which part of the world ?

Options :

1. ✘ Romania
2. ✔ Greece
3. ✘ Greenland
4. ✘ Colombia

Question Number : 158 Question Id : 97675513907 Question Type : MCQ Option Shuffling : Yes Is Question Mandatory : No Option Orientation : Vertical

Correct Marks : 1 Wrong Marks : 0.25

Why is the Russian firebird compared to a phoenix?

Options :

1. ✘ Because the Russian firebird lays eggs which only hatch when kept in fire.
2. ✘ Because the eyes of the Russian firebird light up at night.
3. ✘ Because the Russian firebird's tail is made of a long single flame.
4. ✔ Because the feather of Russian firebird emit light.

Question Number : 159 Question Id : 97675513908 Question Type : MCQ Option Shuffling : Yes Is Question Mandatory : No Option Orientation : Vertical

Correct Marks : 1 Wrong Marks : 0.25

Which of the following is not as closely related to the others ?

Options :

1. ✘ Resurrection
2. ✘ Transformation from death to life.
3. ✔ Emerge from a catastrophe stronger, smarter and more powerful.
4. ✘ Rebirth, life reborn anew and transformed.

Question Number : 160 Question Id : 97675513909 Question Type : MCQ Option Shuffling : Yes Is Question Mandatory : No Option Orientation : Vertical

Correct Marks : 1 Wrong Marks : 0.25

Fill in the blank with the appropriate word.

The phrase "To rise like a phoenix from the ashes" is a _____

Options :

1. ✘ Onomatopoeia
2. ✔ Simile
3. ✘ Hyperbole
4. ✘ Synecdoche

General Hindi1

Group Number :	9
Group Id :	976755476
Group Maximum Duration :	0
Group Minimum Duration :	0
Show Attended Group? :	No
Edit Attended Group? :	No
Break time :	0
Group Marks :	20
Is this Group for Examiner? :	No

General Hindi1

Section Id :	976755813
Section Number :	1
Section type :	Online
Mandatory or Optional :	Mandatory
Number of Questions :	20
Number of Questions to be attempted :	20
Section Marks :	20
Enable Mark as Answered Mark for Review and Clear Response :	Yes
Sub-Section Number :	1
Sub-Section Id :	976755955
Question Shuffling Allowed :	Yes

Question Number : 161 Question Id : 97675513910 Question Type : MCQ Option Shuffling : Yes Is Question Mandatory : No Option Orientation : Vertical

Correct Marks : 1 Wrong Marks : 0.25

निम्नलिखित प्रश्न में, चार विकल्पों में से, उस विकल्प का चयन करें जो क्रिया के भेद वाला सही विकल्प हो।
मालिक ने नौकरों से काम करवाया।

Options :

1. ✘ पूर्वकालिक क्रिया
2. ✔ प्रेरणार्थक क्रिया
3. ✘ नामधातु क्रिया
4. ✘ तात्कालिक क्रिया

Question Number : 161 Question Id : 97675513910 Question Type : MCQ Option Shuffling : Yes Is Question Mandatory : No Option Orientation : Vertical

Correct Marks : 1 Wrong Marks : 0.25

निम्नलिखित प्रश्न में, चार विकल्पों में से, उस विकल्प का चयन करें जो क्रिया के भेद वाला सही विकल्प हो।
मालिक ने नौकरों से काम करवाया।

Options :

1. ✘ पूर्वकालिक क्रिया
2. ✔ प्रेरणार्थक क्रिया
3. ✘ नामधातु क्रिया
4. ✘ तात्कालिक क्रिया

Question Number : 162 Question Id : 97675513911 Question Type : MCQ Option Shuffling : Yes Is Question Mandatory : No Option Orientation : Vertical

Correct Marks : 1 Wrong Marks : 0.25

निम्नलिखित प्रश्न में, चार विकल्पों में से, उस विकल्प का चयन करें जो दिए गए वाक्य के लिए अव्यय के भेद का सही विकल्प हो।
सूरज निकला और पंक्षी बोलने लगे।

Options :

1. ✘ क्रियाविशेषण अव्यय
2. ✔ समुच्चयबोधक अव्यय
3. ✘ विस्मयादिबोधक अव्यय
4. ✘ संबंधबोधक अव्यय

Question Number : 162 Question Id : 97675513911 Question Type : MCQ Option Shuffling : Yes Is Question Mandatory : No Option Orientation : Vertical

Correct Marks : 1 Wrong Marks : 0.25

निम्नलिखित प्रश्न में, चार विकल्पों में से, उस विकल्प का चयन करें जो दिए गए वाक्य के लिए अव्यय के भेद का सही विकल्प हो।

सूरज निकला और पंक्षी बोलने लगे।

Options :

1. ✘ क्रियाविशेषण अव्यय
2. ✔ समुच्चयबोधक अव्यय
3. ✘ विस्मयादिबोधक अव्यय
4. ✘ संबंधबोधक अव्यय

Question Number : 163 Question Id : 97675513912 Question Type : MCQ Option Shuffling : Yes Is Question Mandatory : No Option Orientation : Vertical

Correct Marks : 1 Wrong Marks : 0.25

निम्नलिखित प्रश्न में, चार विकल्पों में से, उस विकल्प का चयन करें जो भाववाचक संज्ञा का सही विकल्प नहीं है।

Options :

1. ✘ अहंकार
2. ✘ फुर्ती
3. ✘ खटास
4. ✔ विपन्न

Question Number : 163 Question Id : 97675513912 Question Type : MCQ Option Shuffling : Yes Is Question Mandatory : No Option Orientation : Vertical

Correct Marks : 1 Wrong Marks : 0.25

निम्नलिखित प्रश्न में, चार विकल्पों में से, उस विकल्प का चयन करें जो भाववाचक संज्ञा का सही विकल्प नहीं है।

Options :

1. ✘ अहंकार
2. ✘ फुर्ती
3. ✘ खटास
4. ✔ विपन्न

Question Number : 164 Question Id : 97675513913 Question Type : MCQ Option Shuffling : Yes Is Question Mandatory : No Option Orientation : Vertical

Correct Marks : 1 Wrong Marks : 0.25

निम्नलिखित प्रश्न में, चार विकल्पों में से, उस विकल्प का चयन करें जो कोष्ठक में दिए गए शब्द के अनुसार सर्वनाम के भेद का सही विकल्प हो।

आज (कोई) तुमसे मिलने आया था।

Options :

1. ✘ निजवाचक
2. ✘ सम्बन्ध वाचक
3. ✘ उत्तम पुरुष
4. ✔ अनिश्चय वाचक

Question Number : 164 Question Id : 97675513913 Question Type : MCQ Option Shuffling : Yes Is Question Mandatory : No Option Orientation : Vertical

Correct Marks : 1 Wrong Marks : 0.25

निम्नलिखित प्रश्न में, चार विकल्पों में से, उस विकल्प का चयन करें जो कोष्ठक में दिए गए शब्द के अनुसार सर्वनाम के भेद का सही विकल्प हो।
आज (कोई) तुमसे मिलने आया था।

Options :

1. ✘ निजवाचक
2. ✘ सम्बन्ध वाचक
3. ✘ उत्तम पुरुष
4. ✔ अनिश्चय वाचक

Question Number : 165 Question Id : 97675513914 Question Type : MCQ Option Shuffling : Yes Is Question Mandatory : No Option Orientation : Vertical

Correct Marks : 1 Wrong Marks : 0.25

निम्नलिखित प्रश्न में, चार विकल्पों में से, उस विकल्प का चयन करें जो कोष्ठक में दिए गए शब्द के अनुसार विशेषण के भेद वाला विकल्प हो।
(स्वस्थ) बच्चे खेल रहे हैं।

Options :

1. ✘ सार्वनामिक
2. ✘ अनिश्चित परिमाण वाचक
3. ✘ निश्चित संख्यावाचक
4. ✔ गुणवाचक

Question Number : 165 Question Id : 97675513914 Question Type : MCQ Option Shuffling : Yes Is Question Mandatory : No Option Orientation : Vertical

Correct Marks : 1 Wrong Marks : 0.25

निम्नलिखित प्रश्न में, चार विकल्पों में से, उस विकल्प का चयन करें जो कोष्ठक में दिए गए शब्द के अनुसार विशेषण के भेद वाला विकल्प हो।
(स्वस्थ) बच्चे खेल रहे हैं।

Options :

1. ✘ सार्वनामिक
2. ✘ अनिश्चित परिमाण वाचक
3. ✘ निश्चित संख्यावाचक
4. ✔ गुणवाचक

Question Number : 166 Question Id : 97675513915 Question Type : MCQ Option Shuffling : Yes Is Question Mandatory : No Option Orientation : Vertical

Correct Marks : 1 Wrong Marks : 0.25

निम्नलिखित प्रश्न में, चार विकल्पों में से, उस विकल्प का चयन करें जो देशज शब्द का सही विकल्प हो।

Options :

1. ✘ मरहम
2. ✘ हिम्मत
3. ✘ दीदार
4. ✔ छपाक

Question Number : 166 Question Id : 97675513915 Question Type : MCQ Option Shuffling : Yes Is Question Mandatory : No Option Orientation : Vertical

Correct Marks : 1 Wrong Marks : 0.25

निम्नलिखित प्रश्न में, चार विकल्पों में से, उस विकल्प का चयन करें जो देशज शब्द का सही विकल्प हो।

Options :

1. ✘ मरहम
2. ✘ हिम्मत
3. ✘ दीदार
4. ✔ छपाक

Question Number : 167 Question Id : 97675513916 Question Type : MCQ Option Shuffling : Yes Is Question Mandatory : No Option Orientation : Vertical

Correct Marks : 1 Wrong Marks : 0.25

निम्नलिखित प्रश्न में, चार विकल्पों में से, उस विकल्प का चयन करें जो दिए गए शब्द के लिए सही तत्पुरुष समास के विग्रह का विकल्प हो।
ग्रामोद्धार

Options :

1. ✓ ग्राम का उद्धार
2. ✗ ग्राम और उद्धार
3. ✗ ग्राम जो है उद्धार
4. ✗ ग्राम से उद्धार

Question Number : 167 Question Id : 97675513916 Question Type : MCQ Option Shuffling : Yes Is Question Mandatory : No Option Orientation : Vertical

Correct Marks : 1 Wrong Marks : 0.25

निम्नलिखित प्रश्न में, चार विकल्पों में से, उस विकल्प का चयन करें जो दिए गए शब्द के लिए सही तत्पुरुष समास के विग्रह का विकल्प हो।
ग्रामोद्धार

Options :

1. ✓ ग्राम का उद्धार
2. ✗ ग्राम और उद्धार
3. ✗ ग्राम जो है उद्धार
4. ✗ ग्राम से उद्धार

Question Number : 168 Question Id : 97675513917 Question Type : MCQ Option Shuffling : Yes Is Question Mandatory : No Option Orientation : Vertical

Correct Marks : 1 Wrong Marks : 0.25

निम्नलिखित प्रश्न में, चार विकल्पों में से, उस विकल्प का चयन करें जो दिए गए शब्द का तत्सम रूप हो।
गेहूँ

Options :

1. ✗ गर्दभ
2. ✗ गृध
3. ✓ गोधूम
4. ✗ गौर

Question Number : 168 Question Id : 97675513917 Question Type : MCQ Option Shuffling : Yes Is Question Mandatory : No Option Orientation : Vertical

Correct Marks : 1 Wrong Marks : 0.25

निम्नलिखित प्रश्न में, चार विकल्पों में से, उस विकल्प का चयन करें जो दिए गए शब्द का तत्सम रूप हो।
गेहूँ

Options :

1. ✘ गर्दभ
2. ✘ गृध
3. ✔ गोधूम
4. ✘ गौर

Question Number : 169 Question Id : 97675513918 Question Type : MCQ Option Shuffling : Yes Is Question Mandatory : No Option Orientation : Vertical

Correct Marks : 1 Wrong Marks : 0.25

निम्नलिखित प्रश्न में, चार विकल्पों में से, उस विकल्प का चयन करें जो दिए गए शब्द के पर्यायवाची शब्द का सही विकल्प नहीं है।
विशाल

Options :

1. ✘ विराट
2. ✔ विमुख
3. ✘ बृहत्
4. ✘ दीर्घ

Question Number : 169 Question Id : 97675513918 Question Type : MCQ Option Shuffling : Yes Is Question Mandatory : No Option Orientation : Vertical

Correct Marks : 1 Wrong Marks : 0.25

निम्नलिखित प्रश्न में, चार विकल्पों में से, उस विकल्प का चयन करें जो दिए गए शब्द के पर्यायवाची शब्द का सही विकल्प नहीं है।
विशाल

Options :

1. ✘ विराट
2. ✔ विमुख
3. ✘ बृहत्

4. ✖ दीर्घ

Question Number : 170 Question Id : 97675513919 Question Type : MCQ Option Shuffling : Yes Is Question Mandatory : No Option Orientation : Vertical

Correct Marks : 1 Wrong Marks : 0.25

निम्नलिखित प्रश्न में, चार विकल्पों में से, उस विकल्प का चयन करें जो विलोम शब्द का सबसे अच्छा विकल्प है।

लुप्त

Options :

1. ✖ अदृश्य
2. ✖ छिपना
3. ✖ गुरु
4. ✔ व्यक्त

Question Number : 170 Question Id : 97675513919 Question Type : MCQ Option Shuffling : Yes Is Question Mandatory : No Option Orientation : Vertical

Correct Marks : 1 Wrong Marks : 0.25

निम्नलिखित प्रश्न में, चार विकल्पों में से, उस विकल्प का चयन करें जो विलोम शब्द का सबसे अच्छा विकल्प है।

लुप्त

Options :

1. ✖ अदृश्य
2. ✖ छिपना
3. ✖ गुरु
4. ✔ व्यक्त

Question Number : 171 Question Id : 97675513920 Question Type : MCQ Option Shuffling : Yes Is Question Mandatory : No Option Orientation : Vertical

Correct Marks : 1 Wrong Marks : 0.25

निम्नलिखित प्रश्न में, चार विकल्पों में से, उस सही विकल्प का चयन करें जो वाक्यांशों के लिए एक शब्द का विकल्प हो।
जो किसी का पक्ष ना ले।

Options :

1. ✓ तटस्थ
2. ✗ त्रिलोकी
3. ✗ निरर्थक
4. ✗ दयालु

Question Number : 171 Question Id : 97675513920 Question Type : MCQ Option Shuffling : Yes Is Question Mandatory : No Option Orientation : Vertical

Correct Marks : 1 Wrong Marks : 0.25

निम्नलिखित प्रश्न में, चार विकल्पों में से, उस सही विकल्प का चयन करें जो वाक्यांशों के लिए एक शब्द का विकल्प हो।
जो किसी का पक्ष ना ले।

Options :

1. ✓ तटस्थ
2. ✗ त्रिलोकी
3. ✗ निरर्थक
4. ✗ दयालु

Question Number : 172 Question Id : 97675513921 Question Type : MCQ Option Shuffling : Yes Is Question Mandatory : No Option Orientation : Vertical

Correct Marks : 1 Wrong Marks : 0.25

निम्नलिखित प्रश्न में, चार विकल्पों में से, उस सही विकल्प का चयन करें जो दिए गए शब्द के सही अर्थ का उचित विकल्प हो।
कुंजर

Options :

1. ✗ घुमक्कड़
2. ✗ खानाबदोश
3. ✓ हाथी
4. ✗ गरीब

Question Number : 172 Question Id : 97675513921 Question Type : MCQ Option Shuffling : Yes Is Question Mandatory : No Option Orientation : Vertical

Correct Marks : 1 Wrong Marks : 0.25

निम्नलिखित प्रश्न में, चार विकल्पों में से, उस सही विकल्प का चयन करें जो दिए गए शब्द के सही अर्थ का उचित विकल्प हो।

कुंजर

Options :

1. ✘ घुमक्कड़
2. ✘ खानाबदोश
3. ✔ हाथी
4. ✘ गरीब

Question Number : 173 Question Id : 97675513922 Question Type : MCQ Option Shuffling : Yes Is Question Mandatory : No Option Orientation : Vertical

Correct Marks : 1 Wrong Marks : 0.25

निम्नलिखित प्रश्न में, चार विकल्पों में से, उस सही विकल्प का चयन करें जो रिक्त स्थान के लिए उपयुक्त शब्द का सही विकल्प है।
उसने _____ रुककर मामा की ओर देखा।

Options :

1. ✘ जाते
2. ✔ एकाएक
3. ✘ बोलकर
4. ✘ ठहरकर

Question Number : 173 Question Id : 97675513922 Question Type : MCQ Option Shuffling : Yes Is Question Mandatory : No Option Orientation : Vertical

Correct Marks : 1 Wrong Marks : 0.25

निम्नलिखित प्रश्न में, चार विकल्पों में से, उस सही विकल्प का चयन करें जो रिक्त स्थान के लिए उपयुक्त शब्द का सही विकल्प है।
उसने _____ रुककर मामा की ओर देखा।

Options :

1. ✘ जाते
2. ✔ एकाएक
3. ✘ बोलकर
4. ✘ ठहरकर

Question Number : 174 Question Id : 97675513923 Question Type : MCQ Option Shuffling : Yes Is Question Mandatory : No Option Orientation : Vertical

Correct Marks : 1 Wrong Marks : 0.25

निम्नलिखित प्रश्न में, चार विकल्पों में से, उस विकल्प का चयन करें जो शुद्ध शब्द का सही विकल्प है।

Options :

1. ✘ मिळ्व्याय
2. ✘ मिल्य
3. ✘ मितव्य
4. ✔ मितव्यय

Question Number : 174 Question Id : 97675513923 Question Type : MCQ Option Shuffling : Yes Is Question Mandatory : No Option Orientation : Vertical

Correct Marks : 1 Wrong Marks : 0.25

निम्नलिखित प्रश्न में, चार विकल्पों में से, उस विकल्प का चयन करें जो शुद्ध शब्द का सही विकल्प है।

Options :

1. ✘ मिळ्व्याय
2. ✘ मिल्य
3. ✘ मितव्य
4. ✔ मितव्यय

Question Number : 175 Question Id : 97675513924 Question Type : MCQ Option Shuffling : Yes Is Question Mandatory : No Option Orientation : Vertical

Correct Marks : 1 Wrong Marks : 0.25

निम्नलिखित प्रश्न में, चार विकल्पों में से, उस विकल्प का चयन करें जो शुद्ध शब्द का सही विकल्प है।

Options :

1. ✘ अर्धागनी
2. ✘ अधनानी
3. ✔ अर्धागिनी
4. ✘ अर्द्धागनी

Question Number : 175 Question Id : 97675513924 Question Type : MCQ Option Shuffling : Yes Is Question Mandatory : No Option Orientation : Vertical

Correct Marks : 1 Wrong Marks : 0.25

निम्नलिखित प्रश्न में, चार विकल्पों में से, उस विकल्प का चयन करें जो शुद्ध शब्द का सही विकल्प है।

Options :

1. ✘ अर्धागनी
2. ✘ अधनानी
3. ✔ अर्धागिनी
4. ✘ अर्द्धागनी

Question Number : 176 Question Id : 97675513925 Question Type : MCQ Option Shuffling : Yes Is Question Mandatory : No Option Orientation : Vertical

Correct Marks : 1 Wrong Marks : 0.25

निम्नलिखित प्रश्न में, चार विकल्पों में से, उस विकल्प का चयन करें जो दिए गए शब्द के समानार्थी शब्द का विकल्प नहीं है।

हृदय -

Options :

1. ✘ वक्ष
2. ✔ वृंद
3. ✘ हिय
4. ✘ उर

Question Number : 176 Question Id : 97675513925 Question Type : MCQ Option Shuffling : Yes Is Question Mandatory : No Option Orientation : Vertical

Correct Marks : 1 Wrong Marks : 0.25

निम्नलिखित प्रश्न में, चार विकल्पों में से, उस विकल्प का चयन करें जो दिए गए शब्द के समानार्थी शब्द का विकल्प नहीं है।

हृदय -

Options :

1. ✘ वक्ष
2. ✔ वृंद
3. ✘ हिय
4. ✘ उर

Question Number : 177 Question Id : 97675513926 Question Type : MCQ Option Shuffling : Yes Is Question Mandatory : No Option Orientation : Vertical

Correct Marks : 1 Wrong Marks : 0.25

निम्नलिखित प्रश्न में, चार विकल्पों में से, उस सही विकल्प का चयन करें जो दिए गए शब्द-युग्म के अर्थ का सही विकल्प हो।
पट्ट और पट

Options :

1. ✓ तख्ता और कपडा
2. ✗ चिंता और कपड़ा
3. ✗ उल्टा और पवित्र
4. ✗ तख्ता और सम्मान

Question Number : 177 Question Id : 97675513926 Question Type : MCQ Option Shuffling : Yes Is Question Mandatory : No Option Orientation : Vertical

Correct Marks : 1 Wrong Marks : 0.25

निम्नलिखित प्रश्न में, चार विकल्पों में से, उस सही विकल्प का चयन करें जो दिए गए शब्द-युग्म के अर्थ का सही विकल्प हो।
पट्ट और पट

Options :

1. ✓ तख्ता और कपडा
2. ✗ चिंता और कपड़ा
3. ✗ उल्टा और पवित्र
4. ✗ तख्ता और सम्मान

Question Number : 178 Question Id : 97675513927 Question Type : MCQ Option Shuffling : Yes Is Question Mandatory : No Option Orientation : Vertical

Correct Marks : 1 Wrong Marks : 0.25

निम्नलिखित प्रश्न में, चार विकल्पों में से, उस विकल्प का चयन करें जो सदैव स्त्रीलिंग रूप वाला विकल्प है।

Options :

1. ✗ उपकार
2. ✗ कौशल
3. ✓ सभा
4. ✗ चुनाव

Question Number : 178 Question Id : 97675513927 Question Type : MCQ Option Shuffling : Yes Is Question Mandatory : No Option Orientation : Vertical

Correct Marks : 1 Wrong Marks : 0.25

निम्नलिखित प्रश्न में, चार विकल्पों में से, उस विकल्प का चयन करें जो सदैव स्त्रीलिंग रूप वाला विकल्प है।

Options :

1. ✘ उपकार
2. ✘ कौशल
3. ✔ सभा
4. ✘ चुनाव

Question Number : 179 Question Id : 97675513928 Question Type : MCQ Option Shuffling : Yes Is Question Mandatory : No Option Orientation : Vertical

Correct Marks : 1 Wrong Marks : 0.25

निम्नलिखित प्रश्न में, चार विकल्पों में से, उस विकल्प का चयन करें जो सदैव बहुवचन शब्द का सबसे अच्छा विकल्प है।

Options :

1. ✘ तेल
2. ✘ टोपी
3. ✔ अक्षत
4. ✘ रायता

Question Number : 179 Question Id : 97675513928 Question Type : MCQ Option Shuffling : Yes Is Question Mandatory : No Option Orientation : Vertical

Correct Marks : 1 Wrong Marks : 0.25

निम्नलिखित प्रश्न में, चार विकल्पों में से, उस विकल्प का चयन करें जो सदैव बहुवचन शब्द का सबसे अच्छा विकल्प है।

Options :

1. ✘ तेल
2. ✘ टोपी
3. ✔ अक्षत
4. ✘ रायता

Question Number : 180 Question Id : 97675513929 Question Type : MCQ Option Shuffling : Yes Is Question Mandatory : No Option Orientation : Vertical

Correct Marks : 1 Wrong Marks : 0.25

निम्नलिखित प्रश्न में, चार विकल्पों में से, उस विकल्प का चयन करें जो कोष्ठक में दिए गए शब्द के अनुसार अन्य पुरुष वाचक सर्वनाम का सबसे अच्छा विकल्प है।

Options :

1. ✘ (मुझे) कुछ समय के लिए अकेले ही रहना है।
2. ✔ (उनसे) बात करना लोहे के चने चबाना है।
3. ✘ (हमारी) कुछ भी समझ में नहीं आ रहा है।
4. ✘ (तुम) बहुत देर से यहाँ आए हो।

Question Number : 180 Question Id : 97675513929 Question Type : MCQ Option Shuffling : Yes Is Question Mandatory : No Option Orientation : Vertical

Correct Marks : 1 Wrong Marks : 0.25

निम्नलिखित प्रश्न में, चार विकल्पों में से, उस विकल्प का चयन करें जो कोष्ठक में दिए गए शब्द के अनुसार अन्य पुरुष वाचक सर्वनाम का सबसे अच्छा विकल्प है।

Options :

1. ✘ (मुझे) कुछ समय के लिए अकेले ही रहना है।
2. ✔ (उनसे) बात करना लोहे के चने चबाना है।
3. ✘ (हमारी) कुछ भी समझ में नहीं आ रहा है।
4. ✘ (तुम) बहुत देर से यहाँ आए हो।

General Hindi2

Group Number :	10
Group Id :	976755477
Group Maximum Duration :	0
Group Minimum Duration :	120
Show Attended Group? :	No
Edit Attended Group? :	No
Break time :	0
Group Marks :	20

Is this Group for Examiner? :

No

General Hindi2

Section Id :	976755814
Section Number :	1
Section type :	Online
Mandatory or Optional :	Mandatory
Number of Questions :	16
Number of Questions to be attempted :	16
Section Marks :	20
Enable Mark as Answered Mark for Review and Clear Response :	Yes
Sub-Section Number :	1
Sub-Section Id :	976755956
Question Shuffling Allowed :	Yes

Question Number : 181 Question Id : 97675513930 Question Type : MCQ Option Shuffling : Yes Is Question Mandatory : No Option Orientation : Vertical

Correct Marks : 1 Wrong Marks : 0.25

निम्नलिखित प्रश्न में, चार विकल्पों में से, उस विकल्प का चयन करें जो दिए गए वाक्य के काल का सही विकल्प हो।
वह गाड़ी लाता तो मैं चला जाता

Options :

1. ✘ संभाव्य वर्तमानकाल
2. ✔ हेतुहेतु मद भूतकाल
3. ✘ सामान्य भविष्यकाल
4. ✘ आसन्न भूतकाल

Question Number : 181 Question Id : 97675513930 Question Type : MCQ Option Shuffling : Yes Is Question Mandatory : No Option Orientation : Vertical

Correct Marks : 1 Wrong Marks : 0.25

निम्नलिखित प्रश्न में, चार विकल्पों में से, उस विकल्प का चयन करें जो दिए गए वाक्य के काल का सही विकल्प हो।
वह गाड़ी लाता तो मैं चला जाता।

Options :

1. ✘ संभाव्य वर्तमानकाल
2. ✔ हेतुहेतु मद भूतकाल
3. ✘ सामान्य भविष्यकाल
4. ✘ आसन्न भूतकाल

Question Number : 182 Question Id : 97675513931 Question Type : MCQ Option Shuffling : Yes Is Question Mandatory : No Option Orientation : Vertical

Correct Marks : 1 Wrong Marks : 0.25

निम्नलिखित प्रश्न में, चार विकल्पों में से, उस विकल्प का चयन करें जो दिए गए वाक्य के लिए वृत्ति के भेद का सबसे अच्छा विकल्प है।
संभव है आज माताजी आए।

Options :

1. ✘ संकेतार्थ
2. ✘ संदेहार्थ
3. ✔ संभावनार्थ
4. ✘ विध्यर्थ

Question Number : 182 Question Id : 97675513931 Question Type : MCQ Option Shuffling : Yes Is Question Mandatory : No Option Orientation : Vertical

Correct Marks : 1 Wrong Marks : 0.25

निम्नलिखित प्रश्न में, चार विकल्पों में से, उस विकल्प का चयन करें जो दिए गए वाक्य के लिए वृत्ति के भेद का सबसे अच्छा विकल्प है।
संभव है आज माताजी आए।

Options :

1. ✘ संकेतार्थ
2. ✘ संदेहार्थ
3. ✔ संभावनार्थ
4. ✘ विध्यर्थ

Question Number : 183 Question Id : 97675513932 Question Type : MCQ Option Shuffling : Yes Is Question Mandatory : No Option Orientation : Vertical

Correct Marks : 1 Wrong Marks : 0.25

निम्नलिखित प्रश्न में, चार विकल्पों में से, उस विकल्प का चयन करें जो दिए गए वाक्य के लिए पक्ष के भेद का सबसे अच्छा विकल्प है।
मधुर कितना सुरीला गीत गा रहा है!

Options :

1. ✓ सातप्यबोधक
2. ✗ नित्यताद्योतक
3. ✗ प्रगतिद्योतक
4. ✗ आरंभद्योतक

Question Number : 183 Question Id : 97675513932 Question Type : MCQ Option Shuffling : Yes Is Question Mandatory : No Option Orientation : Vertical

Correct Marks : 1 Wrong Marks : 0.25

निम्नलिखित प्रश्न में, चार विकल्पों में से, उस विकल्प का चयन करें जो दिए गए वाक्य के लिए पक्ष के भेद का सबसे अच्छा विकल्प है।
मधुर कितना सुरीला गीत गा रहा है!

Options :

1. ✓ सातप्यबोधक
2. ✗ नित्यताद्योतक
3. ✗ प्रगतिद्योतक
4. ✗ आरंभद्योतक

Question Number : 184 Question Id : 97675513933 Question Type : MCQ Option Shuffling : Yes Is Question Mandatory : No Option Orientation : Vertical

Correct Marks : 1 Wrong Marks : 0.25

निम्नलिखित प्रश्न में, चार विकल्पों में से, उस विकल्प का चयन करें जो सही वाक्य भेद का विकल्प हो।
अवनीश गाँव गया और शैलेश आ गया।

Options :

1. ✗ मिश्र वाक्य
2. ✓ संयुक्त वाक्य
3. ✗ निषेधवाचक वाक्य
4. ✗ सरल वाक्य

Question Number : 184 Question Id : 97675513933 Question Type : MCQ Option Shuffling : Yes Is Question Mandatory : No Option

Orientation : Vertical

Correct Marks : 1 Wrong Marks : 0.25

निम्नलिखित प्रश्न में, चार विकल्पों में से, उस विकल्प का चयन करें जो सही वाक्य भेद का विकल्प हो।
अवनीश गाँव गया और शैलेश आ गया।

Options :

1. ✘ मिश्र वाक्य
2. ✔ संयुक्त वाक्य
3. ✘ निषेधवाचक वाक्य
4. ✘ सरल वाक्य

Question Number : 185 Question Id : 97675513934 Question Type : MCQ Option Shuffling : Yes Is Question Mandatory : No Option Orientation : Vertical

Correct Marks : 1 Wrong Marks : 0.25

निम्नलिखित प्रश्न में, चार विकल्पों में से, उस विकल्प का चयन करें जो सही वाक्य भेद का विकल्प हो।
या तो मैं आज प्रतियोगिता जीतूँगा या फिर कभी इसमें भाग नहीं लूँगा ।

Options :

1. ✔ संयुक्त वाक्य
2. ✘ मिश्र वाक्य
3. ✘ विधानवाचक वाक्य
4. ✘ सरल वाक्य

Question Number : 185 Question Id : 97675513934 Question Type : MCQ Option Shuffling : Yes Is Question Mandatory : No Option Orientation : Vertical

Correct Marks : 1 Wrong Marks : 0.25

निम्नलिखित प्रश्न में, चार विकल्पों में से, उस विकल्प का चयन करें जो सही वाक्य भेद का विकल्प हो।
या तो मैं आज प्रतियोगिता जीतूँगा या फिर कभी इसमें भाग नहीं लूँगा ।

Options :

1. ✔ संयुक्त वाक्य
2. ✘ मिश्र वाक्य
3. ✘ विधानवाचक वाक्य
4. ✘ सरल वाक्य

Question Number : 186 Question Id : 97675513935 Question Type : MCQ Option Shuffling : Yes Is Question Mandatory : No Option Orientation : Vertical

Correct Marks : 1 Wrong Marks : 0.25

निम्नलिखित प्रश्न में, चार विकल्पों में से, उस विकल्प का चयन करें जो सही वाक्य भेद का विकल्प हो।
ज्यों ही उसे पैसे मिले, वह घूमने निकल गया।

Options :

1. ✖ विधानवाचक वाक्य
2. ✖ सरल वाक्य
3. ✔ मिश्र वाक्य
4. ✖ संयुक्त वाक्य

Question Number : 186 Question Id : 97675513935 Question Type : MCQ Option Shuffling : Yes Is Question Mandatory : No Option Orientation : Vertical

Correct Marks : 1 Wrong Marks : 0.25

निम्नलिखित प्रश्न में, चार विकल्पों में से, उस विकल्प का चयन करें जो सही वाक्य भेद का विकल्प हो।
ज्यों ही उसे पैसे मिले, वह घूमने निकल गया।

Options :

1. ✖ विधानवाचक वाक्य
2. ✖ सरल वाक्य
3. ✔ मिश्र वाक्य
4. ✖ संयुक्त वाक्य

Question Number : 187 Question Id : 97675513936 Question Type : MCQ Option Shuffling : Yes Is Question Mandatory : No Option Orientation : Vertical

Correct Marks : 1 Wrong Marks : 0.25

निम्नलिखित प्रश्न में, चार विकल्पों में से, उस विकल्प का चयन करें जो शुद्ध वाक्य का सबसे अच्छा विकल्प है।

Options :

1. ✖ मामा को भी यह सब देखा और सुना।
2. ✔ मामा ने भी यह सब देखा और सुना।
3. ✖ मामा से भी यह सब देखा और सुना।

4. ✘ मामा पर भी यह सब देखा और सुना।

Question Number : 187 Question Id : 97675513936 Question Type : MCQ Option Shuffling : Yes Is Question Mandatory : No Option Orientation : Vertical

Correct Marks : 1 Wrong Marks : 0.25

निम्नलिखित प्रश्न में, चार विकल्पों में से, उस विकल्प का चयन करें जो शुद्ध वाक्य का सबसे अच्छा विकल्प है।

Options :

1. ✘ मामा को भी यह सब देखा और सुना।
2. ✔ मामा ने भी यह सब देखा और सुना।
3. ✘ मामा से भी यह सब देखा और सुना।
4. ✘ मामा पर भी यह सब देखा और सुना।

Question Number : 188 Question Id : 97675513937 Question Type : MCQ Option Shuffling : Yes Is Question Mandatory : No Option Orientation : Vertical

Correct Marks : 1 Wrong Marks : 0.25

निम्नलिखित प्रश्न में, चार विकल्पों में से, उस विकल्प का चयन करें जो विराम चिह्न युक्त वाक्य का सही विकल्प हो।

Options :

1. ✘ मगर बेटी तुम्हें कैसा राजकुमार चाहिए माँ ने पूछा ?
2. ✘ मगर बेटी, तुम्हें कैसा राजकुमार चाहिए माँ ने पूछा?
3. ✘ मगर बेटी, तुम्हें कैसा राजकुमार चाहिए माँ ने पूछा ।
4. ✔ 'मगर बेटी! तुम्हें कैसा राजकुमार चाहिए?' माँ ने पूछा।

Question Number : 188 Question Id : 97675513937 Question Type : MCQ Option Shuffling : Yes Is Question Mandatory : No Option Orientation : Vertical

Correct Marks : 1 Wrong Marks : 0.25

निम्नलिखित प्रश्न में, चार विकल्पों में से, उस विकल्प का चयन करें जो विराम चिह्न युक्त वाक्य का सही विकल्प हो।

Options :

1. ✘ मगर बेटी तुम्हें कैसा राजकुमार चाहिए माँ ने पूछा ?
2. ✘ मगर बेटी, तुम्हें कैसा राजकुमार चाहिए माँ ने पूछा?
3. ✘ मगर बेटी, तुम्हें कैसा राजकुमार चाहिए माँ ने पूछा ।
4. ✔ 'मगर बेटी! तुम्हें कैसा राजकुमार चाहिए?' माँ ने पूछा।

Question Number : 189 Question Id : 97675513938 Question Type : MCQ Option Shuffling : Yes Is Question Mandatory : No Option Orientation : Vertical

Correct Marks : 1 Wrong Marks : 0.25

निम्नलिखित प्रश्न में, चार विकल्पों में से, उस विकल्प का चयन करें जो विराम चिह्न युक्त वाक्य का सही विकल्प हो।

Options :

1. ✓ बेताल ने पूछा, "कैसे...?" धनंजय का अधिकार क्यों होना चाहिए?
2. ✗ बेताल ने पूछा कैसे... धनंजय का अधिकार क्यों होना चाहिए?
3. ✗ बेताल ने पूछा कैसे...? धनंजय का अधिकार क्यों होना चाहिए?
4. ✗ बेताल ने पूछा- कैसे..., धनंजय का अधिकार क्यों होना चाहिए?

Question Number : 189 Question Id : 97675513938 Question Type : MCQ Option Shuffling : Yes Is Question Mandatory : No Option Orientation : Vertical

Correct Marks : 1 Wrong Marks : 0.25

निम्नलिखित प्रश्न में, चार विकल्पों में से, उस विकल्प का चयन करें जो विराम चिह्न युक्त वाक्य का सही विकल्प हो।

Options :

1. ✓ बेताल ने पूछा, "कैसे...?" धनंजय का अधिकार क्यों होना चाहिए?
2. ✗ बेताल ने पूछा कैसे... धनंजय का अधिकार क्यों होना चाहिए?
3. ✗ बेताल ने पूछा कैसे...? धनंजय का अधिकार क्यों होना चाहिए?
4. ✗ बेताल ने पूछा- कैसे..., धनंजय का अधिकार क्यों होना चाहिए?

Question Number : 190 Question Id : 97675513939 Question Type : MCQ Option Shuffling : Yes Is Question Mandatory : No Option Orientation : Vertical

Correct Marks : 1 Wrong Marks : 0.25

निम्नलिखित प्रश्न में, चार विकल्पों में से, उस विकल्प का चयन करें जो दिए गए मुहावरे का सही अर्थ वाला विकल्प है।
मिट्टी का माधो -

Options :

1. ✗ संदेह होना
2. ✗ कलंक लगाना
3. ✗ पुष्टि करना
4. ✓ बिलकुल बुद्धू

Question Number : 190 Question Id : 97675513939 Question Type : MCQ Option Shuffling : Yes Is Question Mandatory : No Option Orientation : Vertical

Correct Marks : 1 Wrong Marks : 0.25

निम्नलिखित प्रश्न में, चार विकल्पों में से, उस विकल्प का चयन करें जो दिए गए मुहावरे का सही अर्थ वाला विकल्प है।
मिट्टी का माधो -

Options :

1. ✘ संदेह होना
2. ✘ कलंक लगना
3. ✘ पुष्टि करना
4. ✔ बिलकुल बुद्धू

Question Number : 191 Question Id : 97675513940 Question Type : MCQ Option Shuffling : Yes Is Question Mandatory : No Option Orientation : Vertical

Correct Marks : 1 Wrong Marks : 0.25

निम्नलिखित प्रश्न में, चार विकल्पों में से, उस विकल्प का चयन करें जो दिए गए मुहावरे का सही अर्थ वाला विकल्प है।
साँप-छछूंदर की गति होना -

Options :

1. ✘ गुप-चुप हो जाना
2. ✘ विस्तृत अनुभव होना
3. ✔ असमंजस या दुविधा की दशा होना
4. ✘ पीछे पड़ना

Question Number : 191 Question Id : 97675513940 Question Type : MCQ Option Shuffling : Yes Is Question Mandatory : No Option Orientation : Vertical

Correct Marks : 1 Wrong Marks : 0.25

निम्नलिखित प्रश्न में, चार विकल्पों में से, उस विकल्प का चयन करें जो दिए गए मुहावरे का सही अर्थ वाला विकल्प है।
साँप-छछूंदर की गति होना -

Options :

1. ✘ गुप-चुप हो जाना
2. ✘ विस्तृत अनुभव होना

3. ✓ असमंजस या दुविधा की दशा होना

4. ✗ पीछे पड़ना

Question Number : 192 Question Id : 97675513941 Question Type : MCQ Option Shuffling : Yes Is Question Mandatory : No Option Orientation : Vertical

Correct Marks : 1 Wrong Marks : 0.25

निम्नलिखित प्रश्न में, चार विकल्पों में से, उस विकल्प का चयन करें जो दिए गए मुहावरे का सही अर्थ वाला विकल्प है।
शैतान के कान कतरना-

Options :

1. ✗ लेने के देने पड़ना

2. ✗ लम्बी बात

3. ✗ तुच्छ वस्तु को महत्त्व देना

4. ✓ बहुत चालाक होना

Question Number : 192 Question Id : 97675513941 Question Type : MCQ Option Shuffling : Yes Is Question Mandatory : No Option Orientation : Vertical

Correct Marks : 1 Wrong Marks : 0.25

निम्नलिखित प्रश्न में, चार विकल्पों में से, उस विकल्प का चयन करें जो दिए गए मुहावरे का सही अर्थ वाला विकल्प है।
शैतान के कान कतरना-

Options :

1. ✗ लेने के देने पड़ना

2. ✗ लम्बी बात

3. ✗ तुच्छ वस्तु को महत्त्व देना

4. ✓ बहुत चालाक होना

Question Number : 193 Question Id : 97675513942 Question Type : MCQ Option Shuffling : Yes Is Question Mandatory : No Option Orientation : Vertical

Correct Marks : 1 Wrong Marks : 0.25

निम्नलिखित प्रश्न में, चार विकल्पों में से, उस विकल्प का चयन करें जो दी गई लोकोक्ति का सही अर्थ वाला विकल्प है।
आग कह देने से मुँह नहीं जल जाता -

Options :

1. ✘ कष्ट देने वाली वस्तु कष्ट का निवारण भी करती है
2. ✔ कोसने से किसी का अहित नहीं होता
3. ✘ पूर्णतः स्वतंत्र रहना
4. ✘ किसी चीज़ को बचाना मुश्किल

Question Number : 193 Question Id : 97675513942 Question Type : MCQ Option Shuffling : Yes Is Question Mandatory : No Option Orientation : Vertical

Correct Marks : 1 Wrong Marks : 0.25

निम्नलिखित प्रश्न में, चार विकल्पों में से, उस विकल्प का चयन करें जो दी गई लोकोक्ति का सही अर्थ वाला विकल्प है।
आग कह देने से मुँह नहीं जल जाता -

Options :

1. ✘ कष्ट देने वाली वस्तु कष्ट का निवारण भी करती है
2. ✔ कोसने से किसी का अहित नहीं होता
3. ✘ पूर्णतः स्वतंत्र रहना
4. ✘ किसी चीज़ को बचाना मुश्किल

Question Number : 194 Question Id : 97675513943 Question Type : MCQ Option Shuffling : Yes Is Question Mandatory : No Option Orientation : Vertical

Correct Marks : 1 Wrong Marks : 0.25

निम्नलिखित प्रश्न में, चार विकल्पों में से, उस विकल्प का चयन करें जो दी गई लोकोक्ति का सही अर्थ वाला विकल्प है।
इसके पेट में दाढ़ी है -

Options :

1. ✘ किसी कार्य का फल तत्काल पाना
2. ✘ दुविधा में पड़ना
3. ✔ कम उम्र में बुद्धि का अधिक विकास होना
4. ✘ विपरीत कार्य

Question Number : 194 Question Id : 97675513943 Question Type : MCQ Option Shuffling : Yes Is Question Mandatory : No Option Orientation : Vertical

Correct Marks : 1 Wrong Marks : 0.25

निम्नलिखित प्रश्न में, चार विकल्पों में से, उस विकल्प का चयन करें जो दी गई लोकोक्ति का सही अर्थ वाला विकल्प है।

इसके पेट में दाढ़ी है -

Options :

1. ✘ किसी कार्य का फल तत्काल पाना
2. ✘ दुविधा में पड़ना
3. ✔ कम उम्र में बुद्धि का अधिक विकास होना
4. ✘ विपरीत कार्य

Question Number : 195 Question Id : 97675513944 Question Type : MCQ Option Shuffling : Yes Is Question Mandatory : No Option Orientation : Vertical

Correct Marks : 1 Wrong Marks : 0.25

निम्नलिखित प्रश्न में, चार विकल्पों में से, उस विकल्प का चयन करें जो दी गई लोकोक्ति का सही अर्थ वाला विकल्प है।
कर सेवा तो खा मेवा -

Options :

1. ✔ अच्छे कार्य का परिणाम अच्छा ही होता है
2. ✘ किसी की करनी का परिणाम किसी और को मिलना
3. ✘ आज का काम आज ही करना
4. ✘ महत्त्व का काम

Question Number : 195 Question Id : 97675513944 Question Type : MCQ Option Shuffling : Yes Is Question Mandatory : No Option Orientation : Vertical

Correct Marks : 1 Wrong Marks : 0.25

निम्नलिखित प्रश्न में, चार विकल्पों में से, उस विकल्प का चयन करें जो दी गई लोकोक्ति का सही अर्थ वाला विकल्प है।
कर सेवा तो खा मेवा -

Options :

1. ✔ अच्छे कार्य का परिणाम अच्छा ही होता है
2. ✘ किसी की करनी का परिणाम किसी और को मिलना
3. ✘ आज का काम आज ही करना
4. ✘ महत्त्व का काम

Sub-Section Number :

2

Sub-Section Id :

976755957

Question Shuffling Allowed :

Yes

Question Id : 97675513945 Question Type : COMPREHENSION Sub Question Shuffling Allowed : Yes Group Comprehension Questions : No

Question Numbers : (196 to 200)

नीचे दिए गये गद्यांश के बाद 5 प्रश्न दिए गये हैं। इस गद्यांश को ध्यानपूर्वक पढ़ें और चार विकल्पों में से प्रत्येक प्रश्न का सर्वोत्तम उत्तर चुनें। विद्याभ्यासी पुरुष को साथियों का अभाव कभी नहीं रहता। उसकी कोठरी में सदा ऐसे लोगों का वास रहता है, जो अमर हैं। वे उसके प्रति सहानुभूति प्रकट करने और उसे समझाने के लिए सदा प्रस्तुत रहते हैं। कवि, दार्शनिक और विद्वान जिन्होंने प्रकृति के रहस्यों का उद्घाटन किया है और बड़े-बड़े महात्मा, जिन्होंने आत्मा के गूढ़ रहस्यों की थाह लगा ली है, सदा उसकी बातें सुनने और उसकी शंकाओं का समाधान करने के लिए उद्यत रहते हैं। बिना किसी उद्देश्य के सरसरी तौर पर पुस्तकों के पन्ने उलटते जाना अध्ययन नहीं है। लिखी हुई बातों को विचारपूर्वक पूर्णरूप से हृदय से ग्रहण करने का नाम अध्ययन है। प्रत्येक स्त्री-पुरुष को अपने पढ़ने का उद्देश्य स्थित कर लेना चाहिए। इसके लिए सबसे मुख्य बात यह है कि पढ़ना नियमपूर्वक हो अर्थात् इसके लिए नित्य का समय उपयुक्त होता है।

Sub questions

Question Number : 196 Question Id : 97675513946 Question Type : MCQ Option Shuffling : Yes Is Question Mandatory : No Option Orientation : Vertical

Correct Marks : 1 Wrong Marks : 0.25

विद्याभ्यासी पुरुष के पास किसका वास रहता है?

Options :

1. ✘ सम्बन्धियों का
2. ✔ अमर लोगों का
3. ✘ गुरुजनों का
4. ✘ इनमें से कोई नहीं

Question Number : 197 Question Id : 97675513947 Question Type : MCQ Option Shuffling : Yes Is Question Mandatory : No Option Orientation : Vertical

Correct Marks : 1 Wrong Marks : 0.25

विद्या का अभ्यास करने वाले व्यक्तियों को साथियों की कमी महसूस क्यों नहीं होती है?

Options :

1. ✘ उन्हें साथी की आवश्यकता नहीं होती है
2. ✘ उन्हें मित्र बनाना अच्छा नहीं लगता है
3. ✘ पुस्तकें उनकी साथी नहीं होती है
4. ✔ उनके अनेक साथी होते हैं

Question Number : 198 Question Id : 97675513948 Question Type : MCQ Option Shuffling : Yes Is Question Mandatory : No Option Orientation : Vertical

Correct Marks : 1 Wrong Marks : 0.25

अनुच्छेद के अनुसार अध्ययन क्या है?

Options :

1. ✘ बिना कारण के पुस्तकों के पन्ने पलटना
2. ✘ नियमपूर्वक पढ़ना
3. ✔ लिखी हुई बातों को विचारपूर्वक हृदय से ग्रहण करना
4. ✘ कुछ भी पढ़ लेना

Question Number : 199 Question Id : 97675513949 Question Type : MCQ Option Shuffling : Yes Is Question Mandatory : No Option Orientation : Vertical

Correct Marks : 1 Wrong Marks : 0.25

इनमें से कौन - सा 'विद्वान' शब्द का विलोम है?

Options :

1. ✘ विदुषी
2. ✔ मूर्ख
3. ✘ सदबुद्धि
4. ✘ अनुभवी

Question Number : 200 Question Id : 97675513950 Question Type : MCQ Option Shuffling : Yes Is Question Mandatory : No Option Orientation : Vertical

Correct Marks : 1 Wrong Marks : 0.25

इस अनुच्छेद का कोई उपयुक्त शीर्षक-

Options :

1. ✘ पुस्तकों के पन्ने उलटना
2. ✘ शंका समाधान
3. ✘ पुस्तकों का अभ्यास
4. ✔ विद्याभ्यासी व्यक्ति

Question Id : 97675513945 Question Type : COMPREHENSION Sub Question Shuffling Allowed : Yes Group Comprehension Questions : No

Question Numbers : (196 to 200)

नीचे दिए गये गद्यांश के बाद 5 प्रश्न दिए गये हैं। इस गद्यांश को ध्यानपूर्वक पढ़ें और चार विकल्पों में से प्रत्येक प्रश्न का सर्वोत्तम उत्तर चुनें। विद्याभ्यासी पुरुष को साथियों का अभाव कभी नहीं रहता। उसकी कौठरी में सदा ऐसे लोगों का वास रहता है, जो अमर हैं। वे उसके प्रति सहानुभूति प्रकट करने और उसे समझाने के लिए सदा प्रस्तुत रहते हैं। कवि, दार्शनिक और विद्वान जिन्होंने प्रकृति के रहस्यों का उद्घाटन किया है और बड़े-बड़े महात्मा, जिन्होंने आत्मा के गूढ़ रहस्यों की थाह लगा ली है, सदा उसकी बातें सुनने और उसकी शंकाओं का समाधान करने के लिए उद्यत रहते हैं। बिना किसी उद्देश्य के सरसरी तौर पर पुस्तकों के पन्ने उलटते जाना अध्ययन नहीं है। लिखी हुई बातों को विचारपूर्वक पूर्णरूप से हृदय से ग्रहण करने का नाम अध्ययन है। प्रत्येक स्त्री-पुरुष को अपने पढ़ने का उद्देश्य स्थित कर लेना चाहिए। इसके लिए सबसे मुख्य बात यह है कि पढ़ना नियमपूर्वक हो अर्थात् इसके लिए नित्य का समय उपयुक्त होता है।

Sub questions

Question Number : 196 Question Id : 97675513946 Question Type : MCQ Option Shuffling : Yes Is Question Mandatory : No Option Orientation : Vertical

Correct Marks : 1 Wrong Marks : 0.25

विद्याभ्यासी पुरुष के पास किसका वास रहता है?

Options :

1. ✘ सम्बन्धियों का
2. ✔ अमर लोगों का
3. ✘ गुरुजनों का
4. ✘ इनमें से कोई नहीं

Question Number : 197 Question Id : 97675513947 Question Type : MCQ Option Shuffling : Yes Is Question Mandatory : No Option Orientation : Vertical

Correct Marks : 1 Wrong Marks : 0.25

विद्या का अभ्यास करने वाले व्यक्तियों को साथियों की कमी महसूस क्यों नहीं होती है?

Options :

1. ✘ उन्हें साथी की आवश्यकता नहीं होती है
2. ✘ उन्हें मित्र बनाना अच्छा नहीं लगता है
3. ✘ पुस्तकें उनकी साथी नहीं होती है
4. ✔ उनके अनेक साथी होते हैं

Question Number : 198 Question Id : 97675513948 Question Type : MCQ Option Shuffling : Yes Is Question Mandatory : No Option Orientation : Vertical

Correct Marks : 1 Wrong Marks : 0.25

अनुच्छेद के अनुसार अध्ययन क्या है?

Options :

1. ✘ बिना कारण के पुस्तकों के पन्ने पलटना
2. ✘ नियमपूर्वक पढ़ना
3. ✔ लिखी हुई बातों को विचारपूर्वक हृदय से ग्रहण करना
4. ✘ कुछ भी पढ़ लेना

Question Number : 199 Question Id : 97675513949 Question Type : MCQ Option Shuffling : Yes Is Question Mandatory : No Option Orientation : Vertical

Correct Marks : 1 Wrong Marks : 0.25

इनमें से कौन - सा 'विद्वान' शब्द का विलोम है?

Options :

1. ✘ विदुषी
2. ✔ मूर्ख
3. ✘ सद्बुद्धि
4. ✘ अनुभवी

Question Number : 200 Question Id : 97675513950 Question Type : MCQ Option Shuffling : Yes Is Question Mandatory : No Option Orientation : Vertical

Correct Marks : 1 Wrong Marks : 0.25

इस अनुच्छेद का कोई उपयुक्त शीर्षक-

Options :

1. ✘ पुस्तकों के पन्ने उलटना
2. ✘ शंका समाधान
3. ✘ पुस्तकों का अभ्यास
4. ✔ विद्याभ्यासी व्यक्ति