

Education Consultant India Ltd.

Notations :

- 1.Options shown in green color and with ✓ icon are correct.
- 2.Options shown in red color and with ✗ icon are incorrect.

Question Paper Name :	MATRIXSTENO14AUGS1
Subject Name :	Stenographer (English)
Creation Date :	2021-08-14 12:08:44
Duration :	120
Total Marks :	200
Display Marks:	Yes
Calculator :	None
Magnifying Glass Required? :	No
Ruler Required? :	No
Eraser Required? :	No
Scratch Pad Required? :	No
Rough Sketch/Notepad Required? :	No
Protractor Required? :	No
Show Watermark on Console? :	Yes
Highlighter :	No
Auto Save on Console? (SA type of questions will be always auto saved) :	No

General Ability1

Group Number :	1
Group Id :	92775911
Group Maximum Duration :	0
Group Minimum Duration :	0

Show Attended Group? :	No
Edit Attended Group? :	No
Break time :	0
Group Marks :	20
Is this Group for Examiner? :	No

General Ability1

Section Id :	92775911
Section Number :	1
Section type :	Online
Mandatory or Optional :	Mandatory
Number of Questions :	20
Number of Questions to be attempted :	20
Section Marks :	20
Enable Mark as Answered Mark for Review and Clear Response :	Yes
Sub-Section Number :	1
Sub-Section Id :	92775913
Question Shuffling Allowed :	Yes

Question Number : 1 Question Id : 927759543 Question Type : MCQ Option Shuffling : Yes Is Question Mandatory : No Option Orientation : Vertical

Correct Marks : 1 Wrong Marks : 0.25

Find the missing term in the following letter series :

GA, KE, __, SM.

Options :

1. ✓ OI
2. ✗ OJ
3. ✗ PI
4. ✗ PJ

Question Number : 1 Question Id : 927759543 Question Type : MCQ Option Shuffling : Yes Is Question Mandatory : No Option Orientation : Vertical

Correct Marks : 1 Wrong Marks : 0.25

निम्नलिखित अक्षर श्रृंखला में लुप्त पद ज्ञात करें:

GA, KE, __, SM

Options :

1. ✓ OI
2. ✗ OJ
3. ✗ PI
4. ✗ PJ

Question Number : 2 Question Id : 927759544 Question Type : MCQ Option Shuffling : Yes Is Question Mandatory : No Option Orientation : Vertical

Correct Marks : 1 Wrong Marks : 0.25

Find the missing term in the following series :

O9R, S7V, __, A3D.

Options :

1. ✗ V5Z
2. ✗ V4Y
3. ✗ W4Z
4. ✓ W5Z

Question Number : 2 Question Id : 927759544 Question Type : MCQ Option Shuffling : Yes Is Question Mandatory : No Option Orientation : Vertical

Correct Marks : 1 Wrong Marks : 0.25

निम्नलिखित श्रृंखला में लुप्त पद ज्ञात करें:

O9R, S7V, __, A3D.

Options :

1. ✗ V5Z
2. ✗ V4Y
3. ✗ W4Z
4. ✓ W5Z

Question Number : 3 Question Id : 927759545 Question Type : MCQ Option Shuffling : Yes Is Question Mandatory : No Option

Orientation : Vertical

Correct Marks : 1 Wrong Marks : 0.25

Find the wrong term in the following series :

PRU, KMP, FHK, BCF, VXA

Options :

1. ✘ KMP
2. ✔ BCF
3. ✘ VXA
4. ✘ FHK

Question Number : 3 Question Id : 927759545 Question Type : MCQ Option Shuffling : Yes Is Question Mandatory : No Option

Orientation : Vertical

Correct Marks : 1 Wrong Marks : 0.25

निम्नलिखित श्रृंखला में गलत पद ज्ञात करें:

PRU, KMP, FHK, BCF, VXA

Options :

1. ✘ KMP
2. ✔ BCF
3. ✘ VXA
4. ✘ FHK

Question Number : 4 Question Id : 927759546 Question Type : MCQ Option Shuffling : Yes Is Question Mandatory : No Option

Orientation : Vertical

Correct Marks : 1 Wrong Marks : 0.25

Find the missing term in the following series :

L7P, N3R, P-1T, ____.

Options :

1. ✘ R-4V
2. ✘ S-4V
3. ✔ R-5V
4. ✘ R-5U

Question Number : 4 Question Id : 927759546 Question Type : MCQ Option Shuffling : Yes Is Question Mandatory : No Option Orientation : Vertical

Correct Marks : 1 Wrong Marks : 0.25

निम्नलिखित श्रृंखला में लुप्त पद ज्ञात करें:

L7P, N3R, P-1T, ____.

Options :

1. ✘ R-4V
2. ✘ S-4V
3. ✔ R-5V
4. ✘ R-5U

Question Number : 5 Question Id : 927759547 Question Type : MCQ Option Shuffling : Yes Is Question Mandatory : No Option Orientation : Vertical

Correct Marks : 1 Wrong Marks : 0.25

Select the option that is related to the third term on the same basis as the second term is related to the first term.

Petals : Flower :: Pages : ?

Options :

1. ✔ Book
2. ✘ Paragraph
3. ✘ Library
4. ✘ Poem

Question Number : 5 Question Id : 927759547 Question Type : MCQ Option Shuffling : Yes Is Question Mandatory : No Option Orientation : Vertical

Correct Marks : 1 Wrong Marks : 0.25

उस विकल्प का चयन करें जो तीसरे पद से उसी प्रकार से संबंधित है जिस प्रकार से दूसरा पद पहले पद से संबंधित है।

पंखुड़ी : फूल :: पत्रे : ?

Options :

1. ✔ किताब
2. ✘ अनुच्छेद
3. ✘ पुस्तकालय
4. ✘ कविता

Question Number : 6 Question Id : 927759548 Question Type : MCQ Option Shuffling : Yes Is Question Mandatory : No Option Orientation : Vertical

Correct Marks : 1 Wrong Marks : 0.25

Select the option that is related to the third term on the same basis as the second term is related to the first term.

NTR : PWV :: GKM : ?

Options :

1. ✘ JNQ
2. ✔ INQ
3. ✘ IMS
4. ✘ JMS

Question Number : 6 Question Id : 927759548 Question Type : MCQ Option Shuffling : Yes Is Question Mandatory : No Option Orientation : Vertical

Correct Marks : 1 Wrong Marks : 0.25

उस विकल्प का चयन करें जो तीसरे पद से उसी प्रकार से संबंधित है जिस प्रकार से दूसरा पद पहले पद से संबंधित है।

NTR : PWV :: GKM : ?

Options :

1. ✘ JNQ
2. ✔ INQ
3. ✘ IMS
4. ✘ JMS

Question Number : 7 Question Id : 927759549 Question Type : MCQ Option Shuffling : Yes Is Question Mandatory : No Option Orientation : Vertical

Correct Marks : 1 Wrong Marks : 0.25

Select the pair that is related on the same basis to the pair given in the question.

CDH : BEG :: ?

Options :

1. ✔ TJS : SKR
2. ✘ PJS : STM
3. ✘ MTQ : NST
4. ✘ GUJ : JSH

Question Number : 7 Question Id : 927759549 Question Type : MCQ Option Shuffling : Yes Is Question Mandatory : No Option Orientation : Vertical

Correct Marks : 1 Wrong Marks : 0.25

उस जोड़ी का चयन करें जो प्रश्न में दी गई जोड़ी से समान प्रकार से संबंधित है।

CDH : BEG :: ?

Options :

1. ✓ TJS : SKR
2. ✗ PJS : STM
3. ✗ MTQ : NST
4. ✗ GUJ : JSH

Question Number : 8 Question Id : 927759550 Question Type : MCQ Option Shuffling : Yes Is Question Mandatory : No Option Orientation : Vertical

Correct Marks : 1 Wrong Marks : 0.25

If SPOKE is coded as 17625 then what is the code for BINGE?

Options :

1. ✗ 29676
2. ✗ 29756
3. ✓ 29575
4. ✗ 29874

Question Number : 8 Question Id : 927759550 Question Type : MCQ Option Shuffling : Yes Is Question Mandatory : No Option Orientation : Vertical

Correct Marks : 1 Wrong Marks : 0.25

यदि SPOKE को 17625 के रूप में कोडित किया गया है, तो BINGE के लिए कोड क्या है?

Options :

1. ✗ 29676
2. ✗ 29756
3. ✓ 29575
4. ✗ 29874

Question Number : 9 Question Id : 927759551 Question Type : MCQ Option Shuffling : Yes Is Question Mandatory : No Option Orientation : Vertical

Correct Marks : 1 Wrong Marks : 0.25

In a certain code language, PEN is coded as &@# and GIO is coded as \% percent then what is the code for PIGEON?

Options :

1. ✘ &\$@ percent\#
2. ✘ &\$\ percent@#
3. ✘ &@\$ percent\#
4. ✔ &\$\@ percent#

Question Number : 9 Question Id : 927759551 Question Type : MCQ Option Shuffling : Yes Is Question Mandatory : No Option Orientation : Vertical

Correct Marks : 1 Wrong Marks : 0.25

एक निश्चित भाषा में, PEN को &@# के रूप में कोडित किया गया है और GIO को \% प्रतिशत के रूप में कोडित किया गया है, तो PIGEON के लिए कोड क्या है?

Options :

1. ✘ &\$@ प्रतिशत#
2. ✘ &\$\ प्रतिशत@#
3. ✘ &@\$ प्रतिशत#
4. ✔ &\$\@ प्रतिशत#

Question Number : 10 Question Id : 927759552 Question Type : MCQ Option Shuffling : Yes Is Question Mandatory : No Option Orientation : Vertical

Correct Marks : 1 Wrong Marks : 0.25

In a certain code language, the word PLEASE is written as QMFBTF then how will you write the sentence 'oh my god' in it?

Options :

1. ✘ pe ny hpe
2. ✔ pi nz hpe
3. ✘ pi ny hpd
4. ✘ pe nz hpd

Question Number : 10 Question Id : 927759552 Question Type : MCQ Option Shuffling : Yes Is Question Mandatory : No Option Orientation : Vertical

Correct Marks : 1 Wrong Marks : 0.25

एक निश्चित भाषा में, शब्द PLEASE को QMFBTF के रूप में लिखा गया है तो आप वाक्य 'oh my god' को उसमें कैसे लिखेंगे?

Options :

1. ✘ pe ny hpe
2. ✔ pi nz hpe
3. ✘ pi ny hpd
4. ✘ pe nz hpd

Question Number : 11 Question Id : 927759553 Question Type : MCQ Option Shuffling : Yes Is Question Mandatory : No Option Orientation : Vertical

Correct Marks : 1 Wrong Marks : 0.25

In a certain code language,

I love my country means ni ju xi ping

My country is the best means xi ping ki fi zuk

I am the best is written as ni ma fi zuk

What is the word for 'love'?

Options :

1. ✔ ju
2. ✘ ni
3. ✘ xi
4. ✘ ping

Question Number : 11 Question Id : 927759553 Question Type : MCQ Option Shuffling : Yes Is Question Mandatory : No Option Orientation : Vertical

Correct Marks : 1 Wrong Marks : 0.25

एक निश्चित कोड भाषा में,

I love my country का अर्थ है ni ju xi ping

My country is the best का अर्थ है xi ping ki fi zuk

I am the best को ni ma fi zuk के रूप में लिखा गया है

तो 'love' के लिए शब्द क्या होगा?

Options :

1. ✓ ju
2. ✗ ni
3. ✗ xi
4. ✗ ping

Question Number : 12 Question Id : 927759554 Question Type : MCQ Option Shuffling : Yes Is Question Mandatory : No Option Orientation : Vertical

Correct Marks : 1 Wrong Marks : 0.25

Jaya is taller than Sangita. Rekha is shorter than Sushma but taller than Zinat. Sangita is shorter than Rekha but taller than Zinat. Who is the shortest?

Options :

1. ✗ Jaya
2. ✓ Zinat
3. ✗ Rekha
4. ✗ Sangita

Question Number : 12 Question Id : 927759554 Question Type : MCQ Option Shuffling : Yes Is Question Mandatory : No Option Orientation : Vertical

Correct Marks : 1 Wrong Marks : 0.25

जया, संगीता से लंबी है। रेखा, सुषमा से छोटी है लेकिन ज़ीनत से लंबी है। संगीता, रेखा से छोटी है लेकिन ज़ीनत से लंबी है। सबसे छोटा कौन है?

Options :

1. ✗ जया
2. ✓ ज़ीनत
3. ✗ रेखा
4. ✗ संगीता

Question Number : 13 Question Id : 927759555 Question Type : MCQ Option Shuffling : Yes Is Question Mandatory : No Option Orientation : Vertical

Correct Marks : 1 Wrong Marks : 0.25

Arrange the words given below in a meaningful sequence.

1. Quadrilaterals 2. Triangles 3. Hexagon 4. Pentagon 5. Octagon.

Options :

1. ✘ 1, 2, 3, 4, 5
2. ✘ 1, 2, 4, 5, 3
3. ✘ 2, 1, 3, 4, 5
4. ✔ 2,1, 4, 3, 5

Question Number : 13 Question Id : 927759555 Question Type : MCQ Option Shuffling : Yes Is Question Mandatory : No Option Orientation : Vertical

Correct Marks : 1 Wrong Marks : 0.25

नीचे दिए गए शब्दों को सार्थक क्रम में व्यवस्थित करें।

1. चतुर्भुज 2. त्रिभुज 3. षट्भुज 4. पंचभुज 5. अष्टभुज।

Options :

1. ✘ 1, 2, 3, 4, 5
2. ✘ 1, 2, 4, 5, 3
3. ✘ 2, 1, 3, 4, 5
4. ✔ 2,1, 4, 3, 5

Question Number : 14 Question Id : 927759556 Question Type : MCQ Option Shuffling : Yes Is Question Mandatory : No Option Orientation : Vertical

Correct Marks : 1 Wrong Marks : 0.25

A team of four is to be formed out of four boys A, B, C and D and three girls E, F and G. Some criteria for selection are to be followed:

I. C and G should be always together.

II. E cannot be put with D.

III. B and C are never together.

IV. F cannot be put with A.

If there should be two boys and two girls in a team then who should form a team?

Options :

1. ✔ A, C, G, E
2. ✘ E, C, G, F
3. ✘ A, G, C, D
4. ✘ E, G, C, B

Question Number : 14 Question Id : 927759556 Question Type : MCQ Option Shuffling : Yes Is Question Mandatory : No Option Orientation : Vertical

Correct Marks : 1 Wrong Marks : 0.25

चार लड़कों A, B, C और D और तीन लड़कियों E, F और G में से चार की टीम बनाई जानी है। चयन के लिए कुछ मानदंडों का पालन किया जाना है:

- I. C और G हमेशा एक साथ होने चाहिए।
- II. E को D के साथ नहीं रखा जा सकता है।
- III. B और C कभी एक साथ नहीं होते हैं।
- IV. F को A के साथ नहीं रखा जा सकता है।

यदि एक टीम में दो लड़के और दो लड़कियां होनी चाहिए तो कौन टीम बनाएगा ?

Options :

- 1. ✓ A, C, G, E
- 2. ✗ E, C, G, F
- 3. ✗ A, G, C, D
- 4. ✗ E, G, C, B

Question Number : 15 Question Id : 927759557 Question Type : MCQ Option Shuffling : Yes Is Question Mandatory : No Option Orientation : Vertical

Correct Marks : 1 Wrong Marks : 0.25

A, B, C, D, E, F are sitting around circular table facing inwards but not necessarily in the same order. A is sitting to the right of B and left of F. D is seated to the left of E and right of C. F is seated to the left of C. What is the position of B?

Options :

- 1. ✗ Between C and D
- 2. ✗ To the left of D
- 3. ✗ To the right of F
- 4. ✓ Between A and E

Question Number : 15 Question Id : 927759557 Question Type : MCQ Option Shuffling : Yes Is Question Mandatory : No Option Orientation : Vertical

Correct Marks : 1 Wrong Marks : 0.25

A, B, C, D, E, F गोल टेबल के चारों ओर अंदर की तरफ मुँह करके हैं, लेकिन जरूरी नहीं कि वे उसी क्रम में हों। A, B की दाईं ओर बैठा है और F के बाएं ओर है। D, E के बाईं ओर बैठा है और C के दाईं ओर है। E, C के बाईं ओर बैठा है। B की स्थिति क्या है?

Options :

- 1. ✗ C और D के बीच
- 2. ✗ D के बाईं ओर

3. ✖ F के दाईं ओर
4. ✔ A और E के बीच

Question Number : 16 Question Id : 927759558 Question Type : MCQ Option Shuffling : Yes Is Question Mandatory : No Option Orientation : Vertical

Correct Marks : 1 Wrong Marks : 0.25

In this question, two statements are given followed by two conclusions. Analyze the statements and the conclusions and determine whether which of the the given conclusions can be drawn from the statements.

Statements:

- I. All the Teachers are female.
- II. No Engineer is a Teacher.

Conclusions:

- I. All Engineers are male.
- II. No teacher is an Engineer.

Options :

1. ✖ Only Conclusion I follows
2. ✔ Only Conclusion II follows
3. ✖ Both I and II follows
4. ✖ Neither I nor Ii follows

Question Number : 16 Question Id : 927759558 Question Type : MCQ Option Shuffling : Yes Is Question Mandatory : No Option Orientation : Vertical

Correct Marks : 1 Wrong Marks : 0.25

इस प्रश्न में, दो कथन के बाद दो निष्कर्ष दिए गए हैं। कथनों और निष्कर्षों का विश्लेषण करें और निर्धारित करें कि दिए गए निष्कर्षों में से किसे कथनों में से अंकित किया जा सकता है।

कथन:

- I. सभी शिक्षक महिला हैं।
- II. कोई भी इंजीनियर शिक्षक नहीं है।

निष्कर्ष:

- I. सभी इंजीनियर पुरुष हैं।
- II. कोई भी शिक्षक इंजीनियर नहीं है।

Options :

1. ✘ केवल निष्कर्ष I अनुसरण करता है
2. ✔ केवल निष्कर्ष II अनुसरण करता है
3. ✘ I और II दोनों अनुसरण करते हैं
4. ✘ न I और न ही II अनुसरण करता है

Question Number : 17 Question Id : 927759559 Question Type : MCQ Option Shuffling : Yes Is Question Mandatory : No Option Orientation : Vertical

Correct Marks : 1 Wrong Marks : 0.25

In this question, a statement has been given, followed by two assumptions numbered I and II. Analyze the two assumptions together and determine which of them is/are implicit in the statement.

Statements: The government announced Janata curfew on Sunday, 22 March.

Assumptions:

- I. Everybody has to remain at home.
- II. Not more than two people can walk as a group on roads.

Options :

1. ✔ Only I is implicit
2. ✘ Only II is implicit
3. ✘ I and II is implicit
4. ✘ Neither I nor II is implicit

Question Number : 17 Question Id : 927759559 Question Type : MCQ Option Shuffling : Yes Is Question Mandatory : No Option Orientation : Vertical

Correct Marks : 1 Wrong Marks : 0.25

इस प्रश्न में, एक कथन दिया गया है, जिसके बाद दो क्रमांकित धारणाएं I और II दी गई हैं। दोनों धारणाओं का एक साथ विश्लेषण करें और निर्धारित करें कि उनमें से कौन सा/से कथन में निहित है।

कथन: सरकार ने 22 मार्च, रविवार को जनता कर्फ्यू की घोषणा की है।

धारणाएं:

- I. हरेक को घर पर रहना होगा।
- II. दो से अधिक लोग सड़कों पर एक समूह में नहीं चल सकते।

Options :

1. ✓ केवल I निहित है
2. ✗ केवल II निहित है
3. ✗ I और II निहित है
4. ✗ न I और न ही II निहित है

Question Number : 18 Question Id : 927759560 Question Type : MCQ Option Shuffling : Yes Is Question Mandatory : No Option Orientation : Vertical

Correct Marks : 1 Wrong Marks : 0.25

In this question, a statement has been given, followed by two courses of action numbered I and II. Analyze the two courses of action together and decide which of the suggested courses of action logically follow(s) for pursuing.

Statements: A student is repeatedly caught stealing money from the teacher's purse.

Course of action :

- I. The child should be punished severely.
- II. The teacher should not bring money to school.

Options :

1. ✓ Only I follows
2. ✗ Only II follows
3. ✗ Neither I nor II follows
4. ✗ Both I and II follows

Question Number : 18 Question Id : 927759560 Question Type : MCQ Option Shuffling : Yes Is Question Mandatory : No Option Orientation : Vertical

Correct Marks : 1 Wrong Marks : 0.25

इस प्रश्न में, एक कथन दिया गया है, इसके बाद कार्रवाई के दो क्रम I और II दिए गए हैं। कार्रवाई के दोनों क्रम का एक साथ विश्लेषण करें और निर्णय लें कि सुझाई गई कार्रवाई के क्रम में से कौन सी तार्किक रूप से अनुसरण के लिए सही है।

कथन: एक छात्र बार-बार शिक्षक की पर्स से पैसे चुराते पकड़ा जाता है।

कार्रवाई का क्रम:

- I. बच्चे को कड़ी सजा दी जानी चाहिए।
- II. शिक्षक को पाठशाला में पैसे नहीं लाने चाहिए।

Options :

1. ✓ केवल I अनुसरण करता है
2. ✗ केवल II अनुसरण करता है
3. ✗ न I और न ही II अनुसरण करता है
4. ✗ I और II दोनों अनुसरण करते है

Question Number : 19 Question Id : 927759561 Question Type : MCQ Option Shuffling : Yes Is Question Mandatory : No Option Orientation : Vertical

Correct Marks : 1 Wrong Marks : 0.25

Complete the following number series:

112, 123, 136, 151, ?

Options :

1. ✗ 167
2. ✓ 168
3. ✗ 169
4. ✗ 170

Question Number : 19 Question Id : 927759561 Question Type : MCQ Option Shuffling : Yes Is Question Mandatory : No Option Orientation : Vertical

Correct Marks : 1 Wrong Marks : 0.25

निम्नलिखित संख्या श्रृंखला को पूरा करें:

112, 123, 136, 151, ?

Options :

1. ✗ 167
2. ✓ 168
3. ✗ 169
4. ✗ 170

Question Number : 20 Question Id : 927759562 Question Type : MCQ Option Shuffling : Yes Is Question Mandatory : No Option Orientation : Vertical

Correct Marks : 1 Wrong Marks : 0.25

Find the missing number in the following number series.

-71, -36, __, 34, 69.

Options :

1. ✘ 1
2. ✔ -1
3. ✘ 2
4. ✘ -2

Question Number : 20 Question Id : 927759562 Question Type : MCQ Option Shuffling : Yes Is Question Mandatory : No Option Orientation : Vertical

Correct Marks : 1 Wrong Marks : 0.25

निम्नलिखित संख्या श्रृंखला में लुप्त संख्या ज्ञात करें।
-71, -36, __, 34, 69.

Options :

1. ✘ 1
2. ✔ -1
3. ✘ 2
4. ✘ -2

General Ability2

Group Number :	2
Group Id :	92775912
Group Maximum Duration :	0
Group Minimum Duration :	0
Show Attended Group? :	No
Edit Attended Group? :	No
Break time :	0
Group Marks :	20
Is this Group for Examiner? :	No

General Ability2

Section Id : 92775912

Section Number :	1
Section type :	Online
Mandatory or Optional :	Mandatory
Number of Questions :	20
Number of Questions to be attempted :	20
Section Marks :	20
Enable Mark as Answered Mark for Review and Clear Response :	Yes
Sub-Section Number :	1
Sub-Section Id :	92775914
Question Shuffling Allowed :	Yes

Question Number : 21 Question Id : 927759563 Question Type : MCQ Option Shuffling : Yes Is Question Mandatory : No Option Orientation : Vertical

Correct Marks : 1 Wrong Marks : 0.25

If $(x + 23) < (y + 11) + 18$, then which among the following is true?

Options :

1. ✓ $(x - y) < 6$
2. ✗ $(x - y) > 6$
3. ✗ $(y - x) < 6$
4. ✗ $(y - x) > 6$

Question Number : 21 Question Id : 927759563 Question Type : MCQ Option Shuffling : Yes Is Question Mandatory : No Option Orientation : Vertical

Correct Marks : 1 Wrong Marks : 0.25

यदि $(x + 23) < (y + 11) + 18$ है, तो निम्नलिखित में से कौन सा सत्य है?

Options :

1. ✓ $(x - y) < 6$
2. ✗ $(x - y) > 6$
3. ✗ $(y - x) < 6$
4. ✗ $(y - x) > 6$

Question Number : 22 Question Id : 927759564 Question Type : MCQ Option Shuffling : Yes Is Question Mandatory : No Option

Orientation : Vertical

Correct Marks : 1 Wrong Marks : 0.25

Which two signs should be interchanged to make the below equation mathematically correct?

$$25 \div 3 + 5 - 14 \times 2 = 73$$

Options :

1. ✘ $\div, +$
2. ✔ \div, \times
3. ✘ $\times, -$
4. ✘ $+, -$

Question Number : 22 Question Id : 927759564 Question Type : MCQ Option Shuffling : Yes Is Question Mandatory : No Option

Orientation : Vertical

Correct Marks : 1 Wrong Marks : 0.25

नीचे दिए गए समीकरण को सही बनाने के लिए किन दो चिन्हों को गणितीय रूप से परस्पर बदलना चाहिए?

$$25 \div 3 + 5 - 14 \times 2 = 73$$

Options :

1. ✘ $\div, +$
2. ✔ \div, \times
3. ✘ $\times, -$
4. ✘ $+, -$

Question Number : 23 Question Id : 927759565 Question Type : MCQ Option Shuffling : Yes Is Question Mandatory : No Option

Orientation : Vertical

Correct Marks : 1 Wrong Marks : 0.25

Find the wrong term in the following series:

69, 93, 117, 139, 165

Options :

1. ✘ 93
2. ✘ 117
3. ✔ 139
4. ✘ 165

Question Number : 23 Question Id : 927759565 Question Type : MCQ Option Shuffling : Yes Is Question Mandatory : No Option Orientation : Vertical

Correct Marks : 1 Wrong Marks : 0.25

निम्नलिखित श्रृंखला में गलत पद ज्ञात करें:

69, 93, 117, 139, 165

Options :

1. ✘ 93
2. ✘ 117
3. ✔ 139
4. ✘ 165

Question Number : 24 Question Id : 927759566 Question Type : MCQ Option Shuffling : Yes Is Question Mandatory : No Option Orientation : Vertical

Correct Marks : 1 Wrong Marks : 0.25

Two men with same efficiency take 40 minutes to complete 8 pieces of an item. How many pieces of such items will be completed by a single person in 30 minutes?

Options :

1. ✘ 2
2. ✔ 3
3. ✘ 4
4. ✘ 5

Question Number : 24 Question Id : 927759566 Question Type : MCQ Option Shuffling : Yes Is Question Mandatory : No Option Orientation : Vertical

Correct Marks : 1 Wrong Marks : 0.25

एक ही दक्षता वाले दो पुरुषों को एक वस्तु के 8 टुकड़ों को पूरा करने में 40 मिनट लगते हैं। किसी एक व्यक्ति द्वारा 30 मिनट में ऐसी वस्तुओं के कितने टुकड़े पूरे किए जाएंगे?

Options :

1. ✘ 2
2. ✔ 3
3. ✘ 4
4. ✘ 5

Question Number : 25 Question Id : 927759567 Question Type : MCQ Option Shuffling : Yes Is Question Mandatory : No Option Orientation : Vertical

Correct Marks : 1 Wrong Marks : 0.25

In a Mathematics exam, Sanjana is ranked 13th from the top and 38th from the bottom. How many students appeared for the exam?

Options :

1. ✘ 49
2. ✔ 50
3. ✘ 51
4. ✘ 52

Question Number : 25 Question Id : 927759567 Question Type : MCQ Option Shuffling : Yes Is Question Mandatory : No Option Orientation : Vertical

Correct Marks : 1 Wrong Marks : 0.25

गणित की परीक्षा में, संजना ऊपर से 13वें और नीचे से 38वें स्थान पर हैं। परीक्षा में कितने छात्र उपस्थित हुए?

Options :

1. ✘ 49
2. ✔ 50
3. ✘ 51
4. ✘ 52

Question Number : 26 Question Id : 927759568 Question Type : MCQ Option Shuffling : Yes Is Question Mandatory : No Option Orientation : Vertical

Correct Marks : 1 Wrong Marks : 0.25

Ruby started walking 8 km to the west from point A and then takes a left turn from point B and continues walking straight for 6 km till point C. What is the minimum distance between the Points A and C?

Options :

1. ✘ 14 km
2. ✘ 7 km
3. ✘ 8 km
4. ✔ 10 km

Question Number : 26 Question Id : 927759568 Question Type : MCQ Option Shuffling : Yes Is Question Mandatory : No Option Orientation : Vertical

Correct Marks : 1 Wrong Marks : 0.25

रूबी ने बिंदु A से पश्चिम में 8 km चलना शुरू किया और फिर बिंदु B से बाएं ओर मुड़ती है और बिंदु C तक 6 km सीधा चलना जारी रखती है। बिंदु A से C के बीच की न्यूनतम दूरी कितनी है?

Options :

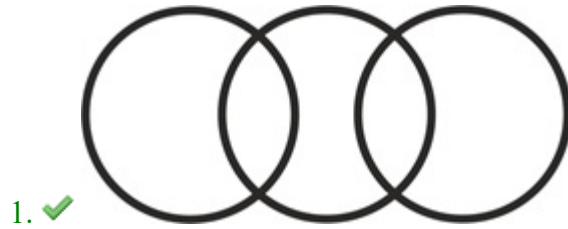
1. ✘ 14 km
2. ✘ 7 km
3. ✘ 8 km
4. ✔ 10 km

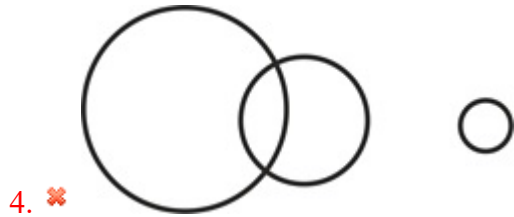
Question Number : 27 Question Id : 927759569 Question Type : MCQ Option Shuffling : Yes Is Question Mandatory : No Option Orientation : Vertical

Correct Marks : 1 Wrong Marks : 0.25

Which of the following Venn diagrams best represents the relationship between fathers, doctors and pilots? (Assume no doctors are pilots.)

Options :



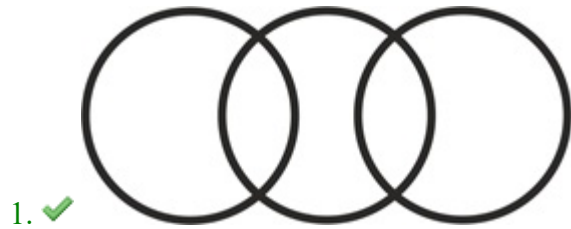


Question Number : 27 Question Id : 927759569 Question Type : MCQ Option Shuffling : Yes Is Question Mandatory : No Option Orientation : Vertical


Correct Marks : 1 Wrong Marks : 0.25

निम्नलिखित में से कौन सा वेन आरेख पिता, चिकित्सक और पायलट के बीच के संबंध को सबसे अच्छा दर्शाता है? (मान लें कि कोई चिकित्सक पायलट नहीं है।)

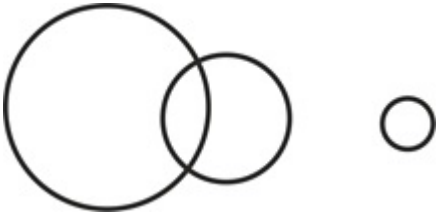
Options :



3. ✘



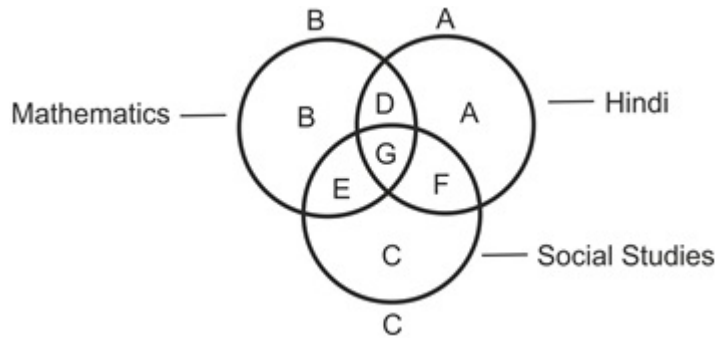
4. ✘



Question Number : 28 Question Id : 927759570 Question Type : MCQ Option Shuffling : Yes Is Question Mandatory : No Option Orientation : Vertical

Correct Marks : 1 Wrong Marks : 0.25

In the following figure, Circle A represents Students who have passed in Hindi, Circle B represents students who have passed in Mathematics and Circle C represents students who have passed in Social Studies. Which part of the figure represents students who passed in Hindi and Social Studies but not in Mathematics?



Options :

1. ✘ D

2. ✘ E

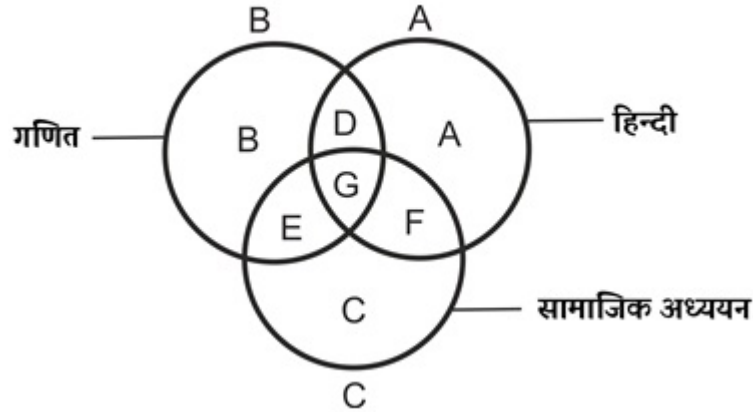
3. ✔ F

4. ✘ G

Question Number : 28 Question Id : 927759570 Question Type : MCQ Option Shuffling : Yes Is Question Mandatory : No Option Orientation : Vertical

Correct Marks : 1 Wrong Marks : 0.25

निम्नलिखित आकृति में, वृत्त A हिंदी में उत्तीर्ण हुए छात्रों का प्रतिनिधित्व करता है, वृत्त B गणित में उत्तीर्ण हुए छात्रों का प्रतिनिधित्व करता है और वृत्त C सामाजिक अध्ययन में उत्तीर्ण हुए छात्रों का प्रतिनिधित्व करता है। आकृति का कौन सा भाग उन छात्रों का प्रतिनिधित्व करता है जो हिंदी और सामाजिक अध्ययन में उत्तीर्ण हुए हैं लेकिन गणित में नहीं हुए है?



Options :

1. ✘ D
2. ✘ E
3. ✔ F
4. ✘ G

Question Number : 29 Question Id : 927759571 Question Type : MCQ Option Shuffling : Yes Is Question Mandatory : No Option Orientation : Vertical

Correct Marks : 1 Wrong Marks : 0.25

Ajay was standing on the road facing towards the south in the morning. On which side of Ajay is his shadow appearing?

Options :

1. ✘ In the front
2. ✘ In the backward direction
3. ✘ Towards his left
4. ✔ Towards his right

Question Number : 29 Question Id : 927759571 Question Type : MCQ Option Shuffling : Yes Is Question Mandatory : No Option Orientation : Vertical

Correct Marks : 1 Wrong Marks : 0.25

अजय सुबह दक्षिण की ओर मुँह करके सड़क पर खड़ा था। अजय की परछाई किस तरफ दिखाई दे रही है?

Options :

1. ✘ सामने
2. ✘ पीछे की दिशा में
3. ✘ उसकी बाईं ओर
4. ✔ उसके दाईं ओर

Question Number : 30 Question Id : 927759572 Question Type : MCQ Option Shuffling : Yes Is Question Mandatory : No Option Orientation : Vertical

Correct Marks : 1 Wrong Marks : 0.25

Rahul started walking in the West direction after sometime he turned towards his right and then again turned to his right. Now, if East is written as West, West as North, North as South and South as East then in what direction is he moving?

Options :

1. ✘ East
2. ✔ West
3. ✘ North
4. ✘ South

Question Number : 30 Question Id : 927759572 Question Type : MCQ Option Shuffling : Yes Is Question Mandatory : No Option Orientation : Vertical

Correct Marks : 1 Wrong Marks : 0.25

राहुल ने पश्चिम दिशा में चलना शुरू किया, कुछ देर बाद वह अपनी दाईं ओर मुड़ा और फिर से अपनी दाईं ओर मुड़ा। अब, यदि पूर्व को पश्चिम, पश्चिम को उत्तर, उत्तर को दक्षिण और दक्षिण को पूर्व के रूप में लिखा जाता है तो वह किस दिशा में जा रहा है?

Options :

1. ✘ पूर्व
2. ✔ पश्चिम
3. ✘ उत्तर
4. ✘ दक्षिण

Question Number : 31 Question Id : 927759573 Question Type : MCQ Option Shuffling : Yes Is Question Mandatory : No Option Orientation : Vertical

Correct Marks : 1 Wrong Marks : 0.25

Rima's house is 3 km south of Seema's house. Manju's house is 5 km to the East from Seema's house. Roshan's house is 3 km south of Manju's house. How far is Roshan's house from Rima's house and in what direction?

Options :

1. ✓ 5 km East
2. ✗ 5 Km West
3. ✗ 5 km North
4. ✗ 5 km South

Question Number : 31 Question Id : 927759573 Question Type : MCQ Option Shuffling : Yes Is Question Mandatory : No Option Orientation : Vertical

Correct Marks : 1 Wrong Marks : 0.25

रीमा का घर सीमा के घर से 3 km दक्षिण में है। मंजू का घर सीमा के घर से 5 km पूर्व में है। रोशन का घर मंजू के घर से 3 km दक्षिण में है। रीमा के घर से रोशन का घर कितनी दूर है और किस दिशा में है?

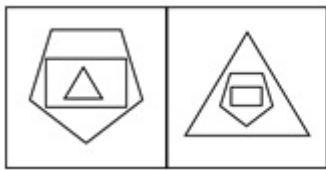
Options :

1. ✓ 5 km पूर्व
2. ✗ 5 Km पश्चिम
3. ✗ 5 km उत्तर
4. ✗ 5 km दक्षिण

Question Number : 32 Question Id : 927759574 Question Type : MCQ Option Shuffling : Yes Is Question Mandatory : No Option Orientation : Vertical

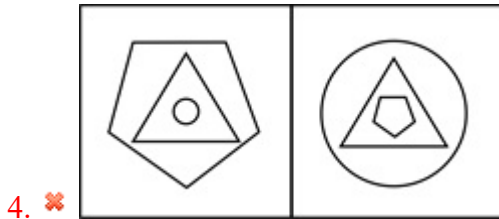
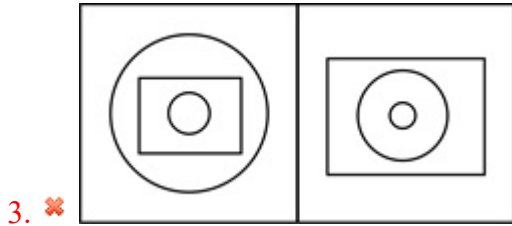

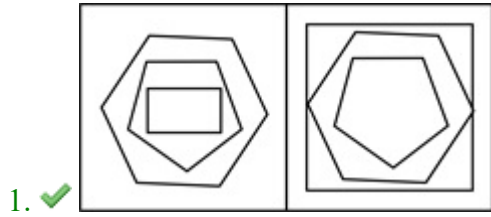
Correct Marks : 1 Wrong Marks : 0.25

Select the pair of images that is related on the same basis to the pair of images given in the question.



⋮ ?

Options :



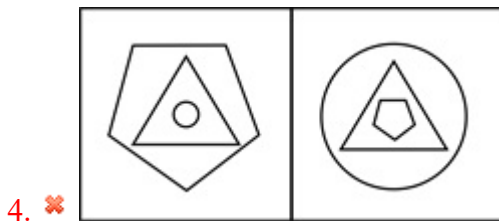
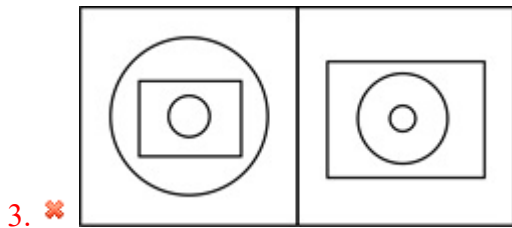

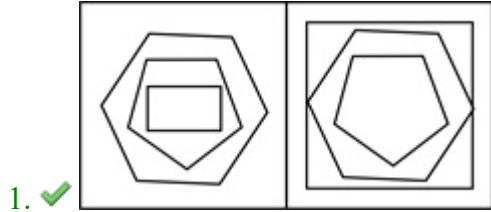
Question Number : 32 Question Id : 927759574 Question Type : MCQ Option Shuffling : Yes Is Question Mandatory : No Option Orientation : Vertical

Correct Marks : 1 Wrong Marks : 0.25

उन छवियों की जोड़ी का चयन करें जो प्रश्न में दी गई छवियों की जोड़ी से उसी प्रकार संबंधित हैं।




Options :

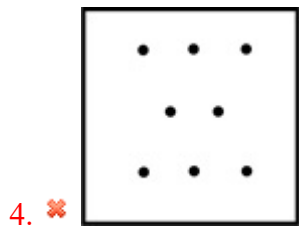
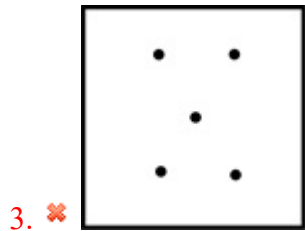
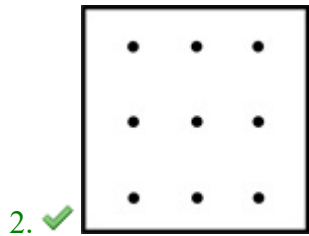



Correct Marks : 1 Wrong Marks : 0.25

Find the missing figure in the matrix.












Options :



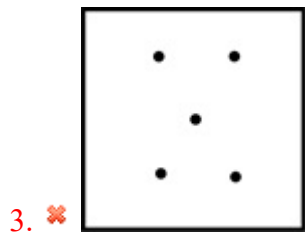
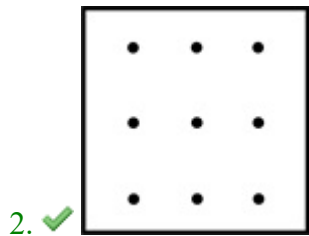

Question Number : 33 Question Id : 927759575 Question Type : MCQ Option Shuffling : Yes Is Question Mandatory : No Option Orientation : Vertical

Correct Marks : 1 Wrong Marks : 0.25


मैट्रिक्स में लुप्त आकृति ज्ञात करें।

Options :



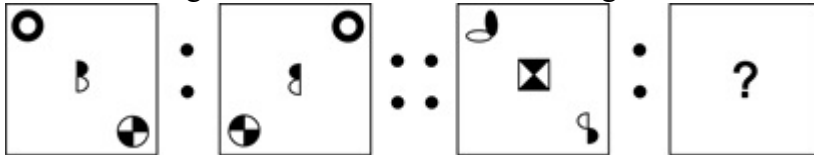
4. ✘



Question Number : 34 Question Id : 927759576 Question Type : MCQ Option Shuffling : Yes Is Question Mandatory : No Option Orientation : Vertical

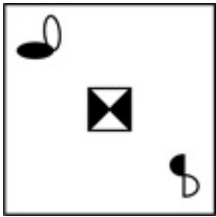
Correct Marks : 1 Wrong Marks : 0.25

Select the image that is related to the third image on the same basis as the second image is related to the first image.

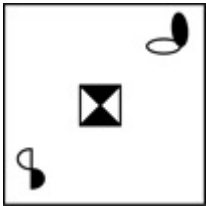


Options :

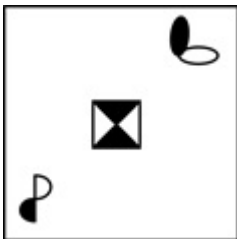
1. ✘

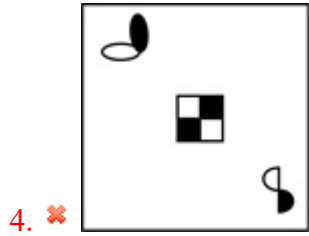


2. ✘



3. ✔

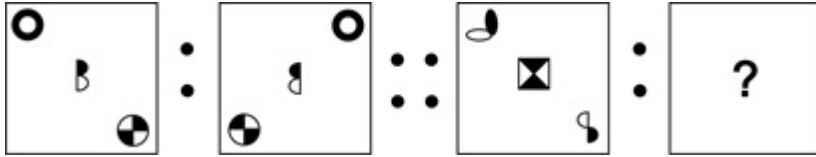




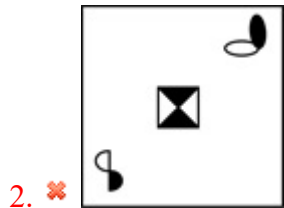
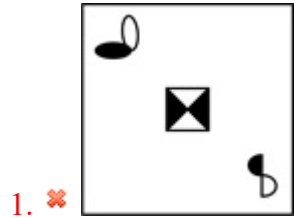
Question Number : 34 Question Id : 927759576 Question Type : MCQ Option Shuffling : Yes Is Question Mandatory : No Option Orientation : Vertical

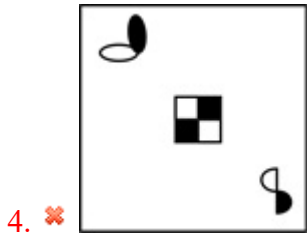
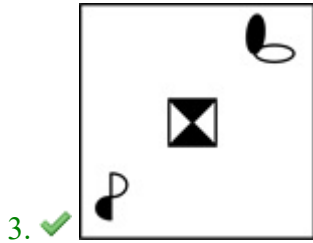
Correct Marks : 1 Wrong Marks : 0.25

उस छवि का चयन करें जो तीसरी छवि से उसी प्रकार से संबंधित है जिस प्रकार से दूसरी छवि पहली छवि से संबंधित है।



Options :

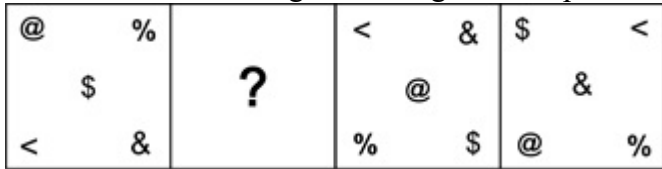




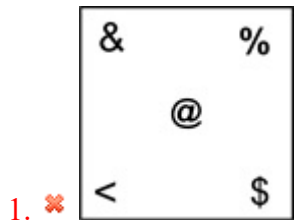
Question Number : 35 Question Id : 927759577 Question Type : MCQ Option Shuffling : Yes Is Question Mandatory : No Option Orientation : Vertical

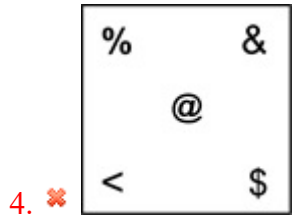
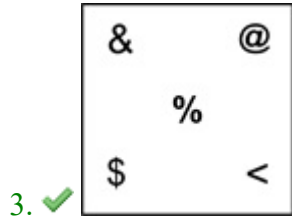
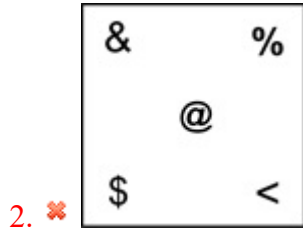
Correct Marks : 1 Wrong Marks : 0.25

Which of the following answer figures completes the series of the question figure?



Options :





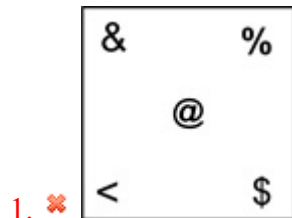
Question Number : 35 Question Id : 927759577 Question Type : MCQ Option Shuffling : Yes Is Question Mandatory : No Option Orientation : Vertical

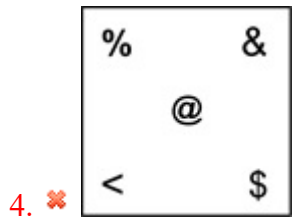
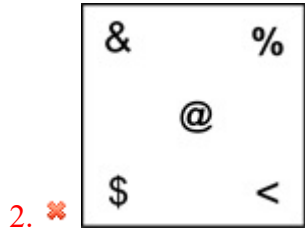
Correct Marks : 1 Wrong Marks : 0.25

निम्नलिखित में से कौन सी उत्तर आकृति प्रश्न आकृति की श्रृंखला को पूरा करती है?

@	%	?	<	&	\$	<	
	\$			@		&	
<	&		%	\$	@	%	

Options :

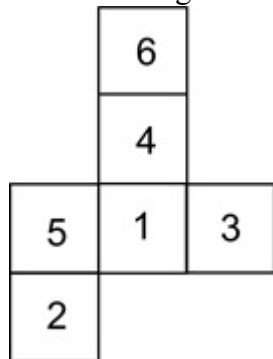




Question Number : 36 Question Id : 927759578 Question Type : MCQ Option Shuffling : Yes Is Question Mandatory : No Option Orientation : Vertical

Correct Marks : 1 Wrong Marks : 0.25

The following sheet is folded along the lines given to form a cube, which number is opposite to the face with number 2?



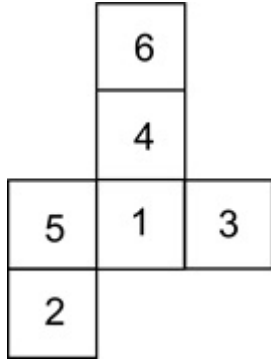
Options :

1. ✘ 1
2. ✘ 3
3. ✔ 4
4. ✘ 5

Question Number : 36 Question Id : 927759578 Question Type : MCQ Option Shuffling : Yes Is Question Mandatory : No Option Orientation : Vertical

Correct Marks : 1 Wrong Marks : 0.25

निम्नलिखित शीट को घन बनाने के लिए दी गई रेखाओं के साथ मोड़ा गया है, कौन सी संख्या, संख्या 2 के फलक के सामने है?



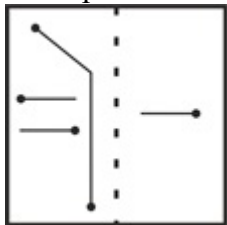
Options :

1. ✘ 1
2. ✘ 3
3. ✔ 4
4. ✘ 5

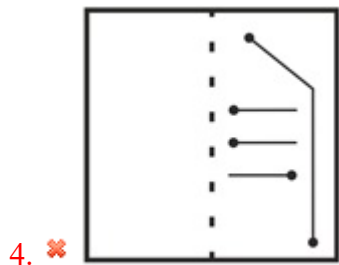
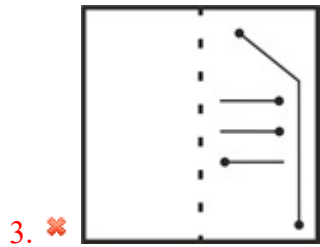
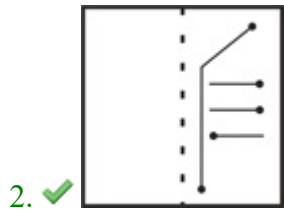
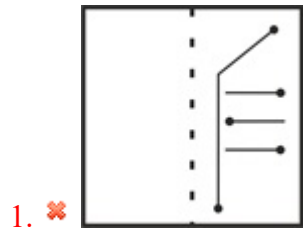
Question Number : 37 Question Id : 927759579 Question Type : MCQ Option Shuffling : Yes Is Question Mandatory : No Option Orientation : Vertical

Correct Marks : 1 Wrong Marks : 0.25

What pattern would appear if the square transparent sheet is folded along the dotted lines?



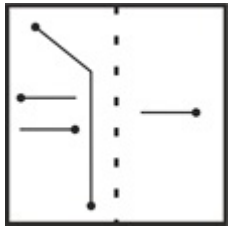
Options :



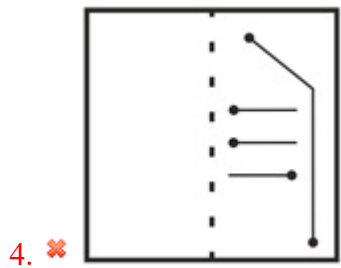
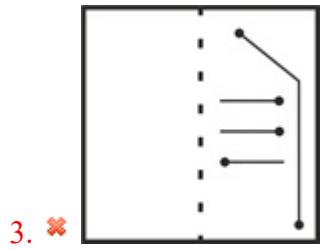
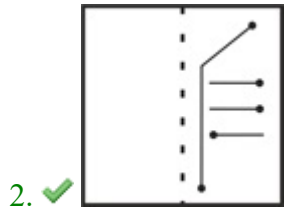
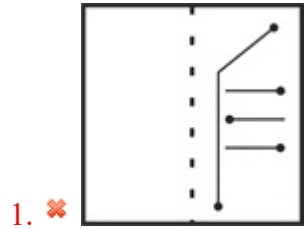
Question Number : 37 Question Id : 927759579 Question Type : MCQ Option Shuffling : Yes Is Question Mandatory : No Option Orientation : Vertical

Correct Marks : 1 Wrong Marks : 0.25

यदि बिंदीदार रेखाओं के साथ वर्ग पारदर्शी शीट को मोड़ा जाता है तो कौन सा पैटर्न दिखाई देगा?



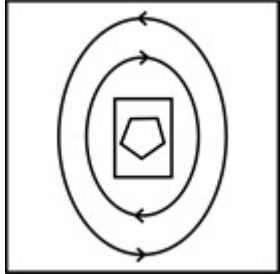
Options :



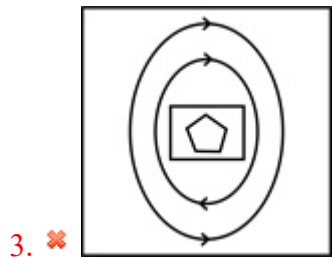
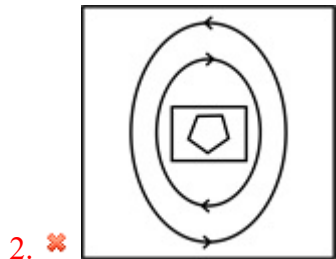
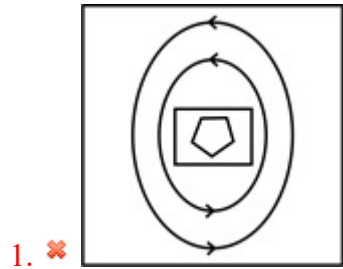
Question Number : 38 Question Id : 927759580 Question Type : MCQ Option Shuffling : Yes Is Question Mandatory : No Option Orientation : Vertical

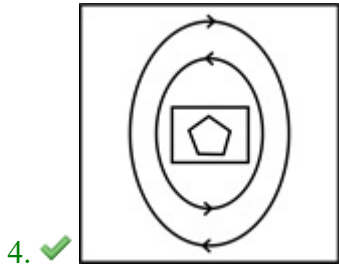
Correct Marks : 1 Wrong Marks : 0.25

Which image will be obtained when the mirror is placed at the bottom of the figure?



Options :

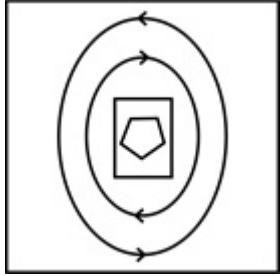




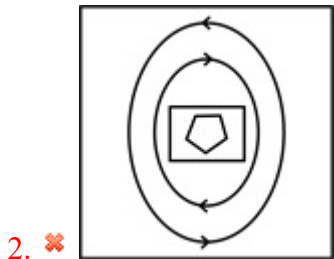
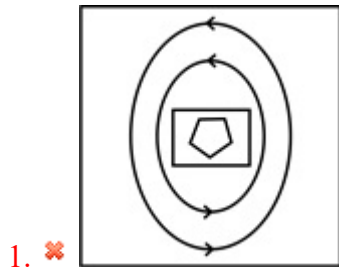
Question Number : 38 Question Id : 927759580 Question Type : MCQ Option Shuffling : Yes Is Question Mandatory : No Option Orientation : Vertical

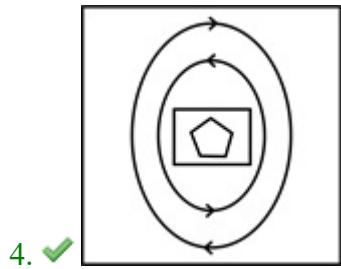
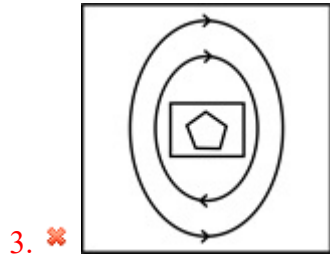
Correct Marks : 1 Wrong Marks : 0.25

कौन सी छवि प्राप्त होगी जब दर्पण को आकृति के नीचे रखा जाएगा ?



Options :

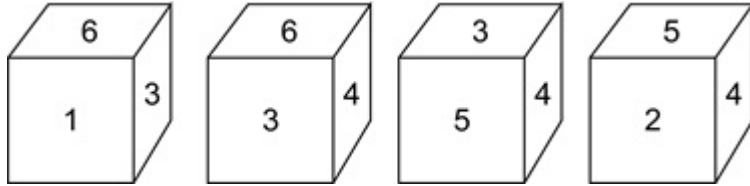




Question Number : 39 Question Id : 927759581 Question Type : MCQ Option Shuffling : Yes Is Question Mandatory : No Option Orientation : Vertical

Correct Marks : 1 Wrong Marks : 0.25

The faces of a cube are numbered 1 to 6. The given four images are of the same cube. Which number will be opposite to the face with number 3?



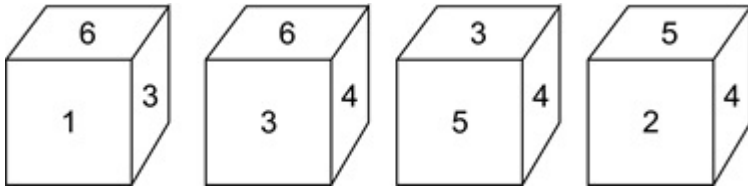
Options :

- 1. ✘ 1
- 2. ✔ 2
- 3. ✘ 3
- 4. ✘ 4

Question Number : 39 Question Id : 927759581 Question Type : MCQ Option Shuffling : Yes Is Question Mandatory : No Option Orientation : Vertical

Correct Marks : 1 Wrong Marks : 0.25

एक घन के फलक को 1 से 6 क्रमांकित किया गया है। दी गई चार आकृतियां एक घन की हैं। कौन सी संख्या, संख्या 3 के फलक के सामने होगी?



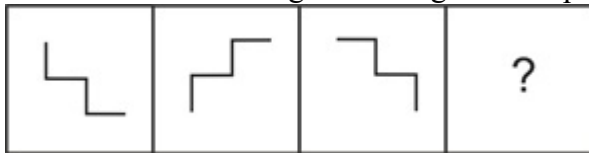
Options :

1. ✘ 1
2. ✔ 2
3. ✘ 3
4. ✘ 4

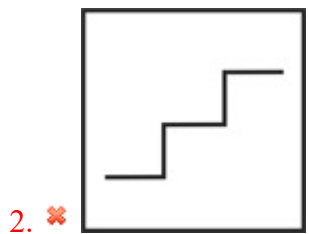
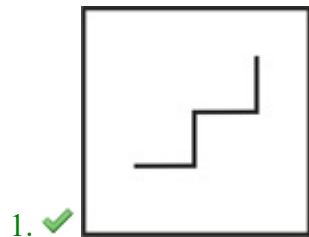
Question Number : 40 Question Id : 927759582 Question Type : MCQ Option Shuffling : Yes Is Question Mandatory : No Option Orientation : Vertical

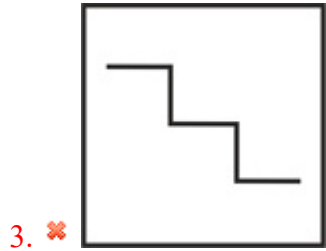
Correct Marks : 1 Wrong Marks : 0.25

Which of the following answer figures completes the series of shown in the question figure?



Options :

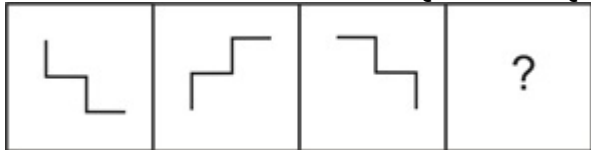




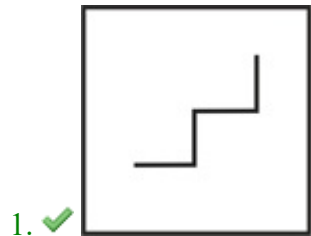
Question Number : 40 Question Id : 927759582 Question Type : MCQ Option Shuffling : Yes Is Question Mandatory : No Option Orientation : Vertical

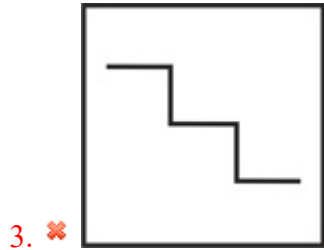
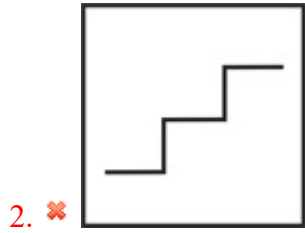
Correct Marks : 1 Wrong Marks : 0.25

निम्नलिखित में से कौन सी उत्तर आकृति प्रश्न आकृति की श्रृंखला को पूरा करती है?



Options :





General Awareness1

Group Number :	3
Group Id :	92775913
Group Maximum Duration :	0
Group Minimum Duration :	0
Show Attended Group? :	No
Edit Attended Group? :	No
Break time :	0
Group Marks :	20
Is this Group for Examiner? :	No

General Awareness1

Section Id :	92775913
Section Number :	1
Section type :	Online
Mandatory or Optional :	Mandatory
Number of Questions :	20
Number of Questions to be attempted :	20
Section Marks :	20
Enable Mark as Answered Mark for Review and Clear Response :	Yes
Sub-Section Number :	1
Sub-Section Id :	92775915
Question Shuffling Allowed :	Yes

Question Number : 41 Question Id : 927759583 Question Type : MCQ Option Shuffling : Yes Is Question Mandatory : No Option Orientation : Vertical

Correct Marks : 1 Wrong Marks : 0.25

Which of the following rulers is credited for building the famous Moti Masjid of Delhi?

Options :

1. ✓ Aurangzeb
2. ✗ Shah Jahan
3. ✗ Akbar
4. ✗ Humayun

Question Number : 41 Question Id : 927759583 Question Type : MCQ Option Shuffling : Yes Is Question Mandatory : No Option Orientation : Vertical

Correct Marks : 1 Wrong Marks : 0.25

निम्नलिखित में से किस शासक को दिल्ली का प्रसिद्ध मोती मस्जिद बनाने का श्रेय दिया गया है?

Options :

1. ✓ औरंगज़ेब
2. ✗ शाह जहाँ
3. ✗ अकबर

4. ✘ हुमायूँ

Question Number : 42 Question Id : 927759584 Question Type : MCQ Option Shuffling : Yes Is Question Mandatory : No Option Orientation : Vertical

Correct Marks : 1 Wrong Marks : 0.25

Bhavageete is one of the most important folk music of which of the following states?

Options :

1. ✘ Madhya Pradesh
2. ✘ Kerala
3. ✔ Karnataka
4. ✘ Tamil Nadu

Question Number : 42 Question Id : 927759584 Question Type : MCQ Option Shuffling : Yes Is Question Mandatory : No Option Orientation : Vertical

Correct Marks : 1 Wrong Marks : 0.25

भावगीत निम्नलिखित में से किस राज्य का सबसे महत्वपूर्ण लोक संगीत है?

Options :

1. ✘ मध्य प्रदेश
2. ✘ केरल
3. ✔ कर्नाटक
4. ✘ तमिल नाडु

Question Number : 43 Question Id : 927759585 Question Type : MCQ Option Shuffling : Yes Is Question Mandatory : No Option Orientation : Vertical

Correct Marks : 1 Wrong Marks : 0.25

Dhangar Dance form is performed during _____ festival.

Options :

1. ✘ Diwali
2. ✔ Navratri
3. ✘ Holi
4. ✘ Raksha Bandhan

Question Number : 43 Question Id : 927759585 Question Type : MCQ Option Shuffling : Yes Is Question Mandatory : No Option Orientation : Vertical

Correct Marks : 1 Wrong Marks : 0.25

धनगर नृत्य रूप _____ त्योहार के दौरान प्रदर्शित किया जाता है।

Options :

1. ✘ दिवाली
2. ✔ नवरात्रि
3. ✘ होली
4. ✘ रक्षाबंधन

Question Number : 44 Question Id : 927759586 Question Type : MCQ Option Shuffling : Yes Is Question Mandatory : No Option Orientation : Vertical

Correct Marks : 1 Wrong Marks : 0.25

The Dree Festival is observed by the Apatanis in _____.

Options :

1. ✔ Arunachal Pradesh
2. ✘ Madhya Pradesh
3. ✘ Tamil Nadu
4. ✘ Andhra Pradesh

Question Number : 44 Question Id : 927759586 Question Type : MCQ Option Shuffling : Yes Is Question Mandatory : No Option Orientation : Vertical

Correct Marks : 1 Wrong Marks : 0.25

द्री त्योहार अपातानी द्वारा _____ में मनाया जाता है।

Options :

1. ✔ अरुणाचल प्रदेश
2. ✘ मध्य प्रदेश
3. ✘ तमिल नाडु
4. ✘ आंध्र प्रदेश

Question Number : 45 Question Id : 927759587 Question Type : MCQ Option Shuffling : Yes Is Question Mandatory : No Option Orientation : Vertical

Correct Marks : 1 Wrong Marks : 0.25

_____ is a type of Indirect Tax which is levied at the time of sale/purchase of securities through the Indian Stock Exchanges.

Options :

1. ✘ Stamp Duty
2. ✔ Securities Transaction Tax
3. ✘ Shares and Securities Tax
4. ✘ Stamp and Securities Tax

Question Number : 45 Question Id : 927759587 Question Type : MCQ Option Shuffling : Yes Is Question Mandatory : No Option Orientation : Vertical

Correct Marks : 1 Wrong Marks : 0.25

_____ एक प्रकार का अप्रत्यक्ष कर है, जो भारतीय स्टॉक एक्सचेंजों के माध्यम से प्रतिभूतियों की बिक्री/खरीद के समय लगाया जाता है।

Options :

1. ✘ स्टाम्प शुल्क
2. ✔ प्रतिभूति लेनदेन कर
3. ✘ शेयर और प्रतिभूति कर
4. ✘ स्टाम्प और प्रतिभूति कर

Question Number : 46 Question Id : 927759588 Question Type : MCQ Option Shuffling : Yes Is Question Mandatory : No Option Orientation : Vertical

Correct Marks : 1 Wrong Marks : 0.25

The rate at which the RBI lends short-term money to the banks against securities is called _____.

Options :

1. ✘ Reverse Repo rate
2. ✔ Repo rate
3. ✘ Bank rate
4. ✘ Interest rate

Question Number : 46 Question Id : 927759588 Question Type : MCQ Option Shuffling : Yes Is Question Mandatory : No Option Orientation : Vertical

Correct Marks : 1 Wrong Marks : 0.25

जिस दर पर RBI प्रतिभूतियों के सामने बैंकों को अल्पकालिक धन उधार देता है, उसे _____ कहा जाता है।

Options :

1. ✘ रिवर्स रेपो दर
2. ✔ रेपो दर
3. ✘ बैंक दर
4. ✘ ब्याज दर

Question Number : 47 Question Id : 927759589 Question Type : MCQ Option Shuffling : Yes Is Question Mandatory : No Option Orientation : Vertical

Correct Marks : 1 Wrong Marks : 0.25

Which among the following banks was the first bank to sell mutual funds?

Options :

1. ✘ HSBC
2. ✘ HDFC Bank
3. ✔ SBI
4. ✘ ICICI Bank

Question Number : 47 Question Id : 927759589 Question Type : MCQ Option Shuffling : Yes Is Question Mandatory : No Option Orientation : Vertical

Correct Marks : 1 Wrong Marks : 0.25

निम्नलिखित बैंकों में से कौन म्यूचुअल फंड बेचने वाली पहली बैंक थी?

Options :

1. ✘ HSBC
2. ✘ HDFC बैंक
3. ✔ SBI
4. ✘ ICICI बैंक

Question Number : 48 Question Id : 927759590 Question Type : MCQ Option Shuffling : Yes Is Question Mandatory : No Option Orientation : Vertical

Correct Marks : 1 Wrong Marks : 0.25

Net Domestic Product (NDP) + Net Factor Income from Abroad (NFIA) = _____

Options :

1. ✓ Net National Product
2. ✗ Gross National Product
3. ✗ National Income
4. ✗ Gross Domestic Product

Question Number : 48 Question Id : 927759590 Question Type : MCQ Option Shuffling : Yes Is Question Mandatory : No Option Orientation : Vertical

Correct Marks : 1 Wrong Marks : 0.25

निवल देशीय उत्पाद + विदेश से निवल कारक आय = _____

Options :

1. ✓ शुद्ध राष्ट्रीय उत्पाद
2. ✗ सकल राष्ट्रीय उत्पाद
3. ✗ राष्ट्रीय आय
4. ✗ सकल घरेलु उत्पाद

Question Number : 49 Question Id : 927759591 Question Type : MCQ Option Shuffling : Yes Is Question Mandatory : No Option Orientation : Vertical

Correct Marks : 1 Wrong Marks : 0.25

As announced in Budget 2021, the custom duty on solar invertors has increased from 5 percent to _____.

Options :

1. ✗ 10 percent
2. ✗ 12 percent
3. ✗ 15 percent
4. ✓ 20 percent

Question Number : 49 Question Id : 927759591 Question Type : MCQ Option Shuffling : Yes Is Question Mandatory : No Option Orientation : Vertical

Correct Marks : 1 Wrong Marks : 0.25

बजट 2021 में घोषणा के अनुसार, सौर इन्वर्टर पर सीमा-शुल्क 5 प्रतिशत से बढ़कर _____ हो गई है।

Options :

1. ✘ 10 प्रतिशत
2. ✘ 12 प्रतिशत
3. ✘ 15 प्रतिशत
4. ✔ 20 प्रतिशत

Question Number : 50 Question Id : 927759592 Question Type : MCQ Option Shuffling : Yes Is Question Mandatory : No Option Orientation : Vertical

Correct Marks : 1 Wrong Marks : 0.25

Wildlife Protection Act was passed in _____.

Options :

1. ✘ 1970
2. ✘ 1986
3. ✘ 1982
4. ✔ 1972

Question Number : 50 Question Id : 927759592 Question Type : MCQ Option Shuffling : Yes Is Question Mandatory : No Option Orientation : Vertical

Correct Marks : 1 Wrong Marks : 0.25

वन्यजीव संरक्षण अधिनियम _____ में पारित किया गया था।

Options :

1. ✘ 1970
2. ✘ 1986
3. ✘ 1982
4. ✔ 1972

Question Number : 51 Question Id : 927759593 Question Type : MCQ Option Shuffling : Yes Is Question Mandatory : No Option Orientation : Vertical

Correct Marks : 1 Wrong Marks : 0.25

The aurora (the Northern Lights and Southern Lights) occur in the _____ layer of atmosphere.

Options :

1. ✔ thermosphere

2. ✘ mesosphere
3. ✘ stratosphere
4. ✘ exosphere

Question Number : 51 Question Id : 927759593 Question Type : MCQ Option Shuffling : Yes Is Question Mandatory : No Option Orientation : Vertical

Correct Marks : 1 Wrong Marks : 0.25

ध्रुवीय ज्योति (उत्तरी प्रकाश और दक्षिणी प्रकाश) वायुमंडल की _____ परत में होता है।

Options :

1. ✔ तापमण्डल
2. ✘ मध्यमण्डल
3. ✘ समतापमण्डल
4. ✘ बाह्यमण्डल

Question Number : 52 Question Id : 927759594 Question Type : MCQ Option Shuffling : Yes Is Question Mandatory : No Option Orientation : Vertical

Correct Marks : 1 Wrong Marks : 0.25

Plants growing on snow or ice are called as _____.

Options :

1. ✘ Epiphytes
2. ✘ Endophytes
3. ✔ Cryophytes
4. ✘ Thermophytes

Question Number : 52 Question Id : 927759594 Question Type : MCQ Option Shuffling : Yes Is Question Mandatory : No Option Orientation : Vertical

Correct Marks : 1 Wrong Marks : 0.25

हिम या बर्फ पर उगने वाले पौधों को _____ कहा जाता है।

Options :

1. ✘ एपिफाइट्स
2. ✘ एंडोफाइट्स

3. ✓ क्रायोफाइटा

4. ✗ थर्मोफाइटा

Question Number : 53 Question Id : 927759595 Question Type : MCQ Option Shuffling : Yes Is Question Mandatory : No Option Orientation : Vertical

Correct Marks : 1 Wrong Marks : 0.25

The scientific name of Vitamin B6 is _____.

Options :

1. ✗ Riboflavine

2. ✓ Pyridoxine

3. ✗ Cobalamin

4. ✗ Thiamine

Question Number : 53 Question Id : 927759595 Question Type : MCQ Option Shuffling : Yes Is Question Mandatory : No Option Orientation : Vertical

Correct Marks : 1 Wrong Marks : 0.25

विटामिन B6 का वैज्ञानिक नाम _____ है।

Options :

1. ✗ रिबोफ्लेविन

2. ✓ पायरीडॉक्सीन

3. ✗ कोबालामिन

4. ✗ थायमिन

Question Number : 54 Question Id : 927759596 Question Type : MCQ Option Shuffling : Yes Is Question Mandatory : No Option Orientation : Vertical

Correct Marks : 1 Wrong Marks : 0.25

When the pH value of rain water is measured as less than _____, it is known as acid rain.

Options :

1. ✗ 9.4

2. ✗ 8.6

3. ✗ 11.2

4. ✓ 5.6

Question Number : 54 Question Id : 927759596 Question Type : MCQ Option Shuffling : Yes Is Question Mandatory : No Option Orientation : Vertical

Correct Marks : 1 Wrong Marks : 0.25

जब वर्षा जल का pH मूल्य _____ से कम मापा जाता है, तो इसे अम्लीय वर्षा के नाम से जाना जाता है।

Options :

1. ✗ 9.4
2. ✗ 8.6
3. ✗ 11.2
4. ✓ 5.6

Question Number : 55 Question Id : 927759597 Question Type : MCQ Option Shuffling : Yes Is Question Mandatory : No Option Orientation : Vertical

Correct Marks : 1 Wrong Marks : 0.25

Commonly known forms of _____ are mushrooms, bracket fungi or puffballs.

Options :

1. ✗ phycomycetes
2. ✓ basidiomycetes
3. ✗ ascomycetes
4. ✗ deuteromycetes

Question Number : 55 Question Id : 927759597 Question Type : MCQ Option Shuffling : Yes Is Question Mandatory : No Option Orientation : Vertical

Correct Marks : 1 Wrong Marks : 0.25

_____ के सामान्य ज्ञात रूप, कुकुरमुत्ता, ब्रैकेट फनगी या पफबॉल हैं।

Options :

1. ✗ फाइकोमाईसीट्स
2. ✓ बेसिडियोमाईसीट्स
3. ✗ ऐस्कोमाईसीट्स
4. ✗ ड्यूटरोमाईसीट्स

Question Number : 56 Question Id : 927759598 Question Type : MCQ Option Shuffling : Yes Is Question Mandatory : No Option Orientation : Vertical

Correct Marks : 1 Wrong Marks : 0.25

The deepest point of the _____ is known as Richards Deep.

Options :

1. ✓ Peru-Chile Trench
2. ✗ South Sandwich Trench
3. ✗ Tonga Trench
4. ✗ Japan Trench

Question Number : 56 Question Id : 927759598 Question Type : MCQ Option Shuffling : Yes Is Question Mandatory : No Option Orientation : Vertical

Correct Marks : 1 Wrong Marks : 0.25

_____ का सबसे गहरा बिंदु रिचर्ड्स डीप के रूप में जाना जाता है।

Options :

1. ✓ पेरू-चिली गर्त
2. ✗ दक्षिण सैंडविच गर्त
3. ✗ टोंगा गर्त
4. ✗ जापान गर्त

Question Number : 57 Question Id : 927759599 Question Type : MCQ Option Shuffling : Yes Is Question Mandatory : No Option Orientation : Vertical

Correct Marks : 1 Wrong Marks : 0.25

Which of the following peaks is the highest peak of Karnataka?

Options :

1. ✗ Phawngpui
2. ✓ Mullayanagiri
3. ✗ Doddabetta
4. ✗ Anamudi

Question Number : 57 Question Id : 927759599 Question Type : MCQ Option Shuffling : Yes Is Question Mandatory : No Option

Orientation : Vertical

Correct Marks : 1 Wrong Marks : 0.25

निम्नलिखित चोटियों में से कौन सी कर्नाटक की सबसे ऊँची चोटी है?

Options :

1. ✘ फौंगपुरई
2. ✔ मुल्लयानगिरी
3. ✘ दोड्डुबेट्ट
4. ✘ अनाइमुडी

Question Number : 58 Question Id : 927759600 Question Type : MCQ Option Shuffling : Yes Is Question Mandatory : No Option

Orientation : Vertical

Correct Marks : 1 Wrong Marks : 0.25

Chamera Dam is built across the _____ river.

Options :

1. ✔ Ravi
2. ✘ Chenab
3. ✘ Saraswati
4. ✘ Krishna

Question Number : 58 Question Id : 927759600 Question Type : MCQ Option Shuffling : Yes Is Question Mandatory : No Option

Orientation : Vertical

Correct Marks : 1 Wrong Marks : 0.25

चमेरा बाँध _____ नदी पर बनाया गया है।

Options :

1. ✔ रवि
2. ✘ चनाब
3. ✘ सरस्वती
4. ✘ कृष्णा

Question Number : 59 Question Id : 927759601 Question Type : MCQ Option Shuffling : Yes Is Question Mandatory : No Option

Orientation : Vertical

Correct Marks : 1 Wrong Marks : 0.25

Which of the following soils requires least tilling because of its characteristic of self-ploughing?

Options :

1. ✓ Black
2. ✗ Alluvial
3. ✗ Laterite
4. ✗ Arid

Question Number : 59 Question Id : 927759601 Question Type : MCQ Option Shuffling : Yes Is Question Mandatory : No Option Orientation : Vertical

Correct Marks : 1 Wrong Marks : 0.25

निम्नलिखित में से किस मृदा में स्व-जुताई की विशेषता के कारण कम से कम जुताई की आवश्यकता होती है?

Options :

1. ✓ काली
2. ✗ जलोढ़
3. ✗ लैटेराइट
4. ✗ शुष्क

Question Number : 60 Question Id : 927759602 Question Type : MCQ Option Shuffling : Yes Is Question Mandatory : No Option Orientation : Vertical

Correct Marks : 1 Wrong Marks : 0.25

When was the Gandhi-Irwin Pact signed?

Options :

1. ✗ 1935
2. ✓ 1931
3. ✗ 1928
4. ✗ 1939

Question Number : 60 Question Id : 927759602 Question Type : MCQ Option Shuffling : Yes Is Question Mandatory : No Option Orientation : Vertical

Correct Marks : 1 Wrong Marks : 0.25

गांधी-इरविन समझौते पर हस्ताक्षर कब किए गए थे?

Options :

1. ✘ 1935
2. ✔ 1931
3. ✘ 1928
4. ✘ 1939

General Awareness2

Group Number :	4
Group Id :	92775914
Group Maximum Duration :	0
Group Minimum Duration :	0
Show Attended Group? :	No
Edit Attended Group? :	No
Break time :	0
Group Marks :	20
Is this Group for Examiner? :	No

General Awareness2

Section Id :	92775914
Section Number :	1
Section type :	Online
Mandatory or Optional :	Mandatory
Number of Questions :	20
Number of Questions to be attempted :	20
Section Marks :	20
Enable Mark as Answered Mark for Review and Clear Response :	Yes
Sub-Section Number :	1
Sub-Section Id :	92775916
Question Shuffling Allowed :	Yes

Question Number : 61 Question Id : 927759603 Question Type : MCQ Option Shuffling : Yes Is Question Mandatory : No Option Orientation : Vertical

Correct Marks : 1 Wrong Marks : 0.25

Who won the Battle of Chandawar?

Options :

1. ✘ Babur
2. ✘ Jayachandra
3. ✔ Muhammad Ghori
4. ✘ Ashoka

Question Number : 61 Question Id : 927759603 Question Type : MCQ Option Shuffling : Yes Is Question Mandatory : No Option Orientation : Vertical

Correct Marks : 1 Wrong Marks : 0.25

चंदावर का युद्ध किसने जीता था?

Options :

1. ✘ बाबर
2. ✘ जयचन्द्र
3. ✔ मोहम्मद गोरी
4. ✘ अशोक

Question Number : 62 Question Id : 927759604 Question Type : MCQ Option Shuffling : Yes Is Question Mandatory : No Option Orientation : Vertical

Correct Marks : 1 Wrong Marks : 0.25

The Treaty of Madras was signed between the British and _____.

Options :

1. ✔ Hyder Ali
2. ✘ Babur
3. ✘ Ashoka
4. ✘ Akbar

Question Number : 62 Question Id : 927759604 Question Type : MCQ Option Shuffling : Yes Is Question Mandatory : No Option Orientation : Vertical

Correct Marks : 1 Wrong Marks : 0.25

मद्रास की संधि पर ब्रिटिश और _____ के बीच हस्ताक्षर किए गए थे।

Options :

1. ✓ हैदर अली
2. ✗ बाबर
3. ✗ अशोक
4. ✗ अकबर

Question Number : 63 Question Id : 927759605 Question Type : MCQ Option Shuffling : Yes Is Question Mandatory : No Option Orientation : Vertical

Correct Marks : 1 Wrong Marks : 0.25

The Indian Home Rule movement was started by Bal Gangadhar Tilak in _____.

Options :

1. ✗ 1922
2. ✓ 1916
3. ✗ 1912
4. ✗ 1919

Question Number : 63 Question Id : 927759605 Question Type : MCQ Option Shuffling : Yes Is Question Mandatory : No Option Orientation : Vertical

Correct Marks : 1 Wrong Marks : 0.25

भारतीय होम रूल आन्दोलन की शुरुआत बाल गंगाधर तिलक ने _____ में की थी।

Options :

1. ✗ 1922
2. ✓ 1916
3. ✗ 1912
4. ✗ 1919

Question Number : 64 Question Id : 927759606 Question Type : MCQ Option Shuffling : Yes Is Question Mandatory : No Option Orientation : Vertical

Correct Marks : 1 Wrong Marks : 0.25

Who among the following was the founder of the Shunga Dynasty?

Options :

1. ✘ Simuka
2. ✘ Devabhuti
3. ✔ Pushyamitra
4. ✘ Agnimitra

Question Number : 64 Question Id : 927759606 Question Type : MCQ Option Shuffling : Yes Is Question Mandatory : No Option Orientation : Vertical

Correct Marks : 1 Wrong Marks : 0.25

निम्नलिखित में से कौन शुंग राजवंश का संस्थापक था?

Options :

1. ✘ सीमुक
2. ✘ देवभूति
3. ✔ पुष्यमित्र
4. ✘ अग्निमित्र

Question Number : 65 Question Id : 927759607 Question Type : MCQ Option Shuffling : Yes Is Question Mandatory : No Option Orientation : Vertical

Correct Marks : 1 Wrong Marks : 0.25

Which of the following was the capital of Kakatiyas?

Options :

1. ✘ Patliputra
2. ✘ Kalyani
3. ✘ Madurai
4. ✔ Warangal

Question Number : 65 Question Id : 927759607 Question Type : MCQ Option Shuffling : Yes Is Question Mandatory : No Option Orientation : Vertical

Correct Marks : 1 Wrong Marks : 0.25

निम्नलिखित में से कौन सी काकतीय की राजधानी थी?

Options :

1. ✘ पाटलिपुत्र
2. ✘ कल्याणी
3. ✘ मदुरई
4. ✔ वरंगल

Question Number : 66 Question Id : 927759608 Question Type : MCQ Option Shuffling : Yes Is Question Mandatory : No Option Orientation : Vertical

Correct Marks : 1 Wrong Marks : 0.25

What is the real name of Munshi Premchand?

Options :

1. ✘ Narendra Nath Datta
2. ✘ Satyanarayana Raju
3. ✘ Ramkrishna Yadav
4. ✔ Dhanpat Rai

Question Number : 66 Question Id : 927759608 Question Type : MCQ Option Shuffling : Yes Is Question Mandatory : No Option Orientation : Vertical

Correct Marks : 1 Wrong Marks : 0.25

मुंशी प्रेमचंद का वास्तविक नाम क्या है?

Options :

1. ✘ नरेन्द्र नाथ दत्त
2. ✘ सत्यनारायण राजू
3. ✘ रामकृष्ण यादव
4. ✔ धनपत राय

Question Number : 67 Question Id : 927759609 Question Type : MCQ Option Shuffling : Yes Is Question Mandatory : No Option Orientation : Vertical

Correct Marks : 1 Wrong Marks : 0.25

'Ace Against Odds' is an autobiography of which of the following sports-persons?

Options :

1. ✘ Milkha Singh

2. ✓ Sania Mirza
3. ✗ Saina Nehwal
4. ✗ Rahul Dravid

Question Number : 67 Question Id : 927759609 Question Type : MCQ Option Shuffling : Yes Is Question Mandatory : No Option Orientation : Vertical

Correct Marks : 1 Wrong Marks : 0.25

निम्नलिखित में से किस खिलाड़ी की आत्मकथा 'ऐस अगेंस्ट ऑड्स' है?

Options :

1. ✗ मिलखा सिंह
2. ✓ सानिया मिर्ज़ा
3. ✗ साइना नेहवाल
4. ✗ राहुल द्रविड़

Question Number : 68 Question Id : 927759610 Question Type : MCQ Option Shuffling : Yes Is Question Mandatory : No Option Orientation : Vertical

Correct Marks : 1 Wrong Marks : 0.25

_____ won the 65th Filmfare Awards 2020 in the 'Best Film' category.

Options :

1. ✗ Saand Ki Aankh
2. ✗ War
3. ✓ Gully Boy
4. ✗ Article 15

Question Number : 68 Question Id : 927759610 Question Type : MCQ Option Shuffling : Yes Is Question Mandatory : No Option Orientation : Vertical

Correct Marks : 1 Wrong Marks : 0.25

_____ ने 'सर्वश्रेष्ठ फिल्म' श्रेणी में 65वां फ़िल्मफ़ेयर पुरस्कार 2020 जीता।

Options :

1. ✗ सांड की आंख
2. ✗ वॉर

3. ✓ गली बॉय

4. ✗ आर्टिकल 15

Question Number : 69 Question Id : 927759611 Question Type : MCQ Option Shuffling : Yes Is Question Mandatory : No Option Orientation : Vertical

Correct Marks : 1 Wrong Marks : 0.25

Which of the following books is not written by Rudyard Kipling?

Options :

1. ✓ The White Tiger

2. ✗ The Elephant's Child

3. ✗ Captains Courageous

4. ✗ The Jungle Book

Question Number : 69 Question Id : 927759611 Question Type : MCQ Option Shuffling : Yes Is Question Mandatory : No Option Orientation : Vertical

Correct Marks : 1 Wrong Marks : 0.25

निम्नलिखित में से कौन सी पुस्तक रुडयार्ड किपलिंग द्वारा नहीं लिखी गई है?

Options :

1. ✓ द व्हाइट टाइगर

2. ✗ द एलीफैंट्स चाइल्ड

3. ✗ कैप्टेन करेजियस

4. ✗ द जंगल बुक

Question Number : 70 Question Id : 927759612 Question Type : MCQ Option Shuffling : Yes Is Question Mandatory : No Option Orientation : Vertical

Correct Marks : 1 Wrong Marks : 0.25

Who won the Oscar award in 2020 for the best performance by an actress in a supporting role?

Options :

1. ✗ Scarlett Johansson

2. ✗ Margot Robbie

3. ✗ Kathy Bates

4. ✓ Laura Dern

Question Number : 70 Question Id : 927759612 Question Type : MCQ Option Shuffling : Yes Is Question Mandatory : No Option Orientation : Vertical

Correct Marks : 1 Wrong Marks : 0.25

सहायक भूमिका में अभिनेत्री द्वारा सर्वश्रेष्ठ प्रदर्शन के लिए 2020 में ऑस्कर पुरस्कार किसने जीता?

Options :

1. ✘ स्कार्लेट जोहानसन
2. ✘ मार्गो रॉबी
3. ✘ कैथी बेट्स
4. ✓ लौरा डर्न

Question Number : 71 Question Id : 927759613 Question Type : MCQ Option Shuffling : Yes Is Question Mandatory : No Option Orientation : Vertical

Correct Marks : 1 Wrong Marks : 0.25

Shanti Van' is the memorial of which of the following leader?

Options :

1. ✘ Mahatma Gandhi
2. ✘ Lal Bahadur Shastri
3. ✘ Rajiv Gandhi
4. ✓ Jawaharlal Nehru

Question Number : 71 Question Id : 927759613 Question Type : MCQ Option Shuffling : Yes Is Question Mandatory : No Option Orientation : Vertical

Correct Marks : 1 Wrong Marks : 0.25

शांति वन' निम्नलिखित में से किस नेता का स्मारक है?

Options :

1. ✘ महात्मा गांधी
2. ✘ लालबहादुर शास्त्री
3. ✘ राजीव गांधी
4. ✓ जवाहरलाल नेहरू

Question Number : 72 Question Id : 927759614 Question Type : MCQ Option Shuffling : Yes Is Question Mandatory : No Option Orientation : Vertical

Correct Marks : 1 Wrong Marks : 0.25

Which of the following parts of the Indian Constitution deals with elections?

Options :

1. ✘ XVI
2. ✘ XIII
3. ✘ XIV
4. ✔ XV

Question Number : 72 Question Id : 927759614 Question Type : MCQ Option Shuffling : Yes Is Question Mandatory : No Option Orientation : Vertical

Correct Marks : 1 Wrong Marks : 0.25

भारतीय संविधान के निम्नलिखित भागों में से कौन सा चुनाव से संबंधित है?

Options :

1. ✘ XVI
2. ✘ XIII
3. ✘ XIV
4. ✔ XV

Question Number : 73 Question Id : 927759615 Question Type : MCQ Option Shuffling : Yes Is Question Mandatory : No Option Orientation : Vertical

Correct Marks : 1 Wrong Marks : 0.25

Which Constitutional Amendment reduced the voting age from 21 years to 18 years for the Lok Sabha?

Options :

1. ✔ 61st
2. ✘ 59th
3. ✘ 65th
4. ✘ 54th

Question Number : 73 Question Id : 927759615 Question Type : MCQ Option Shuffling : Yes Is Question Mandatory : No Option

Orientation : Vertical

Correct Marks : 1 Wrong Marks : 0.25

किस संवैधानिक संशोधन ने लोकसभा के लिए मतदान की आयु 21 वर्ष से घटाकर 18 वर्ष कर दी?

Options :

1. ✓ 61वें
2. ✗ 59वें
3. ✗ 65वें
4. ✗ 54वें

Question Number : 74 Question Id : 927759616 Question Type : MCQ Option Shuffling : Yes Is Question Mandatory : No Option

Orientation : Vertical

Correct Marks : 1 Wrong Marks : 0.25

When was the Indian National Flag adopted?

Options :

1. ✗ 15 December 1946
2. ✗ 15 August 1946
3. ✓ 22 July 1947
4. ✗ 22 January 1947

Question Number : 74 Question Id : 927759616 Question Type : MCQ Option Shuffling : Yes Is Question Mandatory : No Option

Orientation : Vertical

Correct Marks : 1 Wrong Marks : 0.25

भारतीय राष्ट्रीय ध्वज कब अपनाया गया था?

Options :

1. ✗ 15 दिसंबर 1946
2. ✗ 15 अगस्त 1946
3. ✓ 22 जुलाई 1947
4. ✗ 22 जनवरी 1947

Question Number : 75 Question Id : 927759617 Question Type : MCQ Option Shuffling : Yes Is Question Mandatory : No Option

Orientation : Vertical

Correct Marks : 1 Wrong Marks : 0.25

The concept of 'Concurrent List' of the Indian Constitution is borrowed from the constitution of _____.

Options :

1. ✘ France
2. ✔ Australia
3. ✘ Germany
4. ✘ United States of America

Question Number : 75 Question Id : 927759617 Question Type : MCQ Option Shuffling : Yes Is Question Mandatory : No Option Orientation : Vertical

Correct Marks : 1 Wrong Marks : 0.25

भारतीय संविधान की 'समवर्ती सूची' की संकल्पना _____ के संविधान से उधार ली गई है।

Options :

1. ✘ फ्रांस
2. ✔ ऑस्ट्रेलिया
3. ✘ जर्मनी
4. ✘ संयुक्त राज्य अमेरिका

Question Number : 76 Question Id : 927759618 Question Type : MCQ Option Shuffling : Yes Is Question Mandatory : No Option Orientation : Vertical

Correct Marks : 1 Wrong Marks : 0.25

Which among the following states will host the forthcoming Hero Indian Women's League 2020-21 edition as announced by All India Football Federation?

Options :

1. ✘ West Bengal
2. ✔ Odisha
3. ✘ Tamil Nadu
4. ✘ Rajasthan

Question Number : 76 Question Id : 927759618 Question Type : MCQ Option Shuffling : Yes Is Question Mandatory : No Option Orientation : Vertical

Correct Marks : 1 Wrong Marks : 0.25

निम्नलिखित में से कौन सा राज्य अखिल भारतीय फुटबॉल महासंघ द्वारा घोषित आगामी हीरो इंडियन वुमन लीग 2020-21 संस्करण की मेजबानी करेगा?

Options :

1. ✘ पश्चिम बंगाल
2. ✔ ओडिशा
3. ✘ तमिल नाडु
4. ✘ राजस्थान

Question Number : 77 Question Id : 927759619 Question Type : MCQ Option Shuffling : Yes Is Question Mandatory : No Option Orientation : Vertical

Correct Marks : 1 Wrong Marks : 0.25

What is the motto of the 2020 Tokyo Olympics which is scheduled to be held in July-August 2021?

Options :

1. ✘ United we stand
2. ✘ Divided we fall
3. ✔ United by emotion
4. ✘ United as one

Question Number : 77 Question Id : 927759619 Question Type : MCQ Option Shuffling : Yes Is Question Mandatory : No Option Orientation : Vertical

Correct Marks : 1 Wrong Marks : 0.25

2020 टोक्यो ओलंपिक का आदर्श वाक्य क्या है जो जुलाई-अगस्त 2021 में होने वाला है?

Options :

1. ✘ यूनाइटेड वी स्टैंड
2. ✘ डिवाइडेड वी फॉल
3. ✔ यूनाइटेड बाय इमोशन
4. ✘ यूनाइटेड एज वन

Question Number : 78 Question Id : 927759620 Question Type : MCQ Option Shuffling : Yes Is Question Mandatory : No Option Orientation : Vertical

Correct Marks : 1 Wrong Marks : 0.25

Ryder Cup is associated with which of the following sports?

Options :

1. ✘ Tennis
2. ✘ Hockey
3. ✘ Badminton
4. ✔ Golf

Question Number : 78 Question Id : 927759620 Question Type : MCQ Option Shuffling : Yes Is Question Mandatory : No Option Orientation : Vertical

Correct Marks : 1 Wrong Marks : 0.25

निम्नलिखित में से किस खेल से राइडर कप जुड़ा है?

Options :

1. ✘ टेनिस
2. ✘ हॉकी
3. ✘ बैडमिंटन
4. ✔ गोल्फ़

Question Number : 79 Question Id : 927759621 Question Type : MCQ Option Shuffling : Yes Is Question Mandatory : No Option Orientation : Vertical

Correct Marks : 1 Wrong Marks : 0.25

Who won the ITTF Challenger Plus Oman Open men's singles title in the year 2020?

Options :

1. ✔ Achanta Sharath Kamal
2. ✘ Marcos Freitas
3. ✘ Anthony Amalraj
4. ✘ Soumyajit Ghosh

Question Number : 79 Question Id : 927759621 Question Type : MCQ Option Shuffling : Yes Is Question Mandatory : No Option Orientation : Vertical

Correct Marks : 1 Wrong Marks : 0.25

वर्ष 2020 में ITTF चैलेंजर प्लस ओमान ओपन पुरुष एकल का खिताब किसने जीता?

Options :

1. ✓ अचंत शरत कमल
2. ✘ मार्कोस फ्रीटास
3. ✘ एंथोनी अमलराज
4. ✘ सौम्यजीत घोष

Question Number : 80 Question Id : 927759622 Question Type : MCQ Option Shuffling : Yes Is Question Mandatory : No Option Orientation : Vertical

Correct Marks : 1 Wrong Marks : 0.25

Which cricketer became the first player to play 100 matches in all 3 formats of international cricket?

Options :

1. ✘ Sachin Tendulkar
2. ✘ Rohit Sharma
3. ✓ Ross Taylor
4. ✘ Virat Kohli

Question Number : 80 Question Id : 927759622 Question Type : MCQ Option Shuffling : Yes Is Question Mandatory : No Option Orientation : Vertical

Correct Marks : 1 Wrong Marks : 0.25

कौन सा क्रिकेटर, अंतरराष्ट्रीय क्रिकेट के सभी 3 प्रारूपों में 100 मैच खेलने वाला पहला खिलाड़ी बने?

Options :

1. ✘ सचिन तेंदुलकर
2. ✘ रोहित शर्मा
3. ✓ रॉस टेलर
4. ✘ विराट कोहली

Arithmetic Ability1

Group Number :	5
Group Id :	92775915
Group Maximum Duration :	0
Group Minimum Duration :	0

Show Attended Group? :	No
Edit Attended Group? :	No
Break time :	0
Group Marks :	20
Is this Group for Examiner? :	No

Arithmetic Ability1

Section Id :	92775915
Section Number :	1
Section type :	Online
Mandatory or Optional :	Mandatory
Number of Questions :	20
Number of Questions to be attempted :	20
Section Marks :	20
Enable Mark as Answered Mark for Review and Clear Response :	Yes
Sub-Section Number :	1
Sub-Section Id :	92775917
Question Shuffling Allowed :	Yes

Question Number : 81 Question Id : 927759623 Question Type : MCQ Option Shuffling : Yes Is Question Mandatory : No Option Orientation : Vertical

Correct Marks : 1 Wrong Marks : 0.25

What is the least number which must be added-to 1284 to make it a perfect square?

Options :

1. ✘ 59
2. ✔ 12
3. ✘ 107
4. ✘ 85

Question Number : 81 Question Id : 927759623 Question Type : MCQ Option Shuffling : Yes Is Question Mandatory : No Option Orientation : Vertical

Correct Marks : 1 Wrong Marks : 0.25

न्यूनतम संख्या क्या है जिसे 1284 में जोड़ा जाना चाहिए ताकि यह पूर्ण वर्ग बन सके ?

Options :

1. ✘ 59
2. ✔ 12
3. ✘ 107
4. ✘ 85

Question Number : 82 Question Id : 927759624 Question Type : MCQ Option Shuffling : Yes Is Question Mandatory : No Option Orientation : Vertical

Correct Marks : 1 Wrong Marks : 0.25

A number 146281354a is divisible by 9. What can be the minimum value of 'a'?

Options :

1. ✔ 2
2. ✘ 1
3. ✘ 4
4. ✘ 5

Question Number : 82 Question Id : 927759624 Question Type : MCQ Option Shuffling : Yes Is Question Mandatory : No Option Orientation : Vertical

Correct Marks : 1 Wrong Marks : 0.25

संख्या 146281354a 9 से विभाज्य है। 'a' का न्यूनतम मान क्या हो सकता है?

Options :

1. ✔ 2
2. ✘ 1
3. ✘ 4
4. ✘ 5

Question Number : 83 Question Id : 927759625 Question Type : MCQ Option Shuffling : Yes Is Question Mandatory : No Option Orientation : Vertical

Correct Marks : 1 Wrong Marks : 0.25

If the fraction $\frac{1}{4}$, $\frac{2}{5}$, $\frac{1}{6}$, $\frac{4}{9}$ and $\frac{4}{13}$ are arranged in ascending order of their values, then which one will be the third?

Options :

1. ✖ 1/4
2. ✖ 2/5
3. ✔ 4/13
4. ✖ 4/9

Question Number : 83 Question Id : 927759625 Question Type : MCQ Option Shuffling : Yes Is Question Mandatory : No Option Orientation : Vertical

Correct Marks : 1 Wrong Marks : 0.25

यदि भिन्न $1/4$, $2/5$, $1/6$, $4/9$ और $4/13$ को उनके मान के आरोही क्रम में व्यवस्थित किए जाते हैं, तो तीसरा कौन सा होगा?

Options :

1. ✖ 1/4
2. ✖ 2/5
3. ✔ 4/13
4. ✖ 4/9

Question Number : 84 Question Id : 927759626 Question Type : MCQ Option Shuffling : Yes Is Question Mandatory : No Option Orientation : Vertical

Correct Marks : 1 Wrong Marks : 0.25

In a division problem, the quotient is 7 times the divisor and the divisor is 1 more than the remainder. If the remainder is 2, then what is the dividend?

Options :

1. ✖ 63
2. ✔ 65
3. ✖ 54
4. ✖ 55

Question Number : 84 Question Id : 927759626 Question Type : MCQ Option Shuffling : Yes Is Question Mandatory : No Option Orientation : Vertical

Correct Marks : 1 Wrong Marks : 0.25

भाग के प्रश्न में, भागफल भाजक का 7 गुना है और भाजक शेषफल से 1 अधिक है। यदि शेषफल 2 है, तो भाज्य क्या है?

Options :

1. ✖ 63

2. ✓ 65

3. ✗ 54

4. ✗ 55

Question Number : 85 Question Id : 927759627 Question Type : MCQ Option Shuffling : Yes Is Question Mandatory : No Option Orientation : Vertical

Correct Marks : 1 Wrong Marks : 0.25

In a two digit number, the digit at ten's place is 1 less than twice the digit at the unit's place. If the digit at unit's and ten's places are interchanged, the difference between original number and new number is 20 less than the new number. What is the original number?

Options :

1. ✗ 32

2. ✗ 53

3. ✗ 95

4. ✓ 74

Question Number : 85 Question Id : 927759627 Question Type : MCQ Option Shuffling : Yes Is Question Mandatory : No Option Orientation : Vertical

Correct Marks : 1 Wrong Marks : 0.25

दो अंकों की संख्या में, दस के स्थान पर का अंक, इकाई के स्थान पर के अंक से दो गुना से 1 कम है। यदि इकाई और दस के स्थानों पर के अंकों को परस्पर बदला जाता है, तो मूल संख्या और नई संख्या के बीच का अंतर नई संख्या से 20 कम है। मूल संख्या क्या है?

Options :

1. ✗ 32

2. ✗ 53

3. ✗ 95

4. ✓ 74

Question Number : 86 Question Id : 927759628 Question Type : MCQ Option Shuffling : Yes Is Question Mandatory : No Option Orientation : Vertical

Correct Marks : 1 Wrong Marks : 0.25

The denominator of a fraction is 1 less than twice the numerator. If the numerator increases by 3 and denominator decreases by 1 than the new fraction becomes 1. What is the original fraction?

Options :

1. ✓ 5/9
2. ✗ 4/7
3. ✗ 3/5
4. ✗ 2/3

Question Number : 86 Question Id : 927759628 Question Type : MCQ Option Shuffling : Yes Is Question Mandatory : No Option Orientation : Vertical

Correct Marks : 1 Wrong Marks : 0.25

एक भिन्न का हर, अंश से दोगुना से 1 कम है। यदि अंश को 3 से बढ़ाया जाता है और हर को 1 से घटाया जाता है तो नया भिन्न 1 बन जाता है। मूल भिन्न क्या है?

Options :

1. ✓ 5/9
2. ✗ 4/7
3. ✗ 3/5
4. ✗ 2/3

Question Number : 87 Question Id : 927759629 Question Type : MCQ Option Shuffling : Yes Is Question Mandatory : No Option Orientation : Vertical

Correct Marks : 1 Wrong Marks : 0.25

$(\frac{6}{7})\{8 \times 5 - 36 \div 3\}$ का $(\frac{1}{3})$ क्या है?

Options :

1. ✗ 16
2. ✗ 9
3. ✗ 12
4. ✓ 8

Question Number : 87 Question Id : 927759629 Question Type : MCQ Option Shuffling : Yes Is Question Mandatory : No Option Orientation : Vertical

Correct Marks : 1 Wrong Marks : 0.25

What is $(\frac{1}{3})$ of $(\frac{6}{7})\{8 \times 5 - 36 \div 3\}$?

Options :

1. ✗ 16
2. ✗ 9

3. ✘ 12

4. ✔ 8

Question Number : 88 Question Id : 927759630 Question Type : MCQ Option Shuffling : Yes Is Question Mandatory : No Option Orientation : Vertical

Correct Marks : 1 Wrong Marks : 0.25

What is the greatest 6-digit number which is a multiple of 17?

Options :

1. ✘ 999982

2. ✘ 999999

3. ✘ 999998

4. ✔ 999991

Question Number : 88 Question Id : 927759630 Question Type : MCQ Option Shuffling : Yes Is Question Mandatory : No Option Orientation : Vertical

Correct Marks : 1 Wrong Marks : 0.25

सबसे बड़ी 6-अंकीय संख्या क्या है जो 17 का गुणज है?

Options :

1. ✘ 999982

2. ✘ 999999

3. ✘ 999998

4. ✔ 999991

Question Number : 89 Question Id : 927759631 Question Type : MCQ Option Shuffling : Yes Is Question Mandatory : No Option Orientation : Vertical

Correct Marks : 1 Wrong Marks : 0.25

What is the minimum number of square tiles required to cover the floor of a hall whose length is 7m 84cm and width is 3m 64cm?

Options :

1. ✔ 364

2. ✘ 28

3. ✘ 784

4. ✘ 637

Question Number : 89 Question Id : 927759631 Question Type : MCQ Option Shuffling : Yes Is Question Mandatory : No Option Orientation : Vertical

Correct Marks : 1 Wrong Marks : 0.25

एक हॉल के फर्श को आवृत (कवर) करने के लिए आवश्यक चौकोर टाइल्स की न्यूनतम संख्या क्या है जिसकी लंबाई 7m 84m और चौड़ाई 3m 64cm है?

Options :

1. ✔ 364

2. ✘ 28

3. ✘ 784

4. ✘ 637

Question Number : 90 Question Id : 927759632 Question Type : MCQ Option Shuffling : Yes Is Question Mandatory : No Option Orientation : Vertical

Correct Marks : 1 Wrong Marks : 0.25

What is the equivalent single discount percent to two successive discounts of 40 percent and 20 percent?

Options :

1. ✘ 60 percent

2. ✘ 30 percent

3. ✘ 48 percent

4. ✔ 52 percent

Question Number : 90 Question Id : 927759632 Question Type : MCQ Option Shuffling : Yes Is Question Mandatory : No Option Orientation : Vertical

Correct Marks : 1 Wrong Marks : 0.25

40 प्रतिशत और 20 प्रतिशत की दो क्रमिक छूट के लिए समकक्ष एकल छूट प्रतिशत क्या है?

Options :

1. ✘ 60 प्रतिशत

2. ✘ 30 प्रतिशत

3. ✘ 48 प्रतिशत

4. ✔ 52 प्रतिशत

Question Number : 91 Question Id : 927759633 Question Type : MCQ Option Shuffling : Yes Is Question Mandatory : No Option Orientation : Vertical

Correct Marks : 1 Wrong Marks : 0.25

Raju went for shopping and saved Rs. 3 in buying a toy. If he spent Rs. 27 for the toy, then how much percent he saved in this transaction?

Options :

1. ✘ 9 percent
2. ✔ 10 percent
3. ✘ 11 percent
4. ✘ 12 percent

Question Number : 91 Question Id : 927759633 Question Type : MCQ Option Shuffling : Yes Is Question Mandatory : No Option Orientation : Vertical

Correct Marks : 1 Wrong Marks : 0.25

राजू खरीदारी के लिए गया और खिलौना खरीदने में 3 रुपए बचाए। यदि उसने खिलौने के लिए 27 रुपए खर्च किए, तो उसने इस लेनदेन में कितना प्रतिशत बचाया?

Options :

1. ✘ 9 प्रतिशत
2. ✔ 10 प्रतिशत
3. ✘ 11 प्रतिशत
4. ✘ 12 प्रतिशत

Question Number : 92 Question Id : 927759634 Question Type : MCQ Option Shuffling : Yes Is Question Mandatory : No Option Orientation : Vertical

Correct Marks : 1 Wrong Marks : 0.25

If Chinmay comes in place of one person weighing 55 Kg in a group of 6 people, then the average weight increases by 3.5 Kg. So what is the weight of Chinmay?

Options :

1. ✘ 21 Kg
2. ✘ 55 Kg
3. ✔ 76 Kg
4. ✘ 58 Kg

Question Number : 92 Question Id : 927759634 Question Type : MCQ Option Shuffling : Yes Is Question Mandatory : No Option Orientation : Vertical

Correct Marks : 1 Wrong Marks : 0.25

यदि चिन्मय 6 लोगों के समूह में 55 kg वजन वाले एक व्यक्ति के स्थान पर आता है, तो औसत वजन 3.5 kg बढ़ता है। तो चिन्मय का वजन क्या है?

Options :

1. ✘ 21 Kg
2. ✘ 55 Kg
3. ✔ 76 Kg
4. ✘ 58 Kg

Question Number : 93 Question Id : 927759635 Question Type : MCQ Option Shuffling : Yes Is Question Mandatory : No Option Orientation : Vertical

Correct Marks : 1 Wrong Marks : 0.25

A fruit seller had some pineapples . He sells 25 percent pineapples and still has 480 pineapples. Originally, how much pineapples he had?

Options :

1. ✘ 555
2. ✘ 505
3. ✔ 640
4. ✘ 660

Question Number : 93 Question Id : 927759635 Question Type : MCQ Option Shuffling : Yes Is Question Mandatory : No Option Orientation : Vertical

Correct Marks : 1 Wrong Marks : 0.25

एक फल विक्रेता के पास कुछ अनानास थे। वह 25 प्रतिशत अनानास बेचता है और अभी भी उसके पास 480 अनानास है। मूल रूप से, उसके पास कितने अनानास थे?

Options :

1. ✘ 555
2. ✘ 505
3. ✔ 640
4. ✘ 660

Question Number : 94 Question Id : 927759636 Question Type : MCQ Option Shuffling : Yes Is Question Mandatory : No Option Orientation : Vertical

Correct Marks : 1 Wrong Marks : 0.25

Three candidates contested in a town election and received 2550, 5640 and 3810 votes respectively. What percentage of the total votes did the winning candidate get?

Options :

1. ✓ 47 percent
2. ✗ 60 percent
3. ✗ 57 percent
4. ✗ 65 percent

Question Number : 94 Question Id : 927759636 Question Type : MCQ Option Shuffling : Yes Is Question Mandatory : No Option Orientation : Vertical

Correct Marks : 1 Wrong Marks : 0.25

तीन उम्मीदवारों ने एक नगर चुनाव में चुनाव लड़ा और उन्हें क्रमशः 2550, 5640 और 3810 वोट मिले। जीतने वाले उम्मीदवार को कुल वोटों का कितना प्रतिशत मिला?

Options :

1. ✓ 47 प्रतिशत
2. ✗ 60 प्रतिशत
3. ✗ 57 प्रतिशत
4. ✗ 65 प्रतिशत

Question Number : 95 Question Id : 927759637 Question Type : MCQ Option Shuffling : Yes Is Question Mandatory : No Option Orientation : Vertical

Correct Marks : 1 Wrong Marks : 0.25

The population of a city increased from 280000 to 392000 in 5 years. What is the arithmetic average percent increase of population per year?

Options :

1. ✗ 18 percent
2. ✗ 12 percent
3. ✗ 10 percent
4. ✓ 8 percent

Question Number : 95 Question Id : 927759637 Question Type : MCQ Option Shuffling : Yes Is Question Mandatory : No Option Orientation : Vertical

Correct Marks : 1 Wrong Marks : 0.25

एक शहर की जनसंख्या 5 वर्षों में 280000 से बढ़कर 392000 हो गई। प्रति वर्ष जनसंख्या की अंकगणितीय औसत प्रतिशत वृद्धि क्या है?

Options :

1. ✘ 18 प्रतिशत
2. ✘ 12 प्रतिशत
3. ✘ 10 प्रतिशत
4. ✔ 8 प्रतिशत

Question Number : 96 Question Id : 927759638 Question Type : MCQ Option Shuffling : Yes Is Question Mandatory : No Option Orientation : Vertical

Correct Marks : 1 Wrong Marks : 0.25

The selling price of 15 chains is equal to the cost price of 12 chains. What is the gain percent or loss percent?

Options :

1. ✘ Gain of 20 percent
2. ✘ Loss of 15 percent
3. ✘ Gain of 15 percent
4. ✔ Loss of 20 percent

Question Number : 96 Question Id : 927759638 Question Type : MCQ Option Shuffling : Yes Is Question Mandatory : No Option Orientation : Vertical

Correct Marks : 1 Wrong Marks : 0.25

15 चेन का विक्रय मूल्य 12 चेन के लागत मूल्य के बराबर है। लाभ प्रतिशत या हानि प्रतिशत क्या है?

Options :

1. ✘ 20 प्रतिशत का लाभ
2. ✘ 15 प्रतिशत की हानि
3. ✘ 15 प्रतिशत का लाभ
4. ✔ 20 प्रतिशत की हानि

Question Number : 97 Question Id : 927759639 Question Type : MCQ Option Shuffling : Yes Is Question Mandatory : No Option Orientation : Vertical

Correct Marks : 1 Wrong Marks : 0.25

On selling 54 toys at Rs. 4116, there is a loss which is equal to the cost price of 5 toys. What is the cost price of a toy?

Options :

1. ✓ Rs. 84
2. ✗ Rs. 49
3. ✗ Rs. 54
4. ✗ Rs. 48

Question Number : 97 Question Id : 927759639 Question Type : MCQ Option Shuffling : Yes Is Question Mandatory : No Option Orientation : Vertical

Correct Marks : 1 Wrong Marks : 0.25

54 खिलौनों को 4116 रुपए में बेचने पर, एक हानि होती है जो 5 खिलौनों के लागत मूल्य के बराबर है। खिलौने की लागत मूल्य क्या है?

Options :

1. ✓ 84 रुपए
2. ✗ 49 रुपए
3. ✗ 54 रुपए
4. ✗ 48 रुपए

Question Number : 98 Question Id : 927759640 Question Type : MCQ Option Shuffling : Yes Is Question Mandatory : No Option Orientation : Vertical

Correct Marks : 1 Wrong Marks : 0.25

A mobile phone was sold at a loss of 8 percent. If it was sold for Rs. 2220 more, there would have been a gain of 16 percent. What is the cost price?

Options :

1. ✗ Rs. 8250
2. ✗ Rs. 7030
3. ✓ Rs. 9250
4. ✗ Rs. 11470

Question Number : 98 Question Id : 927759640 Question Type : MCQ Option Shuffling : Yes Is Question Mandatory : No Option Orientation : Vertical

Correct Marks : 1 Wrong Marks : 0.25

एक मोबाइल फोन 8 प्रतिशत की हानि पर बेचा गया था। यदि इसे 2220 रुपए अधिक में बेचा जाता तो 16 प्रतिशत का लाभ होता है। लागत मूल्य क्या है?

Options :

1. ✘ 8250 रुपए
2. ✘ 7030 रुपए
3. ✔ 9250 रुपए
4. ✘ 11470 रुपए

Question Number : 99 Question Id : 927759641 Question Type : MCQ Option Shuffling : Yes Is Question Mandatory : No Option Orientation : Vertical

Correct Marks : 1 Wrong Marks : 0.25

A sum of money is to be distributed among P, Q and R in the proportion of 2:3:7. If R gets Rs. 1800 more than P, What is the Q's share?

Options :

1. ✘ Rs. 720
2. ✔ Rs. 1080
3. ✘ Rs. 2520
4. ✘ Rs. 360

Question Number : 99 Question Id : 927759641 Question Type : MCQ Option Shuffling : Yes Is Question Mandatory : No Option Orientation : Vertical

Correct Marks : 1 Wrong Marks : 0.25

2:3:7 के अनुपात में P, Q और R के बीच धनराशि वितरित की जानी है। यदि R को P से 1800 रुपए अधिक मिलते हैं, Q का हिस्सा क्या है?

Options :

1. ✘ 720 रुपए
2. ✔ 1080 रुपए
3. ✘ 2520 रुपए
4. ✘ 360 रुपए

Question Number : 100 Question Id : 927759642 Question Type : MCQ Option Shuffling : Yes Is Question Mandatory : No Option Orientation : Vertical

Correct Marks : 1 Wrong Marks : 0.25

The ratio of the number of male and female employee in a company is 12:13. If the percentage increase in the number of male and female be 10

percent and 20 percent respectively. What will be the new ratio?

Options :

1. ✓ 11:13
2. ✗ 13:12
3. ✗ 10:13
4. ✗ 12:13

Question Number : 100 Question Id : 927759642 Question Type : MCQ Option Shuffling : Yes Is Question Mandatory : No Option Orientation : Vertical

Correct Marks : 1 Wrong Marks : 0.25

एक कंपनी में पुरुष और महिला कर्मचारी की संख्या का अनुपात 12:13 है। यदि पुरुष और महिला की संख्या में प्रतिशत वृद्धि क्रमशः 10 प्रतिशत और 20 प्रतिशत हो। तो नया अनुपात क्या होगा?

Options :

1. ✓ 11:13
2. ✗ 13:12
3. ✗ 10:13
4. ✗ 12:13

Arithmetic Ability2

Group Number :	6
Group Id :	92775916
Group Maximum Duration :	0
Group Minimum Duration :	0
Show Attended Group? :	No
Edit Attended Group? :	No
Break time :	0
Group Marks :	20
Is this Group for Examiner? :	No

Arithmetic Ability2

Section Id :	92775916
Section Number :	1
Section type :	Online
Mandatory or Optional :	Mandatory
Number of Questions :	20
Number of Questions to be attempted :	20
Section Marks :	20
Enable Mark as Answered Mark for Review and Clear Response :	Yes
Sub-Section Number :	1
Sub-Section Id :	92775918
Question Shuffling Allowed :	Yes

Question Number : 101 Question Id : 927759643 Question Type : MCQ Option Shuffling : Yes Is Question Mandatory : No Option Orientation : Vertical

Correct Marks : 1 Wrong Marks : 0.25

The sum of three numbers is 112. If the ratio of the first to second is 3:4 and that of the second to the third 4:7, then what is the second number?

Options :

1. ✘ 24
2. ✔ 32
3. ✘ 56
4. ✘ 28

Question Number : 101 Question Id : 927759643 Question Type : MCQ Option Shuffling : Yes Is Question Mandatory : No Option Orientation : Vertical

Correct Marks : 1 Wrong Marks : 0.25

तीन संख्याओं का योग 112 है। यदि पहली से दूसरी संख्या का अनुपात 3:4 है और दूसरी से तीसरी का अनुपात 4:7 है, तो दूसरी संख्या क्या है?

Options :

1. ✘ 24
2. ✔ 32
3. ✘ 56
4. ✘ 28

Question Number : 102 Question Id : 927759644 Question Type : MCQ Option Shuffling : Yes Is Question Mandatory : No Option Orientation : Vertical

Correct Marks : 1 Wrong Marks : 0.25

Narendra took a loan of Rs. 2000 with simple interest for as many years as the rate of the interest. If he paid Rs. 500 as interest at the end of the loan period, what was the rate of interest?

Options :

1. ✘ 2 percent
2. ✘ 3 percent
3. ✘ 4 percent
4. ✔ 5 percent

Question Number : 102 Question Id : 927759644 Question Type : MCQ Option Shuffling : Yes Is Question Mandatory : No Option Orientation : Vertical

Correct Marks : 1 Wrong Marks : 0.25

नरेन्द्र ने ब्याज की दर जीतना कई वर्षों के लिए साधारण ब्याज के साथ 2000 रुपए का ऋण लिया। यदि उसने ऋण अवधि के अंत में ब्याज के रूप में 500 रुपए का भुगतान किया, तो ब्याज दर क्या थी?

Options :

1. ✘ 2 प्रतिशत
2. ✘ 3 प्रतिशत
3. ✘ 4 प्रतिशत
4. ✔ 5 प्रतिशत

Question Number : 103 Question Id : 927759645 Question Type : MCQ Option Shuffling : Yes Is Question Mandatory : No Option Orientation : Vertical

Correct Marks : 1 Wrong Marks : 0.25

The simple interest on a certain sum for 4 years is Rs. 320 and the compound interest on the same sum for 2 years is Rs. 175. What is the rate percent per annum?

Options :

1. ✘ $16\frac{3}{4}$ percent
2. ✘ 18 percent
3. ✔ $18\frac{3}{4}$ percent

4. ✘ $16\frac{1}{4}$ percent

Question Number : 103 Question Id : 927759645 Question Type : MCQ Option Shuffling : Yes Is Question Mandatory : No Option Orientation : Vertical

Correct Marks : 1 Wrong Marks : 0.25

4 वर्षों के लिए एक निश्चित राशि पर साधारण ब्याज 320 रुपए है और 2 वर्ष के लिए वही राशि पर चक्रवृद्धि ब्याज 175 रुपए है। प्रति वर्ष की दर प्रतिशत क्या है?

Options :

1. ✘ $16\frac{3}{4}$ प्रतिशत

2. ✘ 18 प्रतिशत

3. ✔ $18\frac{3}{4}$ प्रतिशत

4. ✘ $16\frac{1}{4}$ प्रतिशत

Question Number : 104 Question Id : 927759646 Question Type : MCQ Option Shuffling : Yes Is Question Mandatory : No Option Orientation : Vertical

Correct Marks : 1 Wrong Marks : 0.25

The compound interest on Rs. 12000 at 5 percent per annum is Rs. 1230, then what is the time period?

Options :

1. ✘ 1 year

2. ✔ 2 years

3. ✘ 3 years

4. ✘ 4 years

Question Number : 104 Question Id : 927759646 Question Type : MCQ Option Shuffling : Yes Is Question Mandatory : No Option Orientation : Vertical

Correct Marks : 1 Wrong Marks : 0.25

5 प्रतिशत प्रति वर्ष पर 12000 रुपए के लिए चक्रवृद्धि ब्याज 1230 रुपए है, तो समय अवधि क्या है?

Options :

1. ✘ 1 वर्ष

2. ✔ 2 वर्ष

3. ✘ 3 वर्ष

4. ✘ 4 वर्ष

Question Number : 105 Question Id : 927759647 Question Type : MCQ Option Shuffling : Yes Is Question Mandatory : No Option Orientation : Vertical

Correct Marks : 1 Wrong Marks : 0.25

Piyush walking on a road at the speed of 5 Km per hour. How much time he will take to cross a 50000 cm long road?

Options :

1. ✘ 5 minutes
2. ✘ 4 minutes
3. ✔ 6 minutes
4. ✘ 10 minutes

Question Number : 105 Question Id : 927759647 Question Type : MCQ Option Shuffling : Yes Is Question Mandatory : No Option Orientation : Vertical

Correct Marks : 1 Wrong Marks : 0.25

पीयूष 5 km प्रति घंटे की रफ्तार से सड़क पर चल रहा है। 50000 cm लंबी सड़क को पार करने में उसे कितना समय लगेगा?

Options :

1. ✘ 5 मिनट
2. ✘ 4 मिनट
3. ✔ 6 मिनट
4. ✘ 10 मिनट

Question Number : 106 Question Id : 927759648 Question Type : MCQ Option Shuffling : Yes Is Question Mandatory : No Option Orientation : Vertical

Correct Marks : 1 Wrong Marks : 0.25

If a women walks at 12 km/hr instead of 9 km/hr, she would have walked 12 km more. What is the actual distance travelled by her?

Options :

1. ✘ 40 km
2. ✘ 30 km
3. ✘ 24 km
4. ✔ 36 km

Question Number : 106 Question Id : 927759648 Question Type : MCQ Option Shuffling : Yes Is Question Mandatory : No Option

Orientation : Vertical

Correct Marks : 1 Wrong Marks : 0.25

यदि कोई महिला 9 km/hr के बजाय 12 km/hr की गति पर चलती, तो वह 12 km अधिक चल सकती थी। उसके द्वारा यात्रा की जाने वाली वास्तविक दूरी क्या है?

Options :

1. ✘ 40 km
2. ✘ 30 km
3. ✘ 24 km
4. ✔ 36 km

Question Number : 107 Question Id : 927759649 Question Type : MCQ Option Shuffling : Yes Is Question Mandatory : No Option

Orientation : Vertical

Correct Marks : 1 Wrong Marks : 0.25

Ankit complete a journey in 36 hours. He travels one-fourth of the journey at the speed of 40 km/hr and remaining at speed of 60 km/hr. What is the total journey in Km?

Options :

1. ✘ 1820 km
2. ✔ 1920 km
3. ✘ 1800 km
4. ✘ 2000 km

Question Number : 107 Question Id : 927759649 Question Type : MCQ Option Shuffling : Yes Is Question Mandatory : No Option

Orientation : Vertical

Correct Marks : 1 Wrong Marks : 0.25

अंकित ने 36 घंटे में एक यात्रा पूरी की। वह 40 km/hr की गति से एक-चौथाई यात्रा करता है और 60 km/hr की गति से शेष यात्रा करता है। km में कुल यात्रा क्या है?

Options :

1. ✘ 1820 km
2. ✔ 1920 km
3. ✘ 1800 km
4. ✘ 2000 km

Question Number : 108 Question Id : 927759650 Question Type : MCQ Option Shuffling : Yes Is Question Mandatory : No Option Orientation : Vertical

Correct Marks : 1 Wrong Marks : 0.25

A can do a work in 6 days and B in 4 days. If they work on it together for 2 days , then what fraction of the work left?

Options :

1. ✘ $1/5$
2. ✘ $2/5$
3. ✘ $1/4$
4. ✔ $1/6$

Question Number : 108 Question Id : 927759650 Question Type : MCQ Option Shuffling : Yes Is Question Mandatory : No Option Orientation : Vertical

Correct Marks : 1 Wrong Marks : 0.25

A किसी कार्य को 6 दिन और B, 4 दिनों में कर सकता है। यदि वे 2 दिनों के लिए इस पर एक साथ काम करते हैं, तो शेष काम का भिन्न क्या है?

Options :

1. ✘ $1/5$
2. ✘ $2/5$
3. ✘ $1/4$
4. ✔ $1/6$

Question Number : 109 Question Id : 927759651 Question Type : MCQ Option Shuffling : Yes Is Question Mandatory : No Option Orientation : Vertical

Correct Marks : 1 Wrong Marks : 0.25

Rishi and Rohan can together finish a work in 40 days. They worked together for 30 days and then Rohan left. After another 30 days , Rishi finished the remaining work. In how many days Rishi alone can finish the work?

Options :

1. ✘ 60 days
2. ✘ 84 days
3. ✘ 96 days
4. ✔ 120 days

Question Number : 109 Question Id : 927759651 Question Type : MCQ Option Shuffling : Yes Is Question Mandatory : No Option

Orientation : Vertical

Correct Marks : 1 Wrong Marks : 0.25

ऋषि और रोहन मिलकर 40 दिनों में एक काम पूरा कर सकते हैं। उन्होंने 30 दिनों तक साथ काम किया और फिर रोहन ने छोड़ दिया। अगले 30 दिनों के बाद, ऋषि ने शेष काम पूरा कर दिया। ऋषि अकेले कितने दिनों में काम पूरा कर सकता है?

Options :

1. ✘ 60 दिन
2. ✘ 84 दिन
3. ✘ 96 दिन
4. ✔ 120 दिन

Question Number : 110 Question Id : 927759652 Question Type : MCQ Option Shuffling : Yes Is Question Mandatory : No Option

Orientation : Vertical

Correct Marks : 1 Wrong Marks : 0.25

Meera and Reeta can do a piece of work in 15 days and 10 days respectively. Meera started the work alone and then after 5 days Reeta joined her till the completion of the work. How long did the work last?

Options :

1. ✔ 9 days
2. ✘ 10 days
3. ✘ 11 days
4. ✘ 12 days

Question Number : 110 Question Id : 927759652 Question Type : MCQ Option Shuffling : Yes Is Question Mandatory : No Option

Orientation : Vertical

Correct Marks : 1 Wrong Marks : 0.25

मीरा और रीता क्रमशः 15 दिनों और 10 दिनों में एक काम कर सकते हैं। मीरा ने अकेले काम शुरू किया और फिर 5 दिनों के बाद रीता ने काम पूरा होने तक उसका साथ दिया। काम कब तक चला?

Options :

1. ✔ 9 दिन
2. ✘ 10 दिन
3. ✘ 11 दिन
4. ✘ 12 दिन

Question Number : 111 Question Id : 927759653 Question Type : MCQ Option Shuffling : Yes Is Question Mandatory : No Option Orientation : Vertical

Correct Marks : 1 Wrong Marks : 0.25

What is the volume of a cylinder whose base area is 48 Sq cm and the height is 11 cm?

Options :

1. ✘ 825 cu cm
2. ✘ 728 cu cm
3. ✘ 647 cu cm
4. ✔ 528 cu cm

Question Number : 111 Question Id : 927759653 Question Type : MCQ Option Shuffling : Yes Is Question Mandatory : No Option Orientation : Vertical

Correct Marks : 1 Wrong Marks : 0.25

एक सिलेंडर का आयतन क्या है जिसका आधार क्षेत्रफल 48 Sq cm और ऊँचाई 11 cm है?

Options :

1. ✘ 825 cu cm
2. ✘ 728 cu cm
3. ✘ 647 cu cm
4. ✔ 528 cu cm

Question Number : 112 Question Id : 927759654 Question Type : MCQ Option Shuffling : Yes Is Question Mandatory : No Option Orientation : Vertical

Correct Marks : 1 Wrong Marks : 0.25

What is the volume of a cone whose base diameter is 6 cm and the height is 3.5 cm?

Options :

1. ✘ 66 cu cm
2. ✔ 33 cu cm
3. ✘ 22 cu cm
4. ✘ 21 cu cm

Question Number : 112 Question Id : 927759654 Question Type : MCQ Option Shuffling : Yes Is Question Mandatory : No Option Orientation : Vertical

Correct Marks : 1 Wrong Marks : 0.25

शंकु का आयतन क्या है जिसका आधार व्यास 6 cm और ऊँचाई 3.5 cm है?

Options :

1. ✘ 66 cu cm
2. ✔ 33 cu cm
3. ✘ 22 cu cm
4. ✘ 21 cu cm

Question Number : 113 Question Id : 927759655 Question Type : MCQ Option Shuffling : Yes Is Question Mandatory : No Option Orientation : Vertical

Correct Marks : 1 Wrong Marks : 0.25

A cone and a cylinder have the same height. The radius of the cone is twice the radius of the cylinder. What is the ratio of the volume of cone to that of the cylinder?

Options :

1. ✘ 4:1
2. ✘ 3:4
3. ✔ 4:3
4. ✘ 1:4

Question Number : 113 Question Id : 927759655 Question Type : MCQ Option Shuffling : Yes Is Question Mandatory : No Option Orientation : Vertical

Correct Marks : 1 Wrong Marks : 0.25

एक शंकु और एक बेलन की ऊँचाई समान है। शंकु की त्रिज्या बेलन की त्रिज्या से दोगुना है। बेलन के लिए शंकु के आयतन का अनुपात क्या है?

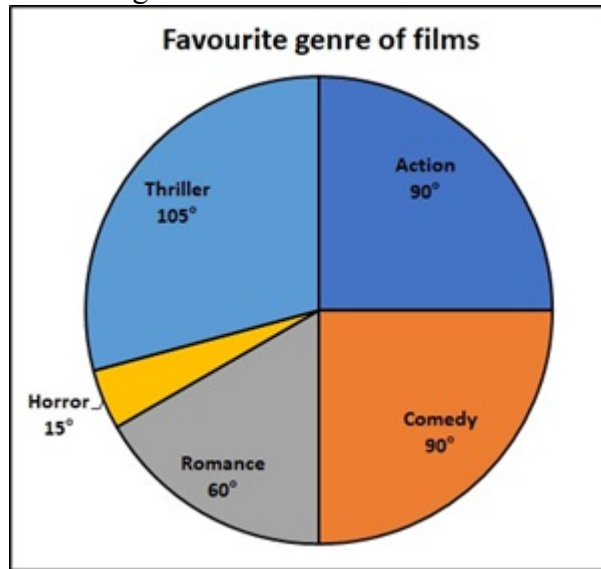
Options :

1. ✘ 4:1
2. ✘ 3:4
3. ✔ 4:3
4. ✘ 1:4

Question Number : 114 Question Id : 927759656 Question Type : MCQ Option Shuffling : Yes Is Question Mandatory : No Option Orientation : Vertical

Correct Marks : 1 Wrong Marks : 0.25

60 people were asked to choose their favourite genre of film. The result are shown in the diagram. How many people choose Romance as their favourite genre of film?



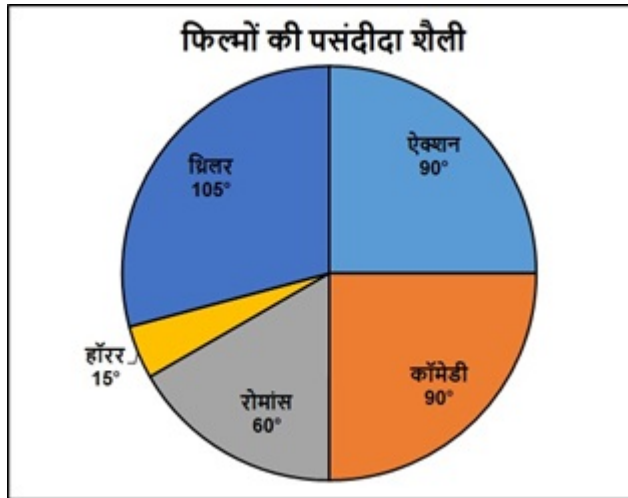
Options :

1. ✘ 8
2. ✔ 10
3. ✘ 12
4. ✘ 22

Question Number : 114 Question Id : 927759656 Question Type : MCQ Option Shuffling : Yes Is Question Mandatory : No Option Orientation : Vertical

Correct Marks : 1 Wrong Marks : 0.25

60 लोगों को फिल्म की अपनी पसंदीदा शैली चुनने के लिए कहा गया। परिणाम आरेख में दिखाया गया है। कितने लोग रोमांस को फिल्म की अपनी पसंदीदा शैली के रूप में चुनते हैं?



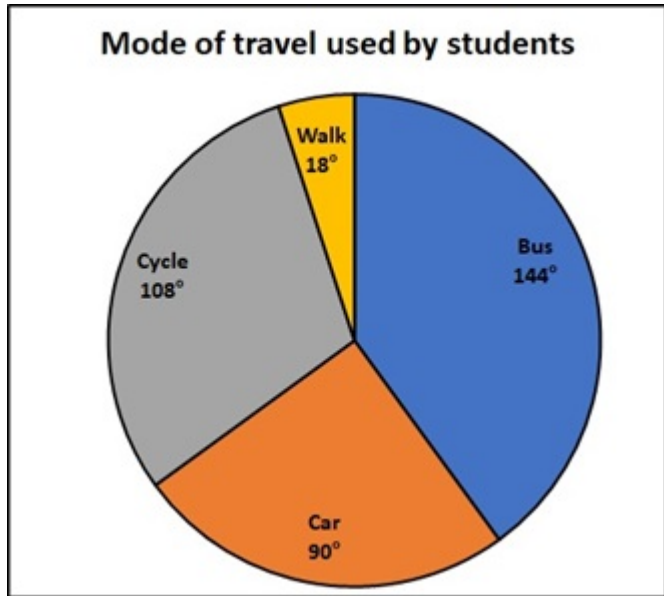
Options :

1. ✘ 8
2. ✔ 10
3. ✘ 12
4. ✘ 22

Question Number : 115 Question Id : 927759657 Question Type : MCQ Option Shuffling : Yes Is Question Mandatory : No Option Orientation : Vertical

Correct Marks : 1 Wrong Marks : 0.25

The pie-chart shows the result of a survey of the modes of travel used by the students of a school. If 120 students travel by cycle then, then how many students are in the school?



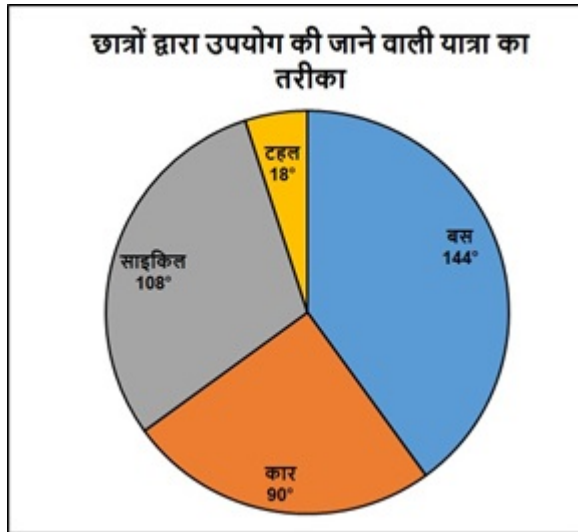
Options :

1. ✘ 420
2. ✘ 500
3. ✔ 400
4. ✘ 640

Question Number : 115 Question Id : 927759657 Question Type : MCQ Option Shuffling : Yes Is Question Mandatory : No Option Orientation : Vertical

Correct Marks : 1 Wrong Marks : 0.25

पाई-चार्ट एक पाठशाला के छात्रों द्वारा उपयोग की जाने वाली यात्रा के तरीको के सर्वेक्षण का परिणाम दर्शाता है। यदि 120 छात्र साइकिल से यात्रा करते हैं, तो पाठशाला में कितने छात्र हैं?



Options :

1. ✘ 420
2. ✘ 500
3. ✔ 400
4. ✘ 640

Question Number : 116 Question Id : 927759658 Question Type : MCQ Option Shuffling : Yes Is Question Mandatory : No Option Orientation : Vertical

Correct Marks : 1 Wrong Marks : 0.25

There are 625 employees in a company with different roles, in which 8 percent are in Administrative role, 24 percent are in Product and solution role, 16 percent are Content Specialist, 24 percent are Data Scientist, 4 percent are artist and 24 percent are developers. What is the total number of males in the company?

DEPARTMENT	NUMBER OF MALES : NUMBER OF FEMALES
Administrative roles	2 : 3
Products and solutions	8 : 7
Content specialists	3 : 2
Data scientists	7 : 8
Artists	1 : 4
Developers	7 : 8

Options :

1. ✘ 200

2. ✓ 305
3. ✗ 315
4. ✗ 300

Question Number : 116 Question Id : 927759658 Question Type : MCQ Option Shuffling : Yes Is Question Mandatory : No Option Orientation : Vertical

Correct Marks : 1 Wrong Marks : 0.25

विभिन्न भूमिकाओं वाली एक कंपनी में 625 कर्मचारी हैं, जिसमें 8 प्रतिशत प्रशासनिक भूमिका में हैं, 24 प्रतिशत उत्पाद और समाधान भूमिका में हैं, 16 प्रतिशत सामग्री विशेषज्ञ हैं, 24 प्रतिशत डेटा वैज्ञानिक हैं, 4 प्रतिशत कलाकार हैं और 24 प्रतिशत विकासक हैं। कंपनी में पुरुषों की कुल संख्या कितनी है?

विभाग	पुरुषों की संख्या : महिलाओं की संख्या
प्रशासनिक भूमिकाएँ	2 : 3
उत्पाद और समाधान	8 : 7
सामग्री विशेषज्ञ	3 : 2
डेटा वैज्ञानिक	7 : 8
कलाकार	1 : 4
विकासक	7 : 8

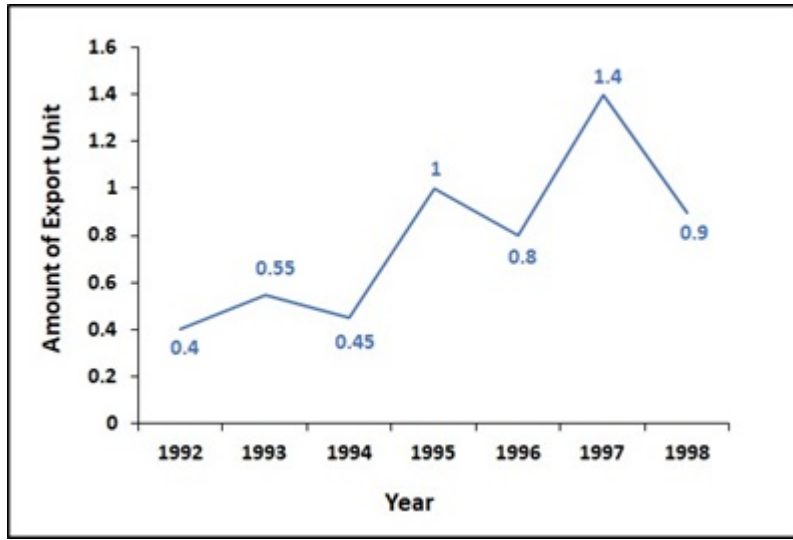
Options :

1. ✗ 200
2. ✓ 305
3. ✗ 315
4. ✗ 300

Question Number : 117 Question Id : 927759659 Question Type : MCQ Option Shuffling : Yes Is Question Mandatory : No Option Orientation : Vertical

Correct Marks : 1 Wrong Marks : 0.25

The following graph shows the amount of exports from a company over the years 1992 to 1998. What is the average exports from the year 1993 to 1997?



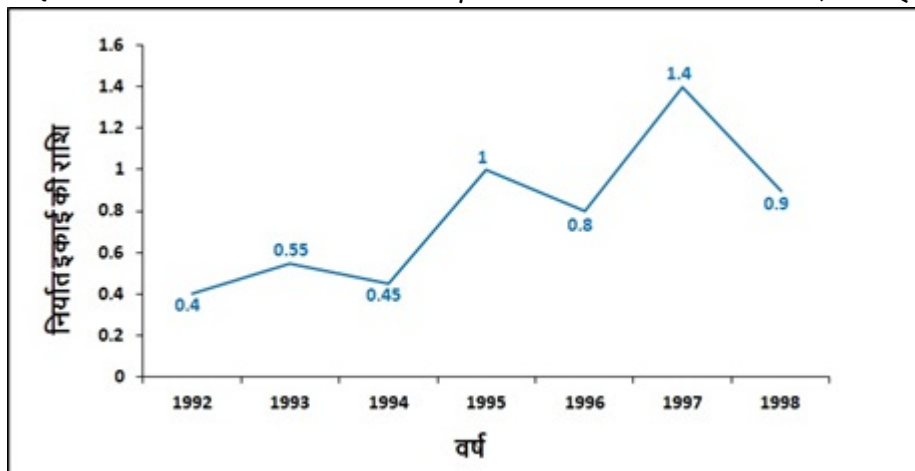
Options :

1. ✓ 0.84 units
2. ✗ 1.4 units
3. ✗ 0.80 units
4. ✗ 0.45 units

Question Number : 117 Question Id : 927759659 Question Type : MCQ Option Shuffling : Yes Is Question Mandatory : No Option Orientation : Vertical

Correct Marks : 1 Wrong Marks : 0.25

निम्नलिखित ग्राफ 1992 से 1998 तक एक कंपनी से निर्यात की मात्रा दर्शाता है। वर्ष 1993 से 1997 तक औसत निर्यात क्या है?



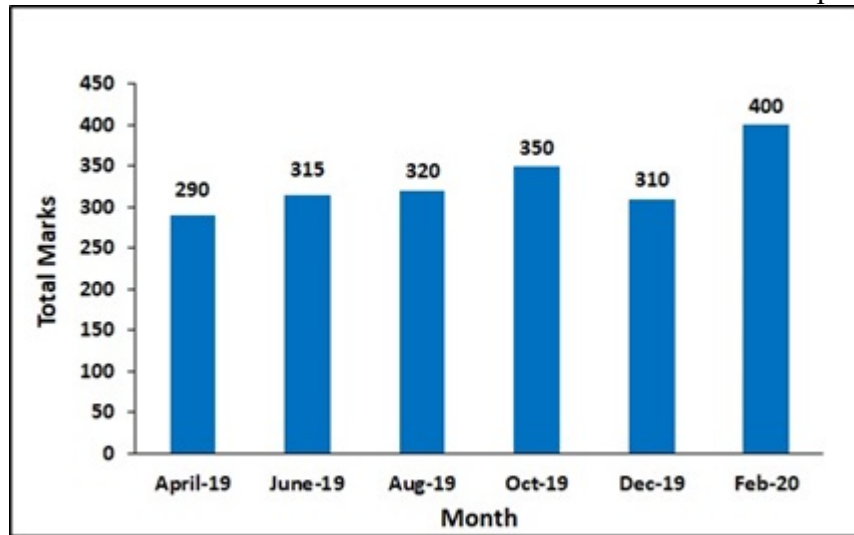
Options :

1. ✓ 0.84 इकाई
2. ✗ 1.4 इकाई
3. ✗ 0.80 इकाई
4. ✗ 0.45 इकाई

Question Number : 118 Question Id : 927759660 Question Type : MCQ Option Shuffling : Yes Is Question Mandatory : No Option Orientation : Vertical

Correct Marks : 1 Wrong Marks : 0.25

The following graph shows the result of the periodic exams of a student which are held every second month during the session April 2019 - Feb 2020. The total number of marks obtained in Feb 2020 is what percent of the total marks obtained in Aug 2019?



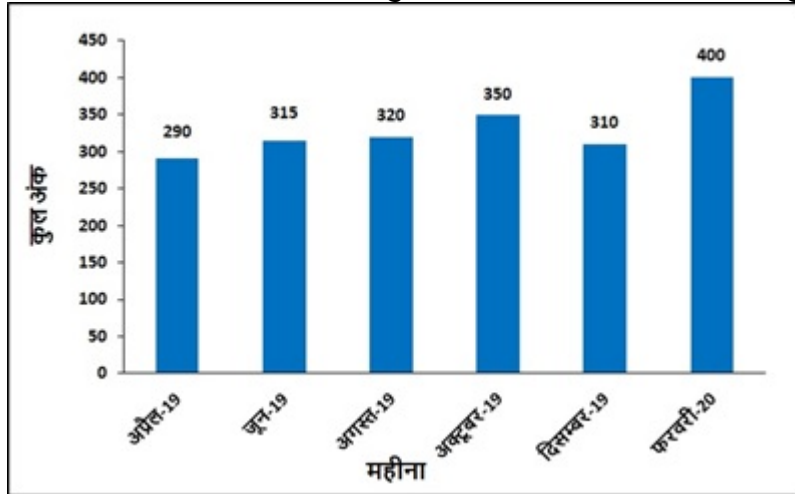
Options :

1. ✗ 85 percent
2. ✗ 90 percent
3. ✗ 120 percent
4. ✓ 125 percent

Question Number : 118 Question Id : 927759660 Question Type : MCQ Option Shuffling : Yes Is Question Mandatory : No Option Orientation : Vertical

Correct Marks : 1 Wrong Marks : 0.25

निम्नलिखित ग्राफ अप्रैल 2019 - फरवरी 2020 के सत्र के दौरान हर दूसरे महीने में आयोजित होती एक छात्र की आवधिक परीक्षाओं का परिणाम दर्शाता है। फरवरी 2020 में प्राप्त अंकों की कुल संख्या, अगस्त 2019 में प्राप्त कुल अंकों का कितना प्रतिशत है?



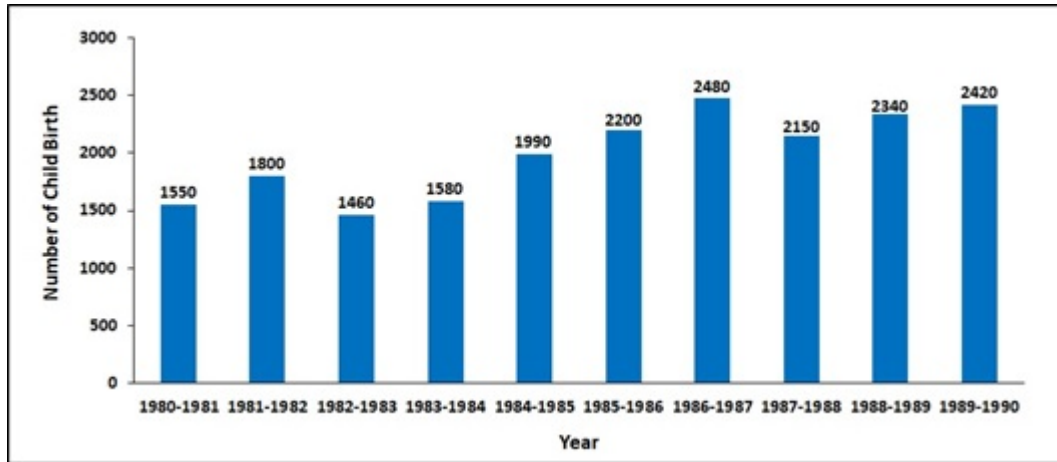
Options :

- ✘ 85 प्रतिशत
- ✘ 90 प्रतिशत
- ✘ 120 प्रतिशत
- ✔ 125 प्रतिशत

Question Number : 119 Question Id : 927759661 Question Type : MCQ Option Shuffling : Yes Is Question Mandatory : No Option Orientation : Vertical

Correct Marks : 1 Wrong Marks : 0.25

The following graph shows the births of children from 1980-1981 to 1989-1990 in Udaipur. What is the increase percentage of the child births of from 1980-1981 to 1989-1990?



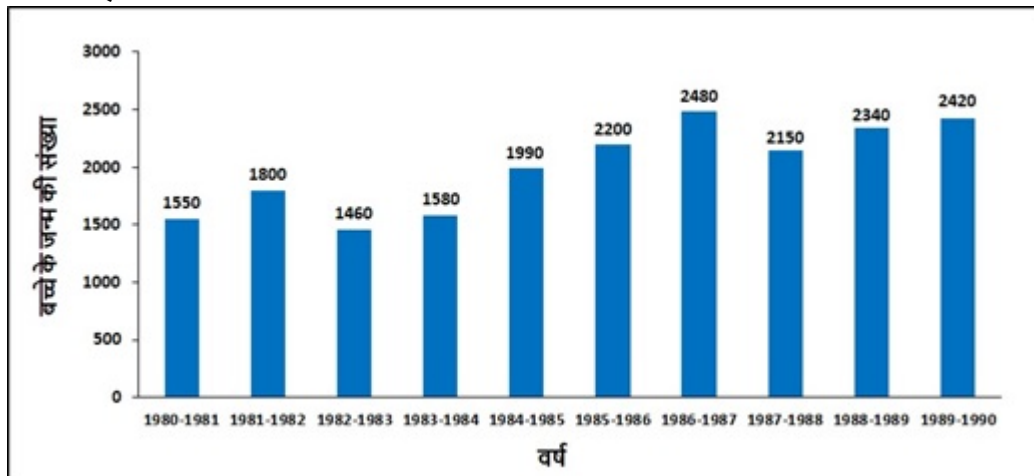
Options :

1. ✘ 54 percent
2. ✔ 56.12 percent
3. ✘ 68 percent
4. ✘ 68.15 percent

Question Number : 119 Question Id : 927759661 Question Type : MCQ Option Shuffling : Yes Is Question Mandatory : No Option Orientation : Vertical

Correct Marks : 1 Wrong Marks : 0.25

निम्नलिखित ग्राफ उदयपुर में 1980-1981 से 1989-1990 तक में बच्चों के जन्म को दर्शाता है। 1980-1981 से 1989-1990 तक में बच्चों के जन्म का वृद्धि प्रतिशत कितना है?



Options :

1. ✘ 54 प्रतिशत
2. ✔ 56.12 प्रतिशत
3. ✘ 68 प्रतिशत
4. ✘ 68.15 प्रतिशत

Question Number : 120 Question Id : 927759662 Question Type : MCQ Option Shuffling : Yes Is Question Mandatory : No Option Orientation : Vertical

Correct Marks : 1 Wrong Marks : 0.25

The bar graph shows the sales of mobile phones (in thousands) from five stores of a company during two consecutive years 2018 and 2019. What percent of the average sales of stores S3, S4 and S5 in 2019 is the average sales of stores S1, S2 and S3 in 2018?



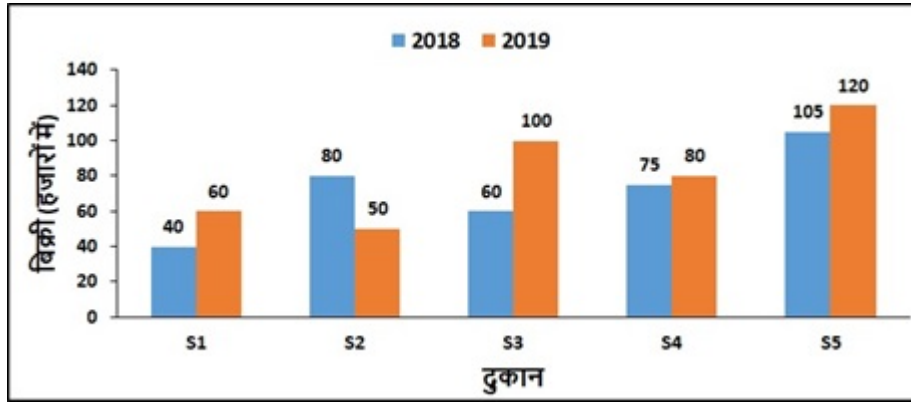
Options :

1. ✘ 58 percent
2. ✘ 72 percent
3. ✔ 60 percent
4. ✘ 82 percent

Question Number : 120 Question Id : 927759662 Question Type : MCQ Option Shuffling : Yes Is Question Mandatory : No Option Orientation : Vertical

Correct Marks : 1 Wrong Marks : 0.25

बार ग्राफ, दो लगातार वर्षों 2018 और 2019 के दौरान एक कंपनी के पांच दुकानों से मोबाइल फोन (हजारों में) की बिक्री दर्शाता है। 2019 में दुकान S3, S4 और S5 की औसत बिक्री का कितना प्रतिशत, 2018 में दुकान S1, S2 और S3 की औसत बिक्री है?



Options :

1. ✘ 58 प्रतिशत
2. ✘ 72 प्रतिशत
3. ✔ 60 प्रतिशत
4. ✘ 82 प्रतिशत

General English1

Group Number :	7
Group Id :	92775917
Group Maximum Duration :	0
Group Minimum Duration :	0
Show Attended Group? :	No
Edit Attended Group? :	No
Break time :	0
Group Marks :	20
Is this Group for Examiner? :	No

General English1

Section Id :	92775917
Section Number :	1
Section type :	Online

Mandatory or Optional :	Mandatory
Number of Questions :	20
Number of Questions to be attempted :	20
Section Marks :	20
Enable Mark as Answered Mark for Review and Clear Response :	Yes
Sub-Section Number :	1
Sub-Section Id :	92775919
Question Shuffling Allowed :	Yes

Question Number : 121 Question Id : 927759663 Question Type : MCQ Option Shuffling : Yes Is Question Mandatory : No Option Orientation : Vertical

Correct Marks : 1 Wrong Marks : 0.25

The sentence below has been divided into three parts. Select the part of the sentence that has an error. If the sentence has no error, select the option 'No Error'.

Susan had recently run in to/ Catherine at the supermarket, they/ were seeing each other after many years.

Options :

1. ✓ Susan had recently run in to
2. ✗ Catherine at the supermarket, they
3. ✗ were seeing each other after many years.
4. ✗ No error

Question Number : 121 Question Id : 927759663 Question Type : MCQ Option Shuffling : Yes Is Question Mandatory : No Option Orientation : Vertical

Correct Marks : 1 Wrong Marks : 0.25

The sentence below has been divided into three parts. Select the part of the sentence that has an error. If the sentence has no error, select the option 'No Error'.

Susan had recently run in to/ Catherine at the supermarket, they/ were seeing each other after many years.

Options :

1. ✓ Susan had recently run in to
2. ✗ Catherine at the supermarket, they
3. ✗ were seeing each other after many years.
4. ✗ No error

Question Number : 122 Question Id : 927759664 Question Type : MCQ Option Shuffling : Yes Is Question Mandatory : No Option Orientation : Vertical

Correct Marks : 1 Wrong Marks : 0.25

The sentence below has been divided into three parts. Select the part of the sentence that has an error. If the sentence has no error, select the option 'No Error'.

Inspite of everything which was/ done for him, he remained an/ ungrateful human being.

Options :

1. ✓ Inspite of everything which was
2. ✗ done for him, he remained an
3. ✗ ungrateful human being.
4. ✗ No error

Question Number : 122 Question Id : 927759664 Question Type : MCQ Option Shuffling : Yes Is Question Mandatory : No Option Orientation : Vertical

Correct Marks : 1 Wrong Marks : 0.25

The sentence below has been divided into three parts. Select the part of the sentence that has an error. If the sentence has no error, select the option 'No Error'.

Inspite of everything which was/ done for him, he remained an/ ungrateful human being.

Options :

1. ✓ Inspite of everything which was
2. ✗ done for him, he remained an
3. ✗ ungrateful human being.
4. ✗ No error

Question Number : 123 Question Id : 927759665 Question Type : MCQ Option Shuffling : Yes Is Question Mandatory : No Option Orientation : Vertical

Correct Marks : 1 Wrong Marks : 0.25

The sentence below has been divided into three parts. Select the part of the sentence that has an error. If the sentence has no error, select the option 'No Error'.

The power behind that hit was/ absolutely bludgeoning, no one can/ have had stopped that ball.

Options :

1. ✘ The power behind that hit was
2. ✔ absolutely bludgeoning, no one can
3. ✘ have had stopped that ball.
4. ✘ No error

Question Number : 123 Question Id : 927759665 Question Type : MCQ Option Shuffling : Yes Is Question Mandatory : No Option Orientation : Vertical

Correct Marks : 1 Wrong Marks : 0.25

The sentence below has been divided into three parts. Select the part of the sentence that has an error. If the sentence has no error, select the option 'No Error'.

The power behind that hit was/ absolutely bludgeoning, no one can/ have had stopped that ball.

Options :

1. ✘ The power behind that hit was
2. ✔ absolutely bludgeoning, no one can
3. ✘ have had stopped that ball.
4. ✘ No error

Question Number : 124 Question Id : 927759666 Question Type : MCQ Option Shuffling : Yes Is Question Mandatory : No Option Orientation : Vertical

Correct Marks : 1 Wrong Marks : 0.25

The sentence below has been divided into three parts. Select the part of the sentence that has an error. If the sentence has no error, select the option 'No Error'.

His power and stature were at/ best in a precarious position, after their/ fall-out with the other party members.

Options :

1. ✘ His power and stature were at
2. ✔ best in a precarious position, after their
3. ✘ fall-out with the other party members.
4. ✘ No error

Question Number : 124 Question Id : 927759666 Question Type : MCQ Option Shuffling : Yes Is Question Mandatory : No Option

Orientation : Vertical

Correct Marks : 1 Wrong Marks : 0.25

The sentence below has been divided into three parts. Select the part of the sentence that has an error. If the sentence has no error, select the option 'No Error'.

His power and stature were at/ best in a precarious position, after their/ fall-out with the other party members.

Options :

1. ✘ His power and stature were at
2. ✔ best in a precarious position, after their
3. ✘ fall-out with the other party members.
4. ✘ No error

Question Number : 125 Question Id : 927759667 Question Type : MCQ Option Shuffling : Yes Is Question Mandatory : No Option Orientation : Vertical

Correct Marks : 1 Wrong Marks : 0.25

Select the word segment that substitutes (replaces) the bracketed word segment correctly and completes the sentence meaningfully. Select the option 'no correction required' if the sentence is correct as given.

The bandits were long gone (the time the authorities arrived).

Options :

1. ✔ by the time the authorities arrived.
2. ✘ when the time authorities arrived.
3. ✘ till the time authorities arrived.
4. ✘ No correction required

Question Number : 125 Question Id : 927759667 Question Type : MCQ Option Shuffling : Yes Is Question Mandatory : No Option Orientation : Vertical

Correct Marks : 1 Wrong Marks : 0.25

Select the word segment that substitutes (replaces) the bracketed word segment correctly and completes the sentence meaningfully. Select the option 'no correction required' if the sentence is correct as given.

The bandits were long gone (the time the authorities arrived).

Options :

1. ✔ by the time the authorities arrived.

2. ✘ when the time authorities arrived.
3. ✘ till the time authorities arrived.
4. ✘ No correction required

Question Number : 126 Question Id : 927759668 Question Type : MCQ Option Shuffling : Yes Is Question Mandatory : No Option Orientation : Vertical

Correct Marks : 1 Wrong Marks : 0.25

Select the word segment that substitutes (replaces) the bracketed word segment correctly and completes the sentence meaningfully. Select the option 'no correction required' if the sentence is correct as given.

He was appreciated (for the work he has done in the States).

Options :

1. ✘ for the work he was doing in the States.
2. ✔ for the work he had done in the States.
3. ✘ for the work he has been doing in the States.
4. ✘ No correction required

Question Number : 126 Question Id : 927759668 Question Type : MCQ Option Shuffling : Yes Is Question Mandatory : No Option Orientation : Vertical

Correct Marks : 1 Wrong Marks : 0.25

Select the word segment that substitutes (replaces) the bracketed word segment correctly and completes the sentence meaningfully. Select the option 'no correction required' if the sentence is correct as given.

He was appreciated (for the work he has done in the States).

Options :

1. ✘ for the work he was doing in the States.
2. ✔ for the work he had done in the States.
3. ✘ for the work he has been doing in the States.
4. ✘ No correction required

Question Number : 127 Question Id : 927759669 Question Type : MCQ Option Shuffling : Yes Is Question Mandatory : No Option Orientation : Vertical

Correct Marks : 1 Wrong Marks : 0.25

Select the word segment that substitutes (replaces) the bracketed word segment correctly and completes the sentence meaningfully. Select the option 'no correction required' if the sentence is correct as given.

In these dire times, (all of us needed to come together and fight this disease).

Options :

1. ✓ all of us need to come together and fight this disease.
2. ✗ all of us needs to come together and fight this disease.
3. ✗ all of us will be needed to come together and fight this disease.
4. ✗ No correction required

Question Number : 127 Question Id : 927759669 Question Type : MCQ Option Shuffling : Yes Is Question Mandatory : No Option Orientation : Vertical

Correct Marks : 1 Wrong Marks : 0.25

Select the word segment that substitutes (replaces) the bracketed word segment correctly and completes the sentence meaningfully. Select the option 'no correction required' if the sentence is correct as given.

In these dire times, (all of us needed to come together and fight this disease).

Options :

1. ✓ all of us need to come together and fight this disease.
2. ✗ all of us needs to come together and fight this disease.
3. ✗ all of us will be needed to come together and fight this disease.
4. ✗ No correction required

Question Number : 128 Question Id : 927759670 Question Type : MCQ Option Shuffling : Yes Is Question Mandatory : No Option Orientation : Vertical

Correct Marks : 1 Wrong Marks : 0.25

Select the word segment that substitutes (replaces) the bracketed word segment correctly and completes the sentence meaningfully. Select the option 'no correction required' if the sentence is correct as given.

Sakina feels that (spiders are a frightened species). She is extremely afraid of them.

Options :

1. ✓ spiders are a frightening species.
2. ✗ spiders are a frightful species.
3. ✗ spiders are a fright species.

4. ✘ No correction required

Question Number : 128 Question Id : 927759670 Question Type : MCQ Option Shuffling : Yes Is Question Mandatory : No Option Orientation : Vertical

Correct Marks : 1 Wrong Marks : 0.25

Select the word segment that substitutes (replaces) the bracketed word segment correctly and completes the sentence meaningfully. Select the option 'no correction required' if the sentence is correct as given.

Sakina feels that (spiders are a frightened species). She is extremely afraid of them.

Options :

1. ✔ spiders are a frightening species.
2. ✘ spiders are a frightful species.
3. ✘ spiders are a fright species.
4. ✘ No correction required

Question Number : 129 Question Id : 927759671 Question Type : MCQ Option Shuffling : Yes Is Question Mandatory : No Option Orientation : Vertical

Correct Marks : 1 Wrong Marks : 0.25

Fill in the blank with appropriate word.

The flight catered to _____ the needs of the passengers.

Options :

1. ✔ all
2. ✘ every
3. ✘ many
4. ✘ some

Question Number : 129 Question Id : 927759671 Question Type : MCQ Option Shuffling : Yes Is Question Mandatory : No Option Orientation : Vertical

Correct Marks : 1 Wrong Marks : 0.25

Fill in the blank with appropriate word.

The flight catered to _____ the needs of the passengers.

Options :

1. ✓ all
2. ✗ every
3. ✗ many
4. ✗ some

Question Number : 130 Question Id : 927759672 Question Type : MCQ Option Shuffling : Yes Is Question Mandatory : No Option Orientation : Vertical

Correct Marks : 1 Wrong Marks : 0.25

Fill in the blank with appropriate word.

There were _____ a times when they told him to stop his current lifestyle.

Options :

1. ✗ much too
2. ✗ manier
3. ✗ much
4. ✓ many

Question Number : 130 Question Id : 927759672 Question Type : MCQ Option Shuffling : Yes Is Question Mandatory : No Option Orientation : Vertical

Correct Marks : 1 Wrong Marks : 0.25

Fill in the blank with appropriate word.

There were _____ a times when they told him to stop his current lifestyle.

Options :

1. ✗ much too
2. ✗ manier
3. ✗ much
4. ✓ many

Question Number : 131 Question Id : 927759673 Question Type : MCQ Option Shuffling : Yes Is Question Mandatory : No Option Orientation : Vertical

Correct Marks : 1 Wrong Marks : 0.25

Fill in the blank with appropriate word.

For a very long time until now, it _____ believed that the gods created earth and the heaven.

Options :

1. ✘ had
2. ✘ has been
3. ✔ was
4. ✘ is

Question Number : 131 Question Id : 927759673 Question Type : MCQ Option Shuffling : Yes Is Question Mandatory : No Option Orientation : Vertical

Correct Marks : 1 Wrong Marks : 0.25

Fill in the blank with appropriate word.

For a very long time until now, it _____ believed that the gods created earth and the heaven.

Options :

1. ✘ had
2. ✘ has been
3. ✔ was
4. ✘ is

Question Number : 132 Question Id : 927759674 Question Type : MCQ Option Shuffling : Yes Is Question Mandatory : No Option Orientation : Vertical

Correct Marks : 1 Wrong Marks : 0.25

Fill in the blank with appropriate word.

The respondents were _____ in subduing the situation.

Options :

1. ✘ hassled
2. ✘ hasty
3. ✔ quick
4. ✘ tedious

Question Number : 132 Question Id : 927759674 Question Type : MCQ Option Shuffling : Yes Is Question Mandatory : No Option

Orientation : Vertical

Correct Marks : 1 Wrong Marks : 0.25

Fill in the blank with appropriate word.

The respondents were _____ in subduing the situation.

Options :

1. ✘ hassled
2. ✘ hasty
3. ✔ quick
4. ✘ tedious

Question Number : 133 Question Id : 927759675 Question Type : MCQ Option Shuffling : Yes Is Question Mandatory : No Option

Orientation : Vertical

Correct Marks : 1 Wrong Marks : 0.25

Fill in the blank with appropriate word.

A loud thud woke up everybody and nobody knew what all the _____ was about.

Options :

1. ✘ exoneration
2. ✔ commotion
3. ✘ abomination
4. ✘ culmination

Question Number : 133 Question Id : 927759675 Question Type : MCQ Option Shuffling : Yes Is Question Mandatory : No Option

Orientation : Vertical

Correct Marks : 1 Wrong Marks : 0.25

Fill in the blank with appropriate word.

A loud thud woke up everybody and nobody knew what all the _____ was about.

Options :

1. ✘ exoneration
2. ✔ commotion
3. ✘ abomination

4. ✘ culmination

Question Number : 134 Question Id : 927759676 Question Type : MCQ Option Shuffling : Yes Is Question Mandatory : No Option Orientation : Vertical

Correct Marks : 1 Wrong Marks : 0.25

Fill in the blank with appropriate word.

It was a _____(cynic) masterpiece of his imagination and it lived up to its expectations.

Options :

1. ✘ cynicism
2. ✘ cynically
3. ✘ cynic
4. ✔ cynical

Question Number : 134 Question Id : 927759676 Question Type : MCQ Option Shuffling : Yes Is Question Mandatory : No Option Orientation : Vertical

Correct Marks : 1 Wrong Marks : 0.25

Fill in the blank with appropriate word.

It was a _____(cynic) masterpiece of his imagination and it lived up to its expectations.

Options :

1. ✘ cynicism
2. ✘ cynically
3. ✘ cynic
4. ✔ cynical

Question Number : 135 Question Id : 927759677 Question Type : MCQ Option Shuffling : Yes Is Question Mandatory : No Option Orientation : Vertical

Correct Marks : 1 Wrong Marks : 0.25

Fill in the blank with appropriate word.

Not only did he _____ (forgot) the lunch at home, but also forgot to turn off the air conditioner.

Options :

1. ✘ forgot
2. ✔ forget
3. ✘ forgotten
4. ✘ to forget

Question Number : 135 Question Id : 927759677 Question Type : MCQ Option Shuffling : Yes Is Question Mandatory : No Option Orientation : Vertical

Correct Marks : 1 Wrong Marks : 0.25

Fill in the blank with appropriate word.

Not only did he _____ (forgot) the lunch at home, but also forgot to turn off the air conditioner.

Options :

1. ✘ forgot
2. ✔ forget
3. ✘ forgotten
4. ✘ to forget

Question Number : 136 Question Id : 927759678 Question Type : MCQ Option Shuffling : Yes Is Question Mandatory : No Option Orientation : Vertical

Correct Marks : 1 Wrong Marks : 0.25

The question below consist of a set of labelled sentences. Out of four options given, select the most logical order of the sentences which form a paragraph.

Visionary entrepreneur Elon Musk is the co-founder of PayPal (PYPL), Tesla Motors (TSLA), and SolarCity (SCTY), and is the founder of SpaceX.

P. Amid an often difficult childhood, Musk developed a relentless work ethic (he is known to work as many as 80 to 100 hours per week) and a tenacious single-minded vision.

Q. On September 7, 2018 Musk appeared to be smoking marijuana while interviewing for a podcast.

R. Coupled with the exit of Tesla's head of human resources and chief accounting officer, that news saw the stock drop in trade.

S. His astounding success has given rise to comparisons of Musk and Steve Jobs, Howard Hughes, Henry Ford, and Bill Gates.

This was just another addition to the string of bad news for the company, including a shareholder lawsuit against Musk and the company for his infamous tweet on August 7. Musk had tweeted that he is considering taking Tesla private. The company later decided against the move.

Options :

1. ✘ QPSR
2. ✘ QPRS
3. ✘ RPQS
4. ✔ SPQR

Question Number : 136 Question Id : 927759678 Question Type : MCQ Option Shuffling : Yes Is Question Mandatory : No Option Orientation : Vertical

Correct Marks : 1 Wrong Marks : 0.25

The question below consist of a set of labelled sentences. Out of four options given, select the most logical order of the sentences which form a paragraph.

Visionary entrepreneur Elon Musk is the co-founder of PayPal (PYPL), Tesla Motors (TSLA), and SolarCity (SCTY), and is the founder of SpaceX.

P. Amid an often difficult childhood, Musk developed a relentless work ethic (he is known to work as many as 80 to 100 hours per week) and a tenacious single-minded vision.

Q. On September 7, 2018 Musk appeared to be smoking marijuana while interviewing for a podcast.

R. Coupled with the exit of Tesla's head of human resources and chief accounting officer, that news saw the stock drop in trade.

S. His astounding success has given rise to comparisons of Musk and Steve Jobs, Howard Hughes, Henry Ford, and Bill Gates.

This was just another addition to the string of bad news for the company, including a shareholder lawsuit against Musk and the company for his infamous tweet on August 7. Musk had tweeted that he is considering taking Tesla private. The company later decided against the move.

Options :

1. ✘ QPSR
2. ✘ QPRS
3. ✘ RPQS
4. ✔ SPQR

Question Number : 137 Question Id : 927759679 Question Type : MCQ Option Shuffling : Yes Is Question Mandatory : No Option Orientation : Vertical

Correct Marks : 1 Wrong Marks : 0.25

Some parts of a sentence have been jumbled up, and labelled P, Q, R and S. Select the option that gives the correct sequence in which these parts can be rearranged to form a meaningful and grammatically correct sentence.

For what he was,

P. it was known to everyone,

Q. which wouldn't allow him to give up

R. endurance and competitive spirit

S. that it was his remarkable

so easily even in the face of defeat

Options :

1. ✘ SPQR
2. ✘ QPSR
3. ✔ PSRQ
4. ✘ PSQR

Question Number : 137 Question Id : 927759679 Question Type : MCQ Option Shuffling : Yes Is Question Mandatory : No Option Orientation : Vertical

Correct Marks : 1 Wrong Marks : 0.25

Some parts of a sentence have been jumbled up, and labelled P, Q, R and S. Select the option that gives the correct sequence in which these parts can be rearranged to form a meaningful and grammatically correct sentence.

For what he was,

P. it was known to everyone,

Q. which wouldn't allow him to give up

R. endurance and competitive spirit

S. that it was his remarkable

so easily even in the face of defeat

Options :

1. ✘ SPQR
2. ✘ QPSR
3. ✔ PSRQ
4. ✘ PSQR

Question Number : 138 Question Id : 927759680 Question Type : MCQ Option Shuffling : Yes Is Question Mandatory : No Option

Orientation : Vertical

Correct Marks : 1 Wrong Marks : 0.25

Some parts of a sentence have been jumbled up, and labelled P, Q, R and S. Select the option that gives the correct sequence in which these parts can be rearranged to form a meaningful and grammatically correct sentence.

After all the chaos,
P. in an open letter to
Q. the Prime Minister, the students of the D.U.
R. the unjust government policies
S. expressed their dismay with
which were against the fundamentals of the constitution.

Options :

1. ✘ QPRS
2. ✘ PQRS
3. ✘ RQPS
4. ✔ PQSR

Question Number : 138 Question Id : 927759680 Question Type : MCQ Option Shuffling : Yes Is Question Mandatory : No Option Orientation : Vertical

Correct Marks : 1 Wrong Marks : 0.25

Some parts of a sentence have been jumbled up, and labelled P, Q, R and S. Select the option that gives the correct sequence in which these parts can be rearranged to form a meaningful and grammatically correct sentence.

After all the chaos,
P. in an open letter to
Q. the Prime Minister, the students of the D.U.
R. the unjust government policies
S. expressed their dismay with
which were against the fundamentals of the constitution.

Options :

1. ✘ QPRS
2. ✘ PQRS
3. ✘ RQPS
4. ✔ PQSR

Question Number : 139 Question Id : 927759681 Question Type : MCQ Option Shuffling : Yes Is Question Mandatory : No Option Orientation : Vertical

Correct Marks : 1 Wrong Marks : 0.25

The question below consist of a set of labelled sentences. Out of four options given, select the most logical order of the sentences which form a paragraph.

Cold War, the open yet restricted rivalry that developed after World War II between the United States and the Soviet Union and their respective allies.

P. The term was first used by the English writer George Orwell in an article published in 1945 to refer to what he predicted would be a nuclear stalemate between two or three monstrous super-states.

Q. The Cold War was waged on political, economic, and propaganda fronts and had only limited recourse to weapons.

R. It was first used in the United States by the American financier and presidential adviser Bernard Baruch in a speech at the State House in Columbia, South Carolina, in 1947.

S. Each possessed of a weapon by which millions of people can be wiped out in a few seconds.

And since then a long lasting war for supreme command and becoming world superpower began.

Options :

1. ✘ QPRS
2. ✘ SPQR
3. ✔ QPSR
4. ✘ RPQS

Question Number : 139 Question Id : 927759681 Question Type : MCQ Option Shuffling : Yes Is Question Mandatory : No Option Orientation : Vertical

Correct Marks : 1 Wrong Marks : 0.25

The question below consist of a set of labelled sentences. Out of four options given, select the most logical order of the sentences which form a paragraph.

Cold War, the open yet restricted rivalry that developed after World War II between the United States and the Soviet Union and their respective allies.

P. The term was first used by the English writer George Orwell in an article published in 1945 to refer to what he predicted would be a nuclear stalemate between two or three monstrous super-states.

Q. The Cold War was waged on political, economic, and propaganda fronts and had only limited recourse to weapons.

R. It was first used in the United States by the American financier and presidential adviser Bernard Baruch in a speech at the State House in Columbia, South Carolina, in 1947.

S. Each possessed of a weapon by which millions of people can be wiped out in a few seconds.

And since then a long lasting war for supreme command and becoming world superpower began.

Options :

1. ✘ QPRS
2. ✘ SPQR
3. ✔ QPSR
4. ✘ RPQS

Question Number : 140 Question Id : 927759682 Question Type : MCQ Option Shuffling : Yes Is Question Mandatory : No Option Orientation : Vertical

Correct Marks : 1 Wrong Marks : 0.25

Select the word that is opposite in meaning (ANTONYM) to the word given below.

Balk

Options :

1. ✘ Deny
2. ✘ Diffuse
3. ✘ Scorn
4. ✔ Accept

Question Number : 140 Question Id : 927759682 Question Type : MCQ Option Shuffling : Yes Is Question Mandatory : No Option Orientation : Vertical

Correct Marks : 1 Wrong Marks : 0.25

Select the word that is opposite in meaning (ANTONYM) to the word given below.

Balk

Options :

1. ✘ Deny

2. ✖ Diffuse
3. ✖ Scorn
4. ✔ Accept

General English2

Group Number :	8
Group Id :	92775918
Group Maximum Duration :	0
Group Minimum Duration :	0
Show Attended Group? :	No
Edit Attended Group? :	No
Break time :	0
Group Marks :	20
Is this Group for Examiner? :	No

General English2

Section Id :	92775918
Section Number :	1
Section type :	Online
Mandatory or Optional :	Mandatory
Number of Questions :	16
Number of Questions to be attempted :	16
Section Marks :	20
Enable Mark as Answered Mark for Review and Clear Response :	Yes
Sub-Section Number :	1
Sub-Section Id :	92775920
Question Shuffling Allowed :	Yes

Question Number : 141 Question Id : 927759683 Question Type : MCQ Option Shuffling : Yes Is Question Mandatory : No Option Orientation : Vertical

Correct Marks : 1 Wrong Marks : 0.25

Select the word that is opposite in meaning (ANTONYM) to the word given below.

Behemoth

Options :

1. ✘ Colossus
2. ✘ Dreadnought
3. ✔ Midget
4. ✘ Leviathan

Question Number : 141 Question Id : 927759683 Question Type : MCQ Option Shuffling : Yes Is Question Mandatory : No Option Orientation : Vertical

Correct Marks : 1 Wrong Marks : 0.25

Select the word that is opposite in meaning (ANTONYM) to the word given below.

Behemoth

Options :

1. ✘ Colossus
2. ✘ Dreadnought
3. ✔ Midget
4. ✘ Leviathan

Question Number : 142 Question Id : 927759684 Question Type : MCQ Option Shuffling : Yes Is Question Mandatory : No Option Orientation : Vertical

Correct Marks : 1 Wrong Marks : 0.25

Select the word that is closest in meaning (SYNONYM) to the word given below

Encomium

Options :

1. ✘ Indictment
2. ✔ Praise
3. ✘ Stubborn
4. ✘ Criticism

Question Number : 142 Question Id : 927759684 Question Type : MCQ Option Shuffling : Yes Is Question Mandatory : No Option Orientation : Vertical

Correct Marks : 1 Wrong Marks : 0.25

Select the word that is closest in meaning (SYNONYM) to the word given below

Encomium

Options :

1. ✘ Indictment
2. ✔ Praise
3. ✘ Stubborn
4. ✘ Criticism

Question Number : 143 Question Id : 927759685 Question Type : MCQ Option Shuffling : Yes Is Question Mandatory : No Option Orientation : Vertical

Correct Marks : 1 Wrong Marks : 0.25

Select the word that is closest in meaning (SYNONYM) to the word given below

Alleviate

Options :

1. ✘ Altruistic
2. ✘ Falter
3. ✔ Diminish
4. ✘ Aggravate

Question Number : 143 Question Id : 927759685 Question Type : MCQ Option Shuffling : Yes Is Question Mandatory : No Option Orientation : Vertical

Correct Marks : 1 Wrong Marks : 0.25

Select the word that is closest in meaning (SYNONYM) to the word given below

Alleviate

Options :

1. ✘ Altruistic

2. ✘ Falter
3. ✔ Diminish
4. ✘ Aggravate

Question Number : 144 Question Id : 927759686 Question Type : MCQ Option Shuffling : Yes Is Question Mandatory : No Option Orientation : Vertical

Correct Marks : 1 Wrong Marks : 0.25

Four words are given, out of which only one word is spelt correctly. Choose the correctly spelt word.

Options :

1. ✔ Panegyric
2. ✘ Panegiric
3. ✘ Panegaric
4. ✘ Panigyrie

Question Number : 144 Question Id : 927759686 Question Type : MCQ Option Shuffling : Yes Is Question Mandatory : No Option Orientation : Vertical

Correct Marks : 1 Wrong Marks : 0.25

Four words are given, out of which only one word is spelt correctly. Choose the correctly spelt word.

Options :

1. ✔ Panegyric
2. ✘ Panegiric
3. ✘ Panegaric
4. ✘ Panigyrie

Question Number : 145 Question Id : 927759687 Question Type : MCQ Option Shuffling : Yes Is Question Mandatory : No Option Orientation : Vertical

Correct Marks : 1 Wrong Marks : 0.25

Four words are given, out of which only one word is spelt correctly. Choose the correctly spelt word.

Options :

1. ✘ Plagerism
2. ✔ Plagiarism
3. ✘ Plagiarsm

4. ✘ Plageriasm

Question Number : 145 Question Id : 927759687 Question Type : MCQ Option Shuffling : Yes Is Question Mandatory : No Option Orientation : Vertical

Correct Marks : 1 Wrong Marks : 0.25

Four words are given, out of which only one word is spelt correctly. Choose the correctly spelt word.

Options :

1. ✘ Plagerism
2. ✔ Plagiarism
3. ✘ Plagiarsm
4. ✘ Plageriasm

Question Number : 146 Question Id : 927759688 Question Type : MCQ Option Shuffling : Yes Is Question Mandatory : No Option Orientation : Vertical

Correct Marks : 1 Wrong Marks : 0.25

Four words are given, out of which only one word is spelt correctly. Choose the correctly spelt word.

Options :

1. ✔ Connivance
2. ✘ Conivance
3. ✘ Connievence
4. ✘ Conniavance

Question Number : 146 Question Id : 927759688 Question Type : MCQ Option Shuffling : Yes Is Question Mandatory : No Option Orientation : Vertical

Correct Marks : 1 Wrong Marks : 0.25

Four words are given, out of which only one word is spelt correctly. Choose the correctly spelt word.

Options :

1. ✔ Connivance
2. ✘ Conivance
3. ✘ Connievence
4. ✘ Conniavance

Question Number : 147 Question Id : 927759689 Question Type : MCQ Option Shuffling : Yes Is Question Mandatory : No Option Orientation : Vertical

Correct Marks : 1 Wrong Marks : 0.25

Four words are given, out of which only one word is spelt correctly. Choose the correctly spelt word.

Options :

1. ✓ Disquietude
2. ✗ Disquietud
3. ✗ Disquetude
4. ✗ Disquitude

Question Number : 147 Question Id : 927759689 Question Type : MCQ Option Shuffling : Yes Is Question Mandatory : No Option Orientation : Vertical

Correct Marks : 1 Wrong Marks : 0.25

Four words are given, out of which only one word is spelt correctly. Choose the correctly spelt word.

Options :

1. ✓ Disquietude
2. ✗ Disquietud
3. ✗ Disquetude
4. ✗ Disquitude

Question Number : 148 Question Id : 927759690 Question Type : MCQ Option Shuffling : Yes Is Question Mandatory : No Option Orientation : Vertical

Correct Marks : 1 Wrong Marks : 0.25

Select the most appropriate meaning of the given idiom

A baker's dozen

Options :

1. ✓ Thirteen
2. ✗ Twelve
3. ✗ Ten
4. ✗ Fifteen

Question Number : 148 Question Id : 927759690 Question Type : MCQ Option Shuffling : Yes Is Question Mandatory : No Option Orientation : Vertical

Correct Marks : 1 Wrong Marks : 0.25

Select the most appropriate meaning of the given idiom

A baker's dozen

Options :

1. ✓ Thirteen
2. ✗ Twelve
3. ✗ Ten
4. ✗ Fifteen

Question Number : 149 Question Id : 927759691 Question Type : MCQ Option Shuffling : Yes Is Question Mandatory : No Option Orientation : Vertical

Correct Marks : 1 Wrong Marks : 0.25

Select the most appropriate meaning of the given idiom

French leave.

Options :

1. ✓ Absence without permission.
2. ✗ To have a slight encounter
3. ✗ To try hard
4. ✗ To be inconsistent

Question Number : 149 Question Id : 927759691 Question Type : MCQ Option Shuffling : Yes Is Question Mandatory : No Option Orientation : Vertical

Correct Marks : 1 Wrong Marks : 0.25

Select the most appropriate meaning of the given idiom

French leave.

Options :

1. ✓ Absence without permission.
2. ✗ To have a slight encounter

3. ✘ To try hard
4. ✘ To be inconsistent

Question Number : 150 Question Id : 927759692 Question Type : MCQ Option Shuffling : Yes Is Question Mandatory : No Option Orientation : Vertical

Correct Marks : 1 Wrong Marks : 0.25

Select the most appropriate meaning of the given idiom

All and sundry.

Options :

1. ✘ To suffer humiliation.
2. ✘ To take reckless risks.
3. ✘ To remove a misapprehension.
4. ✔ Everything without distinction.

Question Number : 150 Question Id : 927759692 Question Type : MCQ Option Shuffling : Yes Is Question Mandatory : No Option Orientation : Vertical

Correct Marks : 1 Wrong Marks : 0.25

Select the most appropriate meaning of the given idiom

All and sundry.

Options :

1. ✘ To suffer humiliation.
2. ✘ To take reckless risks.
3. ✘ To remove a misapprehension.
4. ✔ Everything without distinction.

Question Number : 151 Question Id : 927759693 Question Type : MCQ Option Shuffling : Yes Is Question Mandatory : No Option Orientation : Vertical

Correct Marks : 1 Wrong Marks : 0.25

Select the most appropriate meaning of the given idiom

To throw up the sponge.

Options :

1. ✘ To be afraid.
2. ✔ To surrender or give up the contest.
3. ✘ To reveal secret information.
4. ✘ To catch somebody of guard.

Question Number : 151 Question Id : 927759693 Question Type : MCQ Option Shuffling : Yes Is Question Mandatory : No Option Orientation : Vertical

Correct Marks : 1 Wrong Marks : 0.25

Select the most appropriate meaning of the given idiom

To throw up the sponge.

Options :

1. ✘ To be afraid.
2. ✔ To surrender or give up the contest.
3. ✘ To reveal secret information.
4. ✘ To catch somebody of guard.

Question Number : 152 Question Id : 927759694 Question Type : MCQ Option Shuffling : Yes Is Question Mandatory : No Option Orientation : Vertical

Correct Marks : 1 Wrong Marks : 0.25

Select the most appropriate 'one word ' for the expressions given below

Difficult to interpret or understand.

Options :

1. ✘ Emulate
2. ✔ Enigmatic
3. ✘ Explicable
4. ✘ Endemic

Question Number : 152 Question Id : 927759694 Question Type : MCQ Option Shuffling : Yes Is Question Mandatory : No Option Orientation : Vertical

Correct Marks : 1 Wrong Marks : 0.25

Select the most appropriate 'one word ' for the expressions given below

Difficult to interpret or understand.

Options :

1. ✘ Emulate
2. ✔ Enigmatic
3. ✘ Explicable
4. ✘ Endemic

Question Number : 153 Question Id : 927759695 Question Type : MCQ Option Shuffling : Yes Is Question Mandatory : No Option Orientation : Vertical

Correct Marks : 1 Wrong Marks : 0.25

Select the most appropriate 'one word ' for the expressions given below

Pleasing to the ear.

Options :

1. ✘ Elation
2. ✘ Ebullience
3. ✔ Dulcet
4. ✘ Maleficent

Question Number : 153 Question Id : 927759695 Question Type : MCQ Option Shuffling : Yes Is Question Mandatory : No Option Orientation : Vertical

Correct Marks : 1 Wrong Marks : 0.25

Select the most appropriate 'one word ' for the expressions given below

Pleasing to the ear.

Options :

1. ✘ Elation
2. ✘ Ebullience
3. ✔ Dulcet
4. ✘ Maleficent

Question Number : 154 Question Id : 927759696 Question Type : MCQ Option Shuffling : Yes Is Question Mandatory : No Option Orientation : Vertical

Correct Marks : 1 Wrong Marks : 0.25

Select the most appropriate 'one word ' for the expressions given below

To reveal a secret.

Options :

1. ✘ Discern
2. ✔ Divulge
3. ✘ Vilify
4. ✘ Conceal

Question Number : 154 Question Id : 927759696 Question Type : MCQ Option Shuffling : Yes Is Question Mandatory : No Option Orientation : Vertical

Correct Marks : 1 Wrong Marks : 0.25

Select the most appropriate 'one word ' for the expressions given below

To reveal a secret.

Options :

1. ✘ Discern
2. ✔ Divulge
3. ✘ Vilify
4. ✘ Conceal

Question Number : 155 Question Id : 927759697 Question Type : MCQ Option Shuffling : Yes Is Question Mandatory : No Option Orientation : Vertical

Correct Marks : 1 Wrong Marks : 0.25

Select the most appropriate 'one word ' for the expressions given below

In a state of sulky dissatisfaction.

Options :

1. ✔ Disgruntled
2. ✘ Contented

3. ✘ Surreal
4. ✘ Dissuade

Question Number : 155 Question Id : 927759697 Question Type : MCQ Option Shuffling : Yes Is Question Mandatory : No Option Orientation : Vertical

Correct Marks : 1 Wrong Marks : 0.25

Select the most appropriate 'one word ' for the expressions given below

In a state of sulky dissatisfaction.

Options :

1. ✔ Disgruntled
2. ✘ Contented
3. ✘ Surreal
4. ✘ Dissuade

Sub-Section Number :	2
Sub-Section Id :	92775921
Question Shuffling Allowed :	Yes

Question Id : 927759698 Question Type : COMPREHENSION Sub Question Shuffling Allowed : Yes Group Comprehension Questions : No

Question Numbers : (156 to 160)

A passage is given with 5 questions following it. Read the passage carefully and choose the best answer to each question out of the four alternatives

There is no doubt that Machiavelli's, The Prince was very different from other political texts of the Classical era in that it veered more towards the shrewd and pragmatic modern form of politics. However, there is sufficient proof that Machiavelli was not the creator of this political system. In fact, this system, called 'realpolitik' or politics without principles, was actually in practice long before Machiavelli's time. Machiavelli just made this system more popular and mainstream.

One example of the use of realpolitik before Machiavelli's time is of the evil Spanish imperial advisor Ortega Sorolla, who openly stated that the ruling emperor was to be supported at all costs and who imprisoned or executed anyone who posed a challenge to the emperor. In fact, several historians believe that Sorolla actually got several exceptionally talented men secretly assassinated as he was afraid that one day they would pose a threat to the emperor's throne.

Supporter of Machiavelli believe that power was tangible entity, which could be reflected or ascertained by the size of the army that a ruler commanded. The ruler's objective was to instil in the minds of his followers the fact that they should always think about war and how they would

be victorious in one, as neglecting this could often lead to losing one's kingdom. For Michiavelli, the truly powerful kingdoms were those that could use their money and clout to command large armies and use these armies to subjugate other kingdoms. These conquered kingdoms then deservedly became objects of ridicule and contempt.

Michiavelli' lack of focus on the quality of governance within a state is clear from the fact that it is only as late as in chapter 12 that he talks about the importance of the having good laws within a state. This too seems to be an afterthought since Machiavelli pays no particular attention to the quality of these laws. He simply makes open ended statements and never really goes down to describing in details what attributes make up a 'good' law.

According to Machiavelli, whatever actions a prince undertakes are with the single-minded intention of gaining a good reputation in history books, even if that reputation is earned after the death of the prince. Machiavelli narrates the example Agathocles truly powerful in Machiavelli's eyes. However, Machiavelli still doesn't consider Agathocles' achievements as perfect because, by committing the atrocities that he did commit, Agathocles only gained power but no glory. Thus, he failed to become part of the clique of famous men who had glory in Machiavelli's eyes.

Sub questions

Question Number : 156 Question Id : 927759699 Question Type : MCQ Option Shuffling : Yes Is Question Mandatory : No Option Orientation : Vertical

Correct Marks : 1 Wrong Marks : 0.25

According to the passage, what is the meaning of 'realpolitik'?

Options :

1. ✘ Modern Political approach.
2. ✔ Politics without principles.
3. ✘ Conventional political approach.
4. ✘ Politics without corruption.

Question Number : 157 Question Id : 927759700 Question Type : MCQ Option Shuffling : Yes Is Question Mandatory : No Option Orientation : Vertical

Correct Marks : 1 Wrong Marks : 0.25

Whose example has been given in the passage, which shows that realpolitik existed long before Machiavelli?

Options :

1. ✘ Augustus
2. ✘ Agathocles
3. ✔ Ortega Sorolla
4. ✘ Nicollo Machiavelli

Question Number : 158 Question Id : 927759701 Question Type : MCQ Option Shuffling : Yes Is Question Mandatory : No Option Orientation : Vertical

Correct Marks : 1 Wrong Marks : 0.25

From the passage, what determines that there was a lack of focus on the quality of governance by Michiavelli?

Options :

1. ✘ Because there aren't any clear mentions in his book related to quality of governance
2. ✘ Because he makes quite detailed statements constituting what makes up a good law.
3. ✔ Because the quality of governance comes quite late in the book and even with that Machiavelli pays no particular attention to the quality of these laws.
4. ✘ His ideas and definition of good laws and bad laws are not in tune to the current world affairs.

Question Number : 159 Question Id : 927759702 Question Type : MCQ Option Shuffling : Yes Is Question Mandatory : No Option Orientation : Vertical

Correct Marks : 1 Wrong Marks : 0.25

According to the passage which of the following given statement is incorrect?

Options :

1. ✘ According to Machiavelli, whatever actions a prince undertakes are with the single-minded intention of gaining a good reputation in history books, even if that reputation is earned after the death of the prince.
2. ✘ Agathocles only gained power but no glory.
3. ✘ Supporter of Machiavelli believe that power was tangible entity, which could be reflected or ascertained by the size of the army that a ruler commanded.
4. ✔ Several historians believe that Agathocles actually got several exceptionally talented men secretly assassinated as he was afraid that one day they would pose a threat to the emperor's throne.

Question Number : 160 Question Id : 927759703 Question Type : MCQ Option Shuffling : Yes Is Question Mandatory : No Option Orientation : Vertical

Correct Marks : 1 Wrong Marks : 0.25

Why did Agathocles fail to become a part of the group of famous men, who according to Machiavelli had achieved glory?

Options :

1. ✘ Because Machiavelli considered him truly powerful.
2. ✔ Because even with all the power that Machiavelli commanded he could not achieve glory, for all the atrocities he had committed.
3. ✘ Because Agathocles was a ruler who only sought power.
4. ✘ Because Agathocles though powerful, was a weak ruler at heart.

Question Id : 927759698 Question Type : COMPREHENSION Sub Question Shuffling Allowed : Yes Group Comprehension Questions : No

Question Numbers : (156 to 160)

A passage is given with 5 questions following it. Read the passage carefully and choose the best answer to each question out of the four alternatives

There is no doubt that Machiavelli's, The Prince was very different from other political texts of the Classical era in that it veered more towards the shrewd and pragmatic modern form of politics. However, there is sufficient proof that Machiavelli was not the creator of this political system. In fact, this system, called 'realpolitik' or politics without principles, was actually in practice long before Machiavelli's time. Machiavelli just made this system more popular and mainstream.

One example of the use of realpolitik before Machiavelli's time is of the evil Spanish imperial advisor Ortega Sorolla, who openly stated that the ruling emperor was to be supported at all costs and who imprisoned or executed anyone who posed a challenge to the emperor. In fact, several historians believe that Sorolla actually got several exceptionally talented men secretly assassinated as he was afraid that one day they would pose a threat to the emperor's throne.

Supporter of Machiavelli believe that power was tangible entity, which could be reflected or ascertained by the size of the army that a ruler commanded. The ruler's objective was to instil in the minds of his followers the fact that they should always think about war and how they would be victorious in one, as neglecting this could often lead to losing one's kingdom. For Michiavelli, the truly powerful kingdoms were those that could use their money and clout to command large armies and use these armies to subjugate other kingdoms. These conquered kingdoms then deservedly became objects of ridicule and contempt.

Michiavelli' lack of focus on the quality of governance within a state is clear from the fact that it is only as late as in chapter 12 that he talks about the importance of the having good laws within a state. This too seems to be an afterthought since Machiavelli pays no particular attention to the quality of these laws. He simply makes open ended statements and never really goes down to describing in details what attributes make up a 'good' law.

According to Machiavelli, whatever actions a prince undertakes are with the single-minded intention of gaining a good reputation in history books, even if that reputation is earned after the death of the prince. Machiavelli narrates the example Agathocles truly powerful in Machiavelli's eyes. However, Machiavelli still doesn't consider Agathocles' achievements as perfect because, by committing the atrocities that he did commit, Agathocles only gained power but no glory. Thus, he failed to become part of the clique of famous men who had glory in Machiavelli's eyes.

Sub questions

Question Number : 156 Question Id : 927759699 Question Type : MCQ Option Shuffling : Yes Is Question Mandatory : No Option Orientation : Vertical

Correct Marks : 1 Wrong Marks : 0.25

According to the passage, what is the meaning of 'realpolitik'?

Options :

1. ✘ Modern Political approach.
2. ✔ Politics without principles.
3. ✘ Conventional political approach.
4. ✘ Politics without corruption.

Question Number : 157 Question Id : 927759700 Question Type : MCQ Option Shuffling : Yes Is Question Mandatory : No Option Orientation : Vertical

Correct Marks : 1 Wrong Marks : 0.25

Whose example has been given in the passage, which shows that realpolitik existed long before Machiavelli?

Options :

1. ✘ Augustus
2. ✘ Agathocles
3. ✔ Ortega Sorolla
4. ✘ Nicollo Machiavelli

Question Number : 158 Question Id : 927759701 Question Type : MCQ Option Shuffling : Yes Is Question Mandatory : No Option Orientation : Vertical

Correct Marks : 1 Wrong Marks : 0.25

From the passage, what determines that there was a lack of focus on the quality of governance by Michiavelli?

Options :

1. ✘ Because there aren't any clear mentions in his book related to quality of governance
2. ✘ Because he makes quite detailed statements constituting what makes up a good law.
3. ✔ Because the quality of governance comes quite late in the book and even with that Machiavelli pays no particular attention to the quality of these laws.
4. ✘ His ideas and definition of good laws and bad laws are not in tune to the current world affairs.

Question Number : 159 Question Id : 927759702 Question Type : MCQ Option Shuffling : Yes Is Question Mandatory : No Option Orientation : Vertical

Correct Marks : 1 Wrong Marks : 0.25

According to the passage which of the following given statement is incorrect?

Options :

1. ✘ According to Machiavelli, whatever actions a prince undertakes are with the single-minded intention of gaining a good reputation in history

books, even if that reputation is earned after the death of the prince.

2. ✘ Agathocles only gained power but no glory.

3. ✘ Supporter of Machiavelli believe that power was tangible entity, which could be reflected or ascertained by the size of the army that a ruler commanded.

4. ✔ Several historians believe that Agathocles actually got several exceptionally talented men secretly assassinated as he was afraid that one day they would pose a threat to the emperor's throne.

Question Number : 160 Question Id : 927759703 Question Type : MCQ Option Shuffling : Yes Is Question Mandatory : No Option Orientation : Vertical

Correct Marks : 1 Wrong Marks : 0.25

Why did Agathocles fail to become a part of the group of famous men, who according to Machiavelli had achieved glory?

Options :

1. ✘ Because Machiavelli considered him truly powerful.

2. ✔ Because even with all the power that Machiavelli commanded he could not achieve glory, for all the atrocities he had committed.

3. ✘ Because Agathocles was a ruler who only sought power.

4. ✘ Because Agathocles though powerful, was a weak ruler at heart.

General Hindi1

Group Number :	9
Group Id :	92775919
Group Maximum Duration :	0
Group Minimum Duration :	0
Show Attended Group? :	No
Edit Attended Group? :	No
Break time :	0
Group Marks :	20
Is this Group for Examiner? :	No

General Hindi1

Section Id :	92775919
--------------	----------

Section Number :	1
Section type :	Online
Mandatory or Optional :	Mandatory
Number of Questions :	20
Number of Questions to be attempted :	20
Section Marks :	20
Enable Mark as Answered Mark for Review and Clear Response :	Yes
Sub-Section Number :	1
Sub-Section Id :	92775922
Question Shuffling Allowed :	Yes

Question Number : 161 Question Id : 927759704 Question Type : MCQ Option Shuffling : Yes Is Question Mandatory : No Option Orientation : Vertical

Correct Marks : 1 Wrong Marks : 0.25

निम्नलिखित प्रश्न में, चार विकल्पों में से, उस विकल्प का चयन करें जो दिए गए सही संधि विच्छेद की संधि का सही विकल्प हो।
अन्न + अभाव

Options :

1. ✘ अन्नभाव
2. ✔ अन्नाभाव
3. ✘ अन्नअभाव
4. ✘ अनभव

Question Number : 161 Question Id : 927759704 Question Type : MCQ Option Shuffling : Yes Is Question Mandatory : No Option Orientation : Vertical

Correct Marks : 1 Wrong Marks : 0.25

निम्नलिखित प्रश्न में, चार विकल्पों में से, उस विकल्प का चयन करें जो दिए गए सही संधि विच्छेद की संधि का सही विकल्प हो।
अन्न + अभाव

Options :

1. ✘ अन्नभाव
2. ✔ अन्नाभाव
3. ✘ अन्नअभाव
4. ✘ अनभव

Question Number : 162 Question Id : 927759705 Question Type : MCQ Option Shuffling : Yes Is Question Mandatory : No Option Orientation : Vertical

Correct Marks : 1 Wrong Marks : 0.25

निम्नलिखित प्रश्न में, चार विकल्पों में से, उस विकल्प का चयन करें जो दिए गए शब्द के सही संधि विच्छेद का विकल्प हो।
शिवायन

Options :

1. ✘ शिवा + अयन
2. ✘ शिवा + आयन
3. ✔ शिव + अयन
4. ✘ शि + वायन

Question Number : 162 Question Id : 927759705 Question Type : MCQ Option Shuffling : Yes Is Question Mandatory : No Option Orientation : Vertical

Correct Marks : 1 Wrong Marks : 0.25

निम्नलिखित प्रश्न में, चार विकल्पों में से, उस विकल्प का चयन करें जो दिए गए शब्द के सही संधि विच्छेद का विकल्प हो।
शिवायन

Options :

1. ✘ शिवा + अयन
2. ✘ शिवा + आयन
3. ✔ शिव + अयन
4. ✘ शि + वायन

Question Number : 163 Question Id : 927759706 Question Type : MCQ Option Shuffling : Yes Is Question Mandatory : No Option Orientation : Vertical

Correct Marks : 1 Wrong Marks : 0.25

निम्नलिखित प्रश्न में, चार विकल्पों में से, उस विकल्प का चयन करें जो दिए गए शब्द के लिए सही बहुब्रीहि समास के विग्रह का विकल्प हो।
प्रधानमंत्री

Options :

1. ✔ मंत्रियों में प्रधान है जो
2. ✘ प्रधान का मंत्री

3. ✖ प्रधान पर मंत्री
4. ✖ प्रधान और मंत्री

Question Number : 163 Question Id : 927759706 Question Type : MCQ Option Shuffling : Yes Is Question Mandatory : No Option Orientation : Vertical

Correct Marks : 1 Wrong Marks : 0.25

निम्नलिखित प्रश्न में, चार विकल्पों में से, उस विकल्प का चयन करें जो दिए गए शब्द के लिए सही बहुव्रीहि समास के विग्रह का विकल्प हो।
प्रधानमंत्री

Options :

1. ✔ मंत्रियों में प्रधान है जो
2. ✖ प्रधान का मंत्री
3. ✖ प्रधान पर मंत्री
4. ✖ प्रधान और मंत्री

Question Number : 164 Question Id : 927759707 Question Type : MCQ Option Shuffling : Yes Is Question Mandatory : No Option Orientation : Vertical

Correct Marks : 1 Wrong Marks : 0.25

निम्नलिखित प्रश्न में, चार विकल्पों में से, उस विकल्प का चयन करें जो उपसर्ग से बने शब्द का सही विकल्प हो।

Options :

1. ✖ खिवैया
2. ✖ ओढ़नी
3. ✖ नगरी
4. ✔ उदंड

Question Number : 164 Question Id : 927759707 Question Type : MCQ Option Shuffling : Yes Is Question Mandatory : No Option Orientation : Vertical

Correct Marks : 1 Wrong Marks : 0.25

निम्नलिखित प्रश्न में, चार विकल्पों में से, उस विकल्प का चयन करें जो उपसर्ग से बने शब्द का सही विकल्प हो।

Options :

1. ✖ खिवैया
2. ✖ ओढ़नी

3. ✖ नगरी

4. ✔ उदंड

Question Number : 165 Question Id : 927759708 Question Type : MCQ Option Shuffling : Yes Is Question Mandatory : No Option Orientation : Vertical

Correct Marks : 1 Wrong Marks : 0.25

निम्नलिखित प्रश्न में, चार विकल्पों में से, उस विकल्प का चयन करें जो प्रत्यय से बने शब्द का सही विकल्प हो।

Options :

1. ✖ दुरूह

2. ✖ उदय

3. ✔ विशेषज्ञ

4. ✖ निराश्रय

Question Number : 165 Question Id : 927759708 Question Type : MCQ Option Shuffling : Yes Is Question Mandatory : No Option Orientation : Vertical

Correct Marks : 1 Wrong Marks : 0.25

निम्नलिखित प्रश्न में, चार विकल्पों में से, उस विकल्प का चयन करें जो प्रत्यय से बने शब्द का सही विकल्प हो।

Options :

1. ✖ दुरूह

2. ✖ उदय

3. ✔ विशेषज्ञ

4. ✖ निराश्रय

Question Number : 166 Question Id : 927759709 Question Type : MCQ Option Shuffling : Yes Is Question Mandatory : No Option Orientation : Vertical

Correct Marks : 1 Wrong Marks : 0.25

निम्नलिखित प्रश्न में, चार विकल्पों में से, उस विकल्प का चयन करें जो दिए गए शब्द का तत्सम रूप हो।

हाट

Options :

1. ✖ हस्त

2. ✔ हट्ट

3. ✖ हस्ती
4. ✖ हरित

Question Number : 166 Question Id : 927759709 Question Type : MCQ Option Shuffling : Yes Is Question Mandatory : No Option Orientation : Vertical

Correct Marks : 1 Wrong Marks : 0.25

निम्नलिखित प्रश्न में, चार विकल्पों में से, उस विकल्प का चयन करें जो दिए गए शब्द का तत्सम रूप हो।
हाट

Options :

1. ✖ हस्त
2. ✔ हट्ट
3. ✖ हस्ती
4. ✖ हरित

Question Number : 167 Question Id : 927759710 Question Type : MCQ Option Shuffling : Yes Is Question Mandatory : No Option Orientation : Vertical

Correct Marks : 1 Wrong Marks : 0.25

निम्नलिखित प्रश्न में, चार विकल्पों में से, उस विकल्प का चयन करें जो दिए गए शब्द का तद्भव रूप हो।
शीर्ष

Options :

1. ✔ सीस
2. ✖ सीख
3. ✖ ऊपर
4. ✖ सेठ

Question Number : 167 Question Id : 927759710 Question Type : MCQ Option Shuffling : Yes Is Question Mandatory : No Option Orientation : Vertical

Correct Marks : 1 Wrong Marks : 0.25

निम्नलिखित प्रश्न में, चार विकल्पों में से, उस विकल्प का चयन करें जो दिए गए शब्द का तद्भव रूप हो।
शीर्ष

Options :

1. ✓ सीस
2. ✗ सीख
3. ✗ ऊपर
4. ✗ सेठ

Question Number : 168 Question Id : 927759711 Question Type : MCQ Option Shuffling : Yes Is Question Mandatory : No Option Orientation : Vertical

Correct Marks : 1 Wrong Marks : 0.25

निम्नलिखित प्रश्न में, चार विकल्पों में से, उस विकल्प का चयन करें जो देशज शब्द का सही विकल्प हो।

Options :

1. ✗ मलाई
2. ✓ झाड़
3. ✗ खबर
4. ✗ दलाल

Question Number : 168 Question Id : 927759711 Question Type : MCQ Option Shuffling : Yes Is Question Mandatory : No Option Orientation : Vertical

Correct Marks : 1 Wrong Marks : 0.25

निम्नलिखित प्रश्न में, चार विकल्पों में से, उस विकल्प का चयन करें जो देशज शब्द का सही विकल्प हो।

Options :

1. ✗ मलाई
2. ✓ झाड़
3. ✗ खबर
4. ✗ दलाल

Question Number : 169 Question Id : 927759712 Question Type : MCQ Option Shuffling : Yes Is Question Mandatory : No Option Orientation : Vertical

Correct Marks : 1 Wrong Marks : 0.25

निम्नलिखित प्रश्न में, चार विकल्पों में से, उस विकल्प का चयन करें जो दिए गए शब्द के पर्यायवाची शब्द का सही विकल्प नहीं है।
हाथी

Options :

1. ✘ कुंजर
2. ✘ करी
3. ✔ पाणि
4. ✘ वारण

Question Number : 169 Question Id : 927759712 Question Type : MCQ Option Shuffling : Yes Is Question Mandatory : No Option Orientation : Vertical

Correct Marks : 1 Wrong Marks : 0.25

निम्नलिखित प्रश्न में, चार विकल्पों में से, उस विकल्प का चयन करें जो दिए गए शब्द के पर्यायवाची शब्द का सही विकल्प नहीं है।
हाथी

Options :

1. ✘ कुंजर
2. ✘ करी
3. ✔ पाणि
4. ✘ वारण

Question Number : 170 Question Id : 927759713 Question Type : MCQ Option Shuffling : Yes Is Question Mandatory : No Option Orientation : Vertical

Correct Marks : 1 Wrong Marks : 0.25

निम्नलिखित प्रश्न में, चार विकल्पों में से, उस विकल्प का चयन करें जो विलोम शब्द का सबसे अच्छा विकल्प है।

रूपवान

Options :

1. ✘ बेरंग
2. ✘ कल्पित
3. ✘ सुन्दर
4. ✔ कुरूप

Question Number : 170 Question Id : 927759713 Question Type : MCQ Option Shuffling : Yes Is Question Mandatory : No Option Orientation : Vertical

Correct Marks : 1 Wrong Marks : 0.25

निम्नलिखित प्रश्न में, चार विकल्पों में से, उस विकल्प का चयन करें जो विलोम शब्द का सबसे अच्छा विकल्प है।

रूपवान

Options :

1. ✘ बेरंग
2. ✘ कल्पित
3. ✘ सुन्दर
4. ✔ कुरूप

Question Number : 171 Question Id : 927759714 Question Type : MCQ Option Shuffling : Yes Is Question Mandatory : No Option Orientation : Vertical

Correct Marks : 1 Wrong Marks : 0.25

निम्नलिखित प्रश्न में, चार विकल्पों में से, उस सही विकल्प का चयन करें जो वाक्यांशों के लिए एक शब्द का विकल्प हो।
अवसर के अनुसार बदल जाने वाला

Options :

1. ✘ अवैध
2. ✘ अनुचर
3. ✔ अवसरवादी
4. ✘ अनन्त

Question Number : 171 Question Id : 927759714 Question Type : MCQ Option Shuffling : Yes Is Question Mandatory : No Option Orientation : Vertical

Correct Marks : 1 Wrong Marks : 0.25

निम्नलिखित प्रश्न में, चार विकल्पों में से, उस सही विकल्प का चयन करें जो वाक्यांशों के लिए एक शब्द का विकल्प हो।
अवसर के अनुसार बदल जाने वाला

Options :

1. ✘ अवैध
2. ✘ अनुचर
3. ✔ अवसरवादी
4. ✘ अनन्त

Question Number : 172 Question Id : 927759715 Question Type : MCQ Option Shuffling : Yes Is Question Mandatory : No Option Orientation : Vertical

Correct Marks : 1 Wrong Marks : 0.25

निम्नलिखित प्रश्न में, चार विकल्पों में से, उस सही विकल्प का चयन करें जो दिए गए शब्द के सही अर्थ का उचित विकल्प हो।
पाश

Options :

1. ✘ निकट
2. ✔ बंधन
3. ✘ नाव
4. ✘ हवा

Question Number : 172 Question Id : 927759715 Question Type : MCQ Option Shuffling : Yes Is Question Mandatory : No Option Orientation : Vertical

Correct Marks : 1 Wrong Marks : 0.25

निम्नलिखित प्रश्न में, चार विकल्पों में से, उस सही विकल्प का चयन करें जो दिए गए शब्द के सही अर्थ का उचित विकल्प हो।
पाश

Options :

1. ✘ निकट
2. ✔ बंधन
3. ✘ नाव
4. ✘ हवा

Question Number : 173 Question Id : 927759716 Question Type : MCQ Option Shuffling : Yes Is Question Mandatory : No Option Orientation : Vertical

Correct Marks : 1 Wrong Marks : 0.25

निम्नलिखित प्रश्न में, चार विकल्पों में से, उस सही विकल्प का चयन करें जो रिक्त स्थान के लिए उपयुक्त शब्द का सही विकल्प है।
बैसाखी पर्व हमें परिश्रम करने तथा अपने लक्ष्य की ओर _____ रहने का सन्देश देता है।

Options :

1. ✔ अग्रसर
2. ✘ न बढ़ने
3. ✘ परस्पर

4. ✖ निरंतर

Question Number : 173 Question Id : 927759716 Question Type : MCQ Option Shuffling : Yes Is Question Mandatory : No Option Orientation : Vertical

Correct Marks : 1 Wrong Marks : 0.25

निम्नलिखित प्रश्न में, चार विकल्पों में से, उस सही विकल्प का चयन करें जो रिक्त स्थान के लिए उपयुक्त शब्द का सही विकल्प है।
बैसाखी पर्व हमें परिश्रम करने तथा अपने लक्ष्य की ओर _____ रहने का सन्देश देता है।

Options :

1. ✔ अग्रसर
2. ✖ न बढ़ने
3. ✖ परस्पर
4. ✖ निरंतर

Question Number : 174 Question Id : 927759717 Question Type : MCQ Option Shuffling : Yes Is Question Mandatory : No Option Orientation : Vertical

Correct Marks : 1 Wrong Marks : 0.25

निम्नलिखित प्रश्न में, चार विकल्पों में से, उस विकल्प का चयन करें जो शुद्ध शब्द का सही विकल्प है।

Options :

1. ✖ सीफारिश
2. ✔ सिफारिश
3. ✖ सिफारीश
4. ✖ शिफारिस

Question Number : 174 Question Id : 927759717 Question Type : MCQ Option Shuffling : Yes Is Question Mandatory : No Option Orientation : Vertical

Correct Marks : 1 Wrong Marks : 0.25

निम्नलिखित प्रश्न में, चार विकल्पों में से, उस विकल्प का चयन करें जो शुद्ध शब्द का सही विकल्प है।

Options :

1. ✖ सीफारिश
2. ✔ सिफारिश
3. ✖ सिफारीश

4. ✖ शिफारिस

Question Number : 175 Question Id : 927759718 Question Type : MCQ Option Shuffling : Yes Is Question Mandatory : No Option Orientation : Vertical

Correct Marks : 1 Wrong Marks : 0.25

निम्नलिखित प्रश्न में, चार विकल्पों में से, उस विकल्प का चयन करें जो शुद्ध शब्द का सही विकल्प है।

Options :

1. ✖ वीस्मयादी
2. ✖ विसमयादी
3. ✓ विस्मयादि
4. ✖ विस्माय्दी

Question Number : 175 Question Id : 927759718 Question Type : MCQ Option Shuffling : Yes Is Question Mandatory : No Option Orientation : Vertical

Correct Marks : 1 Wrong Marks : 0.25

निम्नलिखित प्रश्न में, चार विकल्पों में से, उस विकल्प का चयन करें जो शुद्ध शब्द का सही विकल्प है।

Options :

1. ✖ वीस्मयादी
2. ✖ विसमयादी
3. ✓ विस्मयादि
4. ✖ विस्माय्दी

Question Number : 176 Question Id : 927759719 Question Type : MCQ Option Shuffling : Yes Is Question Mandatory : No Option Orientation : Vertical

Correct Marks : 1 Wrong Marks : 0.25

निम्नलिखित प्रश्न में, चार विकल्पों में से, उस विकल्प का चयन करें जो दिए गए शब्द के समानार्थी शब्द का विकल्प नहीं है।
गाय -

Options :

1. ✖ धेनु
2. ✖ सुरभि
3. ✖ भद्रा

4. ✓ प्रभा

Question Number : 176 Question Id : 927759719 Question Type : MCQ Option Shuffling : Yes Is Question Mandatory : No Option Orientation : Vertical

Correct Marks : 1 Wrong Marks : 0.25

निम्नलिखित प्रश्न में, चार विकल्पों में से, उस विकल्प का चयन करें जो दिए गए शब्द के समानार्थी शब्द का विकल्प नहीं है।
गाय -

Options :

1. ✗ धेनु
2. ✗ सुरभि
3. ✗ भद्रा
4. ✓ प्रभा

Question Number : 177 Question Id : 927759720 Question Type : MCQ Option Shuffling : Yes Is Question Mandatory : No Option Orientation : Vertical

Correct Marks : 1 Wrong Marks : 0.25

निम्नलिखित प्रश्न में, चार विकल्पों में से, उस सही विकल्प का चयन करें जो दिए गए शब्द-युग्म के अर्थ का सही विकल्प हो।
सिता और सीता

Options :

1. ✗ सीना और जानकी
2. ✗ साथ और सोना
3. ✓ चीनी और जानकी
4. ✗ जानकी और सखी

Question Number : 177 Question Id : 927759720 Question Type : MCQ Option Shuffling : Yes Is Question Mandatory : No Option Orientation : Vertical

Correct Marks : 1 Wrong Marks : 0.25

निम्नलिखित प्रश्न में, चार विकल्पों में से, उस सही विकल्प का चयन करें जो दिए गए शब्द-युग्म के अर्थ का सही विकल्प हो।
सिता और सीता

Options :

1. ✗ सीना और जानकी

2. ✘ साथ और सोना
3. ✔ चीनी और जानकी
4. ✘ जानकी और सखी

Question Number : 178 Question Id : 927759721 Question Type : MCQ Option Shuffling : Yes Is Question Mandatory : No Option Orientation : Vertical

Correct Marks : 1 Wrong Marks : 0.25

निम्नलिखित प्रश्न में, चार विकल्पों में से, उस विकल्प का चयन करें जो सदैव पुल्लिंग रूप वाला विकल्प है।

Options :

1. ✘ झोंपड़ी
2. ✔ पारा
3. ✘ कक्षा
4. ✘ छत

Question Number : 178 Question Id : 927759721 Question Type : MCQ Option Shuffling : Yes Is Question Mandatory : No Option Orientation : Vertical

Correct Marks : 1 Wrong Marks : 0.25

निम्नलिखित प्रश्न में, चार विकल्पों में से, उस विकल्प का चयन करें जो सदैव पुल्लिंग रूप वाला विकल्प है।

Options :

1. ✘ झोंपड़ी
2. ✔ पारा
3. ✘ कक्षा
4. ✘ छत

Question Number : 179 Question Id : 927759722 Question Type : MCQ Option Shuffling : Yes Is Question Mandatory : No Option Orientation : Vertical

Correct Marks : 1 Wrong Marks : 0.25

निम्नलिखित प्रश्न में, चार विकल्पों में से, उस विकल्प का चयन करें जो सदैव बहुवचन रूप का सबसे अच्छा विकल्प है।

Options :

1. ✓ अक्षत
2. ✗ दूध
3. ✗ सोना
4. ✗ कौआ

Question Number : 179 Question Id : 927759722 Question Type : MCQ Option Shuffling : Yes Is Question Mandatory : No Option Orientation : Vertical

Correct Marks : 1 Wrong Marks : 0.25

निम्नलिखित प्रश्न में, चार विकल्पों में से, उस विकल्प का चयन करें जो सदैव बहुवचन रूप का सबसे अच्छा विकल्प है।

Options :

1. ✓ अक्षत
2. ✗ दूध
3. ✗ सोना
4. ✗ कौआ

Question Number : 180 Question Id : 927759723 Question Type : MCQ Option Shuffling : Yes Is Question Mandatory : No Option Orientation : Vertical

Correct Marks : 1 Wrong Marks : 0.25

निम्नलिखित प्रश्न में, चार विकल्पों में से, उस विकल्प का चयन करें जो कोष्ठक में दिए गए शब्द के अनुसार उत्तम पुरुष वाचक सर्वनाम का सबसे अच्छा विकल्प है।

Options :

1. ✗ (तुम) मेरा कोई काम नहीं करते।
2. ✗ (वह) किसी की भी बात नहीं सुनता है।
3. ✗ (तुम्हें) यहाँ किसी ने भी नहीं बुलाया।
4. ✓ (मैंने) उससे बात नहीं किया।

Question Number : 180 Question Id : 927759723 Question Type : MCQ Option Shuffling : Yes Is Question Mandatory : No Option Orientation : Vertical

Correct Marks : 1 Wrong Marks : 0.25

निम्नलिखित प्रश्न में, चार विकल्पों में से, उस विकल्प का चयन करें जो कोष्ठक में दिए गए शब्द के अनुसार उत्तम पुरुष वाचक सर्वनाम का सबसे अच्छा विकल्प है।

है।

Options :

1. ✘ (तुम) मेरा कोई काम नहीं करते।
2. ✘ (वह) किसी की भी बात नहीं सुनता है।
3. ✘ (तुम्हें) यहाँ किसी ने भी नहीं बुलाया।
4. ✔ (मैंने) उससे बात नहीं किया।

General Hindi2

Group Number :	10
Group Id :	92775920
Group Maximum Duration :	0
Group Minimum Duration :	120
Show Attended Group? :	No
Edit Attended Group? :	No
Break time :	0
Group Marks :	20
Is this Group for Examiner? :	No

General Hindi2

Section Id :	92775920
Section Number :	1
Section type :	Online
Mandatory or Optional :	Mandatory
Number of Questions :	16
Number of Questions to be attempted :	16
Section Marks :	20
Enable Mark as Answered Mark for Review and Clear Response :	Yes
Sub-Section Number :	1
Sub-Section Id :	92775923
Question Shuffling Allowed :	Yes

Question Number : 181 Question Id : 927759724 Question Type : MCQ Option Shuffling : Yes Is Question Mandatory : No Option Orientation : Vertical

Correct Marks : 1 Wrong Marks : 0.25

निम्नलिखित प्रश्न में, चार विकल्पों में से, उस विकल्प का चयन करें जो दिए गए वाक्य के काल का सही विकल्प हो।
पत्र भेजा जा रहा है।

Options :

1. ✘ संभाव्य वर्तमानकाल
2. ✔ तात्कालिक वर्तमानकाल
3. ✘ सामान्य वर्तमानकाल
4. ✘ आसन्न भूतकाल

Question Number : 181 Question Id : 927759724 Question Type : MCQ Option Shuffling : Yes Is Question Mandatory : No Option Orientation : Vertical

Correct Marks : 1 Wrong Marks : 0.25

निम्नलिखित प्रश्न में, चार विकल्पों में से, उस विकल्प का चयन करें जो दिए गए वाक्य के काल का सही विकल्प हो।
पत्र भेजा जा रहा है।

Options :

1. ✘ संभाव्य वर्तमानकाल
2. ✔ तात्कालिक वर्तमानकाल
3. ✘ सामान्य वर्तमानकाल
4. ✘ आसन्न भूतकाल

Question Number : 182 Question Id : 927759725 Question Type : MCQ Option Shuffling : Yes Is Question Mandatory : No Option Orientation : Vertical

Correct Marks : 1 Wrong Marks : 0.25

निम्नलिखित प्रश्न में, चार विकल्पों में से, उस विकल्प का चयन करें जो दिए गए वाक्य के लिए वृत्ति के भेद का सबसे अच्छा विकल्प है।
मोहन अपना काम पूरा कर लिया होगा।

Options :

1. ✘ संकेतार्थ
2. ✔ संदेहार्थ

3. ✖ संभावनार्थ
4. ✖ विध्यर्थ

Question Number : 182 Question Id : 927759725 Question Type : MCQ Option Shuffling : Yes Is Question Mandatory : No Option Orientation : Vertical

Correct Marks : 1 Wrong Marks : 0.25

निम्नलिखित प्रश्न में, चार विकल्पों में से, उस विकल्प का चयन करें जो दिए गए वाक्य के लिए वृत्ति के भेद का सबसे अच्छा विकल्प है।
मोहन अपना काम पूरा कर लिया होगा।

Options :

1. ✖ संकेतार्थ
2. ✔ संदेहार्थ
3. ✖ संभावनार्थ
4. ✖ विध्यर्थ

Question Number : 183 Question Id : 927759726 Question Type : MCQ Option Shuffling : Yes Is Question Mandatory : No Option Orientation : Vertical

Correct Marks : 1 Wrong Marks : 0.25

निम्नलिखित प्रश्न में, चार विकल्पों में से, उस विकल्प का चयन करें जो दिए गए वाक्य के लिए पक्ष के भेद का सबसे अच्छा विकल्प है।
दीप्ति कितना अच्छा खाना बना रही है!

Options :

1. ✔ सातप्यबोधक
2. ✖ नित्यताद्योतक
3. ✖ प्रगतिद्योतक
4. ✖ आरंभद्योतक

Question Number : 183 Question Id : 927759726 Question Type : MCQ Option Shuffling : Yes Is Question Mandatory : No Option Orientation : Vertical

Correct Marks : 1 Wrong Marks : 0.25

निम्नलिखित प्रश्न में, चार विकल्पों में से, उस विकल्प का चयन करें जो दिए गए वाक्य के लिए पक्ष के भेद का सबसे अच्छा विकल्प है।
दीप्ति कितना अच्छा खाना बना रही है!

Options :

1. ✓ सातप्यबोधक
2. ✗ नित्यताद्योतक
3. ✗ प्रगतिद्योतक
4. ✗ आरंभद्योतक

Question Number : 184 Question Id : 927759727 Question Type : MCQ Option Shuffling : Yes Is Question Mandatory : No Option Orientation : Vertical

Correct Marks : 1 Wrong Marks : 0.25

निम्नलिखित प्रश्न में, चार विकल्पों में से, उस विकल्प का चयन करें जो सही वाक्य भेद का विकल्प हो।
दीपा ने अपना गृहकार्य किया।

Options :

1. ✗ मिश्र वाक्य
2. ✗ संयुक्त वाक्य
3. ✗ निषेधवाचक वाक्य
4. ✓ सरल वाक्य

Question Number : 184 Question Id : 927759727 Question Type : MCQ Option Shuffling : Yes Is Question Mandatory : No Option Orientation : Vertical

Correct Marks : 1 Wrong Marks : 0.25

निम्नलिखित प्रश्न में, चार विकल्पों में से, उस विकल्प का चयन करें जो सही वाक्य भेद का विकल्प हो।
दीपा ने अपना गृहकार्य किया।

Options :

1. ✗ मिश्र वाक्य
2. ✗ संयुक्त वाक्य
3. ✗ निषेधवाचक वाक्य
4. ✓ सरल वाक्य

Question Number : 185 Question Id : 927759728 Question Type : MCQ Option Shuffling : Yes Is Question Mandatory : No Option Orientation : Vertical

Correct Marks : 1 Wrong Marks : 0.25

निम्नलिखित प्रश्न में, चार विकल्पों में से, उस विकल्प का चयन करें जो सही वाक्य भेद का विकल्प हो।

उसने लिखना शुरू किया पर पूरा नहीं किया ।

Options :

1. ✓ संयुक्त वाक्य
2. ✗ मिश्र वाक्य
3. ✗ संदेहवाचक वाक्य
4. ✗ सरल वाक्य

Question Number : 185 Question Id : 927759728 Question Type : MCQ Option Shuffling : Yes Is Question Mandatory : No Option Orientation : Vertical

Correct Marks : 1 Wrong Marks : 0.25

निम्नलिखित प्रश्न में, चार विकल्पों में से, उस विकल्प का चयन करें जो सही वाक्य भेद का विकल्प हो।
उसने लिखना शुरू किया पर पूरा नहीं किया ।

Options :

1. ✓ संयुक्त वाक्य
2. ✗ मिश्र वाक्य
3. ✗ संदेहवाचक वाक्य
4. ✗ सरल वाक्य

Question Number : 186 Question Id : 927759729 Question Type : MCQ Option Shuffling : Yes Is Question Mandatory : No Option Orientation : Vertical

Correct Marks : 1 Wrong Marks : 0.25

निम्नलिखित प्रश्न में, चार विकल्पों में से, उस विकल्प का चयन करें जो सही वाक्य भेद का विकल्प हो।
ज्यों ही वह बाहर गया, उसे चक्कर आ गया।

Options :

1. ✗ विधानवाचक वाक्य
2. ✗ सरल वाक्य
3. ✓ मिश्र वाक्य
4. ✗ संयुक्त वाक्य

Question Number : 186 Question Id : 927759729 Question Type : MCQ Option Shuffling : Yes Is Question Mandatory : No Option Orientation : Vertical

Correct Marks : 1 Wrong Marks : 0.25

निम्नलिखित प्रश्न में, चार विकल्पों में से, उस विकल्प का चयन करें जो सही वाक्य भेद का विकल्प हो।
ज्यों ही वह बाहर गया, उसे चक्कर आ गया।

Options :

1. ✘ विधानवाचक वाक्य
2. ✘ सरल वाक्य
3. ✔ मिश्र वाक्य
4. ✘ संयुक्त वाक्य

Question Number : 187 Question Id : 927759730 Question Type : MCQ Option Shuffling : Yes Is Question Mandatory : No Option Orientation : Vertical

Correct Marks : 1 Wrong Marks : 0.25

निम्नलिखित प्रश्न में, चार विकल्पों में से, उस विकल्प का चयन करें जो शुद्ध वाक्य का सबसे अच्छा विकल्प है।

Options :

1. ✘ आज वहां चलने पर तुम्हें क्या हर्ज़ है?
2. ✔ आज वहां चलने में तुम्हें क्या हर्ज़ है?
3. ✘ आज वहां चलने को तुम्हें क्या हर्ज़ है?
4. ✘ आज वहां चलने से तुम्हें क्या हर्ज़ है?

Question Number : 187 Question Id : 927759730 Question Type : MCQ Option Shuffling : Yes Is Question Mandatory : No Option Orientation : Vertical

Correct Marks : 1 Wrong Marks : 0.25

निम्नलिखित प्रश्न में, चार विकल्पों में से, उस विकल्प का चयन करें जो शुद्ध वाक्य का सबसे अच्छा विकल्प है।

Options :

1. ✘ आज वहां चलने पर तुम्हें क्या हर्ज़ है?
2. ✔ आज वहां चलने में तुम्हें क्या हर्ज़ है?
3. ✘ आज वहां चलने को तुम्हें क्या हर्ज़ है?
4. ✘ आज वहां चलने से तुम्हें क्या हर्ज़ है?

Question Number : 188 Question Id : 927759731 Question Type : MCQ Option Shuffling : Yes Is Question Mandatory : No Option Orientation : Vertical

Correct Marks : 1 Wrong Marks : 0.25

निम्नलिखित प्रश्न में, चार विकल्पों में से, उस विकल्प का चयन करें जो विराम चिह्न युक्त वाक्य का सही विकल्प हो।

Options :

1. ✘ उसने कांपती जुबान से कहा मैं मरना नहीं चाहता
2. ✘ उसने कांपती जुबान से कहा, मैं मरना नहीं चाहता।
3. ✔ उसने कांपती जुबान से कहा, "मैं मरना नहीं चाहता।"
4. ✘ उसने कांपती जुबान से कहा "मैं मरना नहीं चाहता"

Question Number : 188 Question Id : 927759731 Question Type : MCQ Option Shuffling : Yes Is Question Mandatory : No Option Orientation : Vertical

Correct Marks : 1 Wrong Marks : 0.25

निम्नलिखित प्रश्न में, चार विकल्पों में से, उस विकल्प का चयन करें जो विराम चिह्न युक्त वाक्य का सही विकल्प हो।

Options :

1. ✘ उसने कांपती जुबान से कहा मैं मरना नहीं चाहता
2. ✘ उसने कांपती जुबान से कहा, मैं मरना नहीं चाहता।
3. ✔ उसने कांपती जुबान से कहा, "मैं मरना नहीं चाहता।"
4. ✘ उसने कांपती जुबान से कहा "मैं मरना नहीं चाहता"

Question Number : 189 Question Id : 927759732 Question Type : MCQ Option Shuffling : Yes Is Question Mandatory : No Option Orientation : Vertical

Correct Marks : 1 Wrong Marks : 0.25

निम्नलिखित प्रश्न में, चार विकल्पों में से, उस विकल्प का चयन करें जो विराम चिह्न युक्त वाक्य का सही विकल्प हो।

Options :

1. ✘ हमारी पृथ्वी विशाल मैदानों, ऊँचे और चौड़े पत्थरों ऊँचे पर्वतों घने वनों, विशाल महासागरों नदियों, झीलों इत्यादि से बनी है।
2. ✘ हमारी पृथ्वी विशाल मैदानों: ऊँचे और चौड़े पत्थरों ऊँचे पर्वतों: घने वनों: विशाल महासागरों: नदियों: झीलों इत्यादि से बनी है
3. ✘ हमारी पृथ्वी विशाल मैदानों, ऊँचे और चौड़े-पत्थरों - ऊँचे पर्वतों, घने-वनों, विशाल महासागरों, नदियों, झीलों इत्यादि से बनी है।
4. ✔ हमारी पृथ्वी विशाल मैदानों, ऊँचे और चौड़े पत्थरों, ऊँचे पर्वतों, घने वनों, विशाल महासागरों, नदियों, झीलों इत्यादि से बनी है।

Question Number : 189 Question Id : 927759732 Question Type : MCQ Option Shuffling : Yes Is Question Mandatory : No Option Orientation : Vertical

Correct Marks : 1 Wrong Marks : 0.25

निम्नलिखित प्रश्न में, चार विकल्पों में से, उस विकल्प का चयन करें जो विराम चिह्न युक्त वाक्य का सही विकल्प हो।

Options :

1. ✘ हमारी पृथ्वी विशाल मैदानों, ऊँचे और चौड़े पत्थरों ऊँचे पर्वतों घने वनों, विशाल महासागरों नदियों, झीलों इत्यादि से बनी है।
2. ✘ हमारी पृथ्वी विशाल मैदानों: ऊँचे और चौड़े पत्थरों ऊँचे पर्वतों: घने वनों: विशाल महासागरों: नदियों: झीलों इत्यादि से बनी है।
3. ✘ हमारी पृथ्वी विशाल मैदानों, ऊँचे और चौड़े-पत्थरों - ऊँचे पर्वतों, घने-वनों, विशाल महासागरों, नदियों, झीलों इत्यादि से बनी है।
4. ✔ हमारी पृथ्वी विशाल मैदानों, ऊँचे और चौड़े पत्थरों, ऊँचे पर्वतों, घने वनों, विशाल महासागरों, नदियों, झीलों इत्यादि से बनी है।

Question Number : 190 Question Id : 927759733 Question Type : MCQ Option Shuffling : Yes Is Question Mandatory : No Option Orientation : Vertical

Correct Marks : 1 Wrong Marks : 0.25

निम्नलिखित प्रश्न में, चार विकल्पों में से, उस विकल्प का चयन करें जो दिए गए लोकोक्ति का सही अर्थ वाला विकल्प है।
आग बिना धुआँ नहीं -

Options :

1. ✘ दुर्दिन झेलना
2. ✔ बिना कारण कुछ भी नहीं होता
3. ✘ पूर्णतः स्वतंत्र रहना
4. ✘ लाईलाज बीमारी

Question Number : 190 Question Id : 927759733 Question Type : MCQ Option Shuffling : Yes Is Question Mandatory : No Option Orientation : Vertical

Correct Marks : 1 Wrong Marks : 0.25

निम्नलिखित प्रश्न में, चार विकल्पों में से, उस विकल्प का चयन करें जो दिए गए लोकोक्ति का सही अर्थ वाला विकल्प है।
आग बिना धुआँ नहीं -

Options :

1. ✘ दुर्दिन झेलना
2. ✔ बिना कारण कुछ भी नहीं होता
3. ✘ पूर्णतः स्वतंत्र रहना
4. ✘ लाईलाज बीमारी

Question Number : 191 Question Id : 927759734 Question Type : MCQ Option Shuffling : Yes Is Question Mandatory : No Option Orientation : Vertical

Correct Marks : 1 Wrong Marks : 0.25

निम्नलिखित प्रश्न में, चार विकल्पों में से, उस विकल्प का चयन करें जो दिए गए लोकोक्ति का सही अर्थ वाला विकल्प है।
आप तजे तो हरि को भजे -

Options :

1. ✓ परमार्थ करने के लिए स्वार्थ को त्यागना पड़ता है
2. ✗ निरुद्देश्य कार्य न करना
3. ✗ एक के साथ दुसरे दोष का होना
4. ✗ दुविधा में पड़ना

Question Number : 191 Question Id : 927759734 Question Type : MCQ Option Shuffling : Yes Is Question Mandatory : No Option Orientation : Vertical

Correct Marks : 1 Wrong Marks : 0.25

निम्नलिखित प्रश्न में, चार विकल्पों में से, उस विकल्प का चयन करें जो दिए गए लोकोक्ति का सही अर्थ वाला विकल्प है।
आप तजे तो हरि को भजे -

Options :

1. ✓ परमार्थ करने के लिए स्वार्थ को त्यागना पड़ता है
2. ✗ निरुद्देश्य कार्य न करना
3. ✗ एक के साथ दुसरे दोष का होना
4. ✗ दुविधा में पड़ना

Question Number : 192 Question Id : 927759735 Question Type : MCQ Option Shuffling : Yes Is Question Mandatory : No Option Orientation : Vertical

Correct Marks : 1 Wrong Marks : 0.25

निम्नलिखित प्रश्न में, चार विकल्पों में से, उस विकल्प का चयन करें जो दिए गए लोकोक्ति का सही अर्थ वाला विकल्प है।
एक आवे के बर्तन -

Options :

1. ✗ एकता में बंधन
2. ✗ किसी प्रकार का भेदभाव न रखना
3. ✓ सभी का एक जैसा होना
4. ✗ अपनी बात से पलटना

Question Number : 192 Question Id : 927759735 Question Type : MCQ Option Shuffling : Yes Is Question Mandatory : No Option Orientation : Vertical

Correct Marks : 1 Wrong Marks : 0.25

निम्नलिखित प्रश्न में, चार विकल्पों में से, उस विकल्प का चयन करें जो दिए गए लोकोक्ति का सही अर्थ वाला विकल्प है।
एक आवे के बर्तन -

Options :

1. ✘ एकता में बंधन
2. ✘ किसी प्रकार का भेदभाव न रखना
3. ✔ सभी का एक जैसा होना
4. ✘ अपनी बात से पलटना

Question Number : 193 Question Id : 927759736 Question Type : MCQ Option Shuffling : Yes Is Question Mandatory : No Option Orientation : Vertical

Correct Marks : 1 Wrong Marks : 0.25

निम्नलिखित प्रश्न में, चार विकल्पों में से, उस विकल्प का चयन करें जो दी गई मुहावरे का सही अर्थ वाला विकल्प है।
सिंग काट कर बछड़ों में मिलना -

Options :

1. ✘ दशा सुधरना
2. ✘ अच्छी वस्तु का और अच्छा होना
3. ✘ होश ठीक होना।
4. ✔ बूढ़े होकर भी बच्चों जैसा काम करना

Question Number : 193 Question Id : 927759736 Question Type : MCQ Option Shuffling : Yes Is Question Mandatory : No Option Orientation : Vertical

Correct Marks : 1 Wrong Marks : 0.25

निम्नलिखित प्रश्न में, चार विकल्पों में से, उस विकल्प का चयन करें जो दी गई मुहावरे का सही अर्थ वाला विकल्प है।
सिंग काट कर बछड़ों में मिलना -

Options :

1. ✘ दशा सुधरना
2. ✘ अच्छी वस्तु का और अच्छा होना
3. ✘ होश ठीक होना।

4. ✓ बूढ़े होकर भी बच्चों जैसा काम करना

Question Number : 194 Question Id : 927759737 Question Type : MCQ Option Shuffling : Yes Is Question Mandatory : No Option Orientation : Vertical

Correct Marks : 1 Wrong Marks : 0.25

निम्नलिखित प्रश्न में, चार विकल्पों में से, उस विकल्प का चयन करें जो दी गई मुहावरे का सही अर्थ वाला विकल्प है।
बासी कढ़ी में उबाल आना -

Options :

1. ✗ अपने को संकट में डालना
2. ✓ समय बीत जाने पर इच्छा जागना
3. ✗ बहुत सरल काम
4. ✗ अत्यंत प्रसन्न होना

Question Number : 194 Question Id : 927759737 Question Type : MCQ Option Shuffling : Yes Is Question Mandatory : No Option Orientation : Vertical

Correct Marks : 1 Wrong Marks : 0.25

निम्नलिखित प्रश्न में, चार विकल्पों में से, उस विकल्प का चयन करें जो दी गई मुहावरे का सही अर्थ वाला विकल्प है।
बासी कढ़ी में उबाल आना -

Options :

1. ✗ अपने को संकट में डालना
2. ✓ समय बीत जाने पर इच्छा जागना
3. ✗ बहुत सरल काम
4. ✗ अत्यंत प्रसन्न होना

Question Number : 195 Question Id : 927759738 Question Type : MCQ Option Shuffling : Yes Is Question Mandatory : No Option Orientation : Vertical

Correct Marks : 1 Wrong Marks : 0.25

निम्नलिखित प्रश्न में, चार विकल्पों में से, उस विकल्प का चयन करें जो दिए गए मुहावरे का सही अर्थ वाला विकल्प है।
बखिया उधेड़ना -

Options :

1. ✓ भेद खोलना

2. ✘ कलंक लगना
3. ✘ प्रभावहीन धमकी
4. ✘ सावधानी बरतना

Question Number : 195 Question Id : 927759738 Question Type : MCQ Option Shuffling : Yes Is Question Mandatory : No Option Orientation : Vertical

Correct Marks : 1 Wrong Marks : 0.25

निम्नलिखित प्रश्न में, चार विकल्पों में से, उस विकल्प का चयन करें जो दिए गए मुहावरे का सही अर्थ वाला विकल्प है।
बखिया उधेड़ना -

Options :

1. ✔ भेद खोलना
2. ✘ कलंक लगना
3. ✘ प्रभावहीन धमकी
4. ✘ सावधानी बरतना

Sub-Section Number :

2

Sub-Section Id :

92775924

Question Shuffling Allowed :

Yes

Question Id : 927759739 Question Type : COMPREHENSION Sub Question Shuffling Allowed : Yes Group Comprehension Questions : No

Question Numbers : (196 to 200)

नीचे दिए गये गद्यांश के बाद 5 प्रश्न दिए गये हैं। इस गद्यांश को ध्यानपूर्वक पढ़ें और चार विकल्पों में से प्रत्येक प्रश्न का सर्वोत्तम उत्तर चुनें।
झारखण्ड के पर्यावरण संरक्षक सिमोन उरांव को केंद्र सरकार ने उनके परिश्रम और लगन को पद्मश्री सम्मान से नवाजा है। सिमोन ने जल संचयन के लिए अकेले छः गांवों में तालाब खुदवाए और पेड़ लगाकर एक अनोखी मिसाल पेश की। अब इन गांवों में साल भर में तीन फसलें उपजाई जा रही हैं। झारखंड की राजधानी रांची से 35 किलोमीटर दूर बेड़ों प्रखंड के खस्सी टोला में जमटोली पहाड़ी की तलहटी के निचले हिस्सों में सिमोन सात दशकों से प्रकृति की प्रतिकूल परिस्थितियों से जूझते रहे हैं। अपने अदम्य साहस, दृढ़ संकल्प, जीवन के प्रति असीम आस्था तथा प्रकृति से मिले व्यावहारिक ज्ञान के बल पर बंजर ज़मीन को खेती लायक बनाया। अनपढ़ होने के बावजूद अपनी ग्रामीण तकनीक से जल प्रबंधन और वन संरक्षण को नया आयाम दिया। किसी पर्यावरणविद तथा कृषि वैज्ञानिक जैसी गहरी सोच रखनेवाले सिमोन आज इस क्षेत्र के प्रत्येक व्यक्ति के लिए प्रेरणास्रोत बने हुए हैं। हरियाली तथा जंगलों से बहुत गहरा लगाव रखने वाले सिमोन ने जंगल बचाओ अभियान की शुरुआत की तथा कृषि वन विकास समिति का निर्माण करके २५८ एकड़ जंगल की वैज्ञानिक तरीके से रक्षा की।

Sub questions

Question Number : 196 Question Id : 927759740 Question Type : MCQ Option Shuffling : Yes Is Question Mandatory : No Option

Orientation : Vertical

Correct Marks : 1 Wrong Marks : 0.25

अनुच्छेद के अनुसार सिमोन उरांव किस कार्य से जुड़े हुए थे?

Options :

1. ✓ जल संरक्षण और वृक्ष लगाने
2. ✗ लोगों को समझाने
3. ✗ स्व विकास से
4. ✗ जंगलों की कटाई से

Question Number : 197 Question Id : 927759741 Question Type : MCQ Option Shuffling : Yes Is Question Mandatory : No Option

Orientation : Vertical

Correct Marks : 1 Wrong Marks : 0.25

सिमोन उरांव को पद्मश्री सम्मान देने का क्या कारण था?

Options :

1. ✗ वृक्षों को देखकर
2. ✓ उनकी मेहनत व कार्य के प्रति निष्ठा
3. ✗ लोगों की शिफारिश
4. ✗ गाँव को देखकर

Question Number : 198 Question Id : 927759742 Question Type : MCQ Option Shuffling : Yes Is Question Mandatory : No Option

Orientation : Vertical

Correct Marks : 1 Wrong Marks : 0.25

सिमोन कई वर्षों से किसका डटकर मुकाबला कर रहे हैं?

Options :

1. ✗ गाँव के लोगों का
2. ✗ प्रशासन का
3. ✓ प्रकृति की विपरीत परिस्थिति का
4. ✗ कठिन कार्यों का

Question Number : 199 Question Id : 927759743 Question Type : MCQ Option Shuffling : Yes Is Question Mandatory : No Option

Orientation : Vertical

Correct Marks : 1 Wrong Marks : 0.25

इनमें से कौन - सा मिसाल का पर्यायवाची नहीं है?

Options :

1. ✘ प्रतिमान
2. ✘ आदर्श
3. ✘ दृष्टांत
4. ✔ कठिनाई

Question Number : 200 Question Id : 927759744 Question Type : MCQ Option Shuffling : Yes Is Question Mandatory : No Option Orientation : Vertical

Correct Marks : 1 Wrong Marks : 0.25

इस अनुच्छेद का कोई उपयुक्त शीर्षक-

Options :

1. ✘ जल व वृक्ष की आवश्यकता
2. ✘ सम्मान के अधिकारी
3. ✔ पर्यावरण प्रेमी
4. ✘ गाँवों की देखरेख

Question Id : 927759739 Question Type : COMPREHENSION Sub Question Shuffling Allowed : Yes Group Comprehension Questions : No

Question Numbers : (196 to 200)

नीचे दिए गये गद्यांश के बाद 5 प्रश्न दिए गये हैं। इस गद्यांश को ध्यानपूर्वक पढ़ें और चार विकल्पों में से प्रत्येक प्रश्न का सर्वोत्तम उत्तर चुनें। झारखण्ड के पर्यावरण संरक्षक सिमोन उरांव को केंद्र सरकार ने उनके परिश्रम और लगन को पद्मश्री सम्मान से नवाजा है। सिमोन ने जल संचयन के लिए अकेले छः गांवों में तालाब खुदवाए और पेड़ लगाकर एक अनोखी मिसाल पेश की। अब इन गांवों में साल भर में तीन फसलें उपजाई जा रही हैं। झारखंड की राजधानी रांची से 35 किलोमीटर दूर बेड़ों प्रखंड के खस्सी टोला में जमटोली पहाड़ी की तलहटी के निचले हिस्सों में सिमोन सात दशकों से प्रकृति की प्रतिकूल परिस्थितियों से जूझते रहे हैं। अपने अदम्य साहस, दृढ़ संकल्प, जीवन के प्रति असीम आस्था तथा प्रकृति से मिले व्यावहारिक ज्ञान के बल पर बंजर ज़मीन को खेती लायक बनाया। अनपढ़ होने के बावजूद अपनी ग्रामीण तकनीक से जल प्रबंधन और वन संरक्षण को नया आयाम दिया। किसी पर्यावरणविद तथा कृषि वैज्ञानिक जैसी गहरी सोच रखनेवाले सिमोन आज इस क्षेत्र के प्रत्येक व्यक्ति के लिए प्रेरणास्रोत बने हुए हैं। हरियाली तथा जंगलों से बहुत गहरा लगाव रखने वाले सिमोन ने जंगल बचाओ अभियान की शुरुआत की तथा कृषि वन विकास समिति का निर्माण करके २५८ एकड़ जंगल की वैज्ञानिक तरीके से रक्षा की।

Sub questions

Question Number : 196 Question Id : 927759740 Question Type : MCQ Option Shuffling : Yes Is Question Mandatory : No Option Orientation : Vertical

Correct Marks : 1 Wrong Marks : 0.25

अनुच्छेद के अनुसार सिमोन उरांव किस कार्य से जुड़े हुए थे?

Options :

1. ✓ जल संरक्षण और वृक्ष लगाने
2. ✗ लोगों को समझाने
3. ✗ स्व विकास से
4. ✗ जंगलों की कटाई से

Question Number : 197 Question Id : 927759741 Question Type : MCQ Option Shuffling : Yes Is Question Mandatory : No Option Orientation : Vertical

Correct Marks : 1 Wrong Marks : 0.25

सिमोन उरांव को पद्मश्री सम्मान देने का क्या कारण था?

Options :

1. ✗ वृक्षों को देखकर
2. ✓ उनकी मेहनत व कार्य के प्रति निष्ठा
3. ✗ लोगों की शिफारिश
4. ✗ गाँव को देखकर

Question Number : 198 Question Id : 927759742 Question Type : MCQ Option Shuffling : Yes Is Question Mandatory : No Option Orientation : Vertical

Correct Marks : 1 Wrong Marks : 0.25

सिमोन कई वर्षों से किसका डटकर मुकाबला कर रहे हैं?

Options :

1. ✗ गाँव के लोगों का
2. ✗ प्रशासन का
3. ✓ प्रकृति की विपरीत परिस्थिति का
4. ✗ कठिन कार्यों का

Question Number : 199 Question Id : 927759743 Question Type : MCQ Option Shuffling : Yes Is Question Mandatory : No Option Orientation : Vertical

Correct Marks : 1 Wrong Marks : 0.25

इनमें से कौन - सा मिसाल का पर्यायवाची नहीं है?

Options :

1. ✘ प्रतिमान
2. ✘ आदर्श
3. ✘ दृष्टांत
4. ✔ कठिनाई

Question Number : 200 Question Id : 927759744 Question Type : MCQ Option Shuffling : Yes Is Question Mandatory : No Option Orientation : Vertical

Correct Marks : 1 Wrong Marks : 0.25

इस अनुच्छेद का कोई उपयुक्त शीर्षक-

Options :

1. ✘ जल व वृक्ष की आवश्यकता
2. ✘ सम्मान के अधिकारी
3. ✔ पर्यावरण प्रेमी
4. ✘ गाँवों की देखरेख