

# Question Paper Preview

## Notations :

- 1.Options shown in green color and with ✓ icon are correct.
- 2.Options shown in red color and with ✗ icon are incorrect.

<b>Subject Name :</b>	Junior Stenographer
<b>Creation Date :</b>	2021-04-23 11:20:51
<b>Duration :</b>	120
<b>Total Marks :</b>	200
<b>Display Marks:</b>	Yes
<b>Share Answer Key With Delivery Engine :</b>	No
<b>Actual Answer Key :</b>	Yes
<b>Calculator :</b>	None
<b>Magnifying Glass Required? :</b>	No
<b>Ruler Required? :</b>	No
<b>Eraser Required? :</b>	No
<b>Scratch Pad Required? :</b>	No
<b>Rough Sketch/Notepad Required? :</b>	No
<b>Protractor Required? :</b>	No
<b>Show Watermark on Console? :</b>	Yes
<b>Highlighter :</b>	No
<b>Auto Save on Console? ( SA type of questions will be always auto saved ) :</b>	No

## Mental Ability1

<b>Group Number :</b>	1
<b>Group Id :</b>	976755205
<b>Group Maximum Duration :</b>	0
<b>Group Minimum Duration :</b>	0

Show Attended Group? : No  
Edit Attended Group? : No  
Break time : 0  
Group Marks : 20  
Is this Group for Examiner? : No

## General intelligence and reasoning Ability1

Section Id : 976755493  
Section Number : 1  
Section type : Online  
Mandatory or Optional : Mandatory  
Number of Questions : 20  
Number of Questions to be attempted : 20  
Section Marks : 20  
Enable Mark as Answered Mark for Review and Clear Response : Yes  
Sub-Section Number : 1  
Sub-Section Id : 976755592  
Question Shuffling Allowed : Yes

Question Number : 1 Question Id : 9767558523 Question Type : MCQ Option Shuffling : Yes Is Question Mandatory : No Option Orientation : Vertical

Correct Marks : 1 Wrong Marks : 0.25

Which option word CANNOT be formed by using the letters of the word given below?

APPRECIATION

Options :

1. ✘ PATRON
2. ✔ CARROT
3. ✘ TROPIC
4. ✘ IRONIC

Question Number : 1 Question Id : 9767558523 Question Type : MCQ Option Shuffling : Yes Is Question Mandatory : No Option

**Orientation : Vertical**

**Correct Marks : 1 Wrong Marks : 0.25**

निम्नलिखित विकल्पों में से कौनसा शब्द ऐसा है जो नीचे दिए शब्द के अक्षरों का प्रयोग कर के नहीं बनाया जा सकता है?

APPRECIATION

**Options :**

1. ✘ PATRON
2. ✔ CARROT
3. ✘ TROPIC
4. ✘ IRONIC

**Question Number : 2 Question Id : 9767558524 Question Type : MCQ Option Shuffling : Yes Is Question Mandatory : No Option**

**Orientation : Vertical**

**Correct Marks : 1 Wrong Marks : 0.25**

Find the wrong term in the following series:

BD, FH, JL, NP, RS

**Options :**

1. ✘ FH
2. ✘ JL
3. ✘ NP
4. ✔ RS

**Question Number : 2 Question Id : 9767558524 Question Type : MCQ Option Shuffling : Yes Is Question Mandatory : No Option**

**Orientation : Vertical**

**Correct Marks : 1 Wrong Marks : 0.25**

निम्नलिखित श्रृंखला में गलत पद ज्ञात करें:

BD, FH, JL, NP, RS

**Options :**

1. ✘ FH
2. ✘ JL
3. ✘ NP

4. ✓ RS

**Question Number : 3 Question Id : 9767558525 Question Type : MCQ Option Shuffling : Yes Is Question Mandatory : No Option Orientation : Vertical**

**Correct Marks : 1 Wrong Marks : 0.25**

Complete the following letter series:

ZWQ, XUO, VSM, \_\_\_\_\_.

**Options :**

1. ✓ TQK
2. ✗ SPJ
3. ✗ URL
4. ✗ RSM

**Question Number : 3 Question Id : 9767558525 Question Type : MCQ Option Shuffling : Yes Is Question Mandatory : No Option Orientation : Vertical**

**Correct Marks : 1 Wrong Marks : 0.25**

निम्नलिखित अक्षर श्रृंखला को पूरा करें:

ZWQ, XUO, VSM, \_\_\_\_\_

**Options :**

1. ✓ TQK
2. ✗ SPJ
3. ✗ URL
4. ✗ RSM

**Question Number : 4 Question Id : 9767558526 Question Type : MCQ Option Shuffling : Yes Is Question Mandatory : No Option Orientation : Vertical**

**Correct Marks : 1 Wrong Marks : 0.25**

Find the missing term in the following series :

2DW, 6GV, 10JU, \_\_\_\_\_, 18PS

**Options :**

1. ✘ 14NU
2. ✔ 14MT
3. ✘ 14OS
4. ✘ 14NR

**Question Number : 4 Question Id : 9767558526 Question Type : MCQ Option Shuffling : Yes Is Question Mandatory : No Option Orientation : Vertical**

**Correct Marks : 1 Wrong Marks : 0.25**

निम्नलिखित श्रृंखला में लुप्त पद ज्ञात करें:

2DW, 6GV, 10JU, \_\_\_\_\_, 18PS

**Options :**

1. ✘ 14NU
2. ✔ 14MT
3. ✘ 14OS
4. ✘ 14NR

**Question Number : 5 Question Id : 9767558527 Question Type : MCQ Option Shuffling : Yes Is Question Mandatory : No Option Orientation : Vertical**

**Correct Marks : 1 Wrong Marks : 0.25**

Select the option that is related to the third term on the same basis as the second term is related to the first term.

Pedal : Bicycle :: Pages : ?

**Options :**

1. ✔ Books
2. ✘ Letters
3. ✘ Sentences
4. ✘ Words

**Question Number : 5 Question Id : 9767558527 Question Type : MCQ Option Shuffling : Yes Is Question Mandatory : No Option Orientation : Vertical**

**Correct Marks : 1 Wrong Marks : 0.25**

उस विकल्प का चयन करें जो तीसरे पद से उसी प्रकार से संबंधित है जिस प्रकार से दूसरा पद पहले पद से संबंधित है।

पैडल : साइकिल :: पत्रे : ?

**Options :**

1. ✓ किताबें
2. ✗ अक्षर
3. ✗ वाक्य
4. ✗ शब्द

**Question Number : 6 Question Id : 9767558528 Question Type : MCQ Option Shuffling : Yes Is Question Mandatory : No Option Orientation : Vertical**

**Correct Marks : 1 Wrong Marks : 0.25**

Which option pair shares the same relationship between its words as that shared by the words in the below pair?

JSY : LVC :: ?

**Options :**

1. ✗ BHK : EIM
2. ✓ NVE : PYI
3. ✗ MNO : PQR
4. ✗ FPT : HQV

**Question Number : 6 Question Id : 9767558528 Question Type : MCQ Option Shuffling : Yes Is Question Mandatory : No Option Orientation : Vertical**

**Correct Marks : 1 Wrong Marks : 0.25**

निम्नलिखित में से किस विकल्प के शब्द युग्म में वही संबंध है जो संबंध नीचे दिए गए शब्द युग्म के बीच है।

JSY : LVC :: ?

**Options :**

1. ✗ BHK : EIM
2. ✓ NVE : PYI
3. ✗ MNO : PQR
4. ✗ FPT : HQV

**Question Number : 7 Question Id : 9767558529 Question Type : MCQ Option Shuffling : Yes Is Question Mandatory : No Option Orientation : Vertical**

**Correct Marks : 1 Wrong Marks : 0.25**

Select the option that is related to the third term on the same basis as the second term is related to the first term.

DGM : BIK :: WPN : ?

**Options :**

1. ✘ TQO
2. ✘ VSM
3. ✘ STK
4. ✔ URL

**Question Number : 7 Question Id : 9767558529 Question Type : MCQ Option Shuffling : Yes Is Question Mandatory : No Option Orientation : Vertical**

**Correct Marks : 1 Wrong Marks : 0.25**

उस विकल्प का चयन करें जो तीसरे पद से उसी प्रकार से संबंधित है जिस प्रकार से दूसरा पद पहले पद से संबंधित है।

DGM : BIK :: WPN : ?

**Options :**

1. ✘ TQO
2. ✘ VSM
3. ✘ STK
4. ✔ URL

**Question Number : 8 Question Id : 9767558530 Question Type : MCQ Option Shuffling : Yes Is Question Mandatory : No Option Orientation : Vertical**

**Correct Marks : 1 Wrong Marks : 0.25**

If SANDY is coded as 8-26-13-23-2, then what is the code for TENOR?

**Options :**

1. ✔ 7-22-13-12-9
2. ✘ 20-5-14-15-18
3. ✘ 8-23-14-13-10

4. ✘ 21-6-15-16-19

**Question Number : 8 Question Id : 9767558530 Question Type : MCQ Option Shuffling : Yes Is Question Mandatory : No Option Orientation : Vertical**

**Correct Marks : 1 Wrong Marks : 0.25**

यदि SANDY को 8-26-13-23-2 के रूप में कोडित किया गया है, तो TENOR के लिए कोड क्या है?

**Options :**

1. ✔ 7-22-13-12-9
2. ✘ 20-5-14-15-18
3. ✘ 8-23-14-13-10
4. ✘ 21-6-15-16-19

**Question Number : 9 Question Id : 9767558531 Question Type : MCQ Option Shuffling : Yes Is Question Mandatory : No Option Orientation : Vertical**

**Correct Marks : 1 Wrong Marks : 0.25**

If BE = 7, BAT = 23, then what is the code for BUG?

**Options :**

1. ✘ 36
2. ✔ 30
3. ✘ 28
4. ✘ 32

**Question Number : 9 Question Id : 9767558531 Question Type : MCQ Option Shuffling : Yes Is Question Mandatory : No Option Orientation : Vertical**

**Correct Marks : 1 Wrong Marks : 0.25**

यदि BE = 7, BAT = 23 है, तो BUG के लिए कोड क्या है?

**Options :**

1. ✘ 36
2. ✔ 30
3. ✘ 28
4. ✘ 32



**Question Number : 10 Question Id : 9767558532 Question Type : MCQ Option Shuffling : Yes Is Question Mandatory : No Option Orientation : Vertical**

**Correct Marks : 1 Wrong Marks : 0.25**

If meat is lemon, lemon is soap, soap is detergent, detergent is honey, honey is salt, salt is butter, butter is flour, then which among the following is sweet in taste?

**Options :**

1. ✘ flour
2. ✘ butter
3. ✘ honey
4. ✔ salt

**Question Number : 10 Question Id : 9767558532 Question Type : MCQ Option Shuffling : Yes Is Question Mandatory : No Option Orientation : Vertical**

**Correct Marks : 1 Wrong Marks : 0.25**

यदि मांस नींबू है, नींबू साबुन है, साबुन अपमार्जक है, अपमार्जक शहद है, शहद नमक है, नमक मक्खन है, मक्खन आटा है, तो निम्नलिखित में से कौन सा स्वाद में मीठा है?

**Options :**

1. ✘ आटा
2. ✘ मक्खन
3. ✘ शहद
4. ✔ नमक

**Question Number : 11 Question Id : 9767558533 Question Type : MCQ Option Shuffling : Yes Is Question Mandatory : No Option Orientation : Vertical**

**Correct Marks : 1 Wrong Marks : 0.25**

If SLATE is coded as HOZGV, then what is the code for HURRY?

**Options :**

1. ✘ THIE
2. ✘ TGJC
3. ✔ SFIIB
4. ✘ SHJD

**Question Number : 11 Question Id : 9767558533 Question Type : MCQ Option Shuffling : Yes Is Question Mandatory : No Option Orientation : Vertical**

**Correct Marks : 1 Wrong Marks : 0.25**

यदि SLATE को HOZGV के रूप में कोडित किया गया है, तो HURRY के लिए कोड क्या है?

**Options :**

1. ✘ THIE
2. ✘ TGJC
3. ✔ SFIIB
4. ✘ SHJD

**Question Number : 12 Question Id : 9767558534 Question Type : MCQ Option Shuffling : Yes Is Question Mandatory : No Option Orientation : Vertical**

**Correct Marks : 1 Wrong Marks : 0.25**

If P \$ Q means P is the father of Q; P \* Q means P is the brother of Q and P + Q means P is the wife of Q and P ! Q means P is the sister of Q, then what does A + B \$ C ! D means?

**Options :**

1. ✘ A is the husband of D
2. ✘ A is the father of D
3. ✔ A is the mother of D
4. ✘ A is the brother of D

**Question Number : 12 Question Id : 9767558534 Question Type : MCQ Option Shuffling : Yes Is Question Mandatory : No Option Orientation : Vertical**

**Correct Marks : 1 Wrong Marks : 0.25**

यदि P \$ Q का अर्थ है P, Q का पिता है; P \* Q का अर्थ है P, Q का भाई है और P + Q का अर्थ है P, Q की पत्नी है और P ! Q का अर्थ है P, Q की बहन है, तो A + B \$ C ! D का क्या अर्थ है?

**Options :**

1. ✘ A, D का पति है
2. ✘ A, D का पिता है
3. ✔ A, D की माता है
4. ✘ A, D का भाई है

**Question Number : 13 Question Id : 9767558535 Question Type : MCQ Option Shuffling : Yes Is Question Mandatory : No Option Orientation : Vertical**

**Correct Marks : 1 Wrong Marks : 0.25**

Arrange the following in a logical sequence:

1. Centimeter
2. Hectometer
3. Millimeter
4. Kilometer
5. Decameter

**Options :**

1. ✘ 1, 4, 3, 5, 2
2. ✘ 2, 3, 1, 5, 4
3. ✘ 4, 3, 5, 2, 1
4. ✔ 3, 1, 5, 2, 4

**Question Number : 13 Question Id : 9767558535 Question Type : MCQ Option Shuffling : Yes Is Question Mandatory : No Option Orientation : Vertical**

**Correct Marks : 1 Wrong Marks : 0.25**

निम्नलिखित को तार्किक क्रम में व्यवस्थित करें:

1. सेन्टीमीटर
2. हेक्टोमीटर
3. मिलीमीटर
4. किलोमीटर
5. डेकामीटर

**Options :**

1. ✘ 1, 4, 3, 5, 2
2. ✘ 2, 3, 1, 5, 4
3. ✘ 4, 3, 5, 2, 1
4. ✔ 3, 1, 5, 2, 4

**Question Number : 14 Question Id : 9767558536 Question Type : MCQ Option Shuffling : Yes Is Question Mandatory : No Option**

**Orientation : Vertical**

**Correct Marks : 1 Wrong Marks : 0.25**

Meena, Nikita, Prachi, Raman and Sikha are sitting around a circular table. Raman is sitting to the immediate right of Sikha. Prachi is sitting to the immediate left of Sikha. If Meena is sitting between Raman and Nikita, who is sitting to the immediate left of Nikita?

**Options :**

1. ✘ Prachi
2. ✔ Meena
3. ✘ Sikha
4. ✘ Raman

**Question Number : 14 Question Id : 9767558536 Question Type : MCQ Option Shuffling : Yes Is Question Mandatory : No Option**

**Orientation : Vertical**

**Correct Marks : 1 Wrong Marks : 0.25**

मीना, निकिता, प्राची, रमन और शीखा एक गोल मेज के चारों ओर बैठे हैं। रमन शीखा के तुरंत दाईं ओर बैठा है। प्राची शीखा के तुरंत बाईं ओर बैठी है। यदि मीना, रमन और निकिता के बीच में बैठी है, तो निकिता के तुरंत बाईं ओर कौन बैठा है?

**Options :**

1. ✘ प्राची
2. ✔ मीना
3. ✘ शीखा
4. ✘ रमन

**Question Number : 15 Question Id : 9767558537 Question Type : MCQ Option Shuffling : Yes Is Question Mandatory : No Option**

**Orientation : Vertical**

**Correct Marks : 1 Wrong Marks : 0.25**

In the question one statement is given, followed by two course of actions, I and II. You have to consider the statements to be true even if it seems to be at variance from commonly known facts. You have to decide which of the given course of actions, if any, follows from the given statement.

Statement: The company has been making losses from last 3 years.

Course of Actions:

I : The company should shut down to avoid further losses.

II : Board of Directors should analyse reasons of losses and make changes accordingly and restructure the entire organisation to revive the company.

**Options :**

1. ✖ Only I follows
2. ✖ Only II follows
3. ✖ Both I and II follows
4. ✔ Either I or II follows

**Question Number : 15 Question Id : 9767558537 Question Type : MCQ Option Shuffling : Yes Is Question Mandatory : No Option Orientation : Vertical**

**Correct Marks : 1 Wrong Marks : 0.25**

प्रश्न में एक कथन दिया गया है, जिसके बाद कार्रवाई के दो क्रम I और II दिए गए हैं। आपको उन कथनों को सत्य मानना है, भले ही यह सामान्यतः ज्ञात तथ्य से भिन्न प्रतीत हो। आपको यह निर्णय लेना है कि दिए गए कार्रवाई के क्रम में से कौन सा, यदि कोई हो, तो दिए गए कथन का अनुसरण करता है।

कथन: कंपनी पिछले 3 वर्षों से घाटे में चल रही है।

कार्रवाई का क्रम:

I: आगे के नुकसान से बचने के लिए कंपनी को बंद कर देना चाहिए।

II: निदेशक मंडल को नुकसान के कारणों का विश्लेषण करना चाहिए और तदनुसार बदलाव करने चाहिए और कंपनी को पूर्वरूप में लाने के लिए पूरे संगठन का पुनर्गठन करना चाहिए।

**Options :**

1. ✖ केवल I अनुसरण करता है
2. ✖ केवल II अनुसरण करता है
3. ✖ I और II दोनों अनुसरण करते हैं
4. ✔ या I या II अनुसरण करते हैं

**Question Number : 16 Question Id : 9767558538 Question Type : MCQ Option Shuffling : Yes Is Question Mandatory : No Option Orientation : Vertical**

**Correct Marks : 1 Wrong Marks : 0.25**

In the question two statements are given, followed by two conclusions, I and II. You have to consider the statements to be true even if it seems to be at variance from commonly known facts. You have to decide which of the given conclusions, if any, follows from the given statements.

Statement 1 : All pumpkins are peas.

Statement 2 : No peas are brinjals.

Conclusion I : Some brinjals are pumpkins.

Conclusion II : Some peas are pumpkins.

**Options :**

1. ✖ Only conclusion I follows
2. ✔ Only conclusion II follows
3. ✖ Both I and II follow
4. ✖ Neither I nor II follows

**Question Number : 16 Question Id : 9767558538 Question Type : MCQ Option Shuffling : Yes Is Question Mandatory : No Option Orientation : Vertical**

**Correct Marks : 1 Wrong Marks : 0.25**

प्रश्न में दो कथन दिए गए हैं, जिसके बाद दो निष्कर्ष I और II दिए गए हैं। आपको उन कथनों को सत्य मानना है, भले ही यह सामान्यतः ज्ञात तथ्य से भिन्न प्रतीत हो। आपको यह निर्णय लेना है कि दिए गए निष्कर्षों में से कौन सा, यदि कोई हो, तो दिए गए कथनों में से अनुसरण करता है।

कथन 1: सभी कद्दू मटर हैं।

कथन 2: कोई मटर बैंगन नहीं है।

निष्कर्ष I: कुछ बैंगन कद्दू हैं।

निष्कर्ष II: कुछ मटर कद्दू हैं।

**Options :**

1. ✖ केवल निष्कर्ष I अनुसरण करता है
2. ✔ केवल निष्कर्ष II अनुसरण करता है
3. ✖ I और II दोनों अनुसरण करते हैं
4. ✖ न I और न ही II अनुसरण करता है

**Question Number : 17 Question Id : 9767558539 Question Type : MCQ Option Shuffling : Yes Is Question Mandatory : No Option Orientation : Vertical**

**Correct Marks : 1 Wrong Marks : 0.25**

In the question one statement is given, followed by two conclusions, I and II. You have to consider the statement to be true even if it seems to be at variance from commonly known facts. You have to decide which of the given conclusions, if any, follows from the given statement.

Statement: Meena's boss scolded her in front of everyone in the meeting.

Conclusion I : Meena's boss does not like her.

Conclusion II : Meena was not very popular among her colleagues.

**Options :**

1. ✘ Only conclusion I follows
2. ✘ Only conclusion II follows
3. ✘ Both I and II follow
4. ✔ Neither I nor II follows

**Question Number : 17 Question Id : 9767558539 Question Type : MCQ Option Shuffling : Yes Is Question Mandatory : No Option Orientation : Vertical**

**Correct Marks : 1 Wrong Marks : 0.25**

प्रश्न में एक कथन दिया गया है, जिसके बाद दो निष्कर्ष I और II दिए गए हैं। आपको उस कथन को सत्य मानना है, भले ही यह सामान्यतः ज्ञात तथ्य से भिन्न प्रतीत हो। आपको यह निर्णय लेना है कि दिए गए निष्कर्षों में से कौन सा, यदि कोई हो, तो दिए गए कथन का अनुसरण करता है।

कथन: मीना के बॉस ने उसे बैठक में सबके सामने डांटा।

निष्कर्ष I: मीना का बॉस उसे पसंद नहीं करता है।

निष्कर्ष II: मीना अपने सहकर्मियों के बीच बहुत लोकप्रिय नहीं थी।

**Options :**

1. ✘ केवल निष्कर्ष I अनुसरण करता है
2. ✘ केवल निष्कर्ष II अनुसरण करता है
3. ✘ I और II दोनों अनुसरण करते हैं
4. ✔ न I और न ही II अनुसरण करता है

**Question Number : 18 Question Id : 9767558540 Question Type : MCQ Option Shuffling : Yes Is Question Mandatory : No Option Orientation : Vertical**

**Correct Marks : 1 Wrong Marks : 0.25**

Complete the following number series:

30, 41, 54, 69, 86, \_\_\_\_\_.

**Options :**

1. ✘ 98
2. ✘ 104
3. ✘ 102
4. ✔ 105

**Question Number : 18 Question Id : 9767558540 Question Type : MCQ Option Shuffling : Yes Is Question Mandatory : No Option Orientation : Vertical**

**Correct Marks : 1 Wrong Marks : 0.25**

निम्नलिखित संख्या श्रृंखला को पूरा करें:

30, 41, 54, 69, 86, \_\_\_\_\_

**Options :**

1. ✘ 98
2. ✘ 104
3. ✘ 102
4. ✔ 105

**Question Number : 19 Question Id : 9767558541 Question Type : MCQ Option Shuffling : Yes Is Question Mandatory : No Option Orientation : Vertical**

**Correct Marks : 1 Wrong Marks : 0.25**

Select the option that is related to the third term on the same basis as the second term is related to the first term.

8 : 56 :: 12 : ?

**Options :**

1. ✔ 132
2. ✘ 144
3. ✘ 156
4. ✘ 120

**Question Number : 19 Question Id : 9767558541 Question Type : MCQ Option Shuffling : Yes Is Question Mandatory : No Option Orientation : Vertical**

**Correct Marks : 1 Wrong Marks : 0.25**

उस विकल्प का चयन करें जो तीसरे पद से उसी प्रकार से संबंधित है जिस प्रकार से दूसरा पद पहले पद से संबंधित है।

8 : 56 :: 12 : ?

**Options :**

1. ✔ 132
2. ✘ 144



3. ✘ 156

4. ✘ 120

**Question Number : 20 Question Id : 9767558542 Question Type : MCQ Option Shuffling : Yes Is Question Mandatory : No Option Orientation : Vertical**

**Correct Marks : 1 Wrong Marks : 0.25**

Find the missing number in the following series:

190, 201, 179, 212, \_\_\_\_\_, 223

**Options :**

1. ✘ 172

2. ✘ 218

3. ✔ 168

4. ✘ 156

**Question Number : 20 Question Id : 9767558542 Question Type : MCQ Option Shuffling : Yes Is Question Mandatory : No Option Orientation : Vertical**

**Correct Marks : 1 Wrong Marks : 0.25**

निम्नलिखित श्रृंखला में लुप्त संख्या ज्ञात करें:

190, 201, 179, 212, \_\_\_\_\_, 223

**Options :**

1. ✘ 172

2. ✘ 218

3. ✔ 168

4. ✘ 156

## Mental Ability2

**Group Number :**

2

**Group Id :**

976755206

**Group Maximum Duration :**

0

<b>Group Minimum Duration :</b>	0
<b>Show Attended Group? :</b>	No
<b>Edit Attended Group? :</b>	No
<b>Break time :</b>	0
<b>Group Marks :</b>	20
<b>Is this Group for Examiner? :</b>	No

## General intelligence and reasoning Ability2

<b>Section Id :</b>	976755494
<b>Section Number :</b>	1
<b>Section type :</b>	Online
<b>Mandatory or Optional :</b>	Mandatory
<b>Number of Questions :</b>	20
<b>Number of Questions to be attempted :</b>	20
<b>Section Marks :</b>	20
<b>Enable Mark as Answered Mark for Review and Clear Response :</b>	Yes
<b>Sub-Section Number :</b>	1
<b>Sub-Section Id :</b>	976755593
<b>Question Shuffling Allowed :</b>	Yes

**Question Number : 21 Question Id : 9767558543 Question Type : MCQ Option Shuffling : Yes Is Question Mandatory : No Option Orientation : Vertical**

**Correct Marks : 1 Wrong Marks : 0.25**

If  $124@26 = 30$ ,  $98@87 = 37$ ,  $62@33 = 19$ , then  $86@54 = ?$

**Options :**

1. ✘ 32
2. ✔ 28
3. ✘ 46
4. ✘ 54

**Question Number : 21 Question Id : 9767558543 Question Type : MCQ Option Shuffling : Yes Is Question Mandatory : No Option Orientation : Vertical**

**Correct Marks : 1 Wrong Marks : 0.25**

यदि  $124@26 = 30$ ,  $98@87 = 37$ ,  $62@33 = 19$  है, तो  $86 @ 54 = ?$

**Options :**

1. ✘ 32
2. ✔ 28
3. ✘ 46
4. ✘ 54

**Question Number : 22 Question Id : 9767558544 Question Type : MCQ Option Shuffling : Yes Is Question Mandatory : No Option Orientation : Vertical**

**Correct Marks : 1 Wrong Marks : 0.25**

Which two signs should be interchanged to make the given equation correct?

$$1008 \div 21 + 8 \times 19 - 26 = 377$$

**Options :**

1. ✘  $\div$  and  $\times$
2. ✘  $\div$  and  $-$
3. ✔  $+$  and  $\times$
4. ✘  $+$  and  $-$

**Question Number : 22 Question Id : 9767558544 Question Type : MCQ Option Shuffling : Yes Is Question Mandatory : No Option Orientation : Vertical**

**Correct Marks : 1 Wrong Marks : 0.25**

नीचे दिए गए समीकरण को सही बनाने के लिए किन दो चिन्हों को परस्पर बदलना चाहिए?

$$1008 \div 21 + 8 \times 19 - 26 = 377$$

**Options :**

1. ✘  $\div$  और  $\times$
2. ✘  $\div$  और  $-$
3. ✔  $+$  और  $\times$
4. ✘  $+$  और  $-$

**Question Number : 23 Question Id : 9767558545 Question Type : MCQ Option Shuffling : Yes Is Question Mandatory : No Option Orientation : Vertical**

**Correct Marks : 1 Wrong Marks : 0.25**

The H.C.F. of two numbers is 29 and the other two factors of their L.C.M. are 12 and 11. What is the larger of the two numbers?

**Options :**

1. ✓ 348
2. ✗ 319
3. ✗ 121
4. ✗ 667

**Question Number : 23 Question Id : 9767558545 Question Type : MCQ Option Shuffling : Yes Is Question Mandatory : No Option Orientation : Vertical**

**Correct Marks : 1 Wrong Marks : 0.25**

दो संख्याओं का महत्तम समापवर्तक 29 है और उनके लघुत्तम समापवर्तक के अन्य दो गुणक 12 और 11 है। दो संख्याओं में से कौन सा बड़ा है?

**Options :**

1. ✓ 348
2. ✗ 319
3. ✗ 121
4. ✗ 667

**Question Number : 24 Question Id : 9767558546 Question Type : MCQ Option Shuffling : Yes Is Question Mandatory : No Option Orientation : Vertical**

**Correct Marks : 1 Wrong Marks : 0.25**

Find the wrong term in the following number series:

17, 30, 56, 94, 147

**Options :**

1. ✗ 30
2. ✗ 56
3. ✓ 94
4. ✗ 147

**Question Number : 24 Question Id : 9767558546 Question Type : MCQ Option Shuffling : Yes Is Question Mandatory : No Option Orientation : Vertical**

**Correct Marks : 1 Wrong Marks : 0.25**

निम्नलिखित संख्या श्रृंखला में गलत पद ज्ञात करें:

17, 30, 56, 94, 147

**Options :**


1. ✘ 30
2. ✘ 56
3. ✔ 94
4. ✘ 147

**Question Number : 25 Question Id : 9767558547 Question Type : MCQ Option Shuffling : Yes Is Question Mandatory : No Option Orientation : Vertical**

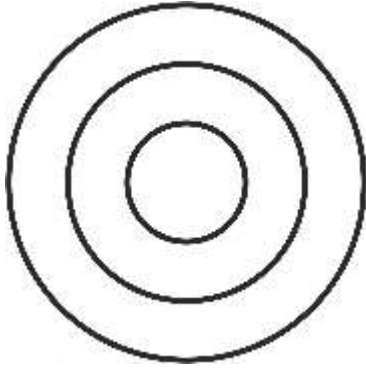
**Correct Marks : 1 Wrong Marks : 0.25**

Which of the following Venn diagrams best represents the relationship between council, minister, chief minister?


**Options :**



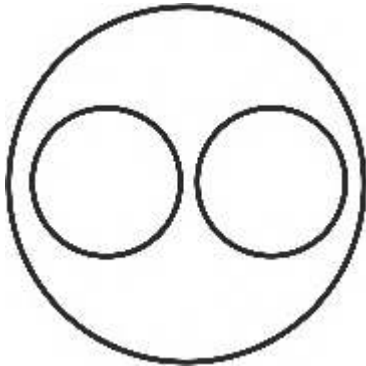
1. ✘



2. ✓



3. ✗




4. ✗

**Question Number : 25 Question Id : 9767558547 Question Type : MCQ Option Shuffling : Yes Is Question Mandatory : No Option Orientation : Vertical**

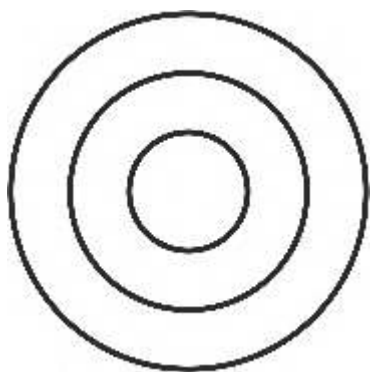
**Correct Marks : 1 Wrong Marks : 0.25**

निम्नलिखित वेन आरेखों में से कौन सा परिषद, मंत्री, मुख्य मंत्री के बीच के संबंध को सबसे अच्छा दर्शाता है?

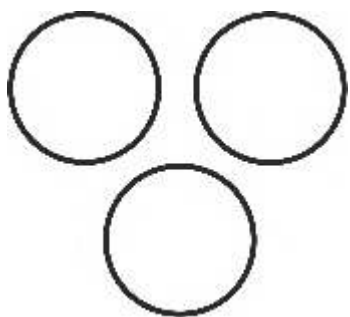
**Options :**



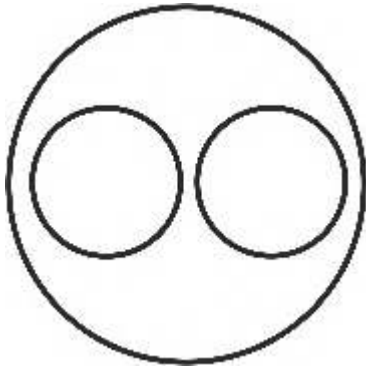
1. ✘



2. ✔



3. ✘

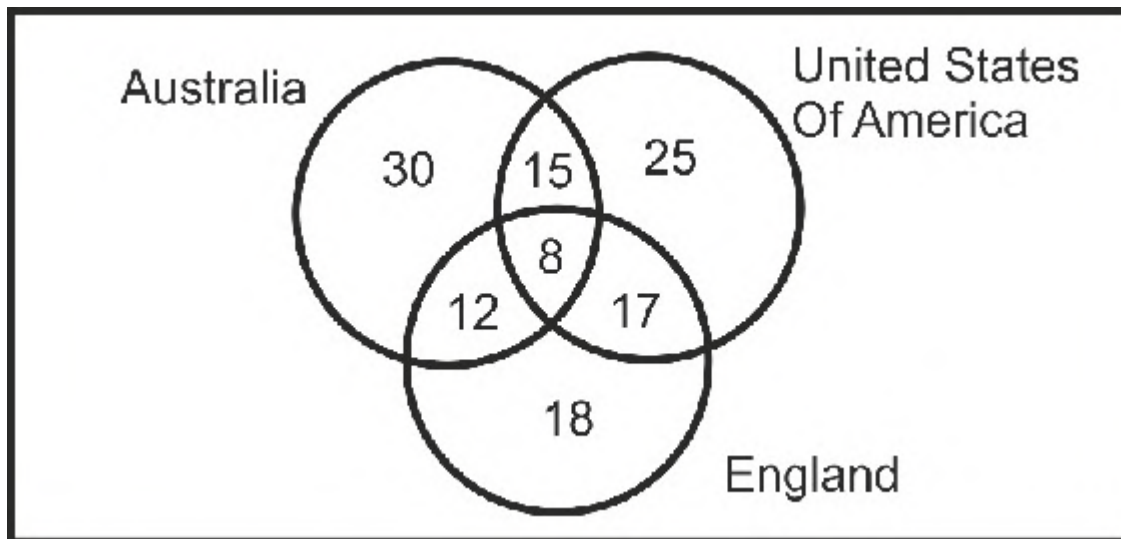


4. ✘

**Question Number : 26 Question Id : 9767558548 Question Type : MCQ Option Shuffling : Yes Is Question Mandatory : No Option Orientation : Vertical**

**Correct Marks : 1 Wrong Marks : 0.25**

The given Venn diagram shows the number of people in a colony who have travelled to Australia, England and United States of America. There are 100 people in the colony. How many of these people have been to only two countries?



**Options :**

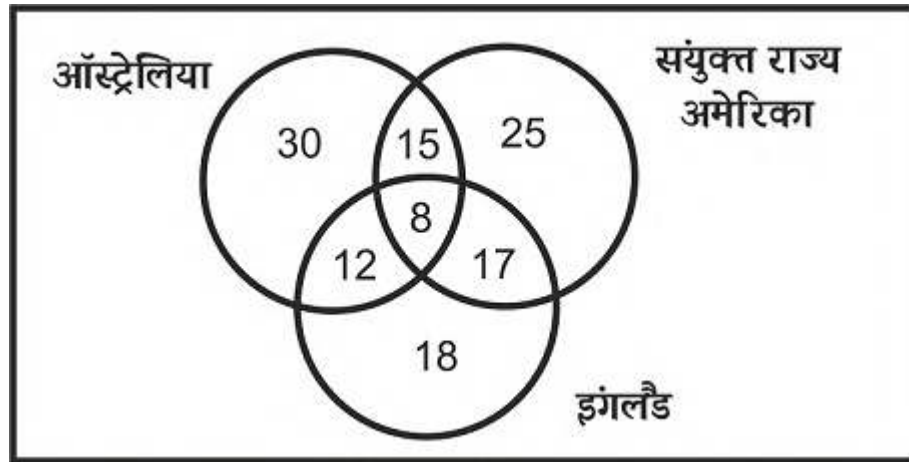
1. ✔ 44
2. ✘ 52
3. ✘ 29
4. ✘ 32



Question Number : 26 Question Id : 9767558548 Question Type : MCQ Option Shuffling : Yes Is Question Mandatory : No Option Orientation : Vertical

Correct Marks : 1 Wrong Marks : 0.25

दिए गए वेन आरेख में एक कॉलोनी के लोगों की संख्या दर्शायी गई है, जिन्होंने ऑस्ट्रेलिया, इंग्लैण्ड और संयुक्त राज्य अमेरीका की यात्रा की है। कॉलोनी में 100 लोग रहते हैं। इनमें से कितने लोगों ने केवल दो देशों में यात्रा की है?



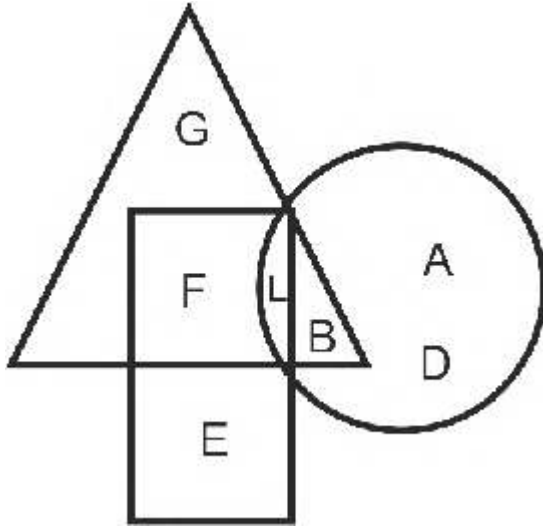
Options :

1. ✓ 44
2. ✗ 52
3. ✗ 29
4. ✗ 32

Question Number : 27 Question Id : 9767558549 Question Type : MCQ Option Shuffling : Yes Is Question Mandatory : No Option Orientation : Vertical

Correct Marks : 1 Wrong Marks : 0.25

In the following figure, triangle represents women, rectangle represents Indian, circle represents married. Which area represents women who are Indian but are not married?



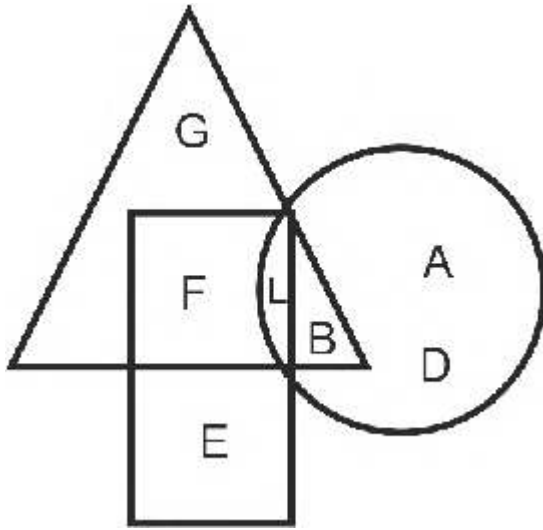
Options :

1. ✘ G
2. ✘ B
3. ✘ C
4. ✔ F

**Question Number : 27 Question Id : 9767558549 Question Type : MCQ Option Shuffling : Yes Is Question Mandatory : No Option Orientation : Vertical**

**Correct Marks : 1 Wrong Marks : 0.25**

निम्नलिखित आकृति में, त्रिभुज महिलाओं का प्रतिनिधित्व करता है, आयत भारतीय का प्रतिनिधित्व करता है, वृत्त विवाहित का प्रतिनिधित्व करता है। कौन सा क्षेत्र उन महिलाओं का प्रतिनिधित्व करता है जो भारतीय हैं लेकिन विवाहित नहीं हैं?



Options :

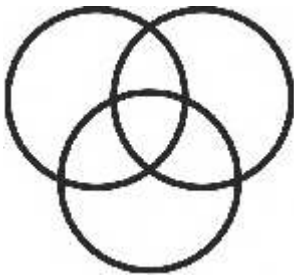
1. ✘ G
2. ✘ B
3. ✘ C
4. ✔ F

Question Number : 28 Question Id : 9767558550 Question Type : MCQ Option Shuffling : Yes Is Question Mandatory : No Option Orientation : Vertical

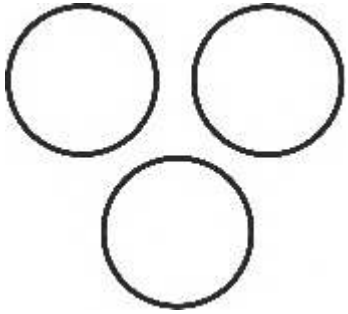
Correct Marks : 1 Wrong Marks : 0.25

Which of the following Venn diagrams best represents the relationship between politicians, lawyers and females?

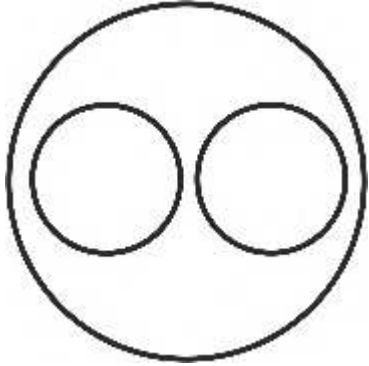
Options :



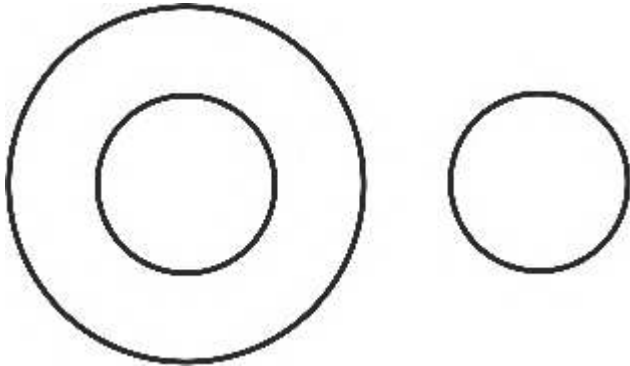
1. ✔



2. ✘



3. ✘



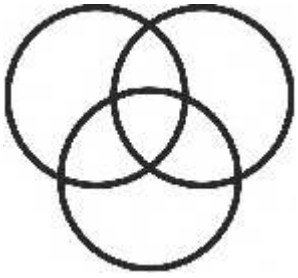
4. ✘

**Question Number : 28 Question Id : 9767558550 Question Type : MCQ Option Shuffling : Yes Is Question Mandatory : No Option Orientation : Vertical**

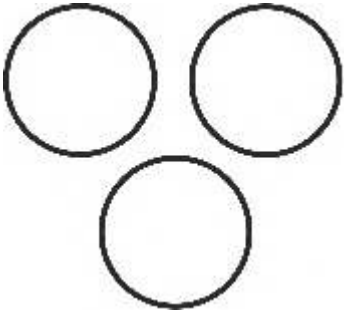
**Correct Marks : 1 Wrong Marks : 0.25**

निम्नलिखित में से कौन सा वेन आरेख राजनेताओं, वकीलों और महिलाओं के बीच के संबंध को सबसे अच्छा दर्शाता है?

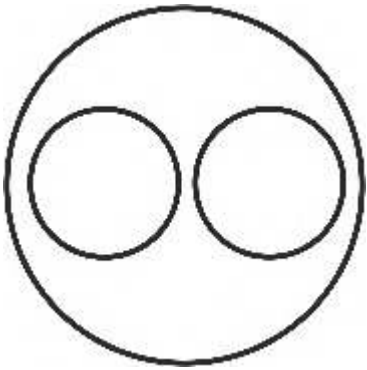
**Options :**



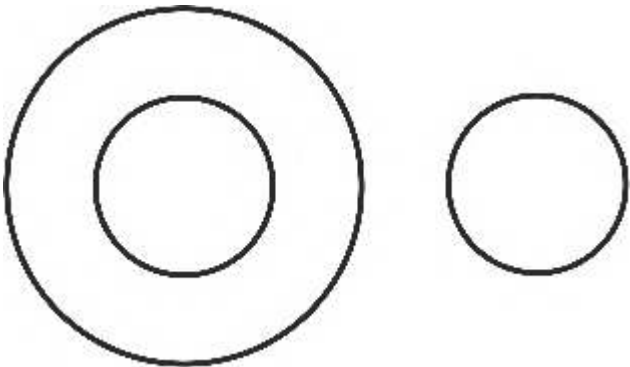
1. ✓



2. ✗



3. ✗



4. ✗

**Question Number : 29 Question Id : 9767558551 Question Type : MCQ Option Shuffling : Yes Is Question Mandatory : No Option Orientation : Vertical**

**Correct Marks : 1 Wrong Marks : 0.25**

Kashish is standing 80 m away the south-west direction of Lalit. If Manisha is standing 80 m away the south-east direction of Lalit, then Manisha is in which direction of Kashish?

**Options :**

1. ✓ East
2. ✗ West
3. ✗ North
4. ✗ South

**Question Number : 29 Question Id : 9767558551 Question Type : MCQ Option Shuffling : Yes Is Question Mandatory : No Option Orientation : Vertical**

**Correct Marks : 1 Wrong Marks : 0.25**

कशिश ललित के दक्षिण-पश्चिम दिशा में 80 m दूर खड़ी है। यदि मनीषा ललित के दक्षिण-पूर्व दिशा में 80 m दूर खड़ी है, तो मनीषा कशिश की किस दिशा में है?

**Options :**

1. ✓ पूर्व
2. ✗ पश्चिम
3. ✗ उत्तर
4. ✗ दक्षिण

**Question Number : 30 Question Id : 9767558552 Question Type : MCQ Option Shuffling : Yes Is Question Mandatory : No Option Orientation : Vertical**

**Correct Marks : 1 Wrong Marks : 0.25**

Shubham drives 25 km towards North and then he turns left and drives 45 km. Then, he turns left and drives 25 km. Then, he drives 25 km after turning to the left. Where he is now with respect to his starting position?

**Options :**

1. ✗ 20 km east
2. ✗ 15 km east
3. ✗ 15 km west

4. ✓ 20 km west

**Question Number : 30 Question Id : 9767558552 Question Type : MCQ Option Shuffling : Yes Is Question Mandatory : No Option Orientation : Vertical**

**Correct Marks : 1 Wrong Marks : 0.25**

शुभम उत्तर की ओर 25 km ड्राइव करता है और फिर वह बाईं ओर मुड़ता है और 45 km ड्राइव करता है। फिर, वह बाईं ओर मुड़ता है और 25 km ड्राइव करता है। फिर, वह बाईं ओर मुड़ने के बाद 25 km ड्राइव करता है। अपनी प्रारंभिक स्थिति के संबंध में अब वह कहां है?

**Options :**

1. ✗ 20 km पूर्व
2. ✗ 15 km पूर्व
3. ✗ 15 km पश्चिम
4. ✓ 20 km पश्चिम

**Question Number : 31 Question Id : 9767558553 Question Type : MCQ Option Shuffling : Yes Is Question Mandatory : No Option Orientation : Vertical**

**Correct Marks : 1 Wrong Marks : 0.25**

Anand started from his school towards west. After walking 50 m, he turned to the right and walked 20 m. Then, he turned to the right and walked 30 m. Then, he turned right at 135 degrees and has walked 60 m. In which direction Anand is going?

**Options :**

1. ✗ South-East
2. ✓ South-West
3. ✗ North-East
4. ✗ North-West

**Question Number : 31 Question Id : 9767558553 Question Type : MCQ Option Shuffling : Yes Is Question Mandatory : No Option Orientation : Vertical**

**Correct Marks : 1 Wrong Marks : 0.25**

आनंद अपने विद्यालय से पश्चिम की ओर चलने लगा। 50 m चलने के बाद, वह दाईं ओर मुड़ा और 20 m चला। फिर, वह दाईं ओर मुड़ा और 30 m चला। फिर, वह 135 डिग्री पर दाईं ओर मुड़ गया और 60 m तक चला। आनंद किस दिशा में जा रहा है?

**Options :**

1. ✗ दक्षिण-पूर्व
2. ✓ दक्षिण-पश्चिम

3. ✖ उत्तर-पूर्व
4. ✖ उत्तर-पश्चिम

**Question Number : 32 Question Id : 9767558554 Question Type : MCQ Option Shuffling : Yes Is Question Mandatory : No Option Orientation : Vertical**

**Correct Marks : 1 Wrong Marks : 0.25**

Amrish runs 150 metres towards East and turns to right and runs 100 metres. Then, he turns to right and runs 90 metres, and again turns to left to run 50 metres. Then, he takes a left turn and runs 120 metres and then turns to left and runs 60 metres. What direction is Amrish facing now?

**Options :**

1. ✖ East
2. ✖ West
3. ✔ North
4. ✖ South

**Question Number : 32 Question Id : 9767558554 Question Type : MCQ Option Shuffling : Yes Is Question Mandatory : No Option Orientation : Vertical**

**Correct Marks : 1 Wrong Marks : 0.25**

अमरीश पूर्व की ओर 150 m दौड़ता है और दाईं ओर मुड़ता है और 100 m दौड़ता है। फिर, वह दाईं ओर मुड़ता है और 90 m दौड़ता है, और 50 m दौड़ने के लिए फिर से बाईं ओर मुड़ता है। फिर, वह बाईं ओर मुड़ता है और 120 m दौड़ता है और फिर बाईं ओर मुड़ता है और 60 m दौड़ता है। अमरीश का मुँह अब किस दिशा में है?

**Options :**

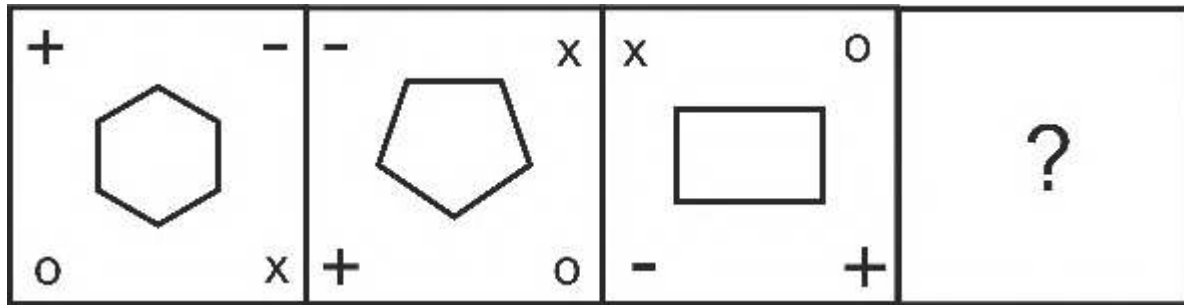
1. ✖ पूर्व
2. ✖ पश्चिम
3. ✔ उत्तर
4. ✖ दक्षिण

**Question Number : 33 Question Id : 9767558555 Question Type : MCQ Option Shuffling : Yes Is Question Mandatory : No Option Orientation : Vertical**

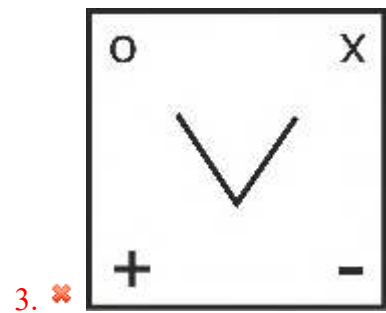
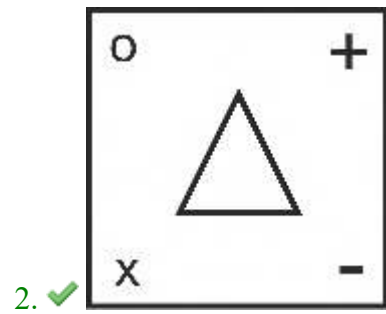
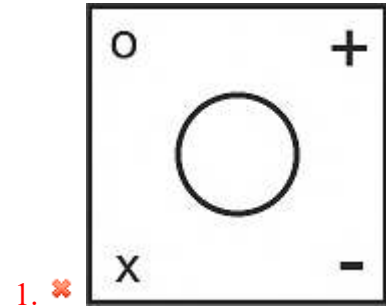
**Correct Marks : 1 Wrong Marks : 0.25**

Which of the following answer figures completes the series of the question figure?

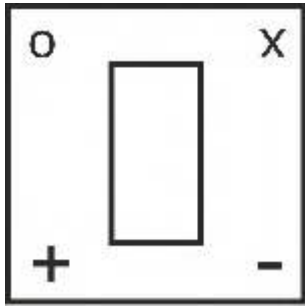




Options :



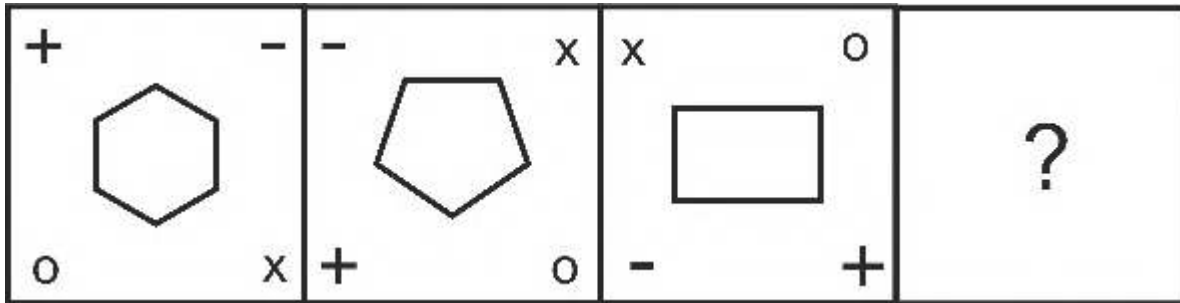
4. ✖



Question Number : 33 Question Id : 9767558555 Question Type : MCQ Option Shuffling : Yes Is Question Mandatory : No Option Orientation : Vertical

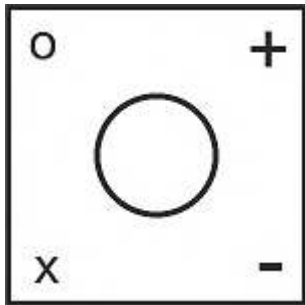
Correct Marks : 1 Wrong Marks : 0.25

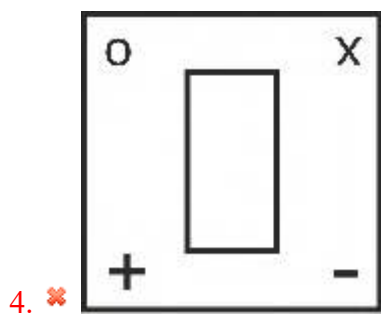
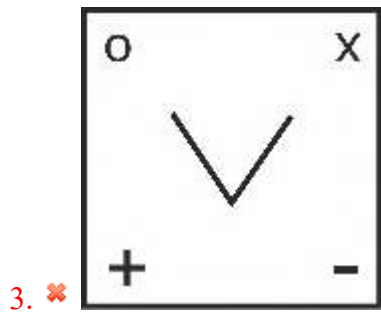
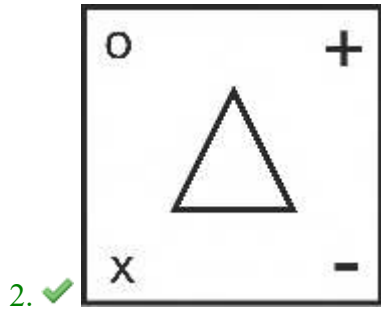
निम्नलिखित में से कौन सी उत्तर आकृति प्रश्न आकृति की श्रृंखला को पूरा करती है?



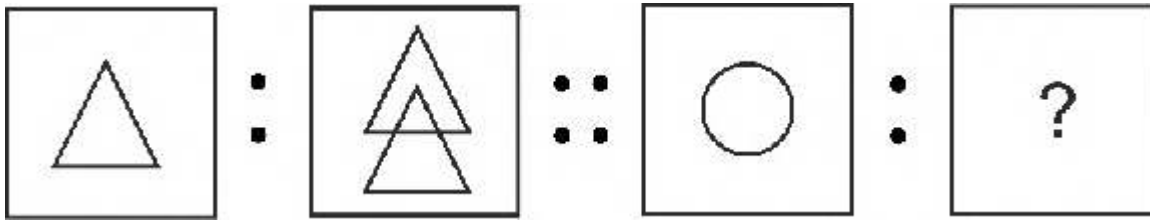
Options :

1. ✖

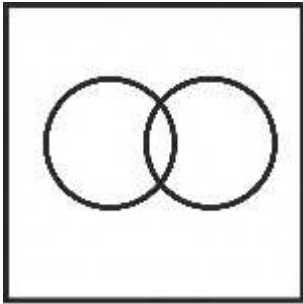




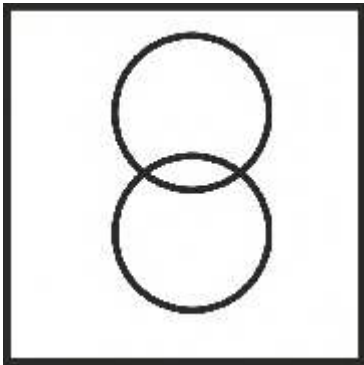
**Question Number : 34 Question Id : 9767558556 Question Type : MCQ Option Shuffling : Yes Is Question Mandatory : No Option Orientation : Vertical Correct Marks : 1 Wrong Marks : 0.25**  
Select the option that is related to the third image on the same basis as the second image is related to the first image.



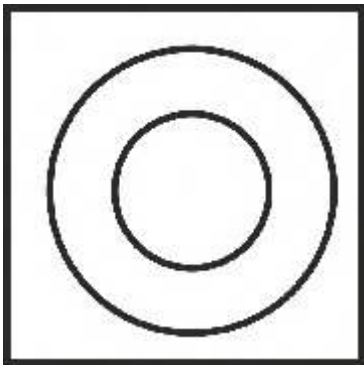
Options :



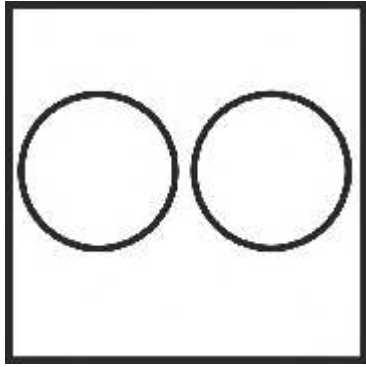
1. ✘



2. ✔



3. ✘




4. ✖

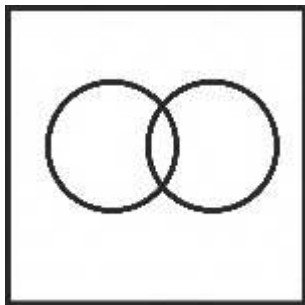
Question Number : 34 Question Id : 9767558556 Question Type : MCQ Option Shuffling : Yes Is Question Mandatory : No Option Orientation : Vertical

Correct Marks : 1 Wrong Marks : 0.25

उस विकल्प का चयन करें जो तीसरी छवि से उसी प्रकार से संबंधित है जिस प्रकार से दूसरी छवि पहली छवि से संबंधित है।

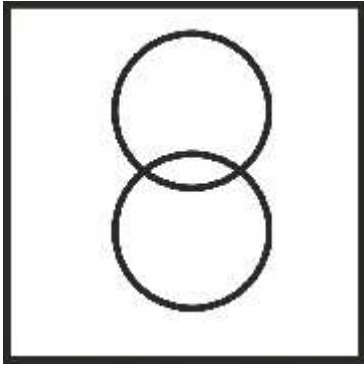


Options :

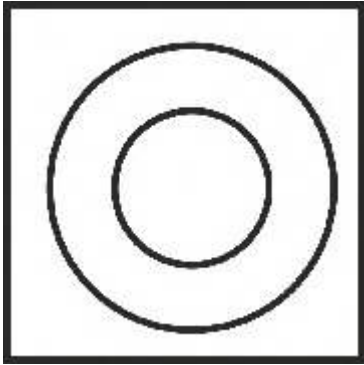


1. ✖

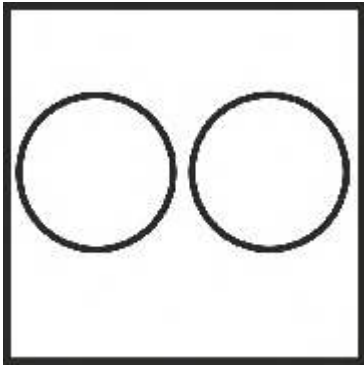
2. ✓



3. ✘



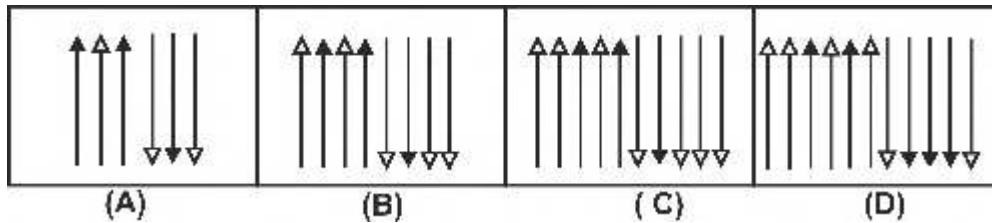
4. ✘



**Question Number : 35 Question Id : 9767558557 Question Type : MCQ Option Shuffling : Yes Is Question Mandatory : No Option Orientation : Vertical**

**Correct Marks : 1 Wrong Marks : 0.25**

Which of the following options is the wrong figure in the series?



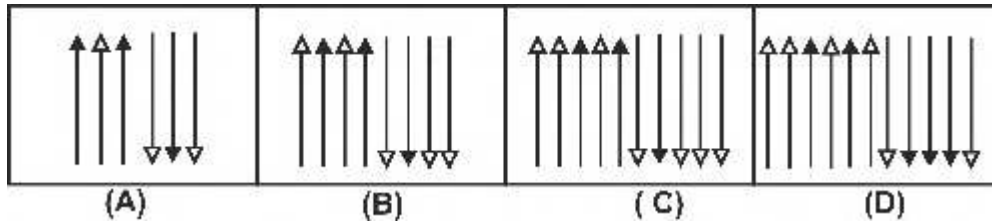
Options :

1. ✘ A
2. ✘ B
3. ✘ C
4. ✔ D

Question Number : 35 Question Id : 9767558557 Question Type : MCQ Option Shuffling : Yes Is Question Mandatory : No Option Orientation : Vertical

Correct Marks : 1 Wrong Marks : 0.25

निम्नलिखित में से कौन सा विकल्प श्रृंखला में गलत आकृति है?



Options :

1. ✘ A
2. ✘ B
3. ✘ C
4. ✔ D

Question Number : 36 Question Id : 9767558558 Question Type : MCQ Option Shuffling : Yes Is Question Mandatory : No Option Orientation : Vertical

Correct Marks : 1 Wrong Marks : 0.25

Find the missing figure in the following matrix.

18	26	34
9	13	17
24	?	48

Options :

1. ✓ 36
2. ✗ 28
3. ✗ 39
4. ✗ 24

Question Number : 36 Question Id : 9767558558 Question Type : MCQ Option Shuffling : Yes Is Question Mandatory : No Option Orientation : Vertical

Correct Marks : 1 Wrong Marks : 0.25

निम्नलिखित मैट्रिक्स में लुप्त आंकड़ा ज्ञात करें।

18	26	34
9	13	17
24	?	48

Options :

1. ✓ 36
2. ✗ 28



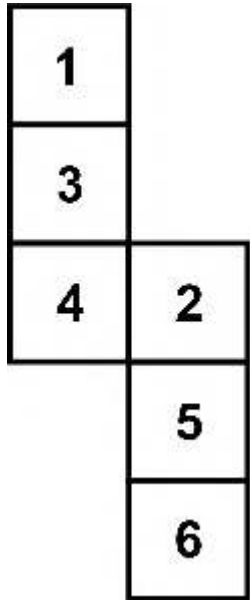
3. ✖ 39

4. ✖ 24

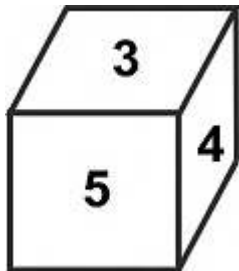
**Question Number : 37 Question Id : 9767558559 Question Type : MCQ Option Shuffling : Yes Is Question Mandatory : No Option Orientation : Vertical**

**Correct Marks : 1 Wrong Marks : 0.25**

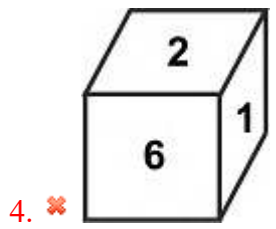
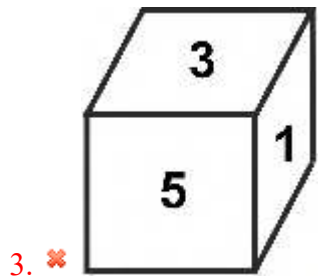
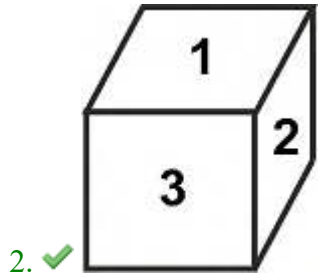
Which of the following cubes in the answer figure can be made based on the unfolded cube in the question figure?



Options :



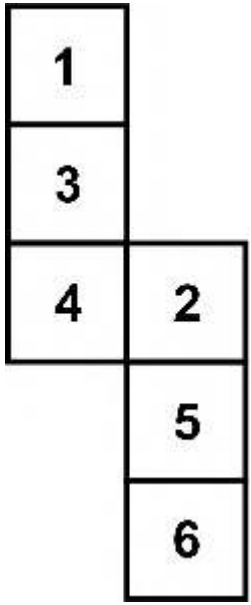
1. ✖



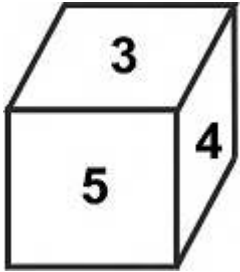
**Question Number : 37 Question Id : 9767558559 Question Type : MCQ Option Shuffling : Yes Is Question Mandatory : No Option Orientation : Vertical**

**Correct Marks : 1 Wrong Marks : 0.25**

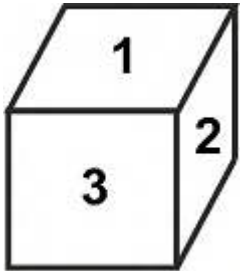
उत्तर आकृति के किस घन को प्रश्न आकृति में जो बिना मोड़ा हुआ घन दिया गया है उसीके आधार पर बनाया जा सकता है?



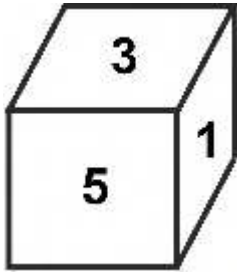
Options :



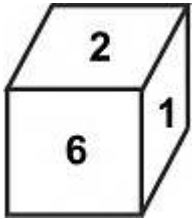
1. ✘



2. ✔



3. ✘

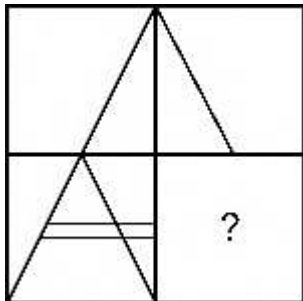


4. ✘

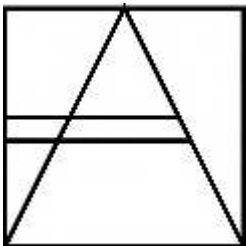
**Question Number : 38 Question Id : 9767558560 Question Type : MCQ Option Shuffling : Yes Is Question Mandatory : No Option Orientation : Vertical**

**Correct Marks : 1 Wrong Marks : 0.25**

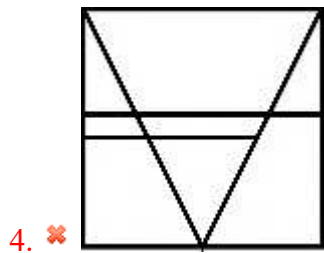
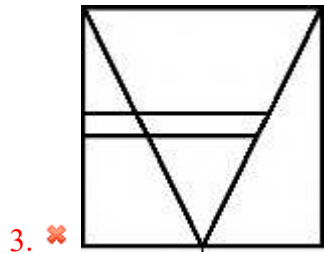
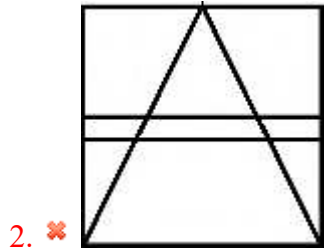
Which of the following answer figure patterns can be combined to complete the question figure?



**Options :**



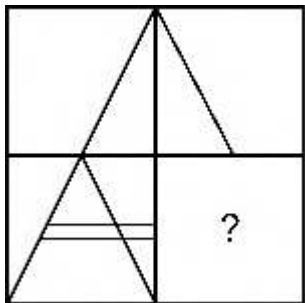
1. ✔



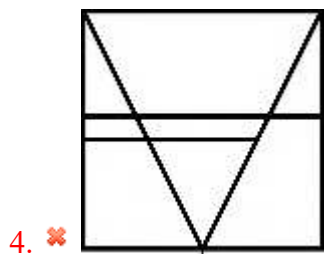
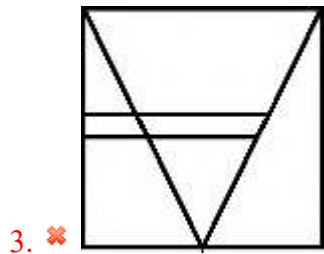
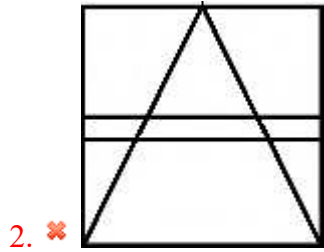
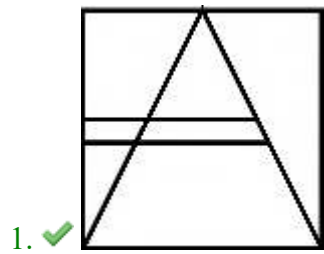
**Question Number : 38 Question Id : 9767558560 Question Type : MCQ Option Shuffling : Yes Is Question Mandatory : No Option Orientation : Vertical**

**Correct Marks : 1 Wrong Marks : 0.25**

निम्नलिखित में से कौन सी उत्तर आकृति पैटर्न को प्रश्न आकृति को पूरा करने के लिए जोड़ा जा सकता है?



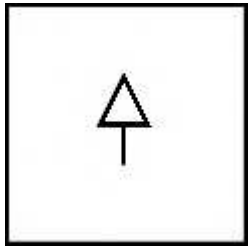
Options :



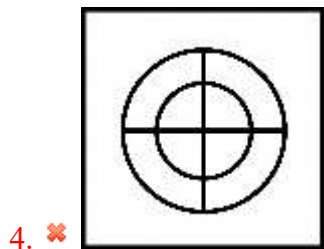
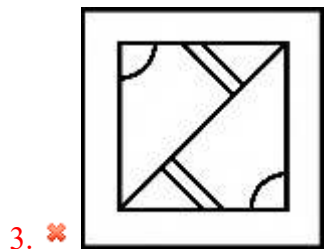
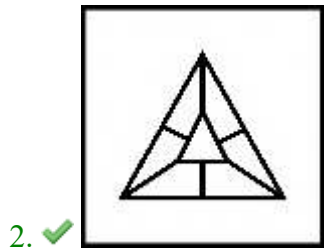
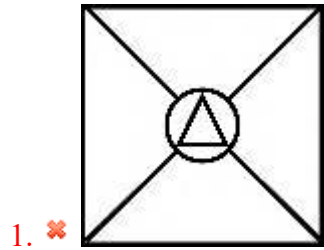
Question Number : 39 Question Id : 9767558561 Question Type : MCQ Option Shuffling : Yes Is Question Mandatory : No Option Orientation : Vertical

Correct Marks : 1 Wrong Marks : 0.25

From the given answer figures, select the one in which the question figure is hidden/embedded.



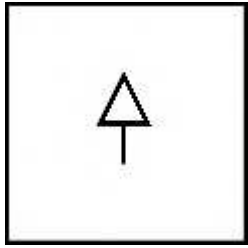
Options :




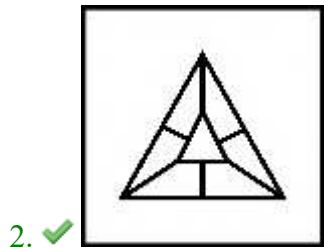
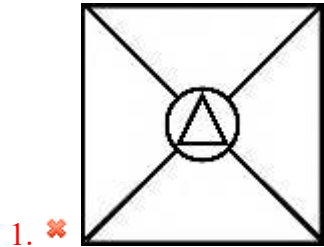
Question Number : 39 Question Id : 9767558561 Question Type : MCQ Option Shuffling : Yes Is Question Mandatory : No Option Orientation : Vertical

Correct Marks : 1 Wrong Marks : 0.25

दी गई उत्तर आकृति से, उस आकृति का चयन करें जिसमें प्रश्न आकृति छिपी/सन्निहित है।

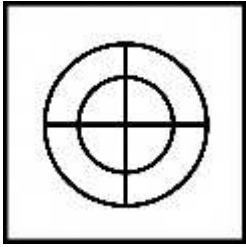


Options :





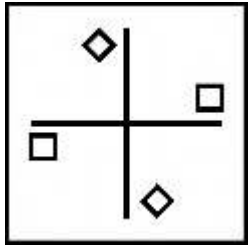
4. ✘



**Question Number : 40 Question Id : 9767558562 Question Type : MCQ Option Shuffling : Yes Is Question Mandatory : No Option Orientation : Vertical**

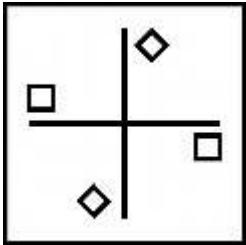
**Correct Marks : 1 Wrong Marks : 0.25**

Which of the following answer figures is the water image of the question figure?

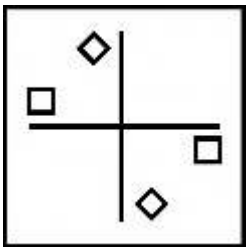


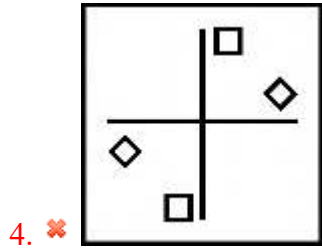
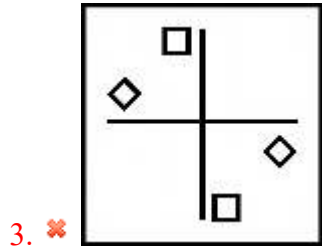
**Options :**

1. ✔



2. ✘

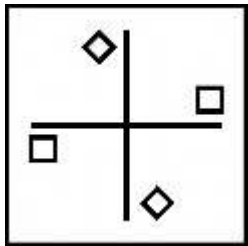




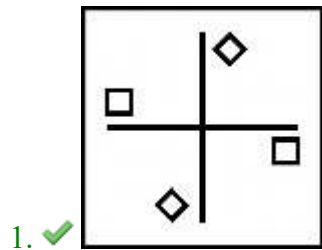
**Question Number : 40 Question Id : 9767558562 Question Type : MCQ Option Shuffling : Yes Is Question Mandatory : No Option Orientation : Vertical**

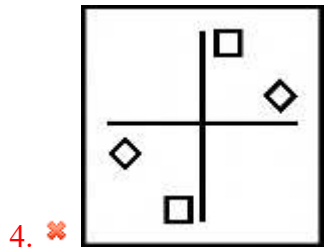
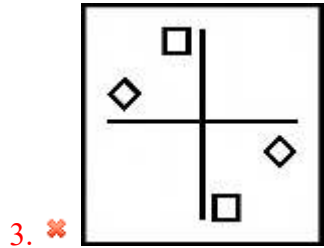
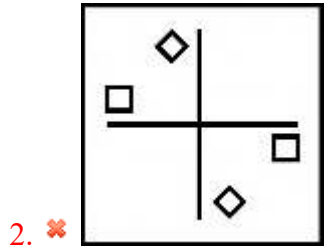
**Correct Marks : 1 Wrong Marks : 0.25**

निम्नलिखित में से कौन सी उत्तर आकृति प्रश्न आकृति का जल प्रतिबिंब है?



**Options :**





## General Awareness1

Group Number :	3
Group Id :	976755207
Group Maximum Duration :	0
Group Minimum Duration :	0
Show Attended Group? :	No
Edit Attended Group? :	No
Break time :	0
Group Marks :	20
Is this Group for Examiner? :	No

## General Awareness1

Section Id :	976755495
Section Number :	1
Section type :	Online
Mandatory or Optional :	Mandatory
Number of Questions :	20
Number of Questions to be attempted :	20
Section Marks :	20
Enable Mark as Answered Mark for Review and Clear Response :	Yes
Sub-Section Number :	1
Sub-Section Id :	976755594
Question Shuffling Allowed :	Yes

**Question Number : 41 Question Id : 9767558563 Question Type : MCQ Option Shuffling : Yes Is Question Mandatory : No Option Orientation : Vertical**

**Correct Marks : 1 Wrong Marks : 0.25**

The Mewar festival is celebrated to mark the arrival of the \_\_\_\_\_ season.

**Options :**

1. ✘ autumn
2. ✘ summer
3. ✔ spring
4. ✘ winter

**Question Number : 41 Question Id : 9767558563 Question Type : MCQ Option Shuffling : Yes Is Question Mandatory : No Option Orientation : Vertical**

**Correct Marks : 1 Wrong Marks : 0.25**

मेवाड़ त्योहार को \_\_\_\_\_ ऋतु के आगमन को चिह्नित करने के लिए मनाया जाता है।

**Options :**

1. ✘ पतझड़
2. ✘ ग्रीष्म
3. ✔ वसंत

4. ✖ शीत

**Question Number : 42 Question Id : 9767558564 Question Type : MCQ Option Shuffling : Yes Is Question Mandatory : No Option Orientation : Vertical**

**Correct Marks : 1 Wrong Marks : 0.25**

Which among the following is a folk singing style involving narration of tales from the ancient Indian epic Mahabharata?

**Options :**

1. ✖ Baul
2. ✔ Pandavani
3. ✖ Wanawan
4. ✖ Alha

**Question Number : 42 Question Id : 9767558564 Question Type : MCQ Option Shuffling : Yes Is Question Mandatory : No Option Orientation : Vertical**

**Correct Marks : 1 Wrong Marks : 0.25**

निम्नलिखित में से कौन सी एक लोक गायन शैली है जिसमें प्राचीन भारतीय महाकाव्य महाभारत की कहानियों का वर्णन शामिल है?

**Options :**

1. ✖ बाउल
2. ✔ पंडवानी
3. ✖ वनवान
4. ✖ आल्हा

**Question Number : 43 Question Id : 9767558565 Question Type : MCQ Option Shuffling : Yes Is Question Mandatory : No Option Orientation : Vertical**

**Correct Marks : 1 Wrong Marks : 0.25**

The Gambhira dance form is associated with which of the following states?

**Options :**

1. ✖ Tamil Nadu
2. ✖ Kerala
3. ✖ Madhya Pradesh
4. ✔ West Bengal

**Question Number : 43 Question Id : 9767558565 Question Type : MCQ Option Shuffling : Yes Is Question Mandatory : No Option Orientation : Vertical**

**Correct Marks : 1 Wrong Marks : 0.25**

गम्भीरा नृत्य रूप निम्नलिखित में से किस राज्य से जुड़ा है?

**Options :**

1. ✘ तमिल नाडु
2. ✘ केरल
3. ✘ मध्य प्रदेश
4. ✔ पश्चिम बंगाल

**Question Number : 44 Question Id : 9767558566 Question Type : MCQ Option Shuffling : Yes Is Question Mandatory : No Option Orientation : Vertical**

**Correct Marks : 1 Wrong Marks : 0.25**

The Golghar monument built by British Government is located in which of the following states?

**Options :**

1. ✔ Bihar
2. ✘ Maharashtra
3. ✘ Gujarat
4. ✘ Karnataka

**Question Number : 44 Question Id : 9767558566 Question Type : MCQ Option Shuffling : Yes Is Question Mandatory : No Option Orientation : Vertical**

**Correct Marks : 1 Wrong Marks : 0.25**

ब्रिटिश सरकार द्वारा निर्मित गोलघर स्मारक निम्नलिखित में से किस राज्य में स्थित है?

**Options :**

1. ✔ बिहार
2. ✘ महाराष्ट्र
3. ✘ गुजरात
4. ✘ कर्नाटक

**Question Number : 45 Question Id : 9767558567 Question Type : MCQ Option Shuffling : Yes Is Question Mandatory : No Option Orientation : Vertical**

**Correct Marks : 1 Wrong Marks : 0.25**

Which among the following taxes is levied either by the state or central governments on roads and bridges?

**Options :**

1. ✘ Sales Tax
2. ✘ Service Tax
3. ✔ Toll Tax
4. ✘ Value Added Tax

**Question Number : 45 Question Id : 9767558567 Question Type : MCQ Option Shuffling : Yes Is Question Mandatory : No Option Orientation : Vertical**

**Correct Marks : 1 Wrong Marks : 0.25**

निम्नलिखित में से कौन सा कर राज्य या केंद्र सरकार द्वारा सड़कों और पुलों पर लगाया जाता है?

**Options :**

1. ✘ बिक्री कर
2. ✘ सेवा कर
3. ✔ टोल कर
4. ✘ मूल्य वर्धित कर

**Question Number : 46 Question Id : 9767558568 Question Type : MCQ Option Shuffling : Yes Is Question Mandatory : No Option Orientation : Vertical**

**Correct Marks : 1 Wrong Marks : 0.25**

\_\_\_\_\_ is a sustained decrease in the general price level in an economy.

**Options :**

1. ✔ Deflation
2. ✘ Disinflation
3. ✘ Inflation
4. ✘ Hyperinflation

**Question Number : 46 Question Id : 9767558568 Question Type : MCQ Option Shuffling : Yes Is Question Mandatory : No Option Orientation : Vertical**

**Correct Marks : 1 Wrong Marks : 0.25**

एक अर्थव्यवस्था में सामान्य मूल्य स्तर में निरंतर कमी है।

**Options :**

1. ✓ अवस्फीति
2. ✗ विस्फीति
3. ✗ मुद्रास्फीति
4. ✗ अतिस्फीति

**Question Number : 47 Question Id : 9767558569 Question Type : MCQ Option Shuffling : Yes Is Question Mandatory : No Option Orientation : Vertical**

**Correct Marks : 1 Wrong Marks : 0.25**

Which among the following banks was the first bank to introduce saving account in India?

**Options :**

1. ✗ Canara Bank
2. ✓ Presidency Bank
3. ✗ Bank of India
4. ✗ State Bank of India

**Question Number : 47 Question Id : 9767558569 Question Type : MCQ Option Shuffling : Yes Is Question Mandatory : No Option Orientation : Vertical**

**Correct Marks : 1 Wrong Marks : 0.25**

निम्नलिखित में से कौन सा बैंक भारत में बचत खाता शुरू करने वाला पहला बैंक था?

**Options :**

1. ✗ केनरा बैंक
2. ✓ प्रेसीडेंसी बैंक
3. ✗ बैंक ऑफ इंडिया
4. ✗ भारतीय स्टेट बैंक

**Question Number : 48 Question Id : 9767558570 Question Type : MCQ Option Shuffling : Yes Is Question Mandatory : No Option Orientation : Vertical**

**Correct Marks : 1 Wrong Marks : 0.25**



As announced by India's Finance minister Nirmala Sitharaman in the Budget 2021, \_\_\_\_\_ Textile Parks will be established over 3 years under the scheme of MITRA.

**Options :**

1. ✖ 5
2. ✖ 2
3. ✖ 10
4. ✔ 7

**Question Number : 48 Question Id : 9767558570 Question Type : MCQ Option Shuffling : Yes Is Question Mandatory : No Option Orientation : Vertical**

**Correct Marks : 1 Wrong Marks : 0.25**

जैसा कि बजट 2021 में भारत की वित्त मंत्री निर्मला सीतारामन् ने घोषणा की है, \_\_\_\_\_ वस्त्र पार्क MITRA की योजना के तहत 3 वर्षों में स्थापित किये जायेंगे।

**Options :**

1. ✖ 5
2. ✖ 2
3. ✖ 10
4. ✔ 7

**Question Number : 49 Question Id : 9767558571 Question Type : MCQ Option Shuffling : Yes Is Question Mandatory : No Option Orientation : Vertical**

**Correct Marks : 1 Wrong Marks : 0.25**

Which of the following is a characteristic of Monopsony?

**Options :**

1. ✖ Single seller and many buyers
2. ✖ Many sellers and many buyers
3. ✔ Many sellers and single buyer
4. ✖ Single seller and single buyer

**Question Number : 49 Question Id : 9767558571 Question Type : MCQ Option Shuffling : Yes Is Question Mandatory : No Option Orientation : Vertical**

**Correct Marks : 1 Wrong Marks : 0.25**

निम्नलिखित में से कौन सी क्रेता एकाधिकार की विशेषता है?

**Options :**

1. ✘ एकल विक्रेता और कई खरीदार
2. ✘ कई विक्रेता और कई खरीदार
3. ✔ कई विक्रेता और एकल खरीदार
4. ✘ एकल विक्रेता और एकल खरीदार

**Question Number : 50 Question Id : 9767558572 Question Type : MCQ Option Shuffling : Yes Is Question Mandatory : No Option Orientation : Vertical**

**Correct Marks : 1 Wrong Marks : 0.25**

The energy that an object possesses because of its motion, is known as \_\_\_\_\_ energy.

**Options :**

1. ✘ electrical
2. ✘ chemical
3. ✔ kinetic
4. ✘ potential

**Question Number : 50 Question Id : 9767558572 Question Type : MCQ Option Shuffling : Yes Is Question Mandatory : No Option Orientation : Vertical**

**Correct Marks : 1 Wrong Marks : 0.25**

वह ऊर्जा जो किसी वस्तु की गति के कारण वह धारण करती है, उसे \_\_\_\_\_ ऊर्जा के नाम से जाना जाता है।

**Options :**

1. ✘ विद्युत
2. ✘ रासायनिक
3. ✔ गतिज
4. ✘ स्थितिज

**Question Number : 51 Question Id : 9767558573 Question Type : MCQ Option Shuffling : Yes Is Question Mandatory : No Option Orientation : Vertical**

**Correct Marks : 1 Wrong Marks : 0.25**

The neutral value of pH scale is \_\_\_\_\_.

**Options :**

1. ✖ 6
2. ✔ 7
3. ✖ 8
4. ✖ 10

**Question Number : 51 Question Id : 9767558573 Question Type : MCQ Option Shuffling : Yes Is Question Mandatory : No Option Orientation : Vertical**

**Correct Marks : 1 Wrong Marks : 0.25**

pH स्केल का तटस्थ मान \_\_\_\_\_ है।

**Options :**

1. ✖ 6
2. ✔ 7
3. ✖ 8
4. ✖ 10

**Question Number : 52 Question Id : 9767558574 Question Type : MCQ Option Shuffling : Yes Is Question Mandatory : No Option Orientation : Vertical**

**Correct Marks : 1 Wrong Marks : 0.25**

Aurelia is an example of which of the following phyla?

**Options :**

1. ✔ Cnidaria
2. ✖ Ctenophora
3. ✖ Platyhelminthes
4. ✖ Aschelminthes

**Question Number : 52 Question Id : 9767558574 Question Type : MCQ Option Shuffling : Yes Is Question Mandatory : No Option Orientation : Vertical**

**Correct Marks : 1 Wrong Marks : 0.25**

ऑरीलिया निम्नलिखित में से किस संघ का उदाहरण है?

**Options :**

1. ✔ निडारिया

2. ✘ टेनोफोरा
3. ✘ प्लेटीहेल्मिन्थीज
4. ✘ एस्केलमिन्थीज

**Question Number : 53 Question Id : 9767558575 Question Type : MCQ Option Shuffling : Yes Is Question Mandatory : No Option Orientation : Vertical**

**Correct Marks : 1 Wrong Marks : 0.25**

When was the Kyoto Protocol adopted?

**Options :**

1. ✘ 1976
2. ✘ 1989
3. ✘ 1982
4. ✔ 1997

**Question Number : 53 Question Id : 9767558575 Question Type : MCQ Option Shuffling : Yes Is Question Mandatory : No Option Orientation : Vertical**

**Correct Marks : 1 Wrong Marks : 0.25**

क्योटो प्रोटोकॉल कब अपनाया गया था?

**Options :**

1. ✘ 1976
2. ✘ 1989
3. ✘ 1982
4. ✔ 1997

**Question Number : 54 Question Id : 9767558576 Question Type : MCQ Option Shuffling : Yes Is Question Mandatory : No Option Orientation : Vertical**

**Correct Marks : 1 Wrong Marks : 0.25**

The Strait of Malacca joins the Indian Ocean and the \_\_\_\_\_ Ocean.

**Options :**

1. ✘ Southern
2. ✘ Arctic

3. ✓ Pacific
4. ✗ Atlantic

**Question Number : 54 Question Id : 9767558576 Question Type : MCQ Option Shuffling : Yes Is Question Mandatory : No Option Orientation : Vertical**

**Correct Marks : 1 Wrong Marks : 0.25**

मलक्का जलडमरूमध्य हिंद महासागर और \_\_\_\_\_ महासागर को जोड़ती है।

**Options :**

1. ✗ दक्षिणध्रुवीय
2. ✗ उत्तरध्रुवीय
3. ✓ प्रशान्त
4. ✗ अटलांटिक

**Question Number : 55 Question Id : 9767558577 Question Type : MCQ Option Shuffling : Yes Is Question Mandatory : No Option Orientation : Vertical**

**Correct Marks : 1 Wrong Marks : 0.25**

The Kadra Dam of Karnataka is built across which of the following rivers?

**Options :**

1. ✗ Krishna
2. ✓ Kali
3. ✗ Kaveri
4. ✗ Periyar

**Question Number : 55 Question Id : 9767558577 Question Type : MCQ Option Shuffling : Yes Is Question Mandatory : No Option Orientation : Vertical**

**Correct Marks : 1 Wrong Marks : 0.25**

कर्नाटक का कद्र बाँध निम्नलिखित में से किस नदी पर बनाया गया है?

**Options :**

1. ✗ कृष्णा
2. ✓ काली
3. ✗ कावेरी

4. ✖ पेरियार

**Question Number : 56 Question Id : 9767558578 Question Type : MCQ Option Shuffling : Yes Is Question Mandatory : No Option Orientation : Vertical**

**Correct Marks : 1 Wrong Marks : 0.25**

Which among the following mountain ranges is the longest continental mountain range in the world?

**Options :**

1. ✔ Andes
2. ✖ Rockies
3. ✖ Himalayas
4. ✖ Western Ghats

**Question Number : 56 Question Id : 9767558578 Question Type : MCQ Option Shuffling : Yes Is Question Mandatory : No Option Orientation : Vertical**

**Correct Marks : 1 Wrong Marks : 0.25**

निम्नलिखित में से कौन सी पर्वतमाला विश्व की सबसे लंबी महाद्वीपीय पर्वत श्रृंखला है?

**Options :**

1. ✔ ऐन्डीज़
2. ✖ रॉक़िज़
3. ✖ हिमालय
4. ✖ पश्चिमी घाट

**Question Number : 57 Question Id : 9767558579 Question Type : MCQ Option Shuffling : Yes Is Question Mandatory : No Option Orientation : Vertical**

**Correct Marks : 1 Wrong Marks : 0.25**

The Indravati river is a tributary of which of the following rivers?

**Options :**

1. ✖ Ravi
2. ✖ Krishna
3. ✖ Chenab
4. ✔ Godavari

**Question Number : 57 Question Id : 9767558579 Question Type : MCQ Option Shuffling : Yes Is Question Mandatory : No Option Orientation : Vertical**

**Correct Marks : 1 Wrong Marks : 0.25**

इंद्रावती नदी निम्नलिखित में से किस नदी की उपनदी है?

**Options :**

1. ✘ रवि
2. ✘ कृष्णा
3. ✘ चनाब
4. ✔ गोदावरी

**Question Number : 58 Question Id : 9767558580 Question Type : MCQ Option Shuffling : Yes Is Question Mandatory : No Option Orientation : Vertical**

**Correct Marks : 1 Wrong Marks : 0.25**

Which among the following soils is formed due to leaching by heavy rains and destruction of humus by bacteria?

**Options :**

1. ✘ Arid
2. ✔ Laterite
3. ✘ Alluvial
4. ✘ Black

**Question Number : 58 Question Id : 9767558580 Question Type : MCQ Option Shuffling : Yes Is Question Mandatory : No Option Orientation : Vertical**

**Correct Marks : 1 Wrong Marks : 0.25**

निम्नलिखित में से कौन सी मृदा भारी वर्षा द्वारा निक्षालन और जीवाणु द्वारा धरण के नाश के कारण बनती है?

**Options :**

1. ✘ शुष्क
2. ✔ लैटेराइट
3. ✘ जलोढ़
4. ✘ काली

**Question Number : 59 Question Id : 9767558581 Question Type : MCQ Option Shuffling : Yes Is Question Mandatory : No Option Orientation : Vertical**

**Correct Marks : 1 Wrong Marks : 0.25**

Who among the following wrote "Akbar-Nama"?

**Options :**

1. ✘ Chand Bardai
2. ✔ Abul Fazl
3. ✘ Gulbadan Begum
4. ✘ Amir Khusro

**Question Number : 59 Question Id : 9767558581 Question Type : MCQ Option Shuffling : Yes Is Question Mandatory : No Option Orientation : Vertical**

**Correct Marks : 1 Wrong Marks : 0.25**

निम्नलिखित में से किसने "अकबर-नामा" लिखा था?

**Options :**

1. ✘ चंदबरदाई
2. ✔ अबुल फजल
3. ✘ गुलबदन बेगम
4. ✘ अमीर खुसरो

**Question Number : 60 Question Id : 9767558582 Question Type : MCQ Option Shuffling : Yes Is Question Mandatory : No Option Orientation : Vertical**

**Correct Marks : 1 Wrong Marks : 0.25**

Who among the following Mughal Emperors built Ibadat Khana at Fatehpur Sikri?

**Options :**

1. ✔ Akbar
2. ✘ Babur
3. ✘ Humayun
4. ✘ Jahangir

**Question Number : 60 Question Id : 9767558582 Question Type : MCQ Option Shuffling : Yes Is Question Mandatory : No Option Orientation : Vertical**



**Correct Marks : 1 Wrong Marks : 0.25**

निम्नलिखित मुगल सम्राटों में से किस ने फ़तेहपुर सीकरी में इबादत खाना बनवाया था?

**Options :**

1. ✓ अकबर
2. ✗ बाबर
3. ✗ हुमायूँ
4. ✗ जहाँगीर

## General Awareness2

Group Number :	4
Group Id :	976755208
Group Maximum Duration :	0
Group Minimum Duration :	0
Show Attended Group? :	No
Edit Attended Group? :	No
Break time :	0
Group Marks :	20
Is this Group for Examiner? :	No

## General Awareness2

Section Id :	976755496
Section Number :	1
Section type :	Online
Mandatory or Optional :	Mandatory
Number of Questions :	20
Number of Questions to be attempted :	20
Section Marks :	20
Enable Mark as Answered Mark for Review and Clear Response :	Yes
Sub-Section Number :	1
Sub-Section Id :	976755595

Question Shuffling Allowed :

Yes

**Question Number : 61 Question Id : 9767558583 Question Type : MCQ Option Shuffling : Yes Is Question Mandatory : No Option Orientation : Vertical**

**Correct Marks : 1 Wrong Marks : 0.25**

Who among the following was the President of the Banaras session of the Indian National Congress in 1905?

**Options :**

1. ✘ Surendranath Banerjee
2. ✘ Dadabhai Naoroji
3. ✘ Bal Gangadhar Tilak
4. ✔ Gopal Krishna Gokhale

**Question Number : 61 Question Id : 9767558583 Question Type : MCQ Option Shuffling : Yes Is Question Mandatory : No Option Orientation : Vertical**

**Correct Marks : 1 Wrong Marks : 0.25**

निम्नलिखित में से कौन 1905 में भारतीय राष्ट्रीय कांग्रेस के बनारस अधिवेशन के अध्यक्ष थे?

**Options :**

1. ✘ सुरेंद्रनाथ बैनर्जी
2. ✘ दादाभाई नौरोजी
3. ✘ बाल गंगाधर तिलक
4. ✔ गोपाल कृष्ण गोखले

**Question Number : 62 Question Id : 9767558584 Question Type : MCQ Option Shuffling : Yes Is Question Mandatory : No Option Orientation : Vertical**

**Correct Marks : 1 Wrong Marks : 0.25**

Akbar issued the “Degree of Infallibility ” in \_\_\_\_\_.

**Options :**

1. ✘ 1596
2. ✘ 1612
3. ✔ 1579
4. ✘ 1552

**Question Number : 62 Question Id : 9767558584 Question Type : MCQ Option Shuffling : Yes Is Question Mandatory : No Option Orientation : Vertical**

**Correct Marks : 1 Wrong Marks : 0.25**

अकबर ने \_\_\_\_\_ में "अचूकता की डिग्री" जारी की।

**Options :**

1. ✘ 1596
2. ✘ 1612
3. ✔ 1579
4. ✘ 1552

**Question Number : 63 Question Id : 9767558585 Question Type : MCQ Option Shuffling : Yes Is Question Mandatory : No Option Orientation : Vertical**

**Correct Marks : 1 Wrong Marks : 0.25**

Which among the following is also known as "Old Stone Age"?

**Options :**

1. ✘ Chalcolithic Age
2. ✘ Neolithic Age
3. ✘ Mesolithic Age
4. ✔ Paleolithic Age

**Question Number : 63 Question Id : 9767558585 Question Type : MCQ Option Shuffling : Yes Is Question Mandatory : No Option Orientation : Vertical**

**Correct Marks : 1 Wrong Marks : 0.25**

निम्नलिखित में से किसे "प्राचीन पाषाण काल" के रूप में भी जाना जाता है?

**Options :**

1. ✘ ताम्र पाषाण काल
2. ✘ नवपाषाण काल
3. ✘ मध्यपाषाण काल
4. ✔ पुरापाषाण काल

**Question Number : 64 Question Id : 9767558586 Question Type : MCQ Option Shuffling : Yes Is Question Mandatory : No Option Orientation : Vertical**

**Correct Marks : 1 Wrong Marks : 0.25**

Who among the following Mughal Emperors abolished Jizya Tax?

**Options :**

1. ✘ Babur
2. ✔ Akbar
3. ✘ Jahangir
4. ✘ Shah Jahan

**Question Number : 64 Question Id : 9767558586 Question Type : MCQ Option Shuffling : Yes Is Question Mandatory : No Option Orientation : Vertical**

**Correct Marks : 1 Wrong Marks : 0.25**

निम्नलिखित मुगल सम्राटों में से किस ने जज़िया कर को समाप्त कर दिया?

**Options :**

1. ✘ बाबर
2. ✔ अकबर
3. ✘ जहाँगीर
4. ✘ शाह जहाँ

**Question Number : 65 Question Id : 9767558587 Question Type : MCQ Option Shuffling : Yes Is Question Mandatory : No Option Orientation : Vertical**

**Correct Marks : 1 Wrong Marks : 0.25**

Geetika Jakhar won the Arjuna Award in 2006 for \_\_\_\_\_.

**Options :**

1. ✘ swimming
2. ✔ wrestling
3. ✘ tennis
4. ✘ football

**Question Number : 65 Question Id : 9767558587 Question Type : MCQ Option Shuffling : Yes Is Question Mandatory : No Option Orientation : Vertical**

**Correct Marks : 1 Wrong Marks : 0.25**

गीतिका जाखड़ ने 2006 में \_\_\_\_\_ के लिए अर्जुन पुरस्कार जीता।

**Options :**

1. ✘ तैराकी
2. ✔ कुश्ती
3. ✘ टेनिस
4. ✘ फुटबॉल

**Question Number : 66 Question Id : 9767558588 Question Type : MCQ Option Shuffling : Yes Is Question Mandatory : No Option Orientation : Vertical**

**Correct Marks : 1 Wrong Marks : 0.25**

Who among the following is the Chief Minister of Uttarakhand as of March 2021?

**Options :**

1. ✘ Naveen Patnaik
2. ✘ Yogi Aditya Nath
3. ✔ Tirath Singh Rawat
4. ✘ Biplab Kumar Deb

**Question Number : 66 Question Id : 9767558588 Question Type : MCQ Option Shuffling : Yes Is Question Mandatory : No Option Orientation : Vertical**

**Correct Marks : 1 Wrong Marks : 0.25**

मार्च 2021 तक उपलब्ध जानकारी के अनुसार निम्नलिखित में से कौन उत्तराखंड के मुख्यमंत्री हैं?

**Options :**

1. ✘ नवीन पटनायक
2. ✘ योगी आदित्य नाथ
3. ✔ तीरथ सिंह रावत
4. ✘ बिप्लब कुमार देब

**Question Number : 67 Question Id : 9767558589 Question Type : MCQ Option Shuffling : Yes Is Question Mandatory : No Option Orientation : Vertical**

**Correct Marks : 1 Wrong Marks : 0.25**

'Dreams from My Father: A Story of Race and Inheritance' is the autobiography of which of the following famous personalities?

**Options :**

1. ✓ Barack Obama
2. ✗ Charles Darwin
3. ✗ Benjamin Franklin
4. ✗ Annie Besant

**Question Number : 67 Question Id : 9767558589 Question Type : MCQ Option Shuffling : Yes Is Question Mandatory : No Option Orientation : Vertical**

**Correct Marks : 1 Wrong Marks : 0.25**

ड्रीम्स फ्रॉम माय फादर: ए स्टोरी ऑफ़ रेस एंड इनहेरिटेंस' निम्नलिखित प्रसिद्ध हस्तियों में से किस की आत्मकथा है?

**Options :**

1. ✓ बराक ओबामा
2. ✗ चार्ल्स डार्विन
3. ✗ बेंजामिन फ्रैंकलिन
4. ✗ एनी बेसेन्ट

**Question Number : 68 Question Id : 9767558590 Question Type : MCQ Option Shuffling : Yes Is Question Mandatory : No Option Orientation : Vertical**

**Correct Marks : 1 Wrong Marks : 0.25**

Who among the following is the Minister of Corporate Affairs in India as of March 2021?

**Options :**

1. ✗ Ram Vilas Paswan
2. ✓ Nirmala Sitharaman
3. ✗ Rajnath Singh
4. ✗ Ravi Shankar Prasad

**Question Number : 68 Question Id : 9767558590 Question Type : MCQ Option Shuffling : Yes Is Question Mandatory : No Option Orientation : Vertical**

**Correct Marks : 1 Wrong Marks : 0.25**

मार्च 2021 तक उपलब्ध जानकारी के अनुसार निम्नलिखित में से कौन भारत में कॉर्पोरेट कार्य मंत्रालय के मंत्री हैं?

**Options :**

1. ✘ रामविलास पासवान
2. ✔ निर्मला सीतारामन्
3. ✘ राजनाथ सिंह
4. ✘ रवि शंकर प्रसाद

**Question Number : 69 Question Id : 9767558591 Question Type : MCQ Option Shuffling : Yes Is Question Mandatory : No Option Orientation : Vertical**

**Correct Marks : 1 Wrong Marks : 0.25**

The Inheritance of Loss' is written by which of the following authors?

**Options :**

1. ✘ Arundhati Roy
2. ✘ Amitav Ghosh
3. ✘ Jhumpa Lahiri
4. ✔ Kiran Desai

**Question Number : 69 Question Id : 9767558591 Question Type : MCQ Option Shuffling : Yes Is Question Mandatory : No Option Orientation : Vertical**

**Correct Marks : 1 Wrong Marks : 0.25**

द इनहेरिटेन्स ऑफ लॉस' निम्नलिखित में से किस लेखक द्वारा लिखी गई है?

**Options :**

1. ✘ अरुंधति राय
2. ✘ अमिताभ घोष
3. ✘ झुम्पा लाहिड़ी
4. ✔ किरण देसाई

**Question Number : 70 Question Id : 9767558592 Question Type : MCQ Option Shuffling : Yes Is Question Mandatory : No Option Orientation : Vertical**

**Correct Marks : 1 Wrong Marks : 0.25**

Sudarshan Sahoo from Odisha, received the Padma Vibhushan in 2021 for his contribution in the field of \_\_\_\_\_.

**Options :**

1. ✘ Medicine

2. ✓ Art
3. ✗ Archaeology
4. ✗ Public Affairs

**Question Number : 70 Question Id : 9767558592 Question Type : MCQ Option Shuffling : Yes Is Question Mandatory : No Option Orientation : Vertical**

**Correct Marks : 1 Wrong Marks : 0.25**

ओडिशा के सुदर्शन साहू को \_\_\_\_\_ के क्षेत्र में उनके योगदान के लिए पद्म विभूषण 2021 में प्राप्त हुआ।

**Options :**

1. ✗ आयुर्विज्ञान
2. ✓ कला
3. ✗ पुरातत्वशास्त्र
4. ✗ लोक-कार्य

**Question Number : 71 Question Id : 9767558593 Question Type : MCQ Option Shuffling : Yes Is Question Mandatory : No Option Orientation : Vertical**

**Correct Marks : 1 Wrong Marks : 0.25**

The concept of 'Procedure for Amendment of the Constitution' in the Indian Constitution has been borrowed from the constitution of which of the following countries?

**Options :**

1. ✗ Japan
2. ✗ Australia
3. ✓ South Africa
4. ✗ United States of America

**Question Number : 71 Question Id : 9767558593 Question Type : MCQ Option Shuffling : Yes Is Question Mandatory : No Option Orientation : Vertical**

**Correct Marks : 1 Wrong Marks : 0.25**

भारतीय संविधान में 'संविधान के संशोधन की प्रक्रिया' की अवधारणा निम्नलिखित में से किस देश के संविधान से उधार ली गई है?

**Options :**

1. ✗ जापान
2. ✗ ऑस्ट्रेलिया



3. ✓ दक्षिण अफ्रीका
4. ✗ संयुक्त राज्य अमेरिका

**Question Number : 72 Question Id : 9767558594 Question Type : MCQ Option Shuffling : Yes Is Question Mandatory : No Option Orientation : Vertical**

**Correct Marks : 1 Wrong Marks : 0.25**

Which among the following Schedules in the Indian Constitution deals with the validation of certain acts and regulations?

**Options :**

1. ✗ Eighth
2. ✓ Ninth
3. ✗ Tenth
4. ✗ Seventh

**Question Number : 72 Question Id : 9767558594 Question Type : MCQ Option Shuffling : Yes Is Question Mandatory : No Option Orientation : Vertical**

**Correct Marks : 1 Wrong Marks : 0.25**

भारतीय संविधान में निम्नलिखित अनुसूचियों में से कौन सी कुछ अधिनियमों और विनियमों के सत्यापन से संबंधित है?

**Options :**

1. ✗ आठवीं
2. ✓ नौवीं
3. ✗ दसवीं
4. ✗ सातवीं

**Question Number : 73 Question Id : 9767558595 Question Type : MCQ Option Shuffling : Yes Is Question Mandatory : No Option Orientation : Vertical**

**Correct Marks : 1 Wrong Marks : 0.25**

Which among the following Constitutional Amendments led to the formation of the state of Nagaland?

**Options :**

1. ✓ 13th
2. ✗ 8th
3. ✗ 15th

4. ✖ 17th

**Question Number : 73 Question Id : 9767558595 Question Type : MCQ Option Shuffling : Yes Is Question Mandatory : No Option Orientation : Vertical**

**Correct Marks : 1 Wrong Marks : 0.25**

निम्नलिखित में से किस संवैधानिक संशोधन की वजह से नागालैण्ड राज्य का गठन हुआ?

**Options :**

1. ✔ 13वीं
2. ✖ 8वीं
3. ✖ 15वीं
4. ✖ 17वीं

**Question Number : 74 Question Id : 9767558596 Question Type : MCQ Option Shuffling : Yes Is Question Mandatory : No Option Orientation : Vertical**

**Correct Marks : 1 Wrong Marks : 0.25**

The 83rd Constitutional Amendment exempted \_\_\_\_\_ from reservation for Scheduled Castes in Panchayati Raj institutions.

**Options :**

1. ✖ Tamil Nadu
2. ✔ Arunachal Pradesh
3. ✖ Madhya Pradesh
4. ✖ Andhra Pradesh

**Question Number : 74 Question Id : 9767558596 Question Type : MCQ Option Shuffling : Yes Is Question Mandatory : No Option Orientation : Vertical**

**Correct Marks : 1 Wrong Marks : 0.25**

83वें संवैधानिक संशोधन ने पंचायती राज संस्थाओं में अनुसूचित जातियों के लिए आरक्षण से \_\_\_\_\_ को छूट दी।

**Options :**

1. ✖ तमिल नाडु
2. ✔ अरुणाचल प्रदेश
3. ✖ मध्य प्रदेश
4. ✖ आन्ध्र प्रदेश

**Question Number : 75 Question Id : 9767558597 Question Type : MCQ Option Shuffling : Yes Is Question Mandatory : No Option Orientation : Vertical**

**Correct Marks : 1 Wrong Marks : 0.25**

Which among the following languages was added in the Eighth Schedule by 92nd Constitutional Amendment?

**Options :**

1. ✘ Konkani
2. ✘ Manipuri
3. ✘ Sindhi
4. ✔ Bodo

**Question Number : 75 Question Id : 9767558597 Question Type : MCQ Option Shuffling : Yes Is Question Mandatory : No Option Orientation : Vertical**

**Correct Marks : 1 Wrong Marks : 0.25**

निम्नलिखित में से किस भाषा को 92वें संवैधानिक संशोधन द्वारा आठवीं अनुसूची में जोड़ा गया था?

**Options :**

1. ✘ कोंकणी
2. ✘ मणिपुरी
3. ✘ सिंधी
4. ✔ बोड़ो

**Question Number : 76 Question Id : 9767558598 Question Type : MCQ Option Shuffling : Yes Is Question Mandatory : No Option Orientation : Vertical**

**Correct Marks : 1 Wrong Marks : 0.25**

Which among the following cricket stadiums is not located in New Zealand?

**Options :**

1. ✘ Hagley Oval
2. ✔ Warren Park
3. ✘ Saxton Oval
4. ✘ Seddon Park

**Question Number : 76 Question Id : 9767558598 Question Type : MCQ Option Shuffling : Yes Is Question Mandatory : No Option**

**Orientation : Vertical**

**Correct Marks : 1 Wrong Marks : 0.25**

निम्नलिखित में से कौन सा क्रिकेट स्टेडियम न्यूज़ीलैण्ड में स्थित नहीं है?

**Options :**

1. ✘ हेगले ओवल
2. ✔ वारेन पार्क
3. ✘ सैक्सटन ओवल
4. ✘ सेडोन पार्क

**Question Number : 77 Question Id : 9767558599 Question Type : MCQ Option Shuffling : Yes Is Question Mandatory : No Option**

**Orientation : Vertical**

**Correct Marks : 1 Wrong Marks : 0.25**

Who among the following become the first Indian woman cricketer to score 10,000 international runs across all formats in March 2021?

**Options :**

1. ✘ Sushma Verma
2. ✘ Harmanpreet Kaur
3. ✔ Mithali Raj
4. ✘ Smriti Mandhana

**Question Number : 77 Question Id : 9767558599 Question Type : MCQ Option Shuffling : Yes Is Question Mandatory : No Option**

**Orientation : Vertical**

**Correct Marks : 1 Wrong Marks : 0.25**

निम्नलिखित में से कौन मार्च 2021 में सभी प्रारूपों में 10,000 अंतर्राष्ट्रीय रन बनाने वाली पहली भारतीय महिला क्रिकेटर बनी?

**Options :**

1. ✘ सुषमा वर्मा
2. ✘ हरमनप्रीत कौर
3. ✔ मिताली राज
4. ✘ स्मृति मंधाना

**Question Number : 78 Question Id : 9767558600 Question Type : MCQ Option Shuffling : Yes Is Question Mandatory : No Option**

**Orientation : Vertical**

**Correct Marks : 1 Wrong Marks : 0.25**

Who among the following is the first Indian to win the All England Badminton Championship?

**Options :**

1. ✘ Saina Nehwal
2. ✘ Srikanth Kidambi
3. ✘ Pusarla Venkata Sindhu
4. ✔ Prakash Padukone

**Question Number : 78 Question Id : 9767558600 Question Type : MCQ Option Shuffling : Yes Is Question Mandatory : No Option Orientation : Vertical**

**Correct Marks : 1 Wrong Marks : 0.25**

निम्नलिखित में से कौन ऑल इंग्लैंड बैडमिंटन चैंपियनशिप जीतने वाले पहले भारतीय है?

**Options :**

1. ✘ साइना नेहवाल
2. ✘ श्रीकांत किदम्बी
3. ✘ पुसर्ला वेंकट सिंधु
4. ✔ प्रकाश पादुकोण

**Question Number : 79 Question Id : 9767558601 Question Type : MCQ Option Shuffling : Yes Is Question Mandatory : No Option Orientation : Vertical**

**Correct Marks : 1 Wrong Marks : 0.25**

Which among the following teams has won the Indian Premier League (IPL) most number of times as of February 2021?

**Options :**

1. ✘ Chennai Super Kings
2. ✔ Mumbai Indians
3. ✘ Kolkata Knight Riders
4. ✘ Rajasthan Royals

**Question Number : 79 Question Id : 9767558601 Question Type : MCQ Option Shuffling : Yes Is Question Mandatory : No Option Orientation : Vertical**

**Correct Marks : 1 Wrong Marks : 0.25**

निम्नलिखित टीमों में से किसने फरवरी 2021 तक इंडियन प्रीमियर लीग (IPL) को सबसे अधिक बार जीता है?

**Options :**

1. ✘ चेन्नई सुपर किंग्स
2. ✔ मुंबई इंडियंस
3. ✘ कोलकाता नाइट राइडर्स
4. ✘ राजस्थान रॉयल्स

**Question Number : 80 Question Id : 9767558602 Question Type : MCQ Option Shuffling : Yes Is Question Mandatory : No Option Orientation : Vertical**

**Correct Marks : 1 Wrong Marks : 0.25**

Who among the following was the first Indian recipient of the Wisden Leading Cricketer in the World?

**Options :**

1. ✘ Anil Kumble
2. ✘ Sachin Tendulkar
3. ✔ Virender Sehwag
4. ✘ Rahul Dravid

**Question Number : 80 Question Id : 9767558602 Question Type : MCQ Option Shuffling : Yes Is Question Mandatory : No Option Orientation : Vertical**

**Correct Marks : 1 Wrong Marks : 0.25**

निम्नलिखित में से कौन विश्व में विज्डन लीडिंग क्रिकेटर के पहले भारतीय प्राप्तकर्ता थे?

**Options :**

1. ✘ अनिल कुंबले
2. ✘ सचिन तेंदुलकर
3. ✔ वीरेन्द्र सहवाग
4. ✘ राहुल द्रविड़

## Arithmetic Ability1

**Group Number :**

5

**Group Id :**

976755209

**Group Maximum Duration :**

0

<b>Group Minimum Duration :</b>	0
<b>Show Attended Group? :</b>	No
<b>Edit Attended Group? :</b>	No
<b>Break time :</b>	0
<b>Group Marks :</b>	20
<b>Is this Group for Examiner? :</b>	No

## Arithmetical and Numerical ability1

<b>Section Id :</b>	976755497
<b>Section Number :</b>	1
<b>Section type :</b>	Online
<b>Mandatory or Optional :</b>	Mandatory
<b>Number of Questions :</b>	20
<b>Number of Questions to be attempted :</b>	20
<b>Section Marks :</b>	20
<b>Enable Mark as Answered Mark for Review and Clear Response :</b>	Yes
<b>Sub-Section Number :</b>	1
<b>Sub-Section Id :</b>	976755596
<b>Question Shuffling Allowed :</b>	Yes

**Question Number : 81 Question Id : 9767558603 Question Type : MCQ Option Shuffling : Yes Is Question Mandatory : No Option Orientation : Vertical**

**Correct Marks : 1 Wrong Marks : 0.25**

What is the fractional form of 0.4?

**Options :**

1. ✓ 2/5
2. ✗ 4/5
3. ✗ 1/5
4. ✗ 2/10

**Question Number : 81 Question Id : 9767558603 Question Type : MCQ Option Shuffling : Yes Is Question Mandatory : No Option Orientation : Vertical**

**Correct Marks : 1 Wrong Marks : 0.25**

0.4 का भिन्न रूप क्या है?

**Options :**

1. ✓ 2/5
2. ✗ 4/5
3. ✗ 1/5
4. ✗ 2/10

**Question Number : 82 Question Id : 9767558604 Question Type : MCQ Option Shuffling : Yes Is Question Mandatory : No Option Orientation : Vertical**

**Correct Marks : 1 Wrong Marks : 0.25**

$(7/5) \times 30 + x = 46$ . What is the value of x?

**Options :**

1. ✗ 5
2. ✓ 4
3. ✗ 12
4. ✗ 6

**Question Number : 82 Question Id : 9767558604 Question Type : MCQ Option Shuffling : Yes Is Question Mandatory : No Option Orientation : Vertical**

**Correct Marks : 1 Wrong Marks : 0.25**

$(7/5) \times 30 + x = 46$  है। x का मान क्या है?

**Options :**

1. ✗ 5
2. ✓ 4
3. ✗ 12
4. ✗ 6

**Question Number : 83 Question Id : 9767558605 Question Type : MCQ Option Shuffling : Yes Is Question Mandatory : No Option Orientation : Vertical**

**Correct Marks : 1 Wrong Marks : 0.25**

What is the least 4-digit number that is exactly divisible by 3, 7 and 10?



**Options :**

1. ✘ 2800
2. ✘ 2100
3. ✔ 1050
4. ✘ 1200

**Question Number : 83 Question Id : 9767558605 Question Type : MCQ Option Shuffling : Yes Is Question Mandatory : No Option Orientation : Vertical**

**Correct Marks : 1 Wrong Marks : 0.25**

न्यूनतम 4-अंकीय संख्या क्या है जो 3, 7 और 10 से बिल्कुल विभाज्य है?

**Options :**

1. ✘ 2800
2. ✘ 2100
3. ✔ 1050
4. ✘ 1200

**Question Number : 84 Question Id : 9767558606 Question Type : MCQ Option Shuffling : Yes Is Question Mandatory : No Option Orientation : Vertical**

**Correct Marks : 1 Wrong Marks : 0.25**

There are two numbers in the ratio 4 : 9. If the LCM of the two numbers is 180, what is the sum of the two numbers?

**Options :**

1. ✘ 45
2. ✘ 60
3. ✘ 55
4. ✔ 65

**Question Number : 84 Question Id : 9767558606 Question Type : MCQ Option Shuffling : Yes Is Question Mandatory : No Option Orientation : Vertical**

**Correct Marks : 1 Wrong Marks : 0.25**

4 : 9 के अनुपात में दो संख्याएँ हैं। यदि दो संख्याओं का लघुत्तम समापवर्तक 180 है, तो दो संख्याओं का योग क्या है?

**Options :**

1. ✘ 45
2. ✘ 60
3. ✘ 55
4. ✔ 65

**Question Number : 85 Question Id : 9767558607 Question Type : MCQ Option Shuffling : Yes Is Question Mandatory : No Option Orientation : Vertical**

**Correct Marks : 1 Wrong Marks : 0.25**

What is the least number that must be added to 2540 so that the sum is divisible exactly by 10, 12, 16 and 18?

**Options :**

1. ✘ 120
2. ✔ 340
3. ✘ 720
4. ✘ 360

**Question Number : 85 Question Id : 9767558607 Question Type : MCQ Option Shuffling : Yes Is Question Mandatory : No Option Orientation : Vertical**

**Correct Marks : 1 Wrong Marks : 0.25**

न्यूनतम संख्या क्या है जिसे 2540 में जोड़ा जाना चाहिए ताकि योग 10, 12, 16 और 18 से बिल्कुल विभाज्य हो?

**Options :**

1. ✘ 120
2. ✔ 340
3. ✘ 720
4. ✘ 360

**Question Number : 86 Question Id : 9767558608 Question Type : MCQ Option Shuffling : Yes Is Question Mandatory : No Option Orientation : Vertical**

**Correct Marks : 1 Wrong Marks : 0.25**

A and B work in a company where A gets a day off after every 6 days and B gets a day off after every 5 days. If they both get a day off on a particular day together, then after how many days will they both have a day off on the same day?

**Options :**

1. ✘ 24

2. ✘ 18
3. ✘ 60
4. ✔ 30

**Question Number : 86 Question Id : 9767558608 Question Type : MCQ Option Shuffling : Yes Is Question Mandatory : No Option Orientation : Vertical**

**Correct Marks : 1 Wrong Marks : 0.25**

A और B एक कंपनी में काम करते हैं जहाँ A को प्रत्येक 6 दिनों के बाद एक दिन की छुट्टी मिलती है और B को प्रत्येक 5 दिनों के बाद एक दिन की छुट्टी मिलती है। यदि वे दोनों को एक विशेष दिन पर एक साथ एक दिन की छुट्टी मिलती है, तो कितने दिनों के बाद दोनों के साथ में एक ही दिन छुट्टी मिलेगी?

**Options :**

1. ✘ 24
2. ✘ 18
3. ✘ 60
4. ✔ 30

**Question Number : 87 Question Id : 9767558609 Question Type : MCQ Option Shuffling : Yes Is Question Mandatory : No Option Orientation : Vertical**

**Correct Marks : 1 Wrong Marks : 0.25**

In a class of nine students, the average weight of five boys is 45 kg and of four girls is 36 kg. What is the average weight of the entire class?

**Options :**

1. ✘ 42.6 kg
2. ✘ 43 kg
3. ✔ 41 kg
4. ✘ 42 kg

**Question Number : 87 Question Id : 9767558609 Question Type : MCQ Option Shuffling : Yes Is Question Mandatory : No Option Orientation : Vertical**

**Correct Marks : 1 Wrong Marks : 0.25**

नौ छात्रों की एक कक्षा में, पाँच लड़कों का औसत वजन 45 kg और चार लड़कियों का औसत वजन 36 kg है। पूरी कक्षा का औसत वजन कितना है?

**Options :**

1. ✘ 42.6 kg
2. ✘ 43 kg

3. ✓ 41 kg

4. ✗ 42 kg

**Question Number : 88 Question Id : 9767558610 Question Type : MCQ Option Shuffling : Yes Is Question Mandatory : No Option Orientation : Vertical**

**Correct Marks : 1 Wrong Marks : 0.25**

The average temperature of Hyderabad for the months of June and July is  $36^{\circ}\text{C}$ . If in the month of August, the average temperature is  $40^{\circ}\text{C}$ , then what will be the average temperature (in  $^{\circ}\text{C}$ ) of the three months taken together?

**Options :**

1. ✗ 36

2. ✓ 37.33

3. ✗ 38

4. ✗ 35

**Question Number : 88 Question Id : 9767558610 Question Type : MCQ Option Shuffling : Yes Is Question Mandatory : No Option Orientation : Vertical**

**Correct Marks : 1 Wrong Marks : 0.25**

जून और जुलाई के महीनों के लिए हैदराबाद का औसत तापमान  $36^{\circ}\text{C}$  है। यदि अगस्त के महीने में औसत तापमान  $40^{\circ}\text{C}$  है, तो तीन महीनों के लिए एक साथ लिए गए तापमान ( $^{\circ}\text{C}$ ) का औसत क्या होगा?

**Options :**

1. ✗ 36

2. ✓ 37.33

3. ✗ 38

4. ✗ 35

**Question Number : 89 Question Id : 9767558611 Question Type : MCQ Option Shuffling : Yes Is Question Mandatory : No Option Orientation : Vertical**

**Correct Marks : 1 Wrong Marks : 0.25**

A trader made a profit of 30 percent on selling his wares at a certain price. What would be his profit percentage if he had sold at 10 percent discount?

**Options :**

1. ✓ 17 percent

2. ✘ 16 percent
3. ✘ 18 percent
4. ✘ 15 percent

**Question Number : 89 Question Id : 9767558611 Question Type : MCQ Option Shuffling : Yes Is Question Mandatory : No Option Orientation : Vertical**

**Correct Marks : 1 Wrong Marks : 0.25**

एक व्यापारी ने एक निश्चित मूल्य पर अपने वस्तु को बेचने पर 30 प्रतिशत का लाभ अर्जित किया। यदि वह 10 प्रतिशत छूट पर बेचता तो उसका लाभ प्रतिशत क्या होगा?

**Options :**

1. ✔ 17 प्रतिशत
2. ✘ 16 प्रतिशत
3. ✘ 18 प्रतिशत
4. ✘ 15 प्रतिशत

**Question Number : 90 Question Id : 9767558612 Question Type : MCQ Option Shuffling : Yes Is Question Mandatory : No Option Orientation : Vertical**

**Correct Marks : 1 Wrong Marks : 0.25**

Neal cut a cake into five equal pieces and gave two pieces away. What percent of the cake remains with him?

**Options :**

1. ✘ 40 percent
2. ✔ 60 percent
3. ✘ 45 percent
4. ✘ 65 percent

**Question Number : 90 Question Id : 9767558612 Question Type : MCQ Option Shuffling : Yes Is Question Mandatory : No Option Orientation : Vertical**

**Correct Marks : 1 Wrong Marks : 0.25**

नील ने एक केक को पाँच बराबर टुकड़ों में काटा और दो टुकड़े दे दिए। केक का कितना प्रतिशत हिस्सा उसके पास शेष रहता है?

**Options :**

1. ✘ 40 प्रतिशत

2. ✓ 60 प्रतिशत
3. ✗ 45 प्रतिशत
4. ✗ 65 प्रतिशत

**Question Number : 91 Question Id : 9767558613 Question Type : MCQ Option Shuffling : Yes Is Question Mandatory : No Option Orientation : Vertical**

**Correct Marks : 1 Wrong Marks : 0.25**

The distance from city A to B is 120 km. Rina started from A to reach B at the speed of 45 kmph. What percent of the journey will she complete in 20 minutes?

**Options :**

1. ✗ 20
2. ✗ 18
3. ✓ 12.5
4. ✗ 25

**Question Number : 91 Question Id : 9767558613 Question Type : MCQ Option Shuffling : Yes Is Question Mandatory : No Option Orientation : Vertical**

**Correct Marks : 1 Wrong Marks : 0.25**

शहर A से B तक की दूरी 120 km है। रीना ने B तक पहुंचने के लिए 45 kmph की गति पर A से शुरू किया। 20 मिनट में वह यात्रा का कितना प्रतिशत पूरा करेगी?

**Options :**

1. ✗ 20
2. ✗ 18
3. ✓ 12.5
4. ✗ 25

**Question Number : 92 Question Id : 9767558614 Question Type : MCQ Option Shuffling : Yes Is Question Mandatory : No Option Orientation : Vertical**

**Correct Marks : 1 Wrong Marks : 0.25**

Fresh prunes contain 30 percent water and dried prunes contain 5 percent water. How much dried prunes can be obtained from 5 kg of fresh prunes approximately?

**Options :**

1. ✘ 4.16 kg
2. ✘ 3.5 kg
3. ✘ 3.84 kg
4. ✔ 3.68 kg

**Question Number : 92 Question Id : 9767558614 Question Type : MCQ Option Shuffling : Yes Is Question Mandatory : No Option Orientation : Vertical**

**Correct Marks : 1 Wrong Marks : 0.25**

ताजा आलूबुखारा में 30 प्रतिशत पानी होता है और सूखे आलूबुखारा में 5 प्रतिशत पानी होता है। लगभग 5 kg ताजा आलूबुखारा से कितने सूखे आलूबुखारा प्राप्त किए जा सकते हैं?

**Options :**

1. ✘ 4.16 kg
2. ✘ 3.5 kg
3. ✘ 3.84 kg
4. ✔ 3.68 kg

**Question Number : 93 Question Id : 9767558615 Question Type : MCQ Option Shuffling : Yes Is Question Mandatory : No Option Orientation : Vertical**

**Correct Marks : 1 Wrong Marks : 0.25**

Samir sold his watch which he purchased for Rs. 5000 at Rs. 4500. What is his loss?

**Options :**

1. ✘ Rs. 50
2. ✔ Rs. 500
3. ✘ Rs. 1000
4. ✘ Rs. 1200

**Question Number : 93 Question Id : 9767558615 Question Type : MCQ Option Shuffling : Yes Is Question Mandatory : No Option Orientation : Vertical**

**Correct Marks : 1 Wrong Marks : 0.25**

समीर ने अपनी घड़ी 4500 रुपए में बेची, जिसे उसने 5000 रुपए में खरीदा था। उसका हानि क्या है?

**Options :**

1. ✘ 50 रुपए

2. ✓ 500 रुपए
3. ✗ 1000 रुपए
4. ✗ 1200 रुपए

**Question Number : 94 Question Id : 9767558616 Question Type : MCQ Option Shuffling : Yes Is Question Mandatory : No Option Orientation : Vertical**

**Correct Marks : 1 Wrong Marks : 0.25**

Ananya sold her bike at 5 percent loss at Rs 4750. What was the cost price of the bike?

**Options :**

1. ✗ Rs. 4000
2. ✗ Rs. 5500
3. ✗ Rs. 4500
4. ✓ Rs. 5000

**Question Number : 94 Question Id : 9767558616 Question Type : MCQ Option Shuffling : Yes Is Question Mandatory : No Option Orientation : Vertical**

**Correct Marks : 1 Wrong Marks : 0.25**

अनन्या ने अपनी बाइक 5 प्रतिशत की हानि पर 4750 रुपए में बेची। बाइक का लागत मूल्य क्या था?

**Options :**

1. ✗ 4000 रुपए
2. ✗ 5500 रुपए
3. ✗ 4500 रुपए
4. ✓ 5000 रुपए

**Question Number : 95 Question Id : 9767558617 Question Type : MCQ Option Shuffling : Yes Is Question Mandatory : No Option Orientation : Vertical**

**Correct Marks : 1 Wrong Marks : 0.25**

An item was to be sold at twice its cost price. But the shopkeeper offered a certain discount and still made a profit of 50 percent. What was the percentage of discount that was offered?

**Options :**

1. ✗ 20 percent
2. ✗ 75 percent



3. ✓ 25 percent

4. ✗ 50 percent

**Question Number : 95 Question Id : 9767558617 Question Type : MCQ Option Shuffling : Yes Is Question Mandatory : No Option Orientation : Vertical**

**Correct Marks : 1 Wrong Marks : 0.25**

एक वस्तु को उसकी लागत मूल्य से दोगुना मूल्य पर बेचा जाना था। लेकिन दुकानदार ने एक निश्चित छूट दी और फिर भी 50 प्रतिशत का लाभ अर्जित किया। छूट का प्रतिशत कितना था?

**Options :**

1. ✗ 20 प्रतिशत

2. ✗ 75 प्रतिशत

3. ✓ 25 प्रतिशत

4. ✗ 50 प्रतिशत

**Question Number : 96 Question Id : 9767558618 Question Type : MCQ Option Shuffling : Yes Is Question Mandatory : No Option Orientation : Vertical**

**Correct Marks : 1 Wrong Marks : 0.25**

Mayank mixed two types of rice of prices Rs. 5 per kg and Rs. 6 per kg in the ratio 3 : 5 and sold the mixture at Rs. 6.75 per kg. What is the percentage of profit?

**Options :**

1. ✗ 12

2. ✓ 20

3. ✗ 22

4. ✗ 22.5

**Question Number : 96 Question Id : 9767558618 Question Type : MCQ Option Shuffling : Yes Is Question Mandatory : No Option Orientation : Vertical**

**Correct Marks : 1 Wrong Marks : 0.25**

मयंक ने 5 रुपए प्रति kg और 6 रुपए प्रति kg के मूल्यों के दो प्रकार के चावलों को 3 : 5 के अनुपात में मिश्रित किया और 6.75 रुपए प्रति kg पर मिश्रण को बेचा। लाभ का प्रतिशत क्या है?

**Options :**

1. ✗ 12

2. ✓ 20
3. ✗ 22
4. ✗ 22.5

**Question Number : 97 Question Id : 9767558619 Question Type : MCQ Option Shuffling : Yes Is Question Mandatory : No Option Orientation : Vertical**

**Correct Marks : 1 Wrong Marks : 0.25**

A is 50 percent faster than B. What is the ratio of speed of B and A?

**Options :**

1. ✓ 2 : 3
2. ✗ 1 : 3
3. ✗ 3 : 2
4. ✗ 2 : 5

**Question Number : 97 Question Id : 9767558619 Question Type : MCQ Option Shuffling : Yes Is Question Mandatory : No Option Orientation : Vertical**

**Correct Marks : 1 Wrong Marks : 0.25**

A, B की तुलना में 50 प्रतिशत अधिक तेज है। B और A की गति का अनुपात क्या है?

**Options :**

1. ✓ 2 : 3
2. ✗ 1 : 3
3. ✗ 3 : 2
4. ✗ 2 : 5

**Question Number : 98 Question Id : 9767558620 Question Type : MCQ Option Shuffling : Yes Is Question Mandatory : No Option Orientation : Vertical**

**Correct Marks : 1 Wrong Marks : 0.25**

Liquids A and B are mixed in the ratio 1 : 2 to form a mixture. If 2 litres of liquid A and 3 litres of B are added to the mixture the ratio changes to 6 : 11. What was the initial quantity of liquid A in litres?

**Options :**

1. ✗ 8
2. ✗ 6

3. ✖ 3

4. ✔ 4

**Question Number : 98 Question Id : 9767558620 Question Type : MCQ Option Shuffling : Yes Is Question Mandatory : No Option Orientation : Vertical**

**Correct Marks : 1 Wrong Marks : 0.25**

मिश्रण बनाने के लिए द्रव A और B को 1 : 2 के अनुपात में मिश्रित किया गया है। यदि मिश्रण में द्रव A का 2 लीटर और B का 3 लीटर जोड़ा जाता है तो अनुपात 6 : 11 में बदल जाता है। लीटर में द्रव A की प्रारंभिक मात्रा क्या थी?

**Options :**

1. ✖ 8

2. ✖ 6

3. ✖ 3

4. ✔ 4

**Question Number : 99 Question Id : 9767558621 Question Type : MCQ Option Shuffling : Yes Is Question Mandatory : No Option Orientation : Vertical**

**Correct Marks : 1 Wrong Marks : 0.25**

Samina decided to make pancakes on a Sunday and for that she needed egg, flour and pure milk in the ratio 1 : 4 : 2. She can make 10 pancakes from 500 grams of the batter. How much of flour will be required to make 50 pancakes approximately?

**Options :**

1. ✔ 1.43 kg

2. ✖ 1.6 kg

3. ✖ 2 kg

4. ✖ 4 kg

**Question Number : 99 Question Id : 9767558621 Question Type : MCQ Option Shuffling : Yes Is Question Mandatory : No Option Orientation : Vertical**

**Correct Marks : 1 Wrong Marks : 0.25**

समीना ने रविवार को पैनकेक बनाने का निर्णय किया और इसके लिए उसे 1 : 4 : 2 के अनुपात में अंडा, आटा और शुद्ध दूध की जरूरत थी। वह 500 ग्राम के बैटर से 10 पैनकेक बना सकती है। लगभग 50 पैनकेक बनाने के लिए कितने आटे की आवश्यकता होगी?

**Options :**

1. ✔ 1.43 kg

2. ✘ 1.6 kg
3. ✘ 2 kg
4. ✘ 4 kg

**Question Number : 100 Question Id : 9767558622 Question Type : MCQ Option Shuffling : Yes Is Question Mandatory : No Option Orientation : Vertical**

**Correct Marks : 1 Wrong Marks : 0.25**

Nilesh invested Rs. 5000 at 5 percent simple interest and Rs. 4500 at 8 percent simple interest per annum. What was the total interest earned by him at the end of two years?

**Options :**

1. ✘ Rs. 1450
2. ✘ Rs.1500
3. ✔ Rs. 1220
4. ✘ Rs. 1250

**Question Number : 100 Question Id : 9767558622 Question Type : MCQ Option Shuffling : Yes Is Question Mandatory : No Option Orientation : Vertical**

**Correct Marks : 1 Wrong Marks : 0.25**

नीलेश ने 5 प्रतिशत साधारण ब्याज पर 5000 रुपए निवेश किए और प्रति वर्ष 8 प्रतिशत साधारण ब्याज पर 4500 रुपए निवेश किए। दो वर्ष के अंत में उसके द्वारा अर्जित कुल ब्याज क्या था?

**Options :**

1. ✘ 1450 रुपए
2. ✘ 1500 रुपए
3. ✔ 1220 रुपए
4. ✘ 1250 रुपए

## Arithmetic Ability2

<b>Group Number :</b>	6
<b>Group Id :</b>	976755210
<b>Group Maximum Duration :</b>	0
<b>Group Minimum Duration :</b>	0

Show Attended Group? :	No
Edit Attended Group? :	No
Break time :	0
Group Marks :	20
Is this Group for Examiner? :	No

## Arithmetical and Numerical ability2

Section Id :	976755498
Section Number :	1
Section type :	Online
Mandatory or Optional :	Mandatory
Number of Questions :	20
Number of Questions to be attempted :	20
Section Marks :	20
Enable Mark as Answered Mark for Review and Clear Response :	Yes
Sub-Section Number :	1
Sub-Section Id :	976755597
Question Shuffling Allowed :	Yes

**Question Number : 101 Question Id : 9767558623 Question Type : MCQ Option Shuffling : Yes Is Question Mandatory : No Option Orientation : Vertical**

**Correct Marks : 1 Wrong Marks : 0.25**

A sum of Rs. 7500 was borrowed at x percent p.a. compound interest for 2 years. If the interest after two years was equal to 25.44 percent of the principal amount, then what is the value of x?

**Options :**

1. ✘ 15
2. ✔ 12
3. ✘ 11
4. ✘ 19

**Question Number : 101 Question Id : 9767558623 Question Type : MCQ Option Shuffling : Yes Is Question Mandatory : No Option Orientation : Vertical**

**Correct Marks : 1 Wrong Marks : 0.25**

7500 रुपए की राशि को 2 वर्ष के लिए प्रतिवर्ष  $x$  प्रतिशत चक्रवृद्धि ब्याज पर उधार लिया गया था। यदि दो वर्षों के बाद, ब्याज मूल राशि के 25.44 प्रतिशत के बराबर था, तो  $x$  का मूल्य क्या है?

**Options :**

1. ✖ 15
2. ✔ 12
3. ✖ 11
4. ✖ 19

**Question Number : 102 Question Id : 9767558624 Question Type : MCQ Option Shuffling : Yes Is Question Mandatory : No Option Orientation : Vertical**

**Correct Marks : 1 Wrong Marks : 0.25**

A sum was borrowed at 10 percent p.a. simple interest. If the rate of interest was reduced by one-fourth, then the interest payable after 3 years would reduce by Rs. 937.5, then what was the sum borrowed?

**Options :**

1. ✖ Rs. 12570
2. ✖ Rs. 25000
3. ✖ Rs. 1250
4. ✔ Rs. 12500

**Question Number : 102 Question Id : 9767558624 Question Type : MCQ Option Shuffling : Yes Is Question Mandatory : No Option Orientation : Vertical**

**Correct Marks : 1 Wrong Marks : 0.25**

प्रतिवर्ष 10 प्रतिशत साधारण ब्याज पर एक राशि उधार ली गई थी। यदि ब्याज दर को एक-चौथाई से कम किया जाता है, तो 3 वर्ष के बाद देय ब्याज 937.5 रुपए से कम हो जाएगा, तो उधार ली गई राशि क्या थी?

**Options :**

1. ✖ 12570 रुपए
2. ✖ 25000 रुपए
3. ✖ 1250 रुपए
4. ✔ 12500 रुपए

**Question Number : 103 Question Id : 9767558625 Question Type : MCQ Option Shuffling : Yes Is Question Mandatory : No Option Orientation : Vertical**

**Correct Marks : 1 Wrong Marks : 0.25**

A train was travelling at 80 percent of its normal speed and reached its destination which is 240 km away in 5 hours instead of 4 hours. What is the normal speed of the train?

**Options :**

1. ✓ 60 kmph
2. ✗ 72 kmph
3. ✗ 64 kmph
4. ✗ 58 kmph

**Question Number : 103 Question Id : 9767558625 Question Type : MCQ Option Shuffling : Yes Is Question Mandatory : No Option Orientation : Vertical**

**Correct Marks : 1 Wrong Marks : 0.25**

एक रेलगाड़ी अपनी सामान्य गति के 80 प्रतिशत पर यात्रा कर रही थी और अपने गंतव्य तक 4 घंटे के बजाय 5 घंटे में पहुंची जो 240 km दूर है। रेलगाड़ी की सामान्य गति क्या है?

**Options :**

1. ✓ 60 kmph
2. ✗ 72 kmph
3. ✗ 64 kmph
4. ✗ 58 kmph

**Question Number : 104 Question Id : 9767558626 Question Type : MCQ Option Shuffling : Yes Is Question Mandatory : No Option Orientation : Vertical**

**Correct Marks : 1 Wrong Marks : 0.25**

A train travelling at 54 kmph passes a pole in 9 seconds. If the train increases its speed by 6 kmph how long would it take to overtake another train 120 m long running at the speed of 45 kmph?

**Options :**

1. ✗ 32.4 s
2. ✓ 61.2 s
3. ✗ 65 s
4. ✗ 60 s

**Question Number : 104 Question Id : 9767558626 Question Type : MCQ Option Shuffling : Yes Is Question Mandatory : No Option Orientation : Vertical**

**Correct Marks : 1 Wrong Marks : 0.25**

54 kmph की गति से चल रही रेलगाड़ी 9 सेकंड में एक खंबे को पार करती है। यदि रेलगाड़ी 6 kmph से अपनी गति बढ़ाती है, तो 45 kmph की गति से चल रही 120 m लंबी दूसरी रेलगाड़ी से आगे निकलने के लिए कितना समय लगेगा?

**Options :**

1. ✘ 32.4 s
2. ✔ 61.2 s
3. ✘ 65 s
4. ✘ 60 s

**Question Number : 105 Question Id : 9767558627 Question Type : MCQ Option Shuffling : Yes Is Question Mandatory : No Option Orientation : Vertical**

**Correct Marks : 1 Wrong Marks : 0.25**

There are two athletes Sam and Kyle running around a track of radius 49 m. Sam is running at the speed of 44 m per minute. What is the speed of Kyle if they meet at the starting point for the first time after 77 minutes?

**Options :**

1. ✘ 35m per min
2. ✘ 25 m per min
3. ✔ 28 m per min
4. ✘ 30 m per min

**Question Number : 105 Question Id : 9767558627 Question Type : MCQ Option Shuffling : Yes Is Question Mandatory : No Option Orientation : Vertical**

**Correct Marks : 1 Wrong Marks : 0.25**

दो एथलीट सैम और काइल है जो 49 m त्रिज्या के एक ट्रैक के चारों ओर दौड़ रहे हैं। सैम 44 m प्रति मिनट की गति से दौड़ रहा है। यदि वे 77 मिनट के बाद पहली बार शुरुआती बिंदु पर मिलते हैं तो काइल की गति क्या है?

**Options :**

1. ✘ 35m प्रति मिनट
2. ✘ 25 m प्रति मिनट
3. ✔ 28 m प्रति मिनट



4. ✖ 30 m प्रति मिनट

**Question Number : 106 Question Id : 9767558628 Question Type : MCQ Option Shuffling : Yes Is Question Mandatory : No Option Orientation : Vertical**

**Correct Marks : 1 Wrong Marks : 0.25**

Mustafa and Samir can complete a work in 24 and 36 days respectively. If they start working together, then on which day will the work be completed?

**Options :**

1. ✖ 12th
2. ✖ 14th
3. ✔ 15th
4. ✖ 16th

**Question Number : 106 Question Id : 9767558628 Question Type : MCQ Option Shuffling : Yes Is Question Mandatory : No Option Orientation : Vertical**

**Correct Marks : 1 Wrong Marks : 0.25**

मुस्तफा और समीर क्रमशः 24 और 36 दिनों में एक काम पूरा कर सकते हैं। यदि वे एक साथ काम करना शुरू करते हैं, तो कौन से दिन पर काम पूरा होगा?

**Options :**

1. ✖ 12वें
2. ✖ 14वें
3. ✔ 15वें
4. ✖ 16वें

**Question Number : 107 Question Id : 9767558629 Question Type : MCQ Option Shuffling : Yes Is Question Mandatory : No Option Orientation : Vertical**

**Correct Marks : 1 Wrong Marks : 0.25**

A takes 12 days to complete a work alone. But working together with B, they completed the work in 8 days. What is the ratio of efficiency of A and B?

**Options :**

1. ✖ 2 : 3
2. ✔ 2 : 1
3. ✖ 1 : 2

4. ✖ 3 : 2

**Question Number : 107 Question Id : 9767558629 Question Type : MCQ Option Shuffling : Yes Is Question Mandatory : No Option Orientation : Vertical**

**Correct Marks : 1 Wrong Marks : 0.25**

A को एक कार्य को पूरा करने में 12 दिन लगते हैं। लेकिन B के साथ काम करने पर, वे 8 दिनों में काम पूरा कर लेते हैं। A और B की कुशलता का अनुपात क्या है?

**Options :**

1. ✖ 2 : 3

2. ✔ 2 : 1

3. ✖ 1 : 2

4. ✖ 3 : 2

**Question Number : 108 Question Id : 9767558630 Question Type : MCQ Option Shuffling : Yes Is Question Mandatory : No Option Orientation : Vertical**

**Correct Marks : 1 Wrong Marks : 0.25**

Seema can do 50 percent of a work in 9 days. If she is assisted by Ratan at every fourth day, then in how many days will the work be completed? Given that Ratan is one-fifth as efficient as Seema.

**Options :**

1. ✖ 16

2. ✖ 12

3. ✔ 18

4. ✖ 14

**Question Number : 108 Question Id : 9767558630 Question Type : MCQ Option Shuffling : Yes Is Question Mandatory : No Option Orientation : Vertical**

**Correct Marks : 1 Wrong Marks : 0.25**

सीमा 9 दिनों में एक कार्य का 50 प्रतिशत कर सकती है। यदि उसे हर चौथे दिन रतन द्वारा सहायता मिलती है, तो कार्य कितने दिनों में पूरा होगा? मान लीजिये की रतन की कुशलता सीमा के कुशलता के  $\frac{1}{5}$  है।

**Options :**

1. ✖ 16

2. ✖ 12

3. ✓ 18

4. ✗ 14

**Question Number : 109 Question Id : 9767558631 Question Type : MCQ Option Shuffling : Yes Is Question Mandatory : No Option Orientation : Vertical**

**Correct Marks : 1 Wrong Marks : 0.25**

32 women can do a work in 75 days and the same work can be done by 40 men in 60 days. They all started working together and if after 5 days 20 women and 10 men left, then how many additional days approximately will be required to complete the work?

**Options :**

1. ✗ 18

2. ✓ 20

3. ✗ 15

4. ✗ 24

**Question Number : 109 Question Id : 9767558631 Question Type : MCQ Option Shuffling : Yes Is Question Mandatory : No Option Orientation : Vertical**

**Correct Marks : 1 Wrong Marks : 0.25**

32 महिलाएं 75 दिनों में एक काम कर सकती हैं और वही काम 40 पुरुषों द्वारा 60 दिनों में किया जा सकता है। वे सभी एक साथ काम करने लगे और यदि 5 दिनों के बाद 20 महिलाएं और 10 पुरुष छोड़ देते हैं, तो काम पूरा करने के लिए लगभग कितने अतिरिक्त दिनों की आवश्यकता होगी?

**Options :**

1. ✗ 18

2. ✓ 20

3. ✗ 15

4. ✗ 24

**Question Number : 110 Question Id : 9767558632 Question Type : MCQ Option Shuffling : Yes Is Question Mandatory : No Option Orientation : Vertical**

**Correct Marks : 1 Wrong Marks : 0.25**

A cylinder has height 10 cm and radius 2 cm. If its height is reduced by 2 cm, then what will be the approximate change in its volume?

**Options :**

1. ✓ 25.14 cu cm

2. ✗ 24 cu cm

3. ✘ 36 cu cm
4. ✘ 26.8 cu cm

**Question Number : 110 Question Id : 9767558632 Question Type : MCQ Option Shuffling : Yes Is Question Mandatory : No Option Orientation : Vertical**

**Correct Marks : 1 Wrong Marks : 0.25**

एक बेलन की ऊंचाई 10 cm और त्रिज्या 2 cm है। यदि इसकी ऊंचाई को 2 cm से घटाई जाती है, तो इसके आयतन में अनुमानित परिवर्तन क्या होगा?

**Options :**

1. ✔ 25.14 cu cm
2. ✘ 24 cu cm
3. ✘ 36 cu cm
4. ✘ 26.8 cu cm

**Question Number : 111 Question Id : 9767558633 Question Type : MCQ Option Shuffling : Yes Is Question Mandatory : No Option Orientation : Vertical**

**Correct Marks : 1 Wrong Marks : 0.25**

A cone of height 4 cm and radius 3 cm is mounted on top of a hemisphere such that their bases exactly coincide. What is the approximate surface area of the resulting solid?

**Options :**

1. ✘ 72 sq cm
2. ✘ 75.43 sq cm
3. ✘ 76 sq cm
4. ✔ 103.71 sq cm

**Question Number : 111 Question Id : 9767558633 Question Type : MCQ Option Shuffling : Yes Is Question Mandatory : No Option Orientation : Vertical**

**Correct Marks : 1 Wrong Marks : 0.25**

4 cm ऊंचाई और 3 cm त्रिज्या के एक शंकु को एक अर्धगोले के शीर्ष पर इस तरह रखा गया है कि उनके आधार बिल्कुल मेल खाते हैं। परिणामी ठोस का अनुमानित पृष्ठीय क्षेत्रफल क्या है?

**Options :**

1. ✘ 72 sq cm
2. ✘ 75.43 sq cm

3. ✘ 76 sq cm

4. ✔ 103.71 sq cm

**Question Number : 112 Question Id : 9767558634 Question Type : MCQ Option Shuffling : Yes Is Question Mandatory : No Option Orientation : Vertical**

**Correct Marks : 1 Wrong Marks : 0.25**

A hemisphere of radius 7 cm is stuck on each of the 6 sides of a cube whose length is equal to the diameter of the hemisphere. What is the total surface area of the resulting solid?

**Options :**

1. ✘ 1176 sq cm

2. ✘ 1500 sq cm

3. ✔ 2100 sq cm

4. ✘ 2000 sq cm

**Question Number : 112 Question Id : 9767558634 Question Type : MCQ Option Shuffling : Yes Is Question Mandatory : No Option Orientation : Vertical**

**Correct Marks : 1 Wrong Marks : 0.25**

7 cm त्रिज्या के एक अर्धगोले को एक घन के 6 फलकों में से प्रत्येक पर चिपकाया गया है जिसकी लंबाई अर्धगोले के व्यास के बराबर है। परिणामी ठोस का कुल पृष्ठीय क्षेत्रफल क्या है?

**Options :**

1. ✘ 1176 sq cm

2. ✘ 1500 sq cm

3. ✔ 2100 sq cm

4. ✘ 2000 sq cm

**Question Number : 113 Question Id : 9767558635 Question Type : MCQ Option Shuffling : Yes Is Question Mandatory : No Option Orientation : Vertical**

**Correct Marks : 1 Wrong Marks : 0.25**

The dimensions of a cuboid are 10 cm × 12 cm × 15 cm. If the length, breadth and height are reduced by 10 percent each, then what is the percentage reduction in volume?

**Options :**

1. ✘ 8.1

2. ✘ 30
3. ✘ 29
4. ✔ 27.1

**Question Number : 113 Question Id : 9767558635 Question Type : MCQ Option Shuffling : Yes Is Question Mandatory : No Option Orientation : Vertical**

**Correct Marks : 1 Wrong Marks : 0.25**

एक घनाभ के आयाम  $10\text{ cm} \times 12\text{ cm} \times 15\text{ cm}$  हैं। यदि लंबाई, चौड़ाई और ऊंचाई को 10 प्रतिशत से घटाया जाता है, तो आयतन में प्रतिशत कमी क्या है?

**Options :**

1. ✘ 8.1
2. ✘ 30
3. ✘ 29
4. ✔ 27.1

**Question Number : 114 Question Id : 9767558636 Question Type : MCQ Option Shuffling : Yes Is Question Mandatory : No Option Orientation : Vertical**

**Correct Marks : 1 Wrong Marks : 0.25**

The following table gives the number of different types of shoes sold by a store in a week. What is the average sale of each shoe type for the week?

Shoe size	Sale
5	3
6	4
9	8

**Options :**

1. ✘ 6
2. ✘ 3
3. ✔ 5
4. ✘ 4

**Question Number : 114 Question Id : 9767558636 Question Type : MCQ Option Shuffling : Yes Is Question Mandatory : No Option Orientation : Vertical**

**Correct Marks : 1 Wrong Marks : 0.25**

निम्नलिखित तालिका एक सप्ताह में एक दुकान द्वारा बेचे गए विभिन्न प्रकार जूतों की संख्या को दर्शाती है। सप्ताह के लिए प्रत्येक जूते के प्रकार की औसत बिक्री क्या है?

जूते का माप	बिक्री
5	3
6	4
9	8

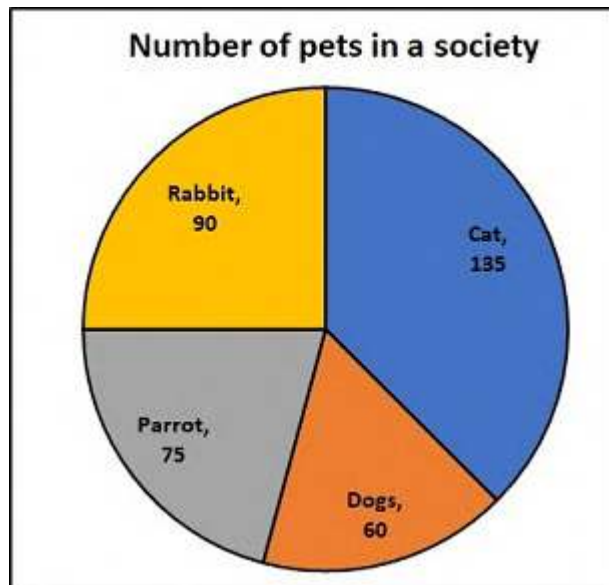
**Options :**

1. ✘ 6
2. ✘ 3
3. ✔ 5
4. ✘ 4

**Question Number : 115 Question Id : 9767558637 Question Type : MCQ Option Shuffling : Yes Is Question Mandatory : No Option Orientation : Vertical**

**Correct Marks : 1 Wrong Marks : 0.25**

The pie chart below gives the details of the number of pets in a particular society. What percentage of the total pets are dogs approximately?



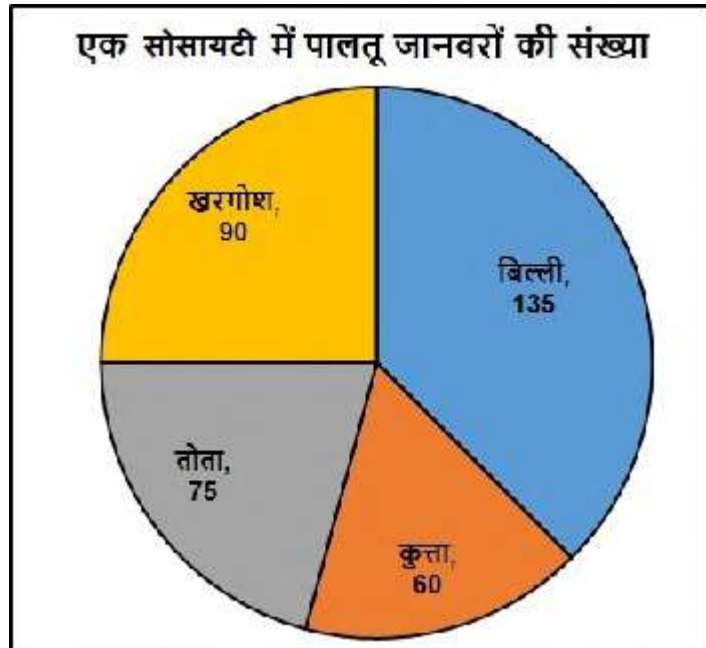
**Options :**

1. ✖ 16
2. ✔ 16.67
3. ✖ 15
4. ✖ 30

**Question Number : 115 Question Id : 9767558637 Question Type : MCQ Option Shuffling : Yes Is Question Mandatory : No Option Orientation : Vertical**

**Correct Marks : 1 Wrong Marks : 0.25**

नीचे दिया गया पाई चार्ट किसी विशेष सोसायटी में पालतू जानवरों की संख्या का विवरण देता है। कुल पालतू जानवरों का लगभग कितना प्रतिशत कुत्ते हैं?



**Options :**

1. ✖ 16
2. ✔ 16.67
3. ✖ 15
4. ✖ 30



**Question Number : 116 Question Id : 9767558638 Question Type : MCQ Option Shuffling : Yes Is Question Mandatory : No Option Orientation : Vertical**

**Correct Marks : 1 Wrong Marks : 0.25**

The following table gives the information of the favourite sports activity of the employees in a company. If all the football enthusiasts switched to cricket, then what will be the percentage change in the number of employees liking cricket?

Sport	Numbers
Golf	6
Cricket	24
Football	12
Tennis	8

**Options :**

- ✘ 24
- ✘ 12
- ✘ 20
- ✔ 50

**Question Number : 116 Question Id : 9767558638 Question Type : MCQ Option Shuffling : Yes Is Question Mandatory : No Option Orientation : Vertical**

**Correct Marks : 1 Wrong Marks : 0.25**

निम्नलिखित तालिका एक कंपनी में कर्मचारियों की पसंदीदा खेल गतिविधि की जानकारी देती है। यदि सभी फुटबॉल पसंद करने वाले, क्रिकेट में बदल जाते हैं, तो क्रिकेट को पसंद करने वाले कर्मचारियों की संख्या में प्रतिशत परिवर्तन क्या होगा?

खेल	संख्याएँ
गोल्फ़	6
क्रिकेट	24
फुटबॉल	12
टेनिस	8

**Options :**

- ✘ 24
- ✘ 12

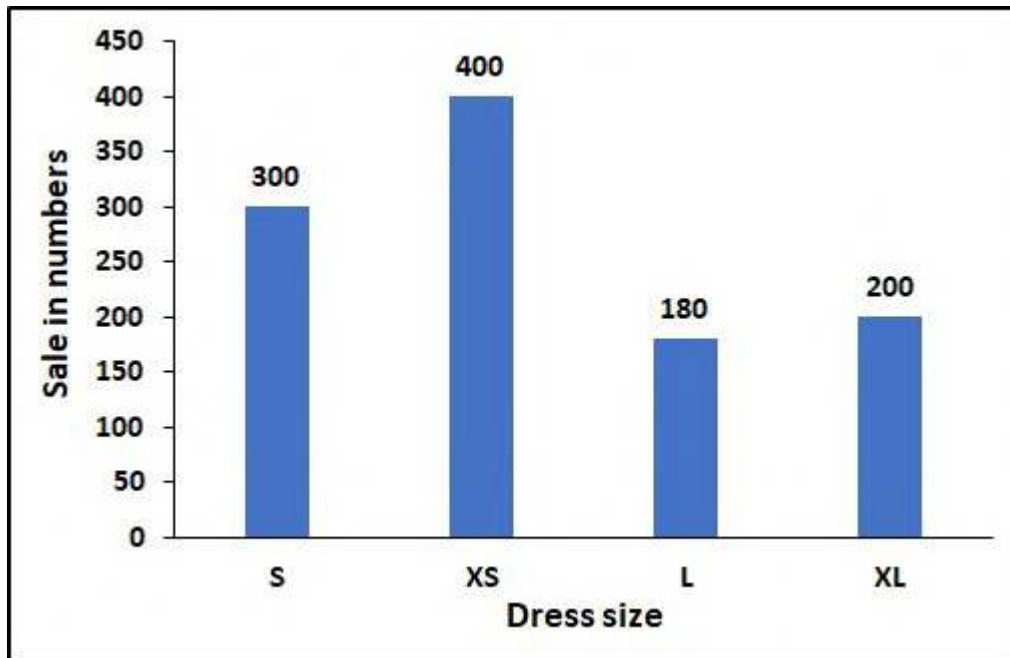
3. ✘ 20

4. ✔ 50

**Question Number : 117 Question Id : 9767558639 Question Type : MCQ Option Shuffling : Yes Is Question Mandatory : No Option Orientation : Vertical**

**Correct Marks : 1 Wrong Marks : 0.25**

The following bar graph shows the sale of different dresses in a month. The dress with the highest sale contributes to what percent of the total sale approximately?



**Options :**

1. ✘ 40

2. ✘ 25

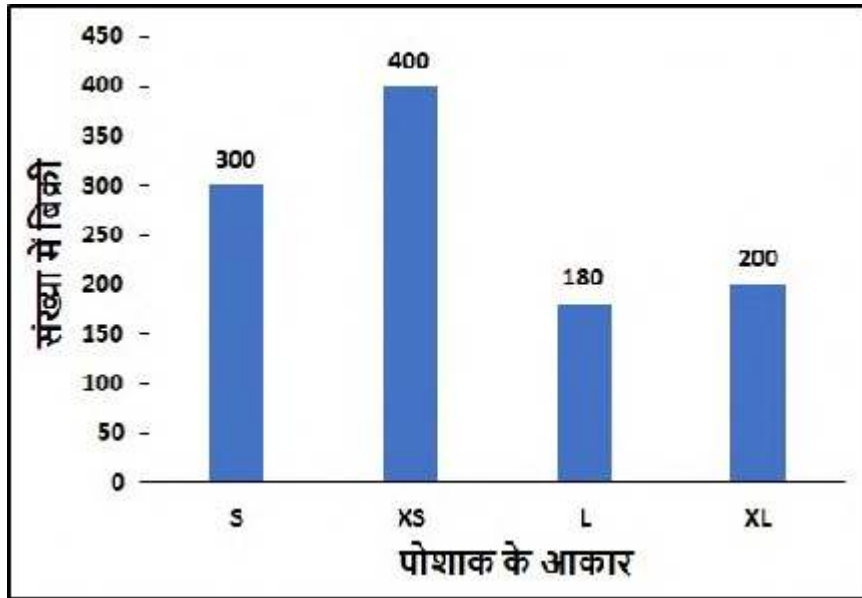
3. ✘ 31

4. ✔ 37

**Question Number : 117 Question Id : 9767558639 Question Type : MCQ Option Shuffling : Yes Is Question Mandatory : No Option Orientation : Vertical**

**Correct Marks : 1 Wrong Marks : 0.25**

निम्नलिखित बार ग्राफ एक महीने में विभिन्न पोशाकों की बिक्री को दर्शाता है। उच्चतम बिक्री वाली पोशाक, कुल बिक्री में लगभग कितना प्रतिशत योगदान करती है?



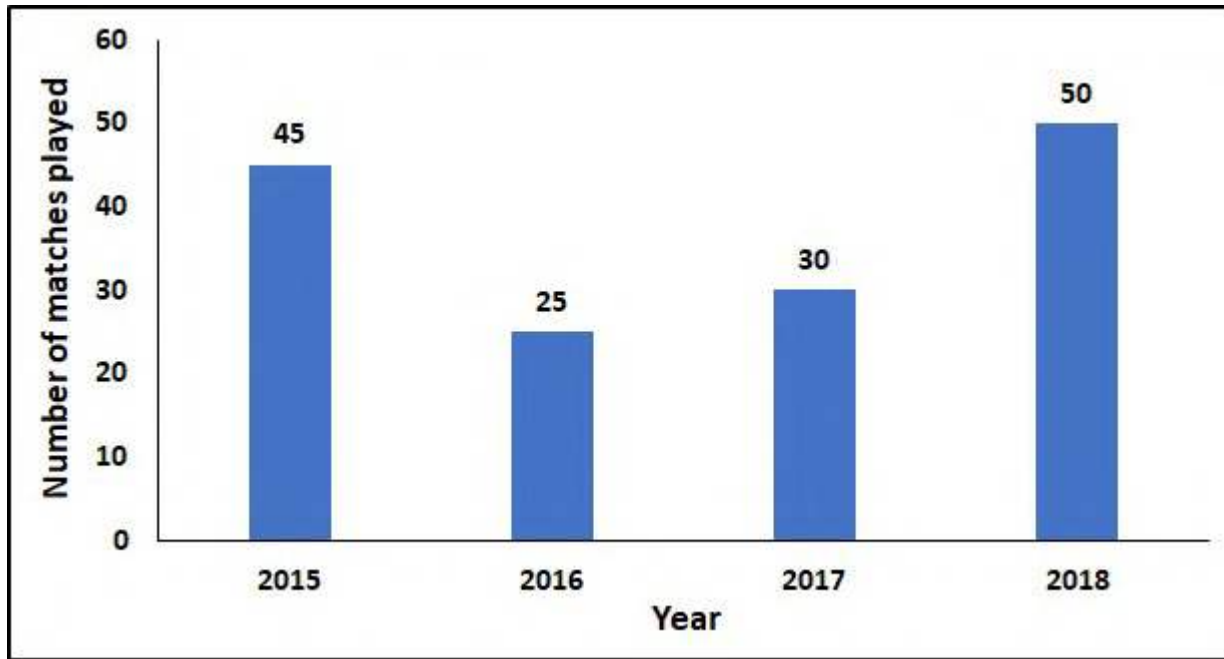
Options :

1. ✘ 40
2. ✘ 25
3. ✘ 31
4. ✔ 37

Question Number : 118 Question Id : 9767558640 Question Type : MCQ Option Shuffling : Yes Is Question Mandatory : No Option Orientation : Vertical

Correct Marks : 1 Wrong Marks : 0.25

The following graph shows the number of matches played by Ronaldo over 4 years. What is the average number of matches played by Ronaldo per year?



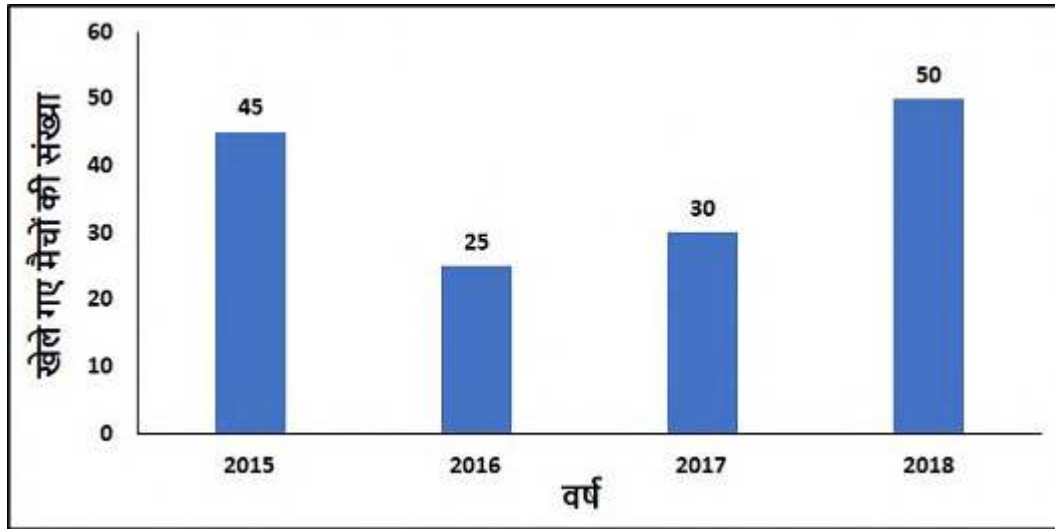
Options :

1. ✘ 30.75
2. ✘ 34.5
3. ✔ 37.5
4. ✘ 40.6

Question Number : 118 Question Id : 9767558640 Question Type : MCQ Option Shuffling : Yes Is Question Mandatory : No Option Orientation : Vertical

Correct Marks : 1 Wrong Marks : 0.25

निम्नलिखित ग्राफ रोनाल्डो द्वारा 4 वर्षों में खेले गए मैचों की संख्या को दर्शाती है। प्रति वर्ष रोनाल्डो द्वारा खेले जाने वाले मैचों की औसत संख्या क्या है?



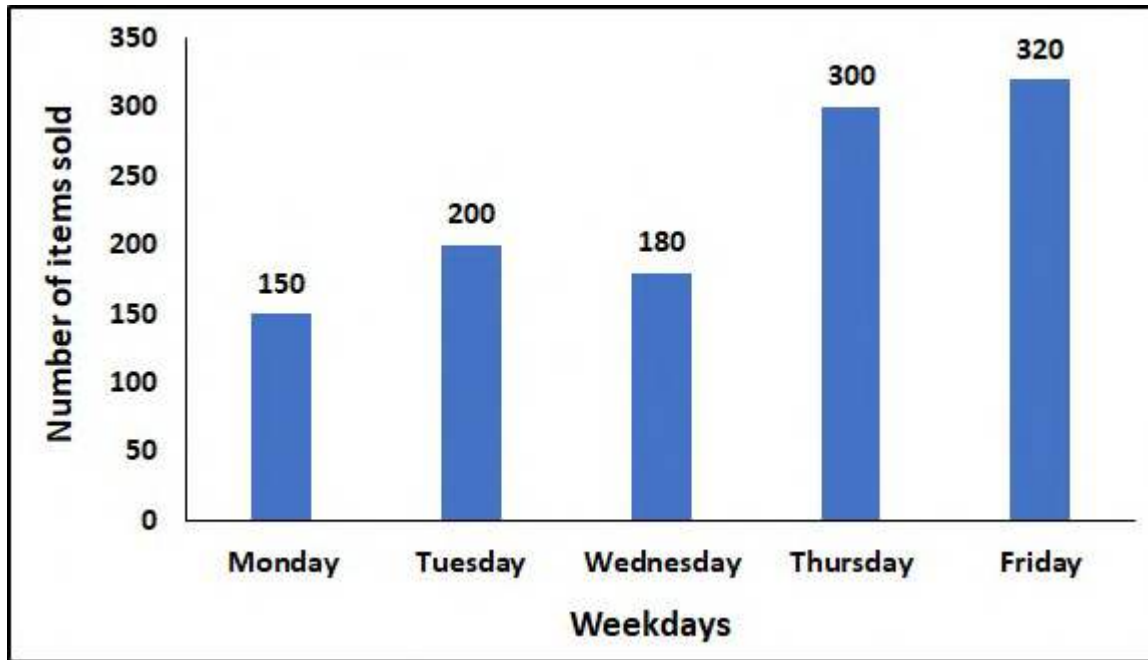
Options :

1. ✘ 30.75
2. ✘ 34.5
3. ✔ 37.5
4. ✘ 40.6

**Question Number : 119 Question Id : 9767558641 Question Type : MCQ Option Shuffling : Yes Is Question Mandatory : No Option Orientation : Vertical**

**Correct Marks : 1 Wrong Marks : 0.25**

The graph below shows the number of items sold by a shopkeeper on weekdays. The maximum number of items sold in a day is what percent more than the number of items sold on Wednesday?



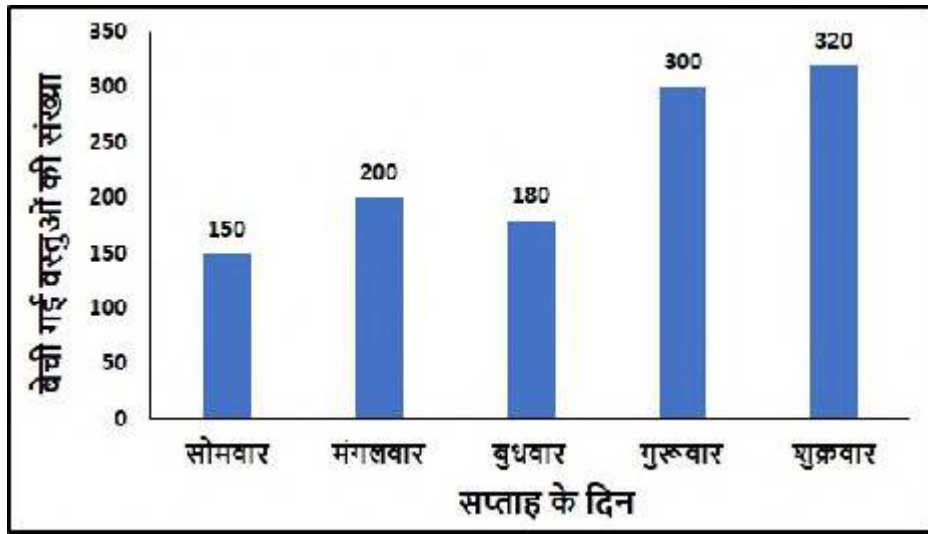
Options :

1. ✘ 77.22
2. ✔ 77.78
3. ✘ 79
4. ✘ 81.05

Question Number : 119 Question Id : 9767558641 Question Type : MCQ Option Shuffling : Yes Is Question Mandatory : No Option Orientation : Vertical

Correct Marks : 1 Wrong Marks : 0.25

नीचे दिया गया ग्राफ सप्ताह के दिनों में एक दुकानदार द्वारा बेची गई वस्तुओं की संख्या को दर्शाता है। एक दिन में बेची गई वस्तुओं की अधिकतम संख्या, बुधवार को बेची गई वस्तुओं की संख्या से कितने प्रतिशत अधिक है?



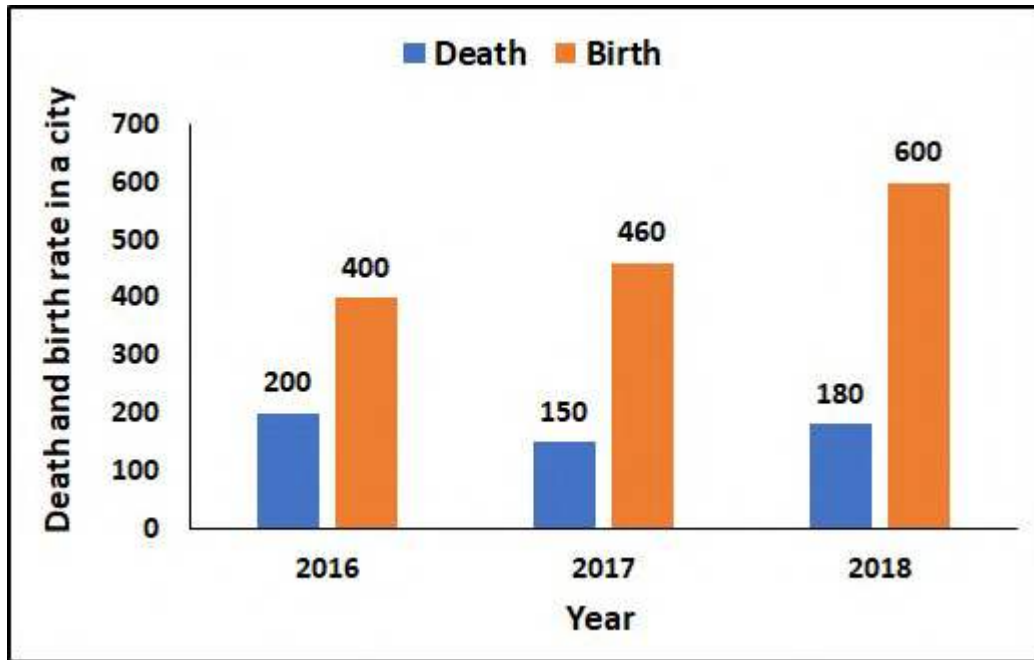
Options :

1. ✘ 77.22
2. ✔ 77.78
3. ✘ 79
4. ✘ 81.05

Question Number : 120 Question Id : 9767558642 Question Type : MCQ Option Shuffling : Yes Is Question Mandatory : No Option Orientation : Vertical

Correct Marks : 1 Wrong Marks : 0.25

The following graph shows the death and birth rate in a city over three years. If birth rate in 2018 was lesser by 20 percent and death rate in 2016 was greater by 70 percent, then the ratio of the death rate to birth for all the three years would have been \_\_\_\_\_.



Options :

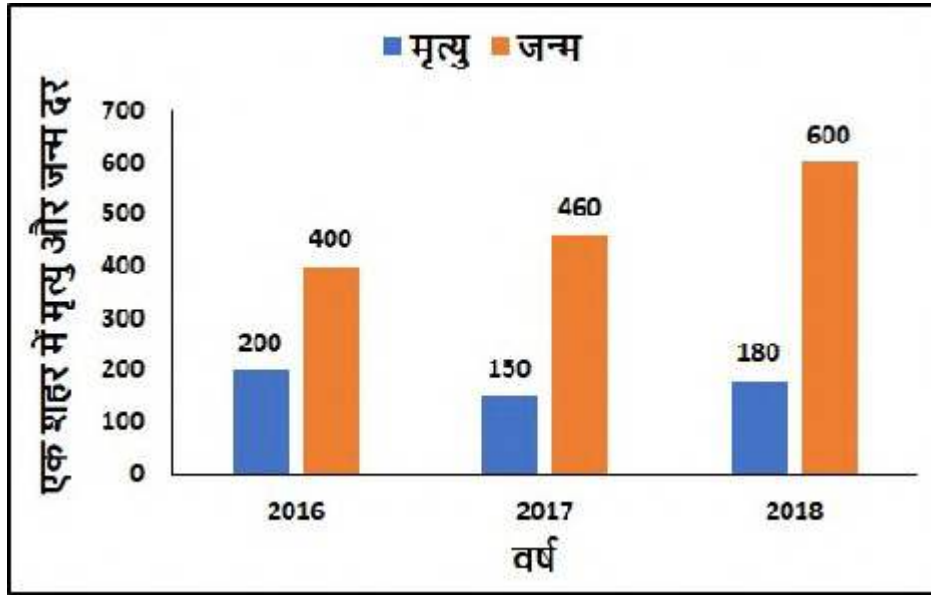
1. ✓ 1 : 2
2. ✗ 2 : 5
3. ✗ 2 : 1
4. ✗ 5 : 2

Question Number : 120 Question Id : 9767558642 Question Type : MCQ Option Shuffling : Yes Is Question Mandatory : No Option Orientation : Vertical

Correct Marks : 1 Wrong Marks : 0.25

निम्नलिखित ग्राफ तीन वर्षों में एक शहर में मृत्यु और जन्म दर को दर्शाता है। यदि 2018 में जन्म दर 20 प्रतिशत से कम था और 2016 में मृत्यु दर 70 प्रतिशत से अधिक था, तो सभी 3 वर्षों के लिए मृत्यु दर का जन्म दर से अनुपात \_\_\_\_\_ होगा।





Options :

1. ✓ 1 : 2
2. ✗ 2 : 5
3. ✗ 2 : 1
4. ✗ 5 : 2

## General English1

Group Number :	7
Group Id :	976755211
Group Maximum Duration :	0
Group Minimum Duration :	0
Show Attended Group? :	No
Edit Attended Group? :	No
Break time :	0
Group Marks :	20
Is this Group for Examiner? :	No

# English Language & Comprehension1

Section Id :	976755499
Section Number :	1
Section type :	Online
Mandatory or Optional :	Mandatory
Number of Questions :	20
Number of Questions to be attempted :	20
Section Marks :	20
Enable Mark as Answered Mark for Review and Clear Response :	Yes
Sub-Section Number :	1
Sub-Section Id :	976755598
Question Shuffling Allowed :	Yes

**Question Number : 121 Question Id : 9767558643 Question Type : MCQ Option Shuffling : Yes Is Question Mandatory : No Option Orientation : Vertical**

**Correct Marks : 1 Wrong Marks : 0.25**

The sentence below has been divided into three parts. Select the part of the sentence that has an error. If the sentence has no error, select the option 'No Error'.

**Options :**

1. ✘ Virat Kohli is considered
2. ✘ as the best batsman
3. ✔ between all the three formats of the game.
4. ✘ No Error

**Question Number : 121 Question Id : 9767558643 Question Type : MCQ Option Shuffling : Yes Is Question Mandatory : No Option Orientation : Vertical**

**Correct Marks : 1 Wrong Marks : 0.25**

The sentence below has been divided into three parts. Select the part of the sentence that has an error. If the sentence has no error, select the option 'No Error'.

**Options :**

1. ✘ Virat Kohli is considered
2. ✘ as the best batsman

3. ✓ between all the three formats of the game.

4. ✗ No Error

**Question Number : 122 Question Id : 9767558644 Question Type : MCQ Option Shuffling : Yes Is Question Mandatory : No Option Orientation : Vertical**

**Correct Marks : 1 Wrong Marks : 0.25**

The sentence below has been divided into three parts. Select the part of the sentence that has an error. If the sentence has no error, select the option 'No Error'.

**Options :**

1. ✗ As good as a carnival it was, it was

2. ✗ nothing compared to the annual Canadian

3. ✓ carnival held every year on March.

4. ✗ No error

**Question Number : 122 Question Id : 9767558644 Question Type : MCQ Option Shuffling : Yes Is Question Mandatory : No Option Orientation : Vertical**

**Correct Marks : 1 Wrong Marks : 0.25**

The sentence below has been divided into three parts. Select the part of the sentence that has an error. If the sentence has no error, select the option 'No Error'.

**Options :**

1. ✗ As good as a carnival it was, it was

2. ✗ nothing compared to the annual Canadian

3. ✓ carnival held every year on March.

4. ✗ No error

**Question Number : 123 Question Id : 9767558645 Question Type : MCQ Option Shuffling : Yes Is Question Mandatory : No Option Orientation : Vertical**

**Correct Marks : 1 Wrong Marks : 0.25**

The sentence below has been divided into three parts. Select the part of the sentence that has an error. If the sentence has no error, select the option 'No Error'.

**Options :**

1. ✗ The powerful campaign led by the opposition

2. ✓ drew massive influx of supporters for their cause and things

3. ✘ went awry for the government.
4. ✘ No error

**Question Number : 123 Question Id : 9767558645 Question Type : MCQ Option Shuffling : Yes Is Question Mandatory : No Option Orientation : Vertical**

**Correct Marks : 1 Wrong Marks : 0.25**

The sentence below has been divided into three parts. Select the part of the sentence that has an error. If the sentence has no error, select the option 'No Error'.

**Options :**

1. ✘ The powerful campaign led by the opposition
2. ✔ drew massive influx of supporters for their cause and things
3. ✘ went awry for the government.
4. ✘ No error

**Question Number : 124 Question Id : 9767558646 Question Type : MCQ Option Shuffling : Yes Is Question Mandatory : No Option Orientation : Vertical**

**Correct Marks : 1 Wrong Marks : 0.25**

The sentence below has been divided into three parts. Select the part of the sentence that has an error. If the sentence has no error, select the option 'No Error'.

**Options :**

1. ✘ A part of the curriculum had been changed
2. ✘ earlier this week as the education ministry found
3. ✔ certain subjects non benefiting.
4. ✘ No error

**Question Number : 124 Question Id : 9767558646 Question Type : MCQ Option Shuffling : Yes Is Question Mandatory : No Option Orientation : Vertical**

**Correct Marks : 1 Wrong Marks : 0.25**

The sentence below has been divided into three parts. Select the part of the sentence that has an error. If the sentence has no error, select the option 'No Error'.

**Options :**

1. ✘ A part of the curriculum had been changed

2. ✘ earlier this week as the education ministry found
3. ✔ certain subjects non benefiting.
4. ✘ No error

**Question Number : 125 Question Id : 9767558647 Question Type : MCQ Option Shuffling : Yes Is Question Mandatory : No Option Orientation : Vertical**

**Correct Marks : 1 Wrong Marks : 0.25**

The sentence below has been divided into three parts. Select the part of the sentence that has an error. If the sentence has no error, select the option 'No Error'.

**Options :**

1. ✔ Following the dreaded lunch
2. ✘ he decided to never
3. ✘ see her again.
4. ✘ No error

**Question Number : 125 Question Id : 9767558647 Question Type : MCQ Option Shuffling : Yes Is Question Mandatory : No Option Orientation : Vertical**

**Correct Marks : 1 Wrong Marks : 0.25**

The sentence below has been divided into three parts. Select the part of the sentence that has an error. If the sentence has no error, select the option 'No Error'.

**Options :**

1. ✔ Followed the dreaded lunch
2. ✘ he decided to never
3. ✘ see her again.
4. ✘ No error

**Question Number : 126 Question Id : 9767558648 Question Type : MCQ Option Shuffling : Yes Is Question Mandatory : No Option Orientation : Vertical**

**Correct Marks : 1 Wrong Marks : 0.25**

Select the word segment that substitutes (replaces) the bracketed word segment correctly and completes the sentence meaningfully. Select the option 'no correction required' if the sentence is correct as given.

The sheer audacity of this album, (it's unabashed confidence and sense of drama) is jaw dropping.

**Options :**

1. ✓ its unabashed confidence and sense of drama
2. ✗ its' unabashed confidence and sense in drama
3. ✗ it's unabashed confidence and sense in drama
4. ✗ No corrections required

**Question Number : 126 Question Id : 9767558648 Question Type : MCQ Option Shuffling : Yes Is Question Mandatory : No Option Orientation : Vertical**

**Correct Marks : 1 Wrong Marks : 0.25**

Select the word segment that substitutes (replaces) the bracketed word segment correctly and completes the sentence meaningfully. Select the option 'no correction required' if the sentence is correct as given.

The sheer audacity of this album, (it's unabashed confidence and sense of drama) is jaw dropping.

**Options :**

1. ✓ its unabashed confidence and sense of drama
2. ✗ its' unabashed confidence and sense in drama
3. ✗ it's unabashed confidence and sense in drama
4. ✗ No corrections required

**Question Number : 127 Question Id : 9767558649 Question Type : MCQ Option Shuffling : Yes Is Question Mandatory : No Option Orientation : Vertical**

**Correct Marks : 1 Wrong Marks : 0.25**

Select the word segment that substitutes (replaces) the bracketed word segment correctly and completes the sentence meaningfully. Select the option 'no correction required' if the sentence is correct as given.

It was a collaborative effort of many which (led to a successful and hardly earned endeavour).

**Options :**

1. ✗ leading to a successful and hard-earned endeavour.
2. ✗ lead to a successful and hard-earned endeavour.
3. ✓ led to the success of this hard-earned endeavour.
4. ✗ No corrections required

**Question Number : 127 Question Id : 9767558649 Question Type : MCQ Option Shuffling : Yes Is Question Mandatory : No Option**

**Orientation : Vertical**

**Correct Marks : 1 Wrong Marks : 0.25**

Select the word segment that substitutes (replaces) the bracketed word segment correctly and completes the sentence meaningfully. Select the option 'no correction required' if the sentence is correct as given.

It was a collaborative effort of many which (led to a successful and hardly earned endeavour).

**Options :**

1. ✘ leading to a successful and hard-earned endeavour.
2. ✘ lead to a successful and hard-earned endeavour.
3. ✔ led to the success of this hard-earned endeavour.
4. ✘ No corrections required

**Question Number : 128 Question Id : 9767558650 Question Type : MCQ Option Shuffling : Yes Is Question Mandatory : No Option Orientation : Vertical**

**Correct Marks : 1 Wrong Marks : 0.25**

Select the word segment that substitutes (replaces) the bracketed word segment correctly and completes the sentence meaningfully. Select the option 'no correction required' if the sentence is correct as given.

(A congruence in class deprivation) and gender discrimination can blight the lives of poor women very severely.

**Options :**

1. ✔ A congruence of class deprivation
2. ✘ A congruence at class deprivation
3. ✘ A congruence on class deprivation
4. ✘ No corrections required

**Question Number : 128 Question Id : 9767558650 Question Type : MCQ Option Shuffling : Yes Is Question Mandatory : No Option Orientation : Vertical**

**Correct Marks : 1 Wrong Marks : 0.25**

Select the word segment that substitutes (replaces) the bracketed word segment correctly and completes the sentence meaningfully. Select the option 'no correction required' if the sentence is correct as given.

(A congruence in class deprivation) and gender discrimination can blight the lives of poor women very severely.

**Options :**

1. ✔ A congruence of class deprivation

2. ✘ A congruence at class deprivation
3. ✘ A congruence on class deprivation
4. ✘ No corrections required

**Question Number : 129 Question Id : 9767558651 Question Type : MCQ Option Shuffling : Yes Is Question Mandatory : No Option Orientation : Vertical**

**Correct Marks : 1 Wrong Marks : 0.25**

Select the word segment that substitutes (replaces) the bracketed word segment correctly and completes the sentence meaningfully. Select the option 'no correction required' if the sentence is correct as given.

(Not withstanding the abuses she dealt) with as a child, she turned out to be a great mother.

**Options :**

1. ✔ Notwithstanding the abuses she dealt
2. ✘ Withstanding the abuses she dealt
3. ✘ With standing the abuses she dealt
4. ✘ No corrections required

**Question Number : 129 Question Id : 9767558651 Question Type : MCQ Option Shuffling : Yes Is Question Mandatory : No Option Orientation : Vertical**

**Correct Marks : 1 Wrong Marks : 0.25**

Select the word segment that substitutes (replaces) the bracketed word segment correctly and completes the sentence meaningfully. Select the option 'no correction required' if the sentence is correct as given.

(Not withstanding the abuses she dealt) with as a child, she turned out to be a great mother.

**Options :**

1. ✔ Notwithstanding the abuses she dealt
2. ✘ Withstanding the abuses she dealt
3. ✘ With standing the abuses she dealt
4. ✘ No corrections required

**Question Number : 130 Question Id : 9767558652 Question Type : MCQ Option Shuffling : Yes Is Question Mandatory : No Option Orientation : Vertical**

**Correct Marks : 1 Wrong Marks : 0.25**



Fill in the blank with the appropriate word.

Many individuals who want to remove a few \_\_\_\_\_ hairs choose tweezers for the job.

**Options :**

1. ✓ errant
2. ✗ arrant
3. ✗ errand
4. ✗ err

**Question Number : 130 Question Id : 9767558652 Question Type : MCQ Option Shuffling : Yes Is Question Mandatory : No Option Orientation : Vertical**

**Correct Marks : 1 Wrong Marks : 0.25**

Fill in the blank with the appropriate word.

Many individuals who want to remove a few \_\_\_\_\_ hairs choose tweezers for the job.

**Options :**

1. ✓ errant
2. ✗ arrant
3. ✗ errand
4. ✗ err

**Question Number : 131 Question Id : 9767558653 Question Type : MCQ Option Shuffling : Yes Is Question Mandatory : No Option Orientation : Vertical**

**Correct Marks : 1 Wrong Marks : 0.25**

Fill in the blank with the appropriate word.

I was most \_\_\_\_\_ when that rude man cut me in the line for my morning coffee.

**Options :**

1. ✗ indinavir
2. ✗ indigent
3. ✓ indignant
4. ✗ indigenous

**Question Number : 131 Question Id : 9767558653 Question Type : MCQ Option Shuffling : Yes Is Question Mandatory : No Option Orientation : Vertical**

**Correct Marks : 1 Wrong Marks : 0.25**

Fill in the blank with the appropriate word.

I was most \_\_\_\_\_ when that rude man cut me in the line for my morning coffee.

**Options :**

1. ✘ **indinavir**
2. ✘ **indigent**
3. ✔ **indignant**
4. ✘ **indigenous**

**Question Number : 132 Question Id : 9767558654 Question Type : MCQ Option Shuffling : Yes Is Question Mandatory : No Option Orientation : Vertical**

**Correct Marks : 1 Wrong Marks : 0.25**

Fill in the blank with the appropriate word.

It is paramount to \_\_\_\_\_ an appropriate response from the world leaders on the antinuclear policy in the upcoming U.N. summit.

**Options :**

1. ✔ **elicit**
2. ✘ **explicit**
3. ✘ **illicit**
4. ✘ **tacit**

**Question Number : 132 Question Id : 9767558654 Question Type : MCQ Option Shuffling : Yes Is Question Mandatory : No Option Orientation : Vertical**

**Correct Marks : 1 Wrong Marks : 0.25**

Fill in the blank with the appropriate word.

It is paramount to \_\_\_\_\_ an appropriate response from the world leaders on the antinuclear policy in the upcoming U.N. summit.

**Options :**

1. ✔ **elicit**
2. ✘ **explicit**

3. ✘ illicit

4. ✘ tacit

**Question Number : 133 Question Id : 9767558655 Question Type : MCQ Option Shuffling : Yes Is Question Mandatory : No Option Orientation : Vertical**

**Correct Marks : 1 Wrong Marks : 0.25**

Fill in the blank with the appropriate word.

He has \_\_\_\_\_ outbursts on little things when he is hungry.

**Options :**

1. ✘ preonic

2. ✔ histrionic

3. ✘ conic

4. ✘ thionic

**Question Number : 133 Question Id : 9767558655 Question Type : MCQ Option Shuffling : Yes Is Question Mandatory : No Option Orientation : Vertical**

**Correct Marks : 1 Wrong Marks : 0.25**

Fill in the blank with the appropriate word.

He has \_\_\_\_\_ outbursts on little things when he is hungry.

**Options :**

1. ✘ preonic

2. ✔ histrionic

3. ✘ conic

4. ✘ thionic

**Question Number : 134 Question Id : 9767558656 Question Type : MCQ Option Shuffling : Yes Is Question Mandatory : No Option Orientation : Vertical**

**Correct Marks : 1 Wrong Marks : 0.25**

The question below consist of a set of labelled sentences. Out of four options given, select the most logical order of the sentences which form a paragraph.

Paradox of thrift was popularized by the renowned economist John Maynard Keynes.

P. Keynes further said that such a mass increase in savings eventually hurts the economy as a whole.

Q. Such a situation is harmful for everybody as investments give lower returns than normal.

R. It states that individuals try to save more during an economic recession, which essentially leads to a fall in aggregate demand and hence in economic growth.

S. This theory was heavily criticized by non-Keynesian economists on the ground that an increase in savings allows banks to lend more.

This will make interest rates go down and lead to an increase in lending and, therefore, spending.

**Options :**

1. ✘ RQSP
2. ✘ RPSQ
3. ✘ RSQP
4. ✔ RQPS

**Question Number : 134 Question Id : 9767558656 Question Type : MCQ Option Shuffling : Yes Is Question Mandatory : No Option Orientation : Vertical**

**Correct Marks : 1 Wrong Marks : 0.25**

The question below consist of a set of labelled sentences. Out of four options given, select the most logical order of the sentences which form a paragraph.

Paradox of thrift was popularized by the renowned economist John Maynard Keynes.

P. Keynes further said that such a mass increase in savings eventually hurts the economy as a whole.

Q. Such a situation is harmful for everybody as investments give lower returns than normal.

R. It states that individuals try to save more during an economic recession, which essentially leads to a fall in aggregate demand and hence in economic growth.

S. This theory was heavily criticized by non-Keynesian economists on the ground that an increase in savings allows banks to lend more.

This will make interest rates go down and lead to an increase in lending and, therefore, spending.

**Options :**

1. ✘ RQSP
2. ✘ RPSQ
3. ✘ RSQP
4. ✔ RQPS

**Question Number : 135 Question Id : 9767558657 Question Type : MCQ Option Shuffling : Yes Is Question Mandatory : No Option Orientation : Vertical**

**Correct Marks : 1 Wrong Marks : 0.25**

Some parts of a sentence have been jumbled up, and labelled P, Q, R and S. Select the option that gives the correct sequence in which these parts can be rearranged to form a meaningful and grammatically correct sentence.

Only if the parameters matched

- P. and under strict guidance,
- Q. to enter into the enemy airspace
- R. were the pilots allowed
- S. and engage in

aerial combat.

**Options :**

1. ✘ PSRQ
2. ✘ PSQR
3. ✘ PQRS
4. ✔ PRQS

**Question Number : 135 Question Id : 9767558657 Question Type : MCQ Option Shuffling : Yes Is Question Mandatory : No Option Orientation : Vertical**

**Correct Marks : 1 Wrong Marks : 0.25**

Some parts of a sentence have been jumbled up, and labelled P, Q, R and S. Select the option that gives the correct sequence in which these parts can be rearranged to form a meaningful and grammatically correct sentence.

Only if the parameters matched

- P. and under strict guidance,
- Q. to enter into the enemy airspace
- R. were the pilots allowed

S. and engage in

aerial combat.

**Options :**

1. ✘ PSRQ
2. ✘ PSQR
3. ✘ PQRS
4. ✔ PRQS

**Question Number : 136 Question Id : 9767558658 Question Type : MCQ Option Shuffling : Yes Is Question Mandatory : No Option Orientation : Vertical**

**Correct Marks : 1 Wrong Marks : 0.25**

Some parts of a sentence have been jumbled up, and labelled P, Q, R and S. Select the option that gives the correct sequence in which these parts can be rearranged to form a meaningful and grammatically correct sentence.

Pine nuts can rapidly become

- P. and always check
- Q. rancid due to their high
- R. only small amounts
- S. oil content, so buy

the use-by date.

**Options :**

1. ✘ QRPS
2. ✘ QSPR
3. ✘ QPRS
4. ✔ QSRP

**Question Number : 136 Question Id : 9767558658 Question Type : MCQ Option Shuffling : Yes Is Question Mandatory : No Option Orientation : Vertical**

**Correct Marks : 1 Wrong Marks : 0.25**

Some parts of a sentence have been jumbled up, and labelled P, Q, R and S. Select the option that gives the correct sequence in which these parts can be rearranged to form a meaningful and grammatically correct sentence.

Pine nuts can rapidly become

- P. and always check
- Q. rancid due to their high
- R. only small amounts
- S. oil content, so buy

the use-by date.

**Options :**

- 1. ✘ QRPS
- 2. ✘ QSPR
- 3. ✘ QPRS
- 4. ✔ QSRP

**Question Number : 137 Question Id : 9767558659 Question Type : MCQ Option Shuffling : Yes Is Question Mandatory : No Option Orientation : Vertical**

**Correct Marks : 1 Wrong Marks : 0.25**

The question below consist of a set of labelled sentences. Out of four options given, select the most logical order of the sentences which form a paragraph.

The term “free market” is sometimes used as a synonym for laissez-faire capitalism.

P. Based on its political and legal rules, a country's free market economy may vary.

Q. It is a summary description of all voluntary exchanges that take place in a given economic environment.

R. The free market is an economic system based on supply and demand with little or no government control.

S. Free markets are characterized by a spontaneous and decentralized order of arrangements through which individuals make economic decisions.

The range may vary between very large or entirely black market.

**Options :**

- 1. ✔ RQSP
- 2. ✘ RPQS
- 3. ✘ RQPS
- 4. ✘ RSPQ

**Question Number : 137 Question Id : 9767558659 Question Type : MCQ Option Shuffling : Yes Is Question Mandatory : No Option Orientation : Vertical**

**Correct Marks : 1 Wrong Marks : 0.25**

The question below consist of a set of labelled sentences. Out of four options given, select the most logical order of the sentences which form a paragraph.

The term “free market” is sometimes used as a synonym for laissez-faire capitalism.

P. Based on its political and legal rules, a country's free market economy may vary.

Q. It is a summary description of all voluntary exchanges that take place in a given economic environment.

R. The free market is an economic system based on supply and demand with little or no government control.

S. Free markets are characterized by a spontaneous and decentralized order of arrangements through which individuals make economic decisions.

The range may vary between very large or entirely black market.

**Options :**

1. ✓ RQSP
2. ✗ RPQS
3. ✗ RQPS
4. ✗ RSPQ

**Question Number : 138 Question Id : 9767558660 Question Type : MCQ Option Shuffling : Yes Is Question Mandatory : No Option Orientation : Vertical**

**Correct Marks : 1 Wrong Marks : 0.25**

Select the word that is closest in meaning (SYNONYM) to the word given below

Desecrate

**Options :**

1. ✗ Sanctify
2. ✗ Electoral
3. ✗ Volatile
4. ✓ Violate



**Question Number : 138 Question Id : 9767558660 Question Type : MCQ Option Shuffling : Yes Is Question Mandatory : No Option Orientation : Vertical**

**Correct Marks : 1 Wrong Marks : 0.25**

Select the word that is closest in meaning (SYNONYM) to the word given below

Desecrate

**Options :**

1. ✘ Sanctify
2. ✘ Electoral
3. ✘ Volatile
4. ✔ Violate

**Question Number : 139 Question Id : 9767558661 Question Type : MCQ Option Shuffling : Yes Is Question Mandatory : No Option Orientation : Vertical**

**Correct Marks : 1 Wrong Marks : 0.25**

Select the word that is opposite in meaning (ANTONYM) to the word given below

Reprobate

**Options :**

1. ✘ Degenerate
2. ✘ Condemn
3. ✔ Virtuous
4. ✘ Hardened

**Question Number : 139 Question Id : 9767558661 Question Type : MCQ Option Shuffling : Yes Is Question Mandatory : No Option Orientation : Vertical**

**Correct Marks : 1 Wrong Marks : 0.25**

Select the word that is opposite in meaning (ANTONYM) to the word given below

Reprobate

**Options :**

1. ✘ Degenerate

2. ✘ Condemn
3. ✔ Virtuous
4. ✘ Hardened

**Question Number : 140 Question Id : 9767558662 Question Type : MCQ Option Shuffling : Yes Is Question Mandatory : No Option Orientation : Vertical**

**Correct Marks : 1 Wrong Marks : 0.25**

Select the word that is closest in meaning (SYNONYM) to the word given below

Saturnine

**Options :**

1. ✘ Jovial
2. ✘ Affable
3. ✔ Glum
4. ✘ Convivial

**Question Number : 140 Question Id : 9767558662 Question Type : MCQ Option Shuffling : Yes Is Question Mandatory : No Option Orientation : Vertical**

**Correct Marks : 1 Wrong Marks : 0.25**

Select the word that is closest in meaning (SYNONYM) to the word given below

Saturnine

**Options :**

1. ✘ Jovial
2. ✘ Affable
3. ✔ Glum
4. ✘ Convivial

## General English2

**Group Number :**

8

**Group Id :**

976755212

<b>Group Maximum Duration :</b>	0
<b>Group Minimum Duration :</b>	0
<b>Show Attended Group? :</b>	No
<b>Edit Attended Group? :</b>	No
<b>Break time :</b>	0
<b>Group Marks :</b>	20
<b>Is this Group for Examiner? :</b>	No

## English Language & Comprehension2

<b>Section Id :</b>	976755500
<b>Section Number :</b>	1
<b>Section type :</b>	Online
<b>Mandatory or Optional :</b>	Mandatory
<b>Number of Questions :</b>	16
<b>Number of Questions to be attempted :</b>	16
<b>Section Marks :</b>	20
<b>Enable Mark as Answered Mark for Review and Clear Response :</b>	Yes
<b>Sub-Section Number :</b>	1
<b>Sub-Section Id :</b>	976755599
<b>Question Shuffling Allowed :</b>	Yes

**Question Number : 141 Question Id : 9767558663 Question Type : MCQ Option Shuffling : Yes Is Question Mandatory : No Option Orientation : Vertical**

**Correct Marks : 1 Wrong Marks : 0.25**

Select the word that is opposite in meaning (ANTONYM) to the word given below

Quisling

**Options :**

1. ✘ Arbitrary
2. ✔ Patriot
3. ✘ Renegade
4. ✘ Defector

**Question Number : 141 Question Id : 9767558663 Question Type : MCQ Option Shuffling : Yes Is Question Mandatory : No Option Orientation : Vertical**

**Correct Marks : 1 Wrong Marks : 0.25**

Select the word that is opposite in meaning (ANTONYM) to the word given below

Quisling

**Options :**

1. ✘ Arbitrary
2. ✔ Patriot
3. ✘ Renegade
4. ✘ Defector

**Question Number : 142 Question Id : 9767558664 Question Type : MCQ Option Shuffling : Yes Is Question Mandatory : No Option Orientation : Vertical**

**Correct Marks : 1 Wrong Marks : 0.25**

Select the word that is closest in meaning (SYNONYM) to the word given below

Malapropism

**Options :**

1. ✘ Felicity
2. ✘ Suitability
3. ✔ Solecism
4. ✘ Eloquence

**Question Number : 142 Question Id : 9767558664 Question Type : MCQ Option Shuffling : Yes Is Question Mandatory : No Option Orientation : Vertical**

**Correct Marks : 1 Wrong Marks : 0.25**

Select the word that is closest in meaning (SYNONYM) to the word given below

Malapropism

**Options :**

1. ✘ Felicity

2. ✘ Suitability
3. ✔ Solecism
4. ✘ Eloquence

**Question Number : 143 Question Id : 9767558665 Question Type : MCQ Option Shuffling : Yes Is Question Mandatory : No Option Orientation : Vertical**

**Correct Marks : 1 Wrong Marks : 0.25**

Four words are given, out of which only one word is spelt correctly. Choose the correctly spelt word.

**Options :**

1. ✘ Verteberate
2. ✘ Verteberete
3. ✔ Vertebrate
4. ✘ Vertebreat

**Question Number : 143 Question Id : 9767558665 Question Type : MCQ Option Shuffling : Yes Is Question Mandatory : No Option Orientation : Vertical**

**Correct Marks : 1 Wrong Marks : 0.25**

Four words are given, out of which only one word is spelt correctly. Choose the correctly spelt word.

**Options :**

1. ✘ Verteberate
2. ✘ Verteberete
3. ✔ Vertebrate
4. ✘ Vertebreat

**Question Number : 144 Question Id : 9767558666 Question Type : MCQ Option Shuffling : Yes Is Question Mandatory : No Option Orientation : Vertical**

**Correct Marks : 1 Wrong Marks : 0.25**

Four words are given, out of which only one word is spelt correctly. Choose the correctly spelt word.

**Options :**

1. ✔ Itinerant
2. ✘ Itnerant
3. ✘ Iteneant

4. ✘ Itenerant

**Question Number : 144 Question Id : 9767558666 Question Type : MCQ Option Shuffling : Yes Is Question Mandatory : No Option Orientation : Vertical**

**Correct Marks : 1 Wrong Marks : 0.25**

Four words are given, out of which only one word is spelt correctly. Choose the correctly spelt word.

**Options :**

1. ✔ Itinerant

2. ✘ Itnerant

3. ✘ Iteneant

4. ✘ Itenerant

**Question Number : 145 Question Id : 9767558667 Question Type : MCQ Option Shuffling : Yes Is Question Mandatory : No Option Orientation : Vertical**

**Correct Marks : 1 Wrong Marks : 0.25**

Four words are given, out of which only one word is spelt correctly. Choose the correctly spelt word.

**Options :**

1. ✘ Interdiction

2. ✔ Interdiction

3. ✘ Intrediction

4. ✘ Interidiction

**Question Number : 145 Question Id : 9767558667 Question Type : MCQ Option Shuffling : Yes Is Question Mandatory : No Option Orientation : Vertical**

**Correct Marks : 1 Wrong Marks : 0.25**

Four words are given, out of which only one word is spelt correctly. Choose the correctly spelt word.

**Options :**

1. ✘ Interdiction

2. ✔ Interdiction

3. ✘ Intrediction

4. ✘ Interidiction

**Question Number : 146 Question Id : 9767558668 Question Type : MCQ Option Shuffling : Yes Is Question Mandatory : No Option Orientation : Vertical**

**Correct Marks : 1 Wrong Marks : 0.25**

Four words are given, out of which only one word is spelt correctly. Choose the correctly spelt word.

**Options :**

1. ✘ Inemitble
2. ✔ Inimitable
3. ✘ Inemitable
4. ✘ Inimitble

**Question Number : 146 Question Id : 9767558668 Question Type : MCQ Option Shuffling : Yes Is Question Mandatory : No Option Orientation : Vertical**

**Correct Marks : 1 Wrong Marks : 0.25**

Four words are given, out of which only one word is spelt correctly. Choose the correctly spelt word.

**Options :**

1. ✘ Inemitble
2. ✔ Inimitable
3. ✘ Inemitable
4. ✘ Inimitble

**Question Number : 147 Question Id : 9767558669 Question Type : MCQ Option Shuffling : Yes Is Question Mandatory : No Option Orientation : Vertical**

**Correct Marks : 1 Wrong Marks : 0.25**

Select the most appropriate meaning of the given idiom

Pig in a poke.

**Options :**

1. ✔ A deal that is made without first examining it.
2. ✘ To eat a lot and eat it quickly.
3. ✘ To shut-up or be quiet.
4. ✘ By constantly practicing, you will become better.

**Question Number : 147 Question Id : 9767558669 Question Type : MCQ Option Shuffling : Yes Is Question Mandatory : No Option Orientation : Vertical**

**Correct Marks : 1 Wrong Marks : 0.25**

Select the most appropriate meaning of the given idiom

Pig in a poke.

**Options :**

1. ✓ A deal that is made without first examining it.
2. ✗ To eat a lot and eat it quickly.
3. ✗ To shut-up or be quiet.
4. ✗ By constantly practicing, you will become better.

**Question Number : 148 Question Id : 9767558670 Question Type : MCQ Option Shuffling : Yes Is Question Mandatory : No Option Orientation : Vertical**

**Correct Marks : 1 Wrong Marks : 0.25**

Select the most appropriate meaning of the given idiom

On pins and needles.

**Options :**

1. ✗ When you absolutely will not allow something to happen.
2. ✗ Something that suddenly and unexpectedly occurs.
3. ✗ When multiple people all agree on the same thing.
4. ✓ Anxious or nervous, especially in anticipation of something.

**Question Number : 148 Question Id : 9767558670 Question Type : MCQ Option Shuffling : Yes Is Question Mandatory : No Option Orientation : Vertical**

**Correct Marks : 1 Wrong Marks : 0.25**

Select the most appropriate meaning of the given idiom

On pins and needles.

**Options :**

1. ✗ When you absolutely will not allow something to happen.
2. ✗ Something that suddenly and unexpectedly occurs.



3. ✘ When multiple people all agree on the same thing.
4. ✔ Anxious or nervous, especially in anticipation of something.

**Question Number : 149 Question Id : 9767558671 Question Type : MCQ Option Shuffling : Yes Is Question Mandatory : No Option Orientation : Vertical**

**Correct Marks : 1 Wrong Marks : 0.25**

Select the most appropriate meaning of the given idiom

Not playing with a full deck.

**Options :**

1. ✘ Someone new to the group or area.
2. ✔ Mentally deficient
3. ✘ To not accept a proposition.
4. ✘ An unusually small or confined space.

**Question Number : 149 Question Id : 9767558671 Question Type : MCQ Option Shuffling : Yes Is Question Mandatory : No Option Orientation : Vertical**

**Correct Marks : 1 Wrong Marks : 0.25**

Select the most appropriate meaning of the given idiom

Not playing with a full deck.

**Options :**

1. ✘ Someone new to the group or area.
2. ✔ Mentally deficient
3. ✘ To not accept a proposition.
4. ✘ An unusually small or confined space.

**Question Number : 150 Question Id : 9767558672 Question Type : MCQ Option Shuffling : Yes Is Question Mandatory : No Option Orientation : Vertical**

**Correct Marks : 1 Wrong Marks : 0.25**

Select the most appropriate meaning of the given idiom

Make no bones about.

**Options :**

1. ✘ Savings set aside for future use.
2. ✘ Strange or crazy actions that appear meaningless but in the end are done for a good reason.
3. ✔ Have no hesitation in stating or dealing with something, however unpleasant or awkward it is.
4. ✘ Nonsense or meaningless speech.

**Question Number : 150 Question Id : 9767558672 Question Type : MCQ Option Shuffling : Yes Is Question Mandatory : No Option Orientation : Vertical**

**Correct Marks : 1 Wrong Marks : 0.25**

Select the most appropriate meaning of the given idiom

Make no bones about.

**Options :**

1. ✘ Savings set aside for future use.
2. ✘ Strange or crazy actions that appear meaningless but in the end are done for a good reason.
3. ✔ Have no hesitation in stating or dealing with something, however unpleasant or awkward it is.
4. ✘ Nonsense or meaningless speech.

**Question Number : 151 Question Id : 9767558673 Question Type : MCQ Option Shuffling : Yes Is Question Mandatory : No Option Orientation : Vertical**

**Correct Marks : 1 Wrong Marks : 0.25**

Select the most appropriate meaning of the given idiom

Know the ropes.

**Options :**

1. ✘ To know one's place.
2. ✔ To understand the details of a job or activity.
3. ✘ To have basic understanding of a machinery.
4. ✘ A quick and automatic response.

**Question Number : 151 Question Id : 9767558673 Question Type : MCQ Option Shuffling : Yes Is Question Mandatory : No Option Orientation : Vertical**

**Correct Marks : 1 Wrong Marks : 0.25**

Select the most appropriate meaning of the given idiom

Know the ropes.

**Options :**

1. ✘ To know one's place.
2. ✔ To understand the details of a job or activity.
3. ✘ To have basic understanding of a machinery.
4. ✘ A quick and automatic response.

**Question Number : 152 Question Id : 9767558674 Question Type : MCQ Option Shuffling : Yes Is Question Mandatory : No Option Orientation : Vertical**

**Correct Marks : 1 Wrong Marks : 0.25**

Select the most appropriate 'one word ' for the expression given below

A person who believes that nothing is known or can be known of the existence or nature of God.

**Options :**

1. ✘ Apiary
2. ✔ Agnostic
3. ✘ Atheist
4. ✘ Anile

**Question Number : 152 Question Id : 9767558674 Question Type : MCQ Option Shuffling : Yes Is Question Mandatory : No Option Orientation : Vertical**

**Correct Marks : 1 Wrong Marks : 0.25**

Select the most appropriate 'one word ' for the expression given below

A person who believes that nothing is known or can be known of the existence or nature of God.

**Options :**

1. ✘ Apiary
2. ✔ Agnostic
3. ✘ Atheist
4. ✘ Anile

**Question Number : 153 Question Id : 9767558675 Question Type : MCQ Option Shuffling : Yes Is Question Mandatory : No Option Orientation : Vertical**

**Correct Marks : 1 Wrong Marks : 0.25**

Select the most appropriate 'one word ' for the expression given below

Slow and clumsy because of great weight.

**Options :**

1. ✓ Ponderous
2. ✗ Decorous
3. ✗ Sonorous
4. ✗ Valorous

**Question Number : 153 Question Id : 9767558675 Question Type : MCQ Option Shuffling : Yes Is Question Mandatory : No Option Orientation : Vertical**

**Correct Marks : 1 Wrong Marks : 0.25**

Select the most appropriate 'one word ' for the expression given below

Slow and clumsy because of great weight.

**Options :**

1. ✓ Ponderous
2. ✗ Decorous
3. ✗ Sonorous
4. ✗ Valorous

**Question Number : 154 Question Id : 9767558676 Question Type : MCQ Option Shuffling : Yes Is Question Mandatory : No Option Orientation : Vertical**

**Correct Marks : 1 Wrong Marks : 0.25**

Select the most appropriate 'one word ' for the expression given below

Express severe disapproval of someone or something, especially in a formal statement.

**Options :**

1. ✗ Centaury
2. ✓ Censure

3. ✘ Censor
4. ✘ Centenary

**Question Number : 154 Question Id : 9767558676 Question Type : MCQ Option Shuffling : Yes Is Question Mandatory : No Option Orientation : Vertical**

**Correct Marks : 1 Wrong Marks : 0.25**

Select the most appropriate 'one word ' for the expression given below

Express severe disapproval of someone or something, especially in a formal statement.

**Options :**

1. ✘ Centaury
2. ✔ Censure
3. ✘ Censor
4. ✘ Centenary

**Question Number : 155 Question Id : 9767558677 Question Type : MCQ Option Shuffling : Yes Is Question Mandatory : No Option Orientation : Vertical**

**Correct Marks : 1 Wrong Marks : 0.25**

Select the most appropriate 'one word ' for the expression given below

Remove matter thought to be objectionable or unsuitable from a text or account.

**Options :**

1. ✘ Exult
2. ✘ Expulsed
3. ✘ Detach
4. ✔ Expurgate

**Question Number : 155 Question Id : 9767558677 Question Type : MCQ Option Shuffling : Yes Is Question Mandatory : No Option Orientation : Vertical**

**Correct Marks : 1 Wrong Marks : 0.25**

Select the most appropriate 'one word ' for the expression given below

Remove matter thought to be objectionable or unsuitable from a text or account.

**Options :**

1. ✘ Exult
2. ✘ Expulsed
3. ✘ Detach
4. ✔ Expurgate

**Sub-Section Number :** 2  
**Sub-Section Id :** 976755600  
**Question Shuffling Allowed :** Yes

**Question Id : 9767558678 Question Type : COMPREHENSION Sub Question Shuffling Allowed : Yes Group Comprehension Questions : No**

**Question Numbers : (156 to 160)**

A passage is given with 5 questions following it. Read the passage carefully and choose the best answer to each question out of the four alternatives.

During the Christian Era, the ecclesiastics controlled the institution of education and diffused among the people the gospel of the Bible and religious teachings.

They taught the poor people to be meek and to earn their bread with the sweat of their brow while the priests and the landlords lived in luxury. During the Renaissance, education passed from the clutches of the priests into the hands of the prince. It became more secular. Thus, under the control of the monarch, education began to preach the infallibility of the monarch which meant that the king could do no wrong. With the advent of Industrial Revolution, education no longer remained the privilege of the baron class, but was thrown open to the new rich merchant class. The philosophy in vogue during this period was that of 'Laissez Faire --- restricting the function of the state to merely keeping law and order, while in actual practice the law of the jungle prevailed in the form of free competition and the survival of the fittest.

**Sub questions**

**Question Number : 156 Question Id : 9767558679 Question Type : MCQ Option Shuffling : Yes Is Question Mandatory : No Option Orientation : Vertical**

**Correct Marks : 1 Wrong Marks : 0.25**

Who controlled the institution of education during the Christian Era?

**Options :**

1. ✔ Clergymen
2. ✘ Kings
3. ✘ Prince
4. ✘ Merchants

**Question Number : 157 Question Id : 9767558680 Question Type : MCQ Option Shuffling : Yes Is Question Mandatory : No Option Orientation : Vertical**

**Correct Marks : 1 Wrong Marks : 0.25**

While the education was under the control of Ecclesiastics, what was primarily being taught?

**Options :**

1. ✓ The religious teaching of the Bible
2. ✗ The infallibility of a King
3. ✗ The importance of science
4. ✗ The advent of Industrial Revolution

**Question Number : 158 Question Id : 9767558681 Question Type : MCQ Option Shuffling : Yes Is Question Mandatory : No Option Orientation : Vertical**

**Correct Marks : 1 Wrong Marks : 0.25**

When did the institute of education pass from clergymen to the state rulers?

**Options :**

1. ✗ During the Christian Era
2. ✓ During the Renaissance
3. ✗ During the Industrial Revolution
4. ✗ During advent of Christianity

**Question Number : 159 Question Id : 9767558682 Question Type : MCQ Option Shuffling : Yes Is Question Mandatory : No Option Orientation : Vertical**

**Correct Marks : 1 Wrong Marks : 0.25**

According to the passage, which of the following given statement is incorrect?

**Options :**

1. ✗ The ecclesiastics controlled the institution of education during the Christian Era and taught people the religious values of Christianity.
2. ✗ Under the sovereign rule of Kings and Prince, the education system became more secular and began to teach that Kings and princes were incapable of making any mistakes.
3. ✗ With the arrival of the Industrial Revolution, education was no longer the privilege of the royal nobilities but was open to new rich merchant class.
4. ✓ The Renaissance Era taught the poor people to be meek and to earn their bread by working extremely hard while the priests and the landlords lived in luxury.

**Question Number : 160 Question Id : 9767558683 Question Type : MCQ Option Shuffling : Yes Is Question Mandatory : No Option Orientation : Vertical**

**Correct Marks : 1 Wrong Marks : 0.25**

“They taught the poor people to be meek and to earn their bread with the sweat of their brow while the priests and the landlords lived in luxury.”. Who is “they” in this context?

**Options :**

1. ✓ The ecclesiastics
2. ✗ The monarchy
3. ✗ The merchants
4. ✗ The nobilities

**Question Id : 9767558678 Question Type : COMPREHENSION Sub Question Shuffling Allowed : Yes Group Comprehension Questions : No**

**Question Numbers : (156 to 160)**

A passage is given with 5 questions following it. Read the passage carefully and choose the best answer to each question out of the four alternatives.

During the Christian Era, the ecclesiastics controlled the institution of education and diffused among the people the gospel of the Bible and religious teachings.

They taught the poor people to be meek and to earn their bread with the sweat of their brow while the priests and the landlords lived in luxury. During the Renaissance, education passed from the clutches of the priests into the hands of the prince. It became more secular. Thus, under the control of the monarch, education began to preach the infallibility of the monarch which meant that the king could do no wrong. With the advent of Industrial Revolution, education no longer remained the privilege of the baron class, but was thrown open to the new rich merchant class. The philosophy in vogue during this period was that of 'Laissez Faire --- restricting the function of the state to merely keeping law and order, while in actual practice the law of the jungle prevailed in the form of free competition and the survival of the fittest.

**Sub questions**

**Question Number : 156 Question Id : 9767558679 Question Type : MCQ Option Shuffling : Yes Is Question Mandatory : No Option Orientation : Vertical**

**Correct Marks : 1 Wrong Marks : 0.25**

Who controlled the institution of education during the Christian Era?

**Options :**

1. ✓ Clergymen
2. ✗ Kings
3. ✗ Prince



4. ✘ Merchants

**Question Number : 157 Question Id : 9767558680 Question Type : MCQ Option Shuffling : Yes Is Question Mandatory : No Option Orientation : Vertical**

**Correct Marks : 1 Wrong Marks : 0.25**

While the education was under the control of Ecclesiastics, what was primarily being taught?

**Options :**

1. ✔ The religious teaching of the Bible
2. ✘ The infallibility of a King
3. ✘ The importance of science
4. ✘ The advent of Industrial Revolution

**Question Number : 158 Question Id : 9767558681 Question Type : MCQ Option Shuffling : Yes Is Question Mandatory : No Option Orientation : Vertical**

**Correct Marks : 1 Wrong Marks : 0.25**

When did the institute of education pass from clergymen to the state rulers?

**Options :**

1. ✘ During the Christian Era
2. ✔ During the Renaissance
3. ✘ During the Industrial Revolution
4. ✘ During advent of Christianity

**Question Number : 159 Question Id : 9767558682 Question Type : MCQ Option Shuffling : Yes Is Question Mandatory : No Option Orientation : Vertical**

**Correct Marks : 1 Wrong Marks : 0.25**

According to the passage, which of the following given statement is incorrect?

**Options :**

1. ✘ The ecclesiastics controlled the institution of education during the Christian Era and taught people the religious values of Christianity.
2. ✘ Under the sovereign rule of Kings and Prince, the education system became more secular and began to teach that Kings and princes were incapable of making any mistakes.
3. ✘ With the arrival of the Industrial Revolution, education was no longer the privilege of the royal nobilities but was open to new rich merchant class.
4. ✔ The Renaissance Era taught the poor people to be meek and to earn their bread by working extremely hard while the priests and the

landlords lived in luxury.

**Question Number : 160 Question Id : 9767558683 Question Type : MCQ Option Shuffling : Yes Is Question Mandatory : No Option Orientation : Vertical**

**Correct Marks : 1 Wrong Marks : 0.25**

“They taught the poor people to be meek and to earn their bread with the sweat of their brow while the priests and the landlords lived in luxury.”. Who is “they” in this context?

**Options :**

1. ✓ The ecclesiastics
2. ✗ The monarchy
3. ✗ The merchants
4. ✗ The nobilities

## General Hindi1

<b>Group Number :</b>	9
<b>Group Id :</b>	976755213
<b>Group Maximum Duration :</b>	0
<b>Group Minimum Duration :</b>	0
<b>Show Attended Group? :</b>	No
<b>Edit Attended Group? :</b>	No
<b>Break time :</b>	0
<b>Group Marks :</b>	20
<b>Is this Group for Examiner? :</b>	No

## Hindi Language & Comprehension1

<b>Section Id :</b>	976755501
<b>Section Number :</b>	1
<b>Section type :</b>	Online
<b>Mandatory or Optional :</b>	Mandatory
<b>Number of Questions :</b>	20

Number of Questions to be attempted :	20
Section Marks :	20
Enable Mark as Answered Mark for Review and Clear Response :	Yes
Sub-Section Number :	1
Sub-Section Id :	976755601
Question Shuffling Allowed :	Yes

**Question Number : 161 Question Id : 9767558684 Question Type : MCQ Option Shuffling : Yes Is Question Mandatory : No Option Orientation : Vertical**

**Correct Marks : 1 Wrong Marks : 0.25**

निम्नलिखित प्रश्न में, चार विकल्पों में से, उस विकल्प का चयन करें जो दिए गए सही संधि विच्छेद की संधि का सही विकल्प हो।  
दैत्य + अरि

**Options :**

1. ✘ दैत्यारी
2. ✔ दैत्यारि
3. ✘ दैत्यरी
4. ✘ दैतयारी

**Question Number : 161 Question Id : 9767558684 Question Type : MCQ Option Shuffling : Yes Is Question Mandatory : No Option Orientation : Vertical**

**Correct Marks : 1 Wrong Marks : 0.25**

निम्नलिखित प्रश्न में, चार विकल्पों में से, उस विकल्प का चयन करें जो दिए गए सही संधि विच्छेद की संधि का सही विकल्प हो।  
दैत्य + अरि

**Options :**

1. ✘ दैत्यारी
2. ✔ दैत्यारि
3. ✘ दैत्यरी
4. ✘ दैतयारी

**Question Number : 162 Question Id : 9767558685 Question Type : MCQ Option Shuffling : Yes Is Question Mandatory : No Option Orientation : Vertical**

**Correct Marks : 1 Wrong Marks : 0.25**

निम्नलिखित प्रश्न में, चार विकल्पों में से, उस विकल्प का चयन करें जो दिए गए शब्द के सही संधि विच्छेद का विकल्प हो।  
धनार्थी

**Options :**

1. ✘ धना + अर्थी
2. ✔ धन + अर्थी
3. ✘ ध + नार्थी
4. ✘ धना + रथी

**Question Number : 162 Question Id : 9767558685 Question Type : MCQ Option Shuffling : Yes Is Question Mandatory : No Option Orientation : Vertical**

**Correct Marks : 1 Wrong Marks : 0.25**

निम्नलिखित प्रश्न में, चार विकल्पों में से, उस विकल्प का चयन करें जो दिए गए शब्द के सही संधि विच्छेद का विकल्प हो।  
धनार्थी

**Options :**

1. ✘ धना + अर्थी
2. ✔ धन + अर्थी
3. ✘ ध + नार्थी
4. ✘ धना + रथी

**Question Number : 163 Question Id : 9767558686 Question Type : MCQ Option Shuffling : Yes Is Question Mandatory : No Option Orientation : Vertical**

**Correct Marks : 1 Wrong Marks : 0.25**

निम्नलिखित प्रश्न में, चार विकल्पों में से, उस विकल्प का चयन करें जो दिए गए शब्द के लिए सही तत्पुरुष समास के विग्रह का विकल्प हो।  
कर्मनिरत

**Options :**

1. ✔ कर्म में निरत
2. ✘ कर्म से निरत
3. ✘ कर्म को निरत
4. ✘ कर्म और निरत

**Question Number : 163 Question Id : 9767558686 Question Type : MCQ Option Shuffling : Yes Is Question Mandatory : No Option**

**Orientation : Vertical**

**Correct Marks : 1 Wrong Marks : 0.25**

निम्नलिखित प्रश्न में, चार विकल्पों में से, उस विकल्प का चयन करें जो दिए गए शब्द के लिए सही तत्पुरुष समास के विग्रह का विकल्प हो।  
कर्मनिरत

**Options :**

1. ✓ कर्म में निरत
2. ✗ कर्म से निरत
3. ✗ कर्म को निरत
4. ✗ कर्म और निरत

**Question Number : 164 Question Id : 9767558687 Question Type : MCQ Option Shuffling : Yes Is Question Mandatory : No Option Orientation : Vertical**

**Correct Marks : 1 Wrong Marks : 0.25**

निम्नलिखित प्रश्न में, चार विकल्पों में से, उस विकल्प का चयन करें जो उपसर्ग से बने शब्द का सही विकल्प हो।

**Options :**

1. ✓ अतिरिक्त
2. ✗ बौना
3. ✗ मंथन
4. ✗ मलनी

**Question Number : 164 Question Id : 9767558687 Question Type : MCQ Option Shuffling : Yes Is Question Mandatory : No Option Orientation : Vertical**

**Correct Marks : 1 Wrong Marks : 0.25**

निम्नलिखित प्रश्न में, चार विकल्पों में से, उस विकल्प का चयन करें जो उपसर्ग से बने शब्द का सही विकल्प हो।

**Options :**

1. ✓ अतिरिक्त
2. ✗ बौना
3. ✗ मंथन
4. ✗ मलनी

**Question Number : 165 Question Id : 9767558688 Question Type : MCQ Option Shuffling : Yes Is Question Mandatory : No Option**

**Orientation : Vertical**

**Correct Marks : 1 Wrong Marks : 0.25**

निम्नलिखित प्रश्न में, चार विकल्पों में से, उस विकल्प का चयन करें जो प्रत्यय से बने शब्द का सही विकल्प हो।

**Options :**

1. ✘ अपहरण
2. ✘ दुरंत
3. ✔ चालाक
4. ✘ निराकरण

**Question Number : 165 Question Id : 9767558688 Question Type : MCQ Option Shuffling : Yes Is Question Mandatory : No Option**

**Orientation : Vertical**

**Correct Marks : 1 Wrong Marks : 0.25**

निम्नलिखित प्रश्न में, चार विकल्पों में से, उस विकल्प का चयन करें जो प्रत्यय से बने शब्द का सही विकल्प हो।

**Options :**

1. ✘ अपहरण
2. ✘ दुरंत
3. ✔ चालाक
4. ✘ निराकरण

**Question Number : 166 Question Id : 9767558689 Question Type : MCQ Option Shuffling : Yes Is Question Mandatory : No Option**

**Orientation : Vertical**

**Correct Marks : 1 Wrong Marks : 0.25**

निम्नलिखित प्रश्न में, चार विकल्पों में से, उस विकल्प का चयन करें जो दिए गए शब्द का तत्सम रूप हो।  
भैंस

**Options :**

1. ✘ हरिद्र
2. ✘ शकट
3. ✔ महिष
4. ✘ चख

**Question Number : 166 Question Id : 9767558689 Question Type : MCQ Option Shuffling : Yes Is Question Mandatory : No Option**

**Orientation : Vertical**

**Correct Marks : 1 Wrong Marks : 0.25**

निम्नलिखित प्रश्न में, चार विकल्पों में से, उस विकल्प का चयन करें जो दिए गए शब्द का तत्सम रूप हो।  
भैंस

**Options :**

1. ✘ हरिद्र
2. ✘ शकट
3. ✔ महिष
4. ✘ चख

**Question Number : 167 Question Id : 9767558690 Question Type : MCQ Option Shuffling : Yes Is Question Mandatory : No Option Orientation : Vertical**

**Correct Marks : 1 Wrong Marks : 0.25**

निम्नलिखित प्रश्न में, चार विकल्पों में से, उस विकल्प का चयन करें जो दिए गए शब्द का तद्भव रूप हो।  
शकट

**Options :**

1. ✘ चाँद
2. ✘ चकवा
3. ✘ सलाई
4. ✔ छकड़ा

**Question Number : 167 Question Id : 9767558690 Question Type : MCQ Option Shuffling : Yes Is Question Mandatory : No Option Orientation : Vertical**

**Correct Marks : 1 Wrong Marks : 0.25**

निम्नलिखित प्रश्न में, चार विकल्पों में से, उस विकल्प का चयन करें जो दिए गए शब्द का तद्भव रूप हो।  
शकट

**Options :**

1. ✘ चाँद
2. ✘ चकवा
3. ✘ सलाई
4. ✔ छकड़ा

**Question Number : 168 Question Id : 9767558691 Question Type : MCQ Option Shuffling : Yes Is Question Mandatory : No Option Orientation : Vertical**

**Correct Marks : 1 Wrong Marks : 0.25**

निम्नलिखित प्रश्न में, चार विकल्पों में से, उस विकल्प का चयन करें जो देशज शब्द का सही विकल्प हो।

**Options :**

1. ✓ डकार
2. ✗ सूद
3. ✗ दलाल
4. ✗ ताश

**Question Number : 168 Question Id : 9767558691 Question Type : MCQ Option Shuffling : Yes Is Question Mandatory : No Option Orientation : Vertical**

**Correct Marks : 1 Wrong Marks : 0.25**

निम्नलिखित प्रश्न में, चार विकल्पों में से, उस विकल्प का चयन करें जो देशज शब्द का सही विकल्प हो।

**Options :**

1. ✓ डकार
2. ✗ सूद
3. ✗ दलाल
4. ✗ ताश

**Question Number : 169 Question Id : 9767558692 Question Type : MCQ Option Shuffling : Yes Is Question Mandatory : No Option Orientation : Vertical**

**Correct Marks : 1 Wrong Marks : 0.25**

निम्नलिखित प्रश्न में, चार विकल्पों में से, उस विकल्प का चयन करें जो भाववाचक संज्ञा का सही विकल्प नहीं है।

**Options :**

1. ✓ दूर
2. ✗ वाहवाही
3. ✗ सजावट
4. ✗ दासत्व



**Question Number : 169 Question Id : 9767558692 Question Type : MCQ Option Shuffling : Yes Is Question Mandatory : No Option Orientation : Vertical**

**Correct Marks : 1 Wrong Marks : 0.25**

निम्नलिखित प्रश्न में, चार विकल्पों में से, उस विकल्प का चयन करें जो भाववाचक संज्ञा का सही विकल्प नहीं है।

**Options :**

1. ✓ दूर
2. ✗ वाहवाही
3. ✗ सजावट
4. ✗ दासत्व

**Question Number : 170 Question Id : 9767558693 Question Type : MCQ Option Shuffling : Yes Is Question Mandatory : No Option Orientation : Vertical**

**Correct Marks : 1 Wrong Marks : 0.25**

निम्नलिखित प्रश्न में, चार विकल्पों में से, उस विकल्प का चयन करें जो विलोम शब्द का सही विकल्प है।  
दीर्घकाय

**Options :**

1. ✓ कृशकाय
2. ✗ विकाय
3. ✗ याचक
4. ✗ वाम

**Question Number : 170 Question Id : 9767558693 Question Type : MCQ Option Shuffling : Yes Is Question Mandatory : No Option Orientation : Vertical**

**Correct Marks : 1 Wrong Marks : 0.25**

निम्नलिखित प्रश्न में, चार विकल्पों में से, उस विकल्प का चयन करें जो विलोम शब्द का सही विकल्प है।  
दीर्घकाय

**Options :**

1. ✓ कृशकाय
2. ✗ विकाय
3. ✗ याचक
4. ✗ वाम

**Question Number : 171 Question Id : 9767558694 Question Type : MCQ Option Shuffling : Yes Is Question Mandatory : No Option Orientation : Vertical**

**Correct Marks : 1 Wrong Marks : 0.25**

निम्नलिखित प्रश्न में, चार विकल्पों में से, उस सही विकल्प का चयन करें जो वाक्यांशों के लिए एक शब्द का विकल्प हो।  
क्रूरता से उत्पन्न स्थिति

**Options :**

1. ✘ मर्मज्ञ
2. ✔ आतंक
3. ✘ भावी
4. ✘ बहुज्ञ

**Question Number : 171 Question Id : 9767558694 Question Type : MCQ Option Shuffling : Yes Is Question Mandatory : No Option Orientation : Vertical**

**Correct Marks : 1 Wrong Marks : 0.25**

निम्नलिखित प्रश्न में, चार विकल्पों में से, उस सही विकल्प का चयन करें जो वाक्यांशों के लिए एक शब्द का विकल्प हो।  
क्रूरता से उत्पन्न स्थिति

**Options :**

1. ✘ मर्मज्ञ
2. ✔ आतंक
3. ✘ भावी
4. ✘ बहुज्ञ

**Question Number : 172 Question Id : 9767558695 Question Type : MCQ Option Shuffling : Yes Is Question Mandatory : No Option Orientation : Vertical**

**Correct Marks : 1 Wrong Marks : 0.25**

निम्नलिखित प्रश्न में, चार विकल्पों में से, उस सही विकल्प का चयन करें जो दिए गए शब्द के सही अर्थ का उचित विकल्प हो।  
निर्वाण

**Options :**

1. ✘ निर्माण
2. ✘ बनाना

3. ✓ मृत्यु
4. ✗ देवता

**Question Number : 172 Question Id : 9767558695 Question Type : MCQ Option Shuffling : Yes Is Question Mandatory : No Option Orientation : Vertical**

**Correct Marks : 1 Wrong Marks : 0.25**

निम्नलिखित प्रश्न में, चार विकल्पों में से, उस सही विकल्प का चयन करें जो दिए गए शब्द के सही अर्थ का उचित विकल्प हो।  
निर्वाण

**Options :**

1. ✗ निर्माण
2. ✗ बनाना
3. ✓ मृत्यु
4. ✗ देवता

**Question Number : 173 Question Id : 9767558696 Question Type : MCQ Option Shuffling : Yes Is Question Mandatory : No Option Orientation : Vertical**

**Correct Marks : 1 Wrong Marks : 0.25**

निम्नलिखित प्रश्न में, चार विकल्पों में से, उस सही विकल्प का चयन करें जो रिक्त स्थान के लिए उपयुक्त शब्द का सही विकल्प है।  
सेनानियों के बलिदान और कड़े \_\_\_\_\_ के कारण ही आज हम खुली हवा में साँस ले रहे हैं।

**Options :**

1. ✗ ध्यान
2. ✗ श्रृंखला
3. ✗ आज़ादी
4. ✓ संघर्ष

**Question Number : 173 Question Id : 9767558696 Question Type : MCQ Option Shuffling : Yes Is Question Mandatory : No Option Orientation : Vertical**

**Correct Marks : 1 Wrong Marks : 0.25**

निम्नलिखित प्रश्न में, चार विकल्पों में से, उस सही विकल्प का चयन करें जो रिक्त स्थान के लिए उपयुक्त शब्द का सही विकल्प है।  
सेनानियों के बलिदान और कड़े \_\_\_\_\_ के कारण ही आज हम खुली हवा में साँस ले रहे हैं।

**Options :**

1. ✘ ध्यान
2. ✘ श्रृंखला
3. ✘ आज़ादी
4. ✔ संघर्ष

**Question Number : 174 Question Id : 9767558697 Question Type : MCQ Option Shuffling : Yes Is Question Mandatory : No Option Orientation : Vertical**

**Correct Marks : 1 Wrong Marks : 0.25**

निम्नलिखित प्रश्न में, चार विकल्पों में से, उस विकल्प का चयन करें जो शुद्ध शब्द का सही विकल्प है।

**Options :**

1. ✔ जयंती
2. ✘ जयंति
3. ✘ जयान्ति
4. ✘ ज्यांती

**Question Number : 174 Question Id : 9767558697 Question Type : MCQ Option Shuffling : Yes Is Question Mandatory : No Option Orientation : Vertical**

**Correct Marks : 1 Wrong Marks : 0.25**

निम्नलिखित प्रश्न में, चार विकल्पों में से, उस विकल्प का चयन करें जो शुद्ध शब्द का सही विकल्प है।

**Options :**

1. ✔ जयंती
2. ✘ जयंति
3. ✘ जयान्ति
4. ✘ ज्यांती

**Question Number : 175 Question Id : 9767558698 Question Type : MCQ Option Shuffling : Yes Is Question Mandatory : No Option Orientation : Vertical**

**Correct Marks : 1 Wrong Marks : 0.25**

निम्नलिखित प्रश्न में, चार विकल्पों में से, उस विकल्प का चयन करें जो शुद्ध शब्द का सही विकल्प है।

**Options :**

1. ✘ तृकालदर्शी

2. ✘ त्रिकालदाराशी
3. ✔ त्रिकालदर्शी
4. ✘ त्रिकल्दर्शी

**Question Number : 175 Question Id : 9767558698 Question Type : MCQ Option Shuffling : Yes Is Question Mandatory : No Option Orientation : Vertical**

**Correct Marks : 1 Wrong Marks : 0.25**

निम्नलिखित प्रश्न में, चार विकल्पों में से, उस विकल्प का चयन करें जो शुद्ध शब्द का सही विकल्प है।

**Options :**

1. ✘ तृकालदर्शी
2. ✘ त्रिकालदाराशी
3. ✔ त्रिकालदर्शी
4. ✘ त्रिकल्दर्शी

**Question Number : 176 Question Id : 9767558699 Question Type : MCQ Option Shuffling : Yes Is Question Mandatory : No Option Orientation : Vertical**

**Correct Marks : 1 Wrong Marks : 0.25**

निम्नलिखित प्रश्न में, चार विकल्पों में से, उस विकल्प का चयन करें जो दिए गए शब्द के समानार्थी शब्द का विकल्प नहीं है।  
रंध्र

**Options :**

1. ✔ खून
2. ✘ छेद
3. ✘ दोष
4. ✘ भग

**Question Number : 176 Question Id : 9767558699 Question Type : MCQ Option Shuffling : Yes Is Question Mandatory : No Option Orientation : Vertical**

**Correct Marks : 1 Wrong Marks : 0.25**

निम्नलिखित प्रश्न में, चार विकल्पों में से, उस विकल्प का चयन करें जो दिए गए शब्द के समानार्थी शब्द का विकल्प नहीं है।  
रंध्र

**Options :**

1. ✓ खून
2. ✗ छेद
3. ✗ दोष
4. ✗ भग

**Question Number : 177 Question Id : 9767558700 Question Type : MCQ Option Shuffling : Yes Is Question Mandatory : No Option Orientation : Vertical**

**Correct Marks : 1 Wrong Marks : 0.25**

निम्नलिखित प्रश्न में, चार विकल्पों में से, उस सही विकल्प का चयन करें जो दिए गए शब्द-युग्म के अर्थ का सही विकल्प हो।  
संकर और शंकर

**Options :**

1. ✗ संकरा और महादेव
2. ✓ मिश्रित और महादेव
3. ✗ मीठा और मिश्रित
4. ✗ पतला और महादेव

**Question Number : 177 Question Id : 9767558700 Question Type : MCQ Option Shuffling : Yes Is Question Mandatory : No Option Orientation : Vertical**

**Correct Marks : 1 Wrong Marks : 0.25**

निम्नलिखित प्रश्न में, चार विकल्पों में से, उस सही विकल्प का चयन करें जो दिए गए शब्द-युग्म के अर्थ का सही विकल्प हो।  
संकर और शंकर

**Options :**

1. ✗ संकरा और महादेव
2. ✓ मिश्रित और महादेव
3. ✗ मीठा और मिश्रित
4. ✗ पतला और महादेव

**Question Number : 178 Question Id : 9767558701 Question Type : MCQ Option Shuffling : Yes Is Question Mandatory : No Option Orientation : Vertical**

**Correct Marks : 1 Wrong Marks : 0.25**

निम्नलिखित प्रश्न में, चार विकल्पों में से, उस विकल्प का चयन करें जो दिए गए शब्द के पर्यायवाची शब्द का सही विकल्प नहीं है।

झूठ

Options :

1. ✘ अनृत
2. ✘ मृषा
3. ✔ अम्बु
4. ✘ मिथ्या

Question Number : 178 Question Id : 9767558701 Question Type : MCQ Option Shuffling : Yes Is Question Mandatory : No Option Orientation : Vertical

Correct Marks : 1 Wrong Marks : 0.25

निम्नलिखित प्रश्न में, चार विकल्पों में से, उस विकल्प का चयन करें जो दिए गए शब्द के पर्यायवाची शब्द का सही विकल्प नहीं है।

झूठ

Options :

1. ✘ अनृत
2. ✘ मृषा
3. ✔ अम्बु
4. ✘ मिथ्या

Question Number : 179 Question Id : 9767558702 Question Type : MCQ Option Shuffling : Yes Is Question Mandatory : No Option Orientation : Vertical

Correct Marks : 1 Wrong Marks : 0.25

निम्नलिखित प्रश्न में, चार विकल्पों में से, उस विकल्प का चयन करें जो दिए गए शब्द के सही स्त्रीलिंग रूप वाला विकल्प है।

कवि

Options :

1. ✘ कविनी
2. ✔ कवयित्री
3. ✘ कवियाइन
4. ✘ कवियित्री

Question Number : 179 Question Id : 9767558702 Question Type : MCQ Option Shuffling : Yes Is Question Mandatory : No Option

**Orientation : Vertical**

**Correct Marks : 1 Wrong Marks : 0.25**

निम्नलिखित प्रश्न में, चार विकल्पों में से, उस विकल्प का चयन करें जो दिए गए शब्द के सही स्त्रीलिंग रूप वाला विकल्प है।  
कवि

**Options :**

1. ✘ कविनी
2. ✔ कवयित्री
3. ✘ कवियाइन
4. ✘ कवियित्री

**Question Number : 180 Question Id : 9767558703 Question Type : MCQ Option Shuffling : Yes Is Question Mandatory : No Option**

**Orientation : Vertical**

**Correct Marks : 1 Wrong Marks : 0.25**

निम्नलिखित प्रश्न में, चार विकल्पों में से, उस विकल्प का चयन करें जो दिए गए शब्द के सही बहुवचन रूप का सबसे अच्छा विकल्प है।  
नारी

**Options :**

1. ✘ नारियों
2. ✘ नारीयाँ
3. ✘ नारी
4. ✔ नारियाँ

**Question Number : 180 Question Id : 9767558703 Question Type : MCQ Option Shuffling : Yes Is Question Mandatory : No Option**

**Orientation : Vertical**

**Correct Marks : 1 Wrong Marks : 0.25**

निम्नलिखित प्रश्न में, चार विकल्पों में से, उस विकल्प का चयन करें जो दिए गए शब्द के सही बहुवचन रूप का सबसे अच्छा विकल्प है।  
नारी

**Options :**

1. ✘ नारियों
2. ✘ नारीयाँ



3. ✘ नारी

4. ✔ नारियाँ

## General Hindi2

Group Number :	10
Group Id :	976755214
Group Maximum Duration :	0
Group Minimum Duration :	120
Show Attended Group? :	No
Edit Attended Group? :	No
Break time :	0
Group Marks :	20
Is this Group for Examiner? :	No

## Hindi Language & Comprehension2

Section Id :	976755502
Section Number :	1
Section type :	Online
Mandatory or Optional :	Mandatory
Number of Questions :	16
Number of Questions to be attempted :	16
Section Marks :	20
Enable Mark as Answered Mark for Review and Clear Response :	Yes
Sub-Section Number :	1
Sub-Section Id :	976755602
Question Shuffling Allowed :	Yes

Question Number : 181 Question Id : 9767558704 Question Type : MCQ Option Shuffling : Yes Is Question Mandatory : No Option Orientation : Vertical  
Correct Marks : 1 Wrong Marks : 0.25

निम्नलिखित प्रश्न में, चार विकल्पों में से, उस विकल्प का चयन करें जो कोष्ठक में दिए गए शब्द के अनुसार उत्तम पुरुष वाचक सर्वनाम का सबसे अच्छा विकल्प है।

**Options :**

1. ✘ (आपने) बहुत ही गलत बात कहीं।
2. ✘ (वह) यहाँ आ जाए उसके पहले चले जाओ।
3. ✔ (मेरा) काम पूरा होने में समय लग सकता है।
4. ✘ (तुमने) वही किया जो सही था।

**Question Number : 181 Question Id : 9767558704 Question Type : MCQ Option Shuffling : Yes Is Question Mandatory : No Option Orientation : Vertical**

**Correct Marks : 1 Wrong Marks : 0.25**

निम्नलिखित प्रश्न में, चार विकल्पों में से, उस विकल्प का चयन करें जो कोष्ठक में दिए गए शब्द के अनुसार उत्तम पुरुष वाचक सर्वनाम का सबसे अच्छा विकल्प है।

**Options :**

1. ✘ (आपने) बहुत ही गलत बात कहीं।
2. ✘ (वह) यहाँ आ जाए उसके पहले चले जाओ।
3. ✔ (मेरा) काम पूरा होने में समय लग सकता है।
4. ✘ (तुमने) वही किया जो सही था।

**Question Number : 182 Question Id : 9767558705 Question Type : MCQ Option Shuffling : Yes Is Question Mandatory : No Option Orientation : Vertical**

**Correct Marks : 1 Wrong Marks : 0.25**

निम्नलिखित प्रश्न में, चार विकल्पों में से, उस विकल्प का चयन करें जो दिए गए वाक्य के काल का सही विकल्प हो।  
मिठाई श्याम ने खाई होगी।

**Options :**

1. ✘ पूर्ण वर्तमानकाल
2. ✔ संदिग्ध भूतकाल
3. ✘ पूर्ण भूतकाल
4. ✘ आसन्न भूतकाल

**Question Number : 182 Question Id : 9767558705 Question Type : MCQ Option Shuffling : Yes Is Question Mandatory : No Option**

**Orientation : Vertical**

**Correct Marks : 1 Wrong Marks : 0.25**

निम्नलिखित प्रश्न में, चार विकल्पों में से, उस विकल्प का चयन करें जो दिए गए वाक्य के काल का सही विकल्प हो।  
मिठाई श्याम ने खाई होगी।

**Options :**

1. ✘ पूर्ण वर्तमानकाल
2. ✔ संदिग्ध भूतकाल
3. ✘ पूर्ण भूतकाल
4. ✘ आसन्न भूतकाल

**Question Number : 183 Question Id : 9767558706 Question Type : MCQ Option Shuffling : Yes Is Question Mandatory : No Option Orientation : Vertical**

**Correct Marks : 1 Wrong Marks : 0.25**

निम्नलिखित प्रश्न में, चार विकल्पों में से, उस विकल्प का चयन करें जो दिए गए वाक्य के लिए वृत्ति के भेद का सबसे अच्छा विकल्प है।  
संभव है आज की खिचड़ी अच्छी बने।

**Options :**

1. ✘ संकेतार्थ
2. ✘ संदेहार्थ
3. ✘ निश्चयार्थ
4. ✔ संभावनार्थ

**Question Number : 183 Question Id : 9767558706 Question Type : MCQ Option Shuffling : Yes Is Question Mandatory : No Option Orientation : Vertical**

**Correct Marks : 1 Wrong Marks : 0.25**

निम्नलिखित प्रश्न में, चार विकल्पों में से, उस विकल्प का चयन करें जो दिए गए वाक्य के लिए वृत्ति के भेद का सबसे अच्छा विकल्प है।  
संभव है आज की खिचड़ी अच्छी बने।

**Options :**

1. ✘ संकेतार्थ
2. ✘ संदेहार्थ
3. ✘ निश्चयार्थ
4. ✔ संभावनार्थ

**Question Number : 184 Question Id : 9767558707 Question Type : MCQ Option Shuffling : Yes Is Question Mandatory : No Option Orientation : Vertical**

**Correct Marks : 1 Wrong Marks : 0.25**

निम्नलिखित प्रश्न में, चार विकल्पों में से, उस विकल्प का चयन करें जो दिए गए वाक्य के लिए पक्ष के भेद का सबसे अच्छा विकल्प है।  
अब हड़ताल खत्म होने लगी है!

**Options :**

1. ✘ अभ्यासद्योतक
2. ✘ नित्यताद्योतक
3. ✘ प्रगतिद्योतक
4. ✔ आरंभद्योतक

**Question Number : 184 Question Id : 9767558707 Question Type : MCQ Option Shuffling : Yes Is Question Mandatory : No Option Orientation : Vertical**

**Correct Marks : 1 Wrong Marks : 0.25**

निम्नलिखित प्रश्न में, चार विकल्पों में से, उस विकल्प का चयन करें जो दिए गए वाक्य के लिए पक्ष के भेद का सबसे अच्छा विकल्प है।  
अब हड़ताल खत्म होने लगी है!

**Options :**

1. ✘ अभ्यासद्योतक
2. ✘ नित्यताद्योतक
3. ✘ प्रगतिद्योतक
4. ✔ आरंभद्योतक

**Question Number : 185 Question Id : 9767558708 Question Type : MCQ Option Shuffling : Yes Is Question Mandatory : No Option Orientation : Vertical**

**Correct Marks : 1 Wrong Marks : 0.25**

निम्नलिखित प्रश्न में, चार विकल्पों में से, उस विकल्प का चयन करें जो शुद्ध वाक्य का सबसे अच्छा विकल्प है।

**Options :**

1. ✘ वह जीवन को पेड़ों का महत्त्व समझती थी।
2. ✘ वह जीवन पर पेड़ों का महत्त्व समझती थी।
3. ✔ वह जीवन में पेड़ों का महत्त्व समझती थी।

4. ✖ तुम जीवन में पेड़ों का महत्त्व समझती है।

**Question Number : 185 Question Id : 9767558708 Question Type : MCQ Option Shuffling : Yes Is Question Mandatory : No Option Orientation : Vertical**

**Correct Marks : 1 Wrong Marks : 0.25**

निम्नलिखित प्रश्न में, चार विकल्पों में से, उस विकल्प का चयन करें जो शुद्ध वाक्य का सबसे अच्छा विकल्प है।

**Options :**

1. ✖ वह जीवन को पेड़ों का महत्त्व समझती थी।
2. ✖ वह जीवन पर पेड़ों का महत्त्व समझती थी।
3. ✔ वह जीवन में पेड़ों का महत्त्व समझती थी।
4. ✖ तुम जीवन में पेड़ों का महत्त्व समझती है।

**Question Number : 186 Question Id : 9767558709 Question Type : MCQ Option Shuffling : Yes Is Question Mandatory : No Option Orientation : Vertical**

**Correct Marks : 1 Wrong Marks : 0.25**

निम्नलिखित प्रश्न में, चार विकल्पों में से, उस विकल्प का चयन करें जो सही वाक्य भेद का विकल्प हो।

जहाज नष्ट हो गया, पर यात्रियों को बचा लिया गया ।

**Options :**

1. ✔ संयुक्त वाक्य
2. ✖ मिश्र वाक्य
3. ✖ प्रश्नवाचक वाक्य
4. ✖ सरल वाक्य

**Question Number : 186 Question Id : 9767558709 Question Type : MCQ Option Shuffling : Yes Is Question Mandatory : No Option Orientation : Vertical**

**Correct Marks : 1 Wrong Marks : 0.25**

निम्नलिखित प्रश्न में, चार विकल्पों में से, उस विकल्प का चयन करें जो सही वाक्य भेद का विकल्प हो।

जहाज नष्ट हो गया, पर यात्रियों को बचा लिया गया ।

**Options :**

1. ✔ संयुक्त वाक्य
2. ✖ मिश्र वाक्य

3. ✖ प्रश्नवाचक वाक्य

4. ✖ सरल वाक्य

**Question Number : 187 Question Id : 9767558710 Question Type : MCQ Option Shuffling : Yes Is Question Mandatory : No Option Orientation : Vertical**

**Correct Marks : 1 Wrong Marks : 0.25**

निम्नलिखित प्रश्न में, चार विकल्पों में से, उस विकल्प का चयन करें जो सही वाक्य भेद का विकल्प हो।  
मेरा विचार है कि आज शाम उससे मिला जाए ।

**Options :**

1. ✖ विधानवाचक वाक्य

2. ✖ सरल वाक्य

3. ✔ मिश्र वाक्य

4. ✖ संयुक्त वाक्य

**Question Number : 187 Question Id : 9767558710 Question Type : MCQ Option Shuffling : Yes Is Question Mandatory : No Option Orientation : Vertical**

**Correct Marks : 1 Wrong Marks : 0.25**

निम्नलिखित प्रश्न में, चार विकल्पों में से, उस विकल्प का चयन करें जो सही वाक्य भेद का विकल्प हो।  
मेरा विचार है कि आज शाम उससे मिला जाए ।

**Options :**

1. ✖ विधानवाचक वाक्य

2. ✖ सरल वाक्य

3. ✔ मिश्र वाक्य

4. ✖ संयुक्त वाक्य

**Question Number : 188 Question Id : 9767558711 Question Type : MCQ Option Shuffling : Yes Is Question Mandatory : No Option Orientation : Vertical**

**Correct Marks : 1 Wrong Marks : 0.25**

निम्नलिखित प्रश्न में, चार विकल्पों में से, उस विकल्प का चयन करें जो विराम चिह्न युक्त वाक्य का सही विकल्प हो।

**Options :**

1. ✖ देवों के सैनिक ने कहा, "असुरराज! अभी भी तुम्हारा अहंकार नहीं गया

2. ✘ देवों के सैनिक ने कहा,"असुरराज अभी भी तुम्हारा अहंकार नहीं गया ।
3. ✔ देवों के सैनिक ने कहा,"असुरराज! अभी भी तुम्हारा अहंकार नहीं गया।"
4. ✘ देवों के सैनिक ने कहा असुरराज अभी भी तुम्हारा अहंकार नहीं गया

**Question Number : 188 Question Id : 9767558711 Question Type : MCQ Option Shuffling : Yes Is Question Mandatory : No Option Orientation : Vertical**

**Correct Marks : 1 Wrong Marks : 0.25**

निम्नलिखित प्रश्न में, चार विकल्पों में से, उस विकल्प का चयन करें जो विराम चिह्न युक्त वाक्य का सही विकल्प हो।

**Options :**

1. ✘ देवों के सैनिक ने कहा,"असुरराज! अभी भी तुम्हारा अहंकार नहीं गया
2. ✘ देवों के सैनिक ने कहा,"असुरराज अभी भी तुम्हारा अहंकार नहीं गया ।
3. ✔ देवों के सैनिक ने कहा,"असुरराज! अभी भी तुम्हारा अहंकार नहीं गया।"
4. ✘ देवों के सैनिक ने कहा असुरराज अभी भी तुम्हारा अहंकार नहीं गया

**Question Number : 189 Question Id : 9767558712 Question Type : MCQ Option Shuffling : Yes Is Question Mandatory : No Option Orientation : Vertical**

**Correct Marks : 1 Wrong Marks : 0.25**

निम्नलिखित प्रश्न में, चार विकल्पों में से, उस विकल्प का चयन करें जो विराम चिह्न युक्त वाक्य का सही विकल्प हो।

**Options :**

1. ✘ "वाह राजा विक्रम वाह तुमने बिलकुल ठीक न्याय किया है।" बेताल ने कहा
2. ✔ "वाह! राजा विक्रम! वाह! तुमने बिलकुल ठीक न्याय किया है।" बेताल ने कहा।
3. ✘ वाह! राजा विक्रम! वाह! तुमने बिलकुल ठीक न्याय किया है बेताल ने कहा।
4. ✘ वाह! राजा विक्रम! वाह! तुमने बिलकुल ठीक न्याय किया है। बेताल ने कहा

**Question Number : 189 Question Id : 9767558712 Question Type : MCQ Option Shuffling : Yes Is Question Mandatory : No Option Orientation : Vertical**

**Correct Marks : 1 Wrong Marks : 0.25**

निम्नलिखित प्रश्न में, चार विकल्पों में से, उस विकल्प का चयन करें जो विराम चिह्न युक्त वाक्य का सही विकल्प हो।

**Options :**

1. ✘ "वाह राजा विक्रम वाह तुमने बिलकुल ठीक न्याय किया है।" बेताल ने कहा
2. ✔ "वाह! राजा विक्रम! वाह! तुमने बिलकुल ठीक न्याय किया है।" बेताल ने कहा।

3. ✘ वाह! राजा विक्रम! वाह! तुमने बिलकुल ठीक न्याय किया है बेताल ने कहा।
4. ✘ वाह! राजा विक्रम! वाह! तुमने बिलकुल ठीक न्याय किया है। बेताल ने कहा।

**Question Number : 190 Question Id : 9767558713 Question Type : MCQ Option Shuffling : Yes Is Question Mandatory : No Option Orientation : Vertical**

**Correct Marks : 1 Wrong Marks : 0.25**

निम्नलिखित प्रश्न में, चार विकल्पों में से, उस विकल्प का चयन करें जो दिए गए लोकोक्ति का सही अर्थ वाला विकल्प है।  
हाथी के पाँव में सबका पाँव -

**Options :**

1. ✔ बड़ों के साथ बहुतों का गुजारा हो जाता है
2. ✘ गुणी व्यक्ति
3. ✘ बिना खर्च किए अधिक धन कमाना
4. ✘ जैसा काम वैसा फल

**Question Number : 190 Question Id : 9767558713 Question Type : MCQ Option Shuffling : Yes Is Question Mandatory : No Option Orientation : Vertical**

**Correct Marks : 1 Wrong Marks : 0.25**

निम्नलिखित प्रश्न में, चार विकल्पों में से, उस विकल्प का चयन करें जो दिए गए लोकोक्ति का सही अर्थ वाला विकल्प है।  
हाथी के पाँव में सबका पाँव -

**Options :**

1. ✔ बड़ों के साथ बहुतों का गुजारा हो जाता है
2. ✘ गुणी व्यक्ति
3. ✘ बिना खर्च किए अधिक धन कमाना
4. ✘ जैसा काम वैसा फल

**Question Number : 191 Question Id : 9767558714 Question Type : MCQ Option Shuffling : Yes Is Question Mandatory : No Option Orientation : Vertical**

**Correct Marks : 1 Wrong Marks : 0.25**

निम्नलिखित प्रश्न में, चार विकल्पों में से, उस विकल्प का चयन करें जो दिए गए लोकोक्ति का सही अर्थ वाला विकल्प है।  
हम प्याला, हम निवाला -

**Options :**



1. ✖ साहसी और परिश्रमी मनुष्य
2. ✔ घनिष्ठ मित्र
3. ✖ अपने स्वार्थ के लिए सिर झुकाना
4. ✖ कहना कुछ और करना कुछ

**Question Number : 191 Question Id : 9767558714 Question Type : MCQ Option Shuffling : Yes Is Question Mandatory : No Option Orientation : Vertical**

**Correct Marks : 1 Wrong Marks : 0.25**

निम्नलिखित प्रश्न में, चार विकल्पों में से, उस विकल्प का चयन करें जो दिए गए लोकोक्ति का सही अर्थ वाला विकल्प है।  
हम प्याला, हम निवाला -

**Options :**

1. ✖ साहसी और परिश्रमी मनुष्य
2. ✔ घनिष्ठ मित्र
3. ✖ अपने स्वार्थ के लिए सिर झुकाना
4. ✖ कहना कुछ और करना कुछ

**Question Number : 192 Question Id : 9767558715 Question Type : MCQ Option Shuffling : Yes Is Question Mandatory : No Option Orientation : Vertical**

**Correct Marks : 1 Wrong Marks : 0.25**

निम्नलिखित प्रश्न में, चार विकल्पों में से, उस विकल्प का चयन करें जो दिए गए लोकोक्ति का सही अर्थ वाला विकल्प है।  
हारिल की लकड़ी, पकड़ी सो पकड़ी -

**Options :**

1. ✔ हठी मनुष्य कभी अपना हठ नहीं छोड़ता
2. ✖ महान लोग छोटे की शिकायत की परवाह नहीं करते
3. ✖ जो वस्तु सामने हो उसे सिद्ध करने की आवश्यकता नहीं
4. ✖ चोरी, डाका आदि की कमाई का फ़िज़ूल खर्च हो जाना

**Question Number : 192 Question Id : 9767558715 Question Type : MCQ Option Shuffling : Yes Is Question Mandatory : No Option Orientation : Vertical**

**Correct Marks : 1 Wrong Marks : 0.25**

निम्नलिखित प्रश्न में, चार विकल्पों में से, उस विकल्प का चयन करें जो दिए गए लोकोक्ति का सही अर्थ वाला विकल्प है।

हारिल की लकड़ी, पकड़ी सो पकड़ी -

**Options :**

1. ✓ हठी मनुष्य कभी अपना हठ नहीं छोड़ता
2. ✗ महान लोग छोटी की शिकायत की परवाह नहीं करते
3. ✗ जो वस्तु सामने हो उसे सिद्ध करने की आवश्यकता नहीं
4. ✗ चोरी, डाका आदि की कमाई का फ़िज़ूल खर्च हो जाना

**Question Number : 193 Question Id : 9767558716 Question Type : MCQ Option Shuffling : Yes Is Question Mandatory : No Option Orientation : Vertical**

**Correct Marks : 1 Wrong Marks : 0.25**

निम्नलिखित प्रश्न में, चार विकल्पों में से, उस विकल्प का चयन करें जो दी गई मुहावरे का सही अर्थ वाला विकल्प है।  
तूफ़ान उठना-

**Options :**

1. ✗ भाग्य खराब होना
2. ✗ निर्धन होना
3. ✓ उपद्रव खड़ा करना
4. ✗ बुरी आदत को न छोड़ना

**Question Number : 193 Question Id : 9767558716 Question Type : MCQ Option Shuffling : Yes Is Question Mandatory : No Option Orientation : Vertical**

**Correct Marks : 1 Wrong Marks : 0.25**

निम्नलिखित प्रश्न में, चार विकल्पों में से, उस विकल्प का चयन करें जो दी गई मुहावरे का सही अर्थ वाला विकल्प है।  
तूफ़ान उठना-

**Options :**

1. ✗ भाग्य खराब होना
2. ✗ निर्धन होना
3. ✓ उपद्रव खड़ा करना
4. ✗ बुरी आदत को न छोड़ना

**Question Number : 194 Question Id : 9767558717 Question Type : MCQ Option Shuffling : Yes Is Question Mandatory : No Option Orientation : Vertical**

**Correct Marks : 1 Wrong Marks : 0.25**

निम्नलिखित प्रश्न में, चार विकल्पों में से, उस विकल्प का चयन करें जो दी गई मुहावरे का सही अर्थ वाला विकल्प है।  
तेल निकालना -

**Options :**

1. ✘ खलबली मचना
2. ✔ खूब कस कर काम लेना
3. ✘ गुप्त रहस्य को मालूम कर लेना
4. ✘ क्रोध आना

**Question Number : 194 Question Id : 9767558717 Question Type : MCQ Option Shuffling : Yes Is Question Mandatory : No Option Orientation : Vertical**

**Correct Marks : 1 Wrong Marks : 0.25**

निम्नलिखित प्रश्न में, चार विकल्पों में से, उस विकल्प का चयन करें जो दी गई मुहावरे का सही अर्थ वाला विकल्प है।  
तेल निकालना -

**Options :**

1. ✘ खलबली मचना
2. ✔ खूब कस कर काम लेना
3. ✘ गुप्त रहस्य को मालूम कर लेना
4. ✘ क्रोध आना

**Question Number : 195 Question Id : 9767558718 Question Type : MCQ Option Shuffling : Yes Is Question Mandatory : No Option Orientation : Vertical**

**Correct Marks : 1 Wrong Marks : 0.25**

निम्नलिखित प्रश्न में, चार विकल्पों में से, उस विकल्प का चयन करें जो दी गई मुहावरे का सही अर्थ वाला विकल्प है।  
तीन-पाँच करना-

**Options :**

1. ✔ हर बात में आपत्ति करना
2. ✘ कोई बड़ा काम करना
3. ✘ बहुत कठिन कार्य
4. ✘ चापलूसी करना

**Question Number : 195 Question Id : 9767558718 Question Type : MCQ Option Shuffling : Yes Is Question Mandatory : No Option Orientation : Vertical**

**Correct Marks : 1 Wrong Marks : 0.25**

निम्नलिखित प्रश्न में, चार विकल्पों में से, उस विकल्प का चयन करें जो दी गई मुहावरे का सही अर्थ वाला विकल्प है।  
तीन-पाँच करना-

**Options :**

1. ✓ हर बात में आपत्ति करना
2. ✗ कोई बड़ा काम करना
3. ✗ बहुत कठिन कार्य
4. ✗ चापलूसी करना

**Sub-Section Number :**

2

**Sub-Section Id :**

976755603

**Question Shuffling Allowed :**

Yes

**Question Id : 9767558719 Question Type : COMPREHENSION Sub Question Shuffling Allowed : Yes Group Comprehension Questions : No**

**Question Numbers : (196 to 200)**

नीचे दिए गये गद्यांश के बाद 5 प्रश्न दिए गये हैं। इस गद्यांश को ध्यानपूर्वक पढ़ें और चार विकल्पों में से प्रत्येक प्रश्न का सर्वोत्तम उत्तर चुनें।  
हमारी सर्वोच्च प्राथमिकता जनसंख्या वृद्धि रोकना है। इस क्षेत्र में हमारे सभी प्रयत्न निष्फल रहे हैं। ऐसा क्यों है? यह इसलिए भी हो सकता है कि समस्या को देखने का हर एक का एक अलग नजरिया है। जनसंख्या शास्त्रियों के लिए यह आँकड़ों का अंबार है। राजनीतिज्ञ इसे वोट बैंक की दृष्टि से देखता है। ये सब अपने-अपने ढंग से समस्या को सुलझाने में लगे हैं। अतः अलग-अलग किसी के हाथ सफलता नहीं लगी। पर यह स्पष्ट है कि परिवार के आकार पर आर्थिक विकास और शिक्षा का बहुत प्रभाव पड़ता है। यहाँ आर्थिक विकास का मतलब पाश्चात्य मतानुसार भौतिकवाद नहीं जहाँ बच्चों को बोझ माना जाता है। हमारे लिए तो यह सम्मानपूर्वक जीने के स्तर से संबंधित है। यह मौजूदा संपत्ति के समतामूलक विवरण पर ही निर्भर नहीं है वरन् ऐसी शैली अपनाने से संबंधित है जिसमें अस्सी करोड़ लोगों की ऊर्जा का बेहतर इस्तेमाल हो सके। इसी प्रकार स्त्री-शिक्षा भी है। यह समाज में एक नए प्रकार का चिंतन पैदा करेगी जिससे सामाजिक और आर्थिक विकास के नए आयाम खुलेंगे और साथ ही बच्चों के विकास का नया रास्ता भी खुलेगा। अतः जनसंख्या की समस्या सामाजिक है। यह अकेले सरकार नहीं सुलझा सकती। केंद्रीकरण से हटकर इसे ग्राम-ग्राम, व्यक्ति-व्यक्ति तक पहुँचाना होगा। जब तक यह जन-आंदोलन नहीं बन जाता तब तक सफलता मिलना संदिग्ध है।

**Sub questions**

**Question Number : 196 Question Id : 9767558720 Question Type : MCQ Option Shuffling : Yes Is Question Mandatory : No Option Orientation : Vertical**

**Correct Marks : 1 Wrong Marks : 0.25**

अनुच्छेद के अनुसार हमारी सर्वोच्च प्राथमिकता क्या है?

**Options :**

1. ✘ सभी को भोजन व वस्त्र उपलब्ध कराना
2. ✘ जनसंख्या में वृद्धि करना
3. ✔ जनसंख्या वृद्धि रोकना
4. ✘ सभी क्षेत्रों में प्रयत्न करना

**Question Number : 197 Question Id : 9767558721 Question Type : MCQ Option Shuffling : Yes Is Question Mandatory : No Option Orientation : Vertical**

**Correct Marks : 1 Wrong Marks : 0.25**

जनसंख्या नियंत्रण के लिए किए गए सभी प्रयत्नों के असफल होने का क्या कारण बताया गया है?

**Options :**

1. ✘ सभी का एकजुट होकर साथ आना
2. ✘ आवश्यक सूचना सभी तक न पहुँचाना
3. ✘ आवश्यक उपायों की कमी होना
4. ✔ जनसंख्या समस्या के प्रति सभी की एक सोच न होना

**Question Number : 198 Question Id : 9767558722 Question Type : MCQ Option Shuffling : Yes Is Question Mandatory : No Option Orientation : Vertical**

**Correct Marks : 1 Wrong Marks : 0.25**

जनसंख्या की समस्या को रोकने के लिए क्या कदम उठाना आवश्यक है?

**Options :**

1. ✘ इस समस्या को अन्य लोगों से अलग रखना
2. ✔ इस समस्या को जन आन्दोलन बनाना
3. ✘ इस समस्या के बारे में कुछ ही बुद्धिजीवियों से बात करना
4. ✘ सिर्फ सरकार को ही इसके बारे में सुझाव देने के लिए कहना

**Question Number : 199 Question Id : 9767558723 Question Type : MCQ Option Shuffling : Yes Is Question Mandatory : No Option Orientation : Vertical**

**Correct Marks : 1 Wrong Marks : 0.25**

इनमें से कौन - सा शब्द संदिग्ध का समानार्थी शब्द नहीं है?

**Options :**

1. ✘ अनिश्चित

2. ✘ संदेहास्पद
3. ✔ निर्विवाद
4. ✘ अपराधी व्यक्ति

**Question Number : 200 Question Id : 9767558724 Question Type : MCQ Option Shuffling : Yes Is Question Mandatory : No Option Orientation : Vertical**

**Correct Marks : 1 Wrong Marks : 0.25**

इस अनुच्छेद का कोई उपयुक्त शीर्षक-

**Options :**

1. ✘ सबकी अलग-अलग सोच
2. ✔ जनसंख्या नियंत्रण
3. ✘ राजनीतिक व आर्थिक विकास
4. ✘ सामाजिक चेतना

**Question Id : 9767558719 Question Type : COMPREHENSION Sub Question Shuffling Allowed : Yes Group Comprehension Questions : No**

**Question Numbers : (196 to 200)**

नीचे दिए गये गद्यांश के बाद 5 प्रश्न दिए गये हैं। इस गद्यांश को ध्यानपूर्वक पढ़ें और चार विकल्पों में से प्रत्येक प्रश्न का सर्वोत्तम उत्तर चुनें। हमारी सर्वोच्च प्राथमिकता जनसंख्या वृद्धि रोकना है। इस क्षेत्र में हमारे सभी प्रयत्न निष्फल रहे हैं। ऐसा क्यों है? यह इसलिए भी हो सकता है कि समस्या को देखने का हर एक का एक अलग नजरिया है। जनसंख्या शास्त्रियों के लिए यह आँकड़ों का अंबार है। राजनीतिज्ञ इसे वोट बैंक की दृष्टि से देखता है। ये सब अपने-अपने ढंग से समस्या को सुलझाने में लगे हैं। अतः अलग-अलग किसी के हाथ सफलता नहीं लगी। पर यह स्पष्ट है कि परिवार के आकार पर आर्थिक विकास और शिक्षा का बहुत प्रभाव पड़ता है। यहाँ आर्थिक विकास का मतलब पाश्चात्य मतानुसार भौतिकवाद नहीं जहाँ बच्चों को बोझ माना जाता है। हमारे लिए तो यह सम्मानपूर्वक जीने के स्तर से संबंधित है। यह मौजूदा संपत्ति के समतामूलक विवरण पर ही निर्भर नहीं है वरन् ऐसी शैली अपनाने से संबंधित है जिसमें अस्सी करोड़ लोगों की ऊर्जा का बेहतर इस्तेमाल हो सके। इसी प्रकार स्त्री-शिक्षा भी है। यह समाज में एक नए प्रकार का चिंतन पैदा करेगी जिससे सामाजिक और आर्थिक विकास के नए आयाम खुलेंगे और साथ ही बच्चों के विकास का नया रास्ता भी खुलेगा। अतः जनसंख्या की समस्या सामाजिक है। यह अकेले सरकार नहीं सुलझा सकती। केंद्रीकरण से हटकर इसे ग्राम-ग्राम, व्यक्ति-व्यक्ति तक पहुँचाना होगा। जब तक यह जन-आंदोलन नहीं बन जाता तब तक सफलता मिलना संदिग्ध है।

**Sub questions**

**Question Number : 196 Question Id : 9767558720 Question Type : MCQ Option Shuffling : Yes Is Question Mandatory : No Option Orientation : Vertical**

**Correct Marks : 1 Wrong Marks : 0.25**

अनुच्छेद के अनुसार हमारी सर्वोच्च प्राथमिकता क्या है?

**Options :**

1. ✘ सभी को भोजन व वस्त्र उपलब्ध कराना
2. ✘ जनसंख्या में वृद्धि करना
3. ✔ जनसंख्या वृद्धि रोकना
4. ✘ सभी क्षेत्रों में प्रयत्न करना

**Question Number : 197 Question Id : 9767558721 Question Type : MCQ Option Shuffling : Yes Is Question Mandatory : No Option Orientation : Vertical**

**Correct Marks : 1 Wrong Marks : 0.25**

जनसंख्या नियंत्रण के लिए किए गए सभी प्रयत्नों के असफल होने का क्या कारण बताया गया है?

**Options :**

1. ✘ सभी का एकजुट होकर साथ आना
2. ✘ आवश्यक सूचना सभी तक न पहुँचाना
3. ✘ आवश्यक उपायों की कमी होना
4. ✔ जनसंख्या समस्या के प्रति सभी की एक सोच न होना

**Question Number : 198 Question Id : 9767558722 Question Type : MCQ Option Shuffling : Yes Is Question Mandatory : No Option Orientation : Vertical**

**Correct Marks : 1 Wrong Marks : 0.25**

जनसंख्या की समस्या को रोकने के लिए क्या कदम उठाना आवश्यक है?

**Options :**

1. ✘ इस समस्या को अन्य लोगों से अलग रखना
2. ✔ इस समस्या को जन आन्दोलन बनाना
3. ✘ इस समस्या के बारे में कुछ ही बुद्धिजीवियों से बात करना
4. ✘ सिर्फ सरकार को ही इसके बारे में सुझाव देने के लिए कहना

**Question Number : 199 Question Id : 9767558723 Question Type : MCQ Option Shuffling : Yes Is Question Mandatory : No Option Orientation : Vertical**

**Correct Marks : 1 Wrong Marks : 0.25**

इनमें से कौन - सा शब्द संदिग्ध का समानार्थी शब्द नहीं है?

**Options :**

1. ✘ अनिश्चित

2. ✘ संदेहास्पद
3. ✔ निर्विवाद
4. ✘ अपराधी व्यक्ति

**Question Number : 200 Question Id : 9767558724 Question Type : MCQ Option Shuffling : Yes Is Question Mandatory : No Option Orientation : Vertical**

**Correct Marks : 1 Wrong Marks : 0.25**

इस अनुच्छेद का कोई उपयुक्त शीर्षक-

**Options :**

1. ✘ सबकी अलग-अलग सोच
2. ✔ जनसंख्या नियंत्रण
3. ✘ राजनीतिक व आर्थिक विकास
4. ✘ सामाजिक चेतना